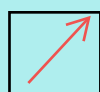







SOLD

@备考首选

通关无忧 轻松拿下考试

-  基础阶段—专业知识
-  刷题阶段—重点题库
-  冲刺阶段—押题点睛
-  考点覆盖—精编习题
-  紧扣考纲—直击考点
-  历年真题—押题抢分

本封面内容仅供参考，实际内容请认真预览本电子文本

祝您考试顺利

## 配电网工专业（技能）考试题及答案

1、悬式绝缘子的安装当没有特殊困难时，耐张串上的弹簧销子、螺栓及穿钉应（ ）穿入。

- A、由上向下
- B、由下向上
- C、由左向右

答案：A

2、配电网可采取下列方式确保足够的电压调节能力（ ），其中说法不正确的是。

- A、配置无功补偿装置
- B、选用有载调压变压器，改分接头进行电压调节
- C、通过线路调压装置进行电压调节
- D、通过线路限负荷进行电压调节

答案：D

3、电压互感器的二次回路通电试验时，应将二次回路断开，并取下电压互感器高压熔断器或拉开电压互感器一次刀闸，防止（ ）。

- A、一次侧短路
- B、二次侧短路
- C、由一次侧向二次侧反送电
- D、由二次侧向一次侧反送电

答案：D

4、当高度较高时，竖井中间可每隔（ ）设一封堵层

- A、50-80m
- B、60-100m
- C、80-100m
- D、100-120m

答案：B

5、跌落式熔断器的安装高度，一般距变压器台（ ）m。

- A、1.5~1.6
- B、1.7~1.8
- C、2.0~2.5
- D、2.5~3.0

答案：B

6、1KV 导线与地面或睡眠最小距离（ ）

- A、居民区 6 m

- B、非居民区 6 m
- C、交通困难地区 7 m
- D、不能通航也不能浮运的河、湖至冬季冰面 7 m

答案：D

7、对比色时使安全色更加醒目的反衬色，包括（ ）两种颜色

- A、黑、白
- B、红、黄
- C、黑，黄
- D、红，白

答案：A

8、检修人员操作的设备和接、发令程序及安全要求应由（ ）批准，并报相关部门和调度控制中心备案。

- A、工区领导
- B、总工程师
- C、设备运维管理单位
- D、运行管理单位

答案：C

9、隔离开关的底座上，应装设 2 只防锈的导电性能良好的直径不小于（ ）mm 接地螺栓。

- A、10
- B、5
- C、8
- D、12

答案：D

10、线路的过流保护是按（ ）原则来套定的。

- A、导线的允许电流
- B、开关容量
- C、短路电流
- D、躲过最大负荷电流

答案：D

11、电缆分支箱外屏蔽层接地电线截面积（ ）（mm<sup>2</sup>）

- A、2.5
- B、2
- C、3
- D、1.5

以上内容仅为本文档的试下载部分，为可阅读页数的一半内容。如要下载或阅读全文，请访问：<https://d.book118.com/478111105024006064>