

2024年03月北京经济技术开发区荣华_博兴街道事业单位招聘 招考聘用11人笔试历年参考题库（真题考点）解题思路 附带答案详解

一、数量关系。在这部分试题中，每道题呈现一段表述数字关系的文字，要求你迅速、准确地计算出答案。(共35题)

1、周五，公共交通协管员甲说，“刚好100天后就是我当协管员一周年的日子。”则甲当协管员刚满一周年的那天是（）。

A：周六

B：周日

C：周一

D：周二

正确答案选项：B

解析：一个星期以7天为一周期，计算余数： $100 \div 7 = 14 \cdots 2$ ，相当于过了14个星期又2天，则刚满一周年的那天为从周五往后推2天，即为周日。

故本题选B。

2、5, 14, 38, 87, （）

A：167

B：168

C：169

D：170

正确答案选项：A

解析：分析题干

题干数列数值相差不大，可以考虑简单的加减运算，通过相邻两项相减之后，得到的新数列的每一项都与常见幂次数有关，因此在进一步的计算中可以考虑幂次运算。

寻找规律

题干数列相邻两项相减，得：9, 24, 49, ?，可以转化为 $3^2, 5^2 - 1, 7^2, ?$ ，新数列 $3^2, 5^2, 7^2, ?$ ，指数相同均为2，底数为3, 5, 7, ?，是公差为2的等差数列，由此可以推出底数数列中?项表示的数为 $7+2=9$ ，则新数列中?项表示的数为 9^2 。通过观察可以发现，相邻项相减所得数列奇数项均为底数的二次方，偶数项为底数的二次方再减1，由于题干括号所求数字是第5项，其与原数列第4项之差构成前述新数列中的第4项，为偶数项，因此题干括号所求数字为 $9^2 - 1 = 80$

得出答案

根据上述规律，得（）-87=80，即题干括号所求的数字为167。

第四步：再次标注答案

故本题选A。

3、小明骑山地车前往20km外的外婆家，从家里顺风骑车到外婆家需要1h，而返回时逆风需要2h，那么当时的风速是（）km/h（排除其他可对速度造成干扰的因素）。

A：10

B：8

C：6

D：5

正确答案选项：D

解析：

本题考查行程问题，属于流水行船类。

设小明骑山地车顺风的速度为x千米/小时，小明骑山地车逆风的速度为y千米/小时，则 $20 = 1 \times x$ ， $20 = 2 \times y$ ，解得 $x = 20$ ， $y = 10$ 。则风速 = $(20 - 10) \div 2 = 5$ （千米/小时）。

故本题选D。

【解析拓展】

船速=（顺水速度+逆水速度）÷2；水速=（顺水速度 - 逆水速度）÷2

4、某班数学测试中，前5名学生的成绩恰好成等差数列，已知前5名学生的成绩之和是480分，则第3名学生的成绩是（）分。

A: 92

B: 94

C: 96

D: 98

正确答案选项: C

解析: 第3名学生是数列前5名学生的中位数, 又知等差数列求和公式为: $S_n = a_1 \times n = a_3 \times 5 = 480$, $a_3 = \frac{480}{5} = 96$ 分。则第3名学生的成绩是96分。

故本题选C。

5、181, 160, 137, 112, (), 56

A: 71

B: 78

C: 85

D: 92

正确答案选项: C

解析: 观察数列无明显特征, 呈缓慢递减趋势, 优先考虑作差。相邻两项作差, 前一项减后一项, 得到新数列: 21, 23, 25, (), (), 构成公差为2的等差数列, 则新数列的后两项分别为 $25 + 2 = 27$, $27 + 2 = 29$ 。故题干所求项为 $112 - 27 = 85$, 代入验证: $85 - 29 = 56$

故本题选C。

6、0, 0, 1, 4, ()

A: 5

B: 7

C: 9

D: 11

正确答案选项: D

解析: 数列变化不大且整体呈递增趋势, 优先考虑做差, 做差无规律, 考虑递推。观察数列发现, $0 = 0 + 2^0 - 1$, $1 = 0 + 2^1 - 1$, $4 = 1 + 2^2 - 1$, 数列规律为 第二项 = 第一项 + 修正项。修正项为2的幂次 - 1, 2的幂次指数为0, 1, 2, 是公差为1的等差数列, 故所求项 = $4 + 2^3 - 1 = 11$ 。

故本题选D

7、加工一批零件, 甲工人单独完成要6小时, 乙工人单独完成要10小时, 现在由甲工人先单独加工了若干小时, 甲因事请假, 由乙工人接完成任务, 共用了7小时, 其中, 乙工人加工了 () 小时。

A: 2

B: 2.5

C: 3

D: 3.5

正确答案选项: B

解析: 因为甲6小时做完, 乙10小时做完, 可以设总工程量为6和10的最小公倍数30。则甲每小时的工作效率为 $30 \div 6 = 5$, 乙每小时的工作效率为 $30 \div 10 = 3$ 。设乙加工了 x 小时, 则甲加工了 $(7 - x)$ 小时。依此可列式得: $5 \times (7 - x) + 3x = 30$, 解得 $x = 2.5$

故本题选B。

8、 $337 \times 128 + 473 \times 204 + 532 \times 439$

A: 376536

B: 373176

C: 376534

D: 376630

正确答案选项: B

解析: 直接计算比较复杂, 观察发现选项精度一致, 选项末尾两位不同, 采用尾数法, 计算 $37 \times 28 + 73 \times 4 + 32 \times 39 = 1036 + 292 + 1248$, 看末两位, 尾数36 + 尾数92 + 尾数48 =

故本题选B。

9、两个型号的电视定价都是4000元, 其中购买A型号电视可获得350元的国家节能补贴, 购买B型号电视无法获得节能补贴, 但可以参加“每满300元减20元”的促销活动, 那么A型号电视的实际成交价格比B型号电视:

A: 高50元

B: 低50元

C: 高90元

D: 低90元

正确答案选项: D

解析: 本题考查经济利润问题, 属于分段计费类。

购买A型号电视机可获得350元节能补贴, B型号电视机“每满300元减20元”, 原价4000元中可以享受13次“减20元”(4000÷300 = 13...100), 即减13×20 = 260(元)。故A型号电视机少支付350 - 260 = 90(元), 即比B型号电视低90元。

故本题选D。

10、-7, 0, 1, 2, 9, ()

A: 10

B: 11

C: 27

D: 28

正确答案选项: D

解析: 数列中各项数字均在幂次数附近, 考虑幂次数列, 存在负数, 优先考虑立方数。原数列可表示为: $(-2)^3 + 1 = -7$ 、 $(-1)^3 + 1 = 0$ 、 $0^3 + 1 = 1$ 、 $1^3 + 1 = 2$ 、 $2^3 + 1 = 9$, 则所求项应为 $3^3 + 1 = 27 + 1 = 28$ 。

故本题选D。

11、下列数字中, 符合数列“0.1, 1.2, 3.5, 8.13, ?”排列规律的是()。

A: 21.34

B: 21.17

C: 11.34

D: 11.17

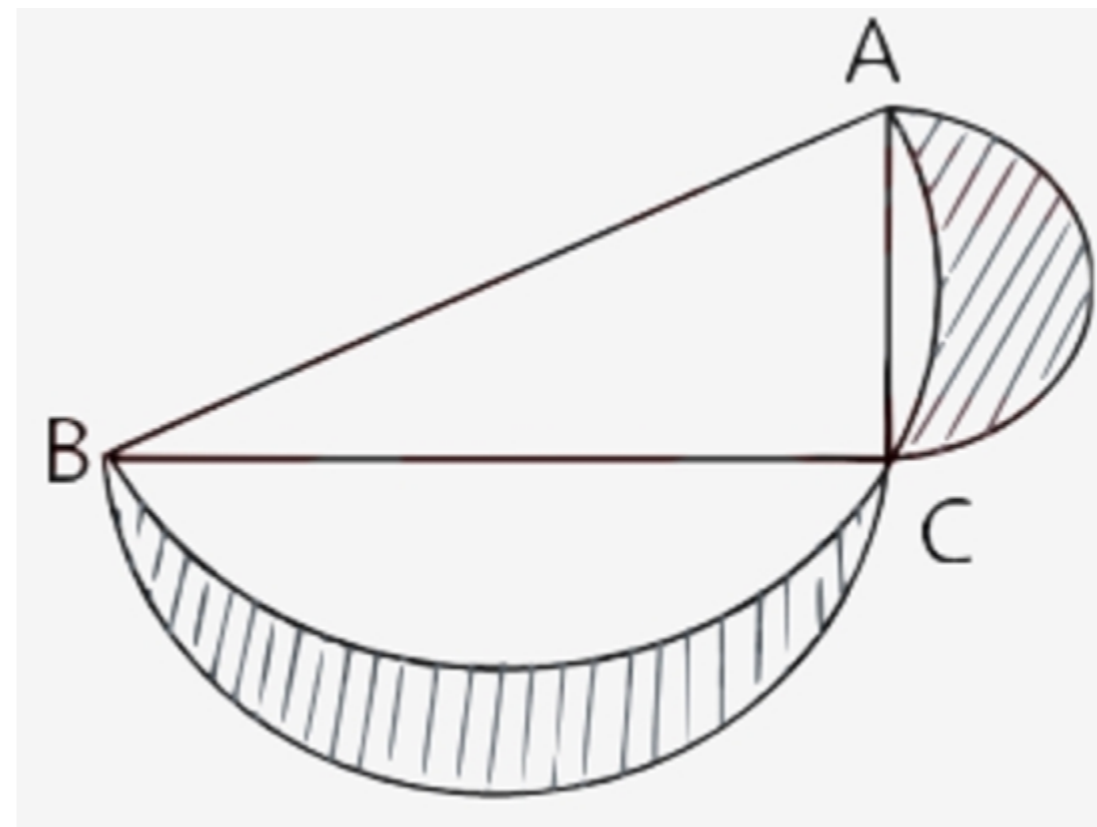
正确答案选项: A

解析: 将数列化分为新数列: 0, 1, 1, 2, 3, 5, 8, 13, ? 可以观察得出: $0 + 1 = 1$, $1 + 1 = 2$, ..., $5 + 8 = 13$, 即 第一项 + 第二项 = 第三项, 故13后两项分别为 $8 + 13 = 21$, $13 + 21 = 34$

故本题选A。

12、如下图所示, 在直角三角形ABC中, $AC = 4$, $BC = 7$

, 分别以AC、BC、AB为直径向外作三个半圆, 则下图中阴影部分的面积是()。



A: 7

B: 7π

C: 14π

D: 14

正确答案选项: D

解析: 观察图形, 阴影部分面积正好是 AC 半圆 + BC 半圆 - (AB 半圆 - 三角形ABC) = AC 半圆 + BC 半圆 + 三角形ABC - AB 半圆。

因 $AC = 4$, $BC = 7$, 故 $AB^2 = 4^2 + 7^2 = 65$ 。圆形面积公式为 $\frac{\pi d^2}{4}$, 故半圆面积为 $\frac{\pi d^2}{8}$ 。故阴影部分面积 = $\frac{\pi \times 4^2}{8} + \frac{\pi \times 7^2}{8} + \frac{4 \times 7}{2} - \frac{\pi \times 65}{8} = 14$

故本题选D。

13、甲、乙两个工程队共同参与一项建设工程。原计划由甲队单独施工30天完成该项工程三分之一后, 乙队加入, 两队同时再施工15天完成该项工程。由于甲队临时有别的业务, 其参加施工的时间不能超过36天, 那么为全部完成该项工程, 乙队至少要施工多少天?

A: 18

B: 20

C: 24

D: 30

正确答案选项: A

解析: 本题考查工程问题, 属于时间类, 用赋值法解题。

甲队单独施工30天可以完成该项工程的三分之一, 那么甲队单独施工90天可以完成该项工程, 而甲队施工30天后, 乙队加入, 再同时施工15天可完成该项工程, 可列方程: $90\text{甲} = 30\text{甲} + (\text{甲} + \text{乙}) \times 15$, 解得, $\text{乙} = 3\text{甲}$, 即甲乙效率之比为1:3, 赋值甲队的效率为1, 那么乙队的效率为3, 该项工程的总量为 $1 \times 90 = 90$ 。

要使乙队施工天数尽可能少, 则甲队施工天数应该尽可能多, 而甲队施工时间不能超过36天, 则让甲队施工36天, 完成 $1 \times 36 = 36$, 该项工程还剩 $90 - 36 = 54$, 乙队需要 $54 \div 3 = 18$ (天)。

故本题选A。

14、6, 8, 14, 22, 36, ()

A: 58

B: 64

C: 72

D: 46

正确答案选项: A

解析: 直接观察, 规律较明显, 前两项之和等于第三项, 即有: $6+8=14$, $8+14=22$, $14+22=36$, 故所求项应为: $22+36=58$ 。

故本题选A。

15、某电厂计划10月份发电240万千瓦时, 结果上半月完成全月计划的62.5%, 下半月发电量跟上半月同样多, 10月份发电量超过计划____万千瓦时。

A: 48

B: 54

C: 60

D: 65

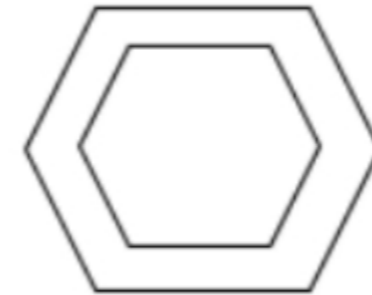
正确答案选项: C

解析: 下半月发电量和上半月一样多, 即下半月也完成全月计划的62.5%, 全月实际完成计划的 $(62.5\%+62.5\%) =$

125%。则全月发电量超过计划: $240 \times (125\%-100\%) = 240 \times 25\% = 60$ 万千瓦时。

故本题选C。

16、现有一种柱状六角环形砖的模具, 如图所示, 内正六边形边长5cm, 外正六边形边长7cm, 高10cm。那制作出来的六角环状砖体积为 () cm^3 。



A: 300

B: 360

C: $300\sqrt{3}$

D: $360\sqrt{3}$

正确答案选项: D

解析: 根据正六边形面积公式: $S = \frac{3\sqrt{3}}{2}a^2$, 则该模具内正六边形的面积 $= \frac{3\sqrt{3}}{2} \times 5^2$, 外正六边形的面积 $= \frac{3\sqrt{3}}{2} \times 7^2$, 则该模具底面面积 $= \frac{3\sqrt{3}}{2} \times 7^2 - \frac{3\sqrt{3}}{2} \times 5^2 = 36\sqrt{3}$ 。已知高为10cm, 故制作出来的六角形环状砖体积 $= 36\sqrt{3} \times 10 = 360\sqrt{3}$

故本题选D。

17、某单位组织党员进行党员知识考试, 已知该单位的党员总数为32人, 在第一次考试中有26人及格, 在第二次考试中有24人及格, 若两次考试中, 都没及格的有4人, 那么两次都及格的人数是:

A: 12

B: 18

C: 22

D: 27

正确答案选项: C

解析:

本题考查容斥问题, 属于二集合容斥类, 用公式法解题。

设两次都及格的人数是x人，根据二集合容斥标准型核心公式可列式： $32 - 4 = 26 + 24 - x$ ，解得 $x = 22$ （人）。

故本题选C。

【解析拓展】

二集合标准型核心公式：总数 - 都不满足的 = 集合A + 集合B - 都满足的

18、今年，妈妈48岁，哥哥的年龄为弟弟年龄的2倍。弟弟长到哥哥现在的年龄时，妈妈年龄为哥哥与弟弟之和，则哥哥今年的年龄为：

A: 22

B: 26

C: 24

D: 28

正确答案选项: C

解析: 本题考查年龄问题，用方程法解题。

设弟弟今年的年龄为x，根据“今年.....哥哥的年龄为弟弟年龄的2倍”可得哥哥的年龄为2x，于是“弟弟长到哥哥现在的年龄时”是x年后，根据“妈妈年龄为哥哥与弟弟之和”，彼时有 $48 + x = (x + x) + (2x + x)$ ，解得 $x = 12$ ，所以哥哥今年的年龄为 $2x = 24$ 。

故本题选C。

19、孙某用24000元买进甲、乙股票若干，在甲股票升值15%、乙股票下跌10%时全部抛出，共赚到1350元，则孙某最初购买甲、乙两只股票的投资比例是：

A: 5 : 3

B: 8 : 5

C: 8 : 3

D: 3 : 5

正确答案选项: A

解析: 本题考查经济利润问题，属于基础公式类，用公式法解题。

设孙某最初购买甲股票投资x元，则购买乙股票投资(24000 - x)元。根据“共赚到1350元”，可得： $15\%x - 10\% \times ($

$24000 - x) = 1350$ ，解得 $x = 15000$ ， $24000 - x = 9000$ 。

孙某最初购买甲、乙两只股票的投资比例为 $15000 : 9000 = 5 : 3$ 。

故本题选A。

20、3, 10, 40, 93, 169, ()

A: 245

B: 256

C: 268

D: 274

正确答案选项: C

解析: 观察数列发现数字依次增大，故考虑作差，后项-前项得到的新数列为7, 30, 53, 76，即新数列是公差为23的等差数列，下一项 = $76 + 23 = 99$ ，所求项 = $169 + 99 = 268$ 。

故本题选C。

21、甲、乙、丙三人绕圆形跑道赛跑。甲跑完一圈要1分钟，乙跑完一圈要1分30秒，丙跑完一圈要1分15秒。现在三个人同时同向从同一地点出发，则()分钟后三人又在出发地相遇。

A: 3

B: 9

C: 10

D: 15

正确答案选项: D

解析: 将时间统一转换为秒，则甲跑完一圈需要60秒，乙需要90秒，丙需要75秒，求三人再次在出发地相遇的时间，即求60、90和75的最小公倍数。60、90和75的最小公倍数为900，900秒=15分钟，所以15分钟后三人又在出发地相遇。

故本题选D。

22、1, 4, 13, 40, ()

A: 64

B: 100

C: 121

D: 169

正确答案选项: C

解析: 方法一: 数列变化幅度不大且呈递增趋势, 优先考虑做差。后一项减前一项, 得到的新数列为3, 9, 27, 为公比为3的等比数列, 则下一个差为 $3 \times 27 = 81$, 则 $() - 40 = 81$, 故所求项 $= 81 + 40 = 121$ 。

方法二: 数列变化幅度不大且呈递增趋势, 观察数列发现: $1 \times 3 + 1 = 4$, $4 \times 3 + 1 = 13$, $13 \times 3 + 1 = 40$, 故数列规律为第一项 $\times 3 +$ 修正项=第二项, 修正项为1, 故所求项 $= 40 \times 3 + 1 = 121$ 。

故本题选C。

23、三个单位共有180人, 甲、乙两个单位人数之和比丙单位多20人, 甲单位比乙单位少2人, 甲单位的人数是____人。

A: 45

B: 47

C: 49

D: 50

正确答案选项: C

解析: 根据题意, 有甲+乙+丙=180...①, 甲+乙-丙=20...②, 乙-丙=2...③, 联立①②③可得, 甲=49, 乙=51, 丙=80。

故本题选C。

24、12, 36, 80, 150, ()

A: 201

B: 216

C: 248

D: 252

正确答案选项: D

解析: 数列呈递增趋势, 相邻两项间有共同因子, 可考虑作商, 验证作商后无规律, 可考虑因数分解。原数列各项做因数分解: $12 = 2^2 \times 3$, $36 = 3^2 \times 4$, $80 = 4^2 \times 5$, $150 = 5^2 \times 6$

。分解后, 乘号左边的因子, 指数均为2, 底数构成等差数列: 2, 3, 4, 5, 下一项为6; 乘号右边的因子构成等差数列: 3, 4, 5, 6, 下一项为7。故所求项 $= 6^2 \times 7 = 252$ 。

故本题选D。

25、假设3只鸡3天下了3个蛋, 那么9只鸡9天能下多少个蛋?

A: 9

B: 27

C: 54

D: 81

正确答案选项: B

解析: 本题考查基础计算问题。

根据3只鸡3天下了3个蛋, 所以9只鸡3天能下 $3 \times 3 = 9$ (个) 蛋, 那么9只鸡9天能下 $9 \times 3 = 27$ (个) 蛋。

故本题选B。

26、三个单位各派2名志愿者参加公益活动, 现将这6人随机分成3组, 每组2人, 则每组成员均来自不同单位的概率为 ()。

A: $\frac{5}{12}$

B: $\frac{2}{5}$

C: $\frac{7}{15}$

D: $\frac{8}{15}$

正确答案选项: D

解析: 6个人随机分成3组, 总数为 $\frac{C_6^2 \times C_4^2}{A_3} = 15$

种情况。每组成员来自不同的单位, 正向考虑情况数较多, 故反向考虑。

假设三个单位为甲、乙、丙:

第一类情况: 只有一组来自同一单位。设甲₁甲₂同一单位, 则剩下的两组可能有两种情况: 乙₁丙₁和乙₂丙₂; 乙₁丙₂和乙₂丙₁。满足的情况数为 $3 \times 2 = 6$ 种。

第二类情况: 有两组来自同一单位, 而剩下一组也一定来自同一单位, 即三组均来自同一单位, 共1种情况。

则满足每组成员来自相同单位的概率 $= \frac{6+1}{15} = \frac{7}{15}$, 所求每组成员均来自不同单位的概率 $P = 1 - \frac{7}{15} = \frac{8}{15}$ 。

故本题选D。

27、某一过山车有三节车厢，每次乘客坐过山车时，乘客同等可能乘坐3节车厢中的任何一节，如果某位乘客要乘坐3次过山车，那么该乘客3节车厢都坐过的概率有多少（）。

- A: $\frac{1}{9}$
- B: $\frac{2}{9}$
- C: $\frac{1}{3}$
- D: $\frac{2}{3}$

正确答案选项: B

解析: 乘客每次坐过山车都有3种乘坐车厢的选择，共乘坐3次过山车，则乘坐车厢的总选择方案为: 3^3 种。现要求乘客三节车厢都坐过，则对三节车厢进行全排列，则共有 $3!$ 种乘坐方案。故三节车厢都坐过的概率 $= \frac{3!}{3^3} = \frac{2}{9}$ 。

故本题选B。

28、甲杯中装有浓度为25%的食盐水，乙杯中装有浓度为10%的食盐水，倒在一起后的浓度为20%，若再加入250克28%的食盐水，则浓度变为25%，那么原有25%浓度的食盐水为（）克。

- A: 50
- B: 80
- C: 100
- D: 120

正确答案选项: C

解析: 解法一:

本题考查溶液问题，属于溶液混合，用方程法解题。

设甲杯中原有10x克浓度为25%的食盐水，乙杯中原有10y克浓度为10%的食盐水。根据“倒在一起后的浓度为20%，若再加入250克28%的食盐水，则浓度变为25%”可得， $(2.5x + y) \div (10x + 10y) = 20\%$ ， $(2.5x + y + 250 \times 28\%) \div (10x + 10y + 250) = 25\%$ ，解得x = 10，y = 5，则10x = 100。

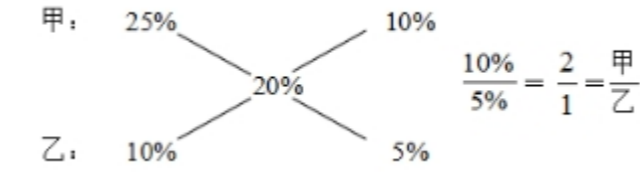
故本题选C。

解法二:

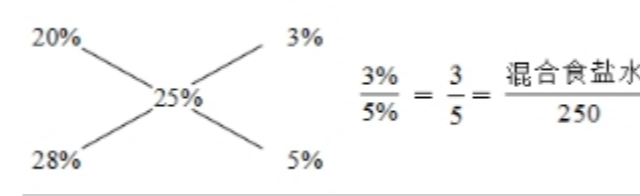
本题考查溶液问题，属于溶液混合，用十字交叉法解题。

根据十字交叉可得:

甲25%的食盐水与乙10%的食盐水混合为浓度为20%的食盐水时:



混合后20%的食盐水与250克28%的食盐水混合为浓度为25%的食盐水时:



可得混合食盐水 = $250 \times \frac{3}{5} = 150$ 克，即甲+乙=150，甲/乙=2/1，可得甲25%的食盐水 = $150 \times \frac{2}{3} = 100$ 克。

故本题选C。

29、 $\frac{2}{3}$ ， $\frac{\sqrt{11}}{4}$ ， $\frac{\sqrt{30}}{5}$ ，（）， $\frac{8\sqrt{2}}{7}$

- A: $\frac{\sqrt{6}}{2}$
- B: $\frac{\sqrt{15}}{3}$
- C: $\frac{\sqrt{67}}{6}$
- D: $\frac{\sqrt{82}}{6}$

正确答案选项: C

解析:

本题考查非整数数列中的分数数列。

分子分母单独成规律。分母为公差为1的等差数列，下一项为5+1=6。分子去根号后是幂次修正数列，4=1³+3，11=2³+3，30=3³+3，下一项为4³+3=67，所求项为 $\frac{\sqrt{67}}{6}$ 。

故本题选C。

30、一项挖井工程甲队单独完成需要9天，乙队单独完成需要18天。为了缩短工程周期，准备让甲、乙两队共同完成，则需要（）天。

- A: 4
- B: 5
- C: 6
- D: 8

正确答案选项: C

解析: 赋工程总量为18, 则甲的工作效率为 $\frac{18}{9}=2$, 乙的工作效率为 $\frac{18}{18}=1$ 。则甲、乙共同工作需要 $\frac{18}{2+1}=6$

故本题选C。

31、由于连日暴雨，某水库水位急剧上升，逼近警戒水位。假设每天降雨量一致，若打开2个水闸放水，则3天后正好到达警戒水位；若打开3个水闸放水，则4天后正好到达警戒水位。气象台预报，大雨还将持续七天，流入水库的水量将比之前多20%。若不考虑水的蒸发、渗透和流失，则至少打开（）个水闸，才能保证接下来的七天都不会到达警戒水位。

- A: 5
- B: 6
- C: 7
- D: 8

正确答案选项: B

解析: 本题考查牛吃草问题。

假设原水位与警戒水位之间相差的蓄水量为 y , 每天流入水库的水量为 x , 由正好到达警戒水位得 $y = (x - 2) \times 3$, $y = (x - 3) \times 4$, 解得 $x = 6$, $y = 12$ 。

由比之前多20%, 可知现在每天流入水库的水量为 $6 \times (1 + 20\%) = 7.2$ 。设至少打开 N 个水闸, 可得 $12 = (7.2 - N) \times 7$, 解得 $N \approx 5.5$, 故至少打开6个水闸。

故本题选B。

【解析拓展】

草地原有草量 = (牛吃草量 - 每天长草量) \times 天数, $y = (N - x) \times T$

32、要将十个完全一样的小球放入甲、乙、丙三个不同的盒子。要求: 甲盒子中的球数不少于3个, 不多于5个; 乙盒子中的球数不少于2个, 不多于5个; 丙盒子中的球数不少于1个、不多于4个。请问共有几种方法? ()

- A: 8种
- B: 9种
- C: 10种
- D: 11种

正确答案选项: C

解析: 方法一: 根据题意可知, 甲盒子球数可能情况: 3、4、5, 乙盒子球数可能情况: 2、3、4、5, 丙盒子球数可能情况: 1、2、3、4。又可知共有10个球, 则分类讨论:

当甲盒子中有3个球时, 乙、丙两盒子中球的情况数可为: (3、4), (4、3), (5、2), 共3种情况;

当甲盒子中有4个球时, 乙、丙两盒子中球的情况数可为: (2、4), (3、3), (4、2), (5、1), 共4种情况;

当甲盒子中有5个球时, 乙、丙两盒子中球的情况数可为: (2、3), (3、2), (4、1), 共3种情况。

一共有 $3 + 4 + 3 = 10$ 种方法。

方法二: 根据题意可知, 甲、乙、丙盒子中, 除去“不少于”的球数, 剩余 $10 - 3 - 2 - 1 = 4$ 个球。按题目要求, 利用隔板法放置即可; 甲盒子中可能再放入0个、1个、2个球共三种, 则分类情况如下:

①甲盒子再放入0个球时, 由于乙、丙两个盒子都还能再放3个球, 则利用隔板法, 在剩余4个球之间的3个空中插板, 即有 $C_3^1 = 3$ 种;

②甲盒子再放入1个球时, 由于乙、丙两个盒子都还能再放3个球, 则利用隔板法, 在剩余的 $4 - 1 = 3$ 个球的4个空处插板, 即有 $C_4^1 = 4$ 种;

③甲盒子再放入2个球时, 由于乙、丙两个盒子都还能再放3个球, 则利用隔板法, 在剩余的 $4 - 2 = 2$ 个球的3个空处插板, 即有 $C_3^1 = 3$ 种。

一共有 $3 + 4 + 3 = 10$ 种。

故本题选C。

33、2, 6, 12, 20, 30, ()

- A: 32
- B: 36
- C: 42
- D: 48

正确答案选项: C

解析: 方法一: 数列无明显特征且整体呈递增趋势, 优先考虑做差。后一项减前一项, 得到的新数列为4, 6, 8,

10, 是公差为2的等差数列, 故新数列的下一项为 $10+2=12$, 则所求项应为 $30 + 12=42$ 。

方法二: 观察数列, $2=1\times 2$, $6=2\times 3$, $12=3\times 4$, $20=4\times 5$, $30=5\times 6$, 故所求项 $=6\times 7=42$ 。

故本题选C。

34、 $\frac{5}{2}, \frac{2}{5}, \frac{5}{4}, \frac{1}{5}, \frac{5}{8}, (\quad)$

A: $\frac{2}{7}$

B: $\frac{1}{9}$

C: $\frac{1}{10}$

D: $\frac{3}{5}$

正确答案选项: C

解析: 方法一: 将原数列相邻两项求积得到二级数列 $1, \frac{1}{2}, \frac{1}{4}, \frac{1}{8}, (\quad)$, 是公比为 $\frac{1}{2}$ 的等比数列, 则二级数列的下一项为 $\frac{1}{8}\times\frac{1}{2}=\frac{1}{16}$, 因此原数列的下一项为 $\frac{1}{16}\div\frac{5}{8}=\frac{1}{10}$ 。

方法二: 观察发现, 数列的奇数项 $\frac{5}{2}, \frac{5}{4}, \frac{5}{8}$, 为公比为 $\frac{1}{2}$ 的等比数列; 偶数项 $\frac{2}{5}, \frac{1}{5}, (\quad)$, 也是公比为 $\frac{1}{2}$ 的等比数列, 则所求项为 $\frac{1}{5}\times\frac{1}{2}=\frac{1}{10}$

故本题选C。

35、数列: 3, 1, 4, 8; 15, 12, 3, 30; 7, 11, 9, (\quad)。

A: 5

B: 9

C: 13

D: 27

正确答案选项: D

解析: 数列项数较多, 考虑多重数列。每四项用“;”隔开, 优先考虑每四项为一组, 分组情况为 (3, 1, 4, 8); (15, 12, 3, 30); (7, 11, 9, 所求项)。观察发现: $3+1+4=8$; $15+12+3=30$, 每组内第四项等于前三项之和, 故所求项 $=7+11+9=27$

故本题选D。

二、言语理解与表达。本部分包括表达与理解两方面的内容。请根据题目要求, 下列各题备选答案中只有一项符合题意, 请将其选出一个最恰当的答案。(共40题)

1、中办、国办印发《防范和惩治统计造假、弄虚作假督察工作规定》, 着手建立防范和惩治统计造假责任制, 显然是一次惩治数据造假的力度升级。法律必须长牙齿。若能在统计法的基础上, 科学建章立制, 严肃统计督查, 一些人肆意妄为的空间就将被有效压缩。更强有力的威慑力一旦形成, 一些人就不得不认真掂量代价。同时, 也应健全相关制度防止统计上的混乱和偏差。统计数据是法定的, 不是“任人打扮的小姑娘”。

最合适作为这段文字标题的是:

A: 中办、国办印发《防范和惩治统计造假、弄虚作假督察工作规定》

B: 科学建章立制, 严肃统计督查

C: 统计数据不该成为“任人打扮的小姑娘”

D: 法律必须长牙齿

正确答案选项: C

解析: 文段首句指出两办出台的规定, 接下来说要统计法的基础上建章立制, 严查统计, 形成强有力的威慑力, 防止统计上的混乱和偏差。最后总结观点, 统计数据是法定的, 不是“任人打扮的小姑娘”。文段为“分—总”结构, 主旨句为尾句。

对比选项。C项是主旨句的同义替换, 适合作为文段的标题。

故本题选C。

【拓展】

A项、B项和D项: 均为分论部分, 非重点。

2、干细胞是具有自我更新和多向分化潜能的原始细胞群体, 是形成各种组织器官的起源细胞。当机体成熟体细胞因衰老或受伤死亡, 干细胞随时生产他们的替代品来维持各种细胞更新和组织修复。可惜的是, 随着年龄的增长, 人体中的干细胞族群增殖和分化的能力会严重减弱。从这个角度看, 通过某种方式干预和恢复干细胞的活力就有望修复组织功能, 达到延缓衰老的效果。

这段文字意在说明 (\quad)。

A: 人类实现青春不老的美丽夙愿依赖于干细胞技术的应用

B: 恢复活力的干细胞能替换各种因衰老或受伤而死亡的细胞

C: 干细胞技术将有助于改善人类健康水平、提高生活质量

D: 人体之所以会老去是因为衰老细胞不能及时被干细胞替代

正确答案选项：C

解析：文段首句先介绍了干细胞的定义，接着说明当机体成熟体细胞因衰老或受伤死亡，干细胞随时生产他们的替代品来维持各种细胞更新和组织修复。随后提出“可惜的是”，随着年龄的增长，人体中的干细胞族群增值的能力会严重减弱。最后得出结论，强调通过某种方式干预和恢复干细胞的活力就有望修复组织功能。故文段属于分总结构，重在最后，意在说明的即是干细胞技术将有助于改善人类健康水平、提高生活质量，答案选择C项。

A项，“青春不老”表达太绝对，原文强调的是“延缓衰老”，故应排除。

B项，偷换概念，文中说明替换衰老等细胞的并不是干细胞，而干细胞生产的他们的替代品，故应排除。

D项，没有提到如何利用干细胞来延缓衰老，故应排除。

故本题选C。

3、下列词语中，书写完全正确的是：

A：钟明鼎食

B：消声匿迹

C：融汇贯通

D：含英咀华

正确答案选项：D

解析：审题干，找出词语书写完全正确的一项。

辨析选项。D项词语书写完全正确。A项“钟明鼎食”的“明”错误，应是“钟鸣鼎食”；B项“消声匿迹”的“消”错误，应是“销声匿迹”；C项“融汇贯通”的“汇”错误，应是“融会贯通”。三项均书写有误，排除A项、B项和C项。

故本题选D。

4、个体的精神发育历程是整个人类精神发育历程的缩影。每一个个体在精神成长过程中，都要重复祖先经历的过程。人类的历史有很多的精神丰碑，要达到或者超越那些精神高峰，阅读和思考是唯一的途径。只有通过阅读，通过与孔子、孟子等先贤达人的对话，通过和文艺复兴时期的大师们交流，才能达到他们的思想境界。

这段文字旨在说明（）。

A：阅读能够传承人类的精神经历，促使人类的精神成长

B：个体要复制祖先的精神经历只能通过阅读来实现

C：阅读对个体的精神成长至关重要

D：要和先贤的精神共鸣，阅读和思考是唯一途径

正确答案选项：C

解析：文段主要围绕“个体的精神成长”展开论述，文段首先表明“每一个个体在精神成长过程中，都要重复祖先经历的过程”，接下来对在个体精神成长过程中，要达到或者超越精神高峰这个问题，提出了阅读和思考是唯一的途径这一对策，最后通过“只有……才……”这一必要条件关系，将对策聚焦到“阅读”，所以文段重点强调“阅读”在“个体精神成长过程中”的重要性。C项是对文段主要内容的同义替换，为正确答案。

A项，文段主要围绕着个体的精神成长进行论述，并非是人类的精神成长，偏离中心，排除。

B、D两项对应尾句之前的内容，非文段论述的重点，排除。。

故本题选C。

【文段出处】《一个人的精神发育史就是他的阅读史》

5、许多人一想到一只蜘蛛在自己的手臂上爬，或一条蛇缠着自己的腿向上爬，就会不寒而栗，在发达国家，1%至5%的人患有蜘蛛或蛇类恐惧症。德国和瑞典的研究人员开展研究后发现，就连婴儿都会在看到蜘蛛或蛇类时作出应急反应。研究人员得出的结论是，对蛇类和蜘蛛的恐惧有其进化起源，与灵长目动物或蛇类类似，我们大脑中的结构让我们能够快速识别物体并对它们作出反应。

这段文字意在说明：（）。

A：怕蛇和蜘蛛是想象的作用

B：发达国家更加害怕蛇和蜘蛛

C：害怕蛇和蜘蛛是人类的天性

D：人类大脑的反应机制类似蛇

正确答案选项：C

解析：文段首句先提出一种现象：很多人一想到蜘蛛或蛇在自己身上，就会不寒而栗，在发达国家，很多人都患有蜘蛛或蛇类恐惧症。研究人员发现，就连婴儿都会在看到蜘蛛或蛇类时作出应急反应。随后提出研究人员的结论：对蛇类和蜘蛛的恐惧有其进化起源，我们大脑中的结构让我们能够快速识别物体并对它们作出反应。故文段属于分总结构，重在最后，意在说明的即是害怕蛇和蜘蛛是人类的天性，答案选择C项。

A项，“想象的作用”表述错误，文段强调的是因为“大脑的结构”，故应排除。

B项，“更加害怕”无中生有，应排除。

D项，“类似蛇”在文中没有出现，应排除。

故本题选C。

6、

在企业进行意见征集的时候，员工往往由于这样那样的顾虑，总是将自己真正的需求掩藏在层层粉饰之后，就像

透过细密的树叶投射下来的阳光，落在地面上只是细碎的阴影。

这段文字中员工真正的需求被比喻为：

A：阳光

B：细密的树叶

C：细碎的阴影

D：地面

正确答案选项：C

解析：定位原文，“员工的真正需求”出现在第三个小分句。根据“就像透过细密的树叶投射下来的阳光，落在地面上只是细碎的阴影”可知，员工真正的需求被比喻为细碎的阴影。

对比选项。C项符合上述语境。

故本题选C。

7、教育评价是教育发展的指挥棒，贯穿基础教育、高等教育、教师评价等关键领域，同时也是教育领域的难点、焦点和痛点。在基础教育领域，应实施公共服务均等化，确保基础教育均衡发展，为每个孩子提供适合的教育，发现每一个孩子的优点和长处，把孩子的健全人格、健康素养、健康技能放在基础性地位，降低考试频次，拓展评价孩子的维度。最终让广大教师的日常教育从“唯分数论”中解放出来，回归全面育人的本质。

最适合做这段文字标题的是（）。

A：基础教育领域要克服“唯分数论”

B：教育评价至关重要

C：拓展基础教育评价维度

D：基础教育均衡发展的必要条件

正确答案选项：A

解析：文段开篇点出教育评价的重要性，接下来通过“应”提出扭转教育评价导向的多种对策，即“实施公共服务均等化，确保基础教育均衡发展，为每个孩子提供适合的教育，发现每一个孩子的优点和长处，拓展评价孩子的维度”等。最后描述了这样做的目的意义，即“最终让广大教师的日常教育从‘唯分数论’中解放出来，回归全面育人的本质”。通过结论词“最终”可知，作者真正的用意是让广大教师的日常教育从“唯分数论”中解放出来，回归全面育人的本质，故文段旨在强调实现目的意义的对策，对应基础教育领域应克服“唯分数论”，锁定A项。

B项，“教育评价至关重要”属于背景引入，对策前的内容，并非文段重点，排除；

C项，“拓展基础教育评价维度”对应扭转教育评价导向的对策之一，表述片面，排除；

D项，“基础教育均衡发展”属于实施公共服务均等化的好处，并非是文段的最终目标，非重点，排除。

故本题选A。

8、

春天气温开始升高，人体毛孔、汗腺还有血管开始舒张，皮肤血液循环也开始旺盛，新陈代谢逐渐增加，身体本身耗氧量增多，大脑供氧就显得相对不足。大脑缺氧，心血不足，再加上这种温和天气的刺激会使大脑受到某种抑制，人就容易出现疲劳、打哈欠等现象，这也就是平时所说的“春困”了。

最适合做文段标题的是：

A：春困对人体起保护作用

B：春困的危害性

C：什么导致了春困

D：春困应该怎么办

正确答案选项：C

解析：分析文段。文段首先介绍了在春天的到来使得人体产生变化，大脑供氧不足。第二句为文段重点，解释了之所以“春困”，是因为大脑缺氧心血不足和天气刺激让大脑受到的某种抑制。

对比选项。C项是对文段主旨句的同义替换，适合作为文段标题。

故本题选C。

【解析拓展】

A项和B项：“保护作用”和“危害性”表述错误，文段讲的是人们为什么会出现“春困”。D项：无中生有，文段并没有说解决“春困”的对策。

9、

按照有利于村级组织建设、有利于服务群众的原则，将适合村级组织代办或承接的工作事项交由村级组织，并保障必要工作条件。规范村级组织协助政府工作事项，防止随意增加村级组织工作负担。统筹乡镇站所改革，强化乡镇为农服务体系建设，确架乡镇有队伍、有资源为农服务。

最适合做这段文字标题的是：

A：强化乡镇为农服务体系建设

B：强化村级组织服务功能

C：规范村级组织工作事项

D: 统筹城乡改革

正确答案选项: B

解析: 文段首先谈到将村级服务组织的工作交给村级组织有利于服务群众。接下来谈到规范村级组织来保证为农服务, 最后阐述了强化为农服务体系, 确保有资源为农服务。综合文段可知, 主旨为保证村级组织为农服务的功能。

对比选项。B项为文段主旨的同义替换, 适合做文段标题。

故本题选B。

【解析拓展】

A项和D项: 缺少话题“村级组织”。C项: 表述片面, “规范村级组织工作事项”为文段中的一个方面。

10、对一篇规范的论文, 因版面限制而去砍综述, 删注释, 实在是_____的不智之举。

填入划线部分最恰当的一项是:

A: 削足适履

B: 扬汤止沸

C: 矫枉过正

D: 舍本逐末

正确答案选项: A

解析: 分析语境。根据“因版面限制而去砍综述、删注释, 实在是_____的不智之举”可知, 该空体现勉强适应的意思。

辨析选项。A项“削足适履”指鞋小脚大, 把脚削去一些以适应小鞋, 比喻过分迁就现成条件, 或生搬硬套, 符合语境。B项“扬汤止沸”指舀动沸腾的水, 使它不沸腾, 比喻暂时救急或不能从根本上解决问题; C项“矫枉过正”指把弯曲的东西扭直, 结果过了头, 又歪向另一方, 比喻纠正错误超过了应有的限度; D项“舍本逐末”指放弃根本的、主要的, 而去追求枝节的、次要的, 形容轻重倒置。三者均没有体现勉强适应的意思, 排除B项、C项和D项。

故本题选A。

11、
这些石球取材于(A) 各种石头, 有的是砂岩, 有的是花岗岩, 有的是绿岩(一种黑绿色的火成岩), 但花岗岩和绿岩等石材则很坚硬(B), 很难雕刻。显然, 雕刻者是些能工巧匠(C)。令人惊讶的是, 据科学家考察, 这些石球竟然(D) 是4000多年前制造的。

阅读文段, 上述存在**错误**的一项是:

A: 如上文所示

B: 如上文所示

C: 如上文所示

D: 如上文所示

正确答案选项: B

解析: 本题考查其他语文基础知识

审题干, 找出存在错误的一项。

辨析选项。B项“艰硬”的“艰”是错别字, 应改为“坚硬”。A项、C项和D项均正确。

故本题选B。

12、知识_____不能离开能力, 同样能力也不能脱离知识。

填入画线部分最恰当的一项是()。

A: 既然

B: 虽然

C: 即使

D: 固然

正确答案选项: D

解析: 本题主要考查关联词的使用情况。

A项“既然”、B项“虽然”不能与后半句的“也”搭配, 常用搭配为“既然...就...”, “虽然...但是...”, 故排除A、B两项。

C项, “即使”与“也”可构成搭配, 表示条件关系, 但原句并不存在条件关系, 不符合语境, 故排除。

D项, “固然”可表示前后分句意思不矛盾、转折意味轻的句子, 后面用“也”、“就是”等呼应, 如“大米白面固然好, 高粱玉米也不错”。D项前半句强调“知识不能离开能力”, 后半句强调“能力不能脱离知识”, “固然”用在此处, 符合语意。

故本题选D。

13、
“真正的自由只能是法律下的自由。”无论是作为监管者的政府部门，还是共享单车企业或用户个人，只有多方发力、共同协作，用法律法规约束各自行为，才能使共享单车有序发展，促进绿色出行_____。

填入划线部分最恰当的一项是：

A：蔚然成风

B：大行其道

C：风靡一时

D：习以为常

正确答案选项：A

解析：分析语境。根据“才能使共享单车有序发展，促进绿色出行_____”可知，该空修饰“绿色出行”，表达“成为一种风气”之意。

辨析选项。A项“蔚然成风”指一件事情逐渐发展盛行，形成一种良好风气，符合语境。B项“大行其道”现指某种新潮事物流行、盛行，成为一种风尚。另指对一些霸道事物的不满的形容词。“绿色出行”并不是一种新潮事物，它由来已久，更不是霸道事物；C项“风靡一时”形容事物在一个时期里极其盛行，“绿色出行”不是要一时盛行，而是要持续盛行下去；D项“习以为常”指某种事情经常去做，或某种现象经常看到，也就觉得很平常了，该成语修饰对象是人，而不是“绿色出行”。三项均不符合文意，排除B项、C项和D项。

故本题选A。

14、下列各句中没有歧义的一句是（）。

A：他背着我和他妈妈就把这件事决定下来了。

B：老李和老王见了面非常高兴，他马上就把他拉到屋里去了。

C：几个学校的领导一起来了。

D：他的助手帮他做了大量的工作。

正确答案选项：D

解析：A项，可以理解为“背着我和他妈妈，自己决定”，也可以理解为“背着我和他妈妈共同决定”，存在歧义，故排除。

B项，“他”指代不清，存在歧义，故排除。

C项，可以理解为“‘几个学校’的领导”，也可以理解为“同一个学校的几个领导”，存在歧义，故排除。

本题为选非题，故正确答案为D。

15、近年来，各类互联网平台纷纷推出会员产品。客户会员越办越多，各种“套路”也_____。比如，不办会员就限速，办了会员依然广告不断……这样的“赢利”模式，短期内似乎能尝到甜头，但长远看来，实则是_____。

依次填入划横线部分最恰当的一项是：

A：接踵而至 饮鸩止渴

B：屡见不鲜 揠苗助长

C：应运而生 寅吃卯粮

D：不胜枚举 掩耳盗铃

正确答案选项：A

解析：分析第一空。根据“纷纷推出会员产品”可知，各种“套路”不断出现，所填词要表达“出现”之意。A项“接踵而至”指人们前脚跟着后脚，接连不断地来，形容来者很多，络绎不绝；C项“应运而生”指随着某种形势而产生。两者均符合语境。B项“屡见不鲜”形容事物看见过多次，就不会觉得新奇，侧重常见；D项“不胜枚举”指无法一个一个全举出来，形容同一类的人或事物很多，侧重数量多。两者均无法表达“出现”之意，不符合语境，排除B项和D项。

分析第二空。转折前后语义相反相对，所填词要表示“不能获得利益”也就是不能解决问题之意。A项“饮鸩止渴”比喻用有害的办法解决眼前的问题，不顾严重后果，符合语境。C项“寅吃卯粮”比喻入不敷出，预先挪用了以后的收入，侧重经济困难，不符合语境，排除C项。

故本题选A。

【拓展】

揠苗助长：比喻违反事物的发展规律，急于求成，反而坏事。掩耳盗铃：比喻自己欺骗自己。

16、杨树是一种易受细菌、真菌和害虫侵袭的树木。在人工培育大杨树林中，人们会通过控水、选种、诱杀或使用农药来消灭病虫害，保护杨树的正常生长。但是，在自然环境中，失去了人类庇护的杨树，要怎样来抵御各种病虫害的侵袭呢？与松树共生，就是杨树通过长期自然演化选择的一种自我保护手段。

这段文字主要介绍：

A：杨树最容易受病虫害侵袭

B：如何防止杨树的病虫害

C：与松树共生是杨树减少受病虫害的自然保护手段

D：人工消灭杨树病虫害比与松树共生效果更快捷

正确答案选项：C

解析：文段开篇指出，“人工培育的杨树由人类来保护其健康生长”，接着提出疑问——

“自然环境中杨树怎么抵御各种病虫害的侵袭呢？”最后给出这一问题的对策——

“与松树共生”，故文段重点在于解决问题的对策，对应C项。

A项，属于提出问题部分，非重点，且表述过于绝对，排除；

B项，选项中涉及的“如何防止”对象是人，是转折之前的内容，为了引出后面的重点，重点是杨树如何在自然界中抵御侵袭，排除；

D项，“人工”和“与松树共生”没有在原文进行比较，无中生有，排除。

故本题选C。

【出处】杭州日报《奇妙的植物共生现象》

17、历史虚无主义常常披上学术外衣，打着还原真相、重新解读的幌子，在脱离时代背景与历史实际的情况下，对_____的史料进行篡改、拼接，进而得出所谓历史真相，颇具迷惑性。

填入划线部分最恰当的一项是：

A：抱残守缺

B：支离破碎

C：四分五裂

D：土崩瓦解

正确答案选项：B

解析：

分析语境。根据文段“对_____的史料进行篡改、拼接，进而得出所谓历史真相，颇具迷惑性”可知，史料既然能够被拼接，说明其是零碎的，不完整的。

辨析选项。A项“抱残守缺”指抱住残缺的东西，不肯放弃，比喻因循守旧，不愿接受新事物，不符合语境，排除A项。B项“支离破碎”形容事物零散破碎，不成整体，符合文意。C项“四分五裂”形容分散、不统一、不团结，不符合语境，排除C项。D项“土崩瓦解”比喻彻底崩溃，不可收拾，不符合语境，排除D项。

故本题选B。

18、网络是大家熟知的东西，它为我国建设高效、透明、务实、廉洁的政府提供了物质技术条件，大大节约了行政成本，同时在一定程度上克服了信息传播的不对称性。我国各级政府积极利用网络技术，及时、准确发布政府信息以便于公众知情、参与和监督政府。

这段话意在强调（）。

A：网络技术的广泛运用，提高了政府工作效率，其目的是吸引世界的目光

B：我国政府积极创造各种条件，从经济活动中解放出来

C：网络技术的广泛利用，减轻了政府负担，但削弱了国家宏观调控能力

D：我国政府积极利用各种条件，贯彻落实对人民负责的原则

正确答案选项：D

解析：文段首先介绍网络在我国建设高效、透明、廉洁的政府上的两方面积极作用，最后介绍我国政府积极利用网络发布政务信息，更好地为人民服务。故文段旨在强调我国政府积极利用各种有利条件来完成政府工作，贯彻落实对人民负责的原则，对应D项。

A项，“目的是吸引世界的目光”无中生有，文段未提及，排除；

B项，“创造各种条件”、“从经济活动中解放出来”无中生有，文段未提及，排除；

C项，“削弱了国家宏观调控能力”无中生有，文段未提及，排除。

故本题选D。

19、

美国经济学家、诺贝尔经济学奖得主萨缪尔森把这种现象归纳为“合成谬误”。就是说每一个局部看上去都是理性、正确、有效率的，加起来却是一个谬误。萨缪尔森举了一个很生动的例子，他让我们想象一个非常简陋的露天剧场，大家可以坐在地上看，但是坐在后面的人觉得看得不够清楚，为了比别人看得更清楚一些，他们就会站起来。他们一站起来，更后面的人也会站起来，结果大家就都站起来了。站起来以后还是看不清楚，成本增加了，福利却没有增加。聪明人又会想出一个办法来，站着不行就踮着脚，结果全场的人都会踮着脚看，整体的福利又下降环整体福利一直在下降，个人成本不断在上升，这就是“合成谬误”

这段文字的主旨是：

A：人们不应该只为了自己的利益，而应该考虑大家的利益

B：“合成谬误”对人们造成的影响

C：应该如何理解并走出“合成谬误”的陷阱

D：举例说明“合成谬误”这一概念

正确答案选项：D

解析：分析文段。文段首先引出“合成谬误”的话题，后文举例子论述该话题，属于“总—分”的结构，第一句即文段主旨句。

对比选项。D项是文段主旨句的同义替换。

故本题选D。

【解析拓展】

A项：缺少文段主体词“合成谬误”。B项和C项：“对人们造成的影响”和“走出‘合成谬误’的陷阱”均无中生有。

20、下列各句中没有语病的一句是（ ）。

A：对艺术的渴望和艺术修养的缺乏形成了强烈的反差，这集中反映了我国艺术教育的现状

B：在体制环境，理论实践等方面，我们的艺术人才培养也存在一些弊端，生长了一些顾忌，妨碍了艺术事业不再进步

C：通过镜头前面的表演和麦克风前面的语言训练，使我们的学生具有很好的创造角色的能力，基本功非常扎实，这是有目共睹的

D：能否提高他的文学，艺术素养关键是要重视学生对完整角色的创造能力

正确答案选项：A

解析：A项，表述明确，没有语病。

B项，“不再”与“妨碍”双重否定表示肯定，语义错误。

C项，缺少主语。

D项，两面对一面。

故本题选A。

21、任何技术的价值观，说到底还是人的价值观。技术中立不代表对技术的使用是无害的，失去道德与法律的约束，就会有碰触底线的危险。一方面，对于商业组织来说，即使其抱有保护个人数据的使命感，然而一旦出现商业利益的冲突，仅靠自律是否足够？另一方面，政府组织也会在各类公共服务中采集大量个人数据，这部分个人数据的敏感程度往往较高，如果缺乏一套完善的制度监管体系严防其被滥用、盗用，那么也将使公民的个人信息被暴露在较大风险之中。

这段文字意在说明：

A：商业组织的自律有助于保护个人数据

B：人的价值观决定了技术使用的利弊

C：技术中立给个人数据带来风险

D：个人数据的收集需要监管

正确答案选项：D

解析：分析文段。文段先通过“任何技术的价值观，说到底还是人的价值观”引入话题，然后提出问题“技术中立如果失去约束，就会有触碰底线的危险”。接下来从两个方面来解释说明不能失去约束的原因。从商业组织角度来说，保护收集的个人数据如果与利益产生冲突，仅凭自律是不够的；从政府组织角度来说，如果缺乏监管，收集的

个人数据也可能暴露在风险之中。文段围绕问题“收集的个人数据不通过监管会存在风险”展开，所以要对收集的个人数据进行监管。

对比选项。D项是对文段主旨句的同义替换，符合文段意图。

故本题选D。

【解析拓展】

A项：表述片面，“商业组织”对应一个方面的内容。B项：“决定了技术使用的利弊”对应首句，为话题引入的部分，偏离重点。C项：“带来风险”属于问题的表述，非重点。

22、酸奶仅是对人体肠道比较友好，能减少胃肠道感染的几率，但目前并没有证据证明酸奶能促进消化。“吃撑后食用酸奶相当于‘加餐’，不仅不会达到有助消化的效果，反而会增加更多热量”。此外，就目前的证据显示，酸奶本身并不能纠正身体不规律、不正确或频率低下的胃肠运动，也不含消化酶，并不能真正帮助消化其他的物质。

根据上述文字，下列说法正确的是：

A：酸奶是高热量食物

B：应尽量少喝酸奶

C：酸奶并不能帮助消化

D：酸奶可以促进吸收，使人体长胖

正确答案选项：C

解析：分析文段，将选项与文段一一对应。

辨析选项。A项对应“吃撑后食用酸奶相当于‘加餐’，不仅不会达到有助消化的效果，反而会增加更多热量”，文段只说明酸奶在人们吃撑后食用会给人体增加更多的热量，并没有指出酸奶本身热量高，属于曲解文意，错误。B项“少喝酸奶”文段没有提及，属于无中生有，错误。C项对应“目前并没有证据证明酸奶能促进消化”，正确。D项“促进吸收”文段没有提及，属于无中生有。错误。

故本题选C。

23、

考前很多考生都会感到焦虑，担心因为焦虑影响正常发挥。专家表示，从心理学上来说，适度焦虑并不是坏事，它有利于考生正常、甚至超常发挥。考生面对焦虑可用呼吸放松法、肌肉放松法进行调节，也可适当进行积极的心理暗示。

最适合做这段文字标题的是：

A：超常发挥得益于考试焦虑

B: 适度焦虑不会影响考试

C: 杜绝考试焦虑的捷径

D: 心理暗示可帮助考试

正确答案选项: B

解析: 分析文段。文段首句提到很多考生都担心考前焦虑会影响其正常发挥, 第二句引用专家的言论提出观点, 即“适度焦虑并不是坏事, 它有利于考生正常、甚至超常发挥”。尾句再补充说明了缓解焦虑的一些具体方法。文段属于“分—总—分”结构。

对比选项。B项“适度焦虑不会影响考试”是对总论点的同义替换, 正确。A项过于绝对, 排除。C项“杜绝”描述错误, 尾句只是在“调节”, 排除。D项属于尾句分述部分, 排除。

故本题选B。

24、将《水浒传》翻译成英语, 翻译者不仅需要对两种语言的把握达到_____的地步, 而且对于其中_____的百科知识也要十分熟悉。

填入画横线部分最恰当的一项是 () 。

A: 炉火纯青 面面俱到

B: 滚瓜烂熟 包罗万象

C: 炉火纯青 包罗万象

D: 游刃有余 面面俱到

正确答案选项: C

解析: 本题可从第二空入手, 搭配“百科知识”, B、C两项“包罗万象”指内容丰富, 应有尽有, 搭配恰当, 保留; A、D两项“面面俱到”指各方面都照顾的到, 无法搭配“百科知识”, 排除。

第一空通过“而且”和“也”可知, 该空应体现翻译者对两种语言达到很熟练的地步。C项“炉火纯青”比喻功夫达到了纯熟完美的境界, 符合文意, 当选; B项“滚瓜烂熟”形容记得非常牢固, 念或背得非常流利, 不符合文意, 排除。

故本题选C。

25、贺兰山岩画自发现以来, 给人们的震撼和向人们提出的问题几乎同样多, 有关岩画的内容、年限、创作族群等问题, 专家们_____, 贺兰山岩画上空的这些谜团至今仍然烟云缭绕。考古界有句名言: “唯一能确定的就是不确定!” 贺兰山岩画似乎_____了这句话, 岩画研究中的诸多观点都陷入了一种不可确定中。

依次填入划横线部分最恰当的一项是 () 。

A: 唇枪舌剑 延伸

B: 莫衷一是 呼应

C: 不置可否 诠释

D: 各持己见 印证

正确答案选项: D

解析: 第一空, 根据“这些谜团至今依然烟云缭绕”可知: 还没有固定的结论来解释贺兰山岩画, 故所填词语应表达专家们持有不同的意见与看法, B项“莫衷一是”形容意见分歧, 没有一致的看法, D项“各持己见”指每个人都坚持自己的意见, 均可。A项“唇枪舌战”形容辩论时言语锋利, 争辩激烈, 文段没有提及辩论, 排除; C项“不置可否”是指没有表明态度, 和文段最后提到的“岩画研究中的诸多观点”刚好相反, 文段中的意思是专家们表达了自己的观点, 但没有形成统一的看法, 故应排除。

第二空, 根据后文“岩画研究中的诸多观点都陷入了一种不可确定中”可知, 横线词语表达贺兰山岩画证明了这句话, D项“印证”指通过其他事物进一步证明, 符合文意。B项“呼应”指文章前后相照应, 和文意无关, 排除。

故本题选D。

【出处】《岩画: 贺兰山的文身》

26、文明因多样而交流, 因交流而互鉴, 因互鉴而发展。我国主张以文明交流超越文明_______、以文明共存超越文明_____。

依次填入横线部分最恰当的一项是 () 。

A: 阻塞 对抗

B: 隔阂 冲突

C: 阻碍 龃龉

D: 隔膜 矛盾

正确答案选项: B

解析: 第一空, 搭配“文明”, 根据“以文明交流超越”可知横线处应体现与“交流”相反的含义, 表达各个文明之间有壁垒之意。A项“阻塞”指有障碍而不能通过, 强调“不畅通”, 与文意不符, 排除; B项“隔阂”指彼此情意沟通的障碍, 与文艺相符, 保留; C项“阻碍”指阻力、障碍, 与文意不符, 排除; D项“隔膜”指情意不相通, 互不了解, 与文意相符, 保留。

第二空, 搭配“文明”, 根据“以文明共存超越”, 横线处应体现与“共存”相反的含义, 表达各个文明间相敌对之意。B项“冲突”指对立的、互不相容, 与文意相符, 当选。D项“矛盾”侧重一个主体自身的对立, 根据“多样”可知文段强调多个主体的共存, 排除。

故本题选B。

27、开矿三十年，该县仍为深度贫困县，野蛮生长的有色金属开采和粗加工业没能让当地百姓脱贫致富，却留下了_____的尾矿污染。

填入划横线部分最恰当的一项是：

A：积重难返

B：藏污纳垢

C：根深蒂固

D：坚不可摧

正确答案选项：A

解析：空格前有转折关联词“却”，含义和前面意思构成相反，该空要表达的意思是三十年积累下来的问题。

辨析选项。A项“积重难返”指恶习或弊端已发展到难以革除的地步，符合文意。B项“藏污纳垢”指包容坏人坏事，没有积累问题之意，不符合文意，排除B项。C项“根深蒂固”指基础稳固，不容易动摇，不符合文意，排除C项。D项“坚不可摧”指非常坚固，摧毁不了，同样也没有表达出问题积累之意，排除D项。

故本题选A。

28、由于小陈没有深入调查，凭主观想象写了一些不恰当的情节，_____大大降低了文章的思想高度。

填入横线处最恰当的一项是（）。

A：因此

B：反而

C：竟然

D：而且

正确答案选项：A

解析：分析句意，“不恰当的情节”和“降低文章的思想高度”之间是因果的关系，“因此”是因果关系的典型标志词，所以A项当选。B项，“反而”表转折，C项“竟然”、D项“而且”表递进，均与文意不符，排除。

故本题选A。

29、一个不容忽视的事实是，当今世界的人才流动和教育资源供给呈现明显的国际化趋势，有条件的家长和考生更倾向于在全球视野中来审视各所大学。同时，今天考生成长的途径也日益多元化，内地去国外读大学的人逐年增加，而内地教育部门与高校仍然以单一的考核标准指挥着高考这一出教育大戏。换句话说，现有的教学模式或许能适应过去传授式的教育需求，但在更加注重创新能力培养的当代教育需求面前，这些名校显然还没有适应转型。

这段文字要表达的核心观点是（）。

A：转变观念、创新教学，对于内地名校来说已迫在眉睫

B：国内的考生更喜欢国外的教学条件和环境

C：内地名校过于注重硬件设施的投入和灌输式的教学模式

D：高分考生与名校配对成功的多少，决定着学校在教育界的排名和声望

正确答案选项：A

解析：文段开篇阐述了当前教育界所存在的两种“不容忽视的事实”，即“人才流动和教育资源国际化”和“成长途径多元化”。随后提出在这样的趋势下，内地教育部门与高校仍存在用高考单一标准考核问题。最后通过“换句话”总结全文，再次强调了在注重创新的当代教育面前，名校的考核标准存在问题，对应选项优先选对策，对应A项。

B项，文中未将国外的教学条件和环境与国内对比，无中生有，排除；

C项，文段并未论述内地名校的教学模式，无中生有，排除；

D项，文中未提到“排名和声望”，无中生有，排除。

故本题选A。

30、打开微信朋友圈，能看到很多年轻父母拍照“晒娃”，看得多了，难免让人产生一种错觉，似乎有些父母把孩子“宠物化”了。事实上，不少家长对孩子的确有这种“宠物化”倾向，开心时会和孩子玩一玩逗一逗，温言细语，心情不好时就态度粗暴，拿孩子撒气，而在孩子成长过程中，当絮叨无效或“婆婆妈妈”令孩子逆反之后，一些“懒得废话”的家长就会诉诸暴力。

这段文字反映出一些年轻家长存在的主要问题是（）。

A：缺乏信息安全意识

B：心智显得不够成熟

C：利用孩子满足虚荣心

D：忽略孩子的心理需求

正确答案选项：D

解析：文段先由朋友圈“晒娃”引入话题，指出当下存在家长将孩子“宠物化”的现象，并详细阐述了此类现象的表现：家长对待孩子的态度仅由自己的心情决定，甚至诉诸武力。故文段强调的是这类年轻家长在养育孩子的过程中，只从自己的角度出发，只考虑自己心情好坏，将孩子视作“宠物”而非“独立个体”，没有考虑孩子的心理状况，对应D项。

A项“缺乏信息安全意识”文段中并没有提到“信息安全”只是说朋友圈“晒娃”，所以无中生有，排除；

B项，“心智不成熟”指这个人想问题比较简单做事不理性考虑不全面，文段中“心情”好不好决定怎么对待孩子，并不能等同于“心智”，对比择优，排除；

C项“满足虚荣心”对应文段开头的“晒娃”这一背景，背景引出话题非重点，排除。

故本题选D。

【文段出处】《年轻父母不应把孩子“宠物化”》

31、在养生专家的_____下，在环保主义者的_____下，在时尚的引领下，世界许多国家和地区的公众流行着一种新的行为方式——素食。这种饮食行为的极端者被称为素食主义者。而素食主义者除了极力提倡素食以及把素食的优点扩大和_____到极致外，还对荤食极其不屑。

依次填入划横线部分最恰当的一项是：

A：倡导 影响 渲染

B：建议 劝说 宣扬

C：影响 倡议 夸张

D：督促 推动 鼓吹

正确答案选项：A

解析：

分析第一空。填入的词语与“养生专家”搭配。A项“倡导”指率先提议；B项“建议”指向有关方面提出自己的主张；C项“影响”指以间接或无形的方式来作用或改变（人或事）的行为、思想或性质。A项、B项和C项均可与“养生专家”搭配。D项“督促”指对某一特定环节、过程进行提醒、监督和管理，使其结果能达到预定的目标，多用于上级对下级，长辈对小辈，与“养生专家”搭配不当，排除D项。

分析第二空。与“环保主义者”搭配，根据“世界许多国家和地区的公众”可知，该空针对公众。A项和C项“影响”“倡议”与“环保主义者”搭配恰当。B项“劝说”指劝说别人接受某种意见或主张，一般针对特定的群体，无法面向最普遍意义上的公众，不符合文意，排除B项。

分析第三空。根据第三空前的“和”可知，填入的词语与“扩大”并列，应填入一个动词。A项“渲染”比喻夸大地形容，可做动词，符合文意。C项“夸张”可以做形容词，指言过其实；也可做名词，指一种修辞方式，但不能做动词，排除C项。

故本题选A。

【解析拓展】

推动：指使工作展开。宣扬：广泛传布，传扬。鼓吹：宣扬，使众人知道，通常含贬义。

32、夏天少数人为贪图凉爽，早餐以冷饮代替豆浆和牛奶，这种做法在短时间内不会对身体产生影响，但长期如

此会伤害“胃气”。在早晨，身体各系统器官还未走出睡眠状态，过多食用冰冷的食物，会使体内各个系统出现挛缩及血流不顺的现象。所以早饭时应首先食用热稀饭、热豆浆等热食，然后再吃蔬菜、面包、水果和点心等。

这段文字主要谈的是（）。

A：夏天吃早餐的重要性

B：夏天早餐喝冷饮的危害

C：夏天早餐应吃什么食物

D：夏天吃早餐的注意事项

正确答案选项：D

解析：文段结构为：提出问题——解释问题——得出结论，可知结论部分为文段重点，即早餐食物的先后顺序——先吃热食，再吃冷食。这属于夏天吃早餐的注意事项。因此，结合选项应该选择D项。

A、B项，结论前，非重点句，排除。

C项，虽然重点句部分提到了早餐吃什么，但更强调的是不仅要吃这些还应注重吃的顺序。

故本题选D。

33、数码时代的人类有了更多快捷储存知识的方法，许多知识信息在网络、电脑上_____，无需再费时费力地加以记忆。记忆的有些方面可以_____给书籍和数码机器，但我们依然需要明白怎么才能最为有效地运用这些工具。因此，我们仍然需要让自己的头脑和经历处于最佳的状态。

填入划横线部分最恰当的一项是：

A：唾手可得 委托

B：俯拾即是 交付

C：应有尽有 传递

D：一览无余 转移

正确答案选项：A

解析：分析第一空。根据后文“无需再费时费力地加以记忆”可知，横线上所填的词语应该表示知识信息在网络以及电脑上容易得到。A项“唾手可得”指动手就可以取得，比喻极容易得到，符合文意。B项“俯拾即是”指低下头来随便捡一捡到处都是，形容十分多，又十分容易得到。C项“应有尽有”即应该有的全都有了，表示一切齐备。D项“一览无余”指一眼望去就看得很清楚，毫无遗漏。B项、C项和D项三者均不符合文意，排除B项、C项和D项。答案锁定A选项。

验证第二空。“委托”指把事情托付给别人或别的机构办理，符合“记忆的有些方面可以_____给书籍和数码机器”的语境。

故本题选A。

34、当前，互联网模式迭代迅速，甚至当新模式生成时，大部分人还_____。比如“区块链”，尽管各大媒体热炒这个概念，不少人还是对此一头雾水，但它在专业技术层次上的实践，已有多年的历史了。这种专业性和普适性之间的_____，恰恰是互联网世界未来可能的趋向。

填入划横线部分最恰当的一项是：

A：浑然不觉 落差

B：固执己见 联系

C：不以为然 差异

D：充耳不闻 结合

正确答案选项：A

解析：第一空，体现人们对互联网新模式的态度。根据后文“尽管各大媒体热炒这个概念，不少人还是对此一头雾水”可知，面对新模式的生成，大部分人其实还是糊里糊涂，摸不着头脑。A项“浑然不觉”形容毫无察觉的样子，体现出人们并未发现互联网模式的转变，对新模式也不甚了解，符合文意。B项“固执己见”指顽固坚持自己的意见，不肯改变；C项“不以为然”指不认为是对的，表示不同意（多含轻视意）；D项“充耳不闻”指塞住耳朵不听，形容不愿听取别人的意见。均不符合文意，排除。

验证第二空，横线处填入的词描述的是专业性和普适性之间的关系。根据“它在专业技术层次上的实践，已有多年的历史了”“尽管各大媒体热炒这个概念，不少人还是对此一头雾水”可知，“区块链”在专业技术上已经比较成熟，但在对群众的普及上比较迟缓，体现出这两方面并不对等、存在落差。A项“落差”比喻事物在对比中产生的差距，符合文意，当选。

故本题选A。

35、下列括号内成语使用恰当的一项是：

A：要振兴经济，就必须开放门户，互通有无，现在却在操舞政治，闭关自锁，如此（画地为牢），民生怎能不凋敝，经济怎么不衰退呢？

B：士大夫大都（孤芳自赏），标榜名士清客的作风，借以文会友之便，啸聚同类，舞文弄墨，品诗论画，此唱彼和，自得其乐。

C：我们应该向先进企业学习，起初可能是（邯郸学步），但终究会走出自己的路来。

D：“崇尚科学文明，反对迷信愚昧”图片展，将伪科学暴露得（淋漓尽致），使观众深受教育。

正确答案选项：D

解析：审题干，找出括号内成语使用正确的一项。

对比选项。A项“画地为牢”比喻只许在指定的范围内活动。适用于抽象的范围，而不适用于具体的“地理范围”，而“

闭关自锁”是地理范围上的概念，此处宜改为“固步自封”，故排除A项。B项“孤芳自赏”是指自命清高，自我欣赏，不与他人有很多往来。因此，“孤芳自赏”与B项后文“以文会友，啸聚同类，此唱彼和，自得其乐”相悖，故排除B项。C项“邯郸学步”比喻模仿别人不成，反而丧失了原有的技能，属贬义词。不符合C项语境的感情色彩，排除。D项“淋漓尽致”形容文章或谈话详尽彻底，或比喻暴露得很彻底。符合语境。

故本题选D。

36、“莫道春光难揽取，浮云过后艳阳天。”长江两岸，“武汉必胜”格外醒目，这是江城武汉的英雄气质；东湖之畔，千树繁华悄然绽放，这是不可阻挡的春天脚步！一个个这样的瞬间_____着荆楚大地穿越风雪砥砺前行秘密，_____着中华民族久经磨难自强不息的力量。

依次填入画横线处部分最恰当的一项是（）。

A：潜藏 滋养

B：蕴藏 孕育

C：埋藏 培育

D：隐藏 养育

正确答案选项：B

解析：本题可从第二空入手，此处搭配“力量”，A项“滋养”，指供给养分，养分，养料，搭配不当，排除；B项“孕育力量”，搭配恰当，保留；C项“培育”指培养幼小生物，使其发育成长，通常搭配有“培育良种、友谊、新人”，搭配不当，排除；D项，“养育”指抚养，通常为“养育子女”，搭配不当，排除。

第一空代入验证，B项“蕴藏”指蓄积而未显露或未发掘，“蕴藏秘密”，搭配恰当，当选。

故本题选B。

【文段出处】《任仲平文选——莫道春光难揽取，浮云过后艳阳天》

37、他急匆匆赶到图书馆去_____有关笔迹鉴定的材料。

填入横线处的词语最恰当的一项是（）。

A：查询

B：查阅

C：检查

D：抽查

正确答案选项：B

解析：横线处与“材料”进行搭配。

A项“查询”指检查询问，强调询问，多用于查询信息，与“材料”搭配不当，排除；

B项“查阅”指抽阅书刊、文件等有关部分，指查找翻阅资料，与文段搭配恰当，当选；

C项“检查”指为了发现问题而用心查看，强调查找问题和缺陷；

D项“抽查”指选择性的检查。

C项和D项都不符合去图书馆针对材料进行查看的语义，排除。

故本题选B。

38、
众所周知，感冒发烧那是因为身体发了炎，产生了炎症。不仅如此，其实在人类的大部分严重疾病的发病过程中，例如肝硬化、糖尿病，甚至包括癌症，炎症都在其中扮演了至关重要的角色，而间充质干细胞就可以根据炎症的强弱大小，或者炎症发生的地点，来变换自己的性质，发挥自己不同的功能它可以消炎，也可以促炎，它可以招募其他“伙伴”一起促进组织生长，也可以“学面锋”做好事进行组织修复，这种变化多端的能力不就像是我们熟悉的“猴哥”吗？

这段文字中，“它”指的是：

A：间充质干细胞

B：炎症

C：炎症发生的地点

D：炎症的强弱大小

正确答案选项：A

解析：定位原文，“它”出现在最后一句。分析“它”的上下文语境。前文讲感冒发烧与炎症有关，接着通过“而”字转折提出“间充质干细胞”这一句话题，由并列句式“可以……可以……”可知，主语应保持一致，故“它”的指代内容应为“间充质干细胞”。

对比选项。A符合上述语境。

故本题选A。

39、从某种意义上讲，（
）了财权，管好了政府的“钱包”，诸如约束三公消费、行政开支、遏制奢侈消费之类的难题，将随之（
）。

A：控制；化为泡影

B：操控；销声匿迹

C：控制；迎刃而解

D：操控；各个击破

正确答案选项：C

解析：第一空，搭配“财权”，对应“管好了政府的‘钱包’”，“操控”形容掌握运用或驾驭得心应手，毫无阻碍；“控制”指使处于自己的占有、管理或者影响之下。“控制”可指使处于自己的管理下，更能对应“管好”，排除B、D两项；

第二空，搭配“难题”，A项“化为泡影”比喻完全落空，无法搭配“难题”，排除；C项“迎刃而解”比喻处理事情、解决问题很顺利，搭配得当，且符合文段语境，当选。

故本题选C。

40、早在远古时期，我们的祖先就开始采掘铜矿，铸造铜器了。从传世文献记载来看，我国在夏代之前就已经进入铜器时代，但是，这却一直没有得到考古发掘的证实。直到上个世纪50年代，考古工作者在河南偃师二里头一带发掘出了不少青铜器。经鉴定，这批青铜器的制作年代距离现在3500多年。这个时间大概是夏晚期。它们出土的地点正好是古书中所说的夏代开采铜矿之地。因此，_____。下列选项中，填入划横线部分恰当的一句是（
）。

A：远古时期，我们的祖先就开始铸造铜器了

B：我国最迟在夏晚期就已经开始使用铜器了

C：我们的祖先铸造铜器具有悠久的历史

D：考古工作者找到了我国古代铸造铜器的证据

正确答案选项：B

解析：横线出现在文段尾句，且横线前出现“因此”，故应把握前文中心。

前文指出从文献记载看来，我国在夏代之前就已经进入铜器时代，但没有证据。而河南出土的青铜器，它们出土的地点正好是古书中所说的夏代开采铜矿之地，故应可以证明古人在夏代之前就已经进入铜器时代，对应B项。

A项，“远古时期”，概念扩大，文中重点强调“夏代”，排除。

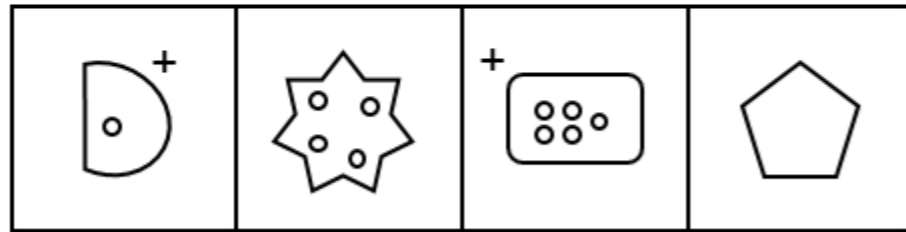
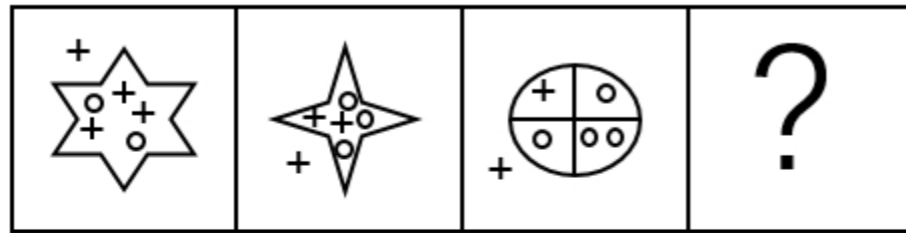
C项，前文重在探索使用铜器的开端，而非其历史长短，排除。

D项，“证据”为了证明“我国在夏代之前就已经进入铜器时代”，其自身非重点，排除。

故本题选B。

三、判断推理。本部分包括图形推理、定义判断、类比推理与逻辑判断四种类型的试题。(共50题)

1、 ()



A B C D

A: A

B: B

C: C

D: D

正确答案选项: C

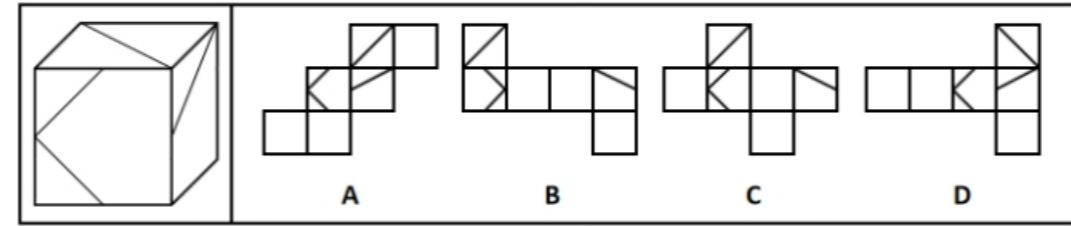
解析: 分析题干

图形元素组成相似, 优先考虑样式规律。通过观察发现, 题干每幅图形都被一个主体图形分为内外两部分, 且外部都有1个加号, 排除BD。对比AC发现, A中主体图形内部只有1个小圆圈, 而C中有5个小圆圈, 回到题干发现主体图形内部的小圆圈个数依次为2、3、4, 呈递增趋势, 而图形内部的小加号的个数依次为3、2、1, 呈递减趋势, 所以? 处的图形内部应有5个小圆圈, 排除A。

再次标注答案

故本题选C。

2、 下列选项中, 能由左边的立方体展开而成的是 ()。



A: A

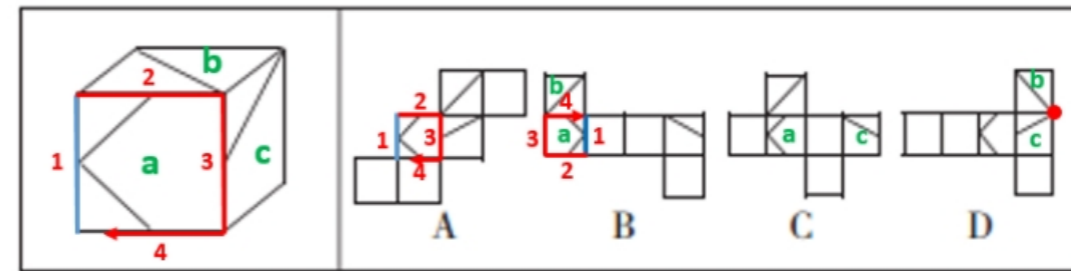
B: B

C: C

D: D

正确答案选项: A

解析: 将展开图标上序号如下图, 逐一分析选项。



A项: 选项与题干一致, 当选;

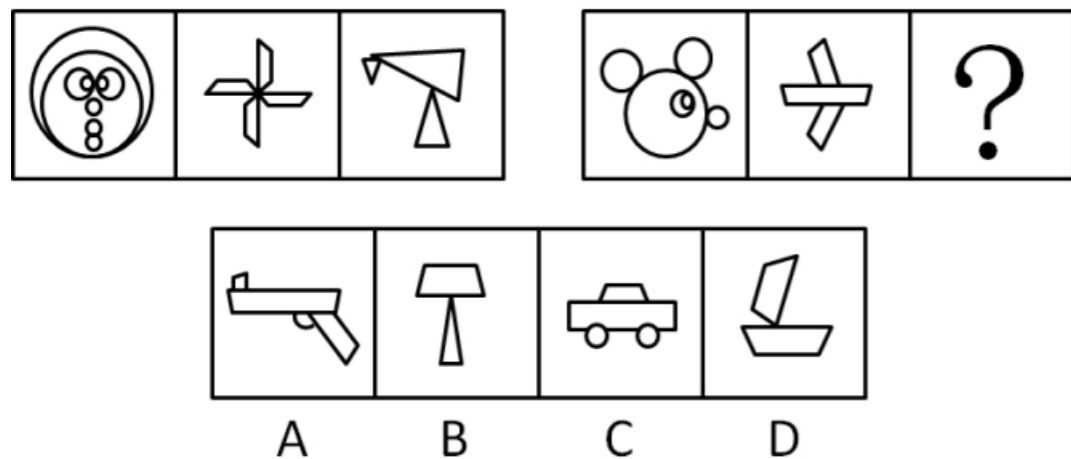
B项: 题干中面a可以确定唯一边(如图中蓝线所示), 在题干和选项的面a上, 以唯一边为起始边, 沿顺时针同时进行画边, 题干中与面b所对的边是边2, 选项中与面b所对的边是边4, 选项与题干不一致, 排除;

C项: 选项中的面a和面c, 同行相隔一个面, 是一组相对面, 但题干立体图形中面a和面c是一组相邻面, 选项与题干不一致, 排除;

D项: 选项中面b和面c中的两条斜线有相交点, 但题干中面b和面c中的两条斜线没有相交, 选项与题干不一致, 排除。

故本题选A。

3、从所给的四个选项中选择最合适的一个填入问号处，使之呈现一定的规律（）。



A: A

B: B

C: C

D: D

正确答案选项: D

解析: 元素组成不相同, 且无明显属性规律, 考虑数量规律, 观察题干发现, 题干中每幅图均由相同形状的元素组成, 只有D项符合要求。

故本题选D。

4、很多大学生临近毕业找工作, 都会面临工作面试。面试在求职过程中非常重要。经过面试, 如果应聘者的性格特征不适合待聘工作的要求, 则不可能被录用。以上论断是建立在以下哪项假设基础上? ()

A: 面试官能够准确地分辨出哪些性格特征是工作所需要的

B: 若一个人的性格特征适合工作的要求, 他就一定被录用

C: 必须经过面试才能取得工作

D: 面试的唯一目的就是甄别应聘者的性格特征

正确答案选项: A

解析: 找出论点和论据。

论点: 经过面试, 如果应聘者的性格特征不适合待聘工作的要求, 则不可能被录用。

论据: 无。

只有论点, 没有论据, 优先考虑补充论据。

逐一分析选项。

A项: 如果面试官不能准确地分辨出哪些性格特征是工作所需要的, 那么就无法判断面试者的性格特征是否适合待聘工作的要求, 则题干论点就无法推出, 故该项是题干成立不可或缺的假设, 当选;

B项: 论点可翻译为: -性格特征适合→-

录用, 而该项可翻译为: 性格特征适合→录用, 然而否前无法得出确定性结论, 不是论证成立的假设, 排除;

C项: 论点说的是面试对求职过程的重要性, 而该项说的是面试是取得工作的唯一途径, 话题不一致, 不是论证成立的假设, 排除;

D项: 论点说的是面试时会考察应聘者的性格特征, 但并未说只考察性格特征, 不是论证成立的假设, 排除。

故本题选A。

5、某高校外语教研室新招进五位外语老师, 每位老师只教授一门外语。并且满足以下条件: (1) 如果小钱教德语, 那么小孙不教俄语 (2) 或者小李教德语, 或者小钱教德语 (3) 如果小孙不教俄语, 那么小赵不教法语 (4) 或者小赵教法语, 或者小周不教英语。以下选项如果为真, 可以得出“小李教德语”的结论? ()。

A: 小孙不教俄语

B: 小钱教德语

C: 小周教英语

D: 小赵不教法语

正确答案选项: C

解析: 翻译题干。

(1) 小钱教德语 → 小孙教俄语;

(2) 小李教德语或者小钱教德语;

(3) 小孙教俄语 → 小赵教法语;

(4) 小赵教法语或者小周教英语。

本题是给出了结论, 需要从结论出发倒推条件。

根据 (2) 可知: 要想得到小李教德语这个结论, 需要小钱不教德语;

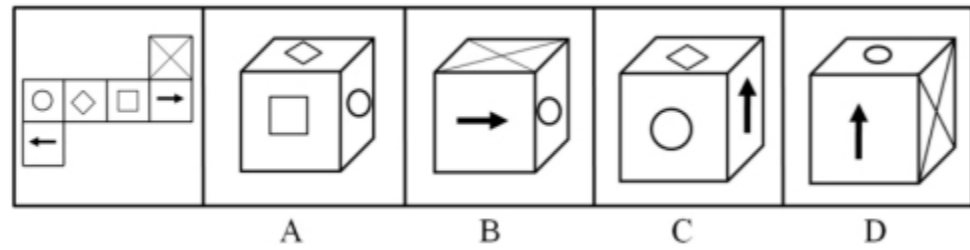
根据 (1) 可知: 要想得到小钱不教德语这个结论, 需要小孙教俄语这个条件;

根据 (3) 可知: 要想得到小孙教俄语这个结论, 需要小赵教法语这个条件;

根据 (4) 可知: 要想得到小赵教法语这个结论, 需要小周教英语这个条件。即: 要想保证小李教德语, 则需要小周教英语。

故本题选C。

6、左边给定的是纸盒的外表面，下列可由它折叠而成的是：



A: A

B: B

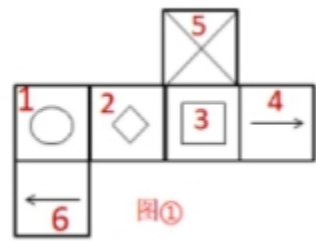
C: C

D: D

正确答案选项: B

解析: 本题为六面体折纸盒题型。

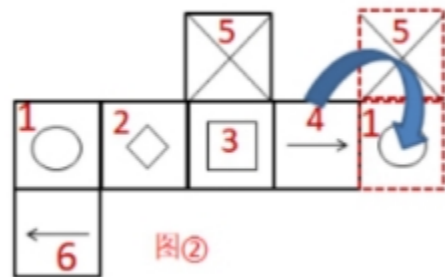
对平面展开图各面进行标注, 如图①所示。



分析选项。

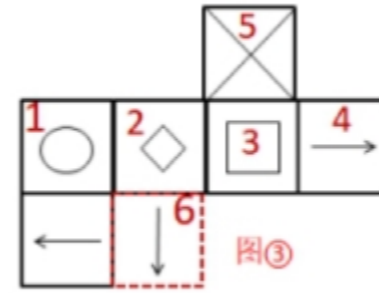
A项: 该项中三面为1、2、3面, 题干平面展开图中1面和3面为相对面, 相对面在立体图形中必能且只能出现一个面, 排除;

B项: 该项中三面为有箭头面、5面和1面, 箭头面有6面和4面, 5面和6面为相对面, 相对面不能在立体图形中同时出现, 因此, 该项只能是1、4、5面。1、4、5面, 用箭头法验证, 如图②所示, 相邻位置正确可以折成;

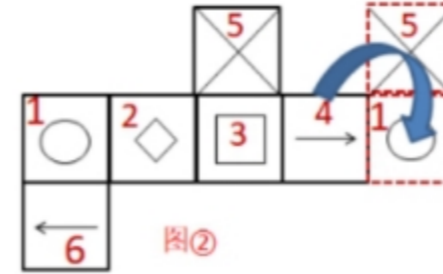


C项: 该项中箭头面中箭头指向2面中菱形, 而展开图中2、4面为相对面, 该项中既有2面, 就不可能再有4面, 而6

面箭头不指向2面中菱形, 如图③所示, 故不能折叠成, 排除;



D项: 该项中三面有箭头面、5面和1面, 箭头面为6面或4面, 因5面和6面为相对面, 该项中既有5面, 6面不能再出现, 因此, 该项只能是1、4、5面。1、4、5面, 用箭头法验证, 如图②所示, 题干展开图中为顺时针, 选项中为逆时针, 故不能折叠成, 排除。



故本题选B。

7、霸王条款是个别商家利用信息不对称、供求关系不平衡, 以及自己的垄断地位将不平等的消费条款强加给消费者的条款。表现为一些经营者单方面的逃避法定义务、违反公平原则、损害合同相对人利益的格式合同中的不平等条款, 或者以违反通知、声明、店堂告示或者行业惯例等形式出现的合同内容。根据上述定义, 下列哪项中的现象不属于霸王条款? ()

A: 影楼规定, 拍婚纱照时未选中的影像作品及底片、样本归影楼所有, 顾客如有需要, 必须另行付费

B: 某美容院规定, 办理美容卡后, 如果退卡, 已半价消费的项目按全价结算

C: 通过活动出售的打折、特价商品不能退

D: 吃饭时, 拒付饭店餐费, 吃霸王餐

正确答案选项: D

解析: 判断题干中的关键词。

主体: 商家、经营者。

方式: 利用信息不对称、供求关系不平衡, 垄断地位, 经营者单方面的逃避法定义务, 违反公平原则等, 损害消费者、合同相对人的利益。

逐一分析选项。

A项，影楼是利用供求关系不平衡，将底片、样本归为己有，损害顾客的利益，符合定义。

B项，美容院违反公平原则，顾客退卡时将已半价消费的项目按全价结算，损害顾客利益，符合定义。

C项，打折商品售出不退，是经营者单方面逃避法定义务，符合定义。

D项，吃饭的主体是消费者，不是商家或经营者，不符合定义。

再次标注答案

本题为选非题，故本题选D。

8、有张、王、李、赵四位特长生，擅长足球、篮球、棒球、排球四项运动，经测试发现：

- (1) 擅长足球的同学，同样也擅长篮球；
- (2) 张和王擅长排球；
- (3) 赵不擅长足球；
- (4) 每名同学擅长2项运动，且每两人擅长的运动不完全一样；

根据上述条件，以下哪项一定是错误的？（）

- A：张不擅长篮球
- B：王不擅长棒球
- C：李不擅长足球
- D：赵不擅长排球

正确答案选项：C

解析：本题考查组合排列题，首先整理题干信息：

- (1) 擅长足球的同学，同样也擅长篮球；
- (2) 张和王擅长排球；
- (3) 赵不擅长足球；
- (4) 每名同学擅长2项运动，且每两人擅长的运动不完全一样。

根据确定信息(2)可知，张和王擅长排球，再结合着条件(1)可知，如果张和王擅长足球，则同样也会擅长篮球，那么擅长的运动就超过了2项，与条件(4)矛盾，因此张和王都不擅长足球，他们擅长的项目应该为排球和篮球组合或者排球和棒球组合，但具体谁是哪种组合不确定，故张可能不擅长篮球，王也可能不擅长棒球，A、B项都是可能存在的，排除；

结合条件(3)，说明张、王、赵都不擅长足球，则擅长足球的肯定是李，C项一定错误，当选；

结合条件(3)(4)，赵不擅长足球，则他擅长的组合比较多，可能是篮球和棒球组合、篮球和排球组合、棒球和排球组合，由于每两人擅长的运动不完全一样，再结合着张、王擅长的体育项目情况，则排除篮球和排球组合、棒球和排球组合，则赵擅长的是篮球和棒球，进而可知他不擅长排球，D项正确，排除。

故本题选C。

9、与“医生：职业”这组词逻辑关系最为相近的一项是（）。

- A：春分：春节
- B：善良：美德
- C：明星：英雄
- D：四季：夏天

正确答案选项：B

解析：判断题干词语间逻辑关系。

医生是一种职业，二者为种属关系。

判断选项词语间逻辑关系。

A项：春分是二十四节气之一，春节是农历新年，春分不是春节的一种，与题干逻辑关系不一致，排除；

B项：善良是美德的一种，二者为种属关系，与题干逻辑关系一致，当选；

C项：明星和英雄二者为交叉关系，与题干逻辑关系不一致，排除；

D项：四季由春、夏、秋、冬组成，二者为组成关系，与题干逻辑关系不一致，排除。

故本题选B。

10、电子琴对于（）相当于存折对于（）

- A：音符；储户
- B：二胡；存款
- C：吉他；银行卡
- D：歌曲；虚拟

正确答案选项：C

解析：

分别将选项代入题干，确定逻辑关系。

A项：“电子琴”可以演奏“音符”，二者属于对应关系，“储户”把钱存到“存折”里，二者属于对应关系，但前后对应方式不一致，排除；

B项：“电子琴”与“二胡”都是乐器，二者属于并列关系中的反对关系，“存折”具有“存款”的功能，二者属于功能对应关系，前后逻辑关系不一致，排除；

C项：“电子琴”与“吉他”都是乐器，二者属于并列关系中的反对关系，“存折”与“银行卡”都是银行的存取凭证，二者属于并列关系中的反对关系，前后逻辑关系一致，符合；

D项：“电子琴”可以演奏“歌曲”，二者属于对应关系，“存折”不是“虚拟”的，前后逻辑关系不一致，排除。

故本题选C。

11、全工程通信，又称为双向同时通信，即通信的双方可以同时发送和接收信息的信息交互方式。根据上述定义，下列属于全双工通信的是（）。

A：广播站向听众发送信息

B：保安通过对讲机讲话

C：好友之间用微信电话聊天

D：人们通过收音机听电台广播

正确答案选项：C

解析：找出定义关键词。

“双向同时通信”、“通信的双方可以同时发送和接收信息”、“信息交互方式”。

逐一分析选项。

A项：

广播站向听众发送信息是广播站单向发送信息，听众单向接收信息，不符合“通信的双方可以同时发送和接收信息”，不符合定义，排除；

B项：保安通过对讲机讲话是保安单向通过对讲机发送信息，不符合“通信的双方可以同时发送和接收信息”，不符合定义，排除；

C项：好友之间用微信电话聊天，好友之间代表通信的双方，并且通过微信电话同时发送和接收信息，符合“通信的双方可以同时发送和接收信息”，符合定义，当选；

D项：人们通过收音机听电台广播，电台通过广播单向发送信息，人们通过收音机单向接收信息，不符合“通信的双方可以同时发送和接收信息”，不符合定义，排除。

故本题选C。

12、

密码焦虑症：指现代人在日常生活中被银行卡、手机、登录网站、进入小区等密码包围、困扰而引起的心理焦虑症状。

下列属于密码焦虑症的是：

A：张先生酷爱上网，平日购物、看电影、看书及与朋友通信聊天都通过网络来实现，好多密码都设成了自己的生日，因而也就没有感到特别的不方便

B：王厂长为保障工厂安全，给厂门加装了密码锁，要求员工输密码进厂，但又担心员工将密码泄露给外人，为此他经常提醒保安，要认识本厂所有员工，不要让外人进来

C：金女士从来不用网银，总担心网银虽然有密码保障，但还是不安全，说不定哪天就被黑客盗取了密码，自己的银行存款就可能不翼而飞，惹来一身的麻烦

D：从乡下来到儿子家养老的李大爷，几年来最烦心的事就是不敢外出，因为小区大门、所住的大楼单元门及自家大门都有不同的密码，生怕自己记不清，一出门就回不了家

正确答案选项：D

解析：找关键信息。

①被银行卡、手机、登录网站、进入小区等密码包围、困扰；

②引起的心理焦虑症状。

辨析选项。

A项：张先生没有感到特别的不方便，并未体现出“引起的心理焦虑症状”，不符合定义；

B项：只涉及到厂门密码一种密码，未体现“被银行卡、手机、登录网站、进入小区等密码包围、困扰”，不符合定义；

C项：从来不用网银，未体现“被银行卡、手机、登录网站、进入小区等密码包围、困扰”，不符合定义；

D项：李大爷“因为小区大门、所住的大楼单元门及自家大门都有不同的密码”，出现被密码包围，“生怕自己记不清，一出门就回不了家”，引起了心理焦虑症状，符合定义。

故本题选D。

13、在单位的一次技能竞赛中，获得前五名的员工是甲、乙、丙、丁、戊，领导对他们说“祝贺你们，请你们猜一猜名次。”

甲：“乙是第二，丙是第五。”

乙：“丁是第二，戊是第四。”

丙：“戊是第一，甲是第五。”

丁：“丙是第二，乙是第三。”

戊：“丁是第三，甲是第四。”

领导说：“你们没有并列名次，但每个人都只猜对了一半。”

由此推出：

A：甲是第二

B：乙是第三

C：丙是第四

D：戊是第五

正确答案选项：B

解析：

题干有明显的信息匹配特征，确定为分析推理。

根据“你们没有并列名次，但每个人都只猜对了一半。”选择用代入法验证。

A项：代入后，甲是第二，则乙的前半句“丁是第二”为假，后半句“戊是第四”为真，由“戊是第四”为真，可知丙的前半句“戊是第一”为假，又因甲是第二，可知丙的后半句“甲是第五”也为假，丙前后半句均为假与“每个人都只猜对了一半”相矛盾，排除；

B项：代入后，乙是第三，所有人均满足“猜对了一半”可以推出；

C项：代入后，丙是第四，则甲、乙的后半句“丙是第五”与“戊是第四”均错误，前半句“乙是第二”与“丁是第二”均正确，根据题干要求“没有并列名次”可知乙、丁不可能均为第二，排除；

D项：代入后，戊是第五，则丙的前半句与后半句均为假，与“每个人都只猜对了一半”相矛盾，排除。

故本题选B。

14、替代效应是指当某一物品的价格上升时，消费者倾向于用其它物品来替代变得昂贵的该种物品，从而最便宜地获得满足。

下列最不属于替代效应的是：

A：咖啡涨价，喝茶的人多起来

B：电子邮件比邮政发信便宜，所以更多的人使用电子邮件

C：某股票升值，很多人争买该股票

D：某纺织厂的麻原料价格上升，改用较便宜的棉来生产

正确答案选项：C

解析：看提问方式，本题属于选非题。

找关键信息。

①当某一物品的价格上升时；

②用其它物品来替代变得昂贵的该种物品，从而最便宜地获得满足。

辨析选项。

A项：咖啡涨价，喝茶的人多起来，体现了“人们用茶来替代咖啡，从而最便宜地获得满足”，符合定义；

B项：电子邮件比邮政发信便宜，所以更多的人使用电子邮件，体现了“人们用电子邮件来替代邮政发信，从而最便宜地获得满足”，符合定义；

C项：某股票升值，很多人争买该股票，未涉及用其它物品来替代股票，不符合定义；

D项：麻原料价格上升，用较便宜的棉来生产，体现了“人们用棉来替代麻原料，从而最便宜地获得满足”，符合定义。

故本题选C。

15、行驶：公路：汽车

A：排球：沙滩：男人

B：风筝：广场：孩子

C：演讲：讲台：演说家

D：看病：医院：病人

正确答案选项：D

解析：确定题干逻辑关系。

“汽车”在“公路”上“行驶”，三者属于对应关系，且“公路”是专门“行驶”的地点。

辨析选项。

A项：“男人”在“沙滩”打“排球”，但“沙滩”不是专门打“排球”的地点，排除；

B项：“孩子”在“广场”放“风筝”，但“广场”不是专门放“风筝”的地点，排除；

C项：“演说家”在“讲台”“演讲”，但“讲台”不是专门“演讲”的地点，还可以讲课等，排除；

D项：“病人”在“医院”“看病”，三者属于对应关系，且“医院”是专门“看病”的地点，与题干逻辑关系一致，符合。

故本题选D。

16、很多大学的教室卫生管理都面临一个问题，将教室卫生交给使用班级负责，但是教室整洁难以保证。为确保教室始终干净，学校向乱扔乱吐的学生收取一定的处罚费用。然而，调查表明，进行处罚后乱扔乱吐的学生数量并未减少，反而增加了。

以下哪项如果为真，最能解释上述调查结果？（ ）

A：处罚太轻，对原本经常乱扔乱吐的学生没有太大的约束力

B：有些原来爱惜卫生的同学对此不满，学生故意弄脏教室来抗议

C：有些学生本就缺乏公共环境卫生意识

D：处罚后，更多的学生觉得不必珍惜，缴纳罚款就行

正确答案选项：D

解析：找出题干矛盾。

为确保教室始终干净，学校向乱扔乱吐的学生收取处罚费用，但是乱扔乱吐的学生数量并未减少，反而增加了。

逐一分析选项。

A项：选项说明处罚太轻，对惯犯学生没有约束力，只能解释为什么乱扔乱吐的同学并未减少，但是不能解释为什么增加了，排除；

B项：选项说明有些同学抗议故意弄脏教室，但是这些学生究竟是个别学生还是大部分学生不明确，不能解释题干矛盾，排除；

C项：选项说明有些学生缺乏公共环境卫生意识，并未说明为什么处罚后乱扔乱吐的学生反而增加了，不能解释题干矛盾，排除；

D项：选项说明处罚后更多学生觉得不必珍惜了，只要缴纳处罚费用就可以乱扔乱吐，可以解释为什么处罚后乱扔乱吐的学生并未减少，反而增加了，可以解释题干矛盾，当选。

故本题选D。

17、如果人体缺碘，就会发生甲状腺肿大，俗称“大脖子病”。过去我国缺碘人口达7亿多，从1994年起我国实行食盐加碘政策。推行加碘盐十多年后，大脖子病的发病率直线下降，但在部分地区，甲亢、甲状腺炎等甲状腺疾病却明显增多。有人认为，食盐加碘是导致国内部分地区甲状腺病增多的原因。如果以下陈述为真，哪一项能给上述观点以最强的支持？（ ）。

A：我国沿海地区居民常吃海鱼、海带、紫菜等，这些海产品含有丰富的碘

B：甲亢、甲状腺炎等甲状腺疾病患者应禁食海产品、含碘药物和加碘食盐

C：目前，我国在绝大多数高碘地区已经停止供应加碘食盐

D：某项调查表明，食盐加碘8年的乡镇与未加碘乡镇相比，其年均甲亢发病率明显增高

正确答案选项：D

解析：找出论点论据。

论点：食盐加碘是导致国内部分地区甲状腺病增多的原因。

论据：推行加碘盐十多年后，大脖子病的发病率直线下降，但在部分地区，甲亢、甲状腺炎等甲状腺疾病却明显增多。

逐一分析选项。

A项，该项没有讲沿海居民的甲状腺病的情况，与论点无关，不能支持。

B项，甲亢、甲状腺炎等甲状腺疾病患者应该禁食加碘盐，是降低患甲状腺病的措施，没有解释部分地区甲状腺病增多的原因，不能支持。

C项，在高碘地区停止供应加碘食盐，是降低患甲状腺病的措施，没有解释部分地区甲状腺病增多的原因，不能支持。

D项，通过对食用加碘盐与不加碘盐的群体进行对比，前者发病多，得出食盐加碘确实是甲状腺病增多的原因，支持论点。

再次标注答案

故本题选D。

18、李工程师：农科院最近研制了一种高效杀虫剂，通过飞机喷洒，能够大面积地杀死农田中的害虫。

张研究员：我看使用这种杀虫剂未必能达到保护农作物生长的目的，甚至可能适得其反，因为这种杀虫剂在杀死害虫的同时，也杀死了农田中的各种益虫。

李工程师：你的观点缺乏说服力，因为我们之所以要保护益虫，就在于它能消灭危害农作物的害虫，而我们的杀虫剂起到了这个作用。

以下哪项如果为真，最能加强李工程师对张研究员观点的反驳？

A：一般地说，害虫的生长繁殖能力和速度要高于益虫

B：上述杀虫剂对人畜无害

C：害虫比益虫更容易获得对于杀虫剂的抗药性

D：上述杀虫剂的有效率，在同类产品中是最高的

正确答案选项：A

解析：根据提问方式中的“加强”，确定为加强论证。

找论点和论据。

论点：这种杀虫剂能达到保护农作物生长的目的。

论据：我们之所以要保护益虫，就在于它能消灭危害农作物的害虫，而我们的杀虫剂起到了这个作用。

辨析选项。

A项：增加论据。“害虫的生长繁殖能力和速度要高于益虫”，说明农作物中害虫比益虫要多，仅靠益虫可能无法消灭全部害虫，因此必须用杀虫剂来保护农作物的生长，该项支持了李工程师对张研究员的反驳，具有加强作用。

B项：无关选项。对人畜的作用与是否能保护农作物生长无关，论题不一致，排除。

C项：增加反向论据。“害虫比益虫更容易获得对于杀虫剂的抗药性”，说明杀虫剂更多地会杀死益虫，而不是害虫，因此也就无法保证农作物的生长，具有削弱作用。

D项：无关选项。与其他同类产品的比较与是否能保护农作物生长无关，论题不一致，排除。

故本题选A。

19、鲁迅：《祝福》

A：吴承恩：《西游记》

B：宋江：《水浒》

C：喜儿：《白毛女》

D：茅盾：《骆驼祥子》

正确答案选项：A

解析：确定题干逻辑关系。

“鲁迅”是“《祝福》”的作者，二者属于作者与作品的对应关系。

辨析选项。

A项：“吴承恩”是“《西游记》”的作者，二者属于作者与作品的对应关系，与题干逻辑关系一致，符合；

B项：“宋江”是“《水浒》”中的人物，而非作者，排除；

C项：“喜儿”是“《白毛女》”中的人物，而非作者，排除；

D项：“《骆驼祥子》”的作者是老舍，与“茅盾”无明显逻辑关系，排除。

故本题选A。

20、一项关于肥胖症患者的研究发现，肥胖症患者^{60%}

以上患有抑郁症，由此推测，肥胖症患者由于肥胖，承受了巨大的心理压力，从而更易患上抑郁症。

以下最能削弱上述论证的一项是（ ）。

A：抑郁症患者更容易暴饮暴食

B：遗传因素是抑郁症的重要成因

C：许多抑郁症患者并不肥胖

D：许多肥胖者的心理健康状况良好

正确答案选项：A

解析：找出论点和论据。

论点：肥胖症患者由于肥胖，承受了巨大的心理压力，从而更易患上抑郁症。

论据：一项关于肥胖症患者的研究发现，肥胖症患者^{60%}

逐一分析选项。

A项：论点是说肥胖症患者更容易患上抑郁症，而该项指出由于抑郁症患者更容易暴饮暴食，从而导致了肥胖症，因果颠倒，直接削弱论点，保留；

B项：该项指出遗传因素是抑郁症的重要成因，说明抑郁症的产生是其他原因导致的，属于另有他因的削弱，保留；

C项：该项是说不肥胖者也有抑郁症，但不确定肥胖者是否有抑郁症，属于不确定选项，排除；

D项：许多肥胖者心理健康状况良好，说明许多肥胖者并未由于肥胖而承受巨大的心理压力，可以在一定程度上削弱，保留。

对比A、B、D项：D项是通过举反例说有许多肥胖者心理健康状况良好，则可能仍有一些肥胖者心理健康状况不好，从而导致抑郁症，该项削弱力度有限，B项属于另有他因的削弱，削弱力度也有限，而A项则是通过因果倒置的方式来削弱，削弱力度更强。

故本题选A。

21、

思想是行动的先导，理论是实践的指南。只有坚持思想建党、理论强党，坚持理论创新，才能筑牢信仰之基、补足精神之钙、把稳思想之舵。

根据以上陈述，可得出以下哪项？

A：理论对于实践的指导并没有太大的意义

B：只要坚持思想建党、理论强党，就能补足精神之钙、把稳思想之舵

C：如果能坚持强党，坚持理论创新，那么就能筑牢信仰之基、补足精神之钙

D: 坚持思想建党、理论强党, 坚持理论创新对筑牢信仰之基、补足精神之钙、把稳思想之舵至关重要

正确答案选项: D

解析: 根据题干关联词“只有……才”等, 确定为翻译推理。

翻译题干。

① 筑牢信仰之基且补足精神之钙且把稳思想之舵 → 坚持思想建党且理论强党且坚持理论创新

进行推理。

A项: 由题干信息“理论是实践的指南”可知理论对实践具有指导意义, 故该项表述错误, 排除;

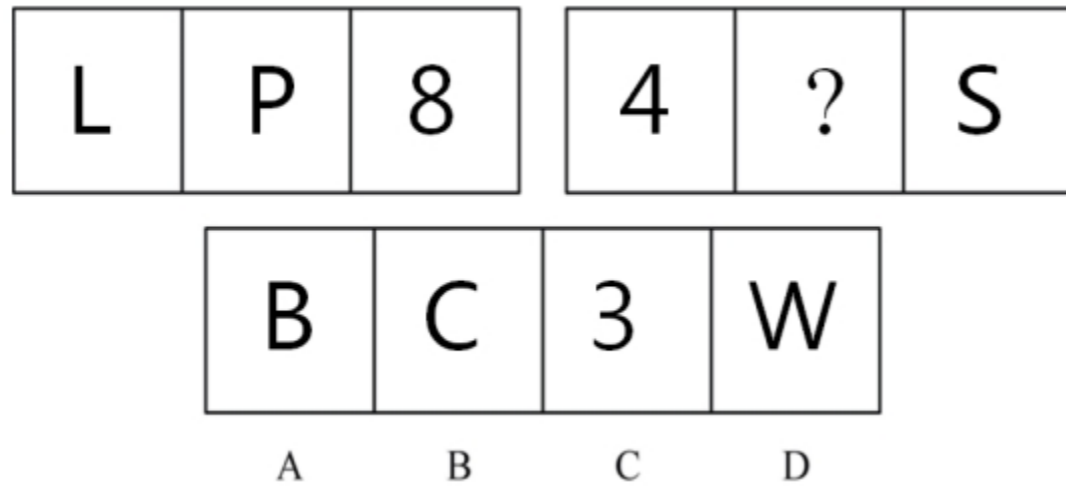
B项: 该项翻译为: 坚持思想建党且理论强党 → 补足精神之钙且把稳思想之舵, 与①逻辑关系不一致, 排除;

C项: 该项翻译为: 坚持强党且坚持理论创新 → 筑牢信仰之基且补足精神之钙, 与①逻辑关系不同, 排除;

D项: 该项翻译为: 筑牢信仰之基且补足精神之钙且把稳思想之舵 → 坚持思想建党且理论强党且坚持理论创新, 与①逻辑关系相同, 可以推出。

故本题选D。

22、填入问号处最恰当的是 ()。



A: A

B: B

C: C

D: D

正确答案选项: A

解析: 元素组成不同, 优先考虑属性规律。

观察发现, 第一组图形中“L”为全直线图形, “P”为有直线有曲线图形, “8”为全曲线图形; 第二组图形中“4”为全直

线图形, “S”为全曲线图形, 故? 处应该为有直线有曲线图形, 只有A项符合。

故本题选A。

23、舍本逐末: 深入浅出

A: 南辕北辙: 天罗地网

B: 破旧立新: 扬长避短

C: 生死离别: 轻重缓急

D: 墨守成规: 兴高采烈

正确答案选项: B

解析: 判断题干词语间逻辑关系。

“舍本逐末”比喻做事不专注于主要问题, 专注于细枝末节, 现多形容轻重主次颠倒, 不注意轻重缓急; “深入浅出”指文章或言论观点主题意义深刻, 但在语言文字的表达上却浅显易懂。两个成语无明显逻辑关系, 考虑成语拆词, “舍”和“逐”、“本”和“末”均为反义关系, “深”和“浅”、“入”和“出”均为反义关系。

判断选项词语间逻辑关系。

A项: “辕”和“辙”为近义关系, “罗”和“网”为近义关系, 与题干逻辑关系不一致, 排除;

B项: “破”和“立”、“旧”和“新”、“扬”和“避”、“长”和“短”都是反义关系, 与题干逻辑关系一致, 当选;

C项: “生”和“离”不是反义关系, “死”和“别”不是反义关系, 与题干逻辑关系不一致, 排除;

D项: “墨”和“成”不是反义关系, 与题干逻辑关系不一致, 排除。

故本题选B。

24、在一次考古发掘中, 考古人员在一座唐代古墓中发现多片先秦时期的夔文陶片。对此, 专家解释说, 由于雨水冲刷等原因, 这些先秦时期的陶片后来被冲至唐代的墓穴中。

下列哪项如果为真, 最能质疑上述专家观点。 ()

A: 在这座唐代古墓中还发现多件西汉时期的文物

B: 这座唐代古墓保存完好, 没有漏水、毁塌迹象

C: 并非只有先秦时期才使用夔文, 唐代文人以书写夔文为能事

D: 唐代的墓葬风俗是将墓主生前喜爱的物品随同墓主一同下葬

正确答案选项: B

解析：找出论点和论据。

论点：由于雨水冲刷等原因，这些先秦时期的陶片后来被冲至唐代的墓穴中。

论据：无。

逐一分析选项。

A项：提到古墓中还有西汉文物，未提及夔文陶片，也未提及雨水冲刷，为无关选项，排除；

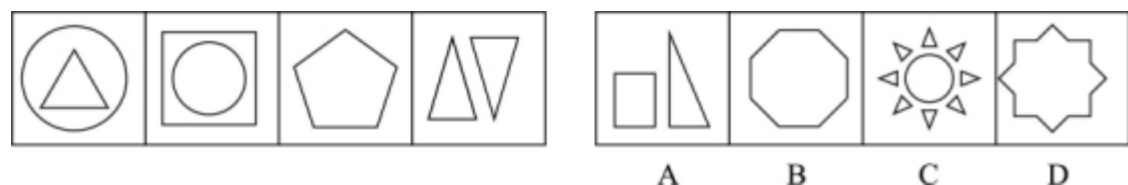
B项：直接说明古墓没有漏水迹象，表明雨水冲刷并非原因，否定论点，当选；

C项：说明唐代人也写夔文，并未提及雨水冲刷是否是出现夔文陶片的原因，不明确选项，排除；

D项：说明唐代墓葬的风俗，并未提及雨水冲刷是否是出现夔文陶片的原因，不明确选项，排除。

故本题选B。

25、根据已知图形规律，选择最合适的答案：



A: A

B: B

C: C

D: D

正确答案选项：A

解析：观察特征。

图形组成元素不同，优先考虑数量类或属性类，题干中每幅图形均包含有直线，考虑数直线。

所给图形中每幅图形的直线数量依次是3、4、5、6、？，呈现等差规律，问号处需要填入的图形直线数量应为7，A项符合，当选。

故本题选A。

26、人都是有感情的。

以下最能反驳上述结论的是（ ）。

A：也许有些动物也是有感情的

B：可能也有人是不讲感情的

C：狗以自己的忠诚证明了动物有感情

D：在战场上，有人对鲜活的生命开枪，他们没有感情

正确答案选项：D

解析：找出论点和论据。

论点：人都是有感情的。

论据：无。

逐一分析选项。

A项：该项指出有些动物有感情，题干讨论的是人，主体不一致，排除；

B项：可能也有人是不讲感情的，能削弱论点说法，保留；

C项：该项指出狗是有感情的，从而得出有些动物有感情，题干讨论的是人，主体不一致，排除；

D项：该项指出有的人是没有感情的，否定论点，保留。

对比B、D两项，B项用了一个“可能”，说明这个情况不一定、不明确，相对削弱力度较弱，因此排除B项。

故本题选D。

27、判断，是一种基本的思维形式，就是肯定或否定某种事物的存在，或指明它是否具有某种属性的思维过程。

根据上述定义，下列不属于判断的是（ ）。

A：群众的眼睛是雪亮的

B：他做过那件事

C：李天一的案件如期审判

D：任何一个理智清明的人都可以作出判断

正确答案选项：C

解析：找出定义关键词。

“肯定或否定某种事物的存在”、“指明它是否具有某种属性的思维过程”。

逐一分析选项。

A项：群众的眼睛是雪亮的，符合“肯定或否定某种事物的存在”、“指明它是否具有某种属性的思维过程”符合定义，排除；

B项：他做过那件事，符合“肯定或否定某种事物的存在”、“指明它是否具有某种属性的思维过程”，符合定义，排

除；

C项：李天一的案件如期审判，不符合“肯定或否定某种事物的存在”、“指明它是否具有某种属性的思维过程”，不符合定义，当选；

D项：任何一个理智清明的人都可以作出判断，符合“肯定或否定某种事物的存在”、“指明它是否具有某种属性的思维过程”，符合定义，排除。

本题为选非题，故正确答案为C。

28、工作量：工作效率：工作时间

A：速度：路程：时间

B：质量：密度：体积

C：利润：总收入：成本

D：工人制造价值：工人工资：剩余价值

正确答案选项：B

解析：判断题干词语间逻辑关系。

本题考查对应关系。“工作量”等于“工作效率”乘以“工作时间”。

判断选项词语间逻辑关系。

A项：“路程”等于“速度”乘以“时间”，但顺序反了，与题干逻辑关系不一致，排除。

B项：“质量”等于“密度”乘以“体积”，与题干逻辑关系一致，当选。

C项：“利润”等于“总收入”减去“成本”，与题干逻辑关系不一致，排除。

D项：“工人制造价值”减去“工人工资”等于“剩余价值”，与题干逻辑关系不一致，排除。

故本题选B。

29、（ ）对于《西游记》相当于（ ）对于《红楼梦》

A：猪八戒；林黛玉

B：孙悟空；赵子龙

C：鲁智深；贾宝玉

D：诸葛亮；王熙凤

正确答案选项：A

解析：逐一代入选项。

A项：猪八戒是《西游记》中的角色，二者为角色与作品的对应关系，林黛玉是《红楼梦》中的角色，二者为角色与作品的对应关系，前后逻辑关系一致，当选；

B项：孙悟空是《西游记》中的角色，二者为角色与作品的对应关系，赵子龙是《三国演义》中的角色，而非《红楼梦》中的角色，前后逻辑关系不一致，排除；

C项：鲁智深是《水浒传》中的角色，而非《西游记》中的角色，贾宝玉是《红楼梦》中的角色，二者为角色与作品的对应关系，前后逻辑关系不一致，排除；

D项：诸葛亮是《三国演义》中的角色，而非《西游记》中的角色，王熙凤是《红楼梦》中的角色，二者为角色与作品的对应关系，前后逻辑关系不一致，排除。

故本题选A。

30、

1979年，在非洲摩西地区发现有一只大象在觅食时进入赖登山的一个山洞。不久，其他的大象也开始进入山洞，以后几年进入山洞集居成为整个大象群的常规活动。1979年以前，摩西地区没有发现大象进入山洞，山洞里也没有大象的踪迹。到2006年，整个摩西地区的大象群在山洞内或附近度过大部分冬季。由此可见，大象能够接受和传授新的行为，这并不只是由遗传基因所决定的。

以下哪项是上述论证的假设？

A：大象群在数十年出现的新行为不是由遗传基因预先决定的

B：大象的基因突变可以发生在相对短的时间跨度，如数十年

C：大象新的行为模式易于成为固定的方式，一般都会延续几代

D：大象的群体行为不受遗传影响，而是大象群内个体间相互模仿的结果

正确答案选项：A

解析：根据提问方式中的“假设”，确定为加强论证。

找论点和论据。

论点：大象能够接受和传授新的行为。

论据：1979年，在非洲摩西地区发现有一只大象在觅食时进入赖登山的一个山洞。不久，其他的大象也开始进入山洞，以后几年进入山洞集居成为整个大象群的常规活动。1979年以前，摩西地区没有发现大象进入山洞，山洞里也没有大象的踪迹。到2006年，整个摩西地区的大象群在山洞内或附近度过大部分冬季。

辨析选项。

A项：补充前提。“不是由遗传基因预先决定的”，说明大象出现的新行为是后天形成的，该项对结论成立提供了佐证，具有加强作用。

B项：无关选项。基因突变时间跨度的长短与大象是否能够接受和传授新的行为无关，论题不一致，排除。

C项：无关选项。新的行为模式的延续时间与新行为形成的原因无关，论题不一致，排除。

D项：无关选项。题干探讨的是大象的新行为，而非群体行为，论题不一致，排除。

故本题选A。

31、玫瑰：情人（ ）

A：白色：纯洁

B：器官：血液

C：花朵：蝴蝶

D：风雨：晴朗

正确答案选项：A

解析：判断题干词语间逻辑关系。

玫瑰象征情人，二者是比喻象征关系。

判断选项词语间逻辑关系。

A项：白色象征纯洁，二者是比喻象征关系，与题干逻辑关系一致，当选；

B项：器官不能代表血液，器官中存有血液，与题干逻辑关系不一致，排除；

C项：花朵上停留蝴蝶，二者是并列关系，与题干逻辑关系不一致，排除；

D项：风雨和晴朗是矛盾关系，与题干逻辑关系不一致，排除。

故本题选A。

32、某工厂的管理面板上要对生产条件的变化点进行管理，只要人员、设备、材料、环境、工艺方法任意一项有了变化，都需要进行记录，下列不需要记录的变化点是（ ）。

A：作业员小张因为要去给孩子参加家长会，请假半天，由小赵代工

B：工厂为了激励生产作业员，发放了生产激励奖金

C：工厂为了优化物流，对车间布局进行了变更

D：工厂为了对应环保检查，使用了更环保装修材料

正确答案选项：B

解析：日常推理题，根据题干信息逐一分析选项。

A项：请假半天，由小赵代工属于人员变化，根据题干，需要记录，排除；

B项：发放生产激励奖金并不属于人员、设备、材料、环境和工艺方法变化，根据题干，不需要记录，当选；

C项：对车间布局进行变更属于环境变化，根据题干，需要记录，排除；

D项：使用更环保的装修材料属于环境变化，根据题干，需要记录，排除。

本题为选非题，故正确答案为B。

33、共同世界，是指在小说等虚构作品中，由复数不同作者分享相同的世界观设定与登场人物所创作的作品群，或是其所分享的世界设定。

根据上述定义，下列不属于共同世界的是（ ）。

A：《哈利·波特》是一系列关于魔法世界的小说，累计销量可观

B：数位签约作者创作补充《魔兽世界》游戏内容的小说和漫画

C：许多奇幻小说、桌牌与网络游戏沿用了《魔戒》中的世界观

D：人们在柯南·道尔辞世后举办福尔摩斯小说大赛延续这个文学形象

正确答案选项：A

解析：找出定义关键词。

“在小说等虚构作品中”、“复数不同作者”、“分享相同的世界观设定与登场人物所创作的作品群，或是其所分享的世界设定”。

逐一分析选项。

A项：《哈利·波特》的作者始终只是J·K·罗琳，不符合“复数不同作者”，不符合定义，当选；

B项：数位签约作者创作补充《魔兽世界》游戏内容的小说和漫画，符合“在小说等虚构作品中”、“复数不同作者”、“分享相同的世界观设定与登场人物所创作的作品群，或是其所分享的世界设定”，符合定义，排除；

C项：许多奇幻小说、桌牌与网络游戏沿用了《魔戒》中的世界观，符合“在小说等虚构作品中”、“复数不同作者”、“分享相同的世界观设定”，符合定义，排除；

D项：举办福尔摩斯小说大赛，符合“在小说等虚构作品中”、“复数不同作者”、“分享相同的世界观设定与登场人物所创作的作品群，或是其所分享的世界设定”，符合定义，排除。

本题为选非题，故正确答案为A。

34、服务贸易，是指一国提供直接服务以满足另一国某种需要并取得报酬的贸易形式。

根据上述定义，下列属于服务贸易的是：

以上内容仅为本文档的试下载部分，为可阅读页数的一半内容。如要下载或阅读全文，请访问：<https://d.book118.com/478130004023007051>