

2010-2023 历年湖北省鄂州市第三中学初二 下学期期中考试地理试卷（带解析）

第 1 卷

一. 参考题库(共 25 题)

1.我国农业地区分布规律是

- A. 西北内陆地势陡峭，水土流失严重，是“宜林则林”
- B. 华北平原风沙严重，降水不多，是“宜牧则牧”
- C. 北方地区地势平坦，湖泊众多，是“宜渔则渔”
- D. 东部湿润和半湿润的平原土壤肥沃，是“宜粮则粮”

2.我国最大的群岛----舟山群岛位于

- A. 广东
- B. 广西
- C. 福建
- D. 浙江

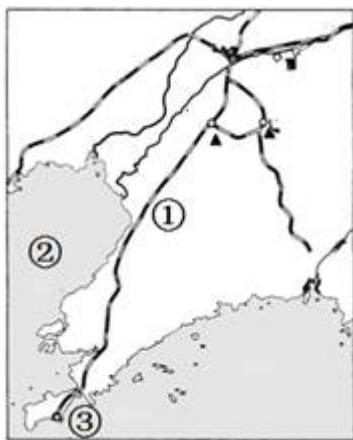
3.不符合优质、高产、高效农业要求的是

- A. 大量使用化肥
- B. 桑基鱼塘
- C. 无公害蔬菜基地
- D. 无土栽培

4.为了提高粮食产量，下列措施中不合理的是

- A. 珍惜和合理利用每一寸土地
- B. 大面积开垦荒地，扩大耕地面积
- C. 依靠科技培育优良品种，提高单产
- D. 国家制订有效政策，提高农民种粮积极性

5.读我国辽中南工业基地简图，回答下列问题(12分)。



(1)写出图中数字代表的地理事物名称：

①铁路_____，

②海域_____；

③港口_____。

(2)本区资源丰富，如有_____油田、_____铁矿等，非常适宜重

工业生产，有被称为“钢都”的黑色金属冶炼基地_____市。

6.我国最重要的经济作物是

- A. 棉花
- B. 茶叶
- C. 花生
- D. 油菜

7.读我国略图，完成下列问题(12分)。



(1)图中 a、b 表示我国南北方的重要界线_____一线，此界以北的耕地类型主要为_____，以南的耕地类型主要为_____。

(2)图上 a、b、c、d 四地中，作为我国重要的甜菜基地是_____。

(3)d 表示_____平原，该区的主要油料作物是_____。

8.读我国四大牧区图，完成小题。



【小题 1】我国四大牧区分布在

- A. 东南沿海地区
- B. 东部季风区
- C. 西北干旱地区
- D. 西部内陆地区

【小题 2】四大牧区及其优良畜种搭配正确的是

- A. ①---细毛羊
- B. ②---三河马、三河牛
- C. ③---滩羊

D. ④----牦牛

【小题3】我国农区与牧区的界线大致与下列哪条线相当

- A. 400 毫米等降水量线
- B. 一月 0°C等温线
- C. 秦岭—淮河一线
- D. 200 毫米等降水量线

9.香港和澳门“上天”(建设高层建筑)、“下海”(填海造陆), 是因为

- A. 建筑水平高
- B. 资金充足
- C. 人多地少
- D. 目光长远

10.以下为油菜、冬小麦、茶叶、水稻四种农作物集中产区示意图, 哪一组说法是正确的




- A. ①茶叶②油菜③水稻④冬小麦
- B. ①水稻②冬小麦③茶叶④油菜
- C. ①油菜②冬小麦③水稻④茶叶
- D. ①茶叶③冬小麦③水稻④油菜

11.我国乡镇企业起步最早, 规模最大的地区是

- A. 京津唐地区
- B. 辽中南地区
- C. 长江三角洲地区

D. 珠江三角洲地区

12.比较我国主要运输方式的运输量和速度的关系，说出图中数字所代表的运输方式分别是什么



- A. ①公路、②空运、③铁路、④水运
- B. ①铁路、②水运、③空运、④公路
- C. ①水运、②铁路、③公路、④空运
- D. ①公路、②空运、③水运、④铁路

13.高新技术产业以什么为基础

- A. 科学技术
- B. 资金
- C. 生产原料
- D. 劳动力

14.目前台湾主要的出口产品是

- A. 农产品
- B. 工业产品
- C. 农产品加工品

D. 矿产品

15.2008年北京成功举办了第29届夏季奥运会,2010年世界博览会在上海举行。

关于这两座城市的特点,叙述正确的是

- A. 上海是我国的政治、文化中心
- B. 上海是我国的历史文化名城
- C. 北京是我国的国际交往中心
- D. 北京是我国最大的城市

16.我国最早建立的高新技术开发区位于

- A. 北京中关村
- B. 上海高新技术试验园
- C. 武汉中国光谷
- D. 广东金三角

17.近年来,我国地区生产总值居第一位的省份是

- A. 北京市
- B. 上海市
- C. 福建省
- D. 广东省

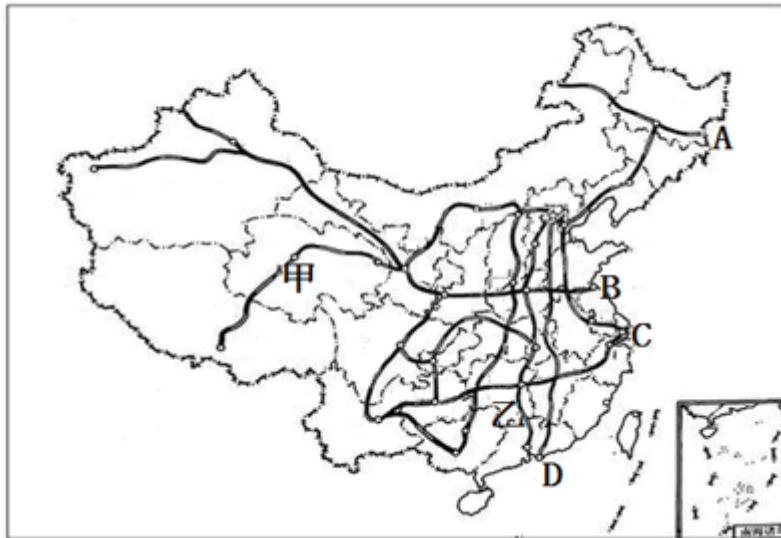
18.我国主要工业区在全国的分布特点是

- A. 集中在西部内陆
- B. 集中在边境地区
- C. 集中在沿海地区
- D. 沿海与内陆均衡发展

19.香港和澳门分别毗邻哪一个经济特区

- A. 香港----深圳
- B. 澳门----汕头
- C. 香港----珠海
- D. 澳门----广州

20.读我国主要铁路干线图，完成下列问题(12分)。



(1)我国铁路干线中，可一直通达欧洲西部，被誉为“欧亚大陆桥”的一部分是 ()

- A. 京包----包兰线
- B. 陇海----兰新线
- C. 沪杭----浙赣----湘黔----贵昆线
- D. 滨洲----滨绥线

(2)“欧亚大陆桥”在我国的东桥头堡是图中的_____ (填字母代号)，它与京广线相交的铁路枢纽是_____。

(3)沿铁路线乙自南向北行，沿途可看到植被由_____林变为_____林。

(4)沿图中铁路甲而行，所看到的景观是()

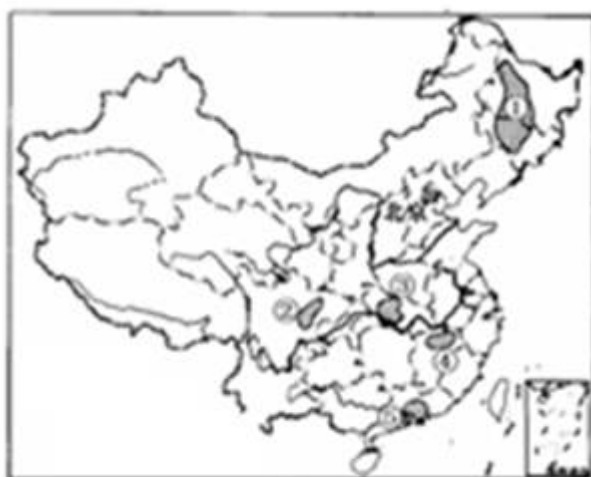
- A. 千沟万壑，支离破碎
- B. 一马平川，坦荡如砥
- C. 雪山连绵，冰川广布

D. 黑土肥沃，山环水绕

21.我国许多地方风景优美，文物古迹众多，其中被誉为“有山有海有圣人”的省份是

- A. 河北
- B. 北京
- C. 江苏
- D. 山东

22.读我国主要商品粮基地分布图，完成下列各题(14分)



(1)填注图中数字代表的主要商品粮基地名称：

- ② _____，
- ④ _____。

(2)试比较几个商品粮基地耕作制度(即成熟次数)的差异：

- ① _____；
- ③ _____；
- ⑤ _____；

造成这种差异的主要原因是_____。

(3)上述商品粮基地中，以种植小麦为主的是（填序号）_____。

23.“高粱红，玉米黄，大地笼罩青纱帐”，这是哪个地区的农业生产景观

- A. 青藏高原

- B. 东北平原
- C. 塔里木盆地
- D. 长江中下游平原

24.下列有关台湾岛的正确说法是

- A. 台湾岛的河流源远流长
- B. 台湾岛的主要气候类型是亚热带季风气候
- C. 台湾岛的水稻种植主要分布在东部地区
- D. 台湾岛是亚欧板块与印度洋板块相互作用的结果

25.家住鄂州的周强和同学约好，暑假去重庆旅游，沿途观赏三峡风光，可选择最经济的交通工具

- A. 汽车
- B. 火车
- C. 轮船
- D. 飞机

第 1 卷参考答案

一. 参考题库

1.参考答案：D 试题分析：西北内陆降水稀少，气候干燥，地表景观从东到西依次为草原——荒漠草原——荒漠，所以宜发展畜牧业，应该说是“宜牧则牧”

以上内容仅为本文档的试下载部分，为可阅读页数的一半内容。

如要下载或阅读全文，请访问：

<https://d.book118.com/495033212001012012>