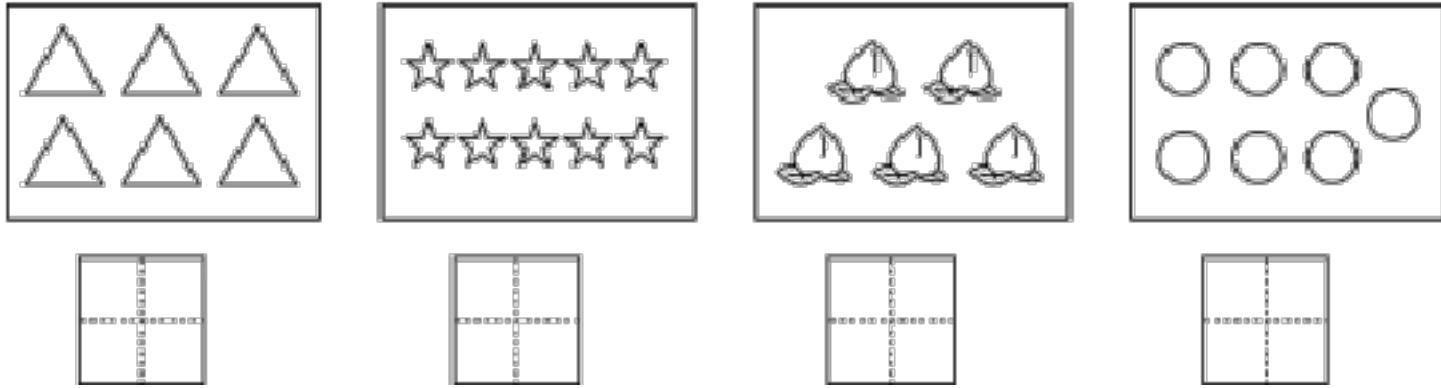



一年级数学上册期中检测含答案

一、按要求完成下面各题。(32分)

1. 看图写数。

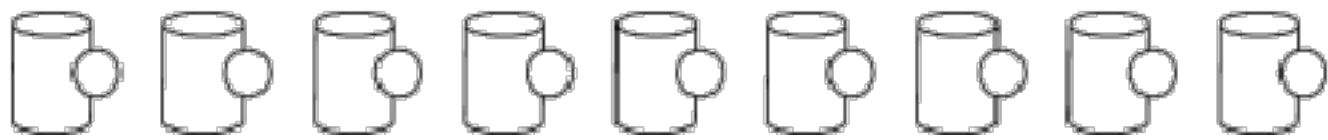


2.



3. 7前面相邻的一个数是(), 9后面相邻的一个数是()。

4. 把左边的7个杯子圈出来, 给从右边数第7个杯子涂色。(2分)



5. $\triangle\triangle\triangle\triangle\bigcirc\bigcirc\bigcirc\bigcirc\bigcirc\bigcirc\bigcirc\bigcirc\bigcirc\bigcirc$

\bigcirc 比 \triangle 多()个, ()比()少2个; 再画()个 \square , \square 就和 \bigcirc 一样多。

6. 找规律填数。

(1) (易错) 0, 2, 4, 6, (), ()。

(2) 9, 7, 5, (), ()。

7. 在 \bigcirc 里填上“ $>$ ”“ $<$ ”或“ $=$ ”。

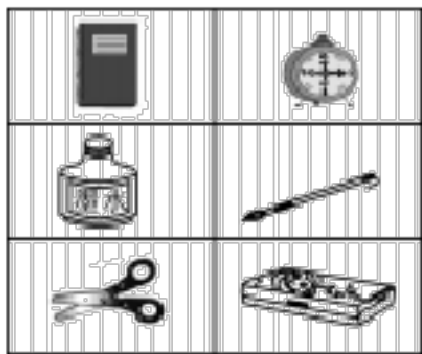
$5+3\bigcirc 10$ $6-4\bigcirc 3$ $9+0\bigcirc 8$ $6\bigcirc 10-4$

8. 在 () 里填上合适的数。

() + 5 = 9 8 - () = 2 6 - () = 6 10 - () = 3

9. (易错)把 10 个苹果分给 2 个小朋友, 每人至少分 1 个, 有 () 种分法。

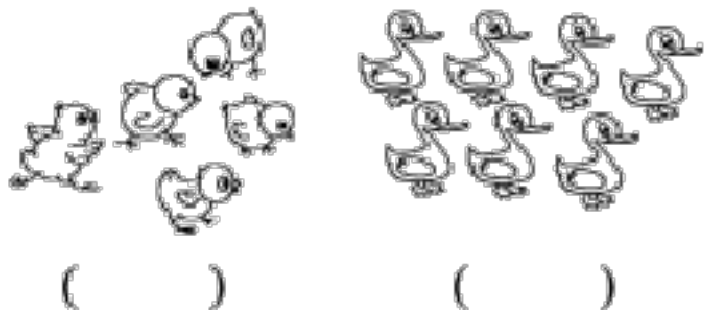
10.




笔记本在闹钟的 () 边, 毛笔在闹钟的 () 面, 水瓶在毛笔的 () 边, 闹钟在文具盒的 () 面。

二、考考你的眼力。(6分)

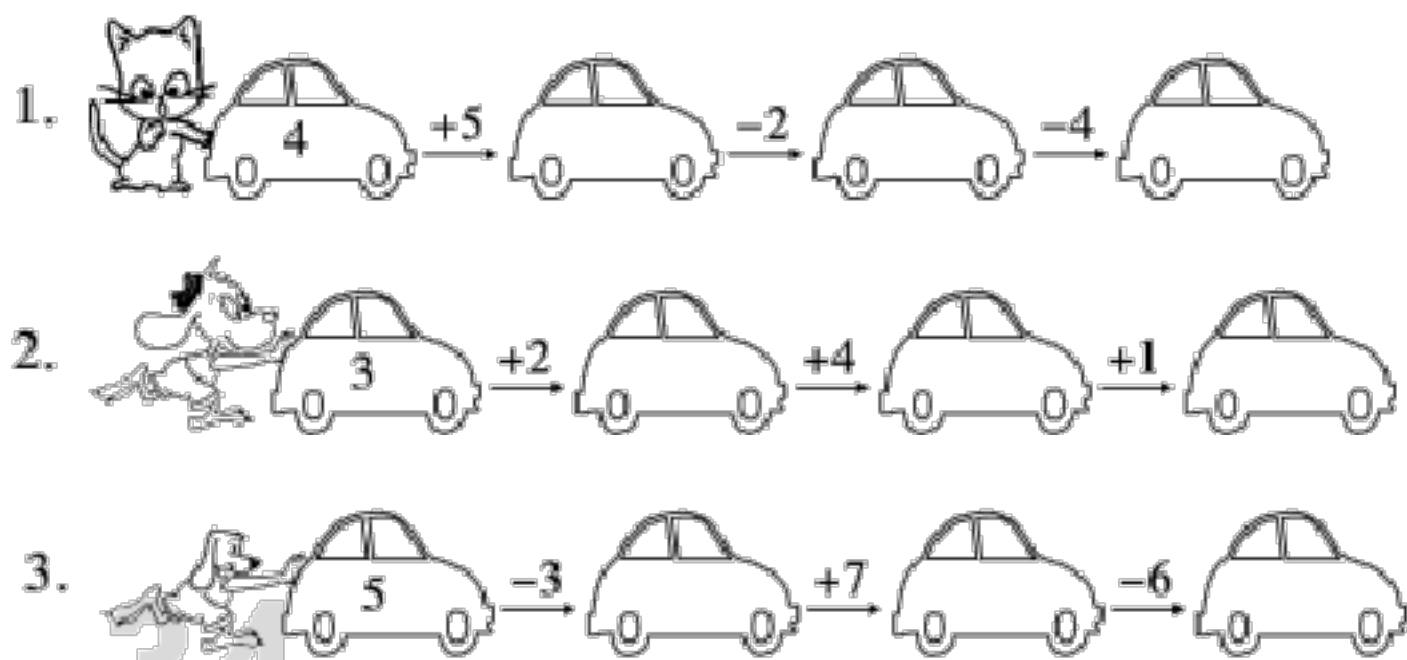
1. 在少的下面画“△”。



2. 哪棵树上苹果最多? 画“○”。



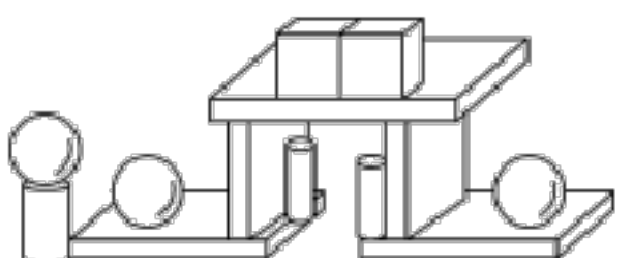
三、谁得第一? (9分)

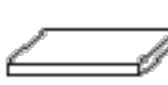





四、快乐留言板。(18分)


$4+6=$ $5+4=$ $6-6=$ $9-3=$ $3+4=$ $10-3=$	$2-0=$ $10-6=$ $9-2=$ $2+7=$ $2+3+4=$ $8-6+2=$	$10-3-1=$ $2+6-4=$ $3+7-8=$ $4+3+3=$ $9-7-2=$ $8-3+2=$
---	---	---


五、我能数得清。(8分)





有()个, 有()个,
有()个, 有()个。

六、看图列式计算。(10分)

1. 
 ?条
 $\square \bigcirc \square = \square$ (条)

2. 
 ?块
 8块
 $\square \bigcirc \square = \square$ (块)

3. 
 $\square - \square + \square = \square$

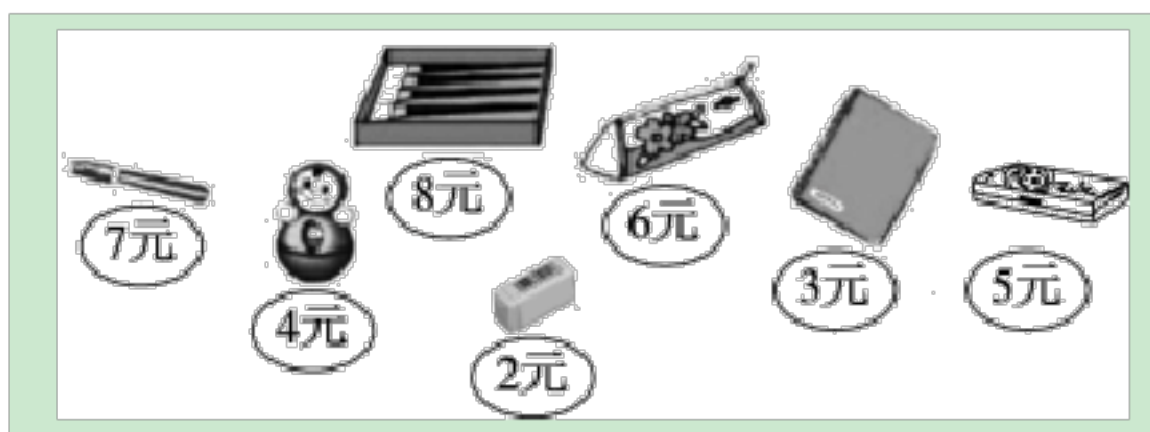
4. 
 $\square \bigcirc \square \bigcirc \square = \square$



5. 
 $\square + \square = \square$ $\square + \square = \square$

$\square - \square = \square$ $\square - \square = \square$

七、生活大观园。(17分)

1. 买文具，他们分别可以买到什么？用算式表示出来。(5分)



 我花了10元钱。  我花了9元钱。
 小林 小丁

2. 读儿歌，写算式。(6分)

一队小鸭叫嘎嘎,队里有只鸭妈妈;
 从前数数它第二,从后数数它第八;
 请你帮忙算一算,队里一共有几只鸭?

$$\square \bigcirc \square \bigcirc \square = \square \text{ (只)}$$

3. 禾禾和聪聪的糖果一样多,他们吃了一些后,禾禾剩下
 2 块,聪聪剩下 4 块。他俩谁吃得多? (6 分)

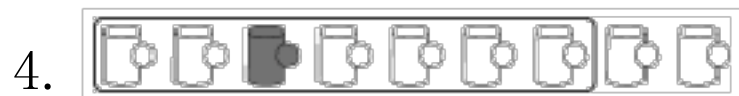
期中测试 (二)

一、1.



2. 5 3 10

3. 6 10



5. 3 \square \triangle 5

6. (1) 8 10 提示: 两个两个地数, 2, 4, 6, 8, 10。

(2) 3 1

7. $< < > =$

8. 4 6 0 7

9. 9 提示：10 可以分成 1 和 9，2 和 8，3 和 7，4 和 6，5 和 5，6 和 4，7 和 3，8 和 2，9 和 1，故共有 9 种。

10. 左 下 左 上

二、1. \triangle) ()

2. () (○) ()

三、1. 9 7 3

2. 5 9 10

3. 2 9 3

四、10 9 0 6 7 7;2 4 7 9 9 4;6

4 2 10 0 7

五、5 2 3 3

六、1. $8+2=10$ 或 $2+8=10$

2. $8-4=4$

3. $5-1+3=7$

4. $8-3-2=3$

5. $3+7=10$ $7+3=10$ $10-3=7$ $10-7=3$

七、1. $2+3+5=10$ (元) $3+6=9$ (元) (答案不唯一)

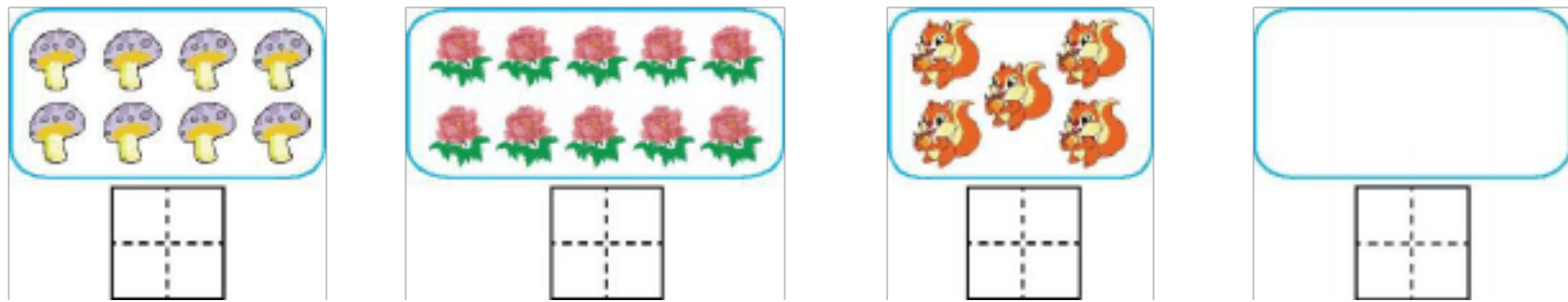
2. $2+8-1=9$

提示：从前数，鸭妈妈排第 2，从后数，鸭妈妈排第 8，将鸭妈妈数了 2 次。


3. $4 > 2$, 故禾禾吃得多提示: 吃得越多, 剩得越少。

一年级上册数学试题-期中检测卷(二) 人教新课标(含答案)

一、数一数,写一写。(8分)



二、比一比,填一填。(8分)



1. 有()个, 有()只。

□ ○ □

2. 比 多(), 比 少(), 再添上()只 就和 同样多了。

3. 猴子吃掉左边的 2 个 , 还剩()个 。

三、圈一圈,画一画。(7分)



1. 一共有()只小动物。

2. 从左数起, 排第(), 它的左边有()只小动物, 右边有()只小动物。

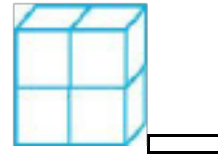
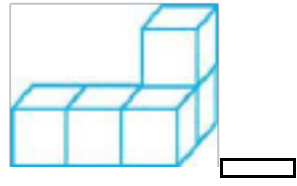
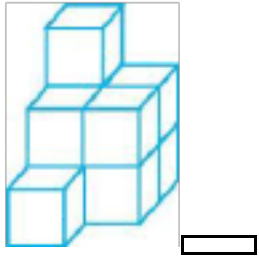
3. 把右边的 3 只小动物圈在一起。

4. 在 左边的小动物下面画“○”, 在 右边的小动物下面画“△”。

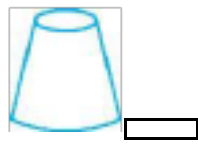


5. 圈出从左数第 4 只小动物。

四、辨一辨。(8分)

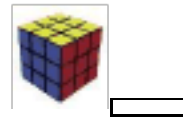


1. 在多的后面画“√”



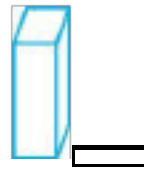
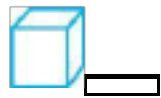

2. 在圆柱的后面画“√”



3. 在正方体的后面画“√”



4. 在易滚动的后面画“√”



五、算一算。(22分)

1. 看谁算得又对又快。(8分)

$0+8=$ $4+0=$ $10-2=$ $1+9=$

$10-7+2=$ $2+7-6=$ $4+5+1=$ $9-3-3=$

2. 在“○”里填上“>”或“<” (8分)

$5+4$ ○ 8

$3+7$ ○ 10

$8-4$ ○ 5

$10-2$ ○ 8

$10-0$ ○ 5

$9+1$ ○ 9

$5+3$ ○ 7

$7+3$ ○ 10

3. 填一填。(6分)

$2+6+\square=10$

$10-1-\square=6$

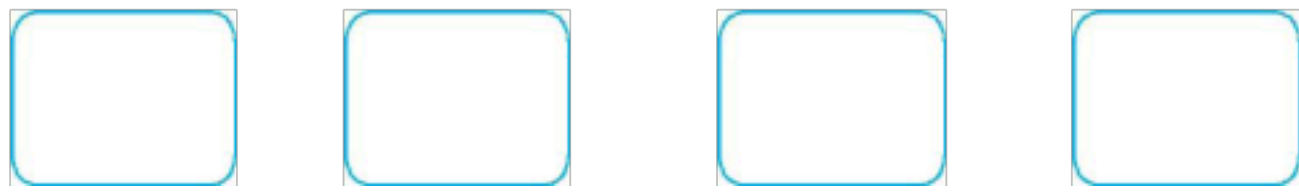
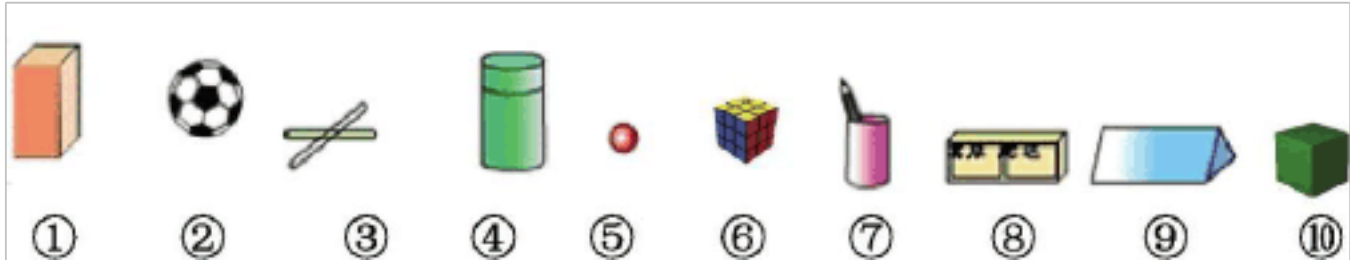
$10-2-\square=5$

$9-5+\square=7$

$5+5-\square=5$

$3+5-\square=4$

六、分一分。(只填序号) (8分)



球

正方体

长方体

圆柱


七、找规律,画出下一个图形。(6分)

1. ○□○□○□○□○□_____

2. △□○△□○△□○_____

3. ○△△□○△△□○△△□_____

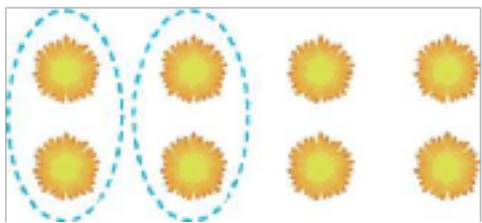
八、说图意,再解答。(12分)



$\square - \square = \square \text{ (个)}$



$\square - \square = \square \text{ (块)}$




$\square - \square = \square \text{ (朵)}$



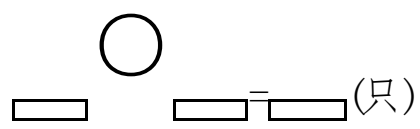
$\square - \square = \square \text{ (只)}$

九、解决问题。(11分)

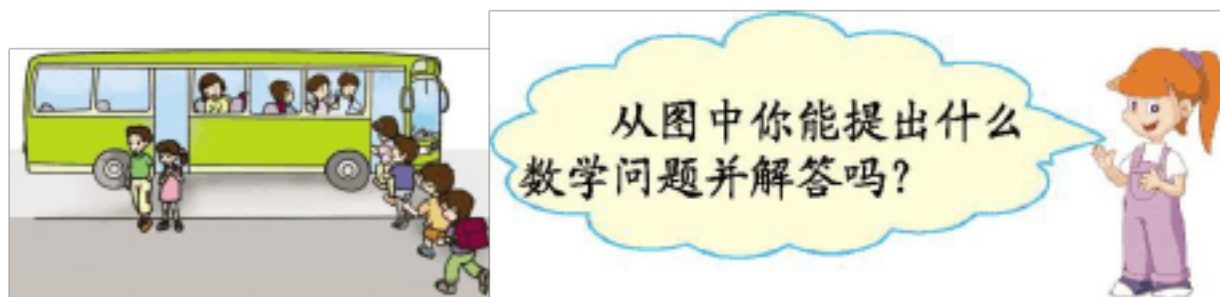
10 只小狗 还剩几只? (导学号 15942052)



一共有多少只?(导学号 15942053)



3. 车上原来有 6 人。 (导学号 15942054)



十、小刚、小天、小明分得了同样多的苹果。(10 分)

(导学号 15942055)




)个。

2. 小天剩下的苹果的个数比小刚剩

-期中检测卷（二）人教新课标（含答案）

一、数一数,写一写。(8分)



二、比一比,填一填。(8分)



1. 有()个, 有()只。

□ ○ □

2. 比 多(), 比 少(), 再添上()只 就和 同样多了。

3. 猴子吃掉左边的 2 个 , 还剩()个 。

三、圈一圈,画一画。(7分)





1. 一共有()只小动物。



排第()，它的左边有()只小动物，右边有()只小动物。

3. 把右边的 3 只小动物圈在一起。

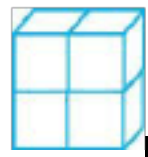
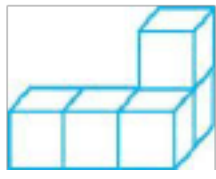
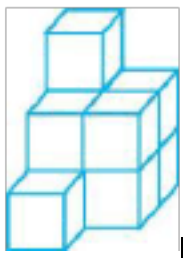


4. 在  左边的小动物下面画 “”，在  右边的小动物下面画 “△”。

5. 圈出从左数第 4 只小动物。

四、辨一辨。(8分)

1. 在多的后面画 “?”



2. 在圆柱的后面画 “?”



3. 在正方体的后面画 “?”



4. 在易滚动的后面画 “?”



五、算一算。(22分)

1. 看谁算得又对又快。(8分)

以上内容仅为本文档的试下载部分，为可阅读页数的一半内容。如要下载或阅读全文，请访问：<https://d.book118.com/498060114042006024>