

江西2024年06月江西上饶市市直单位遴选公务员44人

国家公务员考试笔试历年典型考题与考点剖析含答案

详解

(图片大小可自由调整)

一、单项选择题(共125题)

1、

- ①“做人民公仆”不是一句空话，公务人员须厘清身份，清除特权意识
②无论是从政治伦理，还是从民意期待，“官不聊生”都是个伪命题
③既为官，就要守得住清贫，耐得住寂寞，抵得住诱惑，经得起考验
④党员就得有党员的样儿，干部就得有干部的范儿
⑤为官者，既要洁身自好，又要勇于担当；既要敢作敢为，又要严于律己
⑥更要看到，当今的社会，正在加快从“官本位”向“民本位”转型

将以上6个句子重新排列，语序正确的是_____。

- A.④③②①⑤⑥
B.①③④②⑥⑤
C.①⑤③⑥④②
D.④②⑥①③⑤

解析：

参考答案：D

【解析】

语句排序题。本题从找“标志词”入手解答。首先，②提到了“官不聊生”，⑥提到了从“官本位”向“民本位”转型，顺序应是②⑥，排除A、C项；其次，比较B、D两项，③“既为官”和⑤“为官者”句式相似，放在一起更合适；按照D项的顺序通读文段，语句通顺。故选D。

2、

第12届国际逻辑学、方法论和科学哲学大会在两班牙举行，哈克教授、马斯教授和雷格教授中至少有一人参加了这次大会。已知：

- (1)报名参加大会的人必须提交一篇英文学术论文，经专家审查通过后才会发出邀请函。
(2)如果哈克教授参加这次大会，那么马斯教授一定参加。

(3)雷格教授向大会提交了一篇德文的学术论文。

根据以上情况，以下哪项一定为真？

- A.哈克教授参加了这次大会
B.马斯教授参加了这次大会
C.雷格教授参加了这次大会
D.哈克教授和马斯教授都参加了这次大会

解析：

参考答案：B

【解析】

这是一道复合命题推理题。条件关系式如下：(1)参加大会的人+提交一篇英文学术论文。(2)哈克参加则马斯参加。(3)雷格提交了一篇德文的学术论文。由条件(1)、(3)知，雷格教授不能参加。再加上题干所说，至少有一人参加了大会，说明哈克教授或马斯教授至少有一人参加。可以分两种情况：第一种情况，哈克教授不参加；那么马斯教授必然参加。第二种情况，哈克教授参加；又由条件(2)如果哈克教授参加这次大会，那么马斯教授一定参加。可见，不管哈克教授是否参加，马斯教授必然参加。B项正确。

3、

千百年来，海岛人过得像鱼一样_____。我们种田，讨海，在城市人愈来愈陌生的填仓、春分、谷雨、月半、霜降、冬至的古老节日里，在历经艰险满载而归的鱼舱里，虔诚祈祷，吟诗作画，开怀畅饮.....我们_____心灵的声音休养生息，无忧无虑，相亲相爱。

依次填入画横线部分最恰当的一项是_____。

- A.悠然自得 放飞
B.怡然自得 依从
C.相濡以沫 听从
D.随波逐流 顺从

解析：

参考答案：B

【解析】

先看第二空，“放飞”与“心灵的声音”搭配不当，排除A项。再看第一空，“相濡以沫”比喻同处困境，相互救助，文段描述的海岛人的生活并没有强调困境，排除C项。“随波逐流”比喻没有坚定的立场，缺乏判断是非的能力，只能随着别人走，不合语意，排除D项。答案选B。

4、

下列有关行政法规和规章的哪一种说法是正确的？_

- A.涉及两个以上国务院部门职权范围的事项，不得制定规章，应当由国务院制定行政法规
B.行政机关对行政许可事项进行监督检查收取费用须由法规、规章规定
C.行政法规应由国务院起草、讨论和通过，国务院部门不能成为行政法规的起草单位
D.有规章制定权的地方政府可以直接依据法律制定规章

解析：

参考答案：D

依据《立法法》第七十二条的规定可知，国务院有关部门依法可以联合制定规章对跨部门事项作出规定，因此A项错误；依据《行政许可法》第五十八条第一款规定可知，行政机关对行政许可事项进行监督检查收取费用的，须由法律、行政法规规定，而不是法规、规章，因此B项也不对。依据《立法法》第五十七条和第五十九条的规定可知国务院负责行政法规起草的组织、领导，而负责具体起草工作的是国务院有关部门等起草单位，起草单位完成起草后，将草案报送国务院法制机构审查修改，最终通过后由国务院发布，因此C项错误；依据《立法法》第七十三条第一款规定可知，依法具有规章制定权的地方政府可以直接依据法律制定规章，因此D项说法正确。故选D。

5、

一项每年进行的全国性的调查表明，过去30年里上高中的高年级学生对非法药品的使用呈持续而明显的下降。要想从上面描述的调查结果得出结论，认为20岁以下的人对非法药品的使用正在下降。下列哪项如果正确，能提供最有力的支持？

- A.上高中的高年级学生们使用非法药品水平的变化很少与20岁以下的其他人使用非法药品的水平的变化相符
- B.在过去，上高中的高年级学生一直是最可能使用非法药品和最可能大量使用非法药品的人群
- C.上高中的高年级学生使用非法药品的比例与所有的20岁以下使用非法药品的人的比例非常相似
- D.这项调查显示的下降趋势是特别针对20岁以下的人进行的药物教育计划的结果

解析：

参考答案：C

题干的论证必须有有关于“高中高年级学生”和“20岁以下的人”关系的预设条件。C建立了这样的联系。选项B具有较强干扰性，B的问题是一方面缺少“高中高年级学生就是20岁以下的人”的信息，另一方面，说明的是“在过去”这样就无法知道现在的情况。故选C。

6、

《国际歌》的词作者是_____。

- A.欧仁·鲍狄埃
- B.皮埃尔·狄盖特
- C.巴赫
- D.莫扎特

解析：

参考答案：A

[解析]

《国际歌》是1871年由欧仁·鲍狄埃写成的无产阶级的战歌，并用“国际工人协会”的简称“国际”来命名。故本题答案选A。

7、

在一次羽毛球赛中，甲、乙、丙、丁四人晋级四强。至于谁能最终问鼎冠军，小张、小李、小王三人作了如下预测：

小张：冠军是甲或者乙；

小李：如果冠军不是丙，那么冠军也不是丁；

小王：冠军不是甲。

已知小张、小李、小王三人中有并且只有一人的预测准确，那么下列哪项成立？_____

A.冠军是丁

B.冠军是乙

C.冠军是丙

D.冠军是甲

解析：

参考答案：A

[解析]

因为三人中只有一人预测准确，又小张与小王的话矛盾，可知预测准确的人在小张和小王之间，小李预测错误，即冠军是丙或丁。假设冠军是丁，则小张说了假话，小王说了真话，小李说了假话，符合题意。故选A。

8、

挤出效应：指在一个相对平稳的市场上，由于供应、需求有新的增加，导致部分资金从原来的预支中挤出，而流入到新的商品中。

下列属于挤出效应的是_____。

A.小蒋原打算花10万元装修新房，结果多花了4万元，主要原因是新添置了些高档家具

B.由于预期房价将会大幅度上升，许多家庭控制其他消费，以积攒首付款和支付月供款

C.小周办婚宴预计花3.6万元，可实际上花了2.8万元，于是她在计划外买了一台手提电脑

D.老姜儿子将买3台复印机，为筹集资金，老姜十分节俭，连买早点的钱都不肯花

解析：

参考答案：D

[解析]

题干的关键是“供应、需求有新的增加”和“部分资金从原来的预支中挤出”。选项A超出了原有预算，不符合题意，排除；C项中购买手提电脑并不是由于供应、需求新的增加，而是由于实际预算与原有预算不符，排除C；B项中，许多家庭控制消费的原因是基于对房价上涨的预测，而不是家庭本身产生了新的需求，故排除B；D项中“3台复印机”是新的需求，而老姜节省下的买早点的钱正是从原预支中挤出的资金，因此D为正确答案。

9、

新学期开始，大一新生正陆续前往高校报到。专家提醒，新生入校应注意心理调节，以适应与高中完全不同的学习和生活环境。另外，一些学生越是临近开学越是情绪焦虑。其中，由于暑期放松过头使得假期作业来不及完成，是导致情绪焦虑的主要原因。暑假快要结束时，要引导孩子慢慢收心，把注意力逐渐转移到学习上。

下列最适合做这段文字标题的是_。

- A.专家提醒：假后注意心理调节
- B.适应新环境，形成好心情
- C.新生要“调心”，老生要“收心”
- D.进入新学期，通过“过渡期”

解析：

参考答案：C

[解析]

题干主要讲了两个方面：第一，专家提醒，新生入校应注意心理调节，以适应与高中完全不同的学习和生活环境；第二，一些学生越是临近开学越是情绪焦虑，要引导孩子慢慢收心。综合各选项的内容，故选C。

10、

甲、乙、丙三人每分钟走110，100，90米，现甲从A地，乙、丙从B地同时出发，相向而行，已知甲遇到乙后1分钟后遇到丙，问A，B两地的距离为多少千米？

- A.3
- B.3.6
- C.4.2
- D.4.8

解析：

参考答案：C

[解析]

甲、乙、丙三人的速度之比为11:10:9，当甲、乙相遇时，假设甲走了11份路程，则乙走了10份路程，丙走了9份，此时A，B两地的距离为甲、乙合走的路程，为11+10=21份路程。甲、丙之间的距离为10-9=1份路程，这1份路程需要甲、丙合走1分钟才能相遇。因此，1份路程为(110+90)×1=200米=0.2千米，A、B两地的距离为0.2×21=4.2千米。

11、

职务激励法是指如果有一个德才兼备、会管理、善用人、能开辟一个部门新局面的可造就之才，那么就应该把握实际需要、扬长避短，及时地提拔重用，以免打击了“千里马”的积极性。

根据上述定义，下列属于职务激励法的是_。

- A.在企业攻关阶段，上层领导身先士卒，以身作则，带领一批技术骨干攻克难关
- B.领导甲对其单位的职工乙有好感，就破格提拔他为单位主管

C.某单位的领导对“功高盖主”的丙的生活习惯很不满，于是把他调到其他部门，做他专业之外的工作

D.丁在某单位的网络部工作，在平常的一次工作中表现出超人的管理才能，立即被升为办公室主任

解析：

参考答案：D

[解析]

由定义可知，职务激励法的对象是人才，其方式是及时地提拔重用，其目的是以免打击人才的积极性，由此判断只有D项符合。

12、

地方性法规是指地方立法机关为贯彻执行宪法、法律、行政法规的规定所制定和颁布的规范性文件，它仅在其管辖的区域内具有效力。其前提是不违背宪法、法律、行政法规的规定。

根据上述定义，下列属于地方性法规的是_。

- A.甲村民委员会一致讨论通过的不得向河里乱扔垃圾的规定
- B.乙县政府办公室下达的关于饲养动物饲料配方的有关规定
- C.丙市政府颁布并从即日起实施的加强食品安全监管的十项措施
- D.丁省人大常委会发布的《丁省实施(中华人民共和国水法)办法》

解析：

参考答案：D

[解析]

地方性法规定义的关键信息是：地方立法机关。A项村委会是自治组织，B项县政府、C项市政府是行政机关，均不符合定义关键信息；D项省人大常委会是立法机关。故答案选D。

13、

我们每一个人，终其一生，都在不断受到新环境的生存挑战，我们必须不断增长智慧和能力。由于新环境的生存挑战完全不可预测，因此，我们的教育也完全不可预设，不可僵化，不可束缚，而应该成为最能够激发人智力的一种训练。如果不顾日新月异的社会发展和环境变化，一味执行因循守旧的教育，死板繁琐的教育，束缚压抑的教育，那就是反人性，是倒退，是戕害，是自欺欺人，是自掘坟墓。

这段文字未暗示的信息是：

- A.我们需要不断增长自己的智慧和能力
- B.教育应使人们获得高质量的智力提升
- C.教育不应一味地因循守旧、不知变通
- D.教育体制日趋僵化，改革已刻不容缓

解析：

参考答案：D

[解析] 文段围绕教育的与时俱进展开，D项的“教育体制改革”属无中生有，故本题答案为D。

14、

虽然现代人常常抱怨摄入食物品质下降是导致慢性病和健康问题的原因，但问题的关键其实在于数量而不是质量。“太多了——

买得太多，吃得太多，浪费得太多。”在很大程度上，过度才是现代社会最严重的食品安全危机，甚至抵消了食品质量提升所可能带来的好处。“假如100年前的人也有机会像现代人这样在任何时候想吃就吃，他们的慢性病发病率会比现在还高，发病时间也会比现代人还早。”

这段文字意在说明的是__。

- A.慢性病与健康问题的频发与摄入食物品质下降之间不存在因果关系
- B.引发现代社会食品安全危机与健康问题的症结在于食物过量摄入
- C.食物的过度摄入使现代人慢性病的发病率远高于100年前的人
- D.少吃多餐、养成合理的饮食习惯，有助于现代人远离疾病的侵扰

解析：

参考答案：B

[解析] 文段首句提出观点——

导致现代人慢性病和健康问题的原因在于数量而非质量，然后下文对此进行具体阐述。A项说的是慢性病与健康问题的频发与食物品质之间的关系，脱离了“数量”这一论述中心，排除。D项“少吃多餐”文中未曾涉及，属无中生有，排除。C项“现代人慢性病的发病率远高于100年前的人”从文中无法得出，排除。本题答案为B。

15、

底线伦理，是指维系人之所以为人的起码的伦理道德，是一种与人的本性和本质同一的基本伦理，是任何有人性的人都认可并遵循的普遍伦理。“底线伦理”主要有两方面的含义：一个是它的普遍性，或者说平等性，也就是说底线伦理的规范是要求所有人的，是平等的，是没有例外地约束所有社会成员的，并不因权力或金钱、地位的差别而有什么不同，它不允许有任何“逃票乘客”和双重标准；另一方面的含义也就是它的基本性、最低限度性。

根据以上定义，下列违背了底线伦理的是：

- A.君子爱财，取之有道
- B.即使无法帮助别人，也绝不能去伤害别人
- C.某市晚报为了吸引读者，炮制了一条耸人听闻的消息
- D.司机小李为了载一名危重病人去医院，连闯3个红灯

解析：

参考答案：C

[解析]

底线伦理的关键信息是：人的起码的伦理道德，有人性的人都认可并遵循的普遍伦理。A、B两项都符合伦理道德；C项某晚报违背了舆论道德；D项虽然闯红灯但事出有因，并未违背道德底线。此题选C。

16、

骨质疏松症是一种能够减轻骨骼质量从而导致骨骼易折断的疾病，现在的疗法如雌性激素和降钙素疗法只能阻止骨骼质量进一步的减少而不能重新补回所失质量。由于氟化物可增加骨骼质量，因此给患有奥氏病的病人服用氟化物将会使其骨骼不那么易折断。

以下哪项如果为真，最能削弱上述论证的可信度?_____

- A.大多数患奥氏病的人并未意识到服用氟化物能够增加骨骼质量
- B.许多地方人们将氟化物溶于饮用水中以使饮水者的牙齿更加坚固
- C.患奥氏病及其他骨骼退化类疾病的几率可通过锻炼与适当摄入钙质而降低
- D.服用氟化物后生成的骨质要比正常骨质脆且弹性小

解析：

参考答案：D

[解析]

题干观点认为给患有奥氏病的病人服用氟化物将会使其骨骼不那么易折断。但是如果服用氟化物所生成的骨质要比正常骨质脆且弹性小那么这就更加增加骨骼折断的危险性，因此题干观点自然无法成立。故选D。

17、

(8.4×2.5+9.7)÷(1.05÷1.5+8.4÷0.28)的值为：

- A.1
- B.1.5
- C.2
- D.2.5

解析：

参考答案：A

本题主要考查的是数与数之间的分项与重组，在计算中运用了4×25=100，所以选A。

18、

修正液有毒成分可通过呼吸道_____人体，吸入过多易引发白血病。专家向消费者发出_____警告，尽量不要使用修正液，非用不可时，要注意自我保护。

填入画横线部分最恰当的一项是__。

- A.侵入 郑重
- B.侵蚀 严谨
- C.腐蚀 谨慎
- D.渗入 慎重

解析：

参考答案：A

[解析]

第一空，有毒成分需先进入人体才能发生作用，因此排除B、C两项。郑重：严肃认真。慎重：谨慎认真。文中发出警告，应该是严肃的，所以“郑重”更合适。故选A。

19、

中国学术历来轻“术”。经济学、金融学都是太低级的“术”，所以，它们往往被忽略。遗憾的是，时下的儒家研究学者还是不能走出用文化来谈文化的圈圈，特别是以儒家文化来评价儒家文化，其结论当然不会是别的，用“四书五经”来看“四书五经”，只能是越看越美。如果脱离传统儒家社会的实践现实，不去研究特定文化背后的成因(特别是经济成因)，那么得出“以中华文明整合世界”这样的认识就不奇怪了。

这段文字意在说明：_____

- A.中国文化研究缺乏经济成因分析
- B.传统中国学术历来看轻经济学科的价值
- C.“以中华文明整合世界”的想法轻率荒谬
- D.当代儒家研究学社依然没有走出“术”的窠臼

解析：

参考答案：A

[解析]

文段首先摆出观点“中国学术历来轻‘术’”，接着阐述原因即现状，最后利用反证“如果……，不……，那么……”突出了重点，强调“不应脱离社会的实践现实，应研究特定文化背后的成因(特别是经济成因)”。A项符合文义。

20、

音乐和文学诚然不会直接教你如何去解微积分方程，但是却能_____你的文化背景，_____你的想象力，_____你的审美感，_____你的精神境界，从而使你成为一个完整的、和谐的人。

填入画横线部分最恰当的一项是_____。

- A.拓展 丰富 提高 提升
- B.丰富 提高 提升 拓展
- C.拓展 提高 提升 丰富
- D.丰富 提升 提高 拓展

解析：

参考答案：A

[解析] 根据词语间的习惯搭配，可知选项A正确。

21、

甲、乙两个工程队共同完成A和B两个项目。已知甲队单独完成A项目需13天，单独完成B项目需7天；乙队单独完成A项目需11天，单独完成B项目需9天。如果两队合作用最短的时间完成两个项目，则最后一

天两队需要共同工作多长时间就可以完成任务？

- A. $\frac{1}{12}$ 天
- B. $\frac{1}{9}$ 天
- C. $\frac{1}{7}$ 天
- D. $\frac{1}{6}$ 天

解析：

参考答案：D

[解析]

根据题意可知，甲做B工程的速度相对较快，为尽快完工，甲先做B工程，乙先做A工程。甲做完B工程时，A工程的工作量还剩 $1-\frac{1}{11} \times 7 = \frac{4}{11}$ 。甲、乙共同完成剩余工作需要 $\frac{4}{11} \div (\frac{1}{13} + \frac{1}{11}) = \frac{4}{11} \times \frac{13 \times 11}{24} = \frac{13}{6} = 2\frac{1}{6}$ 天，即最后一天只需要 $\frac{1}{6}$ 天就可以完成任务。

22、

精神外科的本意，即是通过外科手段改变人的不正常的精神活动和行为表现。1935年，葡萄牙精神病学家Moniz和神经外科医师Lima合作，施行双侧前额叶脑白质切除术，从而开创了精神外科学。这种手术令病人冲动攻击行为明显减少，变得温顺，但也给部分患者遗留下不可逆的器质性精神障碍。1947年，脑立体定向技术应用于临床治疗并成功，这使得精神外科手术的精确性大为提高。在各个国家，都有一些医生试图采取切除、射频、冷冻等手段，去除人脑中不正常的意识。因为专家们认为精神外科是医学界的重要发展方向。

根据这段文字，对“精神外科”的理解不正确的是_____

- A.精神外科是通过外科手术的技术改变人们的不正常的精神活动和行为表现
- B.1935年首创的切除大脑白质的精神外科技术会不可避免地给患者留下不可医治的后遗症
- C.1947年开始应用的脑立体定向技术大大提高了精神外科手术的精确性
- D.随着科技进步和时代的发展，精神外科将会成为医学界的重要发展方向

解析：

参考答案：B

[解析]

第二段中“但也给部分患者遗留下不可逆的器质性精神障碍”说的是“部分”，而不是所有的，所以不能说“不可避免”。故选B。

23、

A、B两人步行的速度之比是7:5，A、B两人分别从C、D两地同时出发。如果相向而行，半小时后相遇，如果同向而行且B在A的前方，A追上B需要多长时间？

- A.两个半小时
- B.三个小时
- C.三个半小时
- D.四个小时

解析：

参考答案：B

24、

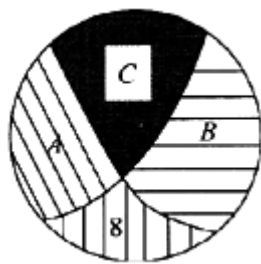
现有60名学生都做物理、生物试验，如果物理实验做正确的有50人，生物实验做正确的有41人，两种实验都做错的有8人，则两种实验都做对的有_。

- A.27人
- B.39人
- C.19人
- D.10人

解析：

参考答案：B

可用集合画图法进行快速解答。可令物理实验做正确的为A+C，生物实验做正确的为B+C，则两种实验都做对的为C，都做错的为8，本题求解C。已知A+C=50，因A+B+C+=60，所以B=2，又因B+C=4，可快速解出C=39。故选B。



25、

我国大气环境形势十分严峻。传统的煤烟型污染尚未得到解决。机动车、重工业造成的PM2.5、臭氧污染又接踵而至。可以说，发达国家上百年工业化过程中分阶段出现的大气污染问题，在我国近20年内集中出现。我们要正确对待当前的大气污染形势，充分认识改善大气环境的复杂性与长期性。同时，“必须有所作为”，持续改善环境空气质量。

这段话重在说明：

- A.我国大气环境形势十分严峻
- B.机动车、重工业等是造成大气污染的罪魁祸首
- C.发达国家同样经历过大气污染严重的时期
- D.我国必须致力于大气环境的改善，这将是一个长期复杂的过程

解析：

参考答案：D

26、

过去的“用工荒”通常只出现于劳动密集型产业聚集的沿海省份，而现在正向中西部省份扩散，一些传统劳务输出大省也出现了用工短缺现象。同时，新生代农民工成为农民工群体的主体，他们对工作环境、福利待遇、发展机会及文化生活等有着更高的要求。调查表明，近年来企业用工成本每年以20%—30%的速度在提升。企业普遍面临着招工难、用工贵和留不住的问题。再加上资金、土地、原材料、资源环境等因素影响，企业正全面进入“高成本时代”。

从这段文字可以推出_____。

- A.新生代农民工数量的大量增加是企业成本飞速提升的原因之一
- B.沿海省份比中西部省份更缺乏劳动力
- C.过去企业成本低是因为农民工群体的要求低
- D.企业进入“高成本时代”与“用工荒”问题有关

解析：

参考答案：A

[解析]

由文段第二句可知，新生代农民工成为农民工群体的主体，且他们对福利待遇等有更高要求，企业出现用工贵的问题，因此新生代农民工数量增加了，企业用工成本也会增加，故A项正确。B项无从得知，文段只说“用工荒”向中西部扩散，不能推出沿海省份比中西部省份更缺乏劳动力，排除B项。C项以偏概全，由文段可知，企业成本受劳动者待遇、资金、土地、原材料、资源环境等多种因素的影响，并不只限于农民工群体的要求，排除C。D项过度引申，企业各种生产要素的成本提高，因而进入“高成本时代”，这与企业招不到工人无关。因此本题选A。

27、

现在大脑研究者开始把脑看做一种全息图。全息图是一种新的摄影方法。在全息图的任何一个组成部分中，都包含了整个全息图的信息，并由此显示出一种非常逼真的、三维立体图像。例如，把一张关于桌子的全息照片粉碎，你可以发现在每碎片上所显示的图像并不是桌子的一部分而是整个桌子。这意味着()。

- A.大脑是以整体方式工作的
- B.大脑是球形的
- C.大脑打破以后仍然有图像
- D.大脑是一种新的摄影方法

解析：

参考答案：A

28、

2005年4月5日，县交通局执法人员甲在整顿客运市场秩序的执法活动中，滥用职权致使乘坐非法营运车辆上的孕妇乙重伤，检察机关对甲提起公诉。为保障自己的合法权益，乙的下列哪种做法是正确的?_

- A.提起刑事附带民事诉讼，要求甲承担民事赔偿责任
- B.提起行政赔偿诉讼，要求甲所在行政机关承担国家赔偿责任
- C.提起刑事附带行政赔偿诉讼，要求甲所在行政机关承担国家赔偿责任
- D.提起刑事附带民事诉讼，要求甲及其所在的行政机关承担民事赔偿责任

解析：

参考答案：B

[解析] 提起行政赔偿诉讼，要求甲所在行政机关承担国家赔偿责任。

29、

旅记 对于 ____ 相当于 ____ 对于 爱情

- A.古迹 历史
- B.景物 诗歌
- C.散文 感情
- D.旅行 传记

解析：

参考答案：B

[解析] 本题考查对应关系。旅记记录景物，诗歌记录爱情。

30、

纵观职业的变迁可以发现：其一，第一产业、第二产业在朝着机械化、自动化、智能化的方向发展，一些曾经靠体力完成的劳动和工作，现在借助工具、机器可以完成得更好更高效，所以诸如铁路扳道工、铅字工等职业消失了。其二，第三产业因为与百姓生活密切相关，也因为人们需求的升级，出现不少新兴职业，比如从厨师到中式烹调师、西式烹调师，再到烘焙师、营养师；从理发师到美容师、美甲师；从兽医到宠物医师等。

对这段文字的主旨概括最准确的是：____

- A.职业变迁在第一、二产业和第三产业中呈现不同的规律
- B.随着技术的发展，未来还会有更多的职业、工种消失
- C.未来第一、二产业将会继续向机械化、自动化和智能化发展
- D.只有第三产业的职业增加了，第一、二产业的职业都减少了

解析：

参考答案：A

[解析] 文段是并列结构。介绍职业变迁的两个特征：①第一产业、第二产业朝机械化、自动化、职能化方向发展，一些职业被技术替代而消失；②第三产业随着人们需求的升级出现新兴职业。综合两点内容，文段是在说职业变迁在第一产业、第二产业和第三产业中呈现不同规律，A项恰当。B项未涉及职业与产业的关系；C项仅提到“第一、二产业”，不全面；D项“只有”“都”表述过于绝对。故本题选A。

31、

以下有关世界贸易组织(WTO)的表述中，不正确的一项是_____。

- A.WTO的前身是关贸总协定，WTO于1995年1月1日建立
- B.部长会议是WTO的最高权力机构和决策机构
- C.WTO总干事在部长会议休会期间，行使部长会议的职权
- D.2001年12月11日，中国以新成员的身份正式加入WTO

解析：

参考答案：C

[解析] 总理事会是世界贸易组织的常设决策机构，在部长会议休会期间执行部长会议的各项职能。

32、

在下列情形中，用人单位不得解除合同的是_____。

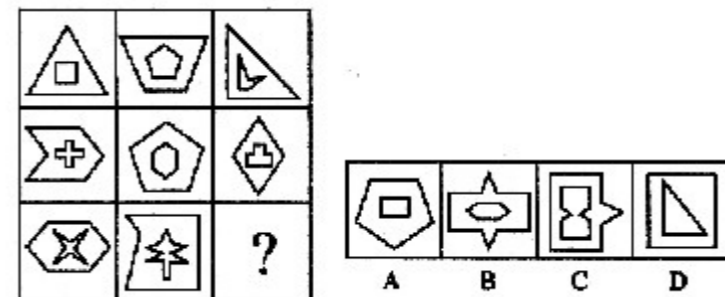
- A.劳动者患病或者负伤，在规定的医疗期内
- B.劳动者患病或者负伤，医疗期满的
- C.劳动者在试用期内的
- D.用人单位濒临破产进行法定整顿期间

解析：

参考答案：A

33、

从所给的四个选项中，选择最合适的一个填入问号处，使之呈现一定的规律性：



解析：

参考答案：C

[解析] 题干中每个图中构成内部图形的边数比外部图形的边数多。故选C。

34、

棱长为3的正四面体，以其3个侧面的重心为顶点的三角形面积为：

- A. $\frac{\sqrt{3}}{4}$
- B. $\frac{\sqrt{3}}{2}$
- C. $\sqrt{3}$
- D. $\frac{3}{4}$

解析：

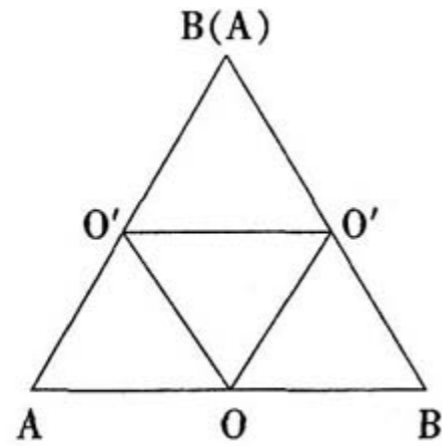
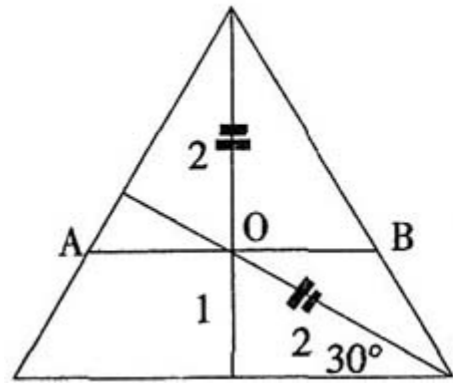
参考答案：A

[解析]

正四面体的侧面是等边三角形，其重心为各边中线的交点。如左图可知，重心O将中线分为两段，长度比为2:1，则 $AO=3 \times \frac{2}{3}=2$ 。

每个侧面的“AB”构成一个等边三角形，以重心O为顶点的三角形是右图中的小三角形，其面积是大三角形的 $\frac{1}{4}$ 。等边三角形的面积为 $\frac{1}{2} \times \text{底边} \times \text{底边} \times \frac{\sqrt{3}}{2} = \frac{\sqrt{3}}{4} \times \text{底边}^2$ ，则以“AB”为底边的等边三角形面积是 $\frac{\sqrt{3}}{4} \times 2^2 = \sqrt{3}$ ，

以侧面重心为顶点的三角形面积是 $\sqrt{3} \times \frac{1}{4} = \frac{\sqrt{3}}{4}$ 。



35、

- ①如果叶酸盐太少则可能导致严重的神经缺陷
- ②只是为了阻止一种人体必需的叫做叶酸盐的营养物质的分解
- ③它在胚胎发育时期的神经管形成时具有重要作用
- ④此外，叶酸盐对细胞分裂和生成也意义重大
- ⑤叶酸盐是维生素B复合物的成员之一
- ⑥早期人类皮肤变黑并不是为了不让阳光中的紫外线辐射

将以上6个句子重新排列，语序正确的是_____。

- A. ②⑥③④①⑤
- B. ⑥②⑤③①④
- C. ②⑤⑥③①④
- D. ⑥④②③⑤①

解析：

参考答案：B

[解析]

本题属于语句排序题。通读六个句子，②显然不能作为首句，排除A、C项。比较B、D项，句④中有一个词“此外”，与句⑥连接后语句不通，排除D项，句②可以紧跟句⑥排列。验证B选项，由皮肤变黑的原因分析，引出叶酸盐，接着分析叶酸盐的作用，逻辑清晰，语句通顺。本题正确答案为B项。

36、

甲、乙、丙三人各自举着红旗、绿旗和黄旗，分别从东面、南面和西面三个方向朝山顶攀登。甲不举红旗，也不从东面上山；举红旗的人从西面上山；乙举着绿旗。

由此可以推出_____。

- A. 举绿旗者从南面上山
- B. 丙从东面上山
- C. 举黄旗的不是甲
- D. 乙不从南面上山

解析：

参考答案：D

[解析] 根据题干可画图如下：



由图可知，丙举红旗从西面上山，乙举绿旗从东面上山，甲举黄旗从南面上山。正确答案是D。

37、

你就是这样周而复始、不屈不挠地生长着。虽然你没有青松的____，没有垂柳的____，没有桃李的____，也没有芝兰的____，但你浑身充满大自然的活力，你在我心里已经深深地扎了根！

填入画横线部分最恰当的一项是：

- A. 姿色 婀娜 颜色 气味
- B. 挺拔 柔软 委婉 风姿
- C. 英姿 婀娜 绚烂 芳香
- D. 坚毅 柔美 洒脱 婉约

解析：

参考答案：C

[解析]

第一空，“姿色”用来形容“青松”不恰当，排除A；第四空，“芝兰”即香草，“芳香”填入最恰当，排除B、D。验证中间两空，“垂柳的婀娜”“桃李的绚烂”均搭配恰当。故本题选C。

38、

下列关于辐射的说法错误的是：

- A.手机、微波炉、高压线和机场安检仪的辐射方式是相同的
- B.使用电脑后用清水洗脸，并不能减轻电脑辐射
- C.生活中的辐射主要包括电离辐射和非电离辐射
- D.市面上销售的防辐射孕妇装等产品是通过在纺织物里织入金属丝来屏蔽无线电波

解析：

参考答案：A

[解析]

手机、微波炉、高压线和机场安检仪所产生的辐射，本质上都是电磁波。机场安检仪使用的是频率大于可见光的X射线，属于电离辐射。手机、微波炉、高压线产生的是频率小于可见光的电磁波，属于非电离辐射。A项说法错误。“洗脸防辐射”的方法主要用于洗掉受沾染者脸上的放射性颗粒，但电脑的电磁辐射则主要来源于电脑里的各种电路，并不会产生类似放射性物质小微粒的东西，使用电脑后洗脸最多可以缓解一下长时间盯着电脑的面部肌肉疲劳，并不能减少辐射。B项说法正确。生活中的辐射主要包括电离辐射和非电离辐射。C项说法正确。所谓的“防辐射孕妇装”和“防辐射床单”等，往往是通过在纺织物里面织入金属丝来屏蔽无线电波，并不能够阻止电离辐射等对人体的伤害。而要完全屏蔽在低强度下对人无害的微波和无线电波波段的辐射，需要把整个身体都包裹在金属里面。D项说法正确。故本题答案选A。

39、

对一篇规范的论文，因版面限制而去砍综述、删注释，实在是_____的不智之举。

填入画横线部分最恰当的一项是_____。

- A.削足适履
- B.扬汤止沸
- C.矫枉过正
- D.舍本逐末

解析：

参考答案：A

[解析]

“削足适履”指的是鞋小脚大，把脚削去一些以适应小鞋，比喻过分迁就现成条件，或生搬硬套。“扬汤止沸”指的是滔动沸腾的水，使它不沸腾，比喻暂时救急或不从根本上解决问题。“矫枉过正”指的是把弯曲的东西扭直，结果过了头，又歪向另一方，比喻纠正错误超过了应有的限度。“舍本逐末”指的是放弃根本的、主要的，而去追求枝节的、次要的，形容轻重倒置。文段表述的意思是“本来是规范的文段，生生要砍去内容而去适应版面”，这属于生搬硬套的行为。所以选择A项。

40、

夏季，西瓜是必不可少的水果。不过在艺术家眼中，西瓜不仅可以用来吃，还可以用来“看”。英国《每日邮报》日前刊登了一组高清图，展示了艺术家用西瓜雕刻成的艺术品，令人_____。

填入划横线部分最恰当的一项是_____。

- A.难以置信
- B.叹为观止
- C.目不暇接
- D.眼花缭乱

解析：

参考答案：B

[解析]

“目不暇接”指东西多，眼睛都看不过来。句中并没有体现艺术品很多，排除C。“眼花缭乱”形容事物纷乱、繁杂，使人一时看不清楚。与句中的“高清图”不相符，排除D。“难以置信”指不容易相信。“叹为观止”指赞美所看到的事物好到了极点。句意为艺术家用西瓜雕刻艺术品的技艺高超，而非人们难以相信那些照片，故应选“叹为观止”，答案选B。

41、

可从舰艇、飞机上发射，接触舰船就可以爆炸的水中武器是_____。

- A.鱼雷
- B.水雷
- C.导弹
- D.潜弹

解析：

参考答案：A

[解析]

鱼雷是一种水中兵器。它可从舰艇、飞机上发射，它发射后可自己控制航行方向和深度，遇到舰船，只要一接触就可以爆炸。故本题答案选A。

42、

为了让傅聪学会“做人”，精通洋学的大翻译家傅雷另辟蹊径，用近乎“私塾”的方式，从孔孟先秦诸子、《国策》、《左传》、《史记》、《汉书》、《世说》中选教材，进行“道德规范”的教育。傅雷认为，对于没有宗教信仰的人来说，“道德规范”是生活中惟一的“圭臬”。而当他将这个“圭臬”与古希腊罗马的崇尚自然，文艺复兴的崇尚人文，法国大革命和“五四”运动的崇尚民主的精神相融合时，就构筑起一个“理想世界”的最高境界!

傅聪以后在国外生活了那么多年始终“视富贵如浮云”，就是因为精神境界中有这个“圭臬”所维系。

根据这段文字，傅雷奉为“圭臬”的“道德规范”实质上指_____

- A.视富贵如浮云
- B.清贫自守安贫乐道的人生准则
- C.安于贫困的生活

D.中国传统道德规范

解析：

参考答案：B

[解析]

材料前半部分是谈“道德规范”的来源，根据最后一句话傅聪的表现，可知B项正确，A项不准确，C、D项只是来源之一。

43、

物联网中物体通过信息传感设备，与互联网相连接，进行信息交换和通信。

下列不具备信息传感功能的设备是_____。

A.激光扫描器

B.红外感应器

C.普通数码相机

D.射频标签

解析：

参考答案：C

[解析]

传感器是一种检测装置，能感受到被测量的信息，并能将检测感受到的信息，按一定规律变换成为电信号或其他所需形式的信息输出，以满足信息的传输、处理、存储、显示、记录和控制等要求。C项普通数码相机并不是一种检测装置，不属于具备信息传感功能的设备。本题答案选C。

44、

①当人感到不适或生病时，身体可以从自身的“药铺”中找到30至40种“药”来对症治疗

②每天坚持以舒适的姿态闭目养神10至20分钟，将思想集中在愉快的事情上，并多做腹式呼吸有助于提高人体的这种自愈能力

③这种治疗过程是由荷尔蒙、免疫抗体等因素综合发挥作用的

④经研究发现，人体自身有能力治愈60%至70%的不适和疾病

⑤在这一过程中，保持积极向上的精神状态十分重要

⑥科学家目前已经解开了机体自愈的一些秘密

将以上6个句子重新排列，语序正确的是：

A.①③⑥⑤④②

B.⑥④①③⑤②

C.④③②①⑥⑤

D.②⑤③①④⑥

解析：

参考答案：B

[解析]

③句中的“这种治疗过程”指的是①句中的“身体可以……对症治疗”，故两句应连在一起，顺序为①③，排除C、D。①③都属于⑥句科学家发现的内容，故应置于⑥句之后，排除A。本题选B。

45、

上世纪七十年代，湖南长沙马王堆汉墓出土了十二万字以上的帛书，其中有一部失传已久的《相马经》，是我国动物学、畜牧学的重要文献。春秋战国时期，由于已从车战演变到骑兵作战，马的身价愈来愈高。传说中的相马专家是伯乐，事实上，这类专家数量众多，《吕氏春秋》就提到十个相马家，《史记》也提到“以相马立命天下”的人士，这些都可以证明古人对相马的重视。

下列说法与原文相符的是：_____

A.相马技术的发展使得车战逐渐被淘汰

B.《相马经》是伯乐所撰写的相马学专著

C.相马术的出现推动了古代动物学的发展

D.相马师这一职业早在汉代以前就已经出现

解析：

参考答案：D

[解析]

A项因果倒置，应为车战演变到骑兵作战，马的身价越来越高，相马技术得到发展。B项无中生有，原文未提及《相马经》的作者。C项，原文只提到《相马经》是我国动物学的重要文献，由此无法推出相马术的出现推动了古代动物学的发展。故A、B、C三项均有误。由《吕氏春秋》中已提到相马家可知，相马师这一职业在汉代以前已出现的说法正确。故本题选D。

46、

历练对于_____相当于磨砺对于_____

A.栉风沐雨 千锤百炼

B.千辛万苦 九死一生

C.处心积虑 百折不回

D.波澜不惊 一鸣惊人

解析：

参考答案：A

[解析] 栉风沐雨可以形容历练；千锤百炼可以形容磨砺。故答案选A。

47、

古时候甲、乙、丙、丁四个强盗抢劫后分赃，已知甲、乙分得的赃物之和占总数的 $\frac{2}{3}$

，甲、丙分得的赃物之和占总数的 $\frac{2}{3}$ ，甲、丁分得的赃物之和占总数的 $\frac{1}{2}$ ，则甲分得的赃物占总数的：

A. $\frac{5}{12}$

- B. $\frac{7}{12}$
- C. $\frac{7}{24}$
- D. $\frac{11}{24}$

解析：

参考答案：A

[解析]

设总共有12份，则甲+乙=8，甲+丙=8，甲+丁=6，三式叠加有：2甲+12=22，解得甲=5，故其所占的比重为 $\frac{5}{12}$ ，选A。

48、

有些群众生活困难，虽有发展潜力，但现在难以靠自己改变目前的处境，需要扶一把。有人认为，资源和就业的配置要通过市场解决，政府不好包办，但市场不可能自动实现社会收入的公平与协调，也不可能顾及全社会的扶贫救弱，假如困难群体陷于无助，贫富差距过大，无疑会影响社会的协调发展。

这段话支持了这样一个观点，即()。

- A.应该为困难群众谋利益
- B.困难群众单靠自身努力常常难以脱困
- C.市场本身不会自动协调社会收入
- D.贫富差距过大势必影响社会协调发展

解析：

参考答案：A

[解析]

这是一道把握作者主旨理解的题。第一句话是说有些困难群众不能靠自身努力脱困；第二句话是说扶贫救弱无法通过市场自动实现，而该问题解决不好，将影响社会的协调发展。由于以上两个原因，我们应该为困难群众谋取利益，A是这段话支持的观点，B、C、D都是材料的部分内容。

49、

把下面的六个图形分为两类，使每一类图形都有各自的共同特征或规律，分类正确的一项是：_____



- A.①②④，③⑤⑥
- B.①②③，④⑤⑥
- C.①③⑥，②④⑤
- D.①③⑤，②④⑥

解析：

参考答案：C

[解析]

本题考查图形外形的共性，①、③、⑥都是中心对称图形，而②、④、⑤是轴对称图形。故正确答案为C项。

50、

供给诱导需求是指供给者利用优于消费者的资讯，以自身的利益为优先考量，促使消费者购买更多的产品和服务。

根据上述定义，下列不属于供给诱导需求的是_____。

- A.每逢年节时期超市为促销，先对某商品进行提价，再以“满100元送20元”的优惠吸引消费者
- B.美容院工作人员让顾客免费试用某品牌的化妆品，并宣传该品牌是明星日常化妆的首选
- C.老李家需要更换电冰箱，他详细咨询了做电器销售的老张，并到电器城买了称心的电冰箱
- D.电视购物广告为促销，以“买手机送手表”为宣传语，吸引消费者购买

解析：

参考答案：C

[解析]

供给诱导需求是指商品的供给者为了满足自己的利益，通过各种手段进行宣传，促使消费者购买他们的产品。A、B、D项分别是通过超市促销、营业员推荐和电视广告的“超值”组合来吸引消费者的。C项的老李是为了更换自家的电器，自己主动购买的，而不是通过商家的宣传觉得适合才买的。因此，不属于供给诱导需求。故选C。

51、

短期导向的文化，一般只重视现在的、短期的利益和结果。而具有长期导向的文化更重视潜在的、长远的利益或结果。在长期导向的文化中，凡事都想到较远的未来，而非只考虑当前。

下列不属于长期导向的文化的观点是：_____

- A.坚持定期储蓄
- B.节俭是一种美德
- C.保护环境，功在当代，利在千秋
- D.企业应当每季度对员工进行考评

解析：

参考答案：D

[解析]

长期导向的文化定义的关键信息：重视潜在的、长远的利益或结果。A项，坚持定期储蓄体现了重视未来的收益，符合定义。B项，当下节俭也体现了重视长远的利益，符合定义。C项，保护环境体现的是人类对自身长远利益的重视，符合定义。D项，每季度并非较远的未来，不符合定义。故本题选D。

52、

1, 2, 3, 7, 46, _

- A.2109
- B.1289
- C.322
- D.147

解析：

参考答案：A

[解析] 本数列规律为每项自身的平方减去前一项的差等于下一项，即 $1^2-0=1$ ， $2^2-1=3$ ， $3^2-2=7$ ， $7^2-3=46$ ， $46^2-7=2109$ 。

53、

专门向经济不发达会员国的私营企业提供贷款和投资的国际金融组织是__。

- A.国际货币基金组织
- B.国际清算银行
- C.国际金融公司
- D.国际开发协会

解析：

参考答案：C

[解析] A项，国际货币基金组织的职责是监察货币汇率和各国贸易情况、提供技术和资金协助，确保全球金融制度运作正常。B项，国际清算银行的宗旨是促进会员国中央银行之间的合作，为国际金融业务提供便利，并接受委托或作为代理人办理国际清算业务等。D项，国际开发协会是世界银行集团成员，也是世界银行的无息贷款(软贷款)和赠款窗口。协会通过向生产性项目提供贷款，促进欠发达国家的经济社会发展。C项，国际金融公司是世界银行的下属机构之一，其宗旨是：配合世界银行的业务活动，向成员国特别是其中的发展中国家的重点私人企业提供无须政府担保的贷款或投资，鼓励国际私人资本流向发展中国家，以推动这些国家的私人企业的成长，促进其经济发展。故本题选C。

54、

花 员 形	日 月 ？		
刘 析 方 巧			
A	B	C	D

解析：

参考答案：C

55、

夫妻个人财产是指依法或依当事人约定，夫妻婚后各自保留的一定范围内的个人所有财产。一般包括法定个人财产与约定个人财产，具体而言，包括婚前财产与婚后财产。

根据上述定义，下列财产中属于夫妻个人财产的是_____。

- A.婚后一方接受亲友馈赠的财物
- B.一方在婚前接受继承而于婚后实际取得的财产
- C.夫妻分居两地分别管理、使用的婚后所得财产
- D.婚后一方所得的奖金

解析：

参考答案：B

[解析] 单定义判断肯定。根据题干定义，夫妻个人财产的划分是按照法律规定或当事人的约定。四个选项没有涉及当事人的约定财产，都属于依照法律划分的财产。依照法律规定，B项中一方在婚前继承的财产属于法定个人财产、婚前财产，属于夫妻个人财产。故选B。

56、

根据我国《刑法》规定，凡在我国领域内的犯罪__。

- A.一律适用我国刑法
- B.除法律有特别规定外，都适用我国刑法
- C.我国公民适用我国刑法
- D.所有达到刑事责任年龄的公民一律适用我国刑法

解析：

参考答案：B

[解析] 我国《刑法》第6条规定：凡在中华人民共和国领域内犯罪的，除法律有特别规定的以外，都适用本法。也就是说原则上在我国领域内发生的犯罪应适用我国刑法，但也有例外情况。如享有外交特权和豁免权的外国人的刑事责任，就需要通过外交途径解决。但适用我国刑法的并不限于我国公民。由此可知最严谨的表述为B项。

57、

与常规的计算机相比，生物计算机具有密集度高的突出优点。_____用DNA分子制成生物电子元件，将比硅芯片上的电子元件要小得多，_____可小到几十亿分之一米。_____，生物芯片本身具有天然独特的立体化结构，其密度要比平面型硅集成电路高10万倍。

填入横线部分最恰当的一项是__。

- A.由于 甚至 所以

- B.只是 也许 可见
- C.如果 甚至 而且
- D.虽然 也许 然而

解析：

参考答案：C

[解析] 根据第二句中的“将”可推断本句应是假设关系，只有C项符合，将C项代入文中，可知符合文意。

58、

程序设计语言的理论，包括对其语法和语义的研究，只有清楚地了解程序设计的语法和语义，才能正确实施和使用语言，也才能正确评价语言的优劣。因此，程序设计语言理论是设计、实施和使用程序设计语言的理论基础。

这段话中“包括对其语法和语义的研究”一句中，“其”指代的是__。

- A.程序设计语言
- B.程序设计语言理论
- C.程序正确性理论
- D.程序设计语言的语法和语义

解析：

参考答案：A

[解析]

A、B容易混淆，“程序设计语言的理论”对应“包括对其语法和语义的研究”，“理论”对应“研究”，“程序设计语言”对应“对其语法和语义”，所以“其”指代的是“程序设计语言”。

59、

一堆桃子，5个5个地分，剩余3个；7个7个地分，剩余2个，则这堆桃子的个数最小为__。

- A.23
- B.19
- C.41
- D.31

解析：

参考答案：A

60、

我国是海洋大国，海岸线漫长，管辖海域广袤，海洋资源丰富。维护国家海权、发展海洋事业是关系民族生存发展、关系国家安危的重大战略课题。党的十九大报告提出，坚持陆海统筹，加快建设海洋强国

。这为我国海洋事业发展指明了方向。而加快建设海洋强国，需要完善海洋法律体系，维护海权、发展海权。

这段文字意在强调：_____

- A.维护海权是关乎国家安危的战略课题
- B.建设海洋强国需完善海洋法律体系
- C.我国必须从海洋大国走向海洋强国
- D.促进海洋经济发展，实现以海强国

解析：

参考答案：B

[解析]

文段首先指出我国是海洋大国，然后论述了维护国家海权的重要意义，最后指出建设海洋强国需要完善海洋法律体系。末句加快建设海洋强国的对策为文段重点，B项与此相符。A项是文段论述的部分内容，非文段重点，排除；C项“必须”表述绝对，排除；D项“海洋经济”无中生有，排除。故本题选B。

61、

甲容器中有浓度为4%的盐水150克，乙容器中有某种浓度的盐水若干，从乙中取出450克盐水，放入甲中混合成浓度为8.2%的盐水，那么乙容器中的浓度是__。

- A.9.6%
- B.9.8%
- C.9.9%
- D.10.1%

解析：

参考答案：A

[解析] 设乙容器中的盐水浓度为x，则可列式 $\frac{150 \times 4\% + 450x}{150 + 450} = 8.2\%$ ，解得=9.6%。

62、

“入世”以来，中国加大了与国际市场的融合。金融市场开放让中国不能再像亚洲金融危机时那样_____。面对危机，中国沉着冷静，努力将此次冲击化作调整和发展的_____。

依次填入划横线部分最恰当的一项是_____。

- A.束手无策 机遇
- B.独善其身 契机
- C.毫发无损 动力
- D.自行其是 起点

解析：

参考答案：B

[解析]

以上内容仅为本文档的试下载部分，为可阅读页数的一半内容。如要下载或阅读全文，请访问：<https://d.book118.com/515023032030011343>