

目录

01 夯实基础

02 能力提升

第三章 中国的自然资源

第二节 土地资源

夯实基础

读我国部分土地利用类型构成示意图（图K3-2-1），完成1~2题。

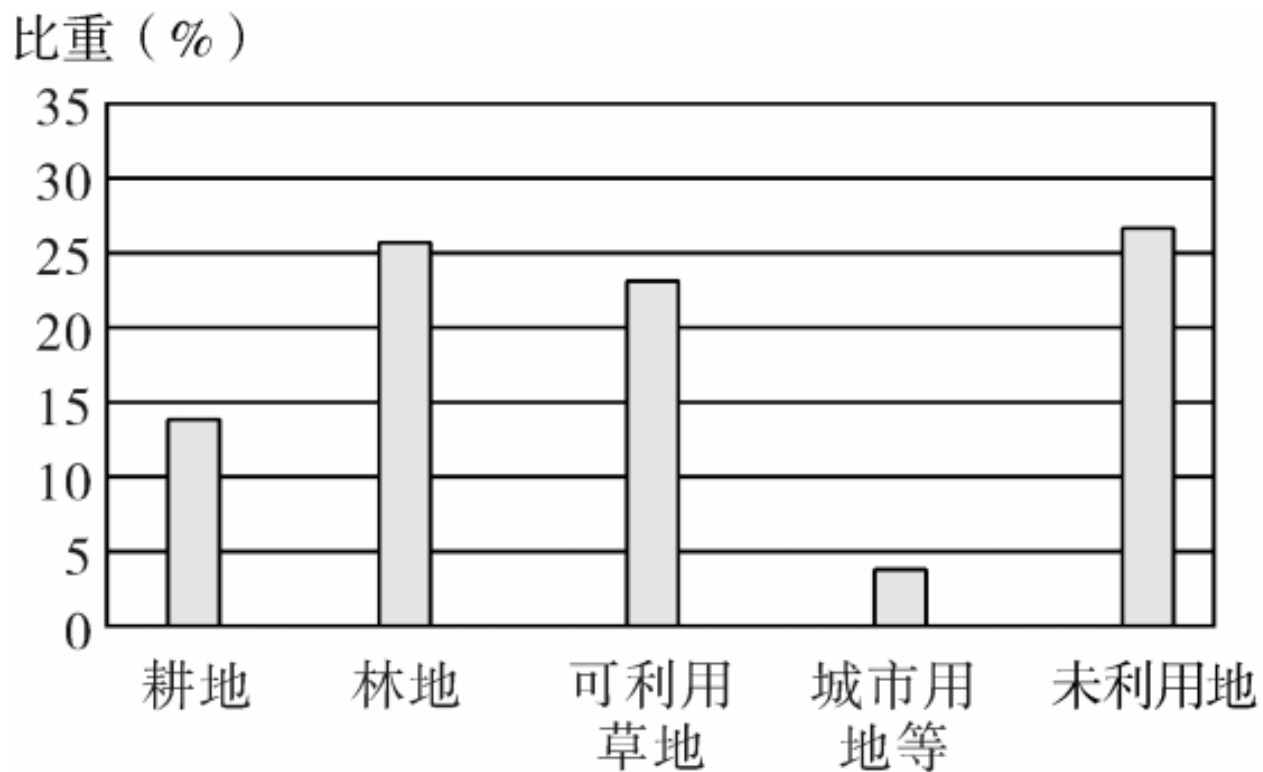


图 K3 - 2 - 1

1. 关于我国土地利用类型的特点，下列描述不正确的是

(**B**)

A. 类型齐全

B. 耕地面积最大

C. 有利于发展畜牧业

D. 难以利用的土地比重较大

2. 针对土地利用类型的构成特点，下列做法不恰当的是

(**D**)

A. 切实保护耕地

B. 科学种田，提高单位面积产量

C. 提高土地综合生产能力

D. 陡坡开荒，种植农作物

读我国土地利用类型分布示意图（图K3-2-2），完成3

~6题。

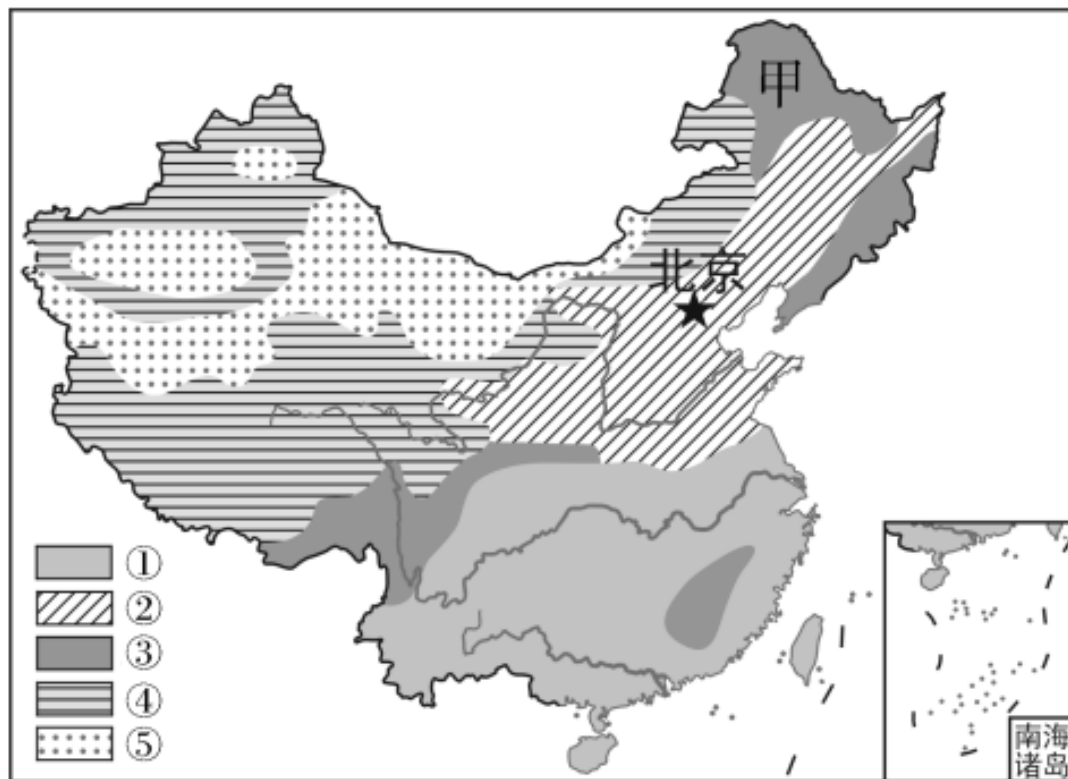


图 K3 - 2 - 2

3. 与图中①②土地利用类型的分界线大致吻合的是 (C)

A. 200毫米年等降水量线

B. 400毫米年等降水量线

C. 800毫米年等降水量线

D. 1 600毫米年等降水量线 A

4. ①代表的土地利用类型是 ()

A. 水田

B. 旱地

C. 草地

D. 林地

5. 从因地制宜的角度出发，甲地最适宜发展的农业是

(C)

A. 种植业

B. 畜牧业

C. 林业

D. 水产养殖

6. 下列举措有利于保护④土地利用类型的是 (B)

A. 推行轮耕制度

B. 适度放牧

C. 少使用纸质贺卡

D. 植树造林

图K3-2-3读漫画《祸从口出》（图K3-2-3），完成7~8题。




图 K3 - 2 - 3

7. 该图反映的主要环境问题是 (**D**)

A. 水土流失

B. 草场退化

C. 全球变暖

D. 土地荒漠化

8. 下列能改善图中反映问题的主要措施有 (**A**)

①因地制宜发展农业生产 ②推广使用滴灌技术 ③大规模开采地下水 ④植树种草

A. ①②④

B. ①②③

C. ①③④

D. ②③④

9. 随着经济的发展，今后我国人地矛盾会进一步加剧，原因是（ C ）

①可垦荒地少，耕地后备资源不足 ②大规模植树造林，耕地面积迅速减少 ③人口基数大，随着人口增长，对耕地的需求量增加 ④建设用地将不断增多

A. ①②④

B. ①②③

C. ①③④

D. ②③④

以上内容仅为本文档的试下载部分，为可阅读页数的一半内容。如要下载或阅读全文，请访问：
<https://d.book118.com/518010064016007002>