

## 2023 年湖南省张家界市中考历史真题

### 温馨提示：

本学科试卷共两道大题，满分 60 分。历史和道德与法治同堂考试，考试时量共 120 分钟。

一、选择题（本大题 24 个小题，每小题 1 分，共 24 分。每小题只有一个正确答案，请将每小题正确答案的英文字母代号填涂在答题卡相应位置上）

1. 传说图中供奉的人物教民开垦耕种，制作生产工具，种植五谷和蔬菜；还制作陶器，发明纺织，会煮盐，教人们交换物品。该人物是（ ）



A. 黄帝

B. 炎帝

C. 大禹

D. 蚩尤

2. 春秋战国时期是社会大动荡时期，也是学术思想非常活跃的时期，各种学说蓬勃兴起。其中属于儒家思想的是（ ）

A. “无为而治”

B. “兼爱”“非攻”

C. “以法治国”

D. “仁”“为政以德”

3. 汉武帝时期颁布“推恩令”，规定诸侯王除以嫡长子继承王位外，可将封地再次分封给其子弟作为侯国，由皇帝制定封号。“推恩令”的实行（ ）

A. 增强了地方的权力

B. 开创了地方行政基本模式

C. 明确了中央机构的职权及决策程序

D. 大大加强了中央对地方的控制

4. 某同学在复习中国历史时，制作了如图知识卡片。该同学复习的主题是（ ）

★742 年，北方与南方人口比例为 3：2；1080 年比例为 2：5

★谚语：“苏湖熟，天下足”

★江南地区成为我国制瓷业中心

★中央的财政收入主要来自南方，特别是东南地区

A. 海外贸易繁盛

B. 水稻产量增加

C. 经济重心南移

D. 都市经济繁荣

5. “……三十功名尘与土，八千里路云和月……待从头、收拾旧山河，朝天阙。”“醉里挑灯看剑，梦回吹角连营。八百里分麾下炙，五十弦翻塞外声，沙场秋点兵……”岳飞、辛弃疾在各自的词中表达的共同情感是（ ）

- A. 豪迈的报国之情  
B. 浓郁的思乡之情  
C. 飘逸的山水之情  
D. 凄婉的惜别之情

6. 中国古代科技领先世界，其科技成就主要集中在农学、天文学、医学、数学等领域。这反映出我国古代科技的重要特点是（ ）

- A. 开放性  
B. 实用性  
C. 理论性  
D. 实验性

7. 民间曾流传过这样一段歌谣：“中国若是古希腊，湖南就是斯巴达；中国若是德意志，湖南就是普鲁士。若要中国真灭亡，除非湖南人全死光。”这首歌谣充分反映了湖南人在中国近代史上的地位和作用。下列人物与歌谣相符的是（ ）

①黄兴 ②曾国藩 ③左宗棠 ④康有为 ⑤谭嗣同 ⑥孙中山

- A. ①②③④  
B. ①②③⑤  
C. ③④⑤⑥  
D. ①②⑤⑥

8. 新民主主义革命时期，中国共产党把马克思列宁主义和中国实际相结合，形成了“毛泽东思想”。将“毛泽东思想”确立为中国共产党指导思想的会议与下图对应的是（ ）



- A. 中共一大会址  
B. 古田会议会址  
C. 遵义会议会址  
D. 中共七大会址

9. “睡到了半夜过，门口嘛在过兵……大家都不要怕，这是嘛贺龙军……”这是反映湘鄂川黔革命根据地军民鱼水情深的一首民歌。1935年11月19日，贺龙、任弼时领导这支军队开始长征，其出发地是（ ）

- A. 永定区  
B. 武陵源区  
C. 慈利县  
D. 桑植县

10. 某校学生暑期去西安研学旅行，导游在介绍华清池时说道：“1936年12月12日，曾在这里发生了一场震惊中外的大事件……”该事件和平解决的重要影响是（ ）

- A. 标志着新民主主义革命的开端  
B. 打响了武装反抗国民党反动统治第一枪  
C. 抗日民族统一战线初步形成

## D. 中国全民族抗战开始

11. “钟山风雨起苍黄，百万雄狮过大江。虎踞龙盘今胜昔，天翻地覆慨而慷。宜将剩勇追穷寇，不可沽名学霸王。天若有情天亦老，人间正道是沧桑。”该诗反映的历史事件是（ ）

- A. 南京解放                      B. 挺进大别山                      C. 百团大战                      D. 淞沪会战

12. 在历史学习中，我们要学会在具体的时空条件下考察历史。下列历史事件按时间先后顺序排列，正确的是（ ）

①中国加入世界贸易组织    ②抗美援朝    ③十一届三中全会    ④香港回归    ⑤中共十八大

- A. ①②③④⑤                      B. ⑤③①②④                      C. ②③④①⑤                      D. ②①③④⑤

13. 他是国际知名的火箭专家，于1955年冲破重重阻力回到祖国，参与组织领导了中国运载火箭、导弹、卫星的研制和试验工作，为中国航天事业的发展作出了巨大贡献。“他”是下图中的（ ）



A. 焦裕禄

B. 王进喜

C. 钱学森

D. 屠呦呦

14. 在日常生活中，我们常常接触到“因果报应”“生死轮回”“众生平等”“大慈大悲”“忍耐顺从”等词语。这些词语来源于公元前6世纪创立的（ ）

- A. 基督教                      B. 佛教                      C. 道教                      D. 伊斯兰教

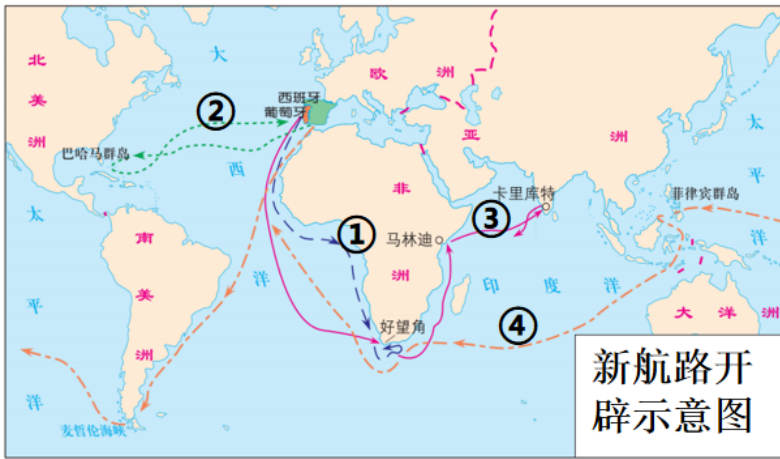
15. 欧洲中世纪常常被认为是最黑暗的时代，但在这黑暗之中也盛开了“最美好的花朵”。“最美好的花朵”指的是（ ）

- A. 城市的自治                      B. 庄园法庭的建立  
C. 大学的兴起                      D. 工商业的繁荣

16. 2022年12月9日，习近平总书记出席中国——阿拉伯国家峰会，并指出：中阿互相欣赏，互学互鉴，共同倡导文明对话，守护世界文明多样性。下列属于阿拉伯文化的是（ ）

- A. 象形文字、太阳历、金字塔  
B. 《医典》、《天方夜谭》、阿拉伯数字  
C. 《汉谟拉比法典》、楔形文字、空中花园  
D. 《荷马史诗》、《十二铜表法》、帕特农神庙

17. 当今世界全球化趋势不断加强，有学者认为全球化始于如图所示的新航路开辟。第一次完成环球航行的航线是图中的（ ）



A. ①

B. ②

C. ③

D. ④

18. “一壶开水使瓦特认识了蒸汽的伟大，一只苹果使牛顿悟出了地心引力。”牛顿在天文学、力学等领域都有杰出贡献。下列属于牛顿的具有划时代意义的科学巨著是（ ）

A. 《物种起源》

B. 《自然哲学的数学原理》

C. 《共产党宣言》

D. 《资本论》

19. 19 世纪初，拉美国家赢得了民族独立，由从前专制王权殖民统治下的一个个辖区，创建了一系列民族国家，成为了现代化的发展实体。下列领导拉美获得民族独立的人物是（ ）

A. 圣马丁、玻利瓦尔

B. 章西女王、甘地

C. 扎格鲁尔、曼德拉

D. 卡德纳斯、卡斯特罗

20. 19 世纪 60 年代，俄国进行了农奴制改革，日本实行了明治维新。它们的共同影响是（ ）

A. 开启了近代化进程

B. 建立了联邦制共和国

C. 彻底废除了农奴制

D. 走上了发展资本主义的道路

21. 马克思主义诞生后，国际共产主义运动蓬勃发展。1871 年 3 月，法国无产阶级和人民群众举行武装起义，建立了世界上第一个无产阶级政权。该政权是（ ）

A. 巴黎公社

B. 第一国际

C. 苏维埃政府

D. 共产国际

22. 第二次世界大战是由亚洲到欧洲，由北非到地中海再到太平洋，由局部战争再到全球战争的过程。其转折点是（ ）

A. 凡尔登战役

B. 莫斯科保卫战

C. 斯大林格勒保卫战

D. 诺曼底登陆

23. 二战后的 40 年间，以美、苏为首的两大集团之间既非战争又非和平的对峙与竞争状态，被称为“冷战”。“冷战”开始的标志是（ ）

A. 杜鲁门主义出台

B. 马歇尔计划实施

C. “北约”成立

D. “华约”成立

24. 当今世界的基本特点是：世界多极化、经济全球化、社会信息化、文化多样化。但美国却逆潮流而动，成为世界最大的“乱源”，其表现有（ ）

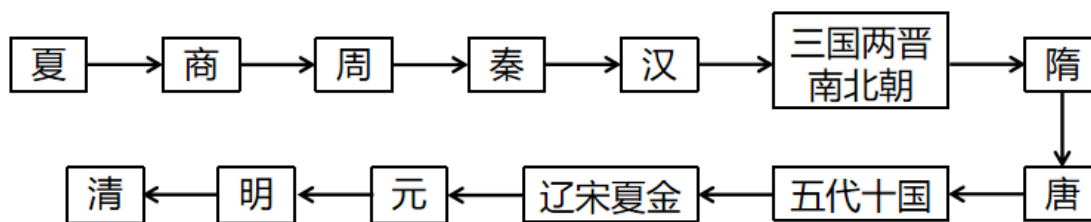
- ①发动伊拉克战争    ②轰炸“南联盟”    ③发动“贸易战”  
④打压华为和 TikTok（抖音）    ⑤发动“911”事件

A. ②③④⑤                      B. ①②③⑤                      C. ①②③④                      D. ①②④⑤

二、非选择题（本大题3个小题，25题12分，26题12分，27题12分，共36分。请将每小题正确答案填写在答题卡指定的位置上）

25. 阅读材料，回答下列问题。

材料一



中国古代朝代线索图

（1）根据材料一，结合所学知识，指出中国历史上第一个统一多民族封建国家的名称。中国历史上由少数民族建立的全国性统一王朝是哪两个？

材料二 魏晋南北朝时期，各民族之间加强了交往、交流与交融，区域的开发尤其是南方经济得到发展，科技文化有着显著的进步，这些都为新的统一局面的出现奠定了基础……唐朝前期政治开明，经济发展，在民族关系、对外交流等多方面都有很大的建树，呈现出繁荣、富强的盛唐景象，成为当时世界上具有影响力的强大国家。

——摘编自人教版七年级中国历史

（2）根据材料二，结合所学知识，指出魏晋南北朝时期有利于民族交融的重大改革名称。其有利于各民族“交往、交流与交融”的措施有哪些？唐朝“在民族关系上有很大的建树”，其处理民族关系的方式有哪些？

材料三




图 1 荷兰殖民者的投降书



图 2 台湾光复

(3) 图 1 中从荷兰殖民者手中收复台湾的民族英雄是谁？图 2 是哪场战争胜利的重大成果？

(4) 综上所述，谈谈你对民族交融与国家统一的认识。

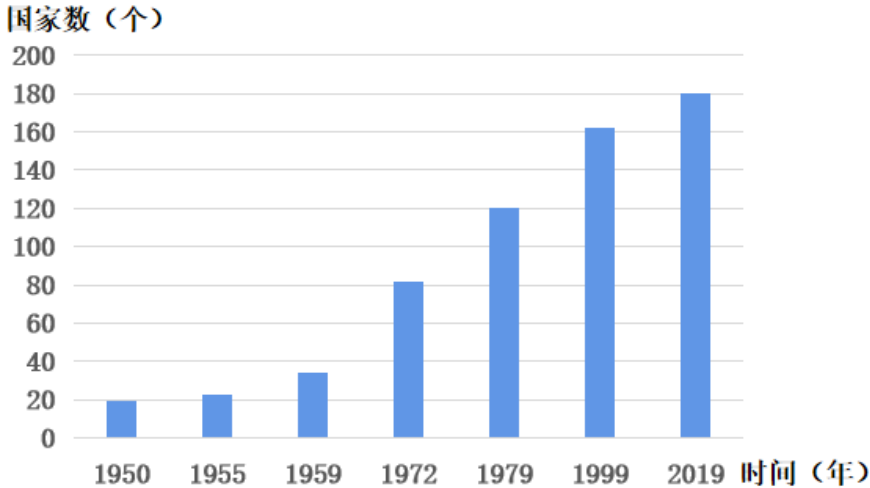
26. 阅读材料，回答下列问题。

材料一 中国近代史上的不平等条约的列表（部分）

不平等条约名称	主要内容（节选）	对中国的重要影响
《南京条约》	开放广州、福州、厦门、宁波、上海五处为通商口岸	①
②	允许日本在通商口岸开设工厂	大大加深了中国半殖民地化程度
《辛丑条约》	清政府赔款白银 ③ 两，分 39 年还清	中国完全陷入半殖民地半封建社会的深渊
《九国公约》	建立并维护各国在中国的商务实业机会均等原则	④

(1) 根据材料一，结合所学知识，将表格内容补充完整。

材料二



建国以来与我国建交的国家数量变化柱状图

（2）根据材料二，指出与我国建交的国家数量变化趋势。新中国成立后我国一直奉行的外交政策是什么？推动七十年代我国出现建交高潮的重大外交事件有哪些？

材料 2023年4月6日，在中国积极斡旋下，中国、沙特和伊朗三国在北京发表三方联合声明，这对中东宿敌正式复交。

——摘编自新华网

（3）根据材料三，结合所学知识，为建立公正、和平、包容、发展的国际新秩序，二十一世纪以来中国贡献了哪些智慧和方案？（请举两例子以说明）

（4）综上所述，谈谈中国近现代史上外交地位发生了怎样的变化？影响国家外交政策的主要因素有哪些？

27. 阅读材料，回答下列问题。

材料 近代化（也指现代化），指工业革命以来人类社会所发生的深刻变化，这种变化包括从传统经济向现代经济，传统社会向现代社会，传统政治向现代政治，传统文明向现代文明等各个方面的转变。它包括政治上的民主化、法制化，经济上的工业化、商品化，思想上的理性化、科学化。

——摘编自百度百科

（1）根据材料，结合所学知识，指出近代英、法、美为实现“政治民主化、法制化”分别颁布的重要法律文献。它们实现“经济工业化”的标志性事件是什么？

（2）围绕“近代化（现代化）”自拟论题，结合材料和所学知识予以论述。（要求：观点明确，史论结合，条理清晰，字数在200字左右）

## 2023 年湖南省张家界市中考历史真题

### 温馨提示：

本学科试卷共两道大题，满分 60 分。历史和道德与法治同堂考试，考试时量共 120 分钟。

一、选择题（本大题 24 个小题，每小题 1 分，共 24 分。每小题只有一个正确答案，请将每小题正确答案的英文字母代号填涂在答题卡相应位置上）

1. 传说图中供奉的人物教民开垦耕种，制作生产工具，种植五谷和蔬菜；还制作陶器，发明纺织，会煮盐，教人们交换物品。该人物是（ ）



- A. 黄帝                      B. 炎帝                      C. 大禹                      D. 蚩尤

【答案】B

【解析】

【详解】据所学可知，传说中炎帝教民开垦耕种，制作生产工具，种植五谷和蔬菜；制作陶器，发明纺织，会煮盐，教人们通商交换。制作乐器琴瑟，有最早的图文和历法知识，B 项正确；传说中，黄帝教人们建造宫室，制作衣裳，挖掘水井，制造船只，教人炼铜，发明了弓箭和指南车，排除 A 项；传说中，大禹用疏导的方法解决了黄河的水患，排除 C 项；蚩尤，是传说中制造兵器的人，排除 D 项。故选 B 项。

2. 春秋战国时期是社会大动荡时期，也是学术思想非常活跃的时期，各种学说蓬勃兴起。其中属于儒家思想的是（ ）

- A. “无为而治”                      B. “兼爱”“非攻”  
C. “以法治国”                      D. “仁”“为政以德”

【答案】D

【解析】

【详解】根据所学可知，孔子是儒家学派的创始人，他的核心思想是“仁”，政治上提倡以德治国，主张“为政以德”，D 项正确；“无为而治”是道家学派创始人老子的政治主张，“兼爱”“非攻”是墨家学派创始人墨子的主张，“以法治国”是法家学派集大成者韩非子的主张，均不属于儒家思想，排除 ABC 三项。故选 D 项。



3. 汉武帝时期颁布“推恩令”，规定诸侯王除以嫡长子继承王位外，可将封地再次分封给其子弟作为侯国，由皇帝制定封号。“推恩令”的实行（ ）

- A. 增强了地方的权力  
B. 开创了地方行政基本模式  
C. 明确了中央机构的职权及决策程序  
D. 大大加强了中央对地方的控制

【答案】D

【解析】

【详解】据所学可知，汉武帝采纳主父偃的建议，实行推恩令，下诏允许诸侯王除以嫡长子继承王位外，可将封地再次分封给其他子弟作为侯国，由皇帝制定封号；武帝又找各种借口削爵、夺地甚至除国，严厉镇压他们的叛乱。加强了中央集权，D项正确；题干措施削弱了地方的权力，排除A项；郡县制开创了地方行政基本模式，排除B项；题干反映的是中央对地方统治的加强与中央机构的决策无关，排除C项。故选D项。

4. 某同学在复习中国历史时，制作了如图知识卡片。该同学复习的主题是（ ）

- ★742年，北方与南方人口比例为3：2；1080年比例为2：5
- ★谚语：“苏湖熟，天下足”
- ★江南地区成为我国制瓷业中心
- ★中央的财政收入主要来自南方，特别是东南地区

- A. 海外贸易繁盛  
B. 水稻产量增加  
C. 经济重心南移  
D. 都市经济繁荣

【答案】C

【解析】

【详解】据题干卡片内容“1080年比例为2：5；‘苏湖熟，天下足’；江南地区成为我国制瓷业中心；中央的财政收入主要来自南方，特别是东南地区”可知，宋朝时期，南方人口超过了北方，南方成为农业、手工业等的中心，这些都说明经济重心南移，C项正确；题干未涉及海外贸易，排除A项；“苏湖熟，天下足”并不能说明水稻产量增加，排除B项；都市经济繁荣与题干内容无关，排除D项。故选C项。

5. “……三十功名尘与土，八千里路云和月……待从头、收拾旧山河，朝天阙。”“醉里挑灯看剑，梦回吹角连营。八百里分麾下炙，五十弦翻塞外声，沙场秋点兵……”岳飞、辛弃疾在各自的词中表达的共同情感是（ ）

- A. 豪迈的报国之情  
B. 浓郁的思乡之情  
C. 飘逸的山水之情  
D. 凄婉的惜别之情

【答案】A

【解析】

【详解】根据题干信息可知，岳飞、辛弃疾的词中，都表达了豪迈的报国之情，A项正确；浓郁的思乡之情、飘逸的山水之情、凄婉的惜别之情，都与岳飞、辛弃疾在各自的词中表达的共同情感无关，排除BCD项。故选A项。

6. 中国古代科技领先世界，其科技成就主要集中在农学、天文学、医学、数学等领域。这反映出我国古代科技的重要特点是（ ）

- A. 开放性                      B. 实用性                      C. 理论性                      D. 实验性

【答案】B

【解析】

【详解】根据所学可知，中国古代是农业文明，由于农业生产的需要，产生了农学、天文学、医学、数学，这体现出我国古代科技的重要特点是实用性，B项正确；中国古代科技是在独立自主的基础上产生并发展的，不能体现开放性，排除A项；中国古代科技以技术为主，没有产生系统的理论，排除C项；中国古代科技以生产为基础产生，不是以实验为基础产生，不能体现实验性，排除D项。故选B项。

7. 民间曾流传过这样一段歌谣：“中国若是古希腊，湖南就是斯巴达；中国若是德意志，湖南就是普鲁士。若要中国真灭亡，除非湖南人全死光。”这首歌谣充分反映了湖南人在中国近代史上的地位和作用。下列人物与歌谣相符的是（ ）

- ①黄兴    ②曾国藩    ③左宗棠    ④康有为    ⑤谭嗣同    ⑥孙中山

- A. ①②③④                      B. ①②③⑤                      C. ③④⑤⑥                      D. ①②⑤⑥

【答案】B

【解析】

【详解】据题干“若要中国真灭亡，除非湖南人全死光。”可知，湖南人为挽救民族危机，不怕牺牲，敢于斗争。结合所学可知，①黄兴、②曾国藩、③左宗棠、⑤谭嗣同都是湖南人，他们为挽救民族危机做出了巨大的贡献，B项正确；④康有为、⑥孙中山都是广东人，与湖南不符，④和⑥与题意不符，排除ACD项。故选B项。

8. 新民主主义革命时期，中国共产党把马克思列宁主义和中国实际相结合，形成了“毛泽东思想”。将“毛泽东思想”确立为中国共产党指导思想的会议与下图对应的是（ ）



- A. 中共一大会址  
B. 古田会议会址  
C. 遵义会议会址  
D. 中共七大会场

【答案】D

【解析】

【详解】根据所学可知，1945年召开的中共七大确立毛泽东思想为中国共产党的指导思想并写入党章，D项正确；中共一大召开于1921年，标志着中国共产党的诞生，是中国历史上开天辟地的大事变，古田会议召开于1929年，确立了“思想建党，政治建军”的建党建军原则，遵义会议召开于1935年，在极其危急的情况下挽救了党，挽救了红军，挽救了中国革命，是中国共产党历史上一个生死攸关的转折点，均与题意不符，排除ABC三项。故选D项。

9. “睡到了半夜过，门口嘛在过兵……大家都不要怕，这是嘛贺龙军……”这是反映湘鄂川黔革命根据地军民鱼水情深的一首民歌。1935年11月19日，贺龙、任弼时领导这支军队开始长征，其出发地是

( )

- A. 永定区                      B. 武陵源区                      C. 慈利县                      D. 桑植县

【答案】D

【解析】

【详解】根据题干材料中的“贺龙”“长征”，结合所学可知，当时贺龙元帅率领的是红二方面军，他们开始长征的出发地是湖南省桑植县，D项正确；永定区、武陵源区、慈利县和桑植县都是湖南省张家界市的下辖区县，但贺龙元帅率领红二方面军开始长征的地方是他的家乡桑植县，而不是永定区、武陵源区、慈利县，排除ABC三项。故选D项。

10. 某校学生暑期去西安研学旅行，导游在介绍华清池时说道：“1936年12月12日，曾在这里发生了一场震惊中外的大事件……”该事件和平解决的重要影响是 ( )

- A. 标志着新民主主义革命的开端  
B. 打响了武装反抗国民党反动统治第一枪  
C. 抗日民族统一战线初步形成  
D. 中国全民族抗战开始

【答案】C

【解析】

【详解】根据材料“1936年12月12日，曾在这里发生了一场震惊中外的大事件……”结合所学可知，1936年12月12日爆发西安事变，这件事的和平解决，标志着国共由内战到合作，抗日民族统一战线初步形成，C项正确；1919年爆发的五四运动，标志着新民主主义革命的开端，排除A项；1927年的打响了武装反抗国民党反动统治第一枪，排除B项；1937年的七七事变标志着中国全民族抗战开始，排除D项。故选C项。

以上内容仅为本文档的试下载部分，为可阅读页数的一半内容。如要下载或阅读全文，请访问：<https://d.book118.com/518073016135006036>