







SOLD

@备考首选

通关无忧 轻松拿下考试

-  基础阶段—专业知识
-  刷题阶段—重点题库
-  冲刺阶段—押题点睛
-  考点覆盖—精编习题
-  紧扣考纲—直击考点
-  历年真题—押题抢分

本封面内容仅供参考，实际内容请认真预览本电子文本

祝您考试顺利

循环呼吸系统测试题库及答案

1、女性，36 岁。心慌、心悸 2 月。心电图提示频发室性期前收缩，6-8 次/分，下列哪项与愈后密切相关：

- A、频发，多源，成对室性期前收缩
- B、休息时增多，活动时减少
- C、基础心脏病
- D、室性期前收缩来源于右心室
- E、舒张晚期的室性期前收缩

答案：C

2、呼吸系统的功能除外：

- A、呼吸功能
- B、消化功能
- C、防御功能
- D、神经内分泌功能
- E、代谢功能

答案：B

3、50 岁女性患者，因胃穿孔行胃大部切除术，术后腹腔感染，已高热 3 日，呼吸 32 次/分，鼻翼煽动，紫绀，双肺底可闻及少许细小湿性罗音，心率 120 次/分，动脉血气分析： $PH7.48$ ， $PaO_2:22:0\ 6.24kPa(48mmHg)$ $PaCO_2:22:0\ 3.25kPa(25mmHg)$ 。为确定急性呼吸衰竭原因，应立即做哪一项检查？

- A、床边胸部 X 线检查
- B、超声心动图
- C、血细菌培养
- D、胸部 CT 检查
- E、心电图

答案：A

4、肝硬化不应有上述哪项表现？

- A、颈静脉怒张
- B、腹水
- C、肝大
- D、下肢浮肿
- E、以上均有 下列疾病可能出现

答案：A

5、高血压病最常见的死亡原因是：

- A、尿毒症
- B、高血压危象
- C、脑溢血
- D、合并冠心病
- E、心功能不全

答案：C

6、男性 45 岁,近半月来右胸痛、轻咳、低热、乏力、气短逐月加重,体查:气管左移,右锁骨上淋巴结肿大,叩诊右胸实音,呼吸音消失,胸水为血性,为进一步确诊,下列哪项检查最有意义?

- A、胸水脱落细胞检查
- B、胸水常规检查
- C、胸水结核菌检查
- D、胸水 LDH 检查
- E、胸水及血清癌胚抗原检查

答案：A

7、男性,65 岁,干部,剧烈头痛,伴有恶心呕吐半天入院,血压 34.58/17.29kPa ((260/130mmHg),神志尚清,四肢活动正常

- A、 β -受体阻滞剂
- B、双氢克尿塞
- C、血管紧张素转换酶抑制剂
- D、硝普钠
- E、复方降压片 以下病例治疗时首选上述哪种药物?

答案：D

8、下列哪种情况可以拟诊冠心病?

- A、40 岁以上男性阵发性心悸憋气
- B、可疑心绞痛
- C、血脂增高
- D、高血压,心悸,气促
- E、心电图明显心肌缺血表现

答案：E

9、下述哪种副作用可能是由于利多卡因引起

- A、恶心,腹痛,腹泻和血小板减少
- B、心动过缓,低血压和角膜微沉积
- C、感觉异常精神错乱和惊厥
- D、心动过缓和支气管痉挛

E、视力模糊，尿潴留和便秘

答案：C

10、原发性心肌病诊断的主要依据是

A、典型病史

B、超声心动图检查

C、严重心律失常及心脏扩大

D、放射性核素检查

E、综合临床资料及排它性诊断

答案：E

11、25 岁女性，突然发热，咳嗽，流涕，两周后热退，出现胸闷，心率 110 次/分，气短，心电图示低电压，T 波低平，左束支传导阻滞，室性早搏，应首先考虑

A、急性心包炎

B、扩张型心肌病

C、病毒性心肌炎

D、风湿性心肌炎

E、风湿性心脏病

答案：C

12、下列哪项对诊断主动脉瓣狭窄没有帮助

A、主动脉瓣区粗糙，响亮的收缩期杂音伴震颤

B、主动脉瓣区第二心音减弱

C、收缩压增高，舒张压降低，脉压增大

D、心脏呈靴形扩大

E、X 线胸片示：左心室肥大，升主动脉增宽

答案：C

13、女性，23 岁，因风心病二尖瓣双病变首次就诊，查体：心脏大，心率快，肝大，脚肿，ECG 示：快速房颤，最佳治疗是

A、地高辛

B、西地兰静脉注射

C、心得安

D、强的松

E、乙胺碘呋酮口服

答案：B

14、吗啡用于

A、劳累型心绞痛

以上内容仅为本文档的试下载部分，为可阅读页数的一半内容。如要下载或阅读全文，请访问：<https://d.book118.com/527161015015006110>