

2022-2023年全国初中七年级下历史人教版月考试卷

考试总分：98分 考试时间：120分钟

学校：\_\_\_\_\_ 班级：\_\_\_\_\_ 姓名：\_\_\_\_\_ 考号：\_\_\_\_\_

一、选择题（本题共计20小题，每题2分，共计40分）

1. 若以“北京地区的原始人群”为题开展综合社会实践活动，你认为最可靠的证据来源应该是（ ）

- A. 记载北京地区的史学著作
- B. 周口店猿人遗址考古发掘
- C. 近现代学者们的研究论述
- D. 关于北京地区的古史传说

2. 人民日报报道：2019年9月29日，“杂交水稻之父”袁隆平被授予共和国勋章，他为解决世界性饥饿问题作出了重要贡献。”而我国早期人工栽培水稻的是（ ）

- A. 河姆渡人
- B. 北京人
- C. 山顶洞人
- D. 半坡人

3. 约公元前2070年，禹结束部落联盟局面，建立了中国历史上第一个王朝（ ）

- A. 夏朝
- B. 商朝
- C. 西周
- D. 东周

4. 为了巩固统治，西周实行了什么制度（ ）

- A. 郡县制
- B. 分封制
- C. 宗法制
- D. 中央集权制

5. 具有“殷、青铜冶炼、甲骨文”这些典型特征的朝代是（ ）

A.夏朝

B.商朝

C.西周

D.东汉

6. 树立时空观念是培养历史学科素养的重要途径。如四幅战国形势图中，七雄地理位置完全正确的一幅是（ ）



A.



B.



C.



D.

7. 春秋时期是我国历史上群雄并起、激烈争霸的时期。其中，率先取得霸主地位的是（ ）

- A. 齐桓公
- B. 晋文公
- C. 楚庄王
- D. 秦穆公

8. 电视剧《封神演义》有这样一个镜头：周武王联合800多个部落击败商朝军队，纣王自焚，商朝灭亡。由此你回忆起的历史事件是（ ）

- A. 牧野之战
- B. 商汤灭夏
- C. 黄炎联盟打败蚩尤部落
- D. 涿鹿之战

9. 著名的水利工程都江堰是在什么时候修建的（ ）

- A. 春秋时期
- B. 东周时期
- C. 夏朝时期
- D. 战国时期

10. 战国时期，有一学派主张：“君主像天，因为他依法行事，公正无私……”这一学派是（ ）

- A. 道家
- B. 墨家
- C. 法家

## D.兵家

11.《史记》记载，秦始皇在咸阳坑儒和赵高以“谋反”罪审讯大臣时，都有御史大夫参加。这是因为秦朝的御史大夫（ ）

- A.掌管军队
- B.负责监察事务
- C.为百官之首
- D.分管行政

12.初三某班的小冉同学以“统一国家的建立”为主题进行探究，下列内容与该主题完全符合的一项是（ ）

- ①秦统一文字，将小篆作为通用文字颁行全国
- ②汉武帝“罢黜百家，独尊儒术”
- ③秦开创行省制，并被后世所沿用
- ④汉武帝实行“推恩令”，加强中央集权

- A.①②③
- B.①②④
- C.②③④
- D.①③④

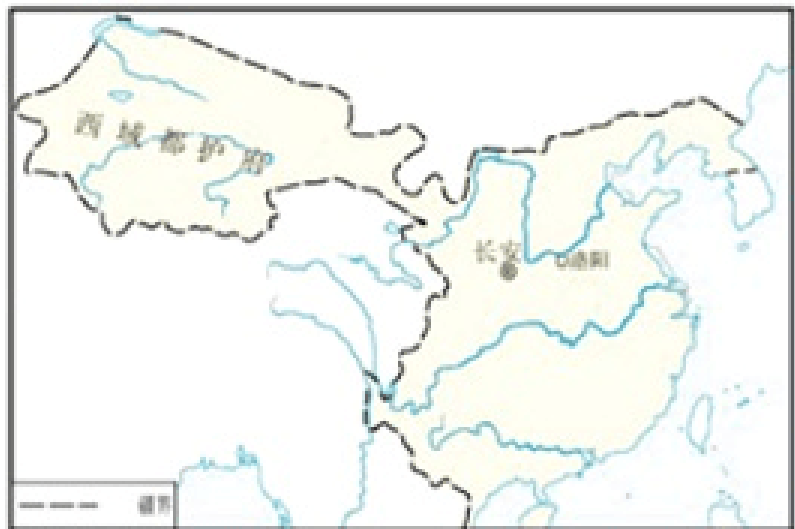
13.西汉建立之初，到处是残破荒凉的景象。人民流离失所，人口锐减，大片的土地荒芜。面对这种社会景象，统治者面临的首要课题是（ ）

- A.提倡节俭
- B.发展农业生产
- C.维护社会稳定
- D.加强中央集权

14.黄仁宇在《中国大历史》中写到：“从现实的角度看来，始皇一死，秦帝国荡然无存……不出十年之内一个新的朝代继之勃兴，兹后延续达四百余年。”使这个“新的朝代”达到鼎盛的帝王是（ ）

- A.汉高祖
- B.汉景帝
- C.汉武帝
- D.汉文帝

15. 观察西汉疆域图。图中的“西域都护府”反映了西汉对哪一地区的有效管辖（ ）



- A. 岭南
- B. 新疆
- C. 蒙古
- D. 西藏

16. 李白有诗云：“二龙争战决雌雄，赤壁楼船扫地空。烈火张天照云海，周瑜于此破曹公。”诗中所指战役的影响是（ ）

- A. 有利于曹操统一北方
- B. 推翻了秦朝残暴统治
- C. 促进了民族大融合
- D. 奠定三国鼎立的基础

17. 读下表，唐朝前期长江流域县城数量变化的主要原因是（ ）

县城数量（单位：座）

区域 \ 时间	东汉后期	唐朝前期
	长江流域	342

- A. 人口大量南迁
- B. 社会安定繁荣
- C. 农业技术成熟
- D. 经济重心南移

18. 小明因高烧26天不退，其母亲通过微信朋友圈求助，希望有“华佗”出手相救。对“华佗”理解正确的是（ ）

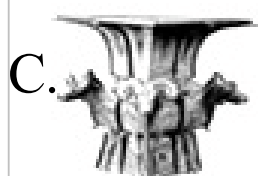
- A. 李女士要请东汉名医来治病

B.微信影响大，能够请到华佗

C.华佗精于针灸，可以出手相救

D.“华佗”代指医术高超的医生

19.如图所示历史文物中能够体现中外文化交汇特点的是（ ）



20.某同学查阅了有关魏晋南北朝、人口南迁、南朝建康的一些历史资料进行主题探究，他探究的主题是（ ）

A.统一国家的建立

B.政权分离与江南开发

C.繁荣与开放的社会

D.民族关系的发展

二、辨析题（本题共计 10小题，每题 1分，共计10分）

21.人和动物有很多的相似之处，而他们的根本区别则在于人能够制造工具。\_\_\_\_\_（判断对错）

22.我国的第一个奴隶制国家夏的建立者是启。\_\_\_\_\_（判断对错）

23.春秋时期，各路诸侯竞相争霸，其中齐桓公、晋文公及黄河流域的吴越两国先后称霸。（ ）

24.秦朝创立了一套中央集权制度，皇帝之下设立丞相、太尉、御史大夫，分别掌管行政、军事和经济事务。\_\_\_\_\_

25.史实公元前212年秦始皇开始营造阿房宫。由于工程浩大，秦始皇在位时只建了座前殿，秦二世

25. 史实公元前212年秦始皇开始营造阿房宫。由于工程浩大，秦始皇在位时只建了座前殿，秦二世胡亥继续修建阿房宫，但秦王朝很快就垮台了。古有童谣唱到：“阿房，阿房，亡始皇”。  
推论：修建阿房宫征调了大量民力，直接引发了陈胜吴广起义，这是秦朝灭亡的重要原因之一。  
\_\_\_\_\_（判断对错）

26. 文景时期，政治清明，经济发展，人民生活安定。这一时期的统治局面，历史上称为“光武中兴”。（ ）

27. 《史记》是中国古代第一部纪传体通史，是西汉史学家司马迁所著。

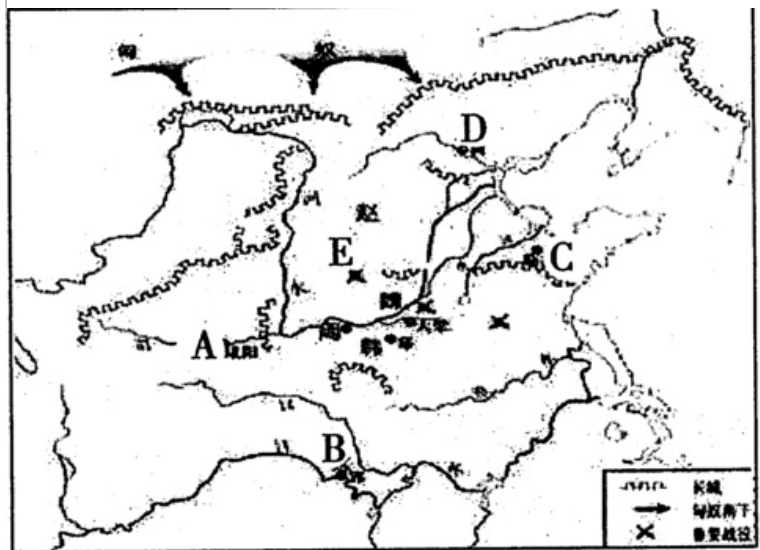
28. 东汉末年的官渡之战为三国鼎立局面的形成奠定了基础。\_\_\_\_\_（判断对错）

29. “苍苍，野茫茫，风吹草低见牛羊”。这是我国北方农耕民族生活的生动写照。（ ）

30. 刘徽运用三国时期祖冲之的方法，把圆周率精确到小数点以后的第7位数字，领先世界近千年。（ ）

### 三、简答题（本题共计 1 小题，共计12分）

31. (12分) 仔细观察下图，结合所学历史回答：



(1) 依据地图所示，判断此图反映了哪一历史时期？

(2) 分别写出图中A、B、C、D所代表的诸侯国名称。（注意：只填写在下列横线上）

A \_\_\_\_\_ B \_\_\_\_\_  
C \_\_\_\_\_ D \_\_\_\_\_

(3) 史书《资治通鉴》是从“三家分晋”开始的历史编著。图中哪三家卿大夫最早瓜分晋国？“诸侯”、“卿大夫”的名称来源于哪种制度？

(4) 写出在E处A国与赵国发生的战役名称。此战后，东方六国再也无力抵御A军的进攻，A军的战斗力如此强大，主要是因为哪一项具体的法令规定？

(5) 最后完成“扫六合”的是哪个诸侯国？其最主要的原因是什么？

(6) 据史书记载，西周初年有800个诸侯国，春秋初年还剩170多个，到图中初期还有十几个诸侯国，最后到公元前221年，实现了“四海一”。从诸侯争霸到归于一统，这一历史现象反映了我国历史发展的什么趋势？

### 四、材料分析题（本题共计 3 小题，每题 12 分，共计36分）

32. 中国封建社会历代统治者都注重通过加强中央集权和地方管理等措施来巩固统治。阅读下列材料，回答问题。

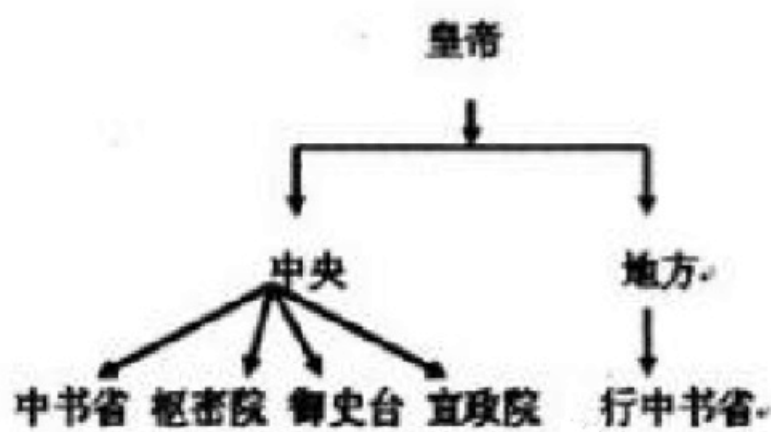
材料一：中国几千年来一直采用君主制，政权归皇帝一人掌握。皇帝具有至高无上的权力，表现为高度的中央集权，这是占主导地位的制度。

——张岂之《中国文明史十五讲》

材料二：



图一



图二

- (1) 材料一中的制度是谁首创的？为加强对地方的统治，他推行了什么制度？
- (2) 依据材料二并结合所学回答，图一、图二反映的政治制度分别是什么？
- (3) 为实行有效统治，元朝还注重加强对边疆地区的管辖。请举出元朝加强边疆管理的两个例子。

33. 阅读下列材料：

材料一 江南地广人希（稀），或（有的地区）火耕水耨（用烧荒和原始的水稻耕作技术从事农业生产）。民食鱼稻，以渔猎山伐为业……无积聚而多贫。

——《史记·货殖列传》

材料二 江南之为国盛矣……地广野丰，民勤本业（本业指农业），一岁或稔（庄稼成熟），则数郡忘饥。……渔盐杞梓之利，充仞八方；丝绵布帛之饶，覆衣天下。

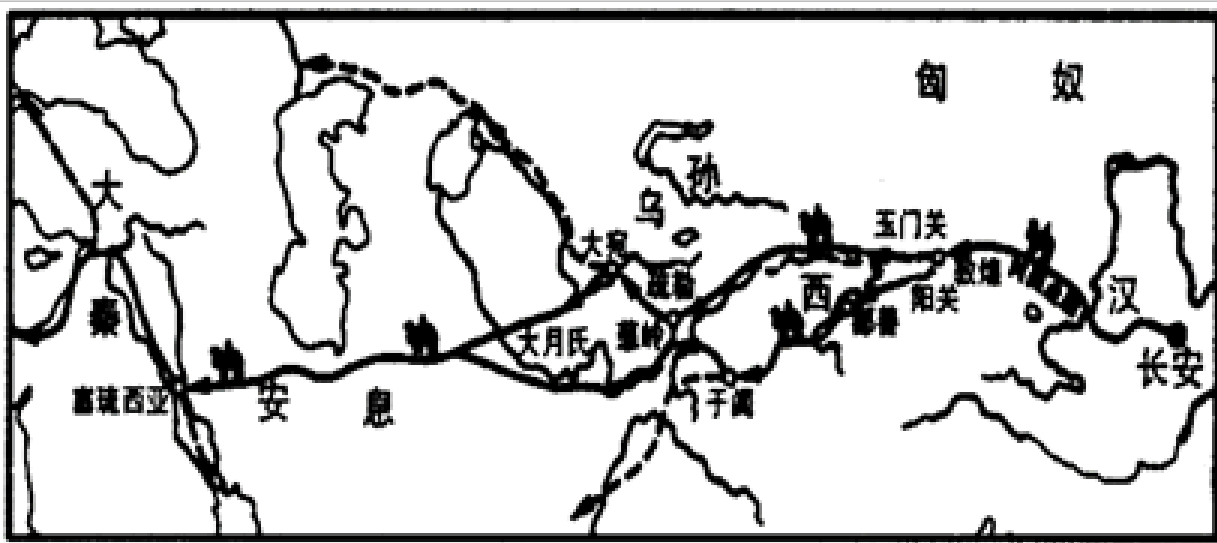
——南朝《宋书》

请回答：

- (1) 材料一反映了江南地区怎样的经济状况？材料二反映了南方经济有什么变化？
- (2) 结合所学知识，请说说魏晋南北朝时期江南地区得到开发的原因有哪些？
- (3) 当前，我国有没有存在人口迁移现象，请举例加以说明。

34. 阅读下列材料，结合所学知识答问。

材料一



材料二



材料三 共建“一带一路”倡议，目的是聚焦互联互通，深化务实合作，携手应对人类面临的各种风险挑战，实现互利共赢、共同发展。……从亚欧大陆到非洲、美洲、大洋洲，共建“一带一路”为世界经济增长开辟了新空间，为国际贸易和投资搭建了新平台，为完善全球经济治理拓展了新实践，为增进各国民生福祉作出了新贡献，成为共同的机遇之路、繁荣之路。

——习近平主席在第二届“一带一路”国际合作高峰论坛开幕式上的演讲

- (1) 请给材料一示意图取一名字，其起点是哪一城市？最远到达哪里在中外交流方面有何重要意义？
- (2) 根据材料二图指出海上航线最主要的有几条？从山东沿岸出发，可到哪几国？从南海等地出发，最远可到达哪些地方？
- (3) 你认为共建“一带一路”倡议产生了什么深远影响？

# 学年全国初中七年级下历史人教版月考 试卷

一、选择题（本题共计 20 小题，每题 2 分，共计 40 分）

【答案】

B

【考点】

北京人

【解析】

本题考查北京人。

【解答】

若以“北京地区的原始人群”为题开展综合社会实践活动，最可靠的证据来源应该是第一手资料，周口店猿人遗址考古发掘是第一手资料。历史的史料来源大致有考古发掘、神话传说、学者推断、史书记载等。考古发掘是指为了科学研究，经文物部门批准，根据发掘计划，对埋藏文物的地方、对古文化遗址、古墓葬进行调查、勘探和发现、挖掘文物的活动或工作，是第一手资料的重要途径。

ACD 经过了人类的加工或无法直接考证，是第二手资料。

故选 B。

2.

【答案】

A

【考点】

河姆渡人的生活

【解析】

本题考查河姆渡的原始农耕，掌握相关的基础知识。

【解答】

生活在距今约 7000 年的河姆渡原始居民，使用磨制石器、骨器、用耒耜耕地，会挖掘水井，住干栏式房屋，过着定居生活，种植水稻，我国是世界上最早种植水稻的国家。故我国早期人工栽培水稻的是河姆渡人。

A

【考点】

夏朝的兴亡与“家天下”

【解析】

本题主要考查夏朝的建立。

【解答】

依据题干“中国历史上第一个王朝”的信息结合所学知识可知，公元前2070年，禹建立了夏朝，使我国从原始社会进入到奴隶社会，是中国历史上第一个王朝，A项符合题意。

故选A。

4.

【答案】

B

【考点】

西周的分封制

【解析】

本题考查西周的分封制。

【解答】

为了巩固统治，西周建立后，实行分封制。周天子把奴隶、平民和土地分封给亲属、功臣等，封他们为诸侯，建立诸侯国。诸侯必须服从周天子的命令，向天子缴纳贡品，平时镇守疆土，战时带兵随从天子作战。

故选B。

5.

【答案】

B

【考点】

文字的演变

青铜器

本题主要考查商朝的文明。

【解答】

题文中的“殷”是商朝的都城，因为公元前14世纪，商朝的国王盘庚把都城迁到殷，所以商朝又名殷朝。商朝的青铜制造业发达，甲骨文是商朝人刻在龟甲或兽骨上的文字。

故选B。

6.

【答案】

C

【考点】

战国七雄与著名战役

【解析】

本题以四幅图片为切入点，考查战国七雄的相关知识。

【解答】

战国七雄指的是齐、楚、秦、燕、赵、魏、韩七个国家。所处方位在地图分别是东西南北到中间，因此C项符合题意。

7.

【答案】

A

【考点】

春秋争霸

【解析】

本题考查齐桓公称霸。

【解答】

齐桓公任用管仲，改革内政，发展生产，同时改革军制，组建了强大的军队，管仲帮助齐桓公成就霸业，齐桓公成为春秋时期的第一个霸主。

故选A。

8.

【答案】

A

以上内容仅为本文档的试下载部分，为可阅读页数的一半内容。如要下载或阅读全文，请访问：<https://d.book118.com/528130111001006132>