

2025 年华东师大版九年级地理下册阶段测试试卷含答案

考试试卷

考试范围：全部知识点；考试时间：120 分钟

学校：_____ 姓名：_____ 班级：_____ 考号：_____

总分栏

题号	一	二	三	四	五	六	总分
得分							

评卷人	得分

一、选择题(共 6 题，共 12 分)

1、目前，缓解我国缺水问题的根本途径是（ ）

- A. 大量抽取地下水
- B. 大面积实施人工降雨
- C. 把两极地区的冰运到全国各地
- D. 节约用水，科学用水，保护水资源，防止水污染

2、为什么阿拉伯人身着白色长袍，头戴白色头巾（ ）

- A. 阿拉伯人喜欢白色
- B. 与伊斯兰教有关
- C. 气候炎热，风沙大
- D. 与地形有关

3、下列比例尺中，表示内容最详细的是（ ）

- A. 1: 16000
- B. 二百万分之一
- C. 1: 500000
- D. $\frac{1}{5000000}$

4、关于香港地区位置、范围、描述错误的是：（ ）

- A. 位于珠江口的东侧与广东省相邻
- B. 地处祖国大陆的东南部
- C. 主要由九龙、新界、路环岛三部分组成

5、下列世界文化遗产属于北京的是（ ）

- A. 丽江古城
- B. 黄果树瀑布
- C. 故宫
- D. 秦始皇陵兵马俑

6、下列民居与当地自然环境组合不正确的是（ ）

- A. 北极地区因纽特人--冰屋
- B. 中国黄土高原--窑洞
- C. 东南亚地区--高架屋
- D. 中国南方--平顶房屋

评卷人	得分

二、填空题(共 8 题, 共 16 分)

7、读我国四大区域图; 完成下列问题.

- (1) A 区域的自然特征是____; B 区域内主要能源是____和煤炭; C 区域内人民过去的运输工具是____, D 区域内最大的盆地是____盆地.
- (2) ①处地形主要是____; ②处最严重的环境问题是____; ③处主要水果是____和葡萄.
- (3) 四个区域内, 降水最丰富的是____; 夏季气温最低的是____; 跨经度最广的是____.
- (4) 我国热带经济作物主要产地位于____区域.



8、读“我国东部沿海”图; 回答下题.

- (1) 我国背靠亚欧大陆, 东临世界上最大的大洋, 甲乙丙丁为我国的四大临海, 这四大海域都属于____ (填大洋名称); 其中海峡 G 属于____ (填海域的真实名称).
- (2) C 是我国的首都北京, 该市气候的气候特点为: ____.
- (3) B 省紧邻我国的两个特别行政区, 其中包括拥有深水港; 仅次于纽约、伦敦的世界第三大金融中心____.
- (4) D 省为山东省, 该省每家每户中, 最常见的糖料是用____ (填农作物名称) 加工而成的.



9、读图及相关材料; 回答问题.

今年 3 月 30 日; 中央确定广东等 19 个省市承担对口支援新疆的任务.

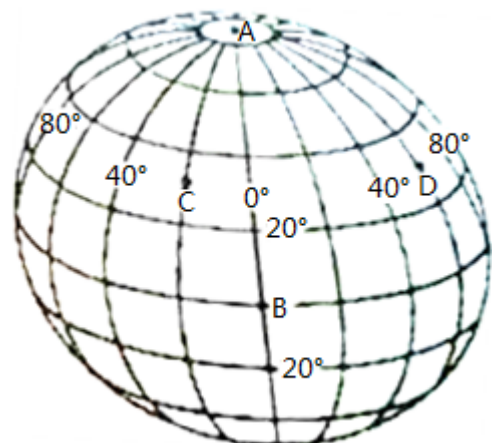
- (1) 支援新疆的物资, 利用铁路运输, 经 A 铁路干线进入新疆, 到新疆吐鲁番旅游, 可以吃到当地美味是____.
- A; 青稞酒、酥油茶 B、牡蛎、大闸蟹 C、哈密瓜、葡萄 D、竹筒饭、过桥米线.



- (3) 新疆地区特点可概括为“三山夹两盆”, 图中山脉①是指____. 盆地②是____盆地.
- (4) 新疆最主要的气候特征是____.

10、读图; 完成下列问题:

- (1) 根据经纬度描出下列各点:
E (40° E; 20°N) F (0°, 20°N) G (30° W, 0°) H (30°W, 15°S)
- (2) 图中点 A 在点 B 的____方向. 点 C 在点 D 的____方向.



(3) EFGH 四点中，即在南半球又处在西半球的是____，处在南北半球分界线上的是____，点 E 位于____（东、西）半球和____（南、北）半球。

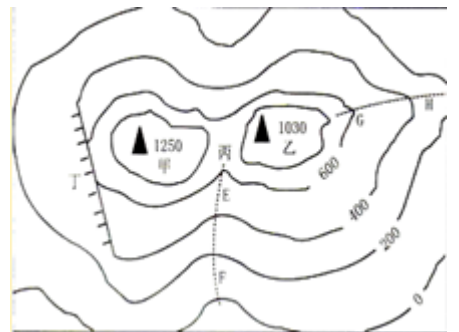
11、由图可知世界有两大山系。



一是横贯____大陆南部的巨大山系由____山脉和____山脉组成。
二是纵贯____大陆和____大陆的巨大山系由____山脉和____山脉组成。

12、读我国东部某地区等高线地形图；回答：

(1) 请将图中五个地形部位的名称（山顶；鞍部、山谷、山脊、陡崖）填入如表。

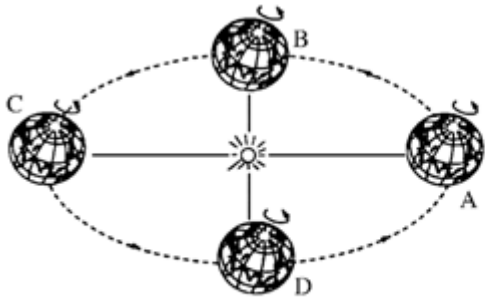


代号	甲	丁	EF	GH
地形部位名称	_____	_____	_____	_____

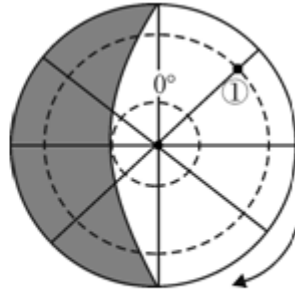
(2) 甲地的海拔是____米；甲地与乙地的相对高度是____米。

(3) 可能形成河流的是____（EF 或 GH）

13、读“地球公转示意图”和“某半球太阳光照图”（阴影部分表示夜晚；箭头表示地球自转方向），完成下列各题。



甲

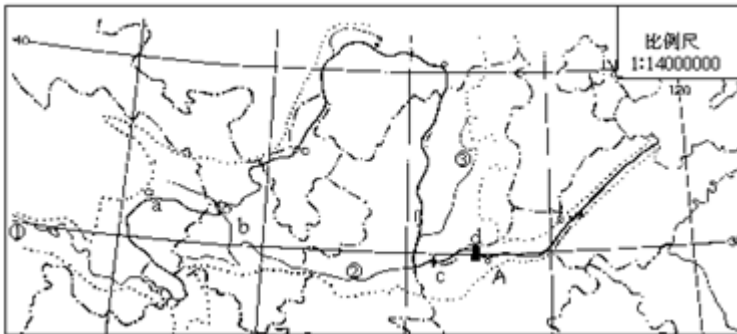


乙

- (1) 写出乙图中①点的经纬度_____。
- (2) 当太阳光照在地球上如乙图所示时，地球位于甲图所示公转轨道的_____。
- A. A处 B. B处 C. C处 D. D处。
- (3) 当地球位于公转轨道的C处和D处之间时，下列关于我们襄阳市昼夜长短的说法，正确的是_____。
- A. 夜晚越来越长；白天比夜晚长 B. 夜晚越来越长，白天比夜晚短。
- C. 夜晚越来越短，白天比夜晚长 D. 夜晚越来越短，白天比夜晚短。

14、下为黄河水系简图；分析后回答下列问题：

- (1) 填出①黄河源_____，②支流_____，③支流_____；城市A_____。
- (2) A以下黄河流域面积狭小，支流少的原因是_____。
- (3) 水利枢纽名称：d_____。



评卷人	得分

三、判断题(共9题，共18分)

- 15、可持续发展的三大内涵是指人口、资源和能源的可持续发展。_____。
- 16、我国人口分界线是漠河--腾冲县。_____。(判断对错)
- 17、航天工业、新能源、信息技术等属于高新技术产业。_____ (判断对错)
- 18、新疆的瓜果较甜，主要是因为这里气候温暖湿润，降水丰富。_____。(判断对错)
- 19、我国是世界上最发达的国家。_____ (判断对错)
- 20、珠江三角洲紧邻港澳，以外向型经济为主。_____。

21、东南亚是华人、华侨集中的地方。 ____。（判断对错）

22、我国各民族分布的特点是“大散居，小聚居，交错杂居” ____（判断对错）

23、世界第二人口大国，发挥丰富廉价的劳动力等优势，发展了服务外包产业。 ____（判断对错）

评卷人	得分

四、材料题(共 1 题，共 3 分)

24、人口数量过多，增长过快，会给环境和____发展带来很多问题。


评卷人	得分

五、连线题(共 2 题，共 8 分)

25、知识配对：

- | | |
|--------|--------------------|
| (1) 经线 | A、连接南北两极的半圆 |
| (2) 纬线 | B、地轴北段与地球表面的交点 |
| (3) 地轴 | C、地球自转轴 |
| (4) 南极 | D、与地轴垂直并且环绕地球一周的圆圈 |
| (5) 北极 | E、地轴南段与地球表面的交点 |

(1) 配_____ (2) 配_____ (3) 配_____ (4) 配_____ (5) 配_____



26、将下列区域与其美称或特征正确组合。

区域 美称或特征

①东北三省 A. 植物王国

②长江三角洲 B. 鱼米之乡

③香港澳门 C. 东方明珠

④塔里木盆地 D. 白山黑水

⑤台湾省 E. 高原湿地

⑥三江源地区 F. 干旱宝地

①— () ②— () ③— ()

④— () ⑤— () ⑥— ()

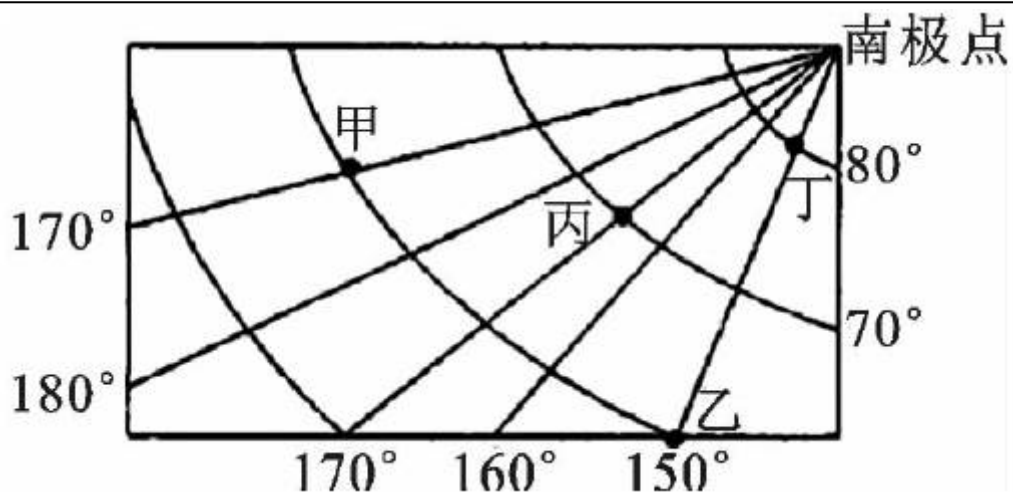


loading...

评卷人	得分

六、综合题(共 3 题, 共 21 分)

27、根据如图经纬网所示, 回答问题:

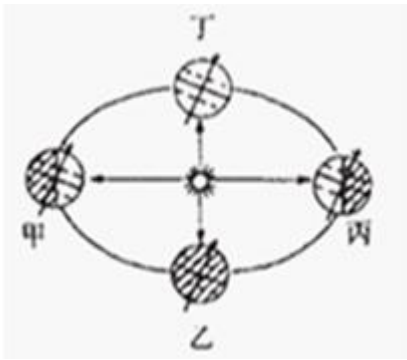


- (1) 经纬度位置：甲_____。丁位于五带中的_____。
- (2) 甲、乙、丙、丁四地位于东半球的是_____。
- (3) 丙位于甲的_____方向，某飞机由甲飞往乙，沿最短路线，合适的航向为_____。
- (4) 丙、丁之间的距离_____丙、乙之间的距离。（填“大于”、“小于”或“等于”）



loading...

28、读图，回答下列题。



(1) 当地球位于公转轨道上的丙处，南半球处于____季。当北半球节气为秋分日时，地球来到公转轨道上的____处。

(2) 用地球仪演示地球自转运动时正确的做法是 ()

- A. 地轴北端始终指向北极星
- B. 沿经线方向匀速转动球体
- C. 俯视“北极”，顺时针转动球体
- D. 围绕“太阳”；地球仪做圆周运动。

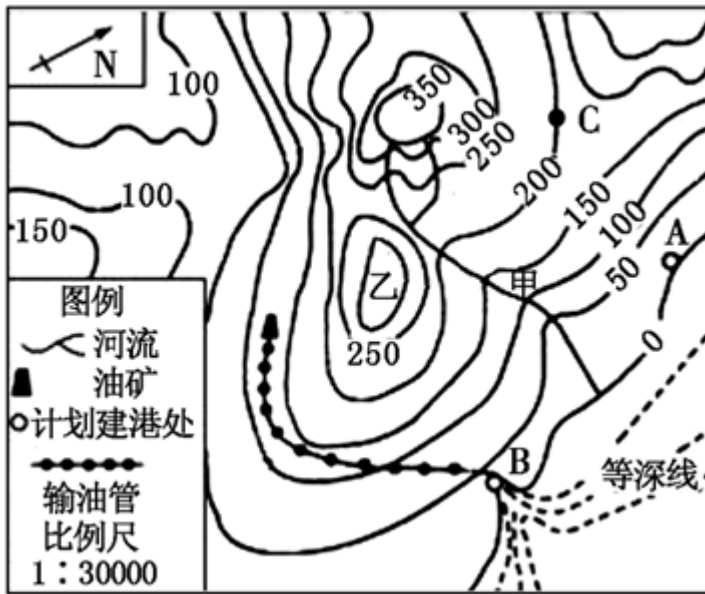
(3) 地球绕太阳转动一周的时间为____。



loading...

29、

读“某区域等高线地形图”（单位：米）；完成下列问题。



- (1) 甲处的地形部位是 _____。
- (2) 该区域的地形类型以 _____ 为主。乙地的海拔高度介于 _____ 之间；甲地位于乙地的 _____ 方向。
- (3) 若 A 点的气温为 15°C ；则此时 C 点理论上气温约为 _____。
- (4) 该地欲在 A、B 两处建一油港，经过分析讨论最终选择在 B 处建港，试分析其理由。 _____。

参考答案

一、选择题(共 6 题，共 12 分)

1、D

【分析】

【分析】中国水资源的状况不容乐观。虽然中国淡水资源总量多达 28 000 亿米³，居世界前列，但人均只有 2 100 米³，仅相当于世界平均水平的 1/4，居世界第 120 位。水资源的时空分布也不够理想，加之一部分水资源受到污染和破坏，能够有效利用的水资源就更少。有些地区因地下水过度开采，造成地下水位下降，进而加剧了用水的困难程度。

【解析】

【解答】解：兴修水利工程；能在相当程度上调节水资源的时空分布。但是，随着人口的增长；城市化的推进、工农业的发展，我国水资源的供需矛盾仍然十分严重。我国有半数以上的城市缺水，而水资源污染会使这一问题更加突出。南方湿润地区的一些城市，由于水资源污染也成为缺水城市。因此，节约用水，科学用水，保护水资源，防治水污染，是解决缺水问题的有效途径。

故选：D。

2、C

【分析】

【分析】居民的衣食住行等方面都与当地的自然环境密切相关。

【解析】

【解答】解：阿拉伯人的服饰和当地自然环境有密切的关系。阿拉伯地区的气候属于热带沙漠气候；极其炎热。所以在沙特阿拉伯男子的传统打扮是着长袍；戴头巾，十分宽大，具有通风的效果，十分凉爽；同时之所以选用白色，是从光学的角度来说，白色能反射光线（即太阳光）达到祛热降暑的作用，以此来帮助适应酷热的气候；长袍可以阻挡强劲的风沙。

故选：C。

3、A

【分析】

【分析】比例尺是表示图上距离比实地距离缩小的程度。在图幅相同的条件下，比例尺越大，表示的范围越小，内容越详细；比例尺越小，表示的范围越大，内容越简略。

【解析】

【解答】解：相同图幅；范围越大比例尺越小，内容越简略；范围越小比例尺越大，内容越详细。比例尺大小比较时，比例尺不是数字式的应先化成数字式再比较大小。四个比例尺为：A是 $1/16000$ ，B是 $1/2000000$ ，C是 $1/500000$ ，D是 $1/5000000$ ，数字式比例尺大小的比较，分子为1，分母越大比例尺越小，反之则越大。比较选项中的比例尺得知， $1/16000$ 比例尺最大，表示内容最详细。

故选：A。

4、C

【分析】

【分析】香港位于珠江口东侧，北与深圳相连，香港由香港岛、九龙半岛和新界三部分以及 262 个大小岛屿组成，新界的面积约 980 平方公里，相当于香港陆地面积的 91%。

【解析】

以上内容仅为本文档的试下载部分，为可阅读页数的一半内容。如要下载或阅读全文，请访问：<https://d.book118.com/535110020021012034>