

全国卫生招聘考试考试重点试题精编

注意事项:

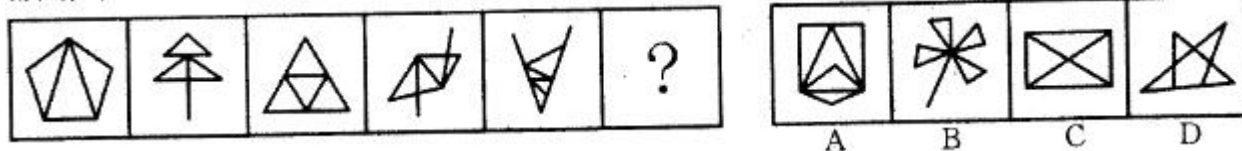
1. 全卷采用机器阅卷, 请考生注意书写规范; 考试时间为 120 分钟。
2. 在作答前, 考生请将自己的学校、姓名、班级、准考证号涂写在试卷和答题卡规定位置。
3. 部分必须使用 2B 铅笔填涂; 非选择题部分必须使用黑色签字笔书写, 字体工整, 笔迹清楚。
4. 请按照题号在答题卡上与题目对应的答题区域内规范作答, 超出答题区域书写的答案无效; 在草稿纸、试卷上答题无效。

一、选择题

1、甲、乙二人同在山坡上放羊, 乙的羊混入甲的羊群, 甲不知, 赶羊回家入圈。甲的行为属于()。

- A. 拾得遗失物
- B. 获取不当得利
- C. 无因管理
- D. 授权行为

2、所给的四个选项中选择最合适的一个填入问号处, 使之呈现一定的规律性:



- A. 见图 A
- B. 见图 B
- C. 见图 C
- D. 见图 D

3、关于业主的建筑物区分所有权, 下列说法错误的是()。

- A. 建筑区划内的道路, 属于业主共有
- B. 业主对建筑物专有部分以外的共有部分不得以放弃权利不履行义务
- C. 业主对其建筑物专有部分享有占有、使用、收益和处分的权利, 但行使权利时不得危及建筑物的安全, 不得损害其他业主的合法权益
- D. 建筑区划内, 规划用于停放汽车的车位、车库的归属, 由当事人通过出售、附赠或者出租等方式约定

4、合同的担保方式有多种, 但不包括()。

- A. 保证
- B. 抵押
- C. 留置

编号:

姓名:

地区:

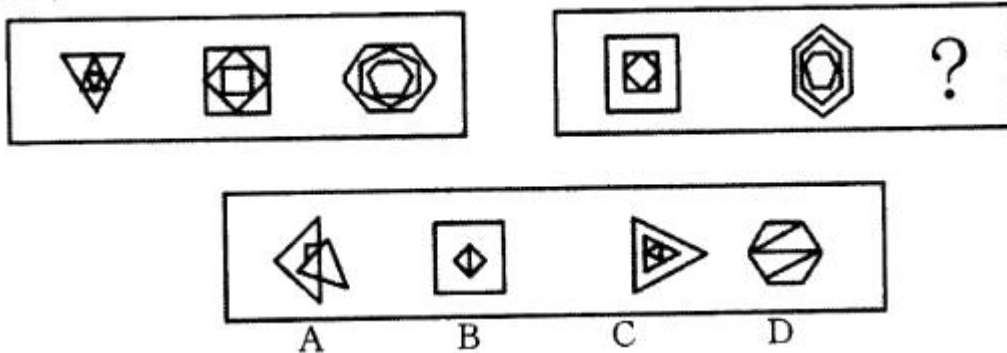
省市:

密封线

密封线

D. 订金

5、从所给的四个选项中，选择最合适一个填入问号，使之呈现一定规律性：



- A. 见图 A
- B. 见图 B
- C. 见图 C
- D. 见图 D

6、甲的母亲去世后，甲的父亲将住宅独自占用。甲对此非常不满，遂停止向无劳动能力的父亲提供生活费。其父将甲告上法庭。法官审理后判决甲每月向其父提供生活费 1000 元。对此事件，下列哪一种说法是正确的？（）

- A. 该事件表明，子女对父母只承担法律义务，不享有法律权利
- B. 法官作出判决本身是一个法律事实
- C. 法官的判决在原被告之间不形成法律权利与法律义务关系
- D. 子女赡养父母主要是道德问题，法官判决缺乏依据

7、甲男不幸遭遇车祸被截去右上肢，后经法院判决肇事方赔偿 50 万元，其中包括 30 万元的残疾赔偿金和残疾辅助器具费。这 30 万元的残疾赔偿金和残疾辅助器具费属于（）的财产。

- A. 甲
- B. 甲妻
- C. 夫妻共同财产
- D. 家庭共同财产

8、下列关于财产继承的说法，不正确的一项是（）。

- A. 非婚生子女享有与婚生子女同等的权利，任何人不得加以危害和歧视
- B. 夫妻有相互继承遗产的权利
- C. 父母和子女有相互继承遗产的权利
- D. 养父母和养子女之间不存在血缘关系，不享有相互继承遗产的权利

9、魏晋南北朝时期，西域民族的融合与同化，明显的表现为：

- A. 铁勒化趋势
- B. 柔然化趋势
- C. 鲜卑化趋势
- D. 匈奴化趋势

10、下列选项中，属于承揽合同的是()。

- A. 甲委托乙加工服装
- B. 甲购买乙的家具
- C. 甲承租乙的房屋
- D. 甲为乙运输货物

11、能引起诉讼时效中止的必要条件是()。

- A. 不可抗力
- B. 意外事件
- C. 债务人要求缓期履行
- D. 权利人向债务人提出要求

12、根据民法的相关规定，下列关于监护权的说法，正确的是()。

- A. 对担任监护人有争议的，可以由未成年人的父、母的所在单位或者未成年人住所地的居民委员会、村民委员会在近亲属中指定，也可以由人民法院裁决
- B. 监护人因不履行监护职责，给被监护人造成财产损失的，无须承担赔偿责任
- C. 精神病人的利害关系人，可以向公安局申请宣告精神病人为无民事行为能力人或者限制民事行为能力人
- D. 未成年人的父母已经死亡的，关系密切的朋友可以成为监护人

13、某校长甲欲将一套住房以50万元出售。某记者乙找到甲，出价40万元，甲拒绝。乙对甲说：“我有你贪污的材料，不答应我就举报你。”甲信以为真，以40万元将该房卖给乙。乙实际上并无甲贪污的材料。关于该房屋买卖合同的效力，下列哪一说法是正确的？()

- A. 存在欺诈行为，属可撤销合同
- B. 存在胁迫行为，属可撤销合同
- C. 存在乘人之危的行为，属可撤销合同
- D. 存在重大误解，属可撤销合同

14、下列不能作为质权标的的是()。

- A. 专利权
- B. 股票
- C. 提单
- D. 土地使用权

15、下列物权中属于担保物权的是()。

- A. 留置权
- B. 建设用地使用权
- C. 地役权
- D. 建筑物区分所有权

16、在动物界，每种动物都是其他动物潜在的食物。当一种动物观察到另一种动物进入它的视野的时候，它要决定是“进攻”、“原地不动”还是“逃跑”。选择“进攻”可以使对方成为自己的食物。选择“原地不动”，可以静观时变，但也可能坐失进攻或逃跑的良机。选择“逃跑”是最为保险的策略，但如果对方不具有危险性，“逃跑”是没有必要的。如果对方是弱小的，选择“逃跑”，则会使自己失去获取食物的机会。

这段话主要说明的是：

- A. 动物的行为选择
- B. 动物的每个行为“决定”关系到它的生存
- C. 如果是食肉动物的话，它可能成为对方的食物
- D. 动物的行为选择是本能的，它是进化的结果

17、推进中国特色社会主义的伟大事业，仍然要继续围绕()这个首要的基本理论问题，紧紧抓住实事求是的思想路线，不断推进思想的解放。

- A. 什么是社会主义、怎样建设社会主义
- B. 什么是科学发展，怎样实现科学发展
- C. 什么是中国梦，怎样理解中国梦
- D. 建设什么样的党、怎样建设党




18、海洋是各国经贸文化交流的天然纽带，2013年10月习近平总书记在访问东盟国家时提出建设21世纪海上丝绸之路，将串起连通东盟、南亚、西亚、北非、欧洲等各大经济板块的市场链，如果从泉州出发，到达埃及的航海路线依次经过的大洋与海峡是：

- A. 南海—马六甲海峡—孟加拉湾—印度洋—阿拉伯海—红海
- B. 南海—孟加拉湾—印度洋—马六甲海峡—阿拉伯海—地中海
- C. 南海—印度洋—孟加拉湾—马六甲海峡—红海—阿拉伯海
- D. 南海—马六甲海峡—印度洋—孟加拉湾—阿拉伯海—红海

19、甲到A市出差，好朋友乙委托其购买A市产的名贵玉石，甲出差期间无闲暇，委托A市朋友丙帮其购买，丙在当地知名的丁商场购买了附带各项证书的玉石。后经有关部门鉴定，该玉石是假的，则甲的损失由谁承担？()

- A. 甲
- B. 乙
- C. 丙
- D. 丁

20、从所给的四个选项中，选最合适的一个填入问号处，使之呈现一定的规律性：



A

B

C

D

- A. 见图 A
- B. 见图 B
- C. 见图 C
- D. 见图 D

21、万某父母健在，其死亡时妻子怀有身孕，在分割遗产时为胎儿保留了应继承份额。胎儿出生，因先天缺陷于次日死亡。为胎儿保留的份额应()。

- A. 由万某妻继承
- B. 由万某父母继承
- C. 由万某父母和万某妻共同继承
- D. 按无人继承的遗产处理

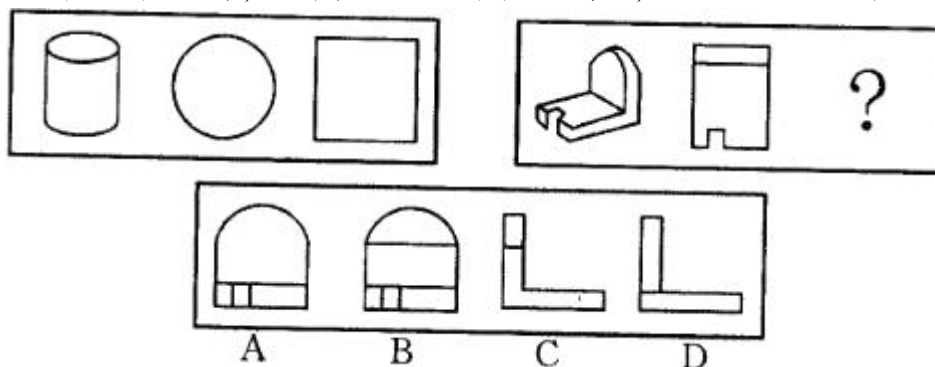
22、下列网络技术中，不属于数据安全技术的是：

- A. 网络防火墙
- B. 数字媒体技术
- C. 数字签名技术
- D. 数字水印技术

23、担保物权人在其全部债权受清偿前，可以就担保物的全部行使权利，这体现的是担保物权法律属性中的()。

- A. 优先受偿性
- B. 物上代位性
- C. 不可分性
- D. 从属性

24、所给四个选项中，选择最合适的一个填入问号处，使之呈现一定规律性：



- A. 见图 A
- B. 见图 B
- C. 见图 C
- D. 见图 D

25、汉朝政府派往西域最早的地方官员是：

- A. 西域都护
- B. 使者校尉
- C. 西域长史
- D. 戊己校尉

26、乔某在使用某产品过程中身体受到伤害，将厂家诉至法院要求进行赔偿，其中包括精神损害赔偿。被告方律师辩称，1年前该法院在审理一起类似案件时并没有判予精神损害赔偿，因此本案也不应给予精神赔偿。但法院援引新颁布的司法解释判令被告方给予乔某精神损害赔偿。下述说法正确的是()。

- A. 被告方律师的推理是归纳推理
- B. 被告方律师的推理是演绎推理
- C. 法院判决前后不一致，这是审判不公的表现
- D. 法院判决虽然前后不一致，但在合法性上并无失当

27、2014年，全国特殊教育领域，专任教师与招生人数比约为：

- A. 1 : 2
- B. 1 : 1.4
- C. 3 : 5
- D. 33 : 23

28、我国共有科学技术馆 250 多座。这对于我们这个 13 亿人口的大国来说不能算多，可现在能经常办展览的只有少数几个。除中国科技馆、天津市科技馆等能坚持办展外，极少有发挥其原有功能的。来自中国科协的权威统计显示，全国约有 60%的馆不得不用部分场地长期搞展销，甚至干脆转化为酒吧和歌舞厅，使得本来就不多的群众文化活动设施更加匮乏。

这段话的主要观点是：

- A. 未能发挥其原有功能是目前科技馆面临的严重问题
- B. 我国科技馆的数量与众多的人口数量很不相称
- C. 能坚持经常办展，发挥其原有功能的科技馆只占 40%
- D. 文化活动设施匮乏的主要原因是一些科技馆用部分场地长期搞展销

29、普通合伙企业中，新合伙人入伙，除合伙协议另有约定外，应当经()。

- A. 1/3 以上合伙人同意
- B. 1/2 以上合伙人同意
- C. 2/3 以上合伙人同意
- D. 全体合伙人同意

30、下列选项中，可以适用《合同法》的是()。

- A. 张某与王某的领养合同
- B. 李某与孙某的婚约
- C. 赵某与林某的专利许可使用协议
- D. 杨某的遗嘱

31、长篇小说创作领域里引人注目的年度亮点，表现在出版了一些对当下现实密切_____，对人们的精神现状给予高度_____和深度寻绎的作品。

填入划横线部分最恰当的一项是：

- A. 关照 关注
- B. 观照 关注
- C. 观照 关切

D. 关照 关切

32、月食发生时：

- A. 月球在地球和太阳之间
- B. 太阳在月球和地球之间
- C. 地球在太阳和月球之间
- D. 是在新月的时候

33、在无权代理的情况下，第三人有足够的理由相信该代理人具有代理权的，其代理行为（）。

- A. 无效
- B. 有效
- C. 效力待定
- D. 可撤销

34、甲将自己拥有的一幅名人所作的画卖给乙，约定好乙在签订合同的第二日来取画，结果在签订合同的当晚，该画就被小偷丙盗走，转卖给了不知情的丁。下列说法正确的是（）。

- A. 甲对该画享有署名权
- B. 乙对该画享有所有权
- C. 丁对该画的占有属于善意占有
- D. 丙对该画的占有属于他主占有

35、甲用自己的一套房屋抵押，向乙借款 100 万元，并办理了抵押登记，后甲将房屋出租给丙，债务履行期届满，甲没有偿还债务。下列判断正确的是（）。

- A. 抵押权自抵押合同生效时设立
- B. 房屋租金自债务履行期届满后由乙收取
- C. 抵押期间，甲不得转让该房屋
- D. 该租赁关系不得对抗抵押权

36、张某死后留下的下列财产中，不属于遗产的是（）。

- A. 自购商品房一套
- B. 租赁的汽车
- C. 著作数本
- D. 股票账户中股票若干

37、李某 8 岁的儿子小勇平时非常调皮，经常用石头砸坏别人的东西，攀摘花草树木等。一日，当小勇在家门口玩耍时，遇见刘某用三轮车拉着镜子。邻居王某见状说：“你敢不敢把那个镜子砸碎，敢的话就算你厉害。”小勇听完当即就拿起石头砸过去，结果致使价值 600 多元的镜子被砸碎。另一日，小勇在学校上自习课时与同学小雷发生争执，并将小雷的手臂打伤，小雷治伤花去医药费 1000 元。

- A. 按份责任
- B. 保证责任
- C. 补充责任
- D. 连带责任

38、甲与乙签订一份买卖合同，将一辆原价 12 万元的二手轿车以 10 万元的价格卖给乙，乙付款后将车开回，但一直没有办理车辆过户手续。

- A. 丙不能行使抵押权
- B. 丙可向甲主张抵押权但须赔偿乙的损失
- C. 甲、乙之间的合同因此而无效
- D. 丙可向乙主张抵押权

39、甲对某危害结果没有阻止其发生的义务，如果该危害结果发生，甲的不作为行为（）。

- A. 不可能构成犯罪
- B. 可能构成纯正的不作为犯
- C. 可能构成不纯正的不作为犯
- D. 可能构成手段不能犯

40、公民王某在意外事故中下落不明，依照《民法通则》的规定，计算宣告死亡的期间应当自（）起。

- A. 利害关系人向法院申请之日
- B. 确认王某失踪之日
- C. 意外事故发生之日
- D. 意外事故发生之次日

41、亚健康是对生物有机体生理机能状态的一种描述，一般指生理机能处于健康与疾病之间的状态。由健康过渡到疾病需要一个从量变到质变的过程，而在质变发生之前的这个特殊阶段即是亚健康。

下列现象中属于亚健康的一项是：

- A. 老王退休后连续多次在医院体检发现血压很高，但是他从没有感到身体有什么不适
- B. 小刘在上周六出去购物时遭遇抢劫，在搏斗中被歹徒用匕首捅伤，现在已脱离生命危险，正在医院进行最后的康复调理
- C. 小兵正在读初三，面临升学的压力，他经常熬夜学习，最近感到眼睛看东西有一层雾气，医学专家说这可能是假性近视
- D. 小刚的爸爸在单位体检时，发现腹内有个肿瘤包块，医生说可能是长期劳累所致，劝其休养，可是他因没有任何外在征兆而并不在意

42、根据《民法通则》对民事行为能力的规定，下列属于无民事行为能力人的是（）。

- A. 不满 10 岁出版自己作品的小作家
- B. 18 周岁的公民
- C. 以自己的收入为主要来源的 16 周岁以上不满 18 周岁的公民
- D. 10 周岁以上的未成年人

43、杜某死亡时，遗产由其母陈某、其妻李某和两个孩子杜甲、杜乙继承，当时李某已怀有身孕，为胎儿保留继承份额 3 万元。胎儿出生后 1 天后不幸夭折，这 3 万元应如何处理？（）

- A. 由李某继承
- B. 由陈某继承
- C. 由杜甲、杜乙继承
- D. 由李某、陈某、杜甲、杜乙继承

44、有些基因使人们总的来说感到快乐一些或者悲伤一些。这句话的意思是：

- A. 总的来说，有些基因使人感到快乐，有些基因使人感到悲伤
- B. 有些基因总的来说使人们要么感到快乐，要么感到悲伤
- C. 有些基因总的来说使人们既感到快乐，又感到悲伤
- D. 总的来说，使人感到快乐和悲伤的原因是部分基因的影响

45、在下列各种事由中，不属于提存原因的是()。

- A. 债权人下落不明
- B. 债务人提出抗辩
- C. 债务人无正当事由拒绝受领
- D. 债权人丧失民事行为能力而未确定监护人

46、为呼应近年全球面临的政治、经济、社会以及科技的“重大改变”，国际局势日益的“错综复杂、脆弱不稳”，2015年1月21日召开的达沃斯年会以“全球新格局”为主题，中心议题转变为：

- A. 债务危机风险
- B. 地缘政治风险
- C. 财政危机风险
- D. 国家安全风险

47、甲驾驶机动车进入乙停车场，按照工作人员丙的要求，留下车钥匙以便挪停车辆。不料丙在挪停车辆时发生刮擦，造成损失。请问，刮擦损失应由谁承担？()

- A. 甲
- B. 乙
- C. 丙
- D. 乙和丙

48、甲与乙分别就一项相同的发明创造向国务院专利行政部门申请专利，请问国务院专利行政部门应按照什么原则来处理此类事项？()

- A. 申请在先
- B. 完成在先
- C. 使用在先
- D. 一体对待

49、在管理中，非正式沟通的优点不包括：

- A. 沟通形式不拘，直接明了
- B. 沟通速度很快
- C. 约束力强，易于保密
- D. 容易及时了解信息

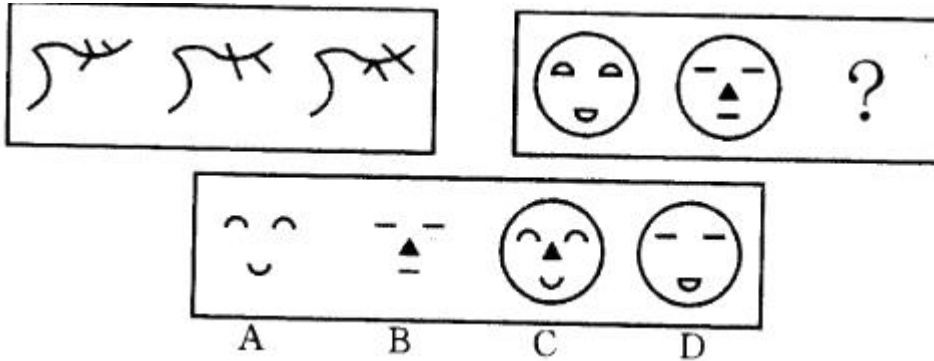
50、某公司业务员李某因严重违纪被F公司开除后，为报复该公司，李某用盖有F公司公章的空白合同与M公司订立一份购销合同，M公司并不知情，并按时将货送至F公司所在地，F公司拒收引起纠纷。以下正确的是()。

- A. 李某行为为无权代理，合同无效
- B. 李某行为为表见代理，合同有效

- C. 李某行为为有权代理，合同无效
- D. 李某行为为滥用代理权，合同无效

二、多选题

51、从所给的四个选项中，选最合适的一个填入问号处，使之呈现一定的规律性：



- A. 见图 A
- B. 见图 B
- C. 见图 C
- D. 见图 D

52、甲将一辆拼装汽车出售给乙，乙违章驾驶该车将丙撞伤。丙的损失应由()。

- A. 甲独自承担赔偿责任
- B. 乙独自承担赔偿责任
- C. 甲和乙承担按份赔偿责任
- D. 甲和乙承担连带赔偿责任

53、甲误将一件内藏 5000 元人民币的旧大衣扔到垃圾堆，旧大衣被拾荒人乙捡到，并发现了此钱。后甲闻讯前往乙家要钱，未果。则下列说法正确的是()。

- A. 甲已丢弃衣服和钱，不应该再要回
- B. 乙依据先占原则得到衣服和钱
- C. 该钱为隐藏物，乙因发现而取得
- D. 乙应将钱还甲，仅仅保有大衣

54、甲已婚，与乙女发生婚外情，并在外同居。甲去世前立下遗嘱，将自己的遗产留给乙，乙因此与甲妻丙诉讼，法院判乙败诉。关于本案，下列有关民法基本原则的表述 7 错误的是()。

- A. 具体法律规则在适用中出现问题时，可以适用一般法律规则
- B. 意思自治原则是有限制的
- C. 意思自治原则和公序良俗原则冲突时，公序良俗原则优先
- D. 意思自治原则并不能支持甲立遗嘱将遗产给乙的行为

55、甲放羊为生，一日发现羊群中多了一只小羊，数日均无人来问津，甲遂将此羊卖给了邻村的乙，获利 500 元。后小羊的主人丙在乙的羊群中发现了小羊，要求乙返还。下列说法错误的是()。

- A. 甲的行为属于不当得利，应返还取得的不当利益

- B. 乙是善意的第三人，甲和乙的买卖合同有效
- C. 丙是小羊的主人，乙应将小羊返还给丙
- D. 丙应当向小羊的拾得人甲主张权利

56、下列关于表述法的效力的选项哪个是正确的？

- A. 法律不经公布，就不具有效力
- B. 一切法律的效力级别高低和范围大小是由刑法、民法、行政法等基本法律所规定
- C. “法律仅仅适用于将来，没有溯及力”，这项规定在法学上被称为“从新原则”
- D. 法律生效后，应该使一国之内的所有公民知晓，所谓“不知法者得免其罪”

57、立法工作是全国人大及其常委会的重要职责，全国人大成立 50 年来，在立法方面做了很多重要的工作，尤其是改革开放 20 多年来，我国立法工作更是取得了举世瞩目的巨大成就。

文章接下来将要讨论的可能是：

- A. 立法工作所取得的成就
- B. 立法工作作为人大重要职责的体现
- C. 改革开放对立法工作的影响
- D. 目前立法工作存在的不足

58、下列行为中，张某不应当承担民事责任的是（）。

- A. 身为某市人民警察的张某，在逮捕犯人时毁坏了李某饭店内的桌椅和餐具等
- B. 刘某在使用从张某的超市中买到的电热毯时，发生火灾，引起背部烧伤，经检验，张某销售的电热毯有严重的质量问题
- C. 朱某路过张某家时，被他家的狗严重咬伤
- D. 张某经营的化工厂致使附近居民出现头晕、恶心等症状

59、梅雨是指中国长江中下游地区、台湾、日本中南部、韩国南部等地，每年（）之间持续阴天有雨的气候现象。

- A. 3 月中旬至 5 月上半月
- B. 6 月中下旬至 7 月上半月
- C. 7 月下旬至 8 月上半月
- D. 8 月中下旬至 10 月中旬

60、钱某，与前妻谢某有一子钱亮，离婚后钱亮归谢某抚养。钱某现任妻子王某与钱某生有一女钱小颖。钱某的父母一直与钱某的姐姐钱娜生活。2008 年年初，钱某父亲去世。同年 6 月钱某因车祸身亡。对于钱某的 40 万元存款享有继承权的是（）。

- A. 谢某、钱亮、王某、钱小颖、钱某母亲及姐姐
- B. 钱亮、钱小颖、王某、钱某母亲
- C. 钱亮、钱小颖、钱某母亲及姐姐
- D. 谢某、王某、钱亮、钱小颖

61、下列关于财产继承的说法，不正确的一项是（）。

- A. 非婚生子女享有与婚生子女同等的权利，任何人不得加以危害和歧视
- B. 夫妻有相互继承遗产的权利

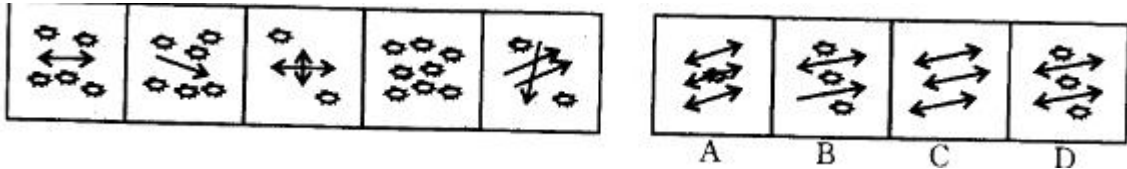
- C. 父母和子女有相互继承遗产的权利
- D. 养父母和养子女之间不存在血缘关系，不享有相互继承遗产的权利

62、概念是人脑对客观事物本质特征的认识，事物的本质特征决定事物的性质，是一事物区别于其他事物的本质特征。根据概念所包含的属性的抽象与概括程度，概念可分为具体概念和抽象概念。按事物的指认属性形成的概念称为具体概念，按事物的内在本质属性形成的概念称为抽象概念。

下列哪项是抽象概念？

- A. 香蕉和木棒都是长的，而球和西瓜都是圆的
- B. 香蕉和西瓜都是水果，而白菜和土豆都是蔬菜
- C. 巧克力和土地都是棕色的，而雪和面粉都是白色的
- D. 冰和雪都是冷的，火和血液都是热的

63、从所给的四个选项中，选择最合适的一个，使之符合左边五个图形的规律性：



- A. 见图 A
- B. 见图 B
- C. 见图 C
- D. 见图 D

64、担保物权人在其全部债权受清偿前，可以就担保物的全部行使权利，这体现的是担保物权法律属性中的（）。

- A. 优先受偿性
- B. 物上代位性
- C. 不可分性
- D. 从属性

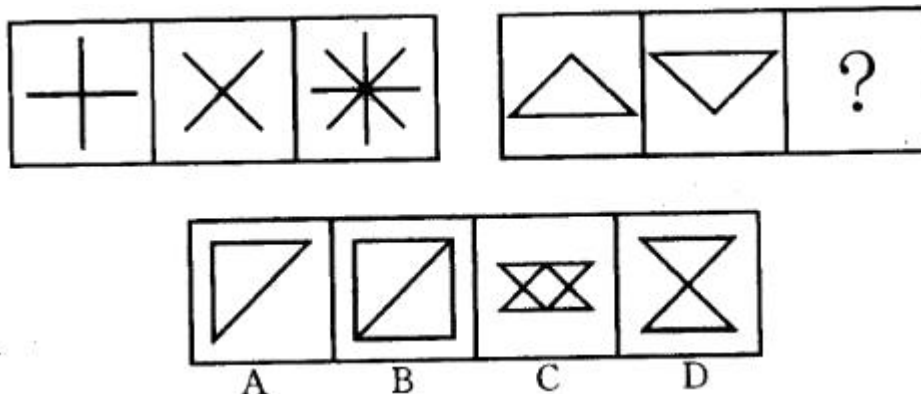
65、江泽民同志指出：“国家统一，民族团结，则政通人和，百业兴旺；国家分裂，民族纷争，则丧权辱国，人民遭殃。”这句话表明的是：

- A. 加强民族团结，维护社会稳定意义重大
- B. 各民族的大团结是我国统一繁荣昌盛的重要保证
- C. 民族团结是我国处理民族关系的基本政策
- D. 维护民族团结和祖国统一是每个公民的职责和义务

66、根据《民法通则》规定，按照合同和其他合法方法取得财产的，其财产所有权什么时候开始转移？（）

- A. 从合同签订时
- B. 从双方当事人认可时
- C. 从财产交付时
- D. 从一方交钱时

67、所给四个选项选择最合适的填入问号处，使之呈现一定的规律性：



- A. 见图 A
- B. 见图 B
- C. 见图 C
- D. 见图 D

68、某夜，群众举报张家有人在看黄碟，警察敲门入户后，直接进入张某夫妇的卧室，并没收了 VCD 和黄碟。关于本案，下列表述不正确的是()。

- A. 警察侵犯了张某夫妇的住宅安全权
- B. 警察侵犯了张某夫妇的隐私权
- C. 警察侵犯了张某夫妇的名誉权
- D. 警察侵犯了张某夫妇的财产权

69、下列属于效力待定民事行为的是()。

- A. 甲某基于重大误解而与乙某订立的买卖合同
- B. 12 岁小学生与某电脑城签订的购买一台价值 9000 元电脑的合同
- C. 张某以欺诈手段与王某订立的买卖合同
- D. 9 岁小学生与某公司签订的接受 5000 元赠与合同

70、甲与乙签订一份买卖合同，将一辆原价 12 万元的二手轿车以 10 万元的价格卖给乙，乙付款后将车开回，但一直没有办理车辆过户手续。

- A. 丁不能要求甲赔偿损失
- B. 乙不构成善意取得
- C. 丁有权要求乙返还该车
- D. 丁无权要求乙返还该车

71、甲驾驶车辆进入乙停车场，按照工作人员丙的要求，留下车钥匙以便挪停车辆。不料丙在挪停车辆时发生刮擦，造成损失。请问，刮擦损失应由谁承担? ()。

- A. 甲
- B. 乙
- C. 丙
- D. 乙和丙

72、属于地震“次生灾害”的是：

- A. 桥梁断裂
- B. 管道破裂
- C. 山体滑坡
- D. 通讯中断

73、我国《刑法》规定，应当预见自己的行为可能发生危害社会的结果，因为疏忽大意而没有预见，或者已经预见而轻信能够避免，以致发生这种结果的是：

- A. 不可抗力
- B. 故意犯罪
- C. 过失犯罪
- D. 意外事件

74、沿着溪边再往前走，走过两户农家乐，山脚边有一条初步成形的游步道。拾级而上半山腰，一个观景台正在建设中，从这里_____，整个下姜村美景尽收眼底。

填入划横线部分最恰当的一项是：

- A. 远眺
- B. 俯瞰
- C. 雄视
- D. 凝望

75、商场里出售的散装大米是()。

- A. 孳息
- B. 主物
- C. 种类物
- D. 限制流通物

76、西方法律格言说：“法律不强人所难。”这说明：

- A. 道德调整的范围也要有法律来规范
- B. 法律不能调整、规范任何事项
- C. 法律只规定人的义务
- D. 对无法预见的事情，不必承担法律责任

77、回归线，是太阳每年在地球上直射来回移动的分界线。其中，地球上的南北回归线是：

- A. 热带与温带的分界线
- B. 低纬与高纬的分界线
- C. 温带与寒带的分界线
- D. 极昼与极夜的分界线

78、发酵工程，就是通过研究改造发酵所用的菌以及应用技术控制发酵过程来大规模工业化生产发酵产品。以下选项中不属于发酵工程的产品是：

- A. 醋
- B. 酱油
- C. 加酶洗衣粉
- D. 维生素

79、李某 8 岁的儿子小勇平时非常调皮，经常用石头砸坏别人的东西，攀摘花草树木等。一日，当小勇在家门口玩耍时，遇见刘某用三轮车拉着镜子。邻居王某见状说：“你敢不敢把那个镜子砸碎，敢的话就算你厉害。”小勇听完当即就拿起石头砸过去，结果致使价值 600 多元的镜子被砸碎。另一日，小勇在学校上自习课时与同学小雷发生争执，并将小雷的手臂打伤，小雷治伤花去医药费 1000 元。

- A. 小勇承担
- B. 李某承担
- C. 东西的主人承担
- D. 李某和东西的主人共同承担

80、我国共有科学技术馆 250 多座。这对于我们这个 13 亿人口的大国来说不能算多，可现在能经常办展览的只有少数几个。除中国科技馆、天津市科技馆等能坚持办展外，极少有发挥其原有功能的。来自中国科协的权威统计显示，全国约有 60%的馆不得不用部分场地长期搞展销，甚至干脆转化为酒吧和歌舞厅，使得本来就不多的群众文化活动设施更加匮乏。这段话的主要观点是：

- A. 未能发挥其原有功能是目前科技馆面临的严重问题
- B. 我国科技馆的数量与众多的人口数量很不相称
- C. 能坚持经常办展，发挥其原有功能的科技馆只占 40%
- D. 文化活动设施匮乏的主要原因是一些科技馆用部分场地长期搞展销

81、下列哪种行为构成我国《合同法》规定的承诺？（）

- A. 某超市向伊利公司发出订购牛奶 1000 箱的要求，蒙牛公司得知后向该超市表示接受其在要约中规定的条件
- B. 移动公司向用户小张发出彩铃业务订购短信邀约，并表示未回复视为承诺，小张未回复
- C. 某公司在报纸上刊登广告称，本公司有新疆贡枣出售，欲购者请速与本公司联系，小王打电话给该公司订购若干
- D. 甲在报纸上刊登附有价目表的广告称：本书店新到新华字典 100 本，预购者可在一个月内汇款，款到寄书。乙汇款给甲

82、①全球新经济增长点的坚实度和影响力有待_____。

②现代多元文化影响之下，戏曲面临着_____挑战，而创新正是当代戏曲把握机遇、走出困境、再创辉煌的关键，也是最为艰难的课题。

填入划横线部分最恰当的一项是：

- A. 观察 严峻
- B. 观察 严厉
- C. 考察 严峻
- D. 考察 严厉

83、医学专家宣布：他们经过临床试验发现，普通的感冒病毒可以杀死癌细胞。有多名自愿的患者在接受这项治疗后，身上的癌细胞都呈萎缩状。专家们指出，要运用基因工程的办法研究出能引起感冒的腺病毒有机体，让含有易变基因的癌细胞染上感冒。而这项新技术，估计每年可望挽救数十万名癌症病人的生命。

上面文字传达的最重要的一条信息是：

- A. 目前，正在开展的用感冒病毒治疗癌症的试验取得了可喜的成果
- B. 目前，癌细胞在感冒病毒作用下萎缩的这一事实引起医学界的重视
- C. 今后，将日益广泛地推广用感冒病毒治疗癌症这一新方法
- D. 今后要攻克运用基因工程让癌细胞染上感冒的新技术

84、小李为了图便宜花了 30 块钱买了一双跑步鞋，不到一个月鞋子就开裂了：不久，他用市价的一半买了一个名牌包，结果发现是仿制品。于是他得出结论，便宜无好货。

小李得出的结论的思维方法，与下列()最为类似。

- A. 小菁是英语老师，她批阅了每一篇英语作文，得出结论，全班同学的英语水平有待提高
- B. 小兵检验一批电器，第一件合格，第二件是次品，于是得出结论，这批产品不全合格
- C. 这次试验失败的原因或是设备故障，或是操作失误，调查小组已经找到设备故障的证据，于是得出结论，可以排除操作失误的原因
- D. 小王的弟弟是左撇子，很调皮；小王邻居家的男孩也是左撇子，也很调皮。小王因此得出结论，左撇子都很调皮

85、能够代理的行为有()。

- A. 表见行为
- B. 法律行为
- C. 事实行为
- D. 占有行为

86、王某夫妇婚后生有一子甲。2005 年甲遇车祸不幸身亡，留有甲的妻子乙和女儿丙。乙和丙一起单独生活，没有赡养王某夫妇。2010 年王某去世，有权继承其遗产的是()。

- A. 乙和丙
- B. 王某的妻子和乙
- C. 王某的妻子和丙
- D. 王某的妻子、乙和丙

87、老王将自己所有的一头耕牛以 3000 元的价格卖给邻村的小李，双方约定 10 月 1 日小李将购牛款一次性付给老王，耕牛的所有权转移。但老王将继续使用这头耕牛到 10 月 15 日再交付给小李。那么他们采取的交付方式是()。

- A. 占有改定
- B. 简易交付
- C. 指示交付
- D. 拟制交付

88、甲对某危害结果没有阻止其发生的义务，如果该危害结果发生，甲的不作为行为()。

- A. 不可能构成犯罪
- B. 可能构成纯正的不作为犯
- C. 可能构成不纯正的不作为犯
- D. 可能构成手段不能犯

89、甲将自行车没有上锁就放在楼道内；邻居乙知道是甲的自行车，为防丢失，代为上锁。此案中乙的行为构成()。

- A. 无因管理
- B. 不当得利
- C. 共同侵权
- D. 违法行为

90、为着追求光和热，将身子扑向灯火，终于死在灯下，或者浸在油中，飞蛾是值得赞美的。在最后的一瞬间它得到光，也得到热了。俗语说“飞蛾投火，自取灭亡。”巴金在这里却赞美了飞蛾为追求光和热而死，一褒一贬，截然相反。应该怎样看待这个问题？

从下边四项中选择正确的一项是：

- A. 这两种说法是对立的，因此只能有一个是正确的
- B. 这是比喻的说法，比喻只要取其某种相似就能成立，因此这两种说法可以成立
- C. 飞蛾扑火是昆虫的趋光性，不是有意识的行为，褒和贬都是多余的
- D. 巴金的比喻有积极进取精神，是恰当的，俗话的比喻没有这种精神，是不恰当的

91、根据我国《婚姻法》的规定，下列说法错误的是()。

- A. 我国《婚姻法》鼓励晚婚晚育
- B. 夫妻一方因身体受到伤害获得的医疗费、残疾人生活补助费等费用属于夫妻共同财产
- C. 结婚年龄，男不得早于22周岁，女不得早于20周岁
- D. 一方专用的生活用品属于夫妻一方的财产

92、公民王某在意外事故中下落不明，依照《民法通则》的规定，计算宣告死亡的期间应当自()起。

- A. 利害关系人向法院申请之日
- B. 确认王某失踪之日
- C. 意外事故发生之日
- D. 意外事故发生之次日

93、甲、乙、丙三人在单位顶层露台饮酒，酒醉后一起将空酒瓶往楼下扔，恰好其中一个瓶子砸伤路人丁，但无法查明是谁扔的酒瓶。丁应向谁请求赔偿()。

- A. 只能向甲请求赔偿
- B. 只能向乙请求赔偿
- C. 只能向丙请求赔偿
- D. 有权请求甲、乙、丙承担连带责任

94、周某与叶某结婚后，又与柳某办理了结婚登记，周某与柳某的婚姻()。

- A. 有效
- B. 无效
- C. 可撤销
- D. 效力待定

95、海洋是各国经贸文化交流的天然纽带，2013年10月习近平总书记在访问东盟国家时提出要建设21世纪海上丝绸之路，将串起连通东盟、南亚、西亚、北非、欧洲等各大经济板块的市场链，如果从泉州出发，到达埃及的航海路线依次经过的大洋与海峡是：

- A. 南海—马六甲海峡—孟加拉湾—印度洋—阿拉伯海—红海

- B. 南海—孟加拉湾—印度洋—马六甲海峡—阿拉伯海—地中海
- C. 南海—印度洋—孟加拉湾—马六甲海峡—红海—阿拉伯海
- D. 南海—马六甲海峡—印度洋—孟加拉湾—阿拉伯海—红海

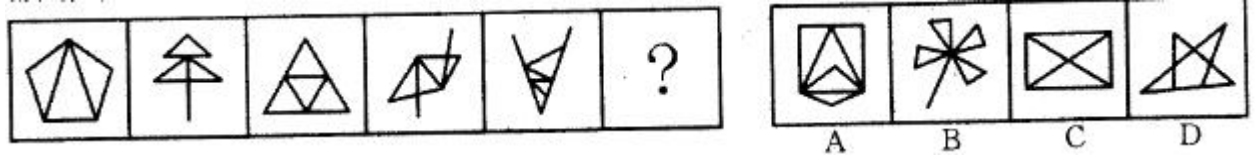
96、下列选项中，可以适用《合同法》的是()。

- A. 张某与王某的领养合同
- B. 李某与孙某的婚约
- C. 赵某与林某的专利许可使用协议
- D. 杨某的遗嘱

97、下列说法中正确的是()。

- A. 小兵与小丽未办理结婚登记，因感情破裂，小兵起诉至法院要求小丽返还给付的彩礼，法院应当支持小兵的诉讼请求
- B. 小张与小李结婚前，小张的父母购买了一套房屋表示赠与两人作为婚房，这套房屋在小张和小李结婚后属于小张个人财产
- C. 小丁与其妻子感情确已破裂，在其妻子中止妊娠 11 个月后，小丁起诉至法院要求离婚，法院不应受理
- D. 小红 18 岁时按村里习俗嫁给了杨某，半年后两人感情不和，小红诉至法院要求离婚，法院应判决离婚

98、所给的四个选项中选择最合适的一个填入问号处，使之呈现一定的规律性：



- A. 见图 A
- B. 见图 B
- C. 见图 C
- D. 见图 D

99、甲到某商场购物，在商场因踩上了一块西瓜皮而摔伤。对此，甲与商场发生了纠纷。对于该纠纷的性质及商场是否应该承担责任，下列表述正确的有()。

- A. 商场应承担违约责任
- B. 商场应承担侵权责任
- C. 商场应承担缔约过失责任
- D. 商场因意外事件不承担责任

100、()是民法私法属性最根本的体现。

- A. 主体的平等性
- B. 权利与义务对等性
- C. 等价有偿原则
- D. 民事责任与民事行为

三、问答题

- 101、你有一个很好的工作设想，你经过实际调查认为这个设想既科学又可行，但你的领导和同事们很固执，你采取什么办法说服他们与你合作？
- 102、你的专业性很强，而你的领导对技术操作不熟悉，经常叫你做这做哪，让你无可适从，你会怎么办？
- 103、如果你有意见与领导有冲突，你会怎么处理？
- 104、天气酷热，有老人晕倒在路边，你恰巧路过，你该怎么办？
- 105、现在农民交 20 元加入新型合作做医疗方案，解决了看病难的问题，对此谈谈你的看法？
- 106、9 月 20 日是全国“爱牙日”，为了普及社区居民的口腔健康知识，增强居民的口腔保健观念，你所在的医院将联合社区开展一次以“健康口腔，幸福家庭”为主题的宣传活动，领导让你负责此次活动，你将如何组织？
- 107、作为发热门诊医生，如果你发现一位甲型流感病毒 H7N9 亚型疑似病人，应该如何处理？
- 108、试列举不属于医疗事故的 6 种法定情形情形？
- 109、如果单位被某媒体不负责任的报道，给单位造成了负面影响，你作为信息宣传负责人应该怎么办？
- 110、为什么要录用你？
- 111、用“梦想、时代、承担、喝彩”四个词编成一段话，要求每个词必须用到，顺序不限。
- 112、上班期间，有一名群众来看病，你没有直接诊断，而是开单子让其先化验，该群众当场就说你是为了多收费才这么做的。对此，你怎么处理？
- 113、你是某医院新入职的医生，入职后你将怎样更好地开展工作？
- 114、你的病人确诊为癌症早期，你怎样把这个坏消息告诉他？
- 115、一位老太太去看病，医生简单询问病情后，建议她做些化验和仪器检查。老太太却赶紧说自己没大病，不需要化验和检查。医生开药时，老太太又坚持要少开药。如果你是接诊的医生，你会怎么办？
- 116、假如你被分配到不喜欢的地方工作你会怎么办？
- 117、小李为单位的表彰大会准备材料，连夜加班，但表彰名单出现了错误，上级领导因此批评了他。小李非常沮丧，你作为小李的直属领导如何安慰他？请现场模拟。

118、你如何看待个别医务工作者违反规定收受红包？你如果遇到这种情况，你会怎么做？

119、试述临床用血的目的

120、如何做一名合格的医务工作者？

四、问答题

121、自我评价一下你自己。作为一名医务工作者，你认为你有哪些优势和不足？

122、你是一名刚录用的医生，可是你们科室的护士长总是安排你去干一些护理工作，你如何处理？

123、公司现在有了新设备，产品的类别增加产量大大提高，作为质检人员，你会怎么做？

124、工作的过程中，遇到你与上级领导/医生的诊治有较大差异时如何处理？

125、如今，很多医生累倒在工作岗位上，甚至出现不明原因的死亡。对此，请谈谈你的看法。

126、如果你遇上了中东呼吸综合征病人，你会如何处理？

127、如果由于某媒体不負責任的报道，给你单位造成了负面影响，你作为信息宣传负责人，应该怎么办？

128、同事会表现，你不会表现，领导不喜欢你，你怎么办？

129、为了帮助更多的生活困难的家庭，现在准备新建三个物资捐助站，让你负责，你准备怎么做？

130、作为一名外科医生，在火车上为产妇接生算不算非法行医？说出你的法律依据？

131、你对未来职业最关注的是什么？

132、如何根据服务对象，如何提高服务质量？

133、现在有的工作人员上班玩游戏，你有什么措施可以避免？

134、一天你去上班，同事以异样的眼神看着你，让你不知所措，接着你发现网上有一个帖子，是关于你工作生活的不好言论，还有工作单位的地址电话，面对这帖子你怎么做？

135、2014年多地出台新规，进一步降低“多点执业”（俗称“走穴”）门槛，允许医师申请多点执业不再需要本单位出具“同意书”，同时一些地方多点执业地点数量不再设置上限。对此，你怎么看？你有何建议？

136、在一次医疗器械的宣传活动中，人群中有人说东西不好，你作为负责人应该如何处理？

137、吸烟有害健康，有人建议应在全国所有公共场所进行全面禁烟，也有人担心，烟草是我国重要的财政收入来源，全面禁烟会影响财政收入。对此，你怎么看？

138、医疗工作者被认为是救死扶伤的天使，给予人们生命的希望，但近年来医疗系统却暴露出许多不符合天使形象的事件，比如医生不负责任频出意外事故等，你对这种现象怎么看待？你认为该如何去改进？

139、防范医疗纠纷不可或缺的几种新观念。

140、请简述脏腑的生理功能。

参考答案与解析

1、 答案： B

本题解析：

甲不知乙的羊混入自己的羊群，甲的行为不构成有意识的“拾得”或“无因管理”。授权行为，在民法上一般指授予代理权，由代理人为本人为民事法律行为。本案中，很明显也不存在这种问题。据此，排除选项 A、C、D。《民法通则》第 92 条规定：“没有合法根据，取得不当利益，造成他人损失的，应当将取得的不当利益返还受损失的人。”据此，不当得利是指没有合法根据而获得利益并使他人利益遭受损失的事实。甲没有合法根据获取乙的羊的所有权，并使得乙受到损失，因此甲的行为构成不当得利。

2、 答案： C

本题解析：

本题属于数量类，考查的是三角形的数目，第一幅图形中有 3 个三角形，第二幅图形中有 4 个三角形，第三幅图形中有 5 个，第四幅图形中有 6 个，第五幅图形中有 7 个，由此可知，未知图形应该有 8 个三角形，所以选择 C 选项。

3、 答案： A

本题解析：

根据《物权法》第73条规定，建筑区划内的道路，属于业主共有，但属于城镇公共道路的除外。建筑区划内的绿地，属于业主共有，但属于城镇公共绿地或者明示属于个人的除外。建筑区划内的其他公共场所、公用设施和物业服务用房，属于业主共有。故A项说法错误。其余三项说法均正确。故选A。

4、 答案： D

本题解析：

合同的担保方式有抵押、质押、留置、保证四种，不包括订金。本题选D。

5、 答案： C

本题解析：

两组图的每一个图都是由相同的图形经过嵌套组成的。

6、 答案： B

本题解析：

《婚姻法》第21条规定：“父母对子女有抚养教育的义务；子女对父母有赡养扶助的义务。父母不履行抚养义务时，未成年的或不能独立生活的子女，有要求父母付给抚养费的权利。子女不履行赡养义务时，无劳动能力的或生活困难的父母，有要求子女付给赡养费的权利。禁止溺婴、弃婴和其他残害婴儿的行为。”由此可知，A、D两项说法错误。法律事实，是依法能够引起法律关系产生、变更、消灭的客观情况。法官的判决使甲与其父之间产生了每月1000元的生活费的新的法律权利义务关系，属于法律事实。因此，选项B正确，选项C错误。本题选B。

7、 答案： A

本题解析：

《婚姻法》第18条第2项规定，一方因身体受到伤害获得的医疗费、残疾人生活补助费等费用为夫妻一方的财产。

8、 答案： D

本题解析：

《婚姻法》第25条第1款规定：“非婚生子女享有与婚生子女同等的权利，任何人不得加以危害和歧视。”该法第24条规定：“夫妻有相互继承遗产的权利。父母和子女有相互继承遗产的权利。”该法第26条第1款规定：“国家保护合法的收养关系。养父母和养子女间的权利和义务，适用本法对父母子女关系的有关规定。”因此，A、B、C三项说法均正确。答案为D。

9、 答案： A

本题解析：

魏晋南北朝时期，西域民族的融合与同化，明显地表现出铁勒化趋势。这个趋势从两个方面体现：一方面，原与铁勒民族血缘亲近，或语言与风俗习惯基本相同的民族相互融合，如柔然、悦般、厌哒基本上融合于铁勒族中。另一方面，非铁勒族人，如康居人、乌孙人、月氏人和部分汉人中的一部分，被逐渐融合于铁勒人中。故本题答案选A。

10、 答案： A

以上内容仅为本文档的试下载部分，为可阅读页数的一半内容。

如要下载或阅读全文，请访问：

<https://d.book118.com/538074105143006116>