

专题02 生产、劳动与经营

【2022年真题】

1. (2022·全国乙卷)2022年,我国在企业所得税征收中加大研发费用加计扣除政策实施力度,将科技型中小企业加计扣除比例从75%提高到100%[实际扣除费用=研发费用(1+加计扣除比例)],用税收优惠机制激励企业加大研发投入,培育壮大新动能。该机制的作用路径是()

- A. 加大研发投入→减少扣除费用→少交所得税→增加净利润→扩大生产规模
- B. 多计扣除费用→增大应税所得→多交所得税→增加国家税收→获得研发激励
- C. 多计扣除费用→减少应税所得→少交所得税→增加净利润→加大研发投入
- D. 加大研发投入→增强企业创新→降低生产费用→赢得竞争优势→扩大产品市场

2. (2022·山东)在从“0”到“1”的原始创新成果孵化期,企业迫切需要资本支持,但因投资风险高,融资困难。某省探索出以“国有资本战略投资”撬动社会资本、共同服务创新企业发展的新路,通过产业政策和国有资本投资,解决了科技企业初创期社会资本不愿投、不敢投的问题,在前瞻性战略性新兴产业“育种育苗”,由此培育出了一大批高科技企业。该省做法取得成功的原因在于,国有资本()

- ①投资前瞻性战略性新兴产业增强了国有经济的控制力
- ②服务创新企业发展弥补了市场追求短期利益的缺陷
- ③通过撬动社会资本推动了国有企业混合所有制改革
- ④通过战略投资推动了有效市场和有为政府更好结合

- A.①③ B. ①④ C.②③ D.②④

3. (2022·湖南)某轮胎企业积极探索数字化转型,建立与消费者的直接联系,基于库存和销售数据及时调整产能计划,优化产品营销,提升服务体验,延展商业模式,个人零售成为新的业务增长点。2021年,在同期轮胎市场负增长的背景下,企业却实现了销量逆势增长近50%。数字化转型对该企业发展的作用体现在()

- ①改进制造工艺,降低生产成本
- ②精准对接市场,促进产品销售
- ③提升服务水平,优化客户体验
- ④提高产品质量,增加产品价值

- A.①③ B.①④ C.②③ D.②④

1. (2021全国甲卷) 对于传统百货商场来说, 超市和家电连锁大卖场的出现使其经营陷入困境, 而互联网电商的出现, 又使超市和家电连锁大卖场的经营受到冲击。上述现象背后的经济逻辑是()

- A. 商业模式创新提升成本优势
- B. 科技进步减少商品流通环节
- C. 数字营销增加商品的附加值
- D. 居民收入增长改变消费习惯

2. (2021全国乙卷) 2021年1月, 中国人民银行会同有关部门发布通知明确: 2020年6月出台的普惠小微企业贷款延期还本付息政策延期至2021年3月31日, 免收罚息; 对于2021年1月1日至3月31日期间到期的普惠小微企业贷款, 按市场化原则“应延尽延”, 继续实施阶段性延期还本付息。此举()

- ①意在减少小微企业偿债本金
- ②有利于维持小微企业正常经营
- ③能够加速小微企业资金周转
- ④有助于稳定小微企业就业岗位

A. ①③ B. ①④ C. ②③ D. ②④

3. (2021浙江卷) 新冠疫情暴发初期, 医用口罩、防护服等防疫物资迅速成为紧缺资源, 价格急剧飙升。后来越来越多的企业加入防疫物资生产大军, 价格迅速回落。由此可见()

- ①商品生产所耗费的社会必要劳动时间决定价格
- ②供求关系变化引起商品价格变化
- ③市场难以解决公共物品的供给问题
- ④企业会根据价格变化决定生产什么、生产多少

A. ①② B. ①③ C. ②④ D. ③④

4. (2021浙江卷) 2021年3月18日, 人力资源和社会保障局等部门向社会正式发布了集成电路工程技术人员、企业合规师、二手车经纪人等18个新职业信息。目前这些新职业整体上处于人才供不应求的状态。下列有关新职业的说法中, 正确的有()

- ①新职业的出现, 是劳动分工进一步发展的产物
- ②新职业的出现, 是就业形式多样化的结果
- ③向往新职业的劳动者应主动提高相关技能

④从事新职业的劳动者能获得更高报酬

A.①③ B.②③ C.①④ D.②④

5. (2021广东卷) 2021年3月, 几大国产家电企业不仅没在春节后进行淡季降价促销, 反而不约而同决定上调其系列产品的价格。下列对这一反常现象的解释合理的是()

- ①新冠肺炎疫情尚未得到有效控制, 市场需求低迷
- ②原材料价格快速上涨, 给生产企业带来成本压力
- ③消费结构升级, 倒逼产品不定期更新换代和性能升级
- ④人民币升值使产品出口增加, 导致国内市场供给不足

A.①② B.①④ C.②③ D.③④

6. (2021河北卷) 强化监管并有效应对保险业风险是防范化解重大金融风险的重要组成部分。保险具有风险防范的功能, 但受各种因素影响, 保险公司自身也面临着风险。某市一保险公司提供的服务对当地金融部门、实体经济运作至关重要, 且占有很高的市场份额并少有替代品。若因某种原因, 该公司风险爆发, 那么可能的风险传导或风险化解路径是()

- ①保险公司关键功能弱化→ 中断对实体经济保险服务→ 投保企业管理水平下降
- ②保险公司经营陷入困境→ 直接关联的金融机构风险暴露→ 金融市场异常波动
- ③保险公司依法破产→ 破产清算并优先保护投资者利益→ 防范化解社会风险
- ④政府与相关优势企业发挥作用→ 促进保险公司兼并重组→ 化解金融市场风险

A.①③ B.①④ C.②③ D.②④

7. (2021湖南卷) “十三五”期间, 我国居民收入水平稳步提高, 恩格尔系数整体持续下降, 服务消费迅速增长, 绿色、智能、健康类商品销售日益红火, 居民消费向个性化多样化转变。由此可以推断出()

- ①居民收入持续增长使食品消费支出不断减少
- ②服务消费迅速增长能促进消费结构不断优化
- ③居民消费观念的变化是消费升级的关键因素
- ④消费升级能为塑造新的经济增长点提供引领

A.①③ B.①④ C.②③ D.②④

2020年真题

1. (2020·新课标I) 新冠肺炎疫情发生以后, 医用口罩、防护服、消毒液等防疫物资一度紧缺, 不少大型制造企业开启了“跨界”生产之路, 如某电器集团紧急成立医疗子公司, 迅速调整生产计划, 很快向市场

提供医疗物资生产设备和医用口罩。企业短时间内紧急转产、快速投产，说明()

- ①我国相关制造业有完整灵活的供应链
- ②市场需求对企业生产有重要导向作用
- ③企业具有转产防疫产品的前瞻性战略
- ④企业可以通过转产快速化解市场风险

A. ①② B. ①④ C. ②③ D. ③④

2. (2020·新课标II) 2016~2019年某国工业企业的成本和利润率指标变化如图所示。



2016~2019年某国工业企业的成本和利润率指标变化

下列政策措施中，有利于保持图中指标变化趋势的是()

- ①健全知识产权市场，加速科技成果转化
- ②允许企业将研发费用进行税前抵扣
- ③鼓励与引导企业承担更多的社会责任
- ④制定严格的废水、废渣、废气处理标准

A. ①② B. ①③ C. ②④ D. ③④

3. (2020·新课标III) 某果园尝试新的运营模式：认养人在年初按1000元/年认养5株桃树，由果园代管，果园将收获的桃子寄给认养人。合同约定， 寄送的桃子数量由桃树的实际收成确定；果园承诺有机种植，并定期通过视频或文字向认养人汇报桃子的生长情况；认养人可以去果园参观游览、参加养护采摘等活动。果园的桃树很快被认养一空。该模式的吸引力在于()

- ①果园可提前获得销售收入，降低经营风险
- ②果园可扩大种植规模，提高生产效率
- ③认养人可获得丰富的消费体验，满足个性化需求
- ④认养人可全程参与果园的生产经营，维护自身权益

A.①②

B.①③

C.②④

D.③④

4. (2020·新课标III)“银税互动”是指税务、银保监部门和金融机构合作,帮助中小企业将纳税信用转化为融资信用,为其贷款提供便利,实现“以税促信、以信申贷”的目标。银行根据企业纳税信用等级确定免抵押、免担保的信用融资额度。到2020年4月末,“银税互动”贷款余额5732亿元,同比增长74%;贷款户数75万户,同比增长114%。“银税互动”的积极作用是()

①放宽融资条件,纾解企业资金困难

②提高存贷利差,增加银行利润

③鼓励诚信纳税,降低企业融资成本

④有效控制信贷风险,改善银企关系

A.①②

B.①③

C.②④

D.③④

5. (2020-江苏卷)某企业从2017年第一家门店开业到海外上市,仅用了不到两年的时间。2020年4月,该公司却爆出22亿元销售收入造假丑闻,被提起集体诉讼和要求退市。材料说明()

①企业须维护信誉和形象

②企业应积极开拓国际国内两个市场

③企业应该强化风险控制

④良好的市场秩序要靠市场规则维护

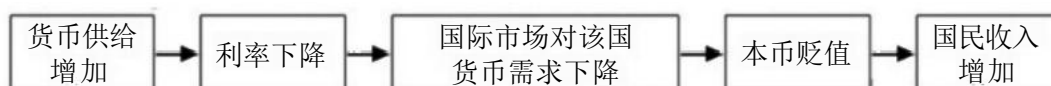
A.①③

B.①④

C.②③

D.②④

6. (2020·江苏卷)在开放经济浮动汇率制条件下,一国货币政策会引起利率变化进而影响汇率变化,其传导路径如图所示。由此可以推断()



A. 利率是由该国货币供给决定的

B. 汇率是由国际市场的货币需求决定的

C. 利率下降将导致国际资本流出

D. 本币贬值减少了国外对本国产品需求

7. (2020·山东卷)某国有航空物流公司自2016年底开启混合所有制改革之后,用18.45亿元国有资本,通过引入合计股权比例为45%的非国有资本及10%的核心员工持股,有效带动了22.55亿元的非国有资本投入,2018年实现利润总额同比增长40.65%。对该公司而言,上述改革可以()

①增强国有资本控制力,保持国有资本的绝对控股地位

②实现由全体股东对债务承担无限责任，减轻债务负担

③发挥股权激励效应，调动员工积极性

④通过引入非国有资本，促进各类资本优势互补

A.①② B. ①④ C.②③ D.③④

8. (2020-山东卷)2020年，我国政府继续加大“稳就业、稳金融、稳外贸、稳外资、稳投资、稳预期”工作力度，维护经济发展和社会稳定大局。下列传导正确的是()

①降低企业社会保险费率→减轻企业用工负担→维持岗位存量稳定→稳就业

②增加银行贷款额度→提高企业直接融资比重→降低银行不良贷款率→稳金融

③推进新型基础设施建设→开拓新的行业发展空间→激发企业投资热情→稳投资

④深化养老服务改革→企业参与养老服务供给→发挥市场的再分配调节功能→稳预期

A.①② B. ①③ C.②④ D.③④

9. (2020·浙江卷)传统车企和社会资本的纷纷涌入，加快了我国新能源汽车产业发展，也带来了盲目扩张等一系列问题。2017年高峰时期，全国新能源汽车的规划产能总量超过设定目标10倍。面对这一状况，根据新发展理念，政府应()

A. 调整产业政策，抑制新能源汽车产业发展

B. 转变经营战略，消化新能源汽车过剩产能

C. 运用经济手段，加大对新能源车企的补贴

D. 加强科学调控，助推新能源车企优胜劣汰

2019年真题

1. (2019·新课标全国卷 I) 存款准备金是商业银行为保证客户提取存款和资金结算需要而按规定向中央银行缴存的部分存款。存款准备金占商业银行吸纳存款总额的比率就是存款准备金率。2018年以来，中国人民银行先后6次降低存款准备金率。降低存款准备金率是为了

① 加快货币流通速度，稳定物价水平

② 扩大投资及社会支出，刺激经济增长

③ 满足客户资金结算需求，防范挤兑风险

④ 增加信贷资金供应，提高商业银行信贷能力

A.①② B.①③ C.②④ D.③④

2. (2019·新课标全国卷I) 某民营上市企业的资产负债率高达80%。因面临市场占有率持续下降、融资困难等经营困境, 2019年该企业主动引入战略投资者并出让35%的股权。该企业此举的目的是

- ①通过股权转让, 逐步退出市场
 - ②引入外部股东, 激发企业活力
 - ③调整资本结构, 获得股权融资
 - ④利用兼并重组, 扩大企业规模
- A. ①② B. ①④ C. ②③ D. ③④

3. (2019. 新课标全国卷II) 2018年, 全国居民人均消费支出19853元, 同比增长6.2%; 全国社会消费品零售总额同比增长9.0%; 最终消费支出对国内生产总值增长的贡献率为76.2%, 比上年提高17.4个百分点; 基本必需品消费支出占比下降, 通讯器材类和化妆品类的消费支出分别同比增长11.7%和13.5%。上述信息表明

- ①消费成为拉动经济增长的首要因素
 - ②居民消费结构改善, 恩格尔系数下降
 - ③消费品供给丰富, 产业结构日趋优化
 - ④高档品消费增加, 居民消费趋于理性
- A. ①② B. ①④ C. ②③ D. ③④

4. (2019. 北京卷) 2022年北京将举办冬奥会, 这给冰雪产业带来了新的发展机会。冰雪产业主要包括冰雪装备、冰雪旅游、冰雪赛事、冰雪运动培训、冰雪营销五大板块。下列选项正确的是

- A. 对冰雪装备企业减税降费, 会提高冰雪装备产品的价值
- B. 冰雪营销产业的发展会增加冰雪旅游消费的需求弹性
- C. 冰雪赛事发展会增加冰雪运动培训产业的就业机会
- D. 冰雪产业链的延伸使五大冰雪产业的替代性增加

5. (2019·江苏卷) 2018年11月16日深交所宣布, 因某企业违法生产、销售狂犬病疫苗, 对其正式启动强制退市机制。该企业成为退市规则修订后首家因危害公共健康安全而退市的上市公司。材料表明

- ①任何企业都必须诚信合法经营
 - ②政府主要以经济手段调控股票市场
 - ③市场调节具有盲目性和滞后性
 - ④股票投资是一种高风险的投资方式
- A. ①② B. ①④ C. ②③ D. ③④

6. (2019. 天津卷) 年初, 小高将M元存为2年定期储蓄, 年利率为2.25%; 将N元以每股5元的价格购买某股票, 该股票在当年年底跌到每股4元, 第二年年底涨到每股6元时, 小高把它卖了出去。若

忽略其它费用，小高两年投资总收益的计算方式为

- A. $M \times 2.25\% + N \div 5 \times (5-4)$
- B. $M \times 2.25\% \times 2 + N \div 5 \times (6-5)$
- C. $M \times 2.25\% + N \div 5 \times (6-5)$
- D. $M \times 2.25\% \times 2 + N \div 5 \times (6-4)$

7. (2019. 浙江4月)某互联网平台仅依据医疗机构的竞价排名向网民提供医疗信息，引发医疗乱象，受到严厉惩处。这告诉我们

- A. 企业的经营具有自发性、盲目性
- B. 医疗行业的经营不能让市场来调节
- C. 互联网平台的发展要引入市场机制
- D. 市场主体应当遵守市场道德

8. (2019·浙江4月)在“互联网+”时代，基于互联网数字技术的共享经济快速发展，网约车、在线短租、共享医疗等新业态层出不穷，改变了人们的衣食住行。2018年，共享经济市场交易额达2.9万亿元，同比增长41.6%。这表明

- ①消费推动技术进步
 - ②生产决定消费方式
 - ③经济结构实现了战略性调整
 - ④创新给经济发展带来新动能
- A. ①② B. ③④ C. ①③ D. ②④

9. (2019. 浙江4月)下表是2012—2017年国际直接投资回报率情况。

国际直接投资回报率(2012—2017年) 单位：%

| 流入地 | 2012年 | 2013年 | 2014年 | 2015年 | 2016年 | 2017年 |
|--------|-------|-------|-------|-------|-------|-------|
| 世界 | 8.1 | 7.8 | 7.9 | 6.8 | 7.0 | 6.7 |
| 发达经济体 | 6.7 | 6.3 | 6.6 | 5.7 | 6.2 | 5.7 |
| 发展中经济体 | 10.0 | 9.8 | 9.5 | 8.5 | 8.1 | 8.0 |
| 转型经济体 | 14.4 | 13.9 | 14.6 | 10.2 | 11.1 | 11.8 |

从表中可以看出

- ①生产领域的国际分工与协作不断深化
 - ②世界经济的发展具有不平衡不稳定性
 - ③不同类型经济体的国际直接投资回报率存在不平衡性
 - ④国际直接投资总体上将会向发展中经济体和转型经济体倾斜
- A. ①② B. ②③ C. ③④ D. ①④

1. (2018年全国I卷)企业聚焦品牌管理和供应链管理,控制产品企划和营销网络,将“设计、生产、运输配送”环节外包,与供应商、加工商和物流企业建立联盟,通过联合开发产品、数据共享,加快市场反应速度。该模式体现的企业经营理念是

- ①整合上下游资源,实现优势互补
- ②通过专业化分工,提高效率
- ③通过兼并收购,扩大企业规模
- ④增加市场份额,提高利润率

A.①② B.①④ C.②③ D.③④

2. (2018年全国I卷)我国快递业竞争日趋激烈,快递服务平均单价连续6年下滑,2017年降至12.37元。在此背景下,若其他条件不变,能引起快递市场供给曲线从S移动到S' (见图4)的是

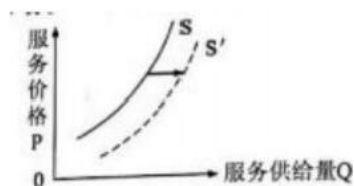



图4

- ①放宽市场准入,吸引外商投资
- ②工资成本上涨,管理费用增加
- ③运用人工智能,提高劳动效率
- ④网民人数上升,网购数量增加

A.①② B.①③ C.②④ D.③④

3. (2018年全国III卷)我国2013~2017年全国日均新登记企业数如图5所示,据此可以推断出



- A. 民间资本投资逐年增长
- B. 企业投资回报率逐年提高

- C. 企业的营商环境不断优化
- D. 新增就业人口与新增就业岗位缺口逐年加大

4. (2018年全国III卷)中央《关于完善农村土地所有权承包权经营权分置办法的意见》提出,实行农村土地所有权、承包权、经营权分置并行。着力推进农业现代化。“三权分置”改革对推进农业现代化的影响路径是

- ①实现土地的适度规模经营
- ②促进土地经营权合理流转
- ③提高农业生产率
- ④明晰土地产权关系

A. ①→②→③

→④

B. ③→④→①→②

C. ④→②→①→③

D. ④→①→②→③

5. (2018年北京卷)“米面粮油,外卖帮你搬又能扛;感冒发烧,外卖代买常用药;上门烧菜、上门洗车,人与服务的距离被大大拉近。”如今,这类服务随处可见,被趣称为“懒人经济”。下列分析正确的有

- ①社会分工细化,满足多样化需求
- ②扩大相关服务交易规模,促进就业
- ③增加享受资料支出,助长非理性消费
- ④增加相关商品的生产成本,提高价格

A. ①②

B. ①③

C. ②④

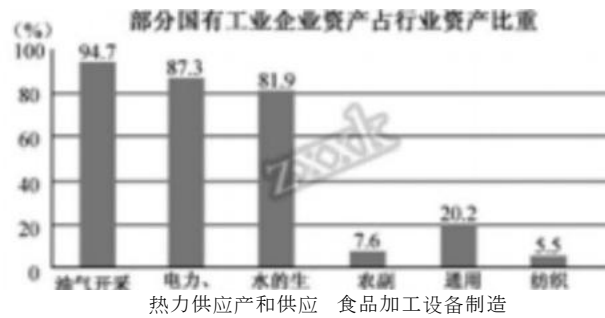
D. ③④

6. (2018年天津卷)为践行“绿水青山就是金山银山”的理念,我国不断加大环境保护治理力度,2018年开始征收环境保护税。若甲公司生产的产品被征收较高的环境保护税,假定其他条件不变,由此引起的市场变化是

- A. 甲公司的产品供给增加
- B. 消费者对甲公司的产品需求增加
- C. 甲公司的产品供给减少
- D. 消费者对甲公司的产品需求减少

7. (2018年江苏卷)2017年,我国规模以上国有控股工业企业拥有资产总计42.5万亿元,占全部规模以上工业企业资产的比重由2012年的40.6%下降到37.9%。部分行业资产比重如图1,其中,农副食品加工、通用设备制造、纺织行业分别从15%、35.7%、12.8%下降到7.6%、20.2%、5.5%。国

有经济在某些行业比重下降



图一

- A. 未改变国有经济的主导作用
- B. 使非公有资产在社会总资产中占优势
- C. 不利于国有经济的整体发展
- D. 使非公有制经济对国民经济控制力上升

8. (2018年江苏卷)僵尸企业一般指那些债务严重、入不敷出,依靠银行贷款或政府补贴而得以生存的企业。处置僵尸企业是去产能的关键,近年来,我国通过淘汰等方式不断加大对僵尸企业的处置力度。

处置僵尸企业

- ①能够促进资源的合理配置
- ②可以避免我国国有资产流失
- ③体现了国家宏观调控职能
- ④能够维护市场公平竞争环境

- A. ①② B. ①③ C. ②④ D. ③④

9. (2018年江苏卷)某地将激活闲置农房与农村产权交易改革相结合,融合推进“确权+流转+增收”,将集体和个人闲置农房用于发展民宿、农事体验、健康养老等乡村经济新业态,带动资金、人才、技术等要素从城市向农村回流,有效促进了乡村经济发展和农民增收。材料表明

- ①发展乡村经济必须改变农村的土地所有权
- ②生产关系变革是促进乡村经济发展的动力
- ③经济业态创新是实现乡村振兴的重要手段
- ④城乡一体化是解决“三农”问题的根本途径

- A. ①② B. ①④ C. ②③ D. ③④

9. (2018年江苏卷)以电商为代表的经济形式已经成为提升中国经济活力的重要支点。2017年7月国家实施减税新政,将小微企业应纳税所得额上限由30万元提高到50万元,海量的中小微网店在更为宽

松的税收新政下为我国经济发展注入了新的活力。这是因为，减税有利于

- A. 进一步完善市场体系
- B. 缩小收入差距
- C. 激励劳动者自主创业
- D. 强化财政作用

10. (2018年江苏卷)某企业依托“互联网+智能制造”智能管理系统，成功解决了规模生产和需求差异化的矛盾，产品遍布全国并远销30多个国家和地区，从一个名不见经传的企业一跃成为行业翘楚。材料表明，该企业的成功得益于

- A. 实现了供需的有效对接
- B. 实施“走出去”战略
- C. 塑造了良好的企业形象
- D. 注重产品的品牌效应

11. (2018年高考海南卷政治5)图1反映某服装生产企业基于“互联网+”的智能定制生产模式。与传统“设计—生产—门店销售”的模式相比，该生产模式的优势在于：

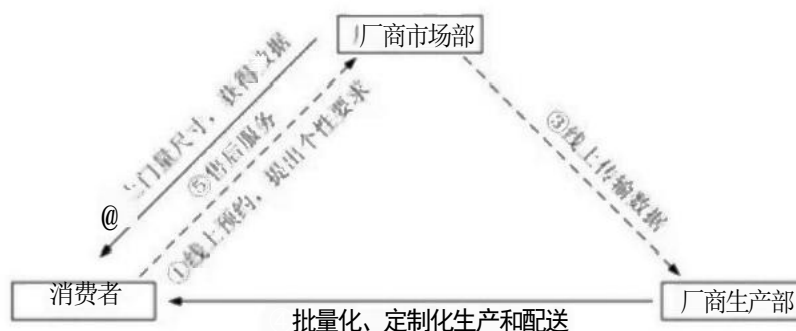


图 1

- ①减少从生产到消费的环节，加速商品流通
- ②以线上替代门店，提升消费者的消费体验
- ③既有批量生产的规模效应，又能满足消费者个性化需求
- ④促进企业生产从劳动密集型向资本密集型转变

- A. ①②
- B. ①③
- C. ②④
- D. ③④

2017年真题

1 (2017年高考全国2文综政治15)2016年7月国务院印发《关于推动中央企业结构调整与重组的指导意见》，明确下一阶段央企改革的重点工作：巩固加强一批、创新发展一批、重组整合一批、清理退出一批。新一轮央企改革的目的在于

- ①推动资源整合，实现国有资本的优化配置
- ②增强央企活力，不断提高国有经济的控制力和影响力

③促进央企强强联合，提高国有经济在国民经济中的比重

④完善我国生产资料所有制，巩固公有制经济的主导地位

A.①②

B.①④

C.②③

D.③④

2(2017年高考江苏卷政治1). 2017年2月5日，新世纪以来第14个关注“三农”的中央一号文件发布。该文件指出，在新的历史阶段农业农村工作的主线是

A. 进一步增强农村发展活力

B. 全面深化农村改革，加快推进农业现代化

C. 深入推进农业供给侧结构性改革

D. 加大改革创新力度，加快农业现代化建设

3(2017年高考江苏卷政治6). 债转股是解决债务清偿问题以实现企业发展的重要手段之一。甲企业拖欠乙企业3亿元货款，到期后无力偿还，经过谈判，约定乙企业将所持有的甲企业债权转为股权，即乙企业持有甲企业51%的股份，将甲企业重组为一家有限责任公司。这意味着

①甲企业延期偿还所欠乙企业债务

②乙企业获得甲企业经营控制权

③乙企业可将股份在甲企业内转让

④乙企业有权再将股权转为债权

A.①②

B.①④

C.②③

D.③④

4(2017年高考江苏卷政治9). 某村开展集体资产确权到户和股份合作制改革，实现了农村“资源变资产、资金变股金、农民变股东”。在立足供需对接的基础上，发展了农村集体经济，赢得了农民高度认可。材料表明，发展农村经济应

①不断完善农村生产关系

②以市场为导向优化农业产业结构

③不断增加农业资金投入

④激发非公有制经济活力和创造力

A.①②

B.①④

C.②③

D.③④

5(2017年高考江苏卷政治10). 某企业基于自身发展战略，积极加速国际化布局，收购了国外一家著名同类生产企业，产生了布局优化协同效应、创新发展协同效应、产品服务协同效应等，驱动其快速成长。材料表明，国际并购

A. 是提高市场占有率的重要手段

- B. 能够消除企业经营风险
- C. 能确立企业在行业中的主导地位
- D. 提高了企业资本回报率

6(2017年高考北京卷政治11)“马太效应”指一种强者愈强、弱者愈弱的两极分化现象。在市场竞争中,由于需求方的因素导致企业“马太效应”式分化的是

A. 大而不倒——大型企业金融机构的倒闭会给国民经济带来重大风险,因此政府在其面临危机时常会出手援助,而对小型金融机构可能坐视不管

B. 规模经济——规模更大的企业可以以更低的平均成本进行生产,从而比小企业更有竞争优势

C. 网络效应——聊天工具、在线游戏等网络产品,影响其吸引力的重要因素是已有用户数量的多少,因此用户数量较多的企业更能吸引新用户

D. 劣币驱逐良币——当缺乏透明、公正的市场规则时,侵权盗版的企业可能大行其道,积极研发、依法经营的企业却难以立足

7(2017年高考全国3卷文综政治14).为实施精准扶贫方略,2016年我国对120万个贫困家庭的新增劳动力进行职业教育培训,实现一人长期就业,全家稳定脱贫。这一举措的依据是

- ①劳动者就业是社会存在和发展的基础
- ②促进就业是我国分配制度的基本要求
- ③职业培训促进就业,就业是民生之本
- ④共同富裕是中国特色社会主义的根本原则

A.①②

B.①③

C.②④

D.③④

2016年真题

1. (2016·高考浙江文综政治·25)作为农村集体经营性建设用地入市改革试点,某村将闲置多年的20亩村办企业用地的使用权入市交易,并从交易收益拿出615万入股某商旅综合公司,使村民每年获得了分红。这告诉我们()

- A. 股份合作制是农村集体经济的重要形式
- B. 深化改革能够解放和发展农村生产力
- C. 只有壮大农村集体经济才能实现共同富裕
- D. 按土地要素贡献分配成为农村分配的主要方式

2. (2016·高考浙江文综政治·26)某市政府采取“一企一策”的办法推动“僵尸企业”问题的解决。对符合破产条件的企业及时引入破产程序,对兼并重组后可以重生的企业促其兼并重组,对无意愿无能力继续生产的企业依法收回用地,盘活存量土地,从而促进了该市经济的快速发展。上述材料表明 ()

- ①政府主要通过行政手段处置僵尸企业
- ②破产有利于淘汰落后企业
- ③破产和兼并有助于压缩企业规模
- ④兼并可以提高企业和整个社会的资源利用效率

A. ①② B. ①③ C. ③④ D. ②④

3. (2016·高考天津文综政治-5)大多市场风险是可以提高保险手段化解的。以食品安全责任险为例,企业投保后一旦出现问题,保险公司可以按约及时补偿受害人,同时保险公司“连餐馆用啥碗都管”,有利于督促企业安全管理。食品安全责任险

- ①是社会保险的重要组成部分
- ②发挥了商业保险的经济补偿功能
- ③是政府规范市场经济秩序的重要方式
- ④促进食品企业提高产品质量,诚信经营

A. ①② B. ③④ C. ②④ D. ①③

4. (2016·高考天津文综政治·6)《中共中央、国务院关于深化体制机制改革、加快实施创新驱动发展战略的若干意见》强调,要鼓励各类企业通过股权、期权、分红等激励方式,调动科研人员创新积极性。实施股权激励方式

- A. 是我国分配制度的重大变革
- B. 是生产要素按贡献参与分配的体现
- C. 是我国按劳分配制度的完善和与发展
- D. 保障了科研人员在企业发展中的主体地位

5. (2016·高考江苏文综政治·12)熔断机制最早是美国为控制股市异常波动风险采取的暂停交易措施,在美国起到了预期作用。我国于2016年1月1日起也开始实施熔断机制,但实践中负面影响大于正面效应,1月8日暂停。材料表明

- ①政府应增强宏观调控的科学性
- ②要正确处理政府和市场的关系
- ③股市具有高收益高风险并存的特点

④投资多元化可以降低投资风险

A.①②

B.①③

C.②④

D.③④

6. (2016·高考上海政治·17)网贷平台上一款号称年利率3%的“低息贷款”，若借10000元，需先扣除2000元“保证金”（到期抵充应还本金）。一年后需除归还本金及约定利息外，还得支付1000元“管理费”。为帮助同学们认清“低息”的真相，陈同学计算出该17.网贷平台上一款号称年利率3%的“低息贷款”，若借10000元，需先扣除2000元“保证金”（到期抵充应还本金）。一年后需除归还本金及约定利息外，还得支付1000元“管理费”。为帮助同学们认清“低息”的真相，陈同学计算出该产品的利率实际应为

A.3.75%

B.13%

C.16.25%

D.33%

7. (2016·高考上海政治·18).办网站不能一味追求点击率，开网店的要防范假冒伪劣，做平台的不能成为谣言扩散器，做搜索的不能仅以给钱的多少作为排位的标准。为促进网络健康发展，网络公司应

A. 完善法律、加强监管

B. 规避风险、明确网民责任

C. 加强自律、守法经营

D. 完善技术、提高经济效益

8. (2016·高考全国I 文综政治·16)2015年8月，国务院批复的《基本养老保险基金投资管理办法》规定，养老基金在投资国债、银行债券等债权性资产的同时，可以投资股票、股票基金，但投资股票等权益类资产的比重不超过30%。上述规定的主要目的是

A. 增强资本流动性，平抑资本市场的波动

B. 扩大投资渠道，实现投资收益的最大化

C. 优化投资组合，追求收益与风险的平衡

D. 提高投资安全性，促进资本市场的增长

9. (2016·高考全国I 文综政治·15)2015年，某国宏观经济形势如下：产能利用率不足；固定资产投资同比下降4.0%；居民消费价格指数(CPI)增幅从2.5%下跌至1%，低于国际公认的合理值3%。据此，预防通货紧缩成为关注的焦点。若不考虑其他因素，可能引发通货紧缩的传导路径是

①产能过剩→工业品供过于求→工业品价格走低→企业利润下滑

②消费低迷→消费品供过于求→消费品价格走低

③社会总供给大于社会总需求→物价总水平持续下跌

④企业投资萎缩→失业率上升→居民收入下降

B.④→①→③→②

C.①→③→④→②

D.④→②→①→③

10. (2016·高考全国Ⅱ文综政治·15)近年来,服装企业越来越重视品牌建设。2015年7月,我国某服装企业现金收购意大利一家著名服装公司51%的股权,利用其品牌、营销渠道进入国际市场。该收购可以助力企业

- ①创新利用外资的方式
- ②改善股权结构和合理结构
- ③加强国际合作,扩大产品市场
- ④丰富品牌组合,满足差别化需求

A.①②

B.①④

C.②③

D.③④

2015年真题

1 (2015年高考海南政治5)在下列对种植大户的收益率远高于普通农户的原因分析中,能够成立的是 ()

- ①种植规模大
- ②种植品种结构优
- ③白菜种植占比小
- ④玉米种植占比大

A.①②

B.①④

C.②③

D.③④

2 (2015年高考上海政治15)国内某电器集团的机器人车间里,每条流水线配有8台机器人作业,这些机器人几乎承担了车间的全部生产。从生产要素角度看,这些机器人属于 ()

- A. 科技要素
- B. 资本要素
- C. 劳动要素
- D. 管理要素

3 (2015年高考海南政治4)某村一个种植大户和一个耕种自有承包地的普通农户在2014年种植作物的品种和投入产出情况如下表所示。回答问题。

| 作物品种 | 种植大户 | | | 普通农户 | | |
|------|---------|-------|--------|---------|-------|-------|
| | 种植面积(亩) | 投入(元) | 产出(元) | 种植面积(亩) | 投入(元) | 产出(元) |
| 土豆 | 50 | 45000 | 120000 | | | |
| 玉米 | 100 | 20000 | 98000 | 10 | 3000 | 10000 |
| 白菜 | 30 | 9000 | 90000 | | | |
| 小麦 | | | | 15 | 5500 | 14000 |
| 合计 | 180 | 74000 | 308000 | 25 | 8500 | 24000 |

从表中可以看出()

- ①种植白菜的投入产出比高于种植土豆
- ②种植玉米的投入产出比低于种植小麦
- ③投入产出比最小的是种植小麦
- ④普通农户种植玉米的投入产出比高于种植大户

A.①② B.①③ C.②④ D.③④

4(2015 年高考四川文综政治2) “数以亿计的人可在自家屋顶、田间建立一个小型发电厂，只要它覆盖着太阳能电池板，而且通过互联网和电网与世界连接相互交易”，这是“互联网+能源”的一个远景和行动。其重大意义在于

- ①每个人都可以是电力消费者也可以是生产者
- ②可以极大地促进能源的清洁替代和绿色替代
- ③能源供给结构将实现电能化且价格十分低廉
- ④“互联网+能源”能全面推动各传统产业升级

A.①② B.①③ C.②④ D.③④

5(2015年高考上海政治14)公有制经济和非公有制经济在我国经济中的地位不同，公有制经济()

- A. 在各地区中居优势地位
- B. 在国民经济中居主体地位
- C. 在市场经济中居基础地位
- D. 在各行各业中居支配地位

6. (2015年高考江苏政治5)某科技公司凭借互联网思维、扁平灵活的管理架构和独特的供应链能力，成为互联网时代的新宠，仅用5年时间跃升为世界第三大智能手机生产商。材料表明

- A、互联网应用是企业发展的根本原因
- B、满足市场需求是企业成功的关键
- C、自主创新能促进企业竞争优势形成

D、获取利润是企业经营的直接目的

7. (2015年高考上海政治21)有专家指出, C2B、O2O、P2P 是未来商业模式的三大发展趋势。

| 商业模式 | C2B (Customer to Business) | O2O (Online to Offline) | P2P (Peer to Peer) |
|------|---|---|--|
| 案例 | 某电商包下12条大牌企业生产线,通过大数据筛选消费者评价,确定产品功能、颜色喜好、定价区间,推出12种电商定制款。 | 某电商与线下一万多家便利店合作,利用大数据分析社区居民需求,把商品提前送到便利店。顾客下单后,15分钟内就能收到货物。 | 某网站用户可把家中房间的空闲时间等信息登记在网站上、出租旅行者。旅行者可获得便宜的住所,房东可获得租金收入。 |

据表内容概括,未来商业模式的共同特征是()

- A. 更专注提供优质产品和服务
- B. 加强线下布局提高物流速度
- C. 利用大数据实现产销一体化
- D. 降低信息成本提高资源利用率

8. (2015年高考广东文综政治24)2014年5月,团省委与某股权交易中心共同发起设立国内首个“青年大学生创业板”股权众筹平台。投资机构出资入股,与创业公司共享收益、共担风险。截止当年年底,该平台累计上板项目112项,其中55项与投资公司达成投资意向,融资近5000万元。该股权众筹平台()

- A. 创新了公司基本组织形式
- B. 扶持了大学生创业,改善了产业结构
- C. 实现了项目与资源的有效对接
- D. 使投资公司定期获得稳定的经营收益

9. (2015年高考山东政治26)随着经济社会发展,我国企业生产经营逐步进入高成本时代,劳动力成本不断上升,能源资源短缺约束加剧,生态环境成本与日剧增,面对这些挑战,企业应当()

- A. 缩减生产经营规模,减少产品的生产数量
- B. 创新经营管理模式,提高生产要素利用率
- C. 缩减个别劳动时间,提高单位商品价值量
- D. 提高能源消费税税率,减少能源资源消耗

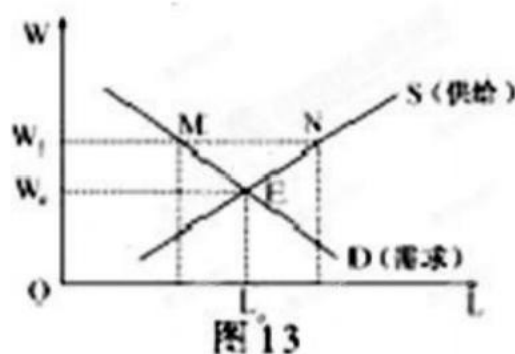
10. (2015年高考四川文综政治5)短短几年间, M 创新科技有限公司从仅有几个合伙人的公司发展成为全球民用小型无人机的领航者。该公司成功的重要原因,在于它专注于产品的态度,在于它“积极尽志,求真品诚”的企业精神。这说明

- A. 优秀企业文化对企业发展起决定作用
- B. 打造优秀企业文化是企业发展的目的

C. 科技进步是企业文化创新的重要动力

D. 优秀企业文化能有效提升企业竞争力

11. (2015年高考福建文综政治33)如果没有政府最低工资的影响, 劳动市场通过供求力量将自动达到均衡。如图13所示, 在E 点实现均衡的劳动价格和劳动供求数量。现假定政府制定的最低工资 W_1 高于市场均衡价格, 由此带来的影响, 一般情况下, 最合理的是()



A. 推动企业科技创新, 采用先进技术

B. 强化政府经济监管, 激发劳动热情

C. 增加劳动市场需求, 减轻就业压力

D. 优化企业人才结构, 增强竞争优势

12. (2015年高考上海卷19) 旅游体验师、英语导购、网络课件设计师、农场经理人、宠物美容师……自新职业信息发布制度建立以来, 我国已正式确认120 余个新职业。事实上, 还有大量正在兴起的新职业未被确认。不断涌现的新职业将()

A. 推动现代服务业的发展

B. 提升消费者的消费水平

C. 导致一些传统职业消亡

D. 提高生产者专业化程度

13. (2015年高考重庆卷1) “亲, 你也可以开店哦。”微店作为科技时代新产物, 只需手机号码即可开通。如果说淘宝像商场, 大而全, 微店就像路边小店, 胜在方便, 它们各有市场。微店的兴起表明

A. 微店比淘宝更符合社会需求

B. 微店代表了更高生产力水平

C. 科技进步可以促进大众创业

D. 企业微型化是未来发展趋势

14. (2015年高考海南政治7)2014年11月,允许香港与海外投资者有范围买卖沪市股票和大陆投资者有范围买卖港市股票的“沪港通”正式开通,在沪港两地股票市场发展不平衡的背景下,开通“沪港通”意在

- ①促进两地资本市场共同发展
 - ②促进两地资本市场资金的跨境流动
 - ③杜绝两地股票市场投机交易
 - ④降低两地资本市场交易费用
- A. ①② B. ①④ C. ②③ D. ③④

15. (2015年高考上海卷16)某商业银行一年和两年定期存款利率分别是2.25%和2.85%,存款到期不取,银行会自动将利息并入本金再转存一定年份。陈医生有80000元现金,考虑到可能的应急需要,他选择了“定存一年自动转存一年”的存款方式。两年后陈医生实际获得的利息与“定存两年”相差()

- A. 2719.5元 B. 1024.98元 C. 960元 D. 919.5元

16. (2015年高考课标卷II 14)2015年5月,我国存款保险制度正式实施。按照存款保险制度规定,成员银行缴纳保费形成保险基金,当成员银行破产清算时,使用银行保险基金按规定对存款人进行偿付。这一制度对银行发展的积极意义在于()

- ①防范金融风险,稳定金融秩序
- ②增强银行信用,推动银行公平竞争
- ③促进利率市场化,增加银行收益
- ④降低银行经营风险,提高其竞争力

- A. ①② B. ①③ C. ②④ D. ③④

17. (2015年高考江苏政治6)据统计,2014年全国居民新增财产性收入40%来自房地产,17%来自银行理财,16%来自存款,12%来自股票,其他来自信托、基金、保险等。对该经济现象的正确解读是

- ①体现按生产要素分配
- ②居民投资风险不断降低
- ③再分配更加注重公平
- ④居民资产配置趋向多元

- A. ①② B. ①④ C. ②③ D. ③④

18. (2015年高考课标卷II 12)老吴在年底对年初购买的投资产品进行了梳理:50元买入甲公司的股票已按54元卖出;乙公司股票价格仍为20元,按照每股1.2元进行了现金分红;丙公司股票价格也没变,按照每20股送一股进行了股票分红;某银行理财产品的年收益率为6%。上述投资产品中,年收益率最高的是

- A. 甲公司股票 B. 乙公司股票 C. 丙公司的股票 D. 银行理财产品

1. [2014·海南卷]2013年8月,国务院召开常务会议,确定深化改革加快发展养老服务业的任务措施。会议要求,到2020年全面建成以居家为基础、社区为依托、机构为支撑的覆盖城乡的多样化养老服务体系。从经济角度看,建立多样化养老服务体系可以()

- A. 形成新的财政资金来源
- B. 提高居民储蓄的积极性
- C. 引导第三产业发展方向
- D. 增加城乡就业岗位数量

2. [2014-海南卷]2013年开始施行的《深圳经济特区性别平等促进条例》是我国首部关于性别平等的地方性法规。根据该条例,国家机关、企业事业单位、社会团体以及其他组织应当给予男女两性同等重视,保障男女两性享有同等机会,获得同等资源,得到同等发展。这一规定()

- ①消除了现实中的性别歧视现象
- ②有利于促进男女两性的权利平等
- ③坚持了男女平等的基本国策
- ④提高了女性公民的政治地位

- A.①② B.①④ C.②③ D.③④

3. [2014·海南卷]信用卡是商业银行向客户发行的一种信用凭证。近年来,银行利用新技术,不断发展信用卡服务。某银行将信用卡业务放入“手机银行”,通过手机上的银行客户端向客户提供各项银行业务和个性化的定制信息服务(如金融产品推荐)。这一举措有利于()

- ①降低银行的经营成本
- ②扩展银行的业务范围
- ③降低银行的经营风险
- ④提高银行的服务品质

- A.①③ B.①④ C.②③ D.②④

4. [2014·海南卷]近年来,我国高端餐饮逐渐收缩,大众餐饮蓬勃发展。某餐饮企业在相继关停了13家高端餐饮门店的基础上,大力发展大众餐饮和快餐业务。该企业的行为反映了()

- ①企业经营战略的转变
- ②企业盈利水平的提升

③企业经营环境的变化

④企业融资能力的下降

A.①②

B.①③

C.②④

D.③④

5. [2014·广东卷]广东某市出台政策,实施农业“一镇一品”示范建设工程,通过招商引资,引导龙头企业与试点镇对接,构建平价商店、机场超市、网店、连锁店等组成的网络化销售平台,显著带动了当地农业增效和农民增收。这一成效得益于()

①借力政策扶持,整合资源优势

②降低商品价格,确立竞争方向

③创新营销模式,优化发展战略

④调整消费结构,增加产品供给

A.①③

B.①④

C.②③

D.②④

6. [2014·浙江卷]改革开放以来,我国逐渐完善了社会主义初级阶段基本经济制度,经济持续快速发展。如2000年到2012年,国有和集体工业企业资产从5.70万亿元增加到10.61万亿元,私营工业企业资产从0.39万亿元增加到15.25万亿元。这说明()

①我国各种所有制经济地位相同、相互促进

②非公有制经济已成为我国经济的主体

③应继续坚持公有制为主体、多种所有制经济共同发展

④应毫不动摇巩固和发展公有制经济,毫不动摇鼓励、支持、引导非公有制经济发展

A.①②

B.③④

C.①③

D.②④

7. [2014·新课标全国卷I]某知名家电企业通过互联网收集消费者的需求信息,并根据他们的特殊需求专门生产了近万台定制彩电。从消费者下单到生产、配送、安装,整个过程仅耗时一个月,比传统批量生产模式(含产供销)少用半年多的时间。与传统的批量生产模式相比,这种定制生产模式能够()

①充分发挥企业规模优势,降低生产成本

②以需定产缩短生产周期,减少企业库存

③更灵活应对市场变化,满足消费者多样化需求

④优化企业决策流程,提高企业技术水平

A.①②

B.①④

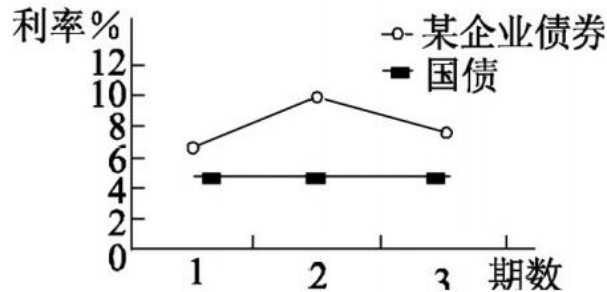
C.②③

D.③④

8. [2014·新课标全国卷I]按现行规定,金融机构人民币存款利率(年利率)一年期为3%,两年期为3.75%。老陈有10000元闲置资金,准备存两年,那么,这笔钱以一年期连续存(第一期利息计入第二期本金)两年的利息比存一个两年期的利息()

- A. 少141元 B. 多141元 C. 少150元 D. 多150元

9. [2014·北京卷]债券利率受到风险的影响,当风险下降时,债券利率降低。小华准备购买某企业新发行的债券,通过查询该企业近几期债券的利率,绘制了下图。相对于稳定的国债利率,该企业债券利率从第2期到第3期下降的原因可能是()



- A. 国际原油价格上涨,企业运输成本上升
 B. 新产品受市场欢迎,企业经济效益提高
 C. 面临高额关税,企业国际市场份额下滑
 D. 海外投资失误,企业债务负担大幅增加

10. [2014.福建卷]从收益最大化的角度,你会选择下表中哪种理财产品()

| 理财产品 | 股票 | 债券 | 基金 | 保险 |
|-----------|-----|------|-----|------|
| 投资(万元) | 4 | 6 | 2 | 8 |
| 年预期收益(万元) | 0.3 | 0.35 | 0.2 | 0.25 |

- A. 股票 B. 债券 C. 基金 D. 保险

11. [2014-江苏卷]“霾单”是淘宝网公布的2013年度消费关键词之一。截至2013年11月30日,全国“淘友”花了8.7亿元在口罩、空气净化器等对抗雾霾用品上。与一年前相比,购买口罩的人多了181%,购买空气净化器的人多了131%。对这一经济现象解读正确的是()

- A. 满足消费需求——生产防霾产品——促进经济发展
 B. 市场消费低迷——生产防霾产品——扩大国内需求
 C. 空气污染严重——购买防霾产品——浪费社会资源
 D. 追求绿色消费——购买防霾产品——提高生活质量

12. [2014·天津卷]某商业银行发售的一款理财产品期限为133天,认购金额在5万至10万元之间的预计到期年化收益率(即当前收益率换算成年收益率)为6.20%。一市民购买7万元该产品,其预期收益的计算方法为()

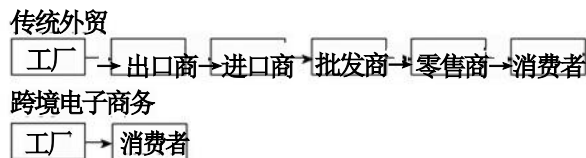
- A. $70000 \times 6.20\%$

- B. $70000 \times 6.20\% \div 365$
- C. $70000 \times 6.20\% \div 365 \times 133$
- D. $70000 \times 6.20\% \times 133$

13. [2014·江苏卷]某著名手机品牌2014年第一季度亏损6205万美元，其负责人称，主要原因是2013年对市场的认识出现了偏差，将主要精力放在了高端机型上，忽视了中低端市场。《经济学人》预测，2014年中低端智能手机销量将占智能手机市场的50%以上。这说明()

- A. 企业参与市场竞争需制定正确的经营战略
- B. 价格优势是企业参与市场竞争的最大优势
- C. 回归中低端市场是企业生产经营的一种趋势
- D. 企业保持一定的营利能力才能增强市场竞争力

14. [2014-江苏卷]跨境电子商务作为外贸产业发展的一个新模式，渗透到社会经济生活的诸多领域，它重构了国际贸易流程。如下图所示，与传统外贸相比，开展跨境电子商务()



- ①提高了企业的生产效率
- ②有利于企业把握消费需求
- ③促进了企业的兼并与联合
- ④提升了企业的国际化经营水平

- A. ①③
- B. ①④
- C. ②③
- D. ②④

15. [2014-新课标全国卷Ⅱ]经济活动中各产业之间的技术经济联系被称为产业关联，关联性强的产业发展有利于带动相关产业的协同发展，如房地产业的发展向上可带动建筑业，向下可带动家电业，形成建筑业—房地产业—家电业协同发展。下列选项中构成产业链上下游协同发展关系的是()

- ①钢铁产业
 - ②信息产业
 - ③保险业
 - ④汽车产业
- A. ①-
 - B. ①- ③
 - C. ②
 - D. ④- ①

16. [2014·四川卷]M村在确认村民的土地经营权等权属后，将1000亩土地的经营权流转给T公司，用于种植蔬菜和花卉，每户村民按850斤大米(约1400元)/亩·年的标准领取租金。对此认识正确的是()

- ①村民获得租金是因为土地与资本和劳动结合创造了价值
- ②土地所有权在土地向专业公司流转后仍归每户村民所有

③村民通过土地经营权流转所获收入属于非农业劳动收入

④土地经营权流转能使市场有效发挥配置土地资源的作用

A.①②

B.①③

C.②④

D.③④

17. [2014·四川卷]2014年4月11日,上海证券交易所发布公告,终止中国长江航运集团南京油运有限公司股票(*ST长油)交易资格。这意味着已连续四年亏损的*ST长油终于退出股票市场,持有该股票的股民也因此不同程度地受到损失。*ST长油退市事件的警示是()

①上市公司应努力改善治理结构,着力提高资本使用效益

②上市公司应不断调整资本结构,尽力降低股市融资水平

③投资者应保持理性,越是经营不善的公司投资风险越大

④投资者应承受风险,风险越大的公司其投资收益率越高

A.①③

B.①④

C.②③

D.②④

2013年真题

1. [2013·北京卷]下图反映了当前市场上存在农民卖菜难与市民买菜贵的难题。能够缓解该难题的措施是()



①发布蔬菜供求信息,促进产销对接

②提高蔬菜种植补贴,扩大种植规模

③合理规划蔬菜流通,降低运输成本

④改善菜市场卫生环境,提高服务质量

A.①②

B.①③

C.②④

D.③④

2. [2013·江苏卷]中小企业是我国最具活力的企业群体,在GDP中的比重约为60%,提供了约70%的城镇就业岗位。自2011年以来,受需求不足、成本上升等不利因素的影响,中小企业的发展遇到较大困难。为此,国家加大了对中小企业的扶持力度,这有利于()

A. 贯彻按劳分配原则

- B. 优化我国所有制结构
- C. 解决消费不足问题
- D. 发挥中小企业的主导作用

3. [2013·江苏卷]王某手中有现金30万元,本来想用这笔钱进行扩大再生产,预期年收益率为10%。王某妻子认为,现在房价每年也会上涨10%,可以从银行贷款70万元买一套价值100万元的房产进行投资(假定银行贷款年利率为6%,且利息一年后一次性支付)。经考虑,王某采纳了妻子的建议进行房产投资。亨利·福特曾说过,“如果我最初问消费者他们想要什么,他们会告诉我‘要一匹更快的马!’”。有人说,如果真这样,汽车大王就不会出现了。材料体现的经济学道理是()

- A. 生产为消费创造动力
- B. 产品开发不需要考虑市场需求
- C. 产品开发要利用人们的求异心理
- D. 消费所形成的新的需要会引导生产

4. [2013·天津卷]在新一代移动互联网技术的浪潮下,全球许多名噪一时的大企业陷入困境:曾作为无线通信代名词的摩托罗拉被他人掌控;家电行业先驱索尼、松下和夏普巨额亏损;原来全球最大的智能手机平台塞班系统,如今只剩下2.6%的市场份额。这些案例表明()

- A. 拥有最先进的技术储备,是企业长盛不衰的重要保障
- B. 缺乏国家必要的技术规划,是企业由盛而衰的主要原因
- C. 缺乏用于技术创新的资金投入,是企业竞争失利的根本原因
- D. 适应市场发展趋势的技术创新,是企业保持竞争力的关键因素

5. [2013·新课标全国卷I] 中国H公司与美国某公司签订服装出口合同,约定服装单价为24美元,一年后交货。H公司生产一件服装的成本是144人民币元。签订合同时汇率为1美元=6.32人民币元,交货时为1美元=6.27人民币元。在不考虑其他条件的情况下,H公司交货时的利润率比签约时的利润率()

- A. 下降0.83%
- B. 下降0.76%
- C. 上升0.83%
- D. 上升0.76%

6. [2013·大纲全国卷]近年来,受市场需求不振、原材料价格上涨的影响,我国某著名蔗糖企业的利润率一直在3%左右的低位徘徊。为提高利润率,该企业可采取的措施有()

- ①调整产品结构,增加高附加值蔗糖产品产量
- ②优化管理流程,降低蔗糖生产成本
- ③提高蔗糖价格,抵消原材料价格上涨影响
- ④发行企业债券,扩大蔗糖生产规模

A.①②

B.①③

C.②④

D.③④

7. [2013·新课标全国卷Ⅱ]近年来,智能手机市场的竞争日趋激烈。除传统手机制造商外,许多网络公司也纷纷斥巨资研发智能手机,并将内置其网络产品的智能手机推向市场。在下列选项中,能够解释“网络公司造手机”原因的是()

- A. 生产智能手机的利润率高于其他行业
- B. 网络公司的业务创新速度不断加快
- C. 传统手机制造商生产智能手机能力不足
- D. 网络公司延伸产业链提高综合竞争力

8. [2013·新课标全国卷Ⅰ]2011年我国城乡居民人民币储蓄存款余额达35.2万亿元,人均储蓄25548元,分别比2010年增长16%和15.3%,高于同期GDP的增长速度。根据上述事实可以推断出()

- ①社会保障体系不断健全增加了人们储蓄意愿
- ②我国居民的储蓄率随GDP的增长而增长
- ③我国居民投资理财的渠道比较狭窄、品种较少
- ④我国城乡居民的恩格尔系数不断下降

A.①②

B.①③

C.②④

D.③④

9. [2013·江苏卷]A公司以巨资购入S公司发行的股份,双方将在多领域进行深入合作,这一合作预计在未来三年内将给S公司带来大约3.8亿美元的营销和电子商务收入。次日,此消息引发S公司股价大幅高开,收盘涨幅达9.4%。A公司与S公司的合作推动了股价上升,说明()

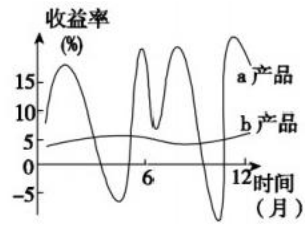
- A. 股票是一种高收益的投资方式
- B. 企业重组对股价会产生有利影响
- C. 股价上升主要是由相关消息推动的
- D. 股价受公司经营状况预期的影响

10. [2013·江苏卷]王某之所以作出这种选择,是因为在不考虑税费等因素的情况下,买房比扩大再生产投资()

- A. 年预期收益增加4万元
- B. 年预期收益率高23%
- C. 年预期收益增加2.8万元
- D. 年预期收益率高10%

11. [2013·福建卷]下图是a、b两种理财产品在一定时间内的收益率走势图。就这两种产品的比较,分

析正确的是()



- A.a 产品投资风险小, 适合低收入者投资
- B.a 产品投资收益率波动大, 不适合投资
- C.b 产品投资收益率上升幅度小, 不适合投资
- D.b 产品投资风险小, 适合稳健型投资者投资

12. [2013·大纲全国卷]全国中小企业股份转让系统的建立, 可以()

- A. 提高非上市公司经营业绩
- B. 优化非上市公司组织结构
- C. 降低非上市公司管理费用
- D. 拓宽非上市公司融资渠道

13. [2013·四川卷]2013年4月18日, 中国人民银行实施正回购(央行向交易商卖出有价证券)市场操作, 净回笼资金430亿元, 这是央行今年第九次开展正回购市场操作。央行正回购的连续实施, 其意在于()

- A. 调节货币供应, 释放通货膨胀压力
- B. 引导利率下行, 激发企业投资需求
- C. 宽松货币供应, 预防经济增速下滑
- D. 稳定利率水平, 保障居民储蓄收益

专题02 生产、劳动与经营

【2022年真题】

1. (2022·全国乙卷) 2022年,我国在企业所得税征收中加大研发费用加计扣除政策实施力度,将科技型中小企业加计扣除比例从75%提高到100%[实际扣除费用=研发费用(1+加计扣除比例)],用税收优惠机制激励企业加大研发投入,培育壮大新动能。该机制的作用路径是()

- A. 加大研发投入→减少扣除费用→少交所得税→增加净利润→扩大生产规模
- B. 多计扣除费用→增大应税所得→多交所得税→增加国家税收→获得研发激励
- C. 多计扣除费用→减少应税所得→少交所得税→增加净利润→加大研发投入
- D. 加大研发投入→增强企业创新→降低生产费用→赢得竞争优势→扩大产品市场

【答案】C

【解析】应该是由增加扣除费用推导出加大研发投入,而且减少扣除费用意味着会多交所得税。故A错误。多计扣除费用意味着会减少应税所得。故B错误。由题干中“我国在企业所得税征收中加大研发费用加计扣除政策实施力度”可知,多计扣除费用应该放在首位,多计扣除费用会减少应税所得,意味着少交所得税,从而可以增加净利润,有更多资金加大研发投入。故C符合题意。企业创新能力增强,不一定会降低生产费用。故D排除。故本题选C。

2. (2022·山东)在从“0”到“1”的原始创新成果孵化期,企业迫切需要资本支持,但因投资风险高,融资困难。某省探索出以“国有资本战略投资”撬动社会资本、共同服务创新企业发展的新路,通过产业政策和国有资本投资,解决了科技企业初创期社会资本不愿投、不敢投的问题,在前瞻性战略性新兴产业“育种育苗”,由此培育出了一大批高科技企业。该省做法取得成功的原因在于,国有资本()

- ①投资前瞻性战略性新兴产业增强了国有经济的控制力
- ②服务创新企业发展弥补了市场追求短期利益的缺陷
- ③通过撬动社会资本推动了国有企业混合所有制改革
- ④通过战略投资推动了有效市场和有为政府更好结合

A. ①③

B. ①④

C. ②③

D. ②④

【答案】D

【解析】该省做法,解决科技企业初创初期的投资问题,不涉及国有经济控制力。故①不符合题意。

②:该省做法取得成功的原因在于发挥了国有资本服务创新企业发展,弥补了市场追求短期利益的缺陷,解决了科技企业初创期社会资本不愿投、不敢投的问题,由此培育出了一大批

批高科技企业。故②符合题意。

③:材料强调通过“国有资本战略投资”撬动社会资本、共同服务创新企业发展,以培育出一大批高科技企业,其做法并不是推动国有企业“混改”。故③排除。

④:该省做法取得成功的原因在于探索出通过国有资本战略投资和产业政策,撬动社会资本创新企业发展的新路,推动了有效市场和有为政府的更好结合,既服务创新企业发展,又弥补市场追求短期利益的缺陷。故④符合题意。

故本题选D。

3. (2022·湖南)某轮胎企业积极探索数字化转型,建立与消费者的直接联系,基于库存和销售数据及时调整产能计划,优化产品营销,提升服务体验,延展商业模式,个人零售成为新的业务增长点。2021年,在同期轮胎市场负增长的背景下,企业却实现了销量逆势增长近50%。数字化转型对该企业发展的作用体现在()

- ①改进制造工艺,降低生产成本
- ②精准对接市场,促进产品销售
- ③提升服务水平,优化客户体验
- ④提高产品质量,增加产品价值

A.①③

B.①④

C.②③

D.②④

【答案】C

【解析】②③:材料强调建立与消费者的直接联系,基于库存和销售数据及时调整产能计划,优化产品营销,提升服务体验,这说明数字化转型有利于企业精准对接市场,促进产品销售,也有利于企业提升服务水平,优化客户体验,②③正确切题。①:材料涉及的是企业的数字化转型,是经营模式的调整,并不涉及改进制造工艺,降低生产成本,①排除。④:社会必要劳动时间决定商品的价值,该企业的数字化转型并不能增加产品价值,④不选。故本题选C。

2021年真题

1. (2021全国甲卷)对于传统百货商场来说,超市和家电连锁大卖场的出现使其经营陷入困境,而互联网电商的出现,又使超市和家电连锁大卖场的经营受到冲击。上述现象背后的经济逻辑是()

- A. 商业模式创新提升成本优势
- C. 数字营销增加商品的附加值

- B. 科技进步减少商品流通环节
- D. 居民收入增长改变消费习惯

【答案】A

【解析】对于传统百货商场来说，超市和家电连锁大卖场的经营方式可大大降低其经营成本，所以具有较强的竞争优势。而相对于线下实体店的营销模式而言，互联网电商的线上营销模式使其经营成本进一步下降，使其更具有竞争优势。这表明商业模式创新可以提升成本优势，增强商场竞争力，A项符合题意。

B: 材料中未涉及商品流通环节减少的相关信息，B项不符合题意，排除。

C: 数字营销方式有利于降低经营者的经营成本，但不会增加商品的附加值，C项错误，排除。

D: 随着居民收入水平的不断提高，人们的消费习惯可能会发生相应的变化，但材料未涉及这一内容，D项排除。

故本题选A。

2. (2021全国乙卷) 2021年1月，中国人民银行会同有关部门发布通知明确：2020年6月出台的普惠小微企业贷款延期还本付息政策延期至2021年3月31日，免收罚息；对于2021年1月1日至3月31日期间到期的普惠小微企业贷款，按市场化原则“应延尽延”，继续实施阶段性延期还本付息。此举()

①意在减少小微企业偿债本金

②有利于维持小微企业正常经营

③能够加速小微企业资金周转

④有助于稳定小微企业就业岗位

A. ①③

B. ①④

C. ②③

D. ②④

【答案】D

【解析】①：“延期还本付息、免收罚息”只是延长企业还本付息时限，以及超期后不进行惩罚式收息，并不能减少小微企业偿债本金。①错误。

②④：延长企业还本付息时限能够缓解小微企业资金压力，有利于维持小微企业的正常运转，小微企业在吸收就业方面具有独特的优势，故有助于稳定小微企业就业岗位。②④正确。

③：此举与小微企业的资金周转速度没有直接关系，③不符合题意。

故本题选D。

3. (2021浙江卷) 新冠疫情暴发初期，医用口罩、防护服等防疫物资迅速成为紧缺资源，价格急剧飙升。后来越来越多的企业加入防疫物资生产大军，价格迅速回落。由此可见()

①商品生产所耗费的社会必要劳动时间决定价格

②供求关系变化引起商品价格变化

③市场难以解决公共物品的供给问题

④企业会根据价格变化决定生产什么、生产多少

A. ①②

B. ①③

C. ②④

D. ③④

【答案】C

【解析】①:商品生产所耗费的社会必要劳动时间决定商品价值量,而价值决定价格,①错误。

②④:医用口罩,防护眼等防疫物资成为紧缺资源,价格急剧飙升,后越来越多的企业加入防疫物资生产大军,供给增加,价格迅速回落,这说明供求关系变化引起商品价格变化,也表明企业会根据价格变化决定生产什么、生产多少,②④符合题意。

③:医用口罩,防护眼等防疫物资并不是公共物品,况且材料反映的是供求与价格的关系,价格与企业生产经营的关系,未体现市场是否难以解决公共物品的供给问题,③排除。故本题选C。

4. (2021浙江卷)2021年3月18日,人力资源和社会保障局等部门向社会正式发布了集成电路工程技术人员、企业合规师、二手车经纪人等18个新职业信息。目前这些新职业整体上处于人才供不应求的状态。下列有关新职业的说法中,正确的有()

①新职业的出现,是劳动分工进一步发展的产物

②新职业的出现,是就业形式多样化的结果

③向往新职业的劳动者应主动提高相关技能

④从事新职业的劳动者能获得更高报酬

A.①③

B.②③

C.①④

D.②④

【答案】A

【解析】①:随着经济社会的发展,社会分工越来越精细化,出现一批新职业,新职业的出现,是劳动分工进一步发展的产物,①正确切题。

②:新职业的出现会加速就业形式多样化,②因果倒置,排除。

③:新职业整体上处于人才供不应求的状态,会减轻就业压力,但是向往新职业的劳动者也应主动提高相关技能,③正确切题。

④:材料并未涉及报酬情况,况且从事新职业的劳动者也不一定能获得更高报酬,④排除。

故本题选A。

5. (2021广东卷)2021年3月,几大国产家电企业不仅没在春节后进行淡季降价促销,反而不约而同决定上调其系列产品的价格。下列对这一反常现象的解释合理的是()

①新冠肺炎疫情尚未得到有效控制,市场需求低迷

②原材料价格快速上涨,给生产企业带来成本压力

③消费结构升级,倒逼产品不定期更新换代和性能升级

④人民币升值使产品出口增加,导致国内市场供给不足

A.①②

B.①④

C.②③

D.③④

【答案】C

以上内容仅为本文档的试下载部分，为可阅读页数的一半内容。
。如要下载或阅读全文，请访问：<https://d.book118.com/545011024230011144>