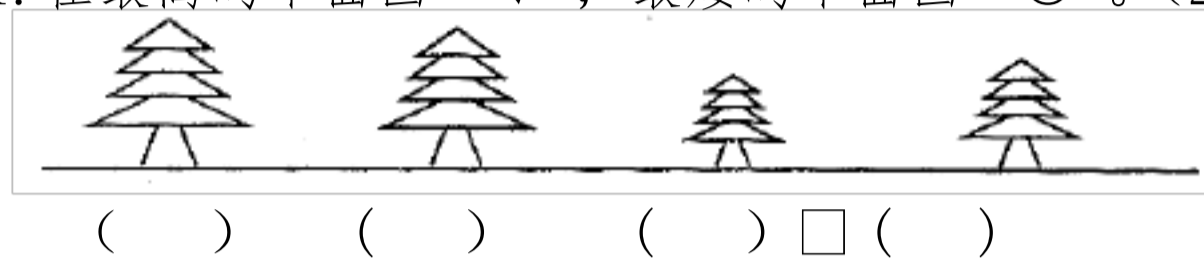


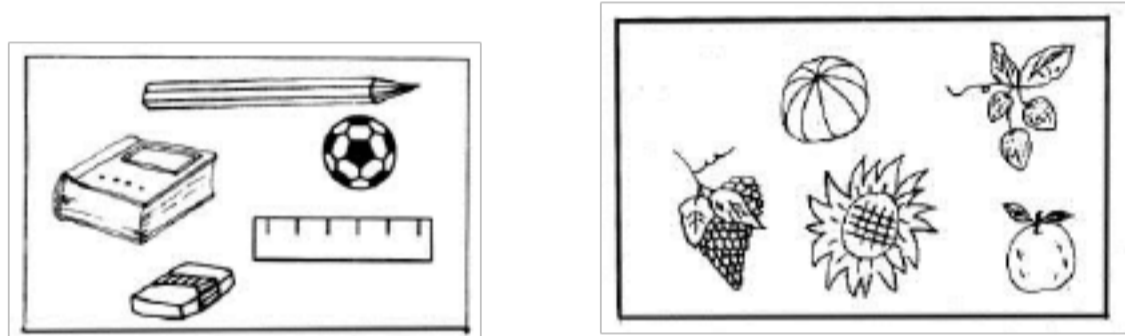
姓名 _____ 得分 _____

一、填空 (21分)

1. 在最高的下面画“√”，最矮的下面画“○”。(2分)



2. 给不一样类的物体涂上颜色。(2分)



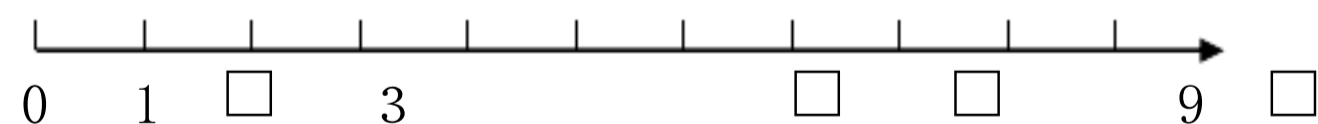
3.

1	4	7

 5的上面一种数是(); 5的下面一种数是();

5的左边一种数是(); 5的右边一种数是();

4. 在□里填上合适的数。(2分)



从上图右边数起,第1个鱼缸里有6条鱼,第3个鱼缸里

有()条鱼;有5条鱼的是第()个鱼缸,它左边一种鱼缸里有()条鱼,右边一种鱼缸里有()条鱼.

6. □里能填几? (4分)

$10 > \square$ $3 < \square$ $\square = 7$ $\square < 5 < \square$

7. $\begin{matrix} & 6 & & 7 & & \square & & 9 & & 10 \\ \wedge & & \wedge & & \wedge & & \wedge & & \wedge & \\ 2 & \square & \square & \square & 6 & 2 & \square & \square & \square & \square \end{matrix}$

8. 比7小的数有_____。

9. 比3大比9小的数有_____。

二、在()里填上合适的数 (6分)

$5 + () = 10$ $\square - \square = 0$

$10 = 7 + ()$ $\square + 2 = 9$

$3 + () = 10$ $\square - () = 5$

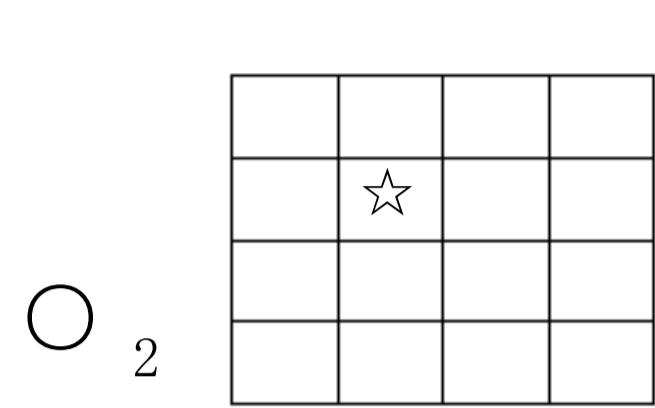
三、画一画 (4分)

1. 每次画6个△,提成不一样的两堆。

(_____) (_____)
(_____)

2. 画○比△多4个: △△△△△△

四、在○里填上“>”、“<”或“=” (8分)



$5+2$ ○ 8 $\square\square 8-4+2$ ○ 6
 $7-4$ ○ 3 \square $10+0-7$

$6-1$ ○ 4 \square $9-4+2$ ○ 7
 $5+4$ ○ 10 $\square\square$ $9+1-4$ ○ 4

五、填一填，排一排 (6分)

2、0、4、8、9、6、10、1中

1. 这里共有()个数,其中最大的数是(),最小的数是()。

2. 从右起第4个数是(),从左起第3个数是()。

3. 把这些数按从大到小排列:

六、直接写得数 (12分)

$10-8=8-9$ \square \square \square \square \square $10-8+1=$

$2+4=$ \square \square $6-3=$ \square $8-4+2=$

$6+4=$ \square $2+2=$ \square $1+6-5=$

$8-7=$ \square $10-3=$ \square $2+7-3=$

$2+5=$ $\square\square$ $4-2=$ \square $6-4+5=$

$9-6=$ \square $4+4=$ $\square\square$ $1+9-4=$

七、写一写 (5分)

1. 请在☆的上面画△,下面画○,左边画●,右边画▲。

请在最下面一行,从右往左写出1,2,3,4。


八、括号里哪一种数对,把对的圈起来。(6分)

$8-6=(4, 2)$ $\square\square 7+3=(10, 9)$

$3+5+2=(7, 10)$ \square $8-3+4=(9, 6)$


$10-0-3=(10, 7)$ $\square\square$ $5+5=(0, 10)$

九、最重的画“√”,最轻的画“○”(2分)



小兔() 小狗() \square 小熊()

十、下面的车应停在哪里?用线连一连。(6分)



十一、比一比 (5分)

□□□

○○○○○○○○

△△△△△△△△

- 比△少_____，△比○多_____。
- 比□多_____，□比△少_____。
- 与□合起来是_____。

十四、□里应填几?你能写出几道算式就写几道 (4分)

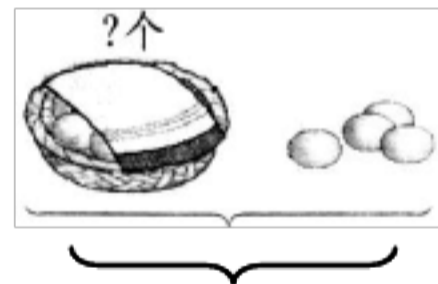
$$\square + \square = 8$$

$$9 - \square = \square$$

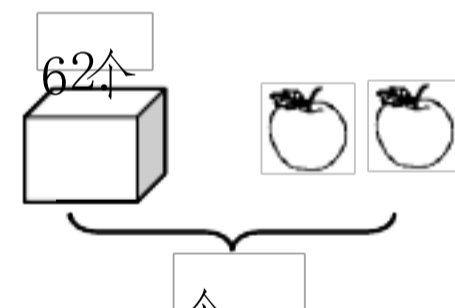
十五、考考你 (4分)

把9粒糖分给小方和小明两个小朋友,假如给小方4粒,小明得()粒;假如给小方3粒,小明得()粒。

十二、看图列式(6分)

1. 

□ ○ □ = □

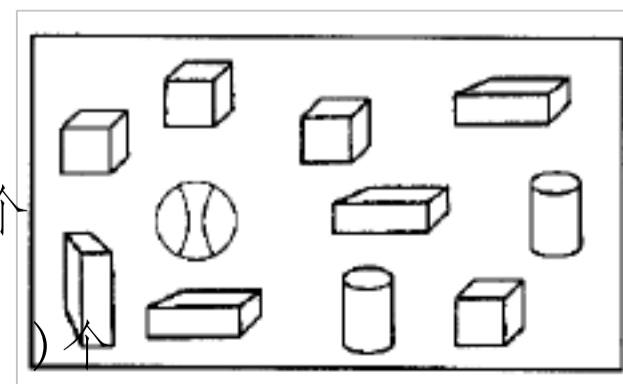


□ ○ □ = □

十三、数图形(4分)

□有()个 长方形有()个

圆柱有()个 球有()个













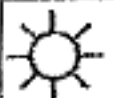








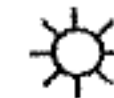
一、填空 (21分)

1、2分




小学数学第一册第九单元测试题（12）

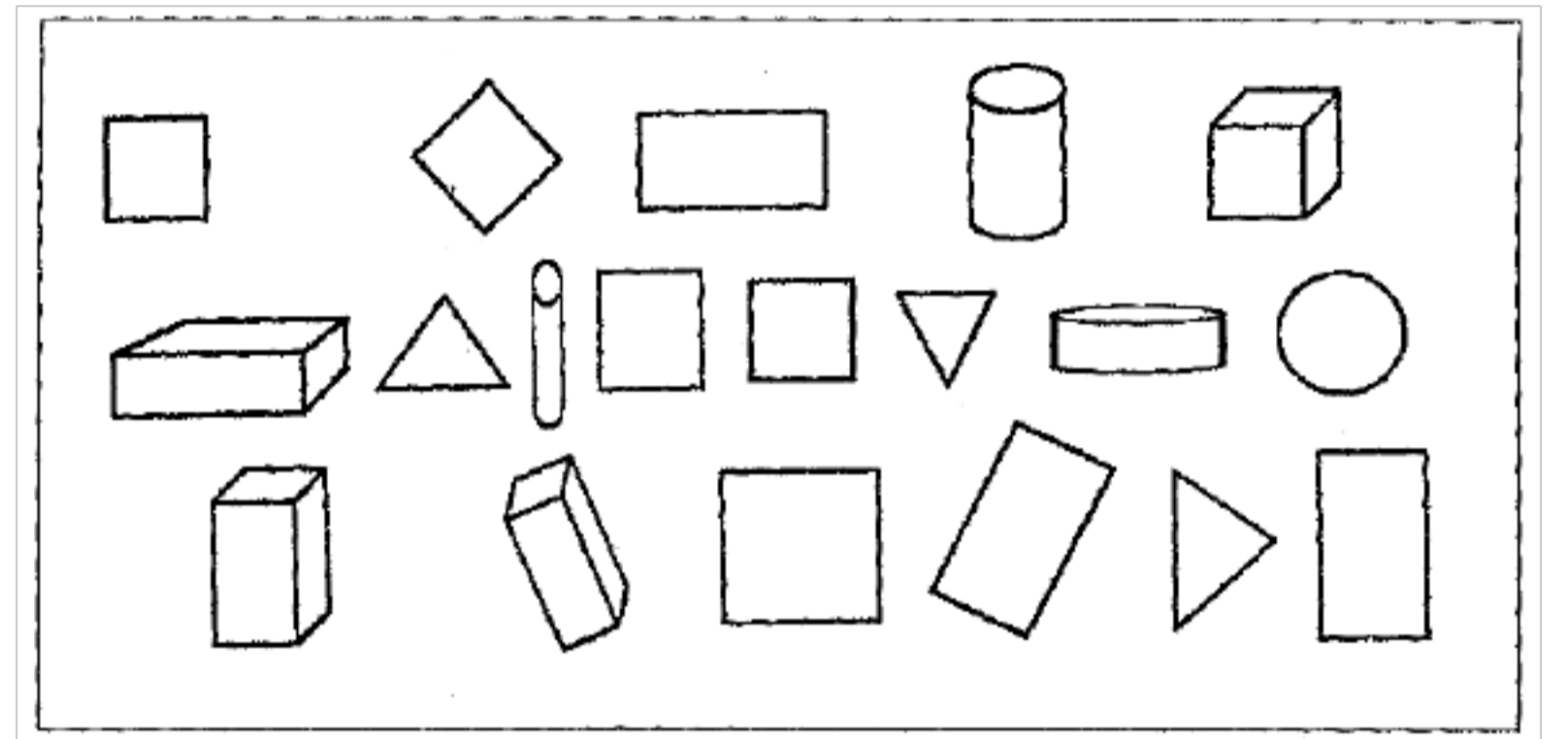
姓名 _____ 得分 _____





一、按图记录 20 天的天气状况。（12 分）

1	2	3	4	5	6	7	8	9	10
									
11	12	13	14	15	16	17	18	19	20
									

至少可得()分。(4分)

四、找一找,把  涂上红色、 涂上黄色,  涂上黑色,再数一数填在()里(14分)



○有()个, △有()个,
 □有()个,  有()个,
 有()个,  有()个,
 有()个。
 ()的个数最多, ()的个数至少。

1. 哪一种天气的天数最多?

2. 哪一种天气的天数至少?

3.  比  多()天。

二、数一数,操场上有男同学和女同学各有多少人?(8分)



1. 填空。

男同学	女同学
()人	()人

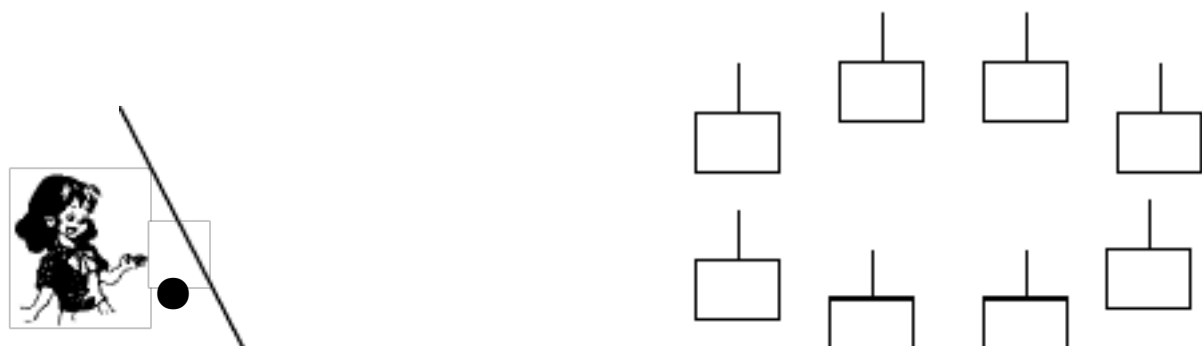
2. 男同学和女同学一共有多少人?

$$\square \bigcirc \square = \square$$

3. 男同学比女同学多多少人?

$$\square \bigcirc \square = \square$$

三、小红玩套圈,每次都能套中。他投两个圈,最多得()分,



五、根据给你的表回答问题。(20分)

组别	男生	女生	合计
第一组	3人	4人	()人
第二组	3人	3人	()人
第三组	4人	5人	()人
第四组	5人	2人	()人

1. 算一算每组共有多少人?

第一组: _____。 第三组: _____。


第二组: _____。 第四组: _____。

2. 第()组人多,第()组和第()组同样多。

第()组男生和女生同样多。

全班()生多,()生少。

七、给下面水果涂上不一样的颜色。(14分)



() () () ()

苹果 梨 桔子 香蕉

1. ()最多,()至少。

2. 数一数把每列水果的个数填在()里。

八、数一数每种球各有多少个。(20分)




图 形				
个 数				

(1) 和 一共有多少个? (2) 少多少

个?

$$\square \bigcirc \square = \square$$

$$\square \bigcirc \square = \square$$

九、益智题。(10分,不计入总分)

一只鸭子能换几只小鸡?



= ()

小学数学第一册第十单元测试题(13)

姓名 _____ 得分 _____

一、填数。(4分)

10		1			1			1		20
		2			5			8		

	19		1			1		12		1
			7			4				0

二、写数。(5分)

十五 十八 二十 十二 十



() () () () ()

()

三、填空。(17分)

- 1个十和3个一合起来是();13里面有()个一。
 - 17里面有()个十和()个一;2个十是()。
 - 个位上是6,十位是1,这个数是()。
 - 一种数个位和十位上都是1,这个数是();比12大比19小的是()。
 - 14前面的第二个数是();17背面的第三个数是()。
 - 和16相邻的数是()和()。
 - $17 > \square > 12$, \square 里的数是()。
 - 用“ $<$ ”把下面的数连起来。(2分)
- 14 7 11 19 2 0 20
- 5
- () $<$ () $<$ () $<$ () $<$ () $<$ () $<$ () $<$ ()
- 一种数,十位上的数是1,个位上的数比十位上的数多7,这个数是()。
 - 比10多6的数是(),()比19少10,20比10多()。

四、看图填算式。(8分)



$\square + \square = \square$

$\square + 5 = \square$

$\square + \square = \square$

$\square + \square = \square$

$\square - \square = \square$

$\square - \square = \square$

$\square - \square = \square$

$\square - \square = \square$

五、连一连。(8分)

$\square - 7 = 16$

$20 - 10$

$13 - 3 = \square$

$10 - 1$

$6 + 10 = \square$

$13 - 10$

$19 - 10 = 10$

$18 - 2$

七、在○里填上“>”、“<”或“=”。(6分)

$10 + 6 \bigcirc 10$

$18 - 10 \bigcirc 8$

$18 - 3 - 13 \bigcirc \square$

$10 - 4 \bigcirc 6$

$10 + 7 \bigcirc 7$

$19 - 10 \bigcirc 9$

八、计算。(8+8=16分)

1. $7+3+4=$ $2+8+6=\square$ $5+3=$

$4+6+1=$ $3-3-5=$ $10-7=$

$17-10-7=$ $4-10+10=$ $9-5=$

$18-8-3=$ $1-1+9=$ $4+5=$

2. $4+(\quad)=9$ $(\quad)+5=2+8$ $8+(\quad)=10$

$(\quad)+3=8$ $18-(\quad)=8$ $3+(\quad)=9$

$(\quad)-6=10$ $10+(\quad)=12$ $(\quad)+2=8$

$(\quad)+10=15$ $(\quad)+(\quad)=19$ $(\quad)=10$

九、(4分)

1. 写出比20小,比13大的数_____。

2. 写出十位上是1的两位数_____。

十、找规律写数。(6分)

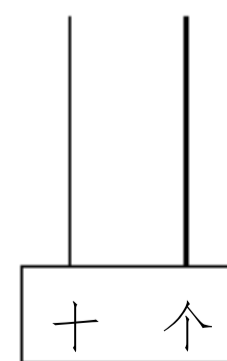
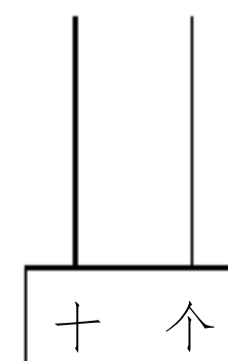
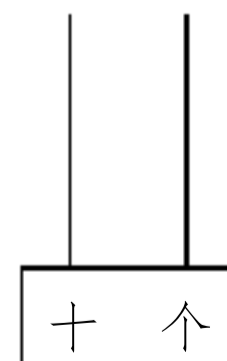
0、2、4、6、_____、_____、_____、_____、_____。

17、_____、_____、11、_____、_____。

0、5、10、_____、_____。

_____个十和_____个一 _____个十和_____个一 _____个十

2. 画一画。(3分)



十二、找朋友。(5分)



错误!

错误!

错误!

$10+2$	$17=10$	$6+10$	$14=4$	$15=10$
--------	---------	--------	--------	---------

十三、填空。(5分)

一队小朋友排队做操，小冬前面有7个人，背面有5个人，
从前面数，小冬在第()个，从背面数他在第()个，这
队一共有()人。

十四、益智题。(10分，不计入总分)

- 20人排成一队，从1开始数，10号到20号退出。退出()人。
- 小明参与数学比赛，他和每个参与比赛的小朋友都握了一次手，一共握了10次手，参与比赛的小朋友一共有()个。

小学数学第一册第九、十单元测试题(14)

姓名 _____ 得分 _____

一、口算(15分)

$15-10=\square$ $7+2=\square$ $4+10=10+2=\square$ $6=$

$3+10=\square$ $4+4=$ $16-5=$ $6-2+10=$

$9-5=\square$ $4-3=\square$ $10+10=$ $10+6-10=$

$8-8=7-7=14+4=19-9+2=$

$20+0=18-10=8+2=9+3-3=$

(4分)

____, 14, ____ 16。 20, ____, 18, ____。

0, 5, ____, ____。 0, 4, 8, ____, ____, ____。

三、填空 (30分)

1. 个位上是7, 十位上是1的数是 (); 12 里面有 () 个十和 () 个一。

2. 13 背面的一种数是 (), 16 和 19 中间的两个数是 () 和 (), 和 15 相邻的两个数是 () 和 ()。





3. 20 里面有 () 个十, 18 里面有 () 个一。





4. 最大的一位数是 (), 最小的两位数是 (), 它们相差 ()。

5. 在 8, 5, 1, 13, 19, 20, 12 中, 共有 () 个数。最小的一位数是 (), 它左边的一种数是 (), 右边的一种数是 (), 最大的两位数是 ()。把上面的数按从大到小的次序排一排。(2分)

() > () > () > () > () > () > ()

6.

	1						18		
	2								
1	2								10

盒子里共有 () 格,  在 () 号格,  在 () 号格,  在 () 号格,  在 () 号格。

7. 20 是 () 位数, 个位上是 (), 十位上是 ()。

四、填一填 (10分)

下表是小红开学以来的作业记录:

1	2	3	4	5
优	优	良	优	优
6	7	8	9	10
优★	优★	优	良	优
11	12	13	14	15
良	优	优★	优	优★

1. 优★ () 次, 优 () 次, 良 () 次。

2. () 最多, () 至少。


3. 优★比良多 () 次, 优★比优少 () 次。

4. 你觉得小红的作业完毕得怎么样? (3分)

分)

△	△		
	△	△	△
△	△		
	△	△	△

七、把图形的个数按规定填入空格内(4分)



○	□	◇	△
()	()	()	()
个	个	个	个

八、在合适的答

案下面的□里打√(4分)

1. 和18比较靠近的数:

4 8 □ 17 □ 20 □

2. 和6相差4的数:

4 □ □ 5 □ □ 2 18

3. 得数不小于10的算式是:

9-5 10-7 4+5 6+9

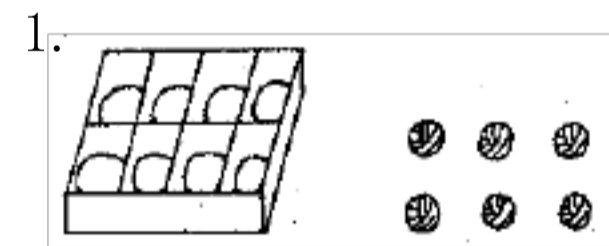
九、在○里填上“+”或“-”(4分)

3○7=10 5○5=0 8○5=3 12○2=9○1
 12○12=0 19○10=9 12○2=10 8○2=16○10

十、用19,10,9三个数写出4道算式。(4分)

□○□=□ □□□○□=□
 □○□=□ □□□○□=□

十一、看图列式(12分)

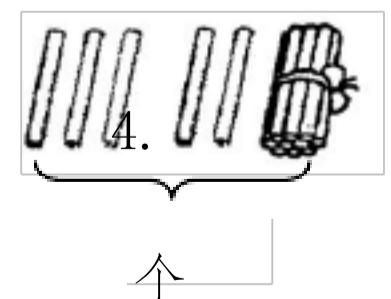


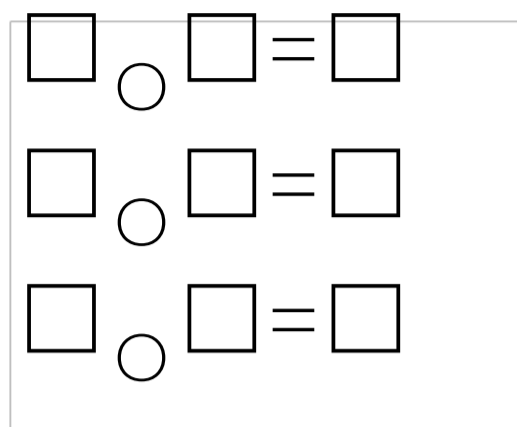
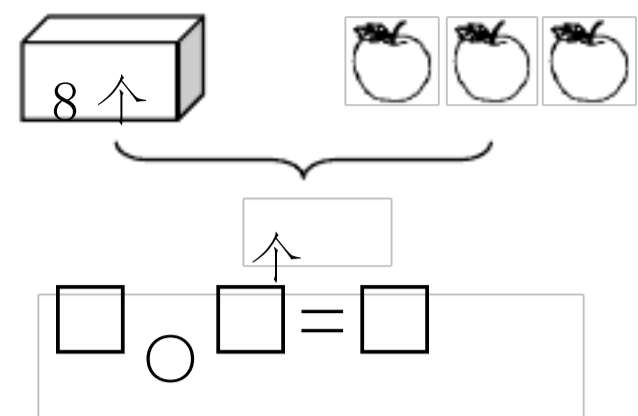
□○□=□ □○□=□
 □○□=□ □○□=□

3.



12颗
 □○□=□





十二、益智题 (10分, 不计入总分)

1. 把一种西瓜切成8块, 至少切几刀?
2. 一只猫一天捉两只老鼠, 两只猫两天能捉几只老鼠?

十四、拓展题 (10分)

1. 星期天学校组织郊游, 小明醒得很早, 看钟时正是4时半, 他想再睡一种半小时。小朋友, 小明应把闹钟拨到几时?

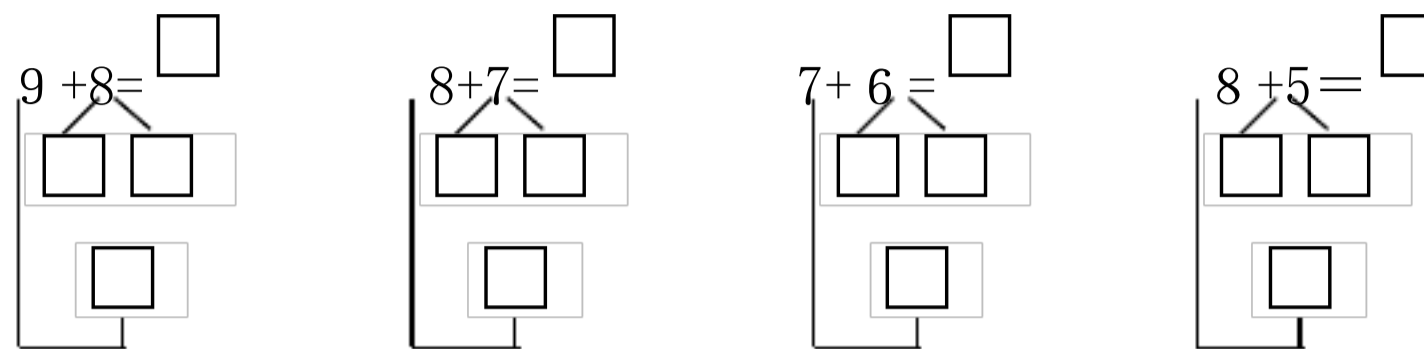


2. 小朋友, 请你和父亲、妈妈一块制作一张时间表, 争取做一种爱惜时间的好孩子。

小学数学第一册第十二单元测试题 (16)

姓名 _____ 得分 _____

一、填一填。 (8分)



二、填空 (18分)

1. 比12多1的数是(), 比12少1的数是(), 19比()少1, 比()多1。
2. 两个数都是8, 合起来是()。
3. 小猴有10个桃, 小鹿有4个桃, 再给小鹿()个桃就和小猴同样多。
4. 4持续加4, 4、____、____、____。
10持续减4, 10、____、____。
5. 4个一和6个一起来是_____。
6. 明明看一本书, 已经看了7页, 还要看_____页就是17页。
7. $9 + () = 16$ $7 + () = 14$ $9 + () = 18$
 $8 + 3 = () + 4$ $4 + () = 10$ $14 = () + (9 + \square)$
 $10 + () = 12$ $3 + 10 = 7 + ()$ $() + 8 = 16$

以上内容仅为本文档的试下载部分，为可阅读页数的一半内容。如要下载或阅读全文，请访问：<https://d.book118.com/545212304144011212>