

2024 年中考地理【热点·重点·难点】专练

专题 06 亚洲和我们邻近的地区和国家

目录

【体系构建】

【重难点诠释】

重难点 01 亚洲各地理要素的相互影响

重难点 02 日本工业地带的主要分布及形成原因

重难点 03 东南亚自然环境对农业生产和城市分布的影响

重难点 04 印度的气候与农业

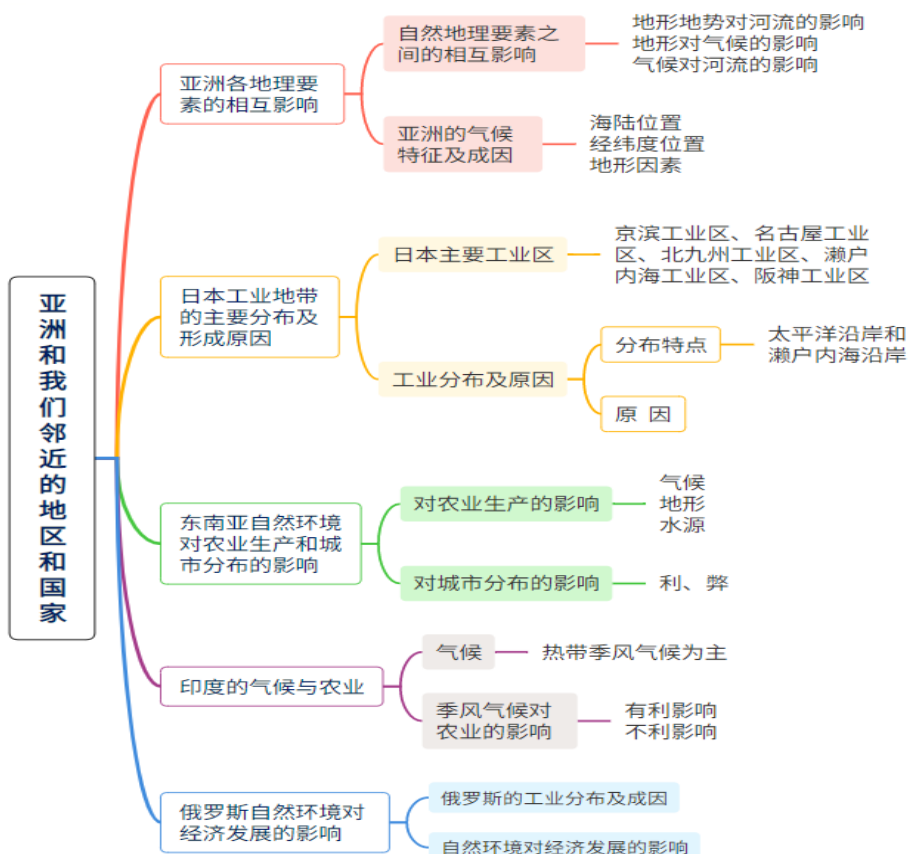
重难点 05 俄罗斯自然环境对经济发展的影响

【分阶训练】

重难点通关练

培优争分练（含新考法、新情境）

体系构建





重难点 01 亚洲各地理要素的相互影响

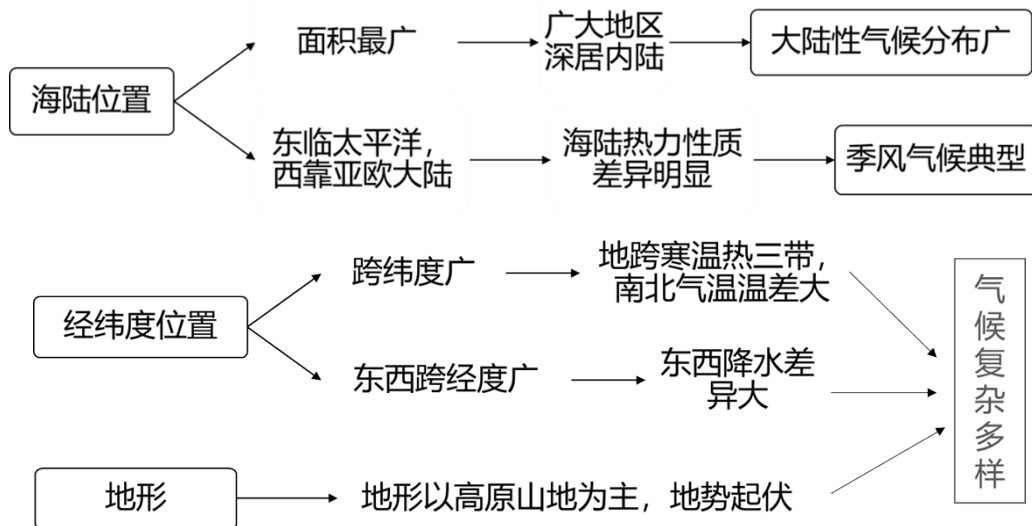
1. 自然地理要素之间的相互影响：

(1) **地形地势对河流的影响**：亚洲地势中部**高**四周**低**，导致亚洲大河多发源于中部地区，呈**放射状**流向周边的海洋。

(2) **地形对气候的影响**：亚洲中部多高原、山地，海拔**高**，导致来自海洋的湿润气流难以深入，所以中部形成广大的**温带大陆性**气候。

(3) **气候对河流的影响**：气温的高低和降水的多少都能影响河流的水文特征，如鄂毕河纬度较**高**，气温较**低**，造成结冰期**长**和凌汛，不利于内河航运。

2. 亚洲的气候特征及成因：



【考点思辨】区域（大洲、地区、国家）地理特征的分析方法：

认识一个区域的地理特征，一般从地**理位置**、**自然地理特征**、**人文地理特征**三方面入手：

地理位置	半球位置	20°W 和 160E 定所处的东西半球，赤道定所处的南北半球
	纬度位置	赤道、回归线、极圈定所处的温度带
	海陆位置	濒临的海洋及方位，相邻的大洲及方位
自然地理特征	地形	分析其他自然地理特征的突破口
	气候	
	河湖	地形、气候对河流的影响
	植被	分析降水的变化
	自然资源	主要的自然资源

	自然灾害	影响该区的自然灾害，一般利用地形和气候的影响进行分析
人文地理特征	工业	工业生产水平、主要工业部门及其分布、主要工业区的分布等
	农业	农业类型、主要农作物及其分布、农业生产水平、农业商品率高低等
	旅游业	自然和人文旅游资源
	交通	主要部门，交通运输特点，交通枢纽、交通分布格局及形成原因
	人口	人口的数量、增长快慢、分布特征
	城市	主要城市及其职能、城市分布特征、城市化水平等

重难点 02 日本工业地带的主要分布及形成原因

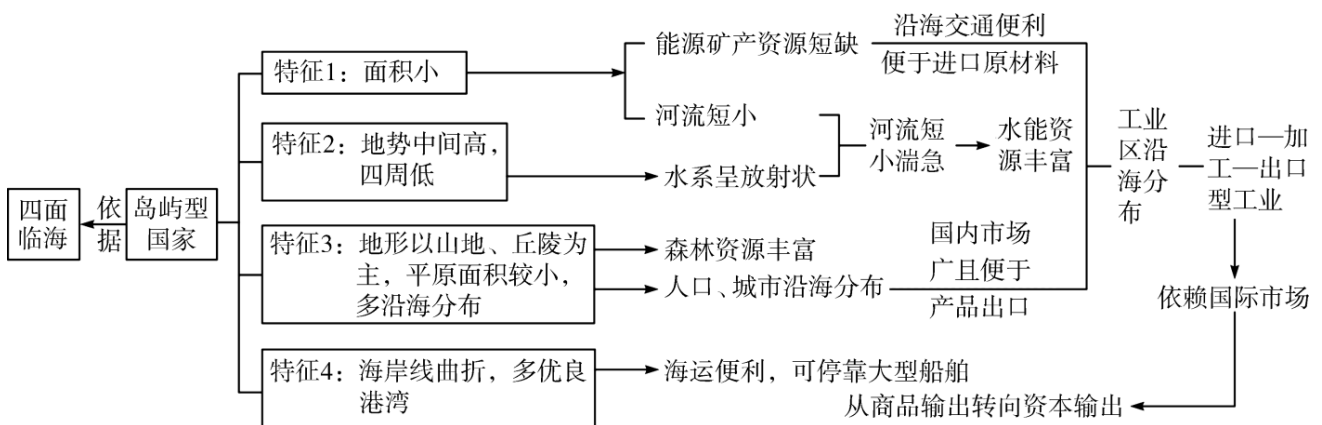
1. 日本主要工业区：

由东向西依次为**京滨**工业区、**名古屋**工业区、**北九州**工业区、**濑户内海**工业区、**阪神**工业区。

2. 工业分布及原因：

分布	特点	临海型：分布于 太平洋 沿岸和 濑户内海 沿岸的狭长地带；近年来，向国土南北两端发展
	原因	<ul style="list-style-type: none"> ① 多优良港湾，方便原料和燃料进口。 ① 城市和人口集中，是国内最大消费地。 ② 沿海平原集中，填海造陆价格低。 ③ 工厂靠近码头，陆地交通便利。

【考点思辨】岛屿型国家（地区）分析：



重难点 03 东南亚自然环境对农业生产和城市分布的影响

1. 对农业生产的影响：

以东南亚种植水稻的有利条件为例：

- ① 气候：全年**高温**，雨季降水**丰沛**，水热条件好。

②地形：河流下游为平原，地形平坦广阔、土壤肥沃。

③水源：临近河流，灌溉水源充足，有利于水稻的生长。

2.对城市分布的影响：

(1) 利：

①河流下游地形较平坦，可提供大量城市建设用地。

②城市沿河而建，为城市生产、生活提供充足的水源。

③水运交通便利。

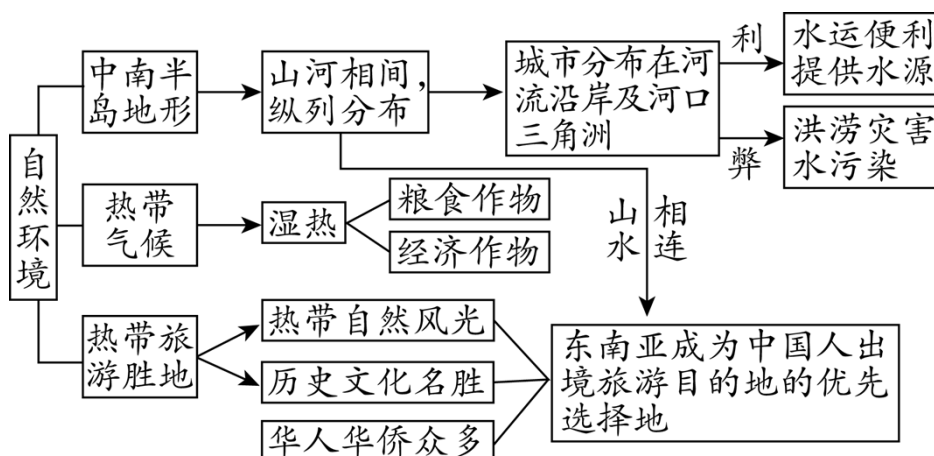
④若城市位于上游，能够利用廉价清洁的水能资源。

(2) 弊：

①河流水患。

②河流污染，城市环境恶化。

【考点思辨】



重难点 04 印度的气候与农业

1.气候：以热带季风气候为主，全年高温，分为旱、雨两季。

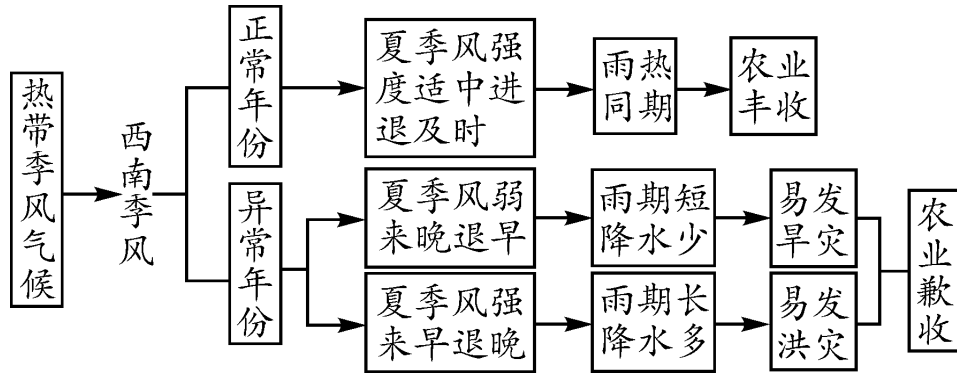
	时间	盛行季风	源地	气流	降水
雨季	6月~9月	西南季风	印度洋	湿润	丰沛
旱季	10月~次年5月	东北季风	亚欧大陆	干燥	稀少

2.季风气候对农业的影响

有利影响	西南季风为印度带来丰沛的降水，是农业生产的主要水源。
------	----------------------------

不利影响	西南季风很不稳定，有的年份风力强盛，有的年份势力不足，导致水旱灾害频发，农业（粮食）生产不稳定。
------	--

【考点思辨】

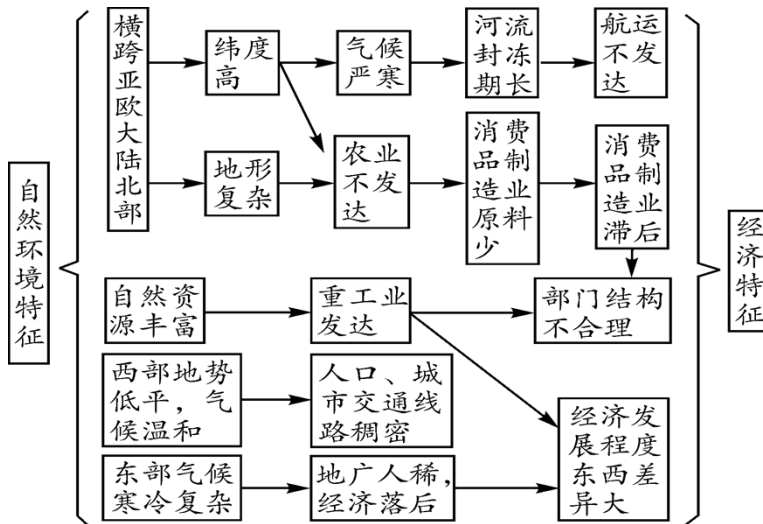


重难点 05 俄罗斯自然环境对经济发展的影响

1. 俄罗斯的工业分布及成因

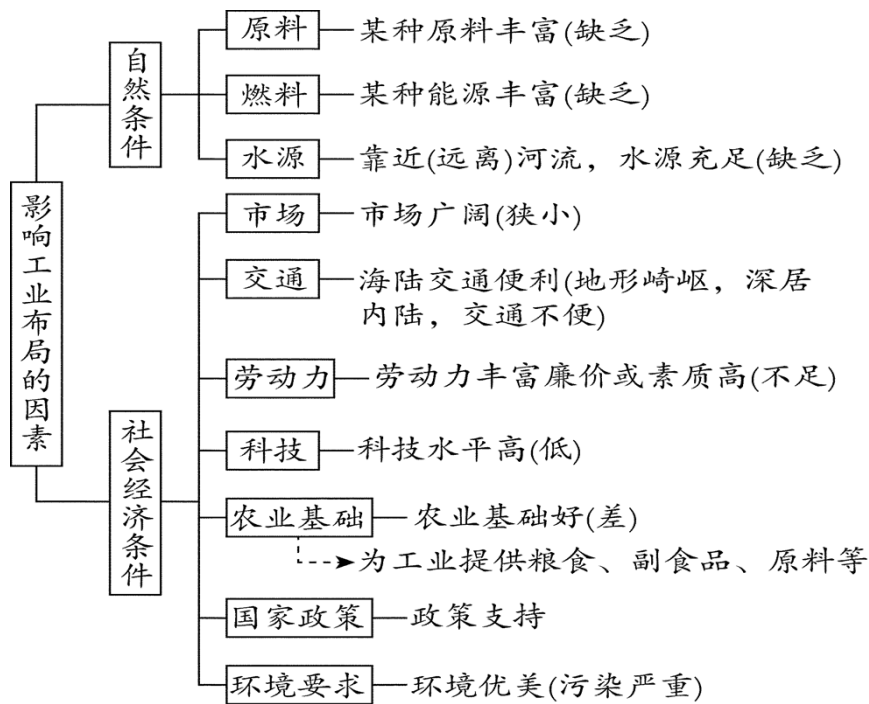
国家	工业分布	原因
俄罗斯	靠近矿产地、沿 <u>铁路线</u> 分布	原料、燃料充足，交通 <u>便利</u>

2. 自然环境特征及对经济发展的影响



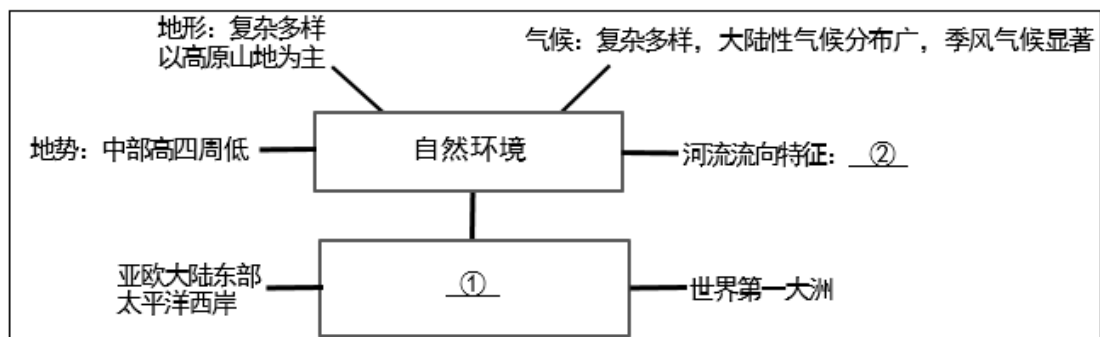
【考点思辨】 影响工业布局的因素分析：

分析某国家工业布局的成因，一般从原料、交通、市场、劳动力、科技力量等角度着手。备考时，注意对比归纳不同国家之间工业布局特点和原因的异同。



● 重难通关练

(2021·湖南益阳·中考真题) 下图为小明学习某大洲时所画的思维导图。读图, 完成下面小题。



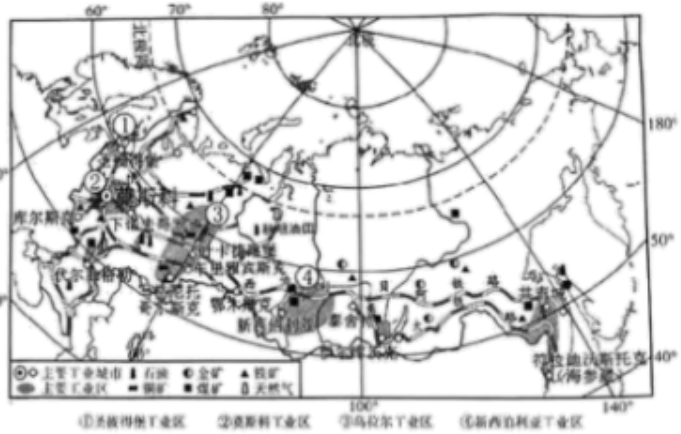
- 根据图中信息判断, ①处应填 ()
 A. 欧洲 B. 非洲 C. 亚洲 D. 北美洲
- 从自然要素的相互影响解析, ②处应填 ()
 A. 自西向东流 B. 自四周流向中部 C. 自东向西流 D. 自中部流向四周

【答案】 1. C 2. D

【解析】 1. 根据某大洲的思维构图可知, 该洲位于亚欧大陆东部, 气候多样、季风气候显著, 大陆性气候分布广; 该大洲地形复杂多样, 地势中部低, 四周高, 而且是世界第一大洲, 由此判断它应该是亚洲, 故选 C。

2. 由于地势中部高, 四周低, 导致河流从中部向四周呈放射状向四周流, 故选 D。

(2023·湖南长沙·一模) 读日本和俄罗斯略图, 完成下面小题。



3. 日本和俄罗斯工业都很发达，发展条件各有优势。下列说法，正确的是（ ）
- ①日本工业原材料丰富 ②俄罗斯工业原材料丰富 ③日本工业产品主要销往海外市场
④俄罗斯工业主要布局在原料产地 ⑤日本工业主要布局在日本海沿岸
- A. ①②③ B. ②③④ C. ③④⑤ D. ②④⑤
4. 俄罗斯亚洲部分南部多山，铁路线、工业区却主要分布这里。主要因为南部（ ）
- A. 远离城市 B. 人口稀少 C. 靠近海港 D. 气候温暖

【答案】 3. B 4. D

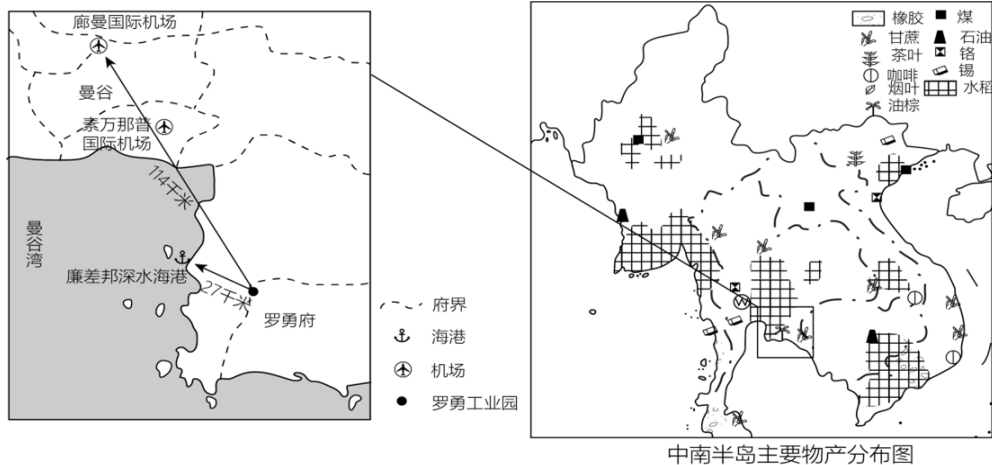
【解析】 3. 日本矿产资源匮乏，俄罗斯自然资源丰富，种类繁多，蕴藏量大，自给程度高，①错误，②正确；日本国内市场狭小，工业产品主要销往海外市场，③正确；俄罗斯的工业区分布特点是分布在矿产资源丰富的地方，④正确；日本是一个矿产资源缺乏、国内市场又小的国家，日本的原料和产品严重依赖海外市场，为了更好地接近原料供应地和产品消费市场，日本工业主要分布在海岸线曲折，多优良港湾的濑户内海和太平洋沿岸，⑤错误。故 B②③④正确，①错误，排除 ACD，故选 B。

4. 俄罗斯亚洲南部多山，但是西伯利亚铁路却沿着南部山区修建，这是因为俄罗斯地处中、高纬度地区，西伯利亚南部矿产资源丰富、人口、城市相对较多，纬度低，气温高，气候温暖，适合修建铁路；北部纬度高，有冻土层，人烟稀少，不适宜修建铁路。故 D 正确，ABC 错误，故选 D。

（新考法：结合时政热点考查）

（2024·河北·一模）2023 年 11 月 5 日，第六届中国国际进口博览会

在上海开幕。泰国以“可持续发展推动业务”为主题参加进博会，将组织 20 家泰国食品和饮料企业参展，重点展示泰国食品产业潜力。读泰中罗勇工业园区示意图，完成下面小题。



5. 泰国热带作物种类丰富，得益于（ ）
- A. 湿热的热带气候 B. 沿海的岛国优势
- C. 肥沃的火山土壤 D. 陡峭的山地地形
6. 中国与泰国经济合作中，吸引中国在罗勇府建厂的原因是（ ）
- ①劳动力丰富 ②资源丰富 ③科技水平高 ④交通便利
- A. ①②③ B. ①②④ C. ①③④ D. ②③④
7. 本次世博会上参展的泰国食品和饮料可能有（ ）
- ①甘蔗汁 ②苹果酱 ③咖啡 ④棕榈油 ⑤全麦面包
- A. ①②③ B. ①③④ C. ②③④ D. ③④⑤

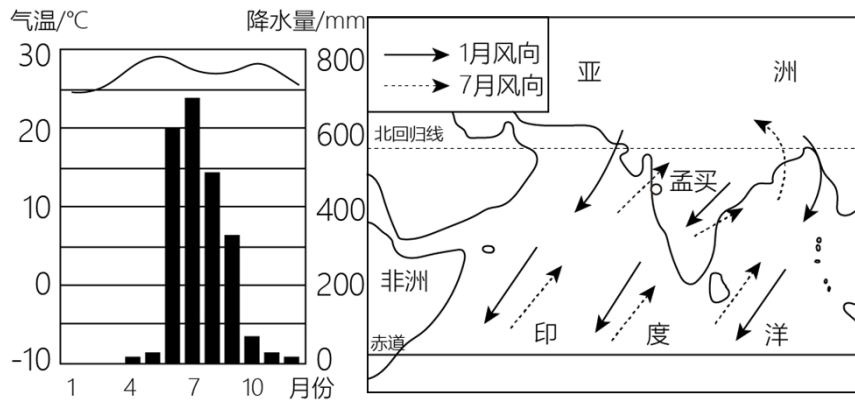
【答案】 5. A 6. B 7. B

【解析】 5. 泰国以热带季风和热带雨林气候为主，气候湿热，高温多雨，适合水稻和天然橡胶等热带经济作物生长，是世界上经济作物种植集中的地区之一，A 正确；BCD 错误。故选 A。

6. 中国与泰国经济合作中，吸引中国在罗勇府建厂的原因是①劳动力丰富②资源丰富④交通便利，该地区科技水平不高，③错误，B 正确，排除 ACD；故选 B。

7. 泰国以热带季风和热带雨林气候为主，热带产物甘蔗、咖啡、棕榈油多，①③④正确，苹果属于温带水果，②错误，泰国不种植小麦，⑤错误；B 正确，排除 ACD；故选 B。

（2023·安徽·模拟预测）据德国《明镜》周刊报道，2022 年 3 月，印度遭遇极端炎热，很多地区气温升至 40 度以上，是自 122 年前有气象记录以来最炎热的 3 月。炎热的高温与当地气候密切相关。读“孟买气温曲线和降水柱图与印度半岛风向图”，完成下面小题。



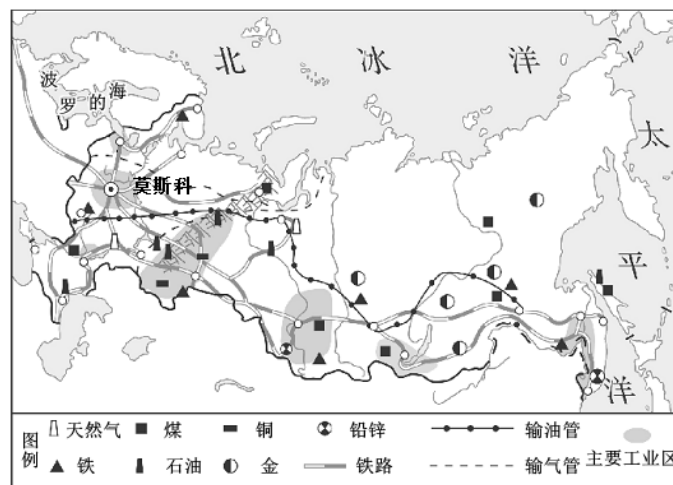
8. 有关孟买的气候特点的叙述，正确的是（ ）
- A. 夏季高温多雨，冬季寒冷干燥 B. 终年高温多雨，降水季节分配均匀
- C. 冬季严寒且漫长，夏季温和且短促 D. 终年高温，一年可分为旱雨两季
9. 关于印度的叙述，正确的是（ ）
- A. 地形自北向南依次是山地—平原—高原 B. 东濒阿拉伯海，西临孟加拉湾
- C. 印度河是流经印度一条最重要的河流 D. 是伊斯兰教的发源地

【答案】8. D 9. A

【解析】8. 根据所学知识，孟买位于北回归线以南，属于热带季风气候，特点是终年高温，降水分旱雨两季，D 正确；热带季风气候夏季长于冬季，夏季高温多雨，冬季温和少雨，降水季节分配不均匀，AB 错误；故选 D。

9. 根据所学知识，印度地形分布自北向南依次是喜马拉雅山地--恒河平原和印度河平原德干高原，A 正确；印度东濒孟加拉湾，西临阿拉伯海，B 错误；恒河是流经印度的一条最重要河流，印度河没有流经印度，C 错误；印度是印度教和佛教的发源地，D 错误；故选 A。

（2023·陕西·模拟预测）新时代中俄全面战略协作伙伴关系将继续巩固、助力两国发展。读图,完成下面小题。



10. 俄罗斯境内划分欧洲部分和亚洲部分的分界线是（ ）
- A. 伏尔加河 B. 中西伯利亚高原 C. 叶尼塞河 D. 乌拉尔山脉

11. 俄罗斯的 ()

- A. 轻、重工业都发达
- B. 工业区都靠近矿产地
- C. 铁路线东密西疏
- D. 河流航运价值大

12. 俄罗斯国土面积辽阔,但其农业生产受到很大的限制。制约其农业发展的最重要因素是 ()

- A. 劳动力
- B. 气候
- C. 生产技术
- D. 国家政策

【答案】 10. D 11. B 12. B

【解析】 10. 大洲之间往往以山脉、河流、湖泊、运河、海峡等地理事物为分界线。亚洲与欧洲分界线是乌拉尔山脉、乌拉尔河、里海、大高加索山脉、黑海、土耳其海峡,其中乌拉尔山脉位于俄罗斯境内,是俄罗斯境内划分欧洲部分和亚洲部分的分界线,故 D 正确,排除 ABC,故选 D。

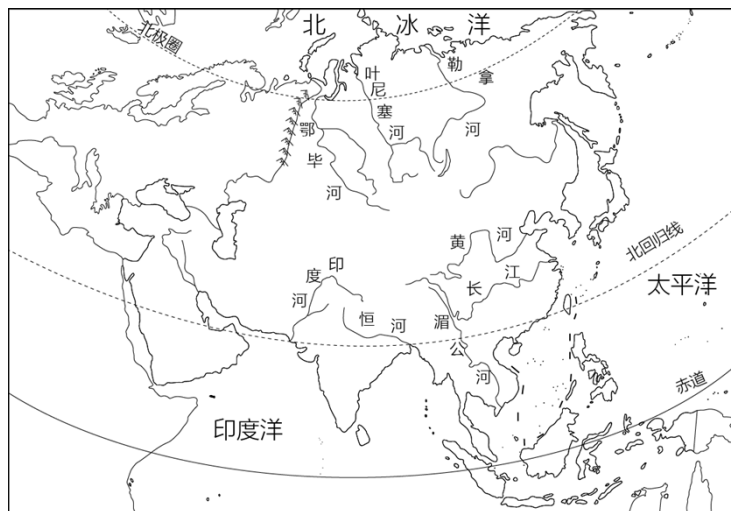
11. 俄罗斯自然资源种类齐全,储量丰富,其工业特点是重工业发达,轻工业薄弱, A 错误;俄罗斯工业区靠近资源产地, B 正确;俄罗斯的铁路线西密东疏, C 错误;俄罗斯河流众多,大部分河流由于结冰期长,航运价值都不高, D 错误。依据题意,故选 B。

12. 俄罗斯大部分地区处于中高纬度,冬季漫长而严寒,夏季短促而凉爽,热量不足,对农业生产不利。东欧平原的伏尔加河流域和顿河流域是主要的农业区, B 正确;劳动力、生产技术、国家政策不是制约其农业发展的最重要因素,排除 ACD,故选 B。

培优争分练

一、选择题

(2023·青海·中考真题) 如图为亚洲水系分布示意图,读图完成各小题。



1. 亚洲的河流大多呈放射状向四周分流,注入海洋。读图可判断亚洲的地势特征为 ()

- A. 东西高中部低
- B. 东南高西北低
- C. 南北高中部低
- D. 中部高四周低

2. 下列关于亚洲地理环境的说法,正确的是 ()

- A. 亚洲四面环海,深受海洋的影响
- B. 注入北冰洋的河流结冰期短
- C. 地形复杂多样,高原和山地为主
- D. 地跨北寒带、北温带和热带,以热带为主

以上内容仅为本文档的试下载部分，为可阅读页数的一半内容。如要下载或阅读全文，请访问：<https://d.book118.com/54614211132010133>