

江苏省 2024 届高三下学期模拟预测历史试题

一、选择题：本题共 16 小题，每小题 3 分，共 48 分，在每小题给出的四个选项中，只有一项是符合要求的。

1. 2018 年国务院促进中小企业发展工作领导小组第一次会议指出，我国中小企业具备了“五六七八九”的典型特征，即贡献了 50% 以上的税收、60% 以上的 GDP、70% 以上的技术创新、80% 以上的城镇劳动就业、90% 以上的企业数量。这一成就（ ）

- A. 表明我国现代化建设开启了新时期
- B. 体现了政治体制改革取得最新突破
- C. 说明现代企业制度激发了国企活力
- D. 验证了马克思主义中国化实践成效

【答案】D

【解析】

本题是单类型单项选择题。据本题次题干的设问词，可知这是本质题。据本题时间信息可知准确时空是：2018 年（中国）。根据材料可知，2018 年我国中小企业在税收、GDP、技术和就业等方面贡献巨大，这是因为我国在坚持马克思主义原理下，结合中国实际不断深化经济体制改革和对外开放的结果，故我国取得的上述成就验证了马克思主义中国化实践成效，D 项正确；1978 年十一届三中全会就标志着我国社会主义现代化开启新时期，排除 A 项；材料涉及的是经济体制改革而非政治体制改革，排除 B 项；材料只强调中小企业对经济发展的贡献，不能看出是国有企业还是私营企业，排除 C 项。故选 D 项。

2. 英国议会最初由封建教俗贵族组成，旨在协助国王解决财政困难。1265 年骑士和城市市民代表首次参加议会，并于 1341 年起单独议事，最终组成议会下院。通过议会，国王在一定程度上获得了金钱和人力的支持，而议会亦可向国王提出请愿。关于中世纪英国议会，下列说法正确的是（ ）

- A. 国王可不经议会同意而加征新税
- B. 下院形成标志着君主立宪制建立
- C. 城市市民是国王联合的重要对象
- D. 贵族通过议会掌握了国家行政权

【答案】C

【解析】

根据材料可以看出英国议会下院形成的过程，其主要构成成员是城市市民和骑士，而且议

会下院逐渐独立议事，一定程度上支持国王，这说明当时的城市市民和国王实现了联合，C项正确；国王不经议会同意不得增加新税，排除A项；1689年《权利法案》颁布标志英国君主立宪制建立，排除B项；英国下议院的成立一定程度上限制了贵族议会，而且当时的贵族议会并未掌握国家行政权，排除D项。故选C项。

3. 第一国际时期，只有一个社会主义政党，即德国社会民主工党，有党员1万多名。第二国际建立时，世界上已有15个社会主义工人政党，到第一次世界大战爆发前，参加第二国际的社会主义政党有30多个，党员356万余名，遍布欧洲、美洲、亚洲和大洋洲。上述变化表明（ ）

- A. 国际工人运动范围与规模扩大
- B. 马克思主义指导地位初步确立
- C. 第一次世界大战推动了工人运动发展
- D. 社会主义实现了从理想到现实的飞跃

【答案】A

【解析】

本题是单类型单项选择题。据本题主题干的设问词，可知这是本质题。据本题时间信息可知准确时空是：19世纪60年代——90年代（欧洲）。根据材料“第一国际时期，只有一个社会主义政党，即德国社会民主工党，有党员1万多名。第二国际建立时，世界上已有15个社会主义工人政党，到第一次世界大战爆发前，参加第二国际的社会主义政党有30多个，党员356万余名，遍布欧洲、美洲、亚洲和大洋洲。”可知，第二国际与第一国际相比较，所影响的范围更加的大，其规模也在不断的扩大，A项正确；马克思主义指导地位初步确立是《宣言》，排除B项；材料中没有描述一战信息，排除C项；俄国十月革命的胜利实现了社会主义“从理想到现实的伟大飞跃”，排除D项。故选A项。

4. 1917年3月中旬，加米涅夫和斯大林连续发表文章，主张只要临时政府不直接危及群众利益，就应给予支持；要求放弃无条件反对战争的立场，改行对临时政府施加压力以迫其开始和谈的策略。这个主张得到了党内大多数人的支持。这表明当时（ ）

- A. 临时政府反对继续进行帝国主义战争
- B. 沙皇残余势力仍对革命存在严重威胁
- C. 布尔什维克党对革命形势认识尚不明晰
- D. 国际局势不利于俄国革命持续深入发展

【答案】C

【解析】

依据材料可知，此时俄布部分领导人对临时政府的认识还不深刻，有一定的妥协成分，对革命形势尚未明晰，对此，列宁发表了《四月提纲》，明确提出从资产阶级革命过渡到社会主义革命的计划，C项正确；临时政府主张继续进行帝国主义战争，排除A项；材料未涉及沙皇残余势力，排除B项；一战时期，列强忙于战争，无暇干预俄国革命，排除D项。故选C项。

5. 1980~2000年部分非洲区域经济一体化组织内部出口占各自总出口比重表。据下表可知，这一时期非洲经济（ ）

组织名称	时间	1980年	1990年	2000年
东部和南部非洲共同市场		5.7%	6.3%	4.8%
中非共同体		1.4%	1.4%	0.9%
西非国家经济共同体		9.6%	8.0%	9.6%
南部非洲发展共同体		0.4%	3.1%	11.9%
阿拉伯马格里布联盟		0.3%	2.9%	2.2%

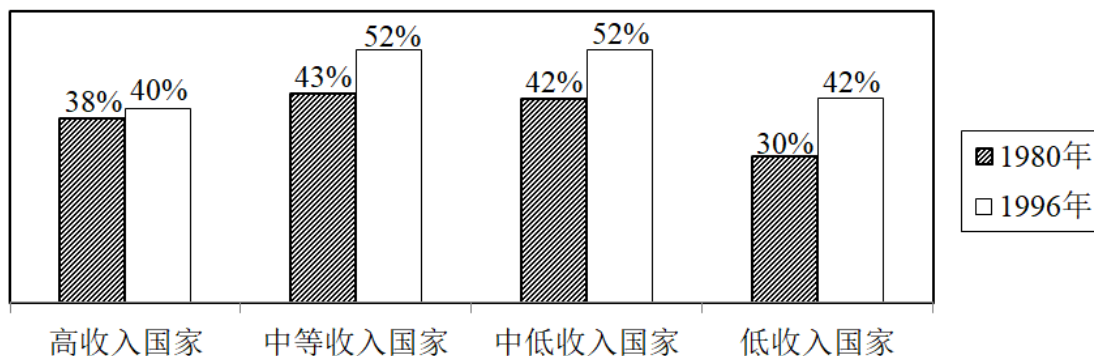
- A. 对区域组织外的贸易依赖明显
 B. 一体化水平持续提升
 C. 始终处于世界经济的边缘地位
 D. 区域发展极度不平衡

【答案】A

【解析】

通过比较表格中的数据，结合所学知识可知，1980~2000年间，非洲的区域经济一体化组织中，内部贸易发展有限，内部出口占总出口比重最多的南部非洲发展共同体也只有11.9%，反映出非洲区域经济一体化组织同区域外的贸易依然占据绝对优势，即非洲区域经济一体化组织对区域组织外的贸易依赖更明显，A项正确；一体化水平持续提升与中非共同体内部出口不增反降等不符，排除B项；材料不能说明非洲经济始终处于世界经济的边缘地位，排除C项；仅内部贸易发展不足，不能说明整个非洲经济区域发展的极度不平衡，排除D项。故选A项。

6. 如图是不同类型国家的进出口依存度变化示意图。该图适合用来说明



- A. 发展中国家经济高速增长
B. 世界经济区域化的发展
C. 发达国家经济陷入了滞胀
D. 世界贸易全球化的加强

【答案】D

【解析】

从材料数据可以看出，从1980年到1996年，无论是发达国家，还是发展中国家，经济发展依赖进出口的比重都有所增加，这反映出全球化之下世界贸易的不断发展，故D项正确；材料反映的是对外贸易依存度的变化，不能反映经济快速的增长，排除A项；材料主旨与区域化无关，排除B项；80年代后发达国家逐步摆脱滞胀，而不是陷入滞胀，排除C项。

7. 维新变法期间，湖南巡抚陈宝箴推行变法改革，但在上《请厘正学术造就人才折》中称“康有为平日所著《孔子改制考》一书……其徒和之，持之愈坚，失之愈远，嚣然自命，号为‘康学’，而民权平等之说炽矣”，并奏请销毁《孔子改制考》。这种主张（ ）

- A. 推动了新旧势力的合流
B. 试图突破“中体西用”束缚
C. 有助于减少变法的阻力
D. 意在彻底否定变法理论基础

【答案】C

【解析】

根据材料“湖南巡抚陈宝箴推行变法改革”、“奏请销毁《孔子改制考》”，可以看出，陈宝箴本人是赞同并推行了变法改革的，但同时他又认为‘康学’使民权平等的学说非常兴盛，这会造成守旧派更大的阻扰，故其奏请销毁《孔子改制考》，是为了减少变法的阻力，C项正确；新旧势力的合流，不符合史实，排除A项；材料体现的是其奏请销毁《孔子改制考》，是为了减少变法的阻力，不是为了突破“中体西用”束缚，排除B项；彻底否定，过于绝对，不符合史实，排除D项。故选C项。

8. 清末，陈去病在《论戏剧之有益》一文中说：“此其奏效之捷，必有过于劳心焦思，孜孜矻矻以作《革命军》《驳康书》《黄帝魂》《落花梦》《自由血》者殆千万倍。”

他号召青年人投身戏剧。这反映出（ ）

- A. 传统戏曲的演出逐渐衰落
- B. 戏剧开始由愉悦达官显贵转向民众
- C. 戏剧成为宣传革命的手段
- D. 反清书籍宣传革命思想的作用弱化

【答案】C

【解析】

本题是单类型单项选择题。据本题主题干的设问词，可知这是本质题。据本题时间信息可知准确时空是清末。根据材料“此其奏效之捷，必有过于劳心焦思，孜孜矻矻以作《革命军》、《驳康书》、《黄帝魂》、《落花梦》、《自由血》者殆千万倍”。“他号召青年人投身戏剧。”并结合所学可知，清末陈去病重视戏剧，认为它在鼓动平民、普及社会方面具有重要作用，并结合时代背景，此时正处于民族危机不断加深，革命思潮不断传播的过程中，陈去病认为戏剧对宣传革命的作用比《革命军》等著作作用更大，故号召青年人投身戏剧，C项正确；材料未涉及传统戏曲的演出逐渐衰落的内容，排除A项；材料未涉及戏剧的受众，且“开始”的表述不符合史实，排除B项；材料的主旨信息是戏剧与革命思想相结合下，更能发挥革命思想宣传的效用，主旨信息并非强调反清书籍宣传革命思想的作用在弱化，排除D项。故选C项。

9. 平型关大捷后，新闻媒体和社会各界开展系列庆祝活动，全民族形成了关于该事件的社会共识。新中国成立后，通过国家权力，借助学校教育、社会教育和媒体宣传等方式，再现了这一史事，使之成为中华民族革命精神的文化符号。这充分说明了（ ）

- A. 国家权力的介入强化了集体记忆
- B. 共同记忆的构筑有益于价值认同
- C. 学校教育的实施培育了家国情怀
- D. 大众媒体的宣传提升了英雄形象

【答案】B

【解析】

本题是单类型单项选择题。据本题主题干的设问词，可知这是本质题。据本题时间信息可知准确时空是：近现代中国。根据材料可知，平型关大捷后，社会各界进行庆祝，使得全民族达成社会共识。新中国成立后，又通过各种方法再现平型关大捷这一史实，以上属于对平型关大捷这一记忆的共同构筑，最终使平型关大捷成为中华民族革命精神的文化符号，至今依然影响巨大，这属于对平型关大捷价值的认同，由此可见，共同记忆的构筑有益于价值认同，B

项正确；新闻媒体、社会各界、学校教育共同构筑了平型关大捷这一集体记忆，并非只是强调国家权力的重要性，排除 A 项；材料不仅仅强调学校教育和大众媒体的影响，排除 CD 项。故选 B 项。

10. 近代以来，不同时期对华贷款最多的国家不断变化，1840~1911 年是英国，1911~1927 年是日本，1927~1949 年是美国，1949~1960 年是苏联。对上述变化理解最全面的是（ ）

- A. 中国国家实力与经济发展水平的变化
- B. 世界上主要国家对华政策性质的变化
- C. 近代以来中国对外援依赖程度的变化
- D. 国际局势影响下中国国际地位的变化

【答案】D

【解析】

本题是最佳类型选择题。根据材料及所学知识可知，1840~1911 年，英国对华贷款最多，这是因为英国此时的经济实力强大，而且是最先侵略中国，企图将中国变为其原料产地和商品倾销地；1911~1927 年，日本对华贷款最多，这是因为欧洲国家忙于一战，为日本侵略中国提供了有利时机；1927~1949 年，美国对华贷款最多，这是因为通过第二次工业革命和一战有利时机，美国成为世界上经济强国。同时日本对华侵略，美国对国民党予以援助；1949~1960 年，苏联对华贷款最多，这是因为欧美列强对新中国实行经济封锁，新中国实行“一边倒”，与以苏联为首的社会主义国家建交。同时《中苏友好同盟互助条约》的签订，苏联对华进行援助。因此，材料体现了国际局势影响下中国国际地位的变化，D 项正确，为最佳选项；1949 年前，中国的国际地位决定了国家实力相对较弱，所以对华贷款最多的国家就是侵华占据主导地位的国家，但是这期间中国的经济发展水平都较低，对华贷款最多的国家还是有阶段性变化，故 A 项有一定合理性，但不完全正确，非最佳选项；英国、日本和美国对华政策的性质始终是侵略性的，并没有发生变化，但是苏联对中国的政策在性质上发生了一定的变化，由新中国建国之初的平等互利到后来的大国沙文主义，想要控制和利用中国对抗资本主义阵营，故 B 项虽有一定合理性，但理由不够充分，非最佳选项；材料反映了国际局势影响下中国国际地位的变化，C 项不符合材料主旨，排除 C 项。

11. 近年，考古工作者在江西国字山发现了战国中期的大型墓葬。该墓葬具有突出的越文化特征，同时又有楚文化和江淮文化等文化因素，墓葬形制也与中原墓葬有相似之处。此

考古发现（ ）

- A. 印证了“春秋五霸”的政治格局
 B. 反映了中华文明多元一体的特点
 C. 证明中原率先成为中华文明核心
 D. 说明了统一多民族国家已经建立

【答案】B

【解析】

结合所学知识可知，考古工作者在江西发现的战国中期墓葬，融合了越文化、楚文化和江淮文化等文化因素，其形制与中原墓葬有相似之处等，反映了中华文明多元一体的特点，B项正确；战国时期的墓葬不能印证“春秋五霸”的政治格局，排除A项；材料不足以证明中原率先成为中华文明核心，排除C项；战国中期统一多民族国家尚未建立，排除D项。故选B项。

12. 唐代初期，太宗称：“我今为天下主，无问中国及四夷，皆养活之。不安者，我必令安；不乐者，我必令乐。”由于边远诸族聚居地生产相对落后，无法执行内地赋役标准，朝廷依据实情实施轻税政策，如建中元年（780）规定：“诸边远州有夷僚杂类之所，应输课役者，随事斟酌，不必同之华夏。”上述材料集中体现了唐朝（ ）

- A. 采取灵活政策促进民族交往
 B. 重视边境民族地区的社会治理
 C. 调整经济政策推动区域发展
 D. 坚持推行因俗而治的民族政策

【答案】B

【解析】

本题是单类型单项选择题。据本题主题干的设问词，可知这是本质题。据本题时间信息可知准确时空是：唐代（中国）。题干第一则材料中，唐太宗的观点“皆养活之。不安者，我必令安；不乐者，我必令乐”体现了唐太宗重视对周边少数民族地区的治理；第二则材料中，朝廷在边境少数民族地区实施不同的赋税政策，也体现了朝廷重视边境民族地区的治理，B项正确；民族交往强调双向交流，题干仅体现了朝廷对边疆地区的态度和政策，同时题干中唐太宗的态度和朝廷的做法，并非为了促进民族交往，而是为了稳定边疆和巩固统治，排除A项；材料涉及的是重视边境民族地区的社会治理，没有唐朝经济政策调整的相关论述，排除C项；题干中唐太宗的观点没有体现“因俗而治”，也没有涉及“民族政策”，不符合题目设问“集中体现了”，排除D项。故选B项。

13. 元朝创建行御史台“主察行省”。至元二十年，江淮行省“有欲专肆而忌廉察官者”，建议行御史台隶属行省。经重臣董文用据理力争，该图谋未能得逞。至元二十八年，行御史台不受行省节制在法令上被确认。这说明元代（ ）

- A. 行省长官的特权受到否定
B. 地方权力的监督机制得到改善
C. 地方的吏治问题得以解决
D. 行省事务最终由朝廷大臣决定

【答案】B

【解析】

根据材料“元朝创建行御史台‘主察行省’……至元二十八年，行御史台不受行省节制在法令上被确认”可知，元朝建行御史台监察行省，江淮行省“欲专肆”建议行御史台隶属行省，未能得逞，之后行御史台不受行省节制在法令上被确认，说明行御史台能够更好的监察地方，地方权力的监督机制得到改善，B项正确；行省长官的特权受到否定，在材料中没有体现，排除A项；通过材料信息无法判断地方吏治问题解决程度，排除C项；行省事务最终由朝廷大臣决定，不符合史实，排除D项。故选B项。

14. 宋朝海外贸易中，输出的商品主要是丝织品、瓷器、漆器、铁器等，输入的商品以香料、犀角、象牙、珊瑚、珍珠等为大宗。政府每年从海上进口贸易中获利颇丰。这表明，在宋朝（ ）

- A. 进口商品成为基本生产资料
B. 开辟了海上丝绸之路
C. 外贸成为国家税收主要来源
D. 手工业生产较为发达

【答案】D

【解析】

宋朝海外贸易中，输出商品多为手工业制成品，而输入产品多为奢侈品，最终政府每年从海上进口贸易中获利颇丰，意味着当时贸易出口量较大，说明手工业生产较为发达，D项正确；进口商品是奢侈品，不是基本生产资料，排除A项；汉代开辟了海上丝绸之路，排除B项；通过材料无法看出外贸在国家财政中所占比重，排除C项。故选D项。

15. 明初废行省，地方分设三司，分别掌管一地民政与财政、司法、军事，直属六部。明中叶以后，皇帝临时派遣的巡抚逐渐演变为三司之上的地方最高行政长官。这一变化有助于

- A. 扩大地方行政权力
B. 提高地方行政效率
C. 削弱六部的权限
D. 缓解中央与地方的对立

【答案】B

【解析】

试题分析：本题考查了明代地方行政制度的相关内容。由“直属六部”、“

演变为三司之上的地方最高行政长官”等内容巡抚的出现减少了地方处理事务的环节，能够集中权力，提高效率，故选 B。

考点：中国古代的政治制度·汉到元政治制度的演变

16. 图中的动物是郑和下西洋时外国使臣随船向明政府贡献的奇珍异兽。明朝君臣认为，这就是中国传说中的“麒麟”。明成祖遂厚赐外国使臣。这表明当时



- A. 对外交流促使中国传统绘画出现新的类型
- B. 朝廷用中国文化对朝贡贸易贡品加以解读
- C. 海禁政策的解除促进了对外文化交流
- D. 外来物品的传入推动了传统观念更新

【答案】B

【解析】

图中的动物是长颈鹿，而明朝君臣则认为这是传说中的麒麟，麒麟在传统中国被视为祥瑞之物，这说明明朝君臣在用传统文化解读朝贡贸易的贡品，故 B 项正确；图中属于古代绘画中的动物画，属于传统的绘画类型，故 A 项错误；明朝初年，东南沿海倭患严重，下令实行海禁，禁止官民私自出海，故 C 项错误。材料体现的观念仍然是“天朝上国”的观念，故 D 项错误。

二、非选择题：本题共 4 小题，共 52 分。

17. 阅读材料，完成下列要求。

材料一 美国长期肆意干涉拉丁美洲事务。自 20 世纪 80 年代末期起，美国政府武力入侵的同时，更侧重于用“民主化”与“和平演变”的手段干预拉美地区事务。1999 年，美国政府推出“新干涉主义”，竭力推行美国的价值观和社会制度，充当“世界法官”。后冷战时代，拉美在美国全球战略中的重要性开始不断下降。同时，拉美地区成立了美洲玻利瓦尔联盟等组织，在运用自身力量解决地区冲突方面发挥了重要作用。2011 年，拉美和加勒比国家共同体成立，凸显了越来越洪亮的“拉美声音”。2013 年 11 月，美国政府宣称放弃“

门罗主义”，然而就在当天，又对古巴进行了抨击。此后，美国政府又相继对委内瑞拉等国的内政进行了干涉。

——摘编自徐世澄主编《帝国霸权与拉丁美洲》等

材料二 20世纪90年代，中国同东南亚各国关系进入全面发展时期。1997年，东南亚地区爆发金融危机，中国政府采取积极行动，对缓解危机、稳定东南亚地区经济乃至世界金融秩序作出了重要贡献。中共十八大以来，中国—东盟各方面关系全面加强：政治互信不断加强，经济合作硕果累累，人文交流日益频繁，中国“一带一路”倡议与东盟“互联互通总体规划发展”目标高度契合。中国—东盟“命运共同体”理念成为广泛共识。2021年11月，指出：“中国东盟建立对话关系30年来……我们摆脱冷战阴霾，共同维护地区稳定。我们引领东亚经济一体化，促进共同发展繁荣，让20多亿民众过上了更好生活。”

——摘编自黄庆、王巧荣主编《中华人民共和国外交史》等

- (1) 根据材料一并结合所学知识，简析美国宣称放弃“门罗主义”的原因。
- (2) 根据材料二并结合所学知识，概括20世纪90年代以来中国处理同东南亚国家关系的原则。
- (3) 根据材料并结合所学知识，说明20世纪90年代以来中、美处理同周边国家关系的根本区别。

【答案】(1) 拉美地区在美国全球战略中地位下降；拉美国家的联合有能力解决地区事务；美国战略重心转向中东和中亚地区（阿富汗战争、伊拉克战争）；金融危机削弱美国实力；中国改革开放取得巨大成就；欧盟、日本、俄罗斯等多极化势力不断发展壮大。

(2) 经济支持；政治平等互信；人文交流；互惠共赢，共同繁荣；构建中国--东盟命运共同体。

(3) 美国处理周边国家关系以美国利益、美国优先为出发点，奉行霸权主义、干涉主义等原则，牺牲周边国家的利益。中国处理周边国家关系以政治平等互信、经济共同发展繁荣、文化交流为方式，睦邻友好和平共处。

【解析】

【小问1】

本题是背景类材料分析题。时空是现代世界之20世纪末21世纪初。根据材料一“后冷战时代，拉美在美国全球战略中的重要性开始不断下降”得出，拉美地区在美国全球战略中地位下降；根据材料一“拉美地区成立了美洲玻利瓦尔联盟等组织，在运用自身力量解决地区冲突方面发挥了重要作用。2011年，拉美和加勒比国家共同体成立，凸显了越来越洪亮的；

‘拉美声音’”得出，拉美国家的联合有能力解决地区事务；根据材料一和结合所学知识还可从美国战略重心转向中东和中亚地区（阿富汗战争、伊拉克战争）；金融危机削弱美国实力；中国改革开放取得巨大成就；欧盟、日本、俄罗斯等多极化势力不断发展壮大等方面思考作答。

【小问 2】

本题是特点类材料分析题。时空是现代中国之 20 世纪末 21 世纪初。根据材料二“中国政府采取积极行动，对缓解危机、稳定东南亚地区经济乃至世界金融秩序作出了重要贡献”得出经济支持；根据材料二“政治互信不断加强，经济合作硕果累累，人文交流日益频繁”得出政治平等互信；人文交流；根据材料二“中国‘一带一路’倡议与东盟‘互联互通总体规划发展’目标高度契合”得出互惠共赢，共同繁荣；根据材料二“中国—东盟‘命运共同体’理念成为广泛共识”得出构建中国--东盟命运共同体。

【小问 3】

本题是对比类材料分析题。美国：根据材料一“美国长期肆意干涉拉丁美洲事务”“20 世纪 80 年代末期起，美国政府武力入侵的同时，更侧重于用‘民主化’与‘和平演变’的手段干预拉美地区事务”等信息和所学知识可从美国国家利益、奉行外交政策等方面分析，即美国处理周边国家关系以美国利益、美国优先为出发点，奉行霸权主义、干涉主义等原则，牺牲周边国家的利益。根据材料二“中国东盟建立对话关系 30 年来……我们摆脱冷战阴霾，共同维护地区稳定。我们引领东亚经济一体化，促进共同发展繁荣，让 20 多亿民众过上了更好生活。”和所学知识可从中国与东南亚国家发展友好关系的方式目的方面分析，即中国处理周边国家关系以政治平等互信、经济共同发展繁荣、文化交流为方式，睦邻友好和平共处。

18. 阅读下列材料，回答问题。

材料一

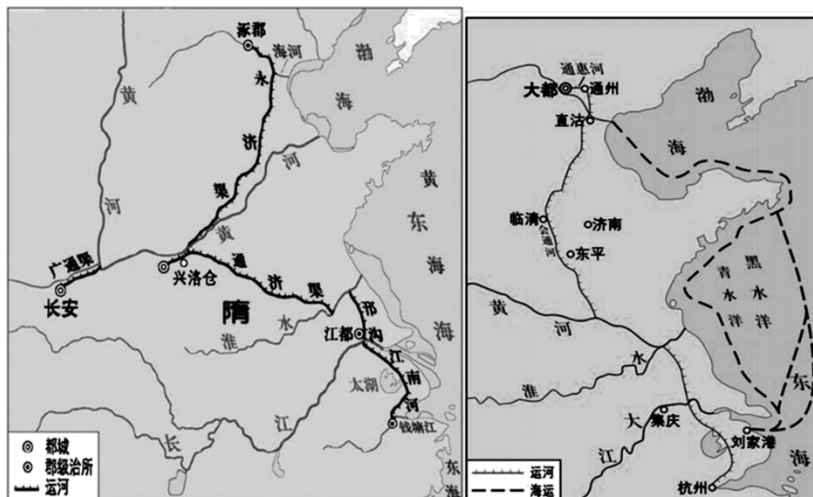


图1 隋朝大运河

图2 元朝大运河

材料二 晚清大运河的衰败是多种原因造成的。1851年的农民起义动摇了清政府的统治，战乱中江浙一带的漕运几乎处于瘫痪状态。铁路的兴起对大运河漕运打击沉重，原先需经数月以上的运输时间，现在快则不足10天，慢则一月以内就可以运入京城。1901年，清政府废除漕运制度，大运河多处淤塞，曾经的辉煌逐渐变成了历史的记忆。

——摘编自胡梦飞《辉煌与没落——明清大运河漕运的兴衰》

(1) 比较图1与图2，指出隋朝大运河与元朝大运河路线的主要差异，结合大运河的变迁，阐述中国古代交通建设与政治中心移动的关系。

(2) 根据材料二并结合所学知识，概括晚清大运河走向衰败的原因。

(3) 根据材料并结合所学知识，简析大运河兴衰的历史启示。

【答案】(1) 差异：走向上，隋朝大运河以洛阳为中心，元朝大运河以大都为中心，线路东移；路线上，隋朝大运河呈大弯曲状，元朝大运河截弯取直，缩短了航程。

关系：相互影响的关系。政治中心移动推动大运河建设及路线调整，隋朝的政治中心在长安和洛阳，大量物资和人员调动要求交通建设的发展，元朝政治中心的北移，为实现南财北运，要求大运河路线的调整。反过来说，大运河的开凿及路线调整为我国政治中心与经济重心的进一步分离提供可能性，支撑了政治中心在关中、中原地区或大都地区的存在和运转。

(2) 原因：太平天国运动动摇清政府的统治；近代西方列强侵略，民族危机加深；新式交通工具的使用；漕运制度的废除；西方工业文明的冲击或外国资本主义经济的入侵。

(3) 国家和政府要重视大运河的利用与开发；要随时代的变化而创新其功能；以人民的福祉为宗旨；民众要积极参与文化遗产的保护与传承。

【解析】

【小问 1】

本题是对比类、特点类材料分析题。时空是古代中国。差异：根据材料一“图 1 隋朝大运河”，“图 2 元朝大运河”，结合运河中心的变化可分析出走向上，隋朝大运河以洛阳为中心，元朝大运河以大都为中心，线路东移；结合两幅运河图片可分析出路线上，隋朝大运河呈大弯曲状，元朝大运河截弯取直，缩短了航程。

关系：结合所学可分析出相互影响的关系。结合所学，从隋朝和元朝政治中心在北方，经济重心南移进行分析。政治中心移动推动大运河建设及路线调整，隋朝的政治中心在长安和洛阳，大量物资和人员调动要求交通建设的发展，元朝政治中心的北移，为实现南财北运，要求大运河路线的调整。反过来说，大运河的开凿及路线调整为我国政治中心与经济重心的进一步分离提供可能性，支撑了政治中心在关中、中原地区或大都地区的存在和运转。

【小问 2】

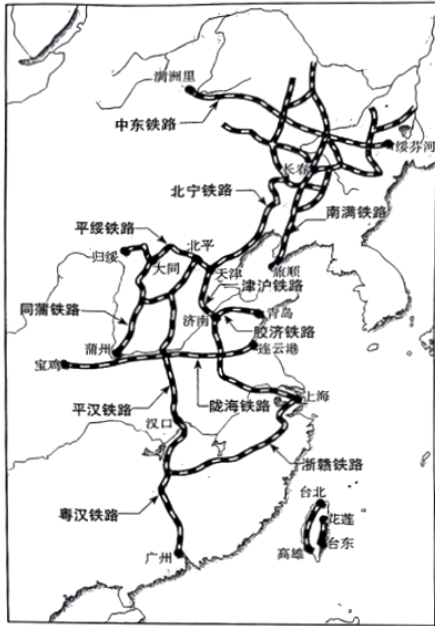
本题是背景类材料分析题。时空是晚清中国。原因：根据材料二“1851 年的农民起义动摇了清政府的统治，战乱中江浙一带的漕运几乎处于瘫痪状态”可分析出太平天国运动动摇清政府的统治；结合鸦片战争等史实可分析出近代西方列强侵略，民族危机加深；根据材料二“铁路的兴起对大运河漕运打击沉重”可分析出新式交通工具的使用；根据材料二“1901 年，清政府废除漕运制度”可分析出漕运制度的废除；结合所学可分析出西方工业文明的冲击或外国资本主义经济的入侵。

【小问 3】

本题是认识类材料分析题。启示：从大运河的兴衰过程中可以看出，国家和政府要重视大运河的利用与开发；大运河的衰落和其不能服务群众、不能及时创新功能有关，因此要随时代的变化而创新其功能，以人民的福祉为宗旨；从民众角度分析，民众要积极参与文化遗产的保护与传承。

19. 阅读材料，回答问题。

材料 铁路在观念和实践上均被赋予了广泛的功能性价值。铁路既是民族危机的主要载体，也是救亡图存的工具。对于这两种角色的扮演，我们都可以找到充分的证据，还原其不同的形态。



注：中东铁路：原名东清铁路，俄国建成于1903年7月，1920年起东清铁路始称中国东省铁路。简称中东铁路或中东路。

南满铁路：日俄战争（1904年）后，沙俄把东清铁路南满支线的长春至大连段转让给了日本。这段铁路改称为南满铁路。

北宁铁路：清政府始建于1880年唐山至胥各庄段。1912年全线通车。

平绥铁路：又称京张铁路，清政府建成于1909年10月，总工程师为詹天佑。

津沪铁路：南京浦口以北段称津浦铁路，是清政府借款建成最长的一条铁路。1908年6月开工建设，1912年11月全线通车。

胶济铁路：德国修建成于1904年。

——据马陵合《从救国至治国：国家视野下的近代中国铁路功能演化》
根据材料并结合所学知识，围绕“铁路·缩影”的主题，阐释中国近代前期的铁路发展（要求：题目自拟，表述成文，叙述完整；观点正确，史论结合；逻辑严密，条理清晰）

【答案】示例1：近代铁路的修建是列强侵略中国的缩影。

甲午中日战争以后，列强掀起瓜分中国的狂潮，民族危机不断加深；与此同时，列强在中国进行铁路投资作为掠夺中国利权、奴役中国人民的手段。（交代背景）

近代中国如中东铁路、南满铁路、胶济铁路的修建，是俄国、日本、德国等列强通过铁路达到掠夺中国资源、控制中国政治、输出本国资本的利益要求，铁路成为列强控制中国的工具。（从图中提取出列强修建铁路的信息即可）

以上内容仅为本文档的试下载部分，为可阅读页数的一半内容。如要下载或阅读全文，请访问：

<https://d.book118.com/547121124103006150>