

# 花园

我们有 12 只。

我们有 4 只。

我们有 9 只。

我们的只数是小鸟的 3 倍。



# 学习目标

- 掌握乘除法的简单运算；
- 会做乘除法的应用题；
- 会根据实际场景提出问题。



我们有4只

我们有  
9只



我们有12只



我们的只数  
是小鸟的3倍



你能提出  
哪些数学  
问题？



# 花园



画一画，算一算，蜻蜓的只数是蝴蝶的几倍？

	✓ ✓ ✓ ✓		△ △ △ △
	x x x x x x x x x x x x		o o o o o o o o o o o o

$$12 \div 4 = 3$$

答：蜻蜓的只数是蝴蝶的 3 倍。

# 蜜蜂有几只？

我们有9  
只





$$\boxed{9} \times \textcircled{\times} \boxed{3} = \boxed{27} \text{ (只)}$$

我们的只数  
是小鸟的3倍



● 有多少只蜜蜂？画一画，算一算。

	(9只)
	(9只) (9只) (9只)

	9只 
	9只 9只 9只 

9的3倍就是3个9相加。



$9 \times 3 = 27$  (只)

答：有 27 只蜜蜂。

● 什么是“2倍”？画一画，并举例说一说。



我收集的画片数是淘气的2倍，就是把淘气收集的看成1份，我有这样的2份。



# 练一练

1. 😞的个数是 😊的2倍，请你画出 😊。



有  $\boxed{8}$  个 😊。  $\boxed{4} \times \boxed{2} = \boxed{8}$  (个)





## 2. 画一画，算一算。

我有 5 张画片。



我的画片数是机灵狗的 3 倍。



我有 10 张画片。



(1) 淘气有多少张画片?  $5 \times 3 = 15$  (片)

(2) 笑笑的画片数是机灵狗的多少倍?  $10 \div 5 = 2$

## 3. 像淘气那样说一说。



12 元



3 元



6 元



2 元

铅笔盒的价钱是转笔刀的 3 倍。



4. 估一估，量一量，算一算。

红绳  **10**厘米

黄绳  **2**厘米

(1) 估一估，红绳的长度是黄绳的多少倍？与同伴交流你的方法。

(2) 分别量出红绳和黄绳的长度，算一算，自己的估计准确吗？

$$10 \div 2 = 5$$




小鸟的只数是蝴蝶的几倍？

$$\boxed{24} \div \boxed{4} = \boxed{6}$$

我们有4只

我们有  
24只



以上内容仅为本文档的试下载部分，为可阅读页数的一半内容。如要下载或阅读全文，请访问：<https://d.book118.com/548053040076006051>