

关于厘米米的认识 复习课

长度单位有两个，分别是厘米和米

测量较短物体的长度一般用厘米作单位。
厘米用字母 cm 表示

测量较长物体的长度一般用米作单位。
米用字母 m 表示



1. 什么东西的长大约是1厘米？

2. 什么东西的长大约是1米？

1 米有多少厘米？

1 米 = 100 厘米

1 m = 100cm

试一试



填米还是厘米呢？

1. 门高约2（米）。

2. 桌子高约80（厘米）。

3. 铅笔长约18（厘米）。

4. 大树高约4（米）。

5. 大生的身高是1（米）20（厘米）。

1. 一枝粉笔长8 (cm) 。

2. 大楼高约15 (m) 。

3. 围巾长约80 (cm) 。

4. 香蕉长约20 (cm) 。



画一画

画一条长为3cm的线段。



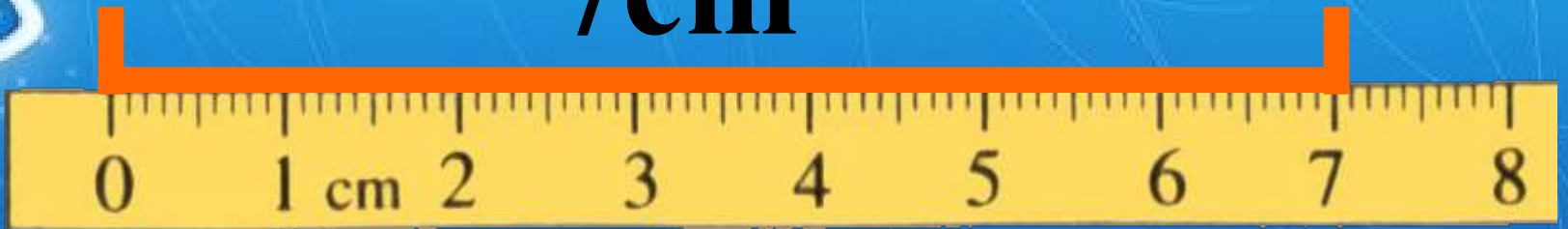
画一条长为3cm的线段。



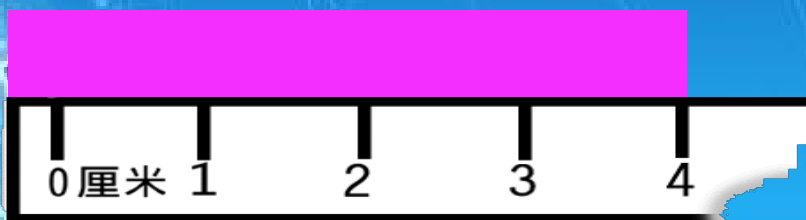
3厘米

画一条比9cm少2cm的线段。

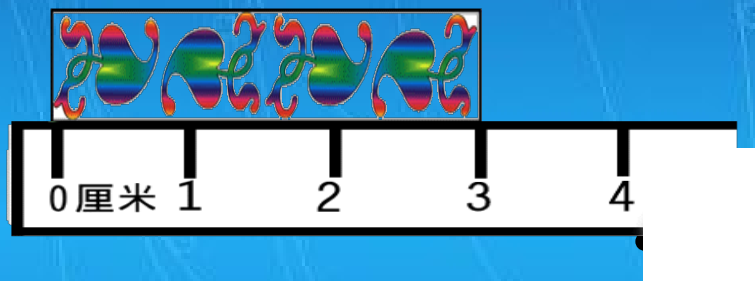
7cm



下面测量方法正确的打√。



()



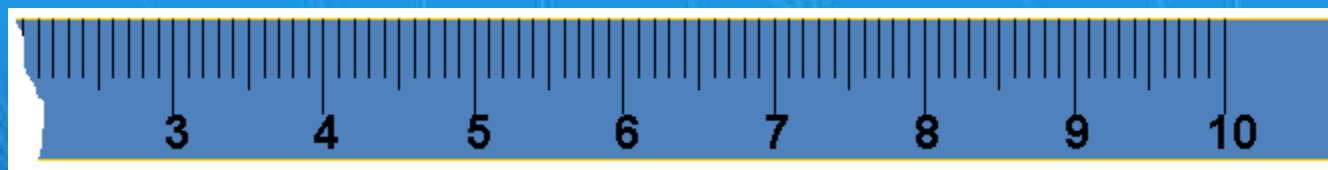
(✓)



()



怎样用下面这把断尺量出绳子的长度。




这根绳长几厘米呢？


5厘米

我是公正小法官


下面的长度单位对吗？

(1)  数学书长**26米**。 (厘米)

(2)  灯管长**50厘米**。 (√)

(3)  房间高**3厘米**。 (米)

(4)  字典厚**6米**。 (厘米)

(5)  大树高**8米**。 (√)

(6)  教室长**10厘米**。 (米)



以上内容仅为本文档的试下载部分，为可阅读页数的一半内容。如要下载或阅读全文，请访问：<https://d.book118.com/556150120030010124>