

江苏省 2024 年普通高中学业水平合格性考试模拟试卷

历史

(满分 100 分; 考试时间 75 分钟)

一、选择题: 本大题共 40 小题, 每小题 2 分, 共 80 分。在每小题列出的四个选项中, 只有一项符合题目要求。

1. 下图是某高中生的历史课堂笔记, 他将几段历史史实以思维导图的形式进行归纳。此思维导图可以论证



- A. 汉朝初年实行的郡国并行制
- B. 儒家等级观念深入普通百姓
- C. 血缘政治西周之后依然存在
- D. 宗法制核心是嫡长子继承制

2. 下表所示的内容是百家争鸣期间部分先秦思想家的主张, 这反映了他们()

人物	主张
老子	民之饥, 以其上食税之多, 是以饥
孔子	百姓足, 君孰与不足
荀子	王者富民, 霸者富士, 仅存之国富大夫, 亡国富馆榭, 实府库

- A. 代表了下层百姓的利益
- B. 提出不同的治国方略
- C. 都提倡“仁政”学说
- D. 都强调实现富国强兵

3. 春秋末年, 齐国的“相地而衰征”, 鲁国的“初税亩”改变的不仅仅是征税方式, 更为重要的是改“籍田制”为“授田制”, 原来在“大田”上集体耕作的农夫变成以家庭为单位的耕作者。这反映出()

- A. 小农经济逐渐形成
- B. 牛耕已经普遍使用
- C. 井田制已完全瓦解
- D. 个体生产成为主体

4. 秦朝皇帝制度规定，皇帝的命令叫“制”或“诏”，皇帝自称“朕”，皇帝的大印叫“玺”，皇帝的服饰、宫殿、宗庙、陵寝等也都有相关规定，只许皇帝专用，禁止他人使用，违者罪在不赦。这反映了（ ）

- A. 帝位世袭继承
- B. 皇帝极端残暴
- C. 皇权的神秘性
- D. 帝位的独尊性

5. 封泥是古代信函文书封缄的实物遗存，有重要的史料价值。下图为汉代“扬州刺史”封泥，在下列研究主题中，它最适合用来研究中国古代的

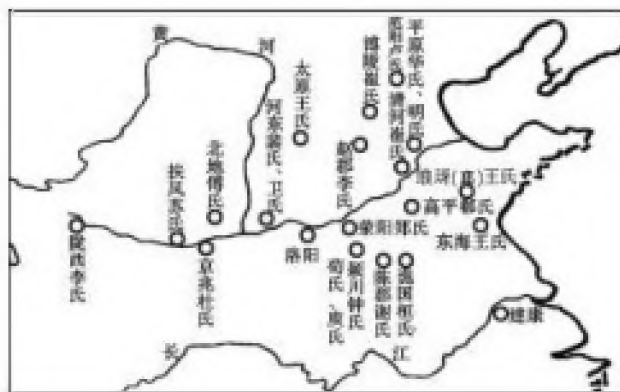


- A. 选官制度
- B. 监察制度
- C. 赋税制度
- D. 军事制度

6. 据《魏书》记载，拓跋氏追溯的初祖是受封北土的黄帝嫡孙。拓跋珪及继任的三位皇帝亲往或遣使至涿鹿黄帝庙祭祀。上述做法体现了

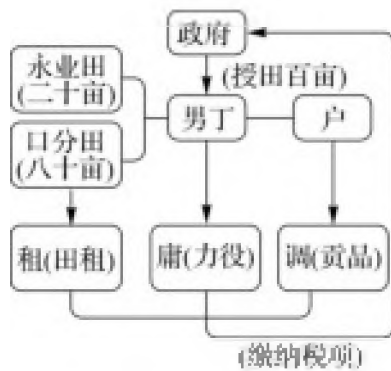
- A. 尊祖敬宗的宗法观念
- B. 家国同构的政治理念
- C. 国家统一的历史趋势
- D. 多元一体的认同意识

7. 下面是魏晋世族分布图。对图中现象起主要推动作用的制度因素是



- A. 三省六部制
- B. 察举制
- C. 九品中正制
- D. 科举制

8. 下图所示的内容是中国古代某一时期实行的赋税制度，该制度（ ）



- A. 保证了农民的生产时间
B. 加强政府对农民的人身控制
C. 一年分夏、秋两季征税
D. 从唐玄宗天宝年间开始实行
9. 《新唐书·宰相表上》序云：“唐因隋旧，以三省长官为宰相，已而又以他官参议，而称号不一，出于临时，最后乃有‘同品平章’之名。”这一举措()
- A. 严重冲击了三省六部制
B. 说明宰相的实际作用小
C. 进一步削弱了相权
D. 赋予了宰相集体决策权
10. 南宋初年，王重阳创立全真教，提出了“儒门释户道相通，三教从来一祖风”的观念。这表明当时()
- A. “三教合归儒”的主张获得了认可
B. 三教合流思想观念得到传承
C. 道家思想开始糅合到儒家思想中
D. 程朱理学的某些观念逐渐扩散
11. 明朝正德、嘉靖之际的吏部尚书王琼形容当时的政治状况时说：“六部之权渐轻，凡事多禀受内阁风旨而后行。”据此可知，明代
- A. 六部受内阁的直管
B. 阁臣权力逐渐增强
C. 相职得以重新设置
D. 皇权受到内阁制约
12. 1727年，清政府在西藏设驻藏大臣监督西藏地方政务；1762年，清政府在新疆设伊犁将军；1884年，在新疆建行省，最终确定了今天中国的版图。这表明，清朝()
- A. 行省制度开始在全国推行
B. 君主专制统治空前强化
C. 中央政府与西藏开始交往
D. 强化对边疆地区的管辖
13. 1894年10月24日，日军从花园口登陆，历时14天，清政府陆海军不闻不问。月余，徐邦道率部在土城子阻敌，予敌重创。但敌增兵纷至，清军后援不继，众寡悬殊，无以为食，争船逃走，旅顺陷落。这一结局
- A. 源于清军素质的低下
B. 动摇了清政府反动统治
C. 消磨了国人反帝意志
D. 折射出清朝统治的腐朽
14. 下图所示内容是何剑士 20 世纪初的作品《遍地药线》。漫画中间地平线上拿着锄头的是清朝统治者。漫画下方文字是“遍地药线，触机即发，铲地皮的，同一险杀”，左上方文字是“日以推锄民气为事者请鉴”。

图中现象体现了()



- A. 辛亥革命的起因
- B. 清朝统治的腐朽
- C. 中国百姓的苦难
- D. 革命形势的高涨

15. 1872年，上海轮船招商局创办。3年后它从洋商那里分回了1300余万两的市场份额，并把一些外商轮船公司挤垮，长江上的华商航运已经占了六成。材料说明洋务企业

- A. 实现了“求富”的追求目标
- B. 一定程度上抵制了外国侵略
- C. 使外商企业在中国陷入绝境
- D. 主导了近代中国经济的发展

16. “哼，皇上没啦，总算大改良了吧？”这是老舍名剧《茶馆》中人物李三的一句台词，李三感叹的“大改良”主要是指

- A. 促进了民族资本主义发展
- B. 使民主共和思想深入人心
- C. 推动社会生活习俗近代化
- D. 推翻了两千多年封建帝制

17. 面对民国成立后共和制度名存实亡的残酷现实，一场吸取西方文明，并把它当作武器，批判中国传统儒学，改造中国人“国民性”的运动发生了。这场运动是指

- A. 洋务运动
- B. 维新变法运动
- C. 新文化运动
- D. 五四运动

18. “1926年9月被人唾之以鼻的国民党人攻下了长沙、岳州、武昌和汉口。1927年春他们拿下了南京和上海。”这则新闻报道反映的中国政局变化是

- A. 日本侵华受到有效遏制
- B. 国民党发动第五次“围剿”

- C. 国民党反袁斗争取得胜利
- D. 北洋军阀的统治基本被推翻

19. 胡适认为，与“官方文学”相对的歌谣、语录、弹唱等形式的“民间文学”就是“白话文”，应该得到发扬。

下列新文化运动的主张能够体现这一观点的是

- A. 提倡民主，反对专制
- B. 提倡新道德，反对旧道德
- C. 提倡科学，反对愚昧
- D. 提倡新文学，反对旧文学

20. 1938年7月，武汉成立了国民参政会，时人称其为国内对立的阶级、政党、派别间“互相忘记了旧怨”的表现。国民参政会的成立

- A. 使国共两党的阶级利益一致
- B. 体现了抵御外侮的民族精神
- C. 实现了中国政治民主化要求
- D. 表明国民党放弃了一党专政

21. 下图是1949年某期《申报》对某一战役的报道（部分截图）。据此判断，该战役是




- A. 辽沈战役
- B. 淮海战役
- C. 平津战役
- D. 渡江战役

22. 在抗美援朝第二次战役中，他所在的部队在东线长津湖地区对敌实施分割围歼……与敌人同归于尽，用生命和鲜血实现了“人在阵地在”的铮铮誓言。中国人民志愿军授予他“特级战斗英雄”称号。材料中的“他”是

- A. 赵一曼
- B. 左权
- C. 杨根思
- D. 焦裕禄

23. 下面的漫画作品描绘了新中国经济发展进程中的某一重大历史事件。该历史事件表明了当时我国



- A. 基本完成三大改造，标志着社会主义制度的确立
- B. 农村已实行经济体制改革，社会生产力巨大进步
- C. 片面追求经济建设高速度，忽视了客观经济规律
- D. 全面建成小康社会，城乡居民人均收入显著提高

24. 下图所示是我国“三线建设”的一幅宣传画。“三线建设”指的是自 1964 年起，中华人民共和国政府在中国西部地区进行的一场大规模国防、科技、工业和交通的基本设施建设，对“三线建设”理解正确的是()



- A. “三线建设”遵循了经济发展的客观规律
- B. “三线建设”实现了东西部经济的平衡发展
- C. “三线建设”带有浓厚的政治色彩和军事色彩
- D. “三线建设”体现了“八字”方针对工业的调整

25. “忆往昔，求和割地华夏声咽忍顾黎民血；看今朝，喜迎回归举国同庆再造中国魂。”下列各项中，最符合这副对联主题的是

- A. 开国大典
- B. “文革”结束
- C. 香港回归
- D. 改革开放

26. 麦加朝圣，是每个穆斯林毕生的梦想，据记载，马里国王穆萨麦加朝觐，朝觐队伍至少有 8000 人，其中奴隶 500 人，每人手执一根 2 公斤重的金仪仗，随后是 100 头骆驼组成的运输队，每头驮 130 公斤黄金。

这说明古代马里 ()

- A. 国王穷奢极欲
- B. 赋税沉重
- C. 主要和伊斯兰国家贸易
- D. 国家拥有大量的黄金

27. 有人这样评价一位历史人物：“在他的努力下，通过借鉴邻国使其所处的国家发生了根本的变化，极大地促进了社会的发展。”此人是（ ）

- A. 孝德天皇 B. 李成桂 C. 穆罕默德 D. 源赖朝

28. 欧洲人认为哥伦布发现美洲使美洲“走出原始的野蛮状态，进入文明时代”；一些拉美国家认为哥伦布到达美洲是“苦难的开始”；联合国教科文组织则认为是“两个大陆相遇”的说法。据此可知，对哥伦布“发现”美洲的认识不同的原因是（ ）

- A. 文明之间不可能有和平的交流 B. 欧洲的文明阻碍了美洲文明的进步
C. 文明有高低贵贱之分 D. 立场和角度影响对历史现象的认识

29. “19世纪中叶，工业资产阶级开始进入议会，并逐步取得统治地位。此前，两党轮流执政，官员经常发生变动。官员的任用不仅以党派为基础，而且存在许多暗箱操作的手法，以致卖官鬻爵之事时有发生，使政府的行政既无效率，又不经济。”下列对材料理解不正确的是（ ）

- A. 工业革命推动了议会改革 B. 英国是两党轮流执政
C. 英国的政治制度仍需完善 D. 民主共和制度使政府效率低下腐败丛生

30. “马克思主义的诞生是19世纪中期人类历史上的伟大事件，它吸收了当时人类所创造的一切文明成果，成就了其伟大和科学。”下列不属于马克思主义理论来源的是（ ）

- A. 英国的古典政治经济学 B. 德意志的古典哲学
C. 英法的空想社会主义 D. 英国的凯恩斯主义

31. 1921年苏俄政府调整国家与农民的关系，通过粮食税等市场机制建立工农联盟，同时允许私营企业有一定程度的发展，并以租让制等形式在某些经济部门引入外国资本。这表明苏俄政府正在实施（ ）

- A. 战时共产主义政策 B. 新经济政策
C. “社会主义工业化” D. “农业集体化”

32. 下列两幅图所示的资料是某学习小组在进行研究性学习时，围绕某一主题搜集的。这一主题是（ ）





教皇子午线

1884年柏林会议

- A. 大国的争霸
 - B. 文明的碰撞
 - C. 侵略中的争夺
 - D. 世界市场的形成和发展
33. 有人说，巴黎公社的诞生是偶然的，失败是必然的。其失败的必然性最主要体现在（ ）
- A. 没有科学的理论指导
 - B. 没有无产阶级政党的领导
 - C. 资本主义还处于上升期
 - D. 领导人的错误
34. 1926年，苏联的农业总产值为第一次世界大战前1913年的1.2倍，其中种植业增加了8.4%，养殖业增加了18.7%，人民的生活水平相比战前有了显著提高。这主要得益于
- A. 战时共产主义政策
 - B. 新经济政策
 - C. 斯大林模式
 - D. 社会主义改革
35. 针对农业中存在的问题，勃列日涅夫在农业方面采取了相关政策与改革措施，实行固定收购和超计划交售奖励的制度，凡是农庄、农场超过固定收购计划指标后交给给国家的农产品，国家按比收购价格高出50%的价格收购。对材料解读正确的是（ ）
- A. 改革的重点在农业
 - B. 改革从根本上解决苏联的农业问题
 - C. 改革有利于调动地方政府的积极性
 - D. 改革有利于调动农民的积极性
36. 第二次世界大战后，西欧各国加强了对社会财富的再分配，增加了在医疗、养老、住房、就业、教育等方面的投入，以保障家庭及社会的稳定。这表明当时西欧国家致力于
- A. 提高国民收入
 - B. 发展“新经济”
 - C. 建立“福利国家”
 - D. 对抗社会主义
37. 1992年12月17日，美、墨、加三国签署《北美自由贸易协定》，1994年1月1日正式生效。1994年，墨西哥出现了金融危机，美国遭受牵连，克林顿动用总统紧急权力向墨西哥提供200亿美元援助，并敦促国际社会向墨西哥提供更多的援助。虽然此后墨西哥的经济逐渐得到恢复，但它对美国经济的依赖程度却不断加深。对材料解读正确的是（ ）

- A. 区域集团化弊大于利
- B. 区域集团化是对全球化的反动
- C. 发展中国家在区域化和全球化过程中面临更大的挑战
- D. 发达国家的利益受到损害

38. 进入 21 世纪后, 有学者指出: “我们正处于一场新的科技革命之中, 这场科技革命的深入发展会催生新的经济领域、新的经济运行方式, 从而使经济与社会的发展发生革命性的变革。”下列科技成果最能论证该观点的是 ()

- A. 量子理论的提出
- B. 相对论的提出
- C. 航天事业的开创
- D. 人工智能技术的发展

39. 《大博弈: 全球政治觉醒对美国的挑战》一书认为, 北约关注阿富汗战争打击所谓的“恐怖主义”, 但北约不是为阿富汗这样的国家而设计的; 并进而认定“我们面对一个新世界, 用的却是并非为这个世界而设的体制。”上述观点旨在反思

- A. 两极格局
- B. 国际恐怖主义
- C. 国际政治旧秩序
- D. 北大西洋公约组织

40. 20 世纪 40 年代中后期至 80 年代末 90 年代初, 世界出现了两大集团既非战争又非和平的长期对峙与竞争状态, 这两大集团的领导者是 ()

- A. 英国与德国
- B. 英国与法国
- C. 美国与日本
- D. 美国与苏联

二、非选择题: 本大题共 2 小题, 每题 10 分, 共计 20 分。

41. 阅读材料, 回答问题。

材料一 1759 年, 两广总督李侍尧奏准皇帝颁布了《防范外夷条规》, 根据这一文件建立了“公行”机构。公行是由官方允许的商人组成的垄断性外贸组织。外国人来广州做买卖必须经由公行, 其行动也由公行的行商负责约束。外国商人只准在规定的时间内, 即每年的 5 月至 10 月间来广州进行贸易, 期满必须离去。在广州期间, 他们只能住在由公行所设的“夷馆”内。外商在华只能雇用翻译和买办, 不能雇人向内地传递信件。中国人不准向外商借资资本。条规还规定要加强河防, 监视外国船拍的活动。

材料二 《剑桥中华民国史》中写道, 西方的干预对中国经济体制的运转, 产生了深刻的冲击。在过去, 由于明清两代政府抑制贸易和航海事业, 中国的经济变成了内向型。在 19 世纪中期的战争和叛乱危机中, 新活力的诸种因素正在聚集。1860 年以后, 对外贸易急剧增长, 中国建立起它最初的现代企业。

材料三 40 年来, 中国始终坚持对外开放的基本政策, 积极融入经济全球化的发展进程。在经济全球

化日益面临重大阻力的背景下，中国始终积极推动双边及多边贸易，投资发展。1978年，中国进出口贸易额为355亿元；2017年，根据海关总署的统计，中国外贸进出口总值已经达到27.79万亿元，是1978年的782.82倍。其中，进口额由1978年的187.4亿元上升至2017年的15.33万亿元；出口额由1978年的167.6亿元上升至2017年的12.46万亿元。相关数据统计显示，2011—2016年，中国进出口货物和服务总额占全球的份额由8.4%上升至9.7%。显然，中国对外贸易的迅速发展为国际市场和国际贸易的繁荣作出了越来越大的贡献……根据2017年商务部发布的《中国对外直接投资统计公报》，中国2016年对外直接投资规模达到1961.5亿美元，蝉联全球第二大投资国地位，占全球外国直接投资规模的比重首次超过10%。随着中国经济实力的逐步增强，以及中国在全球市场中话语权的不断提高，中国的进出口贸易，对外投资将对全球贸易的增长产生越来越大的影响，日益成为全球经济再平衡的重要力量。

(1)据材料一、二，指出鸦片战争前清朝对外的基本政策。结合所学知识，分析这一政策使当时中国与世界市场呈现出一种什么样的关系？据材料二并结合所学知识，指出清朝这一政策出现的客观原因。

(2)据材料二并结合所学知识，指出鸦片战争后，中国与世界的关系。并结合所学知识，分析这一关系对中国经济的主要影响。

(3)据材料三，指出中国与世界的关系及对世界市场的主要贡献。

(4)据上述材料并结合所学知识，谈谈你对中国与世界的关系的认识。

42. 阅读材料，回答问题。

材料一 第22条 (一) 凡殖民地及领土于此次战争之后不复属于从前统治该地之各国，而其居民尚不克自主于今世特别困难状况之中，则应适用于下列之原则，即此等人民之福利及发展成为文明之神圣任务，此项任务之履行应载入本盟约。(二) 实行此项原则之最妥善方法莫如将此种人民之保佐委诸资源上、经验上或地理上足以承担此项任务而亦乐于接受之各先进国。

——1919年《国际联盟盟约》

材料二 按照凡尔赛条约，德国的一切殖民地都被它的这些敌手夺去了。土耳其、波斯和中国都沦为奴隶。结果是世界十分之七的人口陷于被奴役的地位。这些奴隶遍及全世界，受英国、法国和日本等一小撮国家的宰割。正因为如此，靠凡尔赛条约来维系的整个国际体系、国际秩序是建立在火山上的，因为整个地球上受奴役的十分之七的人口已经忍无可忍，他们渴望有人发起斗争来撼动这些国家。

——列宁《在莫斯科省的县、乡、村执行委员会主席会议上的讲话》(1920年10月15日)

材料三 吾国固拥有道义、政治、经济及军事各方面之力量，固自然负有领导国际社会之责任，且随之亦有领导国际社会之机会。吾国为本身之最大利益以及为和平与人道计，对于此种责任，不能畏缩，且在事实上亦未畏缩。

——罗斯福(1944年)

以上内容仅为本文档的试下载部分，为可阅读页数的一半内容。如要下载或阅读全文，请访问：<https://d.book118.com/557044112016006053>