

新人教版三年级数学下册全册同步练习随堂练习一课一练

认识东南西北

1. 认方向 .



- (1) 小羊家在学校的 () 面 .
- (2) 小狗家在学校的 () 面 .
- (3) 小虎家在学校的 () 面 , 学校在小虎家的 () 面 .
- (4) 小猪家在学校的 () 面 , 它家的北面住着 () .

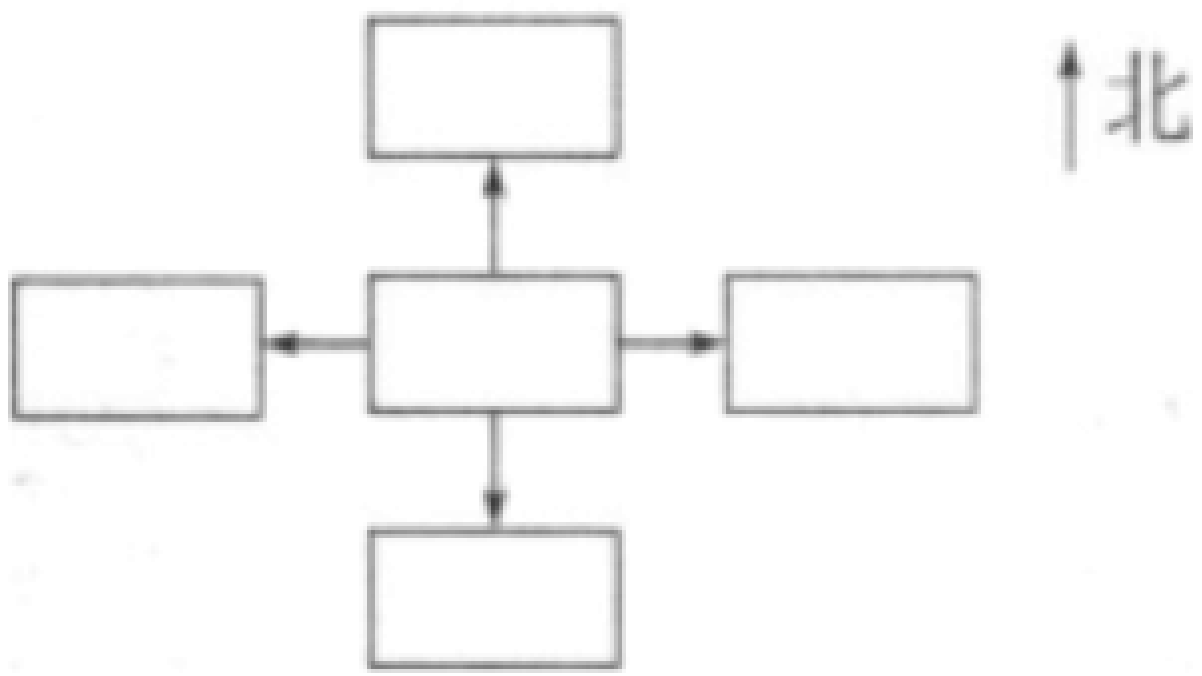
2. 看图填一填 .



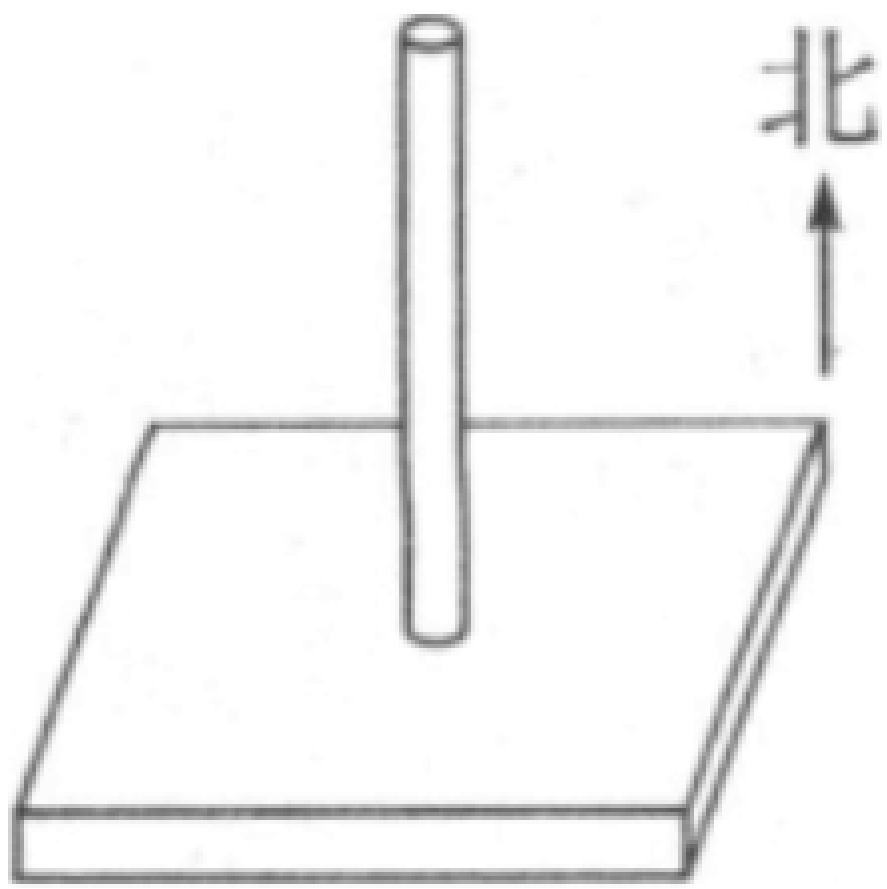
- (1) 图书馆在购物中心的 () 面 , 邮局在购物中心的 () 面 .
- (2) 购物中心在体育馆的 () 面 , 少年宫在体育馆的 () 面 .
- (3) 购物中心和邮局都在 () 的东面 .
- (4) 购物中心在少年宫的 () 面 , 又在 () 的南面 .

3. 想一想 , 填一填 .

- (1) 傍晚 , 面对太阳落下的方向 , 你的后面是 () , 左面是 () , 右面是 () .
- (2) 我们看地图时 , 上面是 () , 下面是 () , 左面是 () , 右面是 () .



5


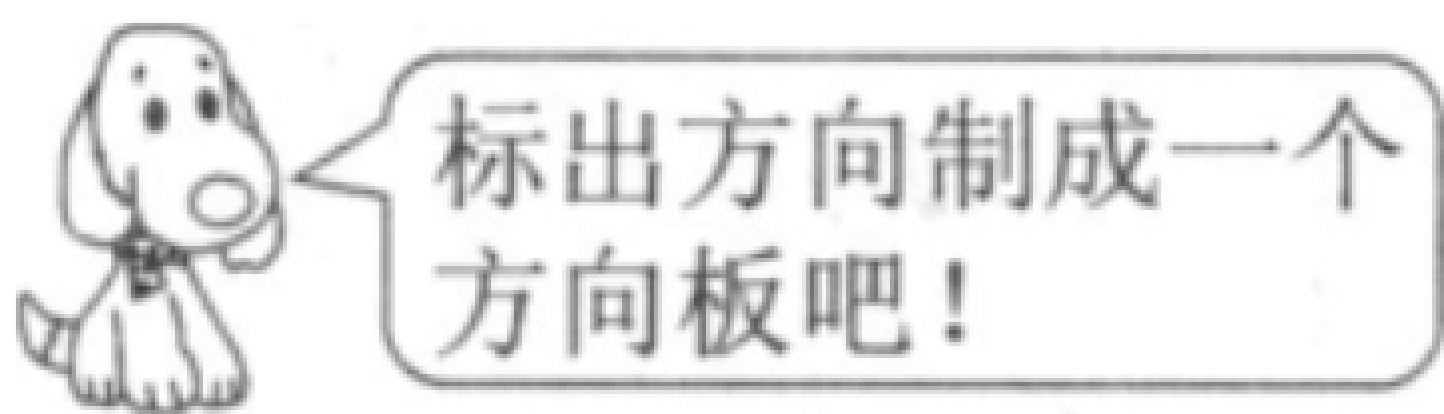


1 (1) (2) (3) (4)

2 (1) (2) (3) (4)


3 (1) (2) (3) (4)

1

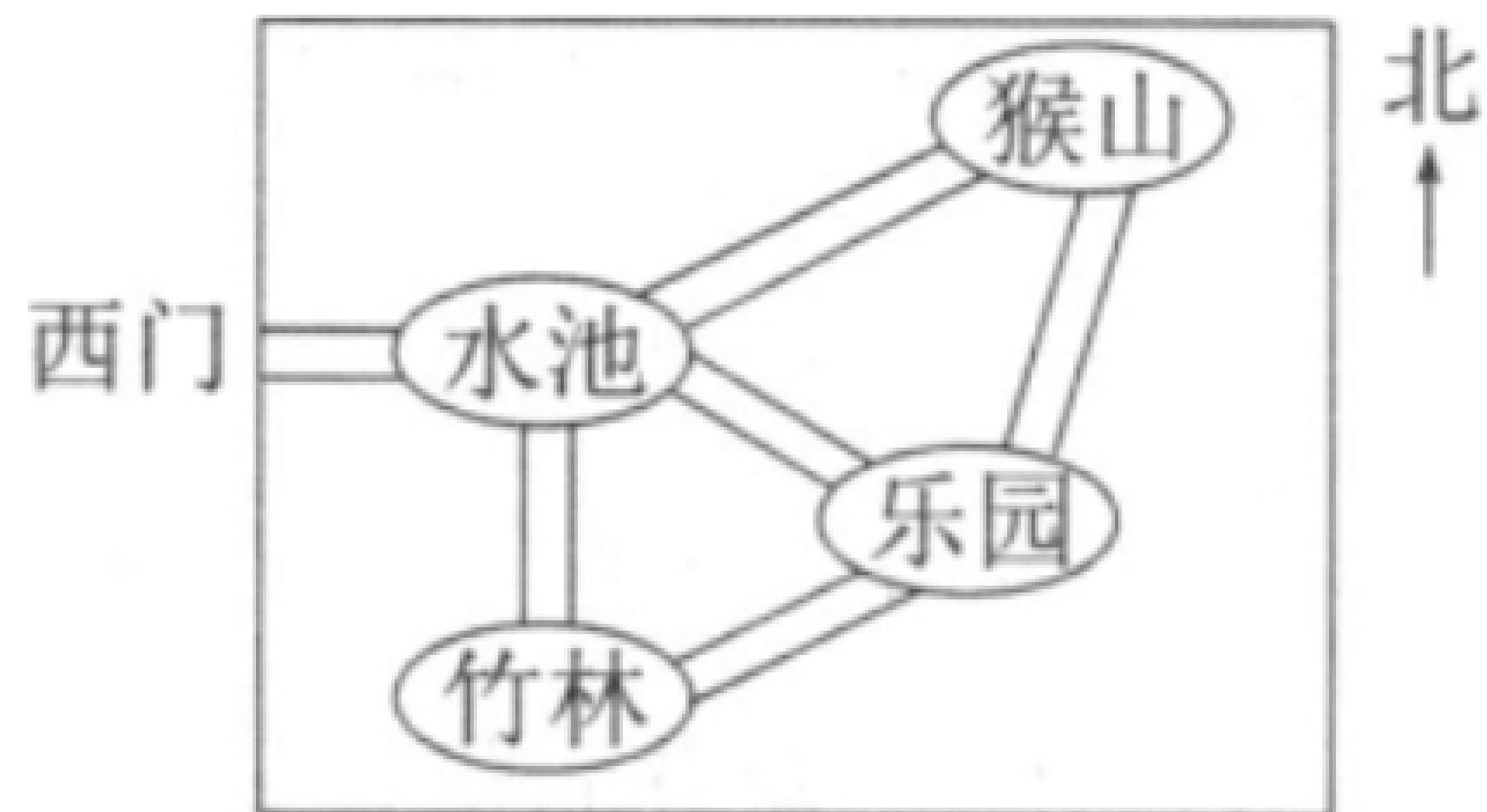


() , () ,

3



4



(1) () , () .

(2) () , () .

(3) () , () .

(4) () () .

5

3

4 (1) (2) (3) (4)

5 (1) (2) (3) (4)

1

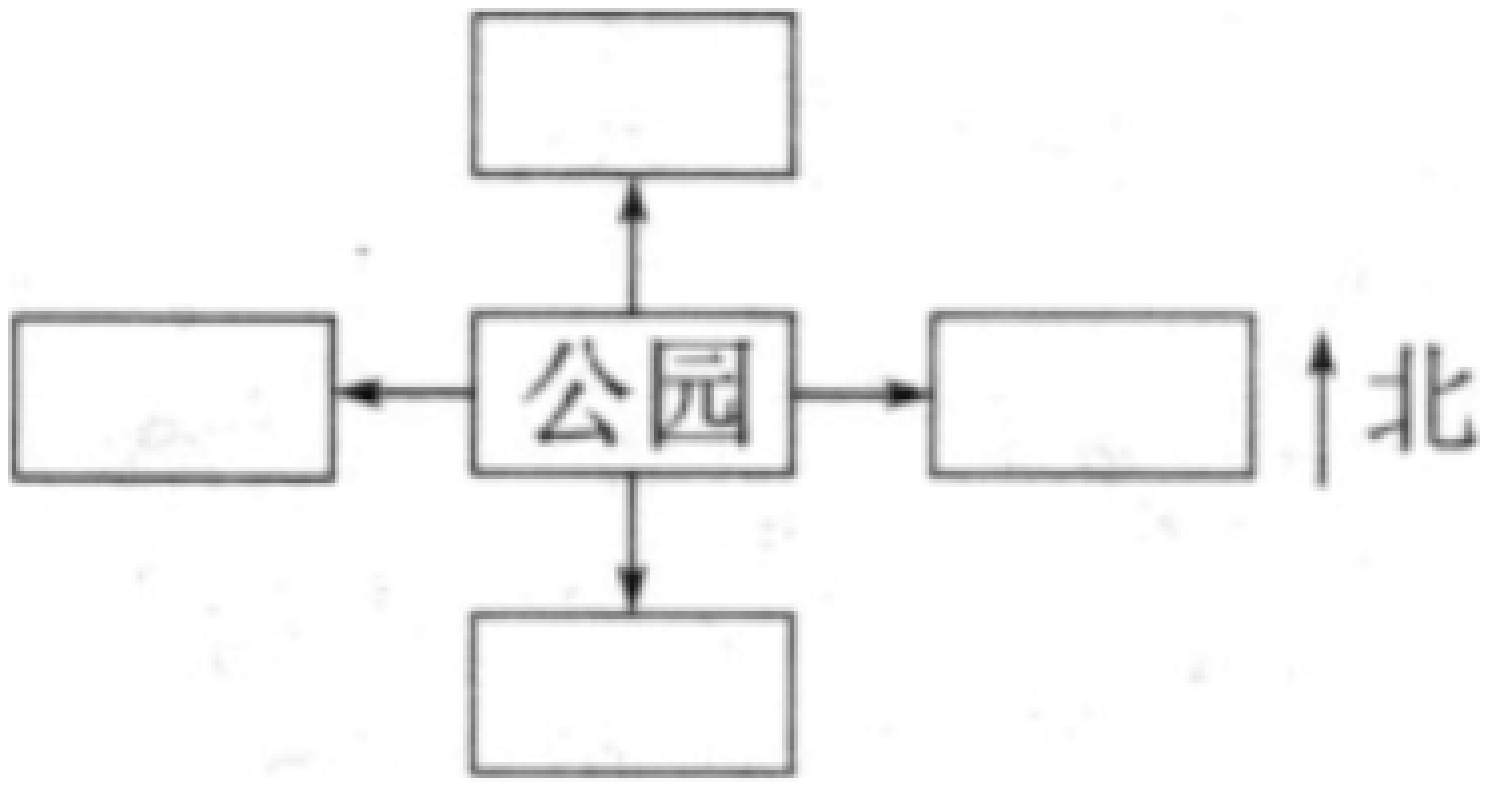


- (1) () .
- (2) () .
- (3) () .
- (4) () .
- (5) () , () .
- (6) () () .

2



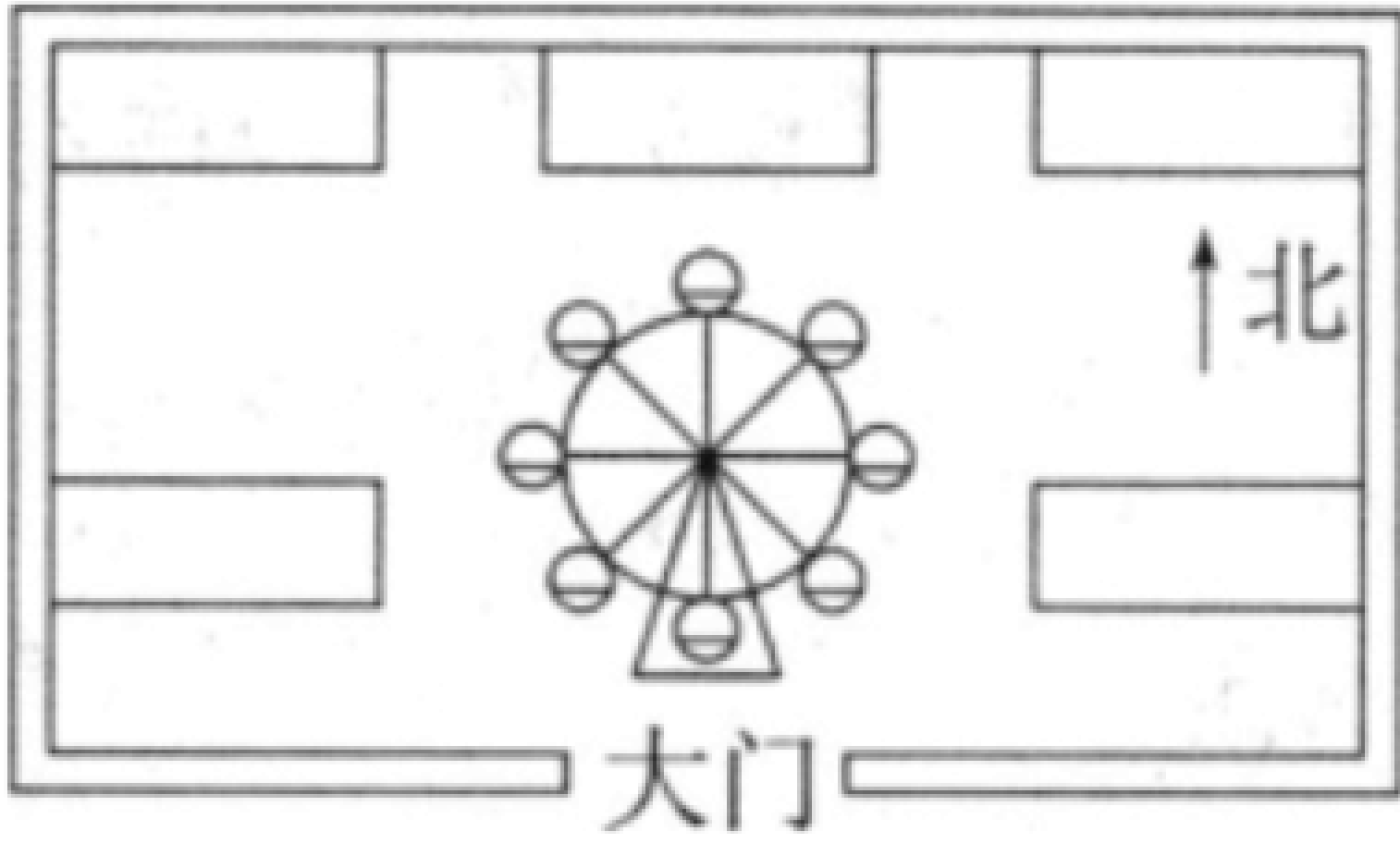
3



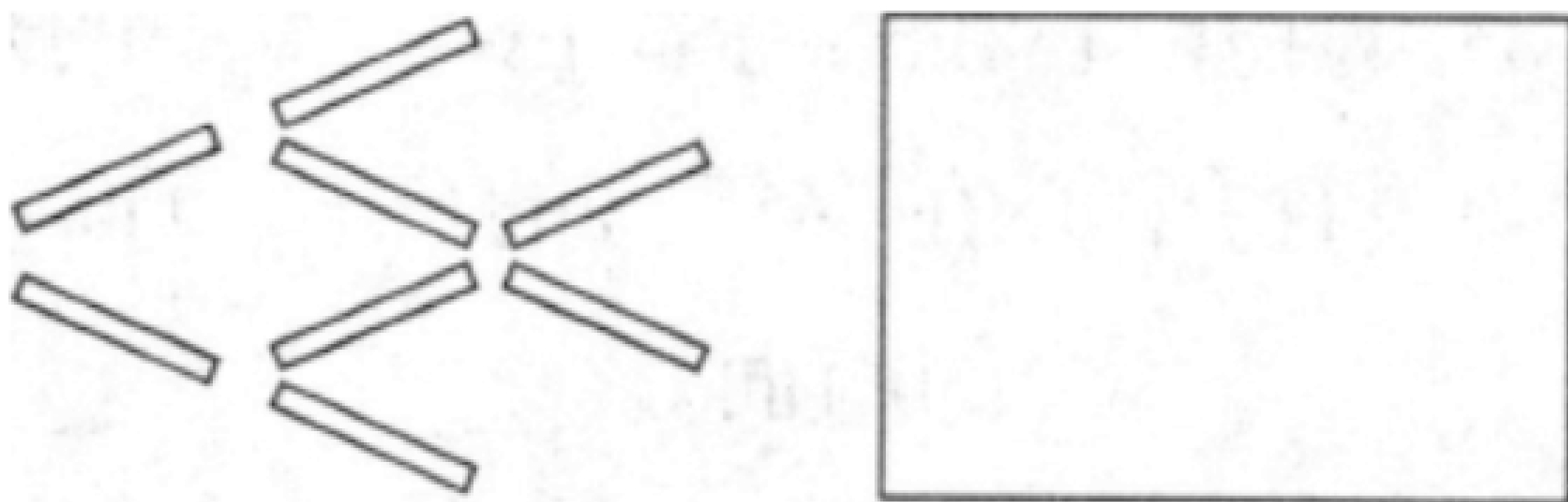
(1)

(2)

4



5



1 (1)

(2)

(3)

(4)

(5)

(6)

2 (1)

(2)

$$5 \overline{) 508}$$

$$4 \overline{) 424}$$

$$9 \overline{) 936}$$

$$6 \overline{) 638}$$

3 .

606 ÷ 6 480 ÷ 4 824 ÷ 8
60 ÷ 6 714 ÷ 7
636 ÷ 3 805 ÷ 5

商中间有0

4

每套用3米布料 布料共315米

5

. 3

327 ,

114 ,

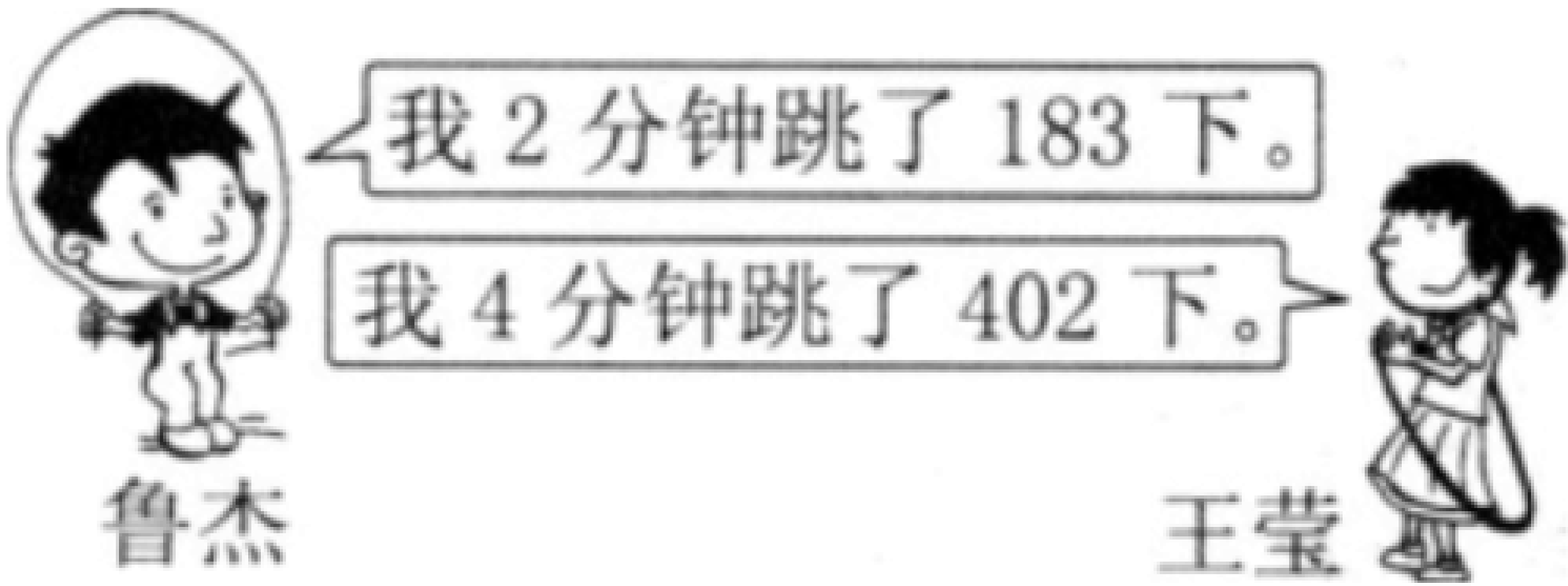
6

$$\begin{array}{r} \\ 4 \overline{) } \\ \underline{2 } \\ 0 \\ \underline{ 0} \\ 0 \end{array}$$

$$\begin{array}{r} \\ 4 \overline{) } \\ \underline{ 8} \\ \\ \underline{ 0} \\ 0 \end{array}$$

1 .

4



5

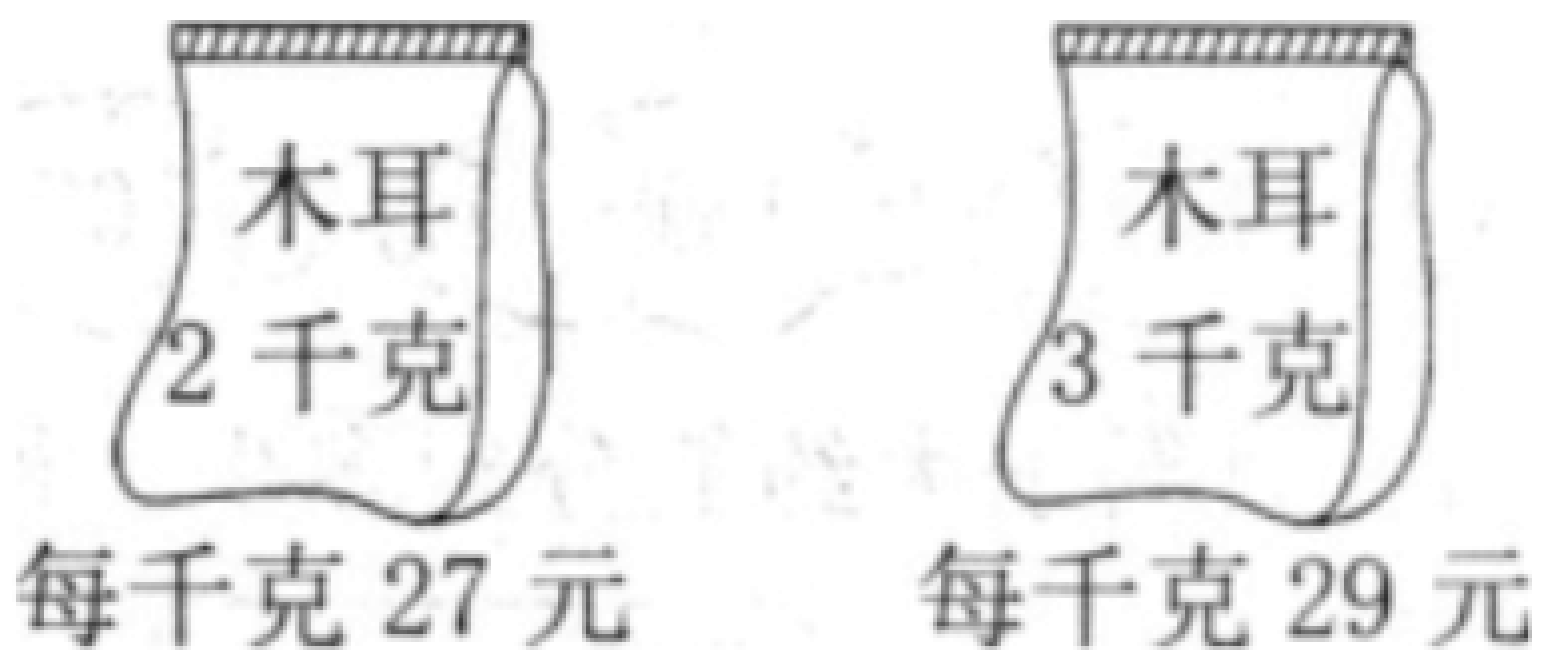
	204	5	
	276	4	
	302	6	
	149	5	

(1)

(2)

6

148



7


189

3



564 个

我们有 7 只。




4



218 根

我每天吃 28 根。



7

5

826	8	243

(1)

(2)

6

298

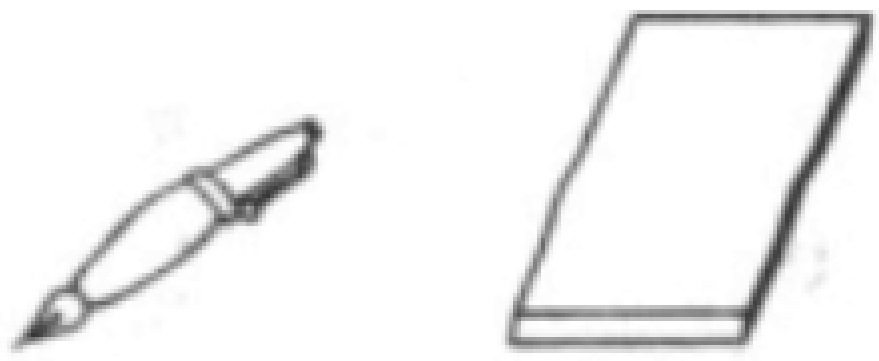
3

1

$\boxed{3} = \boxed{}$	$\boxed{2} = \boxed{}$
$\boxed{360} \div \boxed{6} = \boxed{}$	$\boxed{480} \div \boxed{4} = \boxed{}$
$\boxed{9} = \boxed{}$	$\boxed{6} = \boxed{}$

	150	5	
	60	6	
	48	4	
	66	6	

4 200 .



每支 5 元 每本 4 元

(1) ,


(2) ,


5 240 , 4 , 8 .

(1)

(2)

6



 我的体重是 1200 克。

那我的体重呢? 

()

16

$$4 \overline{) 640}$$

4

24

24

0

()

3



同学们做红花，三个年级共做了960朵。平均每个年级做了多少朵？

4 840

4 .

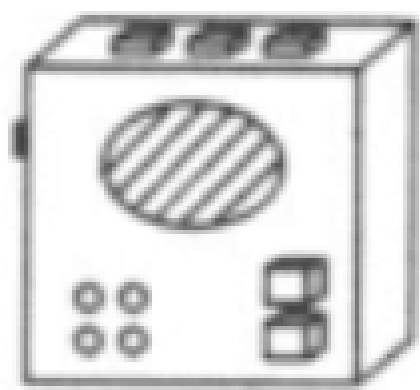
(1)

(2) 8 ,

5



4元



440元



8元

(1)

(2)

6 500 ,

150 ,

8 .

1

69 3 88 4 64 4

80 5 98 7 96 8

2

$$\begin{array}{r} 11 \\ 4 \overline{)44} \\ \underline{44} \\ 0 \end{array}$$

$$\begin{array}{r} 12 \\ 4 \overline{)68} \\ \underline{4} \\ 8 \\ \underline{8} \\ 0 \end{array}$$

() ()

3

平均分给4只猴子，每只猴子分多少个？

平均每筐装多少个？

84个

4 48 , 4 ,

5



$$\begin{array}{r}
 2 \square \\
 4 \overline{) \square \square} \\
 \square \\
 \hline
 \square \square \\
 1 \quad 6 \\
 \hline
 0
 \end{array}$$

$$\begin{array}{r}
 \square 8 \\
 3 \overline{) \square \square} \\
 \square \\
 \hline
 \square \square \\
 \square \square \\
 \hline
 0
 \end{array}$$

$$\begin{array}{r}
 \square 7 \\
 \square \overline{) \square \square} \\
 \square \\
 \hline
 \square \square \\
 3 \quad 5 \\
 \hline
 0
 \end{array}$$

4


1

,

,

交通工具	轮船	火车	自行车
速度/(千米/小时)	25	60	15

千米/小时



以上内容仅为本文档的试下载部分，为可阅读页数的一半内容。如要下载或阅读全文，请访问：<https://d.book118.com/557100124142006163>