

# 专题 03 隋唐至清中期

2024 全国中考真题汇编·选择题（第 02 期）

## 考点预览

- |                      |                       |
|----------------------|-----------------------|
| 考点 21 隋朝的统一与灭亡       | 考点 31 元朝的统治           |
| 考点 22 从“贞观之治”到“开元盛世” | 考点 32 宋元时期的都市和文化      |
| 考点 23 盛唐气象           | 考点 33 宋元时期的科技与中外交通    |
| 考点 24 唐朝的中外文化交流      | 考点 34 明朝的统治           |
| 考点 25 安史之乱与唐朝衰亡      | 考点 35 明朝的对外关系         |
| 考点 26 北宋的政治          | 考点 36 明朝的灭亡           |
| 考点 27 辽、西夏与北宋的并立     | 考点 37 统一多民族国家的巩固和发展   |
| 考点 28 金与南宋的对峙        | 考点 38 清朝前期社会经济的发展     |
| 考点 29 宋代经济的发展        | 考点 39 清朝君主专制的强化       |
| 考点 30 蒙古族的兴起与元朝的建立   | 考点 40 明清时期的科技、建筑与文学艺术 |

## 考点 21 隋朝的统一与灭亡

1. (2024·山东菏泽卷) 与此前的选官制度相比, 隋朝确立的这一制度“把取士的重心由地方官手里移到了朝廷手里, 以文化统一助成历史中国的政治统一。”据此可知, 这一制度

- A. 加强了中央集权  
B. 促进了民族交融  
C. 推动了教育发展  
D. 扩大了选官范围

【答案】A

【详解】根据材料“把取士的重心由地方官手里移到了朝廷手里, 以文化统一助成历史中国的政治统一”和所学可知, 科举制通过考试选取人才, 把取士权力由地方转移到中央朝廷, 反映出科举制加强了中央集权, A 项正确; 材料介绍的是科举制的作用之一, 没有涉及民族交融的有关情况, 排除 B 项; 材料主旨强调科举制加强了中央集权, 没有体现推动了教育发展, 排除 C 项; 材料主旨强调科举制加强了中央集权, “扩大了选官范围”与材料把取士的重心由地方官手里移到了朝廷手里, 以文化统一助成历史中国的政治统一”不符, 排除 D 项。故选 A 项。

2. (2024·甘肃兰州卷) 《女真进士题名碑》碑文中记录了金哀宗正大元年及第进士的情况, 包括试题、考中者姓名等内容, 反映出女真族对中原文化的学习和借鉴。这里女真族借鉴的是

- A. 禅让制  
B. 世袭制  
C. 科举制  
D. 行省制

【答案】C

【详解】根据材料“《女真进士题名碑》碑文中记录了金哀宗正大元年及第进士的情况”结合所学知识可知，隋炀帝时，进士科的创立，标志着科举制度正式确立。唐朝时，进士科逐渐成为科举考试最重要的考试科目，金朝创制了女真文字，并把中原经典翻译成女真语，对中原文化学习和借鉴，仿效中原的科举制设立女真进士科，C项正确；禅让制是中国原始社会部落联盟民主推选首领的制度，与材料“记录了金哀宗正大元年及第进士的情况”无关，排除A项；世袭制是名号、爵位以及财产等按照血统关系世代传承的制度，与“《女真进士题名碑》碑文中记录了金哀宗正大元年及第进士的情况”无关，排除B项；行省制是13世纪以来中国的主要行政模式，起源于元朝，明清两朝得到发展，最终影响了现代中国的行政体制，与“《女真进士题名碑》碑文中记录了金哀宗正大元年及第进士的情况”无关，排除D项。故选C项。

3. (2024·青海卷) 古诗“及第新春选胜游，杏园初宴曲江头”“春风得意马蹄疾，一日看尽长安花”“朝为田舍郎，暮登天子堂”都从侧面反映了

- A. 世袭制                  B. 分封制                  C. 郡县制                  D. 科举制

【答案】D

【详解】依据题干信息“及第新春选胜游，杏园初宴曲江头”、“春风得意马蹄疾，一日看尽长安花”、“朝为田舍郎，暮登天子堂”可知，这些诗句反映的都是科举制。隋文帝时，开始用分科考试的方法来选拔官员，隋炀帝时，正式设置进士科，我国科举制度正式诞生，从此门第不高的读书人，可凭才学做官，D项正确；世袭制就是名号、爵位以及财产等按照血统关系世代传承，开始于夏朝，排除A项；分封制是中国古代分封诸侯的制度，开始于西周，排除B项；郡县制是分封制之后出现的地方管理行政制度，秦朝时期在地方实行郡县制，排除C项。故选D项。

4. (2024·山东聊城卷) 它“是世界上最长的、最古老的人工水道……促进了中国南北物资的交流和领土的统一管辖，……直到今天仍发挥重要作用。”世界遗产委员会这段颁奖词评价的是

- A. 灵渠                  B. 都江堰                  C. 淝水                  D. 大运河

【答案】D

【详解】根据题干信息“是世界上最长的、最古老的人工水道，……促进了中国南北物资的交流和领土的统一管辖，……直到今天仍发挥重要作用”并结合所学知识可知，描述的是大运河。605年，隋炀帝下令开凿了大运河。大运河以洛阳为中心，北达（或最北点）涿郡（今北京），南至（或最南点）余杭（今杭州），全长2000多公里，是世界上最伟大的工程之一。大运河的开通，大大促进了我国南北经济的交流，成为我国南北交通的大动脉，D项正确；灵渠在今广西桂林兴安境内，全长30余千米，是世界上现存最古老的运河之一，至今仍具有运输和灌溉功能，排除A项；公元前256年，蜀郡郡守李冰主持修建了都江堰，建成之后，成都平原成为沃野，被称为“天府之国”，与题干信息不符，排除B项；淝水是安徽境内的河流，与题干信息不符，排除C项。故选D项。

5. (2024·江苏镇江卷) “这一运河网络，使隋帝国能以南方的粮食和其他物资供养洛阳，并且给北方边境提供战略后勤保障。”材料意在强调，运河网络

- A. 提高了行政效率                  B. 加重了百姓徭役负担  
C. 促进了民族融合                  D. 有利于巩固隋朝统治

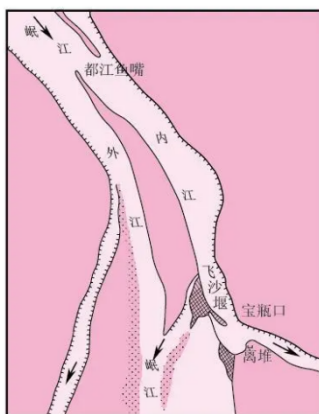
---

【答案】D



**【详解】**根据材料“这一运河网络，使隋帝国能以南方的粮食和其他物资供养洛阳，并且给北方边境提供战略后勤保障”并结合所学可知，大运河的开凿沟通南北，便于南粮北运，有利于巩固隋朝统治，D项正确；材料反映了大运河有利于南北的往来，与提高行政效率无关，排除A项；材料信息强调大运河开凿的积极影响，没有涉及加重百姓徭役负担，排除B项；材料信息没有涉及到民族交往情况，不能说明运河促进了民族融合，排除C项。故选D项。

6. (2024·黑龙江牡丹江卷) 我国古代先民非常注重兴修水利。阅读下面图文信息，可知这两项工程都



都江堰利用地势和河道建造而成，发挥出防洪、灌溉、水运等作用，使成都平原成为“天府之国”。



隋朝大运河利用了黄河南北水流的自然地形趋势，贯通了不同水系之间的水路交通，成为连接富庶经济地区与国都的纽带。

- A. 推动了国家统一的完成
- B. 促进了南北地区经济文化的交流
- C. 导致了农民起义的爆发
- D. 体现了中国古代劳动人民的智慧

**【答案】D**

**【详解】**根据题干“都江堰利用地势和河道建造而成”“隋朝大运河利用了黄河南北水流的自然地形趋势”和所学知识可知，都江堰和隋朝大运河的修建都是利用一定的地势条件而建成，促进了当地经济的发展。因此，这两项工程都体现了中国古代劳动人民的智慧，D项正确；都江堰修建在战国时期，此时国家没有完成统一，排除A项；隋朝大运河促进了南北地区经济文化的交流，而都江堰促进了成都平原的发展，不符合题意，排除B项；都江堰的修建并没有导致农民起义的爆发，不符合题意，排除C项。故选D项。

## 考点 22 从“贞观之治”到“开元盛世”

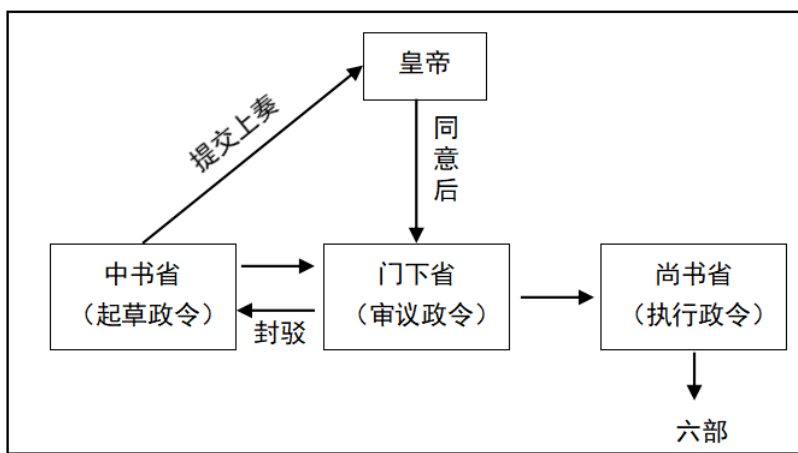
7. (2024·广东卷) 唐朝在建立后, “增损隋律”, 制定唐律, 尽削前朝“烦峻之法”, “用法务在宽简”。这反映了唐朝

- A. 加强吏治整顿      B. 吸取隋亡的教训      C. 注重经济发展      D. 开创三省六部制

**【答案】B**

**【详解】**根据题干“增损隋律”, 制定唐律, 尽削前朝“烦峻之法”, “用法务在宽简”和所学知识可知, 吸取隋亡的教训, 制定唐律, 减轻刑罚, B项正确; 加强吏治整顿主要体现在严格考察各级官吏的政绩, 不符合题意, 排除A项; 注重经济发展主要体现在减轻人民的劳役负担, 鼓励发展农业生产, 不符合题意, 排除C项; 隋朝开创三省六部制, 不符合题意, 排除D项。故选B项。

8. (2024·四川德阳卷) 根据图中的信息推断, 图中所示的中枢权力机构出现在



- A. 秦汉时期      B. 隋唐时期      C. 两宋时期      D. 明清时期

**【答案】B**

**【详解】**本题考查中国古代的政治制度。根据图片内容可知, 皇帝之下设有中书省、门下省和尚书省, 其中中书省负责起草政令, 门下省负责审议政令, 尚书省负责执行政令, 结合所学知识可知, 这一中枢权力机构出现于隋唐时期的三省六部制, B项正确; 秦朝实行三公九卿制, 没有设立中书省、门下省和尚书省, 排除A项; 两宋时期实行二府三司制, 没有设立中书省、门下省和尚书省, 排除C项; 明朝废除了中书省、门下省和尚书省, 权分六部, 设立了内阁, 清朝设立了军机处, 排除D项。故选B项。

9. (2024·江苏宿迁卷) 钱穆在《中国历代政治得失》中说: “九品中正制……把觅取人才的标准, 无形中限制在门第的小范围内。……唐代针对此弊……把进仕之门扩大打开, 经由各人各自到地方政府报名, 参加中央之考试。……自由报考之惟一限制, 即报名者不得为商人或工人。”对材料中唐代选官制度理解正确的是

- A. 选官标准仅限于门第      B. 自由报考无任何限制  
C. 有利于扩大选官范围      D. 这一制度是唐朝首创

**【答案】C**

【详解】据题干“唐代针对此弊……把进仕之门扩大打开，经由各人各自到地方政府报名，参加中央之考试”和所学知识可知，唐代科举制打破了九品中正制对于门第的限制，使得更多的人可以通过考试来进入仕途，这有利于扩大选官范围，C项正确；题干中明确提到唐代针对九品中正制的弊端，把进仕之门扩大打开，而不是仅限于门第，排除A项；题干中说“自由报考之惟一限制，即报名者不得为商人或工人”，这说明唐代科举制对报考者还是有一定的限制的，并不是无任何限制，排除B项；科举制并非唐朝首创，隋朝时期就已经创立了科举制，只是到了唐朝时期科举制得到了进一步的发展和完善，排除D项。故选C项。

10. (2024·山东潍坊卷)“米斗四五钱，马牛布野，外户动辄数月不闭。”“户部奏言：中国人自塞外来归及突厥前后内附……男女一百二十余万人。”与此相符的是

- A. 文景之治      B. 光武中兴      C. 贞观之治      D. 康乾盛世

【答案】C

【详解】根据材料“米斗四五钱，马牛布野，外户动辄数月不闭。”“户部奏言：中国人自塞外来归及突厥前后内附……男女一百二十余万人。”，结合材料中的突厥归附，可知材料描述的是唐太宗时期的社会状况，唐太宗时期出现的盛世为贞观之治，C项正确；文景之治是西汉文帝、景帝统治时期的治世，排除A项；光武中兴是东汉刘秀统治时期的治世，排除B项；康乾盛世是清朝前期出现的的盛世，排除D项。故选C项。

11. (2024·辽宁卷)近期，国家典籍博物馆举办了主题展览，与以下展览内容有关的治世局面是

沙场战神·少秦王
不世雄才·唐太宗
万民之王·天可汗

- A. 文景之治      B. 光武中兴      C. 贞观之治      D. 开元盛世

【答案】C

【详解】根据材料及所学可知，唐太宗统治时期，政治比较清明，经济得到发展，民族关系和睦，对外交流频繁，科技文化繁荣，国力逐渐强盛，史称“贞观之治”，C项正确；文景之治出现于汉文帝和汉景帝时期，排除A项；光武中兴指的是东汉光武帝刘秀统治时期出现的治世，排除B项；唐玄宗时期出现了开元盛世的景象，排除D项。故选C项。

## 考点 23 盛唐气象

12. (2024·江苏南通卷)图1和图2分别是三国时期和唐朝的生产工具。这说明我国古代劳动人民



图 1



图 2





- A. 利用运河发展经济
- B. 学习北方畜牧经验
- C. 重视农田水利灌溉
- D. 善于推广犁耕技术

【答案】C

【详解】根据材料中的生产工具图片可知分别为曹魏时期的翻车和唐朝时期的筒车，翻车可以连续将低处的水提升到高处，便利灌溉；遇到涝灾，也可以用来排水，是中国古代农业领域长期使用的一种灌溉工具。筒车是唐代的灌溉工具，说明古代劳动人民重视农田水利灌溉，C项正确；材料中生产工具是劳动人民利用自然河流进行灌溉发展农业生产，排除A项；材料属于水利灌溉，不属于畜牧，排除B项；犁耕技术主要表现在耕地工具，而材料属于灌溉工具，排除D项。故选C项。


13. (2024·江苏南通卷) 隋唐时期大书法家共15位，其中南方占11位，并集中分布在今天的江苏、浙江两省。导致这一现象出现的主要原因是

- A. 江南地区得到了持续开发
- B. 科举制度培养了大量人才
- C. 书法开始成为专门的艺术
- D. 中外经济文化的交流频繁

【答案】A

【详解】根据材料“隋唐时期大书法家共15位，其中南方占11位，并集中分布在今天的江苏、浙江两省”可知，隋唐时期，江南地区得到进一步开发，促进了文化的发展，因此大书法家中南方的比例较高，A项正确；科举制属于选官制度，与材料内容无关，排除B项；东汉以后，书法已经成为专门供人们欣赏的艺术了，排除C项；中外经济文化交流与材料内容不符，排除D项。故选A项。

14. (2024·四川乐山卷) 唐朝时期，汉文在西域已成为一种盛行的语言文字。下图是新疆地区出土的唐代文书，长538厘米，宽27厘米，内容是当地12岁学童卜天寿抄写的《论语》《千字文》及创作的诗歌等。材料反映了



局部译文：  
写书今日了，先生莫咸(嫌)池(迟)。明朝是贾(假)日，早放学生归。

- A. 中原地区政局稳定
- B. 民族交往交流交融
- C. 西域商品经济发达
- D. 海上贸易高度繁荣

【答案】B

【详解】根据题干和所学知识可知，题干反映了中原地区的文化传到新疆地区的情形，这体现了国内的民族交往交流交融，B项正确；题干没有涉及中原地区政局稳定的内容，排除A项；题干反映的是文化内容，不是经济内容，排除C项；题干反映的是民族之间的文化交流，不是海上贸易，排除D项。故选B项。

15. (2024·内蒙古赤峰卷) 唐代，一些妇女受过文学、音乐等方面的教育，喜好骑马、打球、拔河、射箭等活动；女性日常服饰的等级性没有那么严格，倾向于流行什么就穿什么。这说明，唐朝时期

- A. 妇女得到解放
- B. 尚武风气盛行一时

C. 文学艺术繁荣

D. 社会风气开放包容

【答案】D

【详解】根据题干“唐代，一些妇女受过文学、音乐等方面的教育，喜好骑马、打球、拔河、射箭等活动；女性日常服饰的等级性没有那么严格，倾向于流行什么就穿什么”和所学知识可知，唐朝时期国家统一，国力强盛，经济文化繁荣，社会风气比较开放，社会充满活力，人们多显示出一种昂扬进取、积极向上的精神风貌，如妇女的社会地位有所提高，一些妇女不仅受过教育，而且可以参加骑马、打球、射箭等活动。材料说明唐朝时期社会风气开放包容，D项正确；唐朝时期妇女的社会地位有所提高，妇女得到一些解放，但不是材料主旨的内容，排除A项；题干所述现象反映了唐朝社会风气的开放，并不是反映社会尚武风气盛行，排除B项；文学艺术繁荣体现在唐诗的繁荣，书法、绘画等艺术创作成就斐然，材料没有体现文学艺术繁荣，排除C项。故选D项。

16. (2024·贵州铜仁卷)“女为胡妇学胡妆，伎进胡音务胡乐。……胡音胡骑与胡妆，五十年来竞纷泊。”诗句最能反映唐朝

A. 民族交融加强

B. 社会风气开放

C. 民族政策开明

D. 文学艺术多彩

【答案】A

【详解】根据材料“女为胡妇学胡妆，伎进胡音务胡乐。……胡音胡骑与胡妆，五十年来竞纷泊。”并结合所学知识可知，唐朝实行开明的民族政策，各民族之间的交往与交融进一步加强。据题干“女为胡妇学胡妆，伎进胡音务胡乐……胡音胡骑与胡妆，五十年来竞纷泊”，说的是胡服走进了河洛百姓家，成为一种社会风尚，中原人学习少数民族音乐、骑射等，这体现了民族交融，相互学习，A项正确；材料强调的是各民族之间的交往与交融进一步加强，而不是社会风气，排除B项；材料强调的是各民族之间的交往与交融进一步加强，材料没有提及唐朝民族政策，排除C项；材料未体现多彩的文学艺术，排除D项。故选A项。

## 考点 24 唐朝的中外文化交流

17. (2024·江苏常州卷)钱币博物馆有下列展品，其中能充分证明中国文化影响了周边国家的是



A. 秦半两钱

B. 西夏货币

C. 和同开珞

D. 契丹货币

【答案】C

【详解】结合所学知识可知，唐朝时期，中日交往频繁，日本深受中国的文化的影响，其中货币“和同开珞”就是模仿中国唐朝时期的开元通宝铸造的，C项正确；秦半两钱是秦始皇统一中国后铸造的货币，排除A项；BD项分别是西夏货币和契丹货币，它们是受中原汉族政权影响铸造的，体现的是民族交往和融合，排除BD项。故选C项。

18. (2024·山东临沂卷)唐朝时,很多中国人为中日两国人民的交流作出了贡献。他们当中,最突出的是高僧鉴真。742年,他应日本僧人邀请,先后6次东渡,历尽千辛万苦,终于在754年到达日本。下列相关论述,正确的是

- A. 鉴真东渡日本时玄奘正在西行
- B. 鉴真受到日本人的邀请和尊敬
- C. 鉴真东渡时风平浪静顺利成功
- D. 鉴真东渡期间发生了安史之乱

**【答案】B**

**【详解】**根据材料“742年,他应日本僧人邀请,先后6次东渡,历尽千辛万苦,终于在754年到达日本。”可知,鉴真东渡是受到日本僧人的邀请,他为中日交流做出巨大贡献,受到日本人的尊敬,B项正确;鉴真东渡日本是唐玄宗时期,玄奘西行是唐太宗时期,排除A项;鉴真东渡是历经艰难险阻和风浪,第6次才达到日本,风平浪静顺利成功与现实不符,排除C项;鉴真东渡754年达到日本,755年爆发安史之乱,鉴真东渡期间发生了安史之乱不正确,排除D项。故选B项。

19. (2024·四川广元卷)初中历史课程强调“以中外历史进程及其规律为基本线索,突出历史发展的阶段性特征”。隋唐时期最显著的阶段性特征是

- A. 早期国家与社会变革
- B. 统一多民族国家的建立和巩固
- C. 繁荣与开放的时代
- D. 统一多民族国家的巩固和发展

**【答案】C**

**【详解】**依据所学知识,隋唐时期国家长期统一,政治安定,经济繁荣,对外开放活跃,国力强盛,因此是封建社会时期繁荣与开放的时代,C项正确;夏商周时期的阶段性特征是“早期国家与社会变革”,排除A项;秦汉时期的阶段性特征是“统一多民族国家的建立和巩固”,排除B项;明清时期的阶段性特征是“统一多民族国家的巩固与发展”,排除D项。故选C项。

20. (2024·湖北武汉卷)下图是甘肃出土的唐朝三彩骑俑队列,其中的女骑俑束着典型的汉式头饰,身穿窄袖紧身衣。我国其他多个地区也出土了同时期的类似三彩人物俑,印证了当时人口构成的多元性。材料反映出这一时期的时代特征是



- A. 动荡与变革
- B. 繁荣与开放
- C. 封闭与危机
- D. 侵略与反抗

**【答案】B**

**【详解】**根据题干和所学知识可知,唐朝前期政治开明,经济发展,在民族关系、对外交流、科学技术、文学艺术等多方面都有很大的建树,呈现出繁荣、富强、开放的盛唐景象,B项正确;动荡与变革是春秋战国时期的特征,排除A项;封闭与危机是清朝前期的特征,排除C项;被侵略与反抗是中国近代史的内容,

---

排除 D 项。故选 B 项。



## 考点 25 安史之乱与唐朝衰亡

21. (2024·甘肃兰州卷) 唐代诗人刘禹锡的《马嵬行》中写到:“绿野扶风道, 黄尘马嵬驿。路边杨贵人, 坟高三四尺。”这首咏史诗评论的历史事件是

- A. 文景之治      B. 贞观之治      C. 开元盛世      D. 安史之乱

【答案】D

【详解】根据材料“绿野扶风道, 黄尘马嵬驿。路边杨贵人, 坟高三四尺。”“唐朝诗人刘禹锡的诗《马嵬行》”信息和所学可知, 诗中“杨贵人”为杨贵妃, 在安史之乱中, 唐玄宗带着宠妃杨贵妃等慌忙出逃长安, 行至马嵬坡之时, 太子李亨和禁卫军却突然发动兵变, 宰相杨国忠被杀, 并迫使唐玄宗将杨贵妃赐死, D 项正确; 文景之治是汉文帝、汉景帝开创的西汉时期的一个盛世局面, 排除 A 项; 贞观之治是唐太宗开创的唐朝的一个盛世局面, 是在安史之乱之前, 排除 B 项; 开元盛世是唐玄宗开创的唐朝的一个盛世局面, 也是发生在安史之乱之前, 排除 C 项。故选 D 项。

## 考点 26 北宋的政治

22. (2024·吉林卷) 宋朝采取抑制武将、提升文官地位的政策是

- A. 休养生息政策      B. 文化专制政策      C. 重文轻武政策      D. 闭关锁国政策

【答案】C

【详解】根据所学知识可知, 为防止唐末以来武将专横跋扈的弊端重现, 宋太祖有意重用文臣掌握军政大权。后继的宋太宗继续采取抑制武将、提升文官地位的政策, 使文臣统兵的格局逐渐形成, C 项正确; 汉初统治者实行休养生息的政策, 清朝统治者为了维护集权统治, 在文化上实行专制政策, 清朝时, 实行闭关锁国政策, 使中国逐渐落伍于世界历史的发展进程。休养生息政策、文化专制政策、闭关锁国政策, 均与题干“抑制武将、提升文官地位”没有直接联系, 排除 ABD 项。故选 C 项。

23. (2024·山东聊城卷) 宋朝时, “士常出于农民之秀者, 后世之所谓耕读传家, 统治阶级不断自农村中来”, 如政治改革家王禹偁“世为农家, 本人是一个‘磨家儿’”。这一现象出现的主要原因是, 宋朝实行

- A. 重农抑商政策      B. 奖励军功制度  
C. 重文轻武政策      D. 科举取士制度

【答案】D

【详解】材料“士常出于农民之秀者”表明在古代社会, 许多有才华、有能力的士人往往来自于农民阶层中的佼佼者, 这体现了下层民众通过努力也可以进入官僚阶层, 体现了宋朝实行科举取士制度, 结合所学可知, 科举制的实行, 扩大了官吏选拔的范围, 使有才学的人能够由此参政, 促进了社会阶层的流动, D 项正确; 重农抑商政策强调重视农业, 抑制商业发展, 与农民进入官僚系统无关, 排除 A 项; 奖励军功制度实行于春秋战国时期, 宋代实行重文轻武政策, 排除 B 项; 重文轻武政策强调重视文官, 与农民成为官僚关系不大, 排除 C 项。故选 D 项。

24. (2024·广东卷) 宋仁宗时期, 北宋政府在南方驻扎禁军 195 营, 在北方的河北、河东、陕西三地驻扎禁军 743 营。这种部署意在





---

以上内容仅为本文档的试下载部分，为可阅读页数的一半内容。如要下载或阅读全文，请访问：<https://d.book118.com/575304201111011311>

