

绝密★启用前

天门市天门市 2023-2024 学年七年级下学期期中数学预测卷

考试范围：七年级下册(人教版)；考试时间：120 分钟

题号	一	二	三	总分
得分				

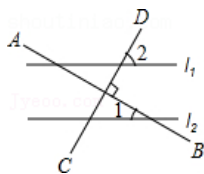
注意事项：

- 1、答题前填写好自己的姓名、班级、考号等信息
- 2、请将答案正确填写在答题卡上

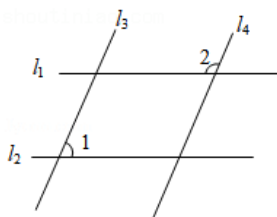
评卷人	得分

一、 选择题（共 10 题）

1. （2021•前郭县三模）如图，直线 $l_1 \parallel l_2$ ， $AB \perp CD$ ， $\angle 1 = 22^\circ$ ，那么 $\angle 2$ 的度数是()



- A . 68°
B . 58°
C . 22°
D . 28°
2. （2021•碑林区校级模拟）如图， $l_1 \parallel l_2$ ， $l_3 \parallel l_4$ ，若 $\angle 1 = 68^\circ$ ，则 $\angle 2$ 的度数为()



- A . 68°
B . 132°
C . 122°
D . 112°
- 3.

(云南省昆明市官渡区七年级(上)期末数学试卷)下列有理数大小关系判断正确的是()

A. $0 > |-10|$

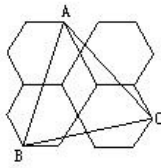
B. $-\left(-\frac{1}{9}\right) > -\left|-\frac{1}{10}\right|$

C. $|-3| < |+3|$

D. $-1 > -0.01$

4. (浙江乐清育英寄宿学校九年级上学期期末考试数学试卷 ())

如图, 四个正六边形的面积都是 6, 则图中 $\triangle ABC$ 的面积等于 ().



A. 12

B. 13

C. 14

D. 15

5. (2021•秀山县模拟) 估计 $\sqrt{12} \times \sqrt{\frac{1}{3}} + \sqrt{5}$ 的运算结果应在哪两个连续自然数之间()

A. 2 和 3

B. 3 和 4

C. 4 和 5

D. 5 和 6

6. (2021•武汉模拟) 实数 - 2021 的负倒数是()

A. $\frac{1}{2021}$

B. $-\frac{1}{2021}$

C. 2021

D. - 2021

7. (广东省深圳市宝安区八年级(上)期末数学试卷) 下列各数中, 无理数的是()

以上内容仅为本文档的试下载部分，为可阅读页数的一半内容。

如要下载或阅读全文，请访问：

<https://d.book118.com/576211230004010113>