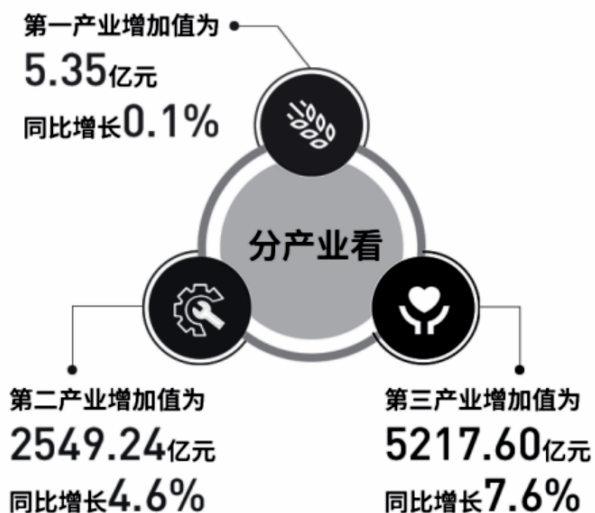


广东省深圳市 2023-2024 学年九年级上学期期中道德与法治试题

说明：全卷共 6 页，满分 50 分，考试时长 40 分钟。请在答题卡上作答，在本卷上作答无效。

一、单项选择题：本大题 15 小题，每小题 2 分，共 30 分。

1. 2023 年 4 月，深圳市统计局发布今年一季度深圳经济运行情况图解（如下图），我们从中可以得出深圳（ ）



- A. 第一产业不再被重视
- B. 已实现了高质量发展
- C. 本年度经济开局向好
- D. 存在区域发展不平衡

2. 我国社会的主要矛盾是人民日益增长的美好生活需要和不平衡不充分的发展之间的矛盾。为解决这一矛盾，可采取的举措及其传导路径是（ ）

- A. 区域促进合作 → 消除区域贫富差距 → 实现协调发展
- B. 企业重视研发 → 推动产品更新换代 → 增进民生福祉
- C. 发展“互联网+农业” → 助力乡村振兴 → 推进共同富裕
- D. 转变发展方式 → 完善社会保障体系 → 缩小城乡差距

3. 2023 年 9 月，深圳大学迎来建校 40 年的大日子。市委书记孟凡利向深圳大学表示热烈祝贺，也提出期望：希望深圳大学为服务国家战略和城市发展培养更多高素质、创新型人才，产出更多高质量、引领性的科研成果。市委书记有如此期待，是因为（ ）

- A. 创新给我们带来惊喜和便利
- B. 创新是引领发展的第一动力
- C. 创新不只是从无到有的创造
- D. 创新是提高国民素质的途径

4. 坪山区每年组织人大代表集中进站履职，解决一批群众关心的热点难点问题；罗湖区组织“向人民汇报”网络直播，选取经典履职案例向人民群众网络述职；龙岗区政协立足基层政协实际，把

协商阵地建在老百姓家门口，助推解决群众身边的实际问题。这些均体现了（ ）

- A. 社会主义民主是由法治体现、保障的民主 B. 所有人当家作主是人民民主的本质属性
C. 全过程人民民主是最真实、最管用的民主 D. 人民代表大会制度是我国的根本政治制度

5. 下列关于“微行为”的“微点评”中，说法正确的是（ ）

选项	微行为	微点评
A	小深打电话反映学校周边乱摆摊的问题	有利于政府工作人员改进工作
B	小圳提交对治安管理处罚法草案的修订意见	对人大工作进行监督
C	小文的爸爸为区人大代表选举投票	体现了我国民主的独特优势
D	小明的妈妈参加民主党派座谈会	主动参与民主管理

- A. A B. B C. C D. D

6. 刘某为赚钱多次骗领证件滞留香港打黑工，在被香港方面监禁 18 个月后，由于两地法律不同，还需在深圳接受一轮审判。南山区检察院考虑到刘某主观恶意小、认罪认罚态度积极等因素，建议法院从轻处理。如果要为上述新闻拟一个标题，最合适的是（ ）

- A. 严格执法，严管重罚 B. 温情司法，以人为本
C. 科学立法，维护正义 D. 依法执政，为民谋利

7. 2023 年 9 月 26 日，深圳市教育局发布了《深圳市教育局关于深化高中阶段学校考试招生制度改革实施意见（征求意见稿）》，并向社会大众征求意见。改革内容包括体育增加过程性评价，将部分科目合卷考查改为合场分卷，物化实验操作单独计分等。这体现了深圳市教育局（ ）

- ①积极保障公民知情权、参与权 ②通过立法扩大教育普及度
③通过制度的创新保障公平正义 ④通过充分协商找到公约数

- A. ①② B. ①③ C. ②③ D. ②④

8. 如下侧漫画所示，为做好假期寄递工作，邮政管理部门指导寄递企业加强运营网络管理，提前做好运力人力调配，确保寄递渠道安全畅通。这体现了政府（ ）



确保节日寄递服务

- A. 严格执法，保障公平
- B. 依法行政，规范权力
- C. 服务人民，维护权益
- D. 政务公开，提升公信

9. 龙岗区某学校举办以“远离毒品，青春无毒”为主题的开学季禁毒宣传活动，设立了禁毒知识学习区、禁毒游戏区、禁毒“百米画”区等摊位，形式多样，寓教于乐。关于校园禁毒宣传的意义，以下说法不正确的是（ ）

- A. 有利于提高学生对毒品的防范能力
- B. 有利于引导学生认识到毒品的严重危害
- C. 有利于发挥道德对学生的规范作用
- D. 有利于增强学生对毒品说“不”的决心

10. 2023年暑期，全国各地文博馆的客流用“井喷”来形容实不为过。在热门文博机构中，目之所及都是“人从众”的密集身影，热门展览门票基本都是“手慢无”。文博热的背后，反映的是（ ）

- ①群众对传统文化的认同和自信
- ②国家对核心价值观的倡导和宣扬
- ③场馆对文化传播的坚守和创新
- ④场馆自身服务的欠缺和滞后

- A. ①②
- B. ①③
- C. ②③
- D. ②④

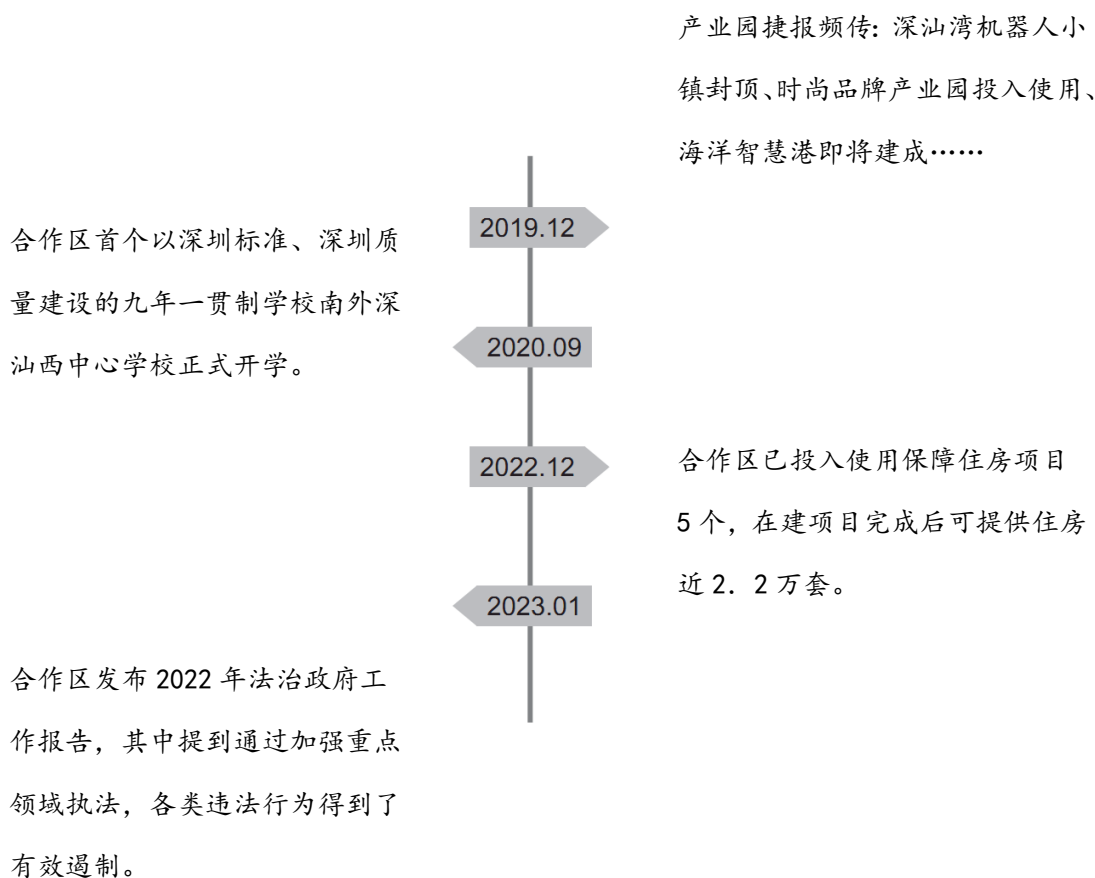
11. 国庆期间，由陈凯歌执导的电影《志愿军：雄兵出击》在全国热映。该片以志愿军群像为主线，全景式呈现了新中国成立一周年之际，在各个战线上保卫祖国的英雄儿女，讲述抗美援朝战争的恢宏史诗。下列关于该电影的感悟，最为恰当的是（ ）

- A. 小张：展示了中华优秀传统文化的魅力
- B. 小赵：致敬志愿军身上勤劳的民族精神
- C. 小孙：战争已经远去，无需重温战时历史
- D. 小古：我们应不辜负民族复兴的新使命

12. 下图所示是国家统计局根据2022年全国人口变动情况抽样调查制度和调查数据推算的人口年龄结构，由此可知截至2022年底我国（ ）

圳的第“10+1”区，深汕特别合作区开启了一场史无前例的求索、蝶变新生之路。如今，昔日的荒芜之地逐渐蜕变为令人瞩目的飞地样板区。

材料一 合作区大事记



材料二 2023 年 9 月 27 日，广东省人大常委会第五次会议审议通过了《广东省深汕特别合作区条例》（简称《条例》）。《条例》针对城乡区域发展不协调这一最大短板，在立法原则、合作体制、发展规划、产业发展、城乡建设、社会治理、发展保障等方面做出了一系列制度安排。

- (1) 根据材料一，概括深汕特别合作区这几年取得的成就。（至少写出两个方面）
- (2) 请你从不同主体的角度，说说深汕合作区之所以能蝶变新生的原因。
- (3) 小山读完材料二说：“《条例》的内容涉及合作区发展建设，主要靠国家机关履职，所以这部法规和普通公民无关。”请评析这一观点。

17. 2023 年 7 月 28 日，第 31 届世界大学生夏季运动会（大运会）在成都举办。紧接着，9 月 23 日，第 19 届亚洲夏季运动会（亚运会）在杭州举办。中国与世界共享体育盛会，也向世界展示中国特色。两次盛会中的吉祥物不仅外观备受喜爱，设计内涵也丰富深刻。阅读下列图文材料，完成问题。

 <p style="text-align: center;">蓉宝</p> <p>以大熊猫为原型创作，“蓉宝”的面部构思参考了传统艺术瑰宝——川剧的脸谱样式。在舞台主屏裸眼 3D 的三维视窗，“蓉宝”不断变装。</p>	 <p style="text-align: center;">琮琮</p> <p>“琮琮”代表良渚古城遗址，实证了中华五千年文明史，头部纹样取自良渚文化的标志性符号“饕餮纹”，寓意“不畏艰险、超越自我”。</p>	 <p style="text-align: center;">莲莲</p> <p>“莲莲”代表世界遗产西湖，名字源于西湖中无穷碧色的接天莲叶。“莲莲”的莲叶头饰以三潭印月为顶，以互联网为径，特色鲜明。</p>	 <p style="text-align: center;">宸宸</p> <p>“宸宸”代表世界遗产京杭大运河。“宸宸”从大运河走来，游向世界，全身以科技蓝为主色调，头顶举世罕见的钱江潮，给人以无穷的想象。</p>
--	---	---	---

大运会吉祥物“蓉宝”

亚运会吉祥物“江南忆”组合

- (1) 上述两组吉祥物的设计都融入了中华优秀传统文化因素，这有何重要意义？
- (2) 以下是小龙和小岗关于这些吉祥物的讨论，请你将对话的内容补充完整。

小龙：我发现这些吉祥物的设计还体现了新发展理念呢！

小岗：是吗？哪里有体现呢？

小龙：比如说，_____就体现了_____这一理念。

小岗：真的呢！吉祥物的设计传达了这一理念的重要性，我们在生活中也要积极践行：

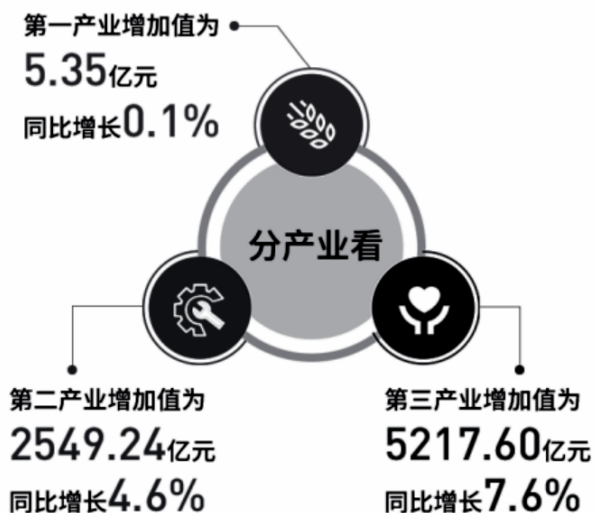
- (3) 假如下一个国际盛会选在深圳举办，请你结合所学知识和深圳特点为其设计一个吉祥物。先写出其名称，再说说你的设计意图。

广东省深圳市 2023-2024 学年九年级上学期期中道德与法治试题

说明：全卷共 6 页，满分 50 分，考试时长 40 分钟。请在答题卡上作答，在本卷上作答无效。

一、单项选择题：本大题 15 小题，每小题 2 分，共 30 分。

1. 2023 年 4 月，深圳市统计局发布今年一季度深圳经济运行情况图解（如下图），我们从中可以得出深圳（ ）



- A. 第一产业不再被重视
- B. 已实现了高质量发展
- C. 本年度经济开局向好
- D. 存在区域发展不平衡

【答案】C

【解析】

【详解】本题考查经济的发展。

A: 第一产业的增加值和同比增长，表明第一产业发展缓慢，不是不被重视，故 A 说法错误；

B: 我国经济专项高质量发展阶段，但没有实现高质量发展，故 B 说法错误；

C: 图片中深圳市三大产业增加值和同比增长，可以看出深圳市本年度经济开局向好，故 C 符合题意；

D: 区域发展不平衡在图片中没有体现，故 D 不符合题意；

故本题选 C。

2. 我国社会的主要矛盾是人民日益增长的美好生活需要和不平衡不充分的发展之间的矛盾。为解决这一矛盾，可采取的举措及其传导路径是（ ）

- A. 区域促进合作→消除区域贫富差距→实现协调发展
- B. 企业重视研发→推动产品更新换代→增进民生福祉
- C. 发展“互联网+农业”→助力乡村振兴→推进共同富裕

D. 转变发展方式→完善社会保障体系→缩小城乡差距

【答案】C

【解析】

【详解】本题考查共同富裕。

A: 区域促进合作, 有利于缩小区域之间的贫富差距, 但不会消除, 故 A 说法错误;

B: 企业重视研发, 推动产品更新换代, 有利于提高企业的自主创新能力, 与增进民生福祉无关, 故 B 说法错误;

C: 发展“互联网+农业”, 有利于助推乡村振兴, 推进共同富裕的实现, 故 C 说法正确;

D: 转变发展方式, 实现经济高质量发展, 与完善社会保障体系, 缩小城乡差距无关, 故 D 说法错误;

故本题选 C。

3. 2023 年 9 月, 深圳大学迎来建校 40 年的大日子。市委书记孟凡利向深圳大学表示热烈祝贺, 也提出期望: 希望深圳大学为服务国家战略和城市发展培养更多高素质、创新型人才, 产出更多高质量、引领性的科研成果。市委书记有如此期待, 是因为 ()

A. 创新给我们带来惊喜和便利

B. 创新是引领发展的第一动力

C. 创新不只是从无到有的创造

D. 创新是提高国民素质的途径

【答案】B

【解析】

【详解】本题考查对创新的正确认识。

B: 题文中市委书记希望深圳大学为服务国家战略和城市发展培养更多高素质、创新型人才, 产出更多高质量、引领性的科研成果, 根据所学知识可知源于创新是引领发展的第一动力, B 说法正确;

A: 体现的是创新对公民的作用, 题文中体现的是创新对国家的作用, A 说法与题不符;

C: 创新是一种生活方式, 创新不只是从无到有的创造, 没有体现创新对国家的作用, C 说法与题不符;

D: 教育是提高国民素质的途径, D 说法错误;

故本题选 B。

4. 坪山区每年组织人大代表集中进站履职, 解决一批群众关心的热点难点问题; 罗湖区组织“向人民汇报”网络直播, 选取经典履职案例向人民群众网络述职; 龙岗区政协立足基层政协实际, 把协商阵地建在老百姓家门口, 助推解决群众身边的实际问题。这些均体现了 ()

A. 社会主义民主是由法治体现、保障的民主

B. 所有人当家作主是人民民主的本质属性

C. 全过程人民民主是最真实、最管用的民主

D. 人民代表大会制度是我国的根本政治制度

试题

【答案】C

【解析】

【详解】本题考查全过程人民民主特点。

C: 题文中组织人大代表履职解决群众关心的热点难点问题、向群众网络述职、把协商阵地建在群众家门口, 助推解决群众实际问题等做法, 充分表明我国全过程人民民主是最真实、最管用的民主, 故 C 符合题意;

AD: 社会主义民主是由法治体现、保障的民主, 人民代表大会制度是我国的根本政治制度, 在题文中均没有体现, 故 AD 不符合题意;

B: 人民当家作主是人民民主的本质属性, 故 B 说法错误;
故本题选 C。

5. 下列关于“微行为”的“微点评”中, 说法正确的是 ()

选项	微行为	微点评
A	小深打电话反映学校周边乱摆摊的问题	有利于政府工作人员改进工作
B	小圳提交对治安管理处罚法草案的修订意见	对人大工作进行监督
C	小文的爸爸为区人大代表选举投票	体现了我国民主的独特优势
D	小明的妈妈参加民主党派座谈会	主动参与民主管理

A. A

B. B

C. C

D. D

【答案】A

【解析】

【详解】本题考查依法行使民主权利。

A: 小深打电话反映学校周边乱摆摊的问题, 是依法行使监督权的表现, 有利于政府工作人员改进工作, A 说法正确;

B: 小圳提交对治安管理处罚法草案的修订意见, 体现的是民主决策, B 说法错误;

C: 小文的爸爸为区人大代表选举投票体现的是民主选举, 协商民主是我国民主的独特优势, C 说

法错误；

D: 小明的妈妈参加民主党派座谈会，体现的是民主协商，D 说法错误；

故本题选 A。

6. 刘某为赚钱多次骗领证件滞留香港打黑工，在被香港方面监禁 18 个月后，由于两地法律不同，还需在深圳接受一轮审判。南山区检察院考虑到刘某主观恶意小、认罪认罚态度积极等因素，建议法院从轻处理。如果要为上述新闻拟一个标题，最合适的是（ ）

- A. 严格执法，严管重罚
B. 温情司法，以人为本
C. 科学立法，维护正义
D. 依法执政，为民谋利

【答案】B

【解析】

【详解】本题考查全面依法治国的基本要求。

B: 分析题文可知，南山区检察院考虑到刘某主观恶意小、认罪认罚态度积极等因素，建议法院从轻处理，体现了司法的温度，坚持以人为本，因此，最适合的标题是温情司法，以人为本，故 B 说法正确；

A: 题干体现了温情司法，严格执法的主体是政府，与题意不符，故 A 不符合题意；

C: 人大科学立法，题干未涉及科学立法，故 C 不符合题意；

D: 中国共产党依法执政，题干未涉及依法执政，故 D 不符合题意；

故本题选 B。

7. 2023 年 9 月 26 日，深圳市教育局发布了《深圳市教育局关于深化高中阶段学校考试招生制度改革实施意见（征求意见稿）》，并向社会大众征求意见。改革内容包括体育增加过程性评价，将部分科目合卷考查改为合场分卷，物化实验操作单独计分等。这体现了深圳市教育局（ ）

- ①积极保障公民知情权、参与权 ②通过立法扩大教育普及度
③通过制度的创新保障公平正义 ④通过充分协商找到公约数

- A. ①② B. ①③ C. ②③ D. ②④

【答案】B

【解析】

【详解】本题考查发扬社会主义民主、制度创新。

①：深圳市教育局发布了征求意见稿，并向社会大众征求意见。这一行为明确体现了教育局在决策过程中积极保障公民的知情权和参与权，让公众能够了解政策内容并提出反馈。故①说法正确；

以上内容仅为本文档的试下载部分，为可阅读页数的一半内容。如要下载或阅读全文，请访问：<https://d.book118.com/596225241054011012>