



# 模块2 世界地理

## 第五章 欧洲

### 第二节 欧洲主要国家

# 英国

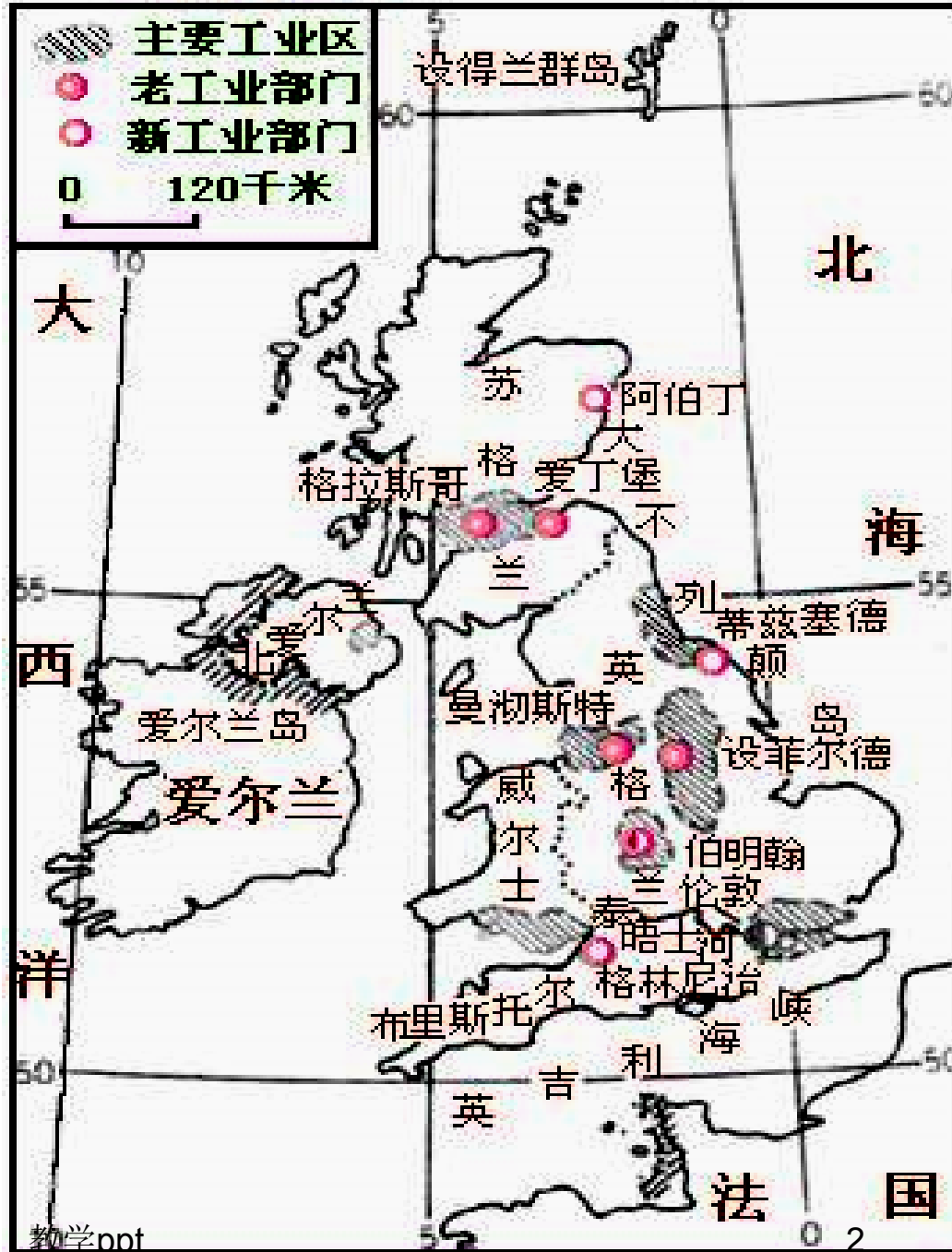
1. 西欧的岛国

2. 工业化最早的国家:

3. 农业:

(1) **西部:** 不适合种植粮食作物, 乳畜业发达, 原因: 降雨较多, 日照较少, 多汁牧草生长好。

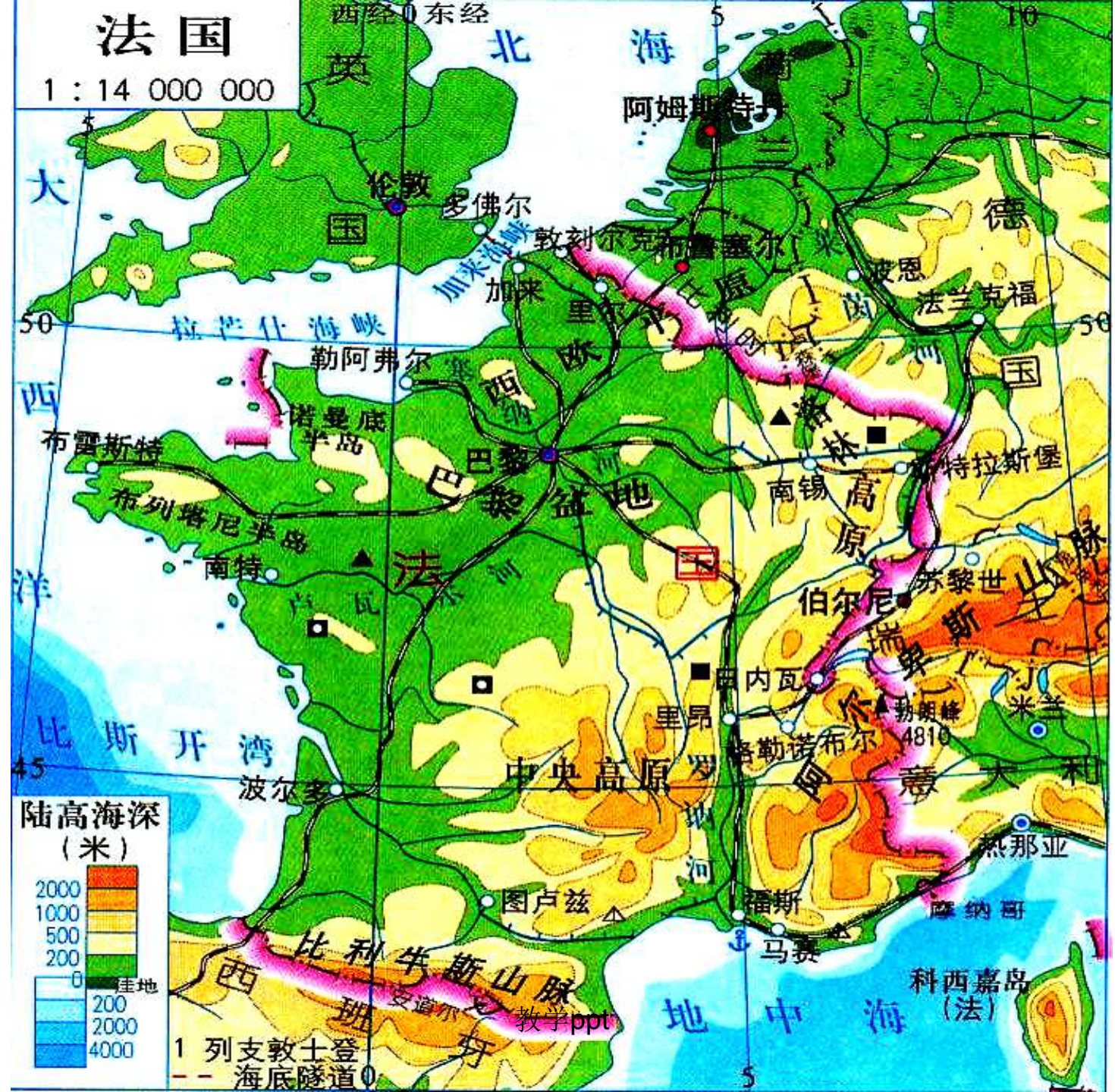
(2) **东南部:** 种植业集中地区 (小麦、大麦), 条件: 降水较少一些, 日照较多, 气温较高, 生长季节较长。

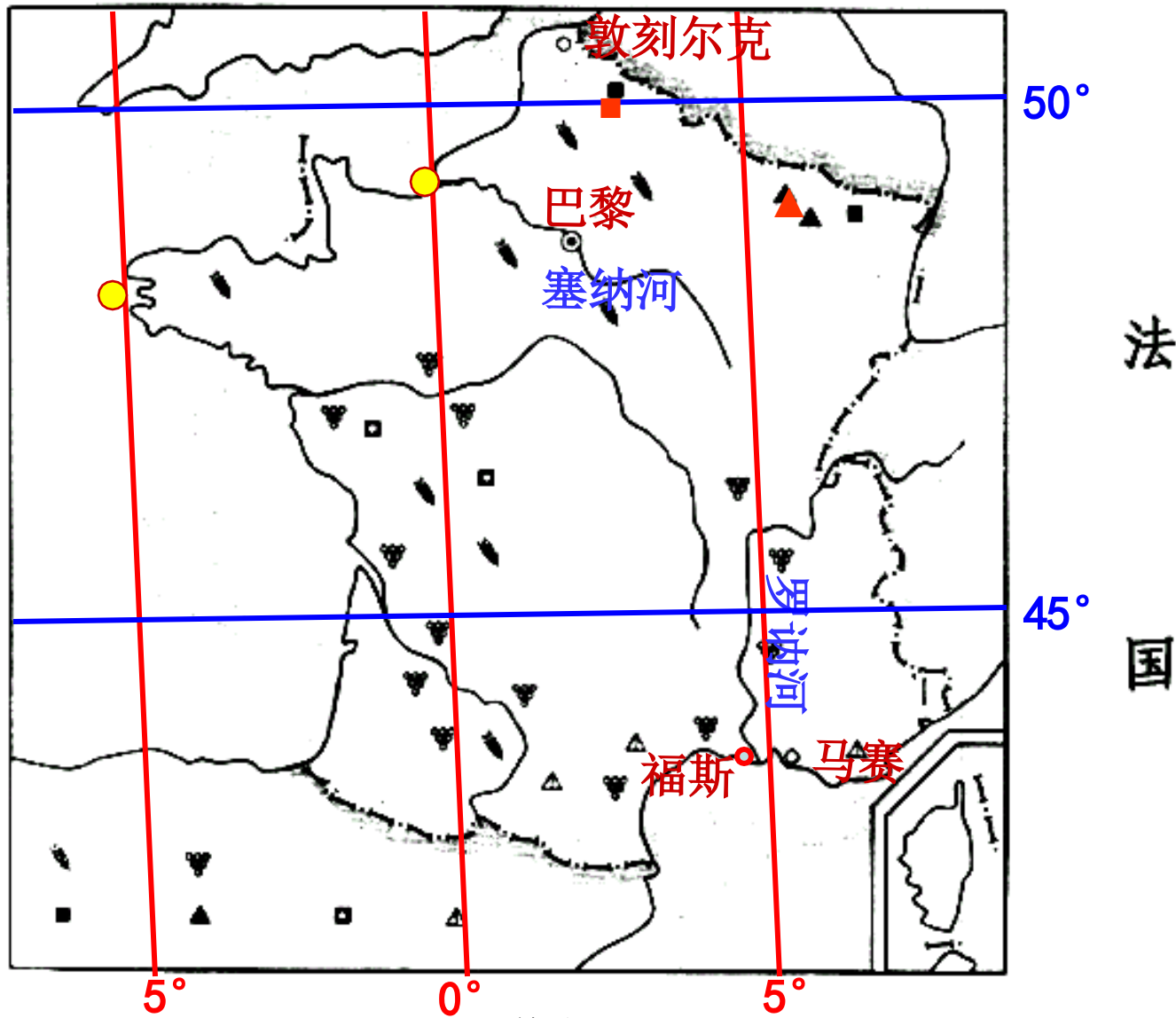


英国工业分布图

# 法国

1 : 14 000 000





# 法国

1 : 14 000 000

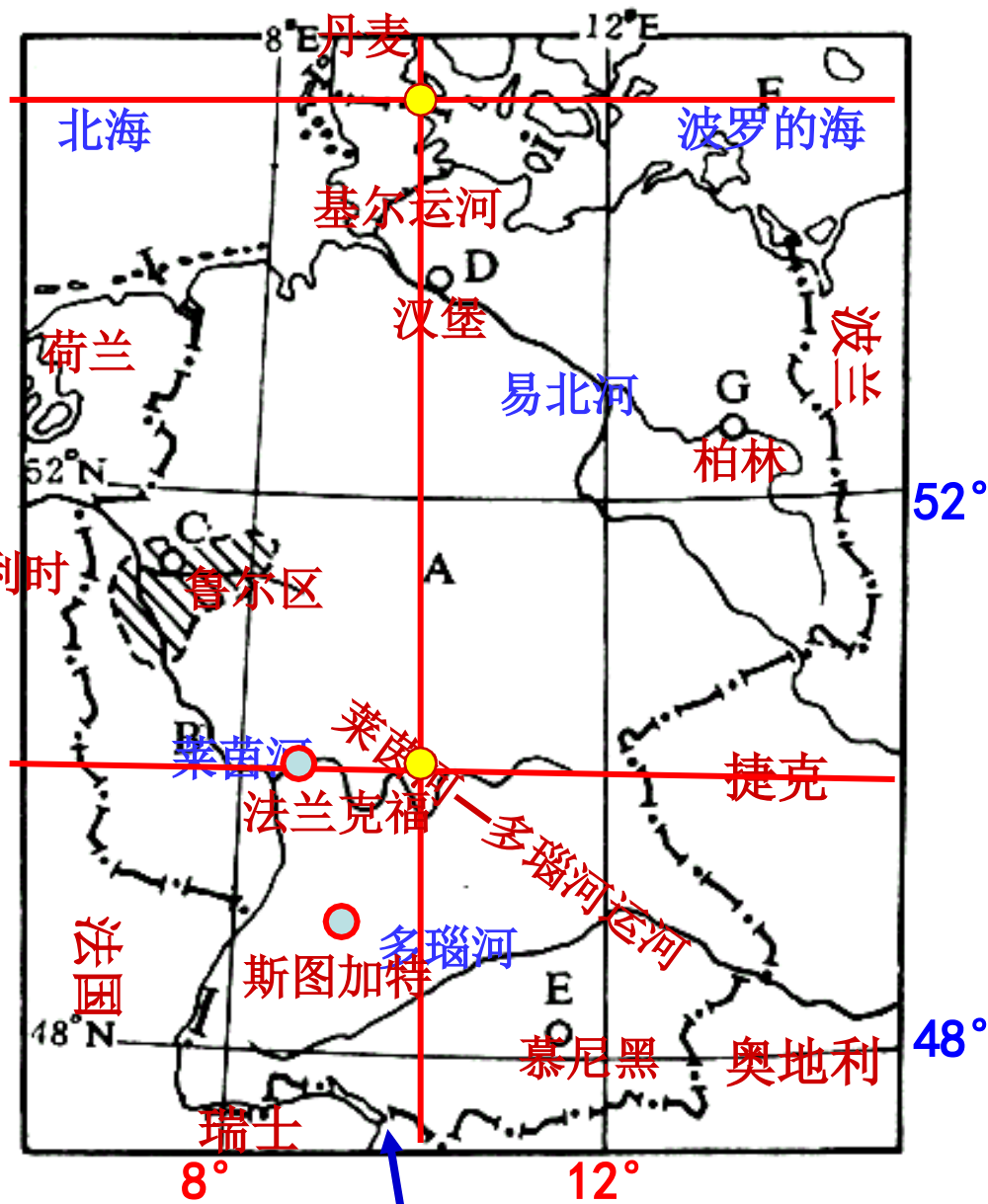


# 德国

## 1. 地理位置:

位于欧洲中部，北临波罗的海和北海，南倚阿尔卑斯山脉；陆地上与法国、瑞士等9个国家相邻。是东欧与西欧、北欧与南欧之间的交通要道，有**陆地“十字路口”**之称。

境内各大河流之间有运河相通，内河航运十分便利；公路密集，海空航线也很发达。这都为德国的经济发展提供了有利条件。



德  
国

## 2. 地形和农业

**地势**南高北低，呈阶梯状，南北地区的地形与农业的明显的差异。

**(1) 北德平原**，地势低平；气候夏季温和，冬季阴冷；土地较为贫瘠。当地农业主要是利用草场发展畜牧业，也种植黑麦、燕麦、马铃薯等，经营比较粗放。

**(2) 南部高原山地和河谷地带**土壤比较肥沃，日照时间较长，热量充足。盛产葡萄、烟草、水果和制造啤酒的啤酒花，是德国重要的农业区。山地区多为森林和高山牧场。



乳用、肉类、畜牧业、  
养猪业

小麦、大麦、甜菜、畜牧业

黑麦、燕麦、马铃薯、畜牧业

水果、园艺

啤酒花

### 3. 发达的工业和工业中心

(1) 是现代工业高度发达的国家，是仅次于美国、日本的第三工业国，许多产品都居世界前列。

**主要工业部门**采煤、钢铁、有机机械制造、汽车等。电子工业、石油加工业和航空航天等新兴工业发展迅速。

(2) 德国工业的发展，主要是建立在**本国丰富的煤炭资源、便利的水陆交通运输、雄厚的科技力量**的基础之上的。

西部莱茵河支流鲁尔河流域，是其重要的**硬煤**产区；东部的**褐煤**和**钾盐**产量很大。





(3) 德国的工业分布比较平衡，煤炭、钢铁、化学、机械制造等工业，大部分集中在鲁尔区，埃森、杜伊斯堡等是鲁尔区的工业中心。

南部的**慕尼黑**及附近地区，已由原来的啤酒业和旅游业发展成为飞机制造、宇航和微电子等工业中心。





俄罗斯

教学ppt

俄罗斯地理位置与邻国

# 分析三条河流两岸形成大片沼泽的原因。

- ①地势低平，排水不畅；
- ②三条河流均有凌汛现象，经常导致洪水泛滥；
- ③冻土广分布，地表水难以下渗
- ④纬度较高，气温低，蒸发弱。

部：高原、山地


东西伯利亚山地

中西伯利亚高原

西西伯利亚平原

1、地形比较平坦，以平原、高原为主。

乌拉尔山以西为东欧平原，以东依次为西西伯利亚平原、中西伯利亚高原、东西伯利亚山地。



- 摩尔多瓦
- 格鲁吉亚
- 亚美尼亚
- 阿塞拜疆
- 意大利
- 斯洛文尼亚
- 克罗地亚
- 南斯拉夫
- 波斯尼亚和黑塞哥维那

以上内容仅为本文档的试下载部分，为可阅读页数的一半内容。如要下载或阅读全文，请访问：<https://d.book118.com/598115064026006064>