

## 行政职业能力测试模拟 212

### 第一部分 言语理解与表达

每道题包含一段文字或一个句子，后面是一个不完整的陈述，要求你从四个选项中选出一个来完成陈述。注意：答案可能是完成对所给文字主要意思的提要，也可能是满足陈述（江南博哥）中其他方面的要求，你的选择应与所提要求最相符合。

1. 电子商务是一种新兴事物，尽管有关电子商务的宣传已经深入人心，但是愿意通过网络购买商品的人却少之又少，大约 84%的网民根本没有网上购物的经历，而少数用户从网上购买的也只限于书籍和电脑软硬件。

电子商务难以实施的原因不应该包括\_\_\_\_\_。

- A. 网上商品种类太少
- B. 网上支付手段有待普及和完善
- C. 网上购物质量难以保证
- D. 网上购物的时间周期一般较长

正确答案：A

2. 物质生产和人口生产的发展，必然引起自然生态环境的重大改变：一种是“顺向改变”，促进自然生态系统的良性循环，保护生态平衡；另一种是“逆向改变”，造成自然生态系统的恶性循环，破坏生态平衡。精神生产，特别是科学技术知识的发展和应用，则会扩大和加深上述两种改变。

对这段话正确理解的一项是\_\_\_\_\_。

- A. 科学技术的发展总是维护生态平衡的，应该说是“顺向改变”
- B. 精神生产有比物质生产和人口生产更为积极的作用
- C. 精神生产也存在着“顺向改变”和“逆向改变”两种可能性
- D. 人口生产总是破坏生态平衡的，因而一般属于“逆向改变”

正确答案：C

3. 在职攻读博士学位，是近年来在中央国家机关中青年公务员中出现的新现象。据了解，今年这种趋向在往年已较热的基础上，又出现了明显升温的势头。

对这段话最准确的复述是\_\_\_\_\_。

- A. 国家机关青年公务员“攻博热”已有许多年的历史
- B. 国家机关青年公务员在职攻读博士学位是工作的需要
- C. 国家机关青年公务员“攻博热”继续升温
- D. 在职攻读博士学位，成为国家机关青年公务员追求的新时尚

正确答案：C

4.

春暖花开的季节，买得便宜就不如买得新鲜，新鲜牛肉的肌肉有光泽，红色均匀稍暗、脂肪洁白或淡黄色；变质肉的肌肉无光泽，脂肪显金黄绿色。

下列复述最准确的一项是 。

- A. 鉴别牛肉新鲜与否的方法
- B. 牛肉便宜不如新鲜
- C. 鉴别牛肉主要看牛肉色泽
- D. 牛肉好吃就可以

正确答案：A

5. 湿地保护和研究正在成为热点。人们逐渐接受的广义湿地概念革新了传统的地球环境分类系统。地球生物圈内生态系统的一级分类由海洋和陆地变成了海洋、湿地和陆地。湿地是三大生态系统中惟一的一个四圈(大气圈、水圈、土圈、岩石圈)交会的生态系统，与人类生存关系的密切程度令人吃惊。

上面这段话主要支持了这样一种观点，即湿地保护和研究成为热点的原因是 。

- A. 湿地生态系统是具备气、水、土、石四圈交会的系统
- B. 湿地地域广阔，革新了地球生物圈内的生态系统
- C. 人类主要生活在湿地生态系统，与之关系最密切
- D. 湿地生态系统生存条件恶劣，易发生各种自然灾害

正确答案：C

6. 放风筝时，人们凝视自己的作品摇曳于万里晴空、蓝天白云之上，欣慰、恬静、平和之情油然而生。这种精神状态有益于高级神经活动的调节，能健全和强化神经系统支配下的组织、脏器的生理机能。人们抖线时，随着上肢的运动，极大地锻炼了肌纤维：骨骼肌有节奏的压挤穿行于肌纤维的动、静脉，血流加速，供血充分，防止了局部血液淤滞，增强了细胞、组织的新陈代谢，使肩关节肌纤维、韧带、局部神经、血管的功能得以维护和加强。

对上述这段话的准确概括是

- A. 民间游戏活动其乐无穷
- B. 民间游戏活动能够治疗疾病
- C. 传统游戏活动有娱乐和健身作用
- D. 应当大力推广民间传统游戏活动

正确答案：C

7. 事实上，目前所有的整形手术最大的危险不在于移植，而在于麻醉。专家强调，很多整形外科因为贪图方便，将麻醉这种重要手续简化，没有请专业的麻醉师处理，对病患者来说是相当危险的事情。

这段话的观点是 。

A. 麻醉容易给整形手术者带来危险

- B. 整形手术最大的危险是移植
- C. 很多整形外科贪图方便，将麻醉这种重要的手续简化
- D. 整形手术中最大的危险是麻醉

正确答案：D

8. 婴儿很早就表现出掌握环境的强烈愿望。由于控制动作的技能发展缓慢，所以他们的活动受到了限制。他们还没有足够的本领来支配环境以独立生存。在这个意义上，应该说他们是“不能自立”的。

在这段话中，说婴儿“不能自立”是指\_\_\_\_\_。

- A. 他们完全不能独立生存
- B. 他们仅有独立生存的意愿
- C. 他们不能控制自己的动作
- D. 他们没有适应环境的足够本领

正确答案：A

9. 石油是液体，比重小于水，比其他燃料容易开采，并且占的容积小，容易运输。同时，和一般燃料比较，它的可燃性好，发热量高，比如燃烧1公斤石油可以产生1万大卡的热量，燃烧1公斤木柴只有2000~2500大卡的热量。石油燃烧的热量比最好的煤要高一倍。石油还有易燃烧、燃烧充分和燃烧后不留灰烬的特点。

这段话主要支持这样一个论点，即石油\_\_\_\_\_。

- A. 是一种优良的燃料
- B. 比其他燃料热量高
- C. 比其他燃料燃烧得更充分
- D. 是一种价格最低的一般燃料

正确答案：A

10. 招标投标是买卖双方为成交某项大宗商品而自由交易的行为，在建筑业中指发包单位(业主)为建造某项工程与承包单位通过遴选达成营造协议的一种方式。

这段话主要支持了这样一个论点，即\_\_\_\_\_。

- A. 介绍了什么是招标投标
- B. 什么是建筑业的招标投标
- C. 招标投标有哪些形式
- D. 招标投标的过程

正确答案：A

11.

许多文人雅士通过为自己的书房命名来言志寄情。梁启超的书房命名为“饮冰室”，语出《庄子·人间世》，形容内心忧愁焦灼，欲饮冰镇之。

从“饮冰室”的斋名中可以体现出\_\_\_\_\_。

- A. 室主对国家前途的关切和忧虑
- B. 室主过人的才华和机敏
- C. 室主对庄周的敬仰之情
- D. 室主失望和消极的人生态度

正确答案：A

12. 中国古代无论是奴隶制还是封建制，都受到宗法制度和宗法精神的强烈影响。它不仅是宗族凝聚力的一种保障，而且是王权的重要支柱。君权、地方行政权都渗透了宗法父权的因素。这是封建专制制度得以长期牢固统治的条件之一。在国家的立法中，不仅确认了有关封建宗法制度的大量内容，而且承认宗法家规具有一定的法律效力，是国法的重要补充。

这段话主要支持了这样一种论点，即\_\_\_\_\_。

- A. 宗法制度强烈地影响着中国古代的政治、立法以及司法，甚至社会生活的各个方面
- B. 宗法制度成为中国古代专制统治的坚强基础
- C. 中国古代社会，宗法精神是王权的重要支柱
- D. 宗法制度被中国古代国家立法所确认，并成为国家立法的补充

正确答案：B

13. 发达国家对发展中国家的经济战略有它的“三部曲”。第一部是输出产品，第二部是输出资本，第三部是输出牌子。输出牌子就是要在中国市场上进一步打响他们的牌子，同时压倒中国的牌子，并起到“征服人心”的作用。如果中国广大消费者更多地认同外国牌子，则民族工业必将遇到难以克服的困难。

这段话主要支持了这样一种论点，即\_\_\_\_\_。

- A. “品牌”比产品质量更重要
- B. 发达国家的“牌子”输出对我国民族工业威胁最大
- C. 外国产品的质量远远优于国内产品
- D. 发达国家总是要对发展中国家进行经济侵略

正确答案：B

14.

自 20 世纪以来，随着世界范围内经济研究的不断深入和经济活动的不断拓展，对资本这一概念在使用中产生了不同理解。一种是继续把“资本”作为政治经济学中的一个阶级属性概念，用来研究资本主义的运动；一种是把资本作为商品经济学中的一个自然属性概念，即单纯的经济概念，用来研究“货币生出更多的货币”这一客观经济规律。后者称为现代资本概念。从这段话中可以看出，20 世纪的“资本”这一概念是指\_\_\_\_\_。

- A. 世界范围内的现代资本概念
- B. 阶级属性概念让位于单纯的经济概念
- C. 不断拓展的政治经济学概念
- D. 阶级属性概念与自然属性概念

正确答案：D

15. 前几年，我们国家的商业服务领域推出了“一米线”制度，即等待服务的顾客和正在接受服务的顾客之间相距一米距离的制度。这样做的目的是为了\_\_\_\_\_。

- A. 商业机构的隐私权
- B. 顾客的隐私权
- C. 等待接受服务的顾客的隐私权
- D. 正在接受服务的顾客的隐私权

正确答案：B

16. 现阶段，我国城乡之间在生产水平、就业结构、收入水平等方面都存在着很大的差别，农村经济的现代化、社会化都还有一个漫长的过程。广大农村在近期尚不具备国家统一立法、强制实行社会保险制度的条件，不能照搬城乡企业的办法。广大农民仍应坚持家庭养老邻里互助等好的传统做法，在富裕的地区，根据农民自愿，可以进行个人储蓄积累式的养老保险试点。

这段话主要支持了这样一种观点，即\_\_\_\_\_。

- A. 进行农村社会保障制度改革必须坚持社会主义方向
- B. 在社会保障制度改革方面要因地制宜，循序渐进
- C. 农村社会保障制度改革应坚持农民自愿的原则
- D. 应该坚持和发扬农村中那些好的社会保障的传统做法

正确答案：B

17. 医学上认为：人的记忆力和学习能力在四五十岁过后，便明显地开始衰退。那些开创性地不断参加社会活动的人的头脑要比自身的年龄年轻得多。

下述理解最准确的是\_\_\_\_\_。

- A. 经常参加社会活动的老年人，具有开创精神，头脑比实际年龄要年轻得多
- B. 四十岁以后就记不住电话号码了

C. 四十五岁以后仍可以干出一番事业

D. 积极的锻炼有助于延缓衰老

正确答案：A

18.

生物质能是一种新能源。但由于目前其利用受到土地资源等多方面限制，发展前景还不是很广阔。

这段话主要支持了这样一种论点，即生物质能\_\_\_\_\_。

- A. 目前受到土地资源的限制
- B. 利用受到限制
- C. 发展前景并不是很广阔
- D. 有待进一步开发

**正确答案：** B

19. 哲学家冯友兰有一段精确的话：“在读书的时候，即使书中的字都认得了，话全懂了，也未必能知道作书人的意思。意思是离不开语言文字的，但有些是语言文字所不能完全表达出来的。如果仅只局限于语言文字，死抓住语言文字不放，那就成为死读书了……在读书中，就是要过河拆桥。”

冯友兰先生这段话直接支持了这样一种论点，即读书时\_\_\_\_\_。

- A. 懂得了文句的字面意思，也不能忘掉文句
- B. 懂得了文句的精神实质，就要忘掉文句
- C. 懂得了文句的字面意思，就不受文句的限制
- D. 懂得了文句的精神实质，就不要拘泥于文句

**正确答案：** D

20. 只有同时兼顾公平与效率两个方面的税制才是最好的税制，这是无须证明的。但就具体的税种来说，往往不是低效率、高公平，就是高效率、低公平。高效率、高公平的最优结合是很少有的。就某一具体的税种来说，往往不是以效率为主导，就是以公平为核心，二者并重，并不一定是理想状态。

这段话主要支持了这样一种观点，即就某一具体税种来说，\_\_\_\_\_。

- A. 是公平与效率之间的妥协
- B. 兼顾高效率和高公平不是最好的
- C. 兼顾高效率和高公平才是最理想的
- D. 不应以效率为主导，而应以公平为核心

**正确答案：** A

21. 天山绵延几千里，无论高山、深谷，无论草原、森林，无论溪流、湖泊，处处有丰饶的物产，处处有\_\_\_\_\_的美景。

填入划线部分，最恰当的是\_\_\_\_\_。

- A. 美丽
- B. 绮丽
- C. 艳丽
- D. 绚丽

正确答案：B

22. 要进一步采取有力措施，有效\_\_\_\_\_投资过快的增长势头，保持经济平稳发展。

填入划线部分，最恰当的是

- A. 平衡
- B. 保持
- C. 遏制
- D. 阻止

正确答案：C

23. ①直到今天，一遇干旱，农村还有人抬着祭品“祭天”，\_\_\_\_\_龙王降雨，保佑丰收。

②他年轻时\_\_\_\_\_他乡，大大丰富了他的阅历，为他日后的创作打下了坚实的基础。

③现代化的北京需要现代舞团，现代舞艺术更需要扎根于现代化的北京城，这已是无可\_\_\_\_\_的事实。

依次填入划线部分，最恰当的是

- A. 乞求 做客 质疑
- B. 乞求 作客 置疑
- C. 祈求 做客 质疑
- D. 祈求 作客 置疑

正确答案：D

24. 诗在其所具有的诸多品格中，十分重要的一条，便是对生活的\_\_\_\_\_的打量。诗人的目光仿佛具有\_\_\_\_\_的本领，生活中许多琐碎、平淡甚至枯燥的事物，经过它的抚摸，便产生了丰富的意味。

依次填入划线部分，最恰当的是

- A. 别具一格 点石成金
- B. 别具匠心 明察秋毫
- C. 别具匠心 点石成金
- D. 别具一格 明察秋毫

正确答案：C

25. “五四”前后西方文化大引进，新的政治、科技词语大量\_\_\_\_\_。当前随着改革开放的不断深入，经济方面的新词尤为活跃，如“知识经济”、“特区”、“下岗”、“炒鱿鱼”等等。核裂变之际，各种微粒高速碰撞，便产生新的微粒语言现象\_\_\_\_\_。

依次填入划线部分，最恰当的是

- A. 涌现 与此雷同
- B. 诞生 与此雷同
- C. 诞生 与之类似
- D. 涌现 与之类似

正确答案：D

## 第二部分 数量关系

### 一、数学推理

给你一个数列，但其中缺少一项，要求你仔细观察数列的排列规律，然后从四个供选择的选项中选择你认为最合理的一项、来填补空缺项，使之符合原数列的排列规律。

1. 12, 15, 18, \_\_\_\_\_, 24, 27

- A. 20
- B. 21
- C. 22
- D. 23

正确答案：B

2. 80, 63, 48, \_\_\_\_\_, 24

- A. 32
- B. 40
- C. 26
- D. 35

正确答案：D

3. 2, 4, 8, 16, 32, \_\_\_\_\_

- A. 48
- B. 64
- C. 128
- D. 256

正确答案：B

4. 8, 14, 26, 50, \_\_\_\_\_

- A. 76
- B. 98
- C. 100
- D. 104

正确答案：B

5. 1, 4, 9, , 25, 36

- A. 10
- B. 14
- C. 20
- D. 16

正确答案: D

$\frac{19}{13}, 1, \frac{13}{19}, \frac{10}{22}, ( )$

6. A.  $\frac{7}{24}$       B.  $\frac{7}{25}$       C.  $\frac{5}{26}$       D.  $\frac{7}{26}$

正确答案: B

7. 232, 342, 452,

- A. 562
- B. 662
- C. 572
- D. 672

正确答案: A

8. 14, 6, 2, 0,

- A. -2
- B. 1
- C. -1
- D. 0

正确答案: C

9. 2, 1, 4, 3, , 5

- A. 1
- B. 2
- C. 3
- D. 6

正确答案: D

$12, 4, \frac{4}{3}, \frac{4}{9}, ( )$

10. A.  $\frac{4}{12}$       B.  $\frac{4}{27}$       C.  $\frac{4}{81}$       D.  $\frac{3}{36}$

正确答案: B

## 二、数学运算

1.  $12.91-4.36-7.64$  的值是

- A. 0.91
- B. 1.81
- C. 1.91
- D. 2.01

正确答案：A

2.  $523+746+589+423$  的值是

- A. 2281
- B. 2180
- C. 2280
- D. 2380

正确答案：A

3.  $0.25 \times 0.0025 \times 4$  的值是

- A. 0.025
- B. 1.25
- C. 0.0025
- D. 0.25

正确答案：C

4.  $1287-435+565-287$  的值是

- A. 1245
- B. 1000
- C. 1130
- D. 1030

正确答案：C

5.  $6349-1010-319-20$  的值是

- A. 4990
- B. 5000
- C. 5010
- D. 4995

正确答案：B

6.  $738.76+2.87-3.21+5.39-521.9=$

- A. 124. 83
- B. 159. 21
- C. 125. 71
- D. 244. 91

正确答案： D

$$\sqrt{18} + \sqrt{32} = ( \quad )$$

7.      A. 25                      B.  $5\sqrt{2}$                       C.  $7\sqrt{2}$                       D.  $13\sqrt{2}$

正确答案： C

8.       $7381+532-237+119-3563=$

- A. 4132
- B. 4222
- C. 4232
- D. 4242

正确答案： C

9.      有一根 20 米长的铁丝，想在面积为 24 平方米的长方形田地周围围成一圈，那么田的长和宽应为

- A. 6, 4
- B. 8, 6
- C. 8, 3
- D. 4, 8

正确答案： A

10.     有一工程，A 独立完成需要 100 天，已知 A、B 两人合作完成一共用了 20 天，那么 B 独立完成需要几天？

- A. 20
- B. 15
- C. 25
- D. 10

正确答案： C

11.     在距离 10 千米的两城之间架设电线杆，若每隔 50 米立一个电线杆，则需要有几个电线杆？

- A. 15
- B. 201
- C. 100

D. 250

正确答案：B

12. 有一只蚂蚁从树底爬到树顶，树高为 9 米，蚂蚁每次向上爬 3 米，又滑下 1 米，那么它爬到树顶时一共用了几次？

A. 5

B. 4

C. 3

D. 6

正确答案：B

13. 某一运输公司搬货物，如用甲车队需要 6 个小时，乙车队则需要 12 个小时，两车队一起干了 2 小时后，甲车队临时有任务，剩下的由乙车队负责，那么乙车队还要做几个小时才能完成任务？

A. 8

B. 6

C. 4

D. 10

正确答案：B

14. 三个连续的偶数的乘积为 192，那么其中最大的数是多少？

A. 4

B. 6

C. 12

D. 8

正确答案：D

15. 面积为 900，（平方米的圆形，在半径增加后面积达到 1600 平方米，则圆的半径增加了多少？

A. 1 米

B. 30 米

C. 10 米

D. 40 米

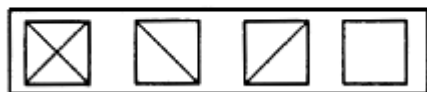
正确答案：C

### 第三部分 判断推理

本部分包括四种类型的试题，均为单项选择题。

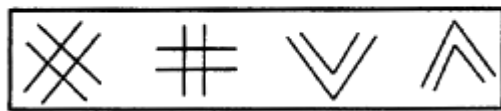
#### 一、图形推理

道题包含两套图形和可供选择的四个图形。这两套图形具有某种相似性，也存在某种差异。要求你从四个选项中选择你认为最适合取代问号的一个。正确的答案应不仅使两套图形表现出最大的相似性，而且使第二套图形也表现出自己的特征。



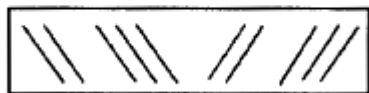
1.

正确答案：D




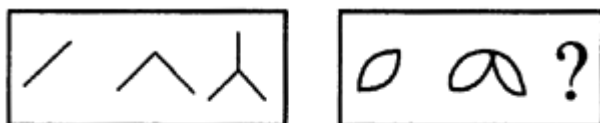
2.

正确答案：A



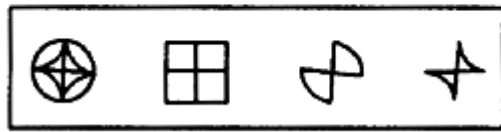
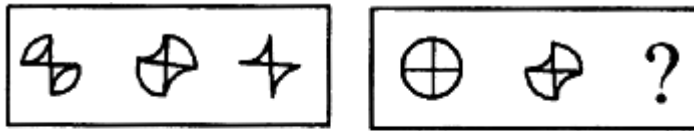
3.

正确答案：B



4.

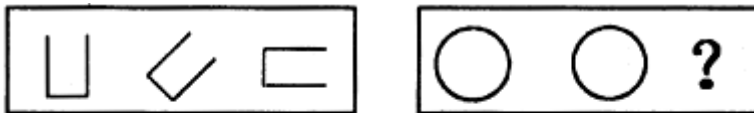
正确答案：B



A. B. C. D.

5.

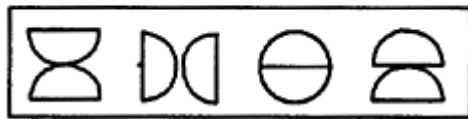
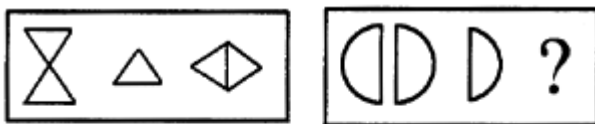
正确答案: C



A. B. C. D.

6.


正确答案: C



A. B. C. D.

7.

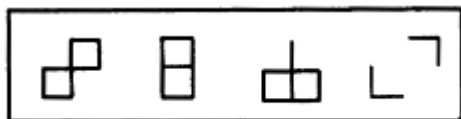
正确答案: A



A. B. C. D.

8.

正确答案: B



A. B. C. D.

9.

以上内容仅为本文档的试下载部分，为可阅读页数的一半内容。如要下载或阅读全文，请访问：<https://d.book118.com/607130050002006166>