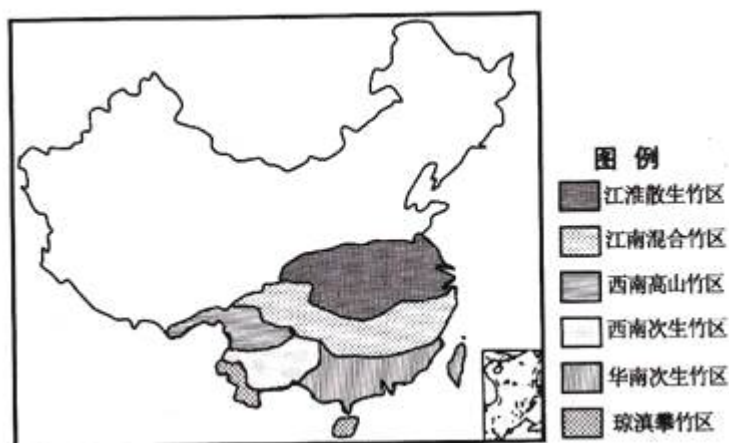


# 2010-2023 历年广东省实验中学高二下学期 期末考试地理试卷（带解析）

## 第 1 卷

### 一. 参考题库(共 25 题)

1.2012 年 11 月 7 日，国际竹藤组织通过的《北京宣言》强调“竹和藤作为两种极为重要的可再生非木质林产品，在经济发展和环境保护方面具有重要作用”。图为我国主要竹林分布区示意图，读图完成小题。



【小题 1】关于我国各大竹林分布区的说法，正确的是

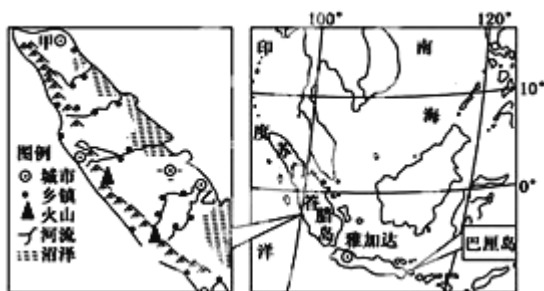
- A. 主要呈现从赤道到两极的地域分异规律
- B. 主要呈现从沿海向内陆的地域分异规律
- C. 江淮散生竹区因地形平坦，竹林生长速度快
- D. 琼滇攀竹区因土壤贫瘠，竹林生长速度慢

【小题2】大力发展竹藤和竹藤产业，可产生的主要有利影响是

- ①保护生物多样性      ②保持水土
- ③缓解臭氧层空洞扩大      ④减轻温室效应
- ⑤减轻土壤盐碱化      ⑥减轻贫困

- A. ①②③④
- B. ②③④⑤
- C. ③④⑤⑥
- D. ①②④⑥

2.读图，回答小题。



【小题1】图中火山位于

- A. 环大西洋火山地震带
- B. 环太平洋火山地震带
- C. 环印度洋火山地震带
- D. 地中海—喜马拉雅火山地震带

【小题2】影响苏门答腊岛的聚落分布的因素不包括

- A. 地形
- B. 交通
- C. 气候
- D. 水源

3.不同的温度带与不同的干湿地区相互组合，造就了我国复杂多样的气候区。读

下表，回答小题。

寒温带

a

b

c

d

中温带

e

f

g

h

暖温带

i

j

k

l

亚热带

m

n

o

p

热带

q

r

s

t

湿润区

半湿润区

半干旱区

干旱区

【小题 1】 j 气候区主要分布在我国的

- A. 华南地区
- B. 华北地区
- C. 西北地区
- D. 青藏地区

【小题 2】 对于 1 气候区的描述，正确的是

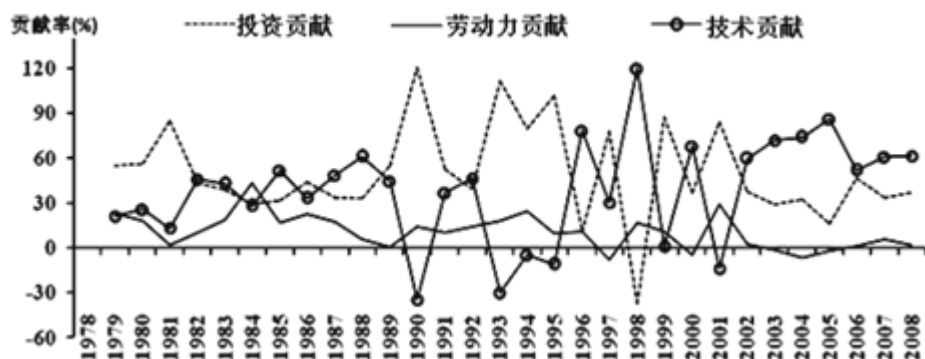
- A. 绿洲农业是该区重要的农业特色
- B. 该区主要位于高原
- C. 影响该区的气象灾害主要有沙尘暴和地震
- D. 该区河流仅有冰川融水补给

4.若神舟十号宇航员从“天宫一号”往外看，最不可能看到的现象的是

- ①极光      ②恒星      ③星云      ④流星
- A. ①②
  - B. ②③
  - C. ①③
  - D. ①④

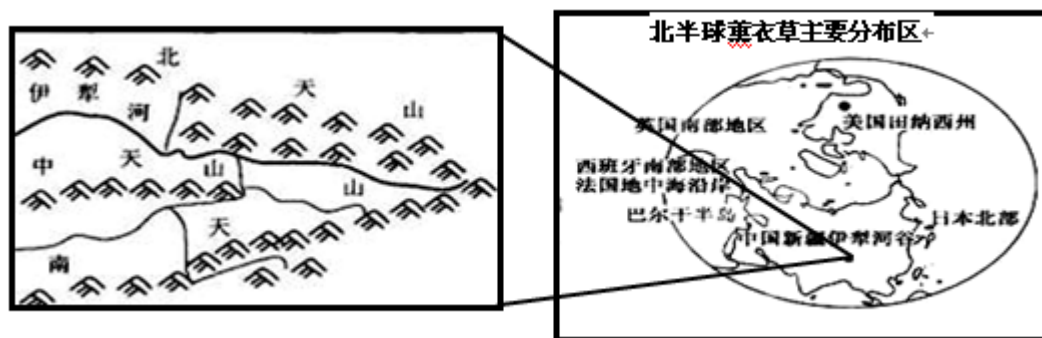
5.读“1978-2008 年投资、劳动力及技术进步对湖南工业增长的贡献”图，判读下

列说法正确的是



- A. 1978—2008 年，投资贡献率始终占主导优势
- B. 2002—2008 年，技术贡献率始终占主导优势
- C. 1978—1997 年，投资贡献率和技术贡献率始终呈负相关
- D. 1978—1997 年，劳动力贡献率始终占最低的水平

6. 薰衣草品种粗放，易栽培，喜阳光、耐热，耐旱、耐瘠薄、抗盐碱，忌高温多湿，若长期受涝根烂即死。结合下图，完成小题。



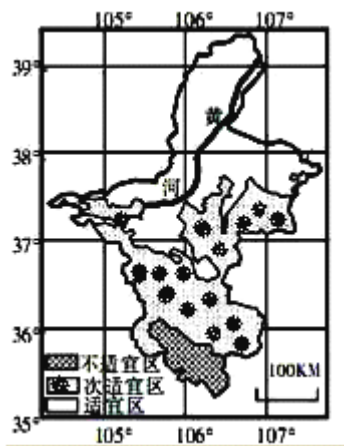
【小题 1】新疆伊犁河谷形成薰衣草基地的优势自然条件是

- ①夏季炎热干燥 ②种植经验丰富 ③充足的水源 ④土地租金低
- A. ①②
  - B. ①③
  - C. ②④
  - D. ③④

【小题 2】薰衣草对分布区具有独特的要求，北半球几大产区分布的共同特点是

- A. 地处沿海
- B. 海洋性气候区
- C. 地形开阔的平原
- D. 纬度较为适中

7.根据枸杞产量与气候条件的关系，把宁夏划为枸杞的适宜、次适宜和不适宜种植区，从而为枸杞种植的合理布局提供了参考依据。读图回答小题。



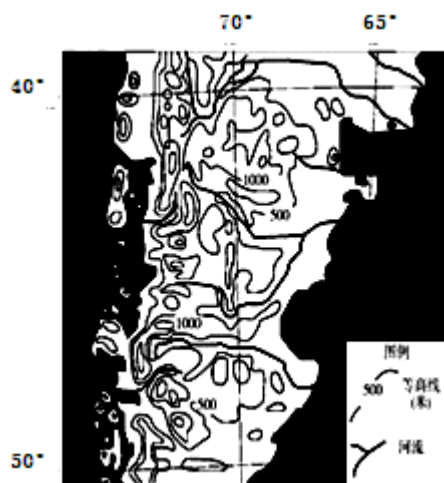
【小题 1】该地区主要生态问题是

- A. 沙漠化
- B. 石漠化
- C. 水土流失
- D. 森林退化

【小题 2】对宁夏枸杞种植区进行规划，所采用的主要地理信息技术手段是

- A. GPS 技术
- B. RS 技术
- C. GIS 技术
- D. 数字地球

8.图为南美洲南部等高线图，回答小题。



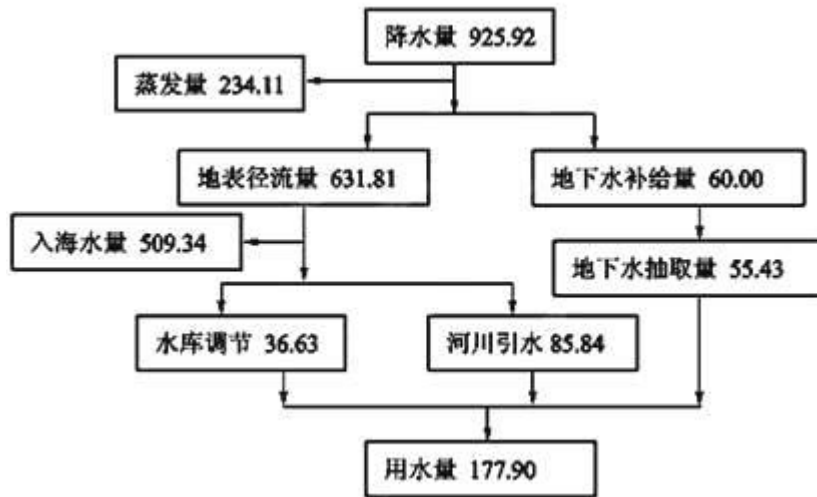
【小题 1】关于图中的西海岸地区地理特征描述正确的是

- A. 有暖流经过
- B. 地处南极洲板块与美洲板块消亡边界
- C. 常年受西南风影响
- D. 地处太平洋板块和美洲板块的生长边界

【小题 2】关于图中山脉东西两侧水系特征叙述正确的是

- A. 河床坡度东部缓、西部陡
- B. 流域面积东部小、西部大
- C. 流量季节变化东部小、西部大
- D. 东侧为内流河，西侧为外流河

9. 下图表示我国某区域多年平均的水平衡收支概算（单位：亿 m<sup>3</sup>），该地区年平均降水量约 1000mm。读图回答小题。



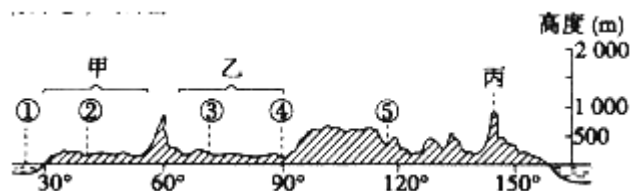
【小题 1】该地区位于我国

- A. 南方地区
- B. 北方地区
- C. 西北地区
- D. 青藏地区

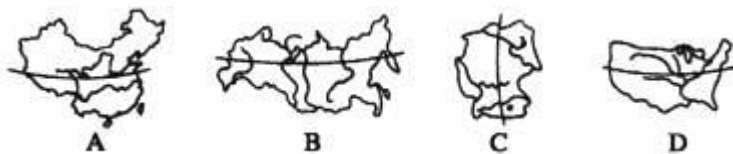
【小题 2】该地区水资源利用过程中存在的主要问题是

- A. 水资源短缺
- B. 水污染严重
- C. 地下水过量开采
- D. 水资源利用率低

10. 下图是“某国地形剖面图”，读图回答小题。



【小题 1】下图中四条剖面线，与上图剖面吻合的是



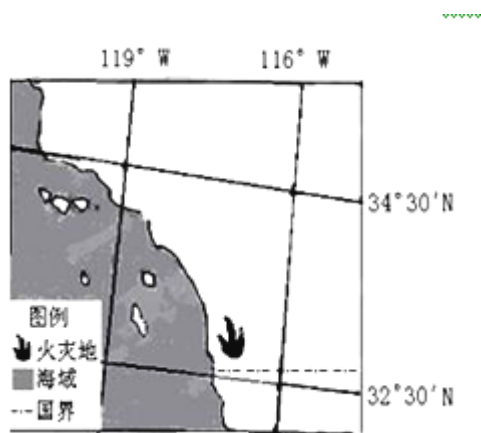
【小题 2】对图 15 所示地区地理状况的叙述正确的是

- A. 甲地形区是该国人口最少的地区
- B. 丙山脉是阿巴拉契亚山脉
- C. 乙地形区是该国重要的石油产区
- D. ②~⑤各河流皆流入北冰洋

11. 太阳活动所产生的带电粒子流到达地球后，可能造成的影响有

- ① 地球各地出现极光现象
  - ② 磁针不能正确指示方向
  - ③ GPS 定位系统将受到干扰
  - ④ 我国北方出现极昼现象
- A. ①②
  - B. ②③
  - C. ①③
  - D. ③④

12. 图所示区域内夏季容易发生森林火灾。读图完成小题。



【小题 1】图中火灾地主要的森林植被类型是

- A. 针阔混交林
- B. 常绿阔叶林
- C. 常绿硬叶林
- D. 落叶阔叶林

【小题 2】实时监测这次森林火灾的变化情况，主要利用的地理信息技术是

- A. 遥感 (RS)
- B. 地理信息系统 (GIS)
- C. 全球定位系统 (GPS)
- D. 分组通信技术(GPRS)

13.芬瑟岛，世界上最大的沙岛，总面积 1630 平方千米（见下图）。岛上分布的沙漠在世界最古老沙漠中面积最大，现在仍然保留着 3 万年前的风貌，所以芬瑟岛已于 1992 年成为世界遗产之一，同时该岛还分布着世界上唯一生长在沙地上的雨林植被。读图完成小题。



【小题 1】关于芬瑟岛上沙漠成因的叙述，正确的是

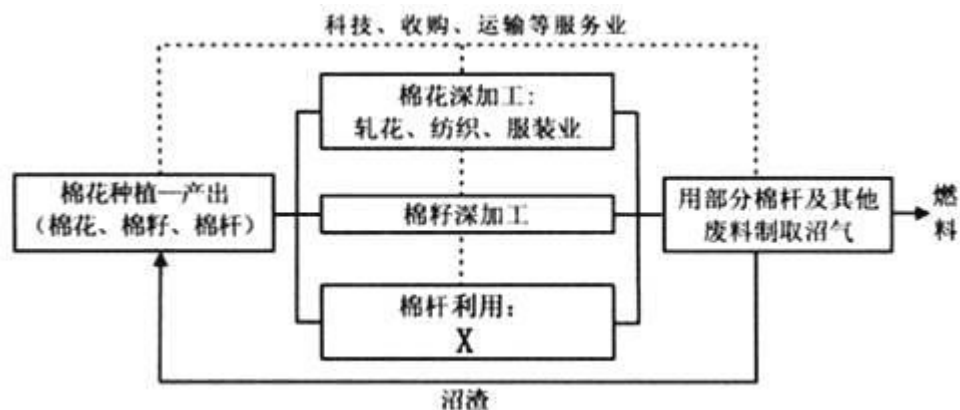
- A. 因常年受副热带高气压带控制，降水少而形成
- B. 是地质变化和海浪堆积作用而形成
- C. 是大陆漂移和全球变暖的结果
- D. 受热带雨林迁移农业的影响而形成

【小题 2】芬瑟岛分布着世界上唯一生长在沙地的雨林植被，其原因可能有

- ①近热带雨林分布区,雨林植物种子传播到此
- ②沙地土层深厚，利于雨林植物根系向深处延伸
- ③来自海洋的西南风带来较充沛的降水
- ④沿岸暖流经过，有增温增湿作用

- A. ①②③
- B. ①②④
- C. ①④
- D. ②③

14.读“我国某地棉花种植及相关产业链图”，回答小题。



【小题 1】产业链中 X 处的最佳利用方式是

- A. 食用菌种植
- B. 榨油制糖
- C. 农村生活能源
- D. 集中焚烧

【小题 2】影响该地轧花、纺织工业布局的主导因素是

- A. 科技
- B. 市场
- C. 原料
- D. 劳动力

15.“资源诅咒”（Resource Curse）是发展经济学中的一个著名命题，其基本理念是：丰富的资源趋于阻碍而非促进经济发展。下表为“不同类型资源在中国区域内部的‘资源诅咒’”，读表，完成小题。

不同类型资源在中国区域内部的“资源诅咒”

资源类型

主要省区

GDP 平均增速比全国平均少 (%)

平均资源丰度比全国平均多 (%)

耕地资源

黑龙江、吉林、宁夏、云南、西藏、甘肃、青海

0. 56

66. 24

矿产资源

辽宁、四川、湖北、山西、云南、安徽、贵州、湖南、江西

0. 02

4

能源资源

山西、云南、四川、陕西、贵州、西藏

0. 11

5. 68

森林资源

西藏、黑龙江、吉林、云南、四川

0. 27

1496. 59

【小题 1】四大资源丰度都高于全国平均值，GDP 增速却低于全国平均值的省区

是

- A. 黑龙江省
- B. 云南省
- C. 四川省
- D. 西藏自治区

【小题 2】表中，对经济发展的“诅咒”最明显的资源是

- A. 耕地资源
- B. 矿产资源
- C. 能源资源

D. 森林资源

【小题 3】我国“资源诅咒”最不明显的区域是

A. 东南地区

B. 东北地区

C. 西南地区

D. 西北地区

16. 广西地处珠江中上游，当地通过退耕还林草、缓坡改梯田等措施加快水土流失治理，这可能会导致珠江广东段

A. 含沙量激增

B. 径流季节变化减小

C. 三角洲增长加快

D. 入海口咸潮危害增大

17. “大洋一号”第 22 航次自 2010 年 12 月 8 日从广州启航往西航行，于 2011 年 11 月 1 日返回青岛，完成我国最大规模环球大洋科考，图为此次科考的路线示意图。据此回答小题。



【小题 1】“大洋一号”航行期间

A. 启航时非洲大草原上的动物正在向北迁徙

B. 1 月在开普敦靠岸停留期间，当地气候炎热干燥

C. 途经南海时，吹东南风

D. 科考路线依次经过太平洋，大西洋，印度洋

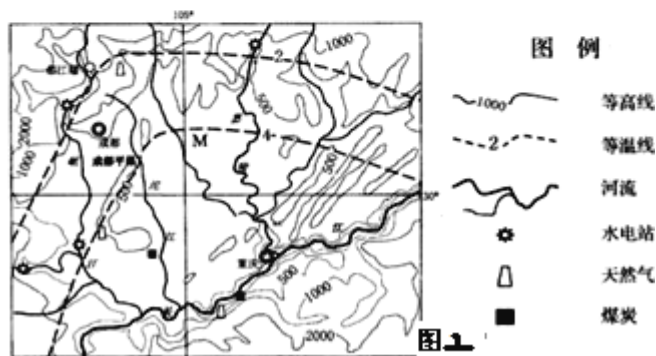
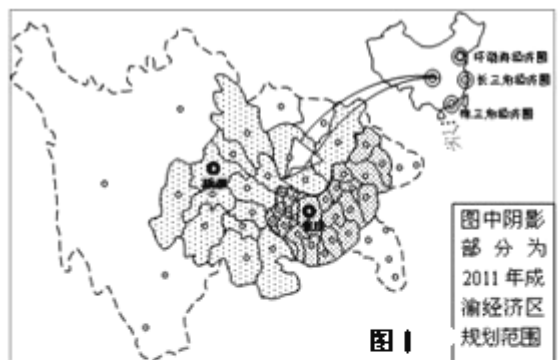
【小题2】本次科考发现了16个海底热液区，黑色热液能直立向上形成约3至4层楼高的“黑烟囱”。根据所学知识判断，热液区最可能位于

- A. 大陆架
- B. 大陆坡
- C. 海岭
- D. 深海平原

18.读下列材料，回答问题（共28分）

材料一：2011年3月，国务院讨论并原则通过了《成渝经济区区域规划》，这个有着9840多万人的成渝经济区，有望成为继长三角、珠三角、环渤海之后的中国第四大经济增长极。

材料二：成渝经济区位置图（图1）及成渝地区简图（图2）



(1) 成渝经济区区别于其他三大经济区的位置特点是\_\_\_\_，\_\_\_\_。（4分）

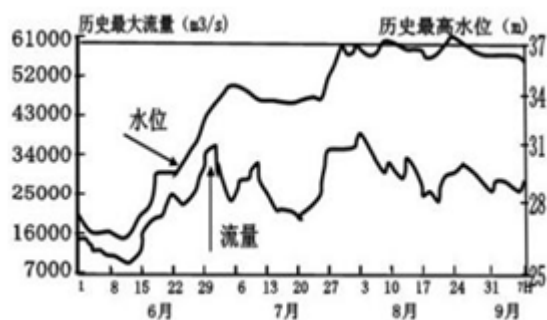
(2) 图 2 中的等温线, 属于\_\_(一、七)月, M 处气温比同纬度的其他地区偏\_(高、低), 原因是\_\_\_\_\_。(8 分)

(3) 据材料分析, 与珠三角经济区相比, 成渝经济区承接产业转移的优势条件主要有政府支持、\_\_\_\_\_和\_\_\_\_\_。(4 分)

(4) 川气东送是我国重要的能源调配工程。该工程西起四川普光气田, 最终到达上海。川气东送输送的天然气按开发利用角度属于\_\_\_(常规能源、新能源), 简述该工程对成渝地区经济的影响。(6 分)

(5) 《规划》为成渝经济区确定了五大战略定位之一是长江上游生态安全保障区, 请为这一目标的实现提出合理建议。(6 分)

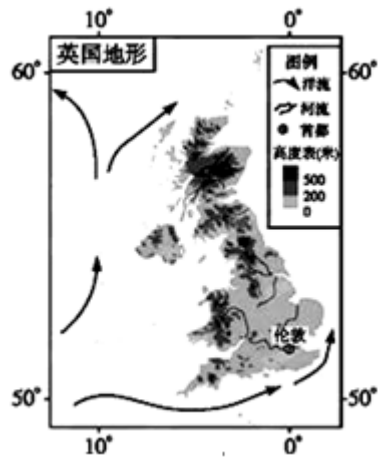
19. 读“某年 6~9 月长江某水文站观测到的水位、流量变化趋势示意图, 回答小题。



据图可知, 该年 6~9 月洪水灾害产生的原因是

- A. 降水总量多, 流量大
- B. 降水强度大, 流量大
- C. 河床淤积, 容水量减少
- D. 植被增加, 阻碍水流

20. 读图, 完成小题。



【小题 1】 下列关于英国的表述正确的是

- A. 图中洋流为该国增温减湿
- B. 大不列颠岛属于珊瑚岛
- C. 夏季受副热带高压带控制
- D. 多数河流短小,无结冰期

【小题 2】 当地最典型的农业地域类型是

- A. 乳畜业
- B. 大牧场放牧业
- C. 水稻种植业
- D. 热带种植园农业

21.读图，回答小题。

以上内容仅为本文档的试下载部分，为可阅读页数的一半内容。

如要下载或阅读全文，请访问：

<https://d.book118.com/608066127037007007>