

2017 年全国统一高考政治试卷（新课标 II）

一、选择题：本题共 12 小题，每小题 4 分，共 48 分。在每小题给出的四个选项中，只有一项是符合题目要求的。

1.（4 分）全球智能手机市场品牌众多，竞争激烈。2016 年，多数国际厂商出货量同比下滑。中国某厂商依托技术创新和流程创新，自主开发芯片、电池等核心部件，生产出功能更强、性价比更高的手机，出货量逆势增长 58.4%。该厂商的成功得益于（ ）

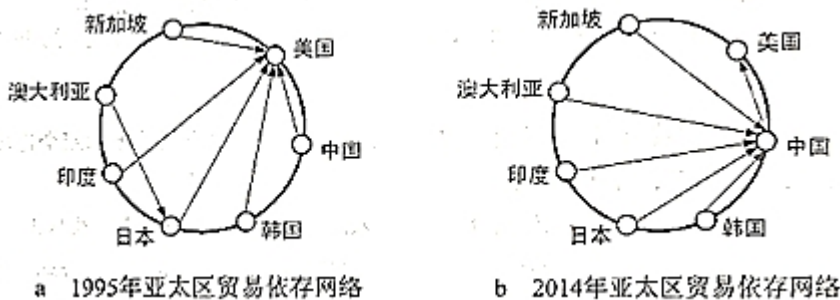
- ①依托自主开发提高社会劳动生产率，使商品价值增加
- ②个别劳动生产率高于社会劳动生产率，获得竞争优势
- ③依托自主创新提高商品的使用价值，扩大了商品需求
- ④个别劳动时间大于社会必要劳动时间，商品价值增加。

A. ①② B. ①④ C. ②③ D. ③④

2.（4 分）2016 年 4 月至 2017 年 4 月，人民币对美元的汇率中间价（人民币元/100 美元）由 645.79 振荡走高至 689.06，这对我国对外经济造成重要影响，若不考虑其他因素，下列推导正确的是（ ）

- A. 美元升值→中国商品在美国市场的价格下降→不利于中国商品出口美国
- B. 美元贬值→美国商品在中国市场的价格上升→有利于中国进口美国商品
- C. 人民币升值→中国企业在美国投资成本下降→有利于中国企业在美国投资
- D. 人民币贬值→中国企业在美国投资成本上升→不利于中国企业在美国投资

3.（4 分）图 a 和图 b 分别反映 1995 年和 2014 年亚太区主要国家的贸易依存网络。箭头“甲→乙”表示乙国为甲国最大的贸易伙伴。图 a 到图 b 的变化说明（ ）



- ①中国逐步成为亚太地区的贸易中心
- ②亚洲区域内贸易在全球贸易中的作用日益突出

③日本与亚太国家之间的相互依赖相互联系增强

④国际贸易从多边贸易为主向双边贸易为主转变。

- A. ①② B. ①④ C. ②③ D. ③④

4. (4分) 2016年7月国务院印发《关于推动中央企业结构调整与重组的指导意见》，明确下一阶段央企改革的重点工作：巩固加强一批、创新发展一批、重组整合一批、清理退出一批。新一轮央企改革的目的在于（ ）

- ①推动资源整合，实现国有资本的优化配置
②增强央企活力，不断提高国有经济的控制力和影响力
③促进央企强强联合，提高国有经济在国民经济中的比重
④完善我国生产资料所有制，巩固公有制经济的主导地位。

- A. ①② B. ①④ C. ②③ D. ③④

5. (4分) 某地为治理村委会公章管理不严、随意乱盖章现象，将村委会公章存到乡镇政府“柜子”里，由乡镇政府“代管”。这一做法受到社会质疑而被叫停。叫停“村章乡管”的主要理由在于（ ）

- ①乡镇政府承担了过多的行政管理事务
②乡镇政府没有管理农村公共事务的职能
③乡镇政府不能代行村委会的自我管理权
④应当维护基层群众性自治组织的民主权利。

- A. ①② B. ①④ C. ②③ D. ③④

6. (4分) 2017年4月，中共中央、国务院决定设立河北雄安新区。这是以习近平同志为核心的党中央深入推进实施京津冀协同发展战略、积极稳妥有序疏解北京非首都功能作出的一项重大决策部署。设立雄安新区是（ ）

- ①党中央治国理政新理念新思想战略的重大实践
②深化体制机制改革，促进全面发展的制度创新
③党和政府全心全意为人民服务宗旨的重要体现
④推进我国行政区划全面改革与调整的重要举措。

- A. ①② B. ①③ C. ②④ D. ③④

7. (4分) 某社区有汉、回、白、彝、傣等二十多个民族居住。每逢民族节日，各族群众都一起欢庆，“同过民族节，众筹百家宴”。在泼水节大家到民族团

结广场相互泼水祈福，在火把节组织篝火晚会一起载歌载舞，在开斋节一起吃馓子、油香……该社区各族群众同过民族节（ ）

- ①是各民族实现共同繁荣的有效途径
- ②体现了平等团结互助和谐的民族关系
- ③实现了多民族地区社区组织的自我完善
- ④是各民族相互尊重、文化交融的生动写照。

A. ①② B. ①③ C. ②④ D. ③④

8. （4分）近年来，大批中国游客到俄罗斯参观“阿芙乐尔”号巡洋舰、斯莫尔尼宫、列宁墓等，感受俄罗斯红色文化的魅力。同时，毛泽东故居等中国红色旅游项目越来越受到俄罗斯人的喜爱。中俄两国之间红色旅游发展得益于两国的红色文化（ ）

- ①是推动两国文化发展的主导性因素
- ②是满足两国民众文化需求的重要资源
- ③既具有共同的精神内涵又各具鲜明特色
- ④规定着各自民族文化内容和形式的多样性。

A. ①② B. ①④ C. ②③ D. ③④

9. （4分）2016年9月，中国歌剧舞剧院复排的民族歌剧《小二黑结婚》在北京上演。该剧既保留了原汁原味的地域性音乐风格，又融入了时尚元素，洋溢着青春气息，在表演样式，舞美设计、服装造型等方面进行了新的探索，演出取得了极大成功，受到观众热烈欢迎。这表明（ ）

- ①优秀传统文化具有超越时空的艺术价值
- ②只有赢得市场，优秀传统文化才有价值
- ③只要引入流行元素，优秀传统文化就能很好地传承
- ④善于推陈出新，优秀传统文化才能满足人们的新需求。

A. ①② B. ①④ C. ②③ D. ③④

10. （4分）2016年9月，袁隆平领衔的超级杂交稻第五期攻关项目第二次测产验收在湖南某地进行，攻关品种“广湘24S/R900”的测产没有达到预期目标，未能通过验收。面对失败，袁隆平坦然接受。这一事例反映的认识论道理是（ ）

- ①实践是检验认识的真理性的唯一标准
- ②认识主体对于获得真理性认识没有影响
- ③不成功的实践对认识的发展没有价值
- ④正确认识往往要经过实践和认识的多次反复才能完成。

A. ①② B. ①④ C. ②③ D. ③④

11. (4分) 党的十八届五中全会强调, 实现“十三五”时期发展目标, 破解发展难题, 厚植发展优势, 必须牢固树立并切实贯彻创新、协调、绿色、开放、共享的发展理念。这是因为 ()

- ①发展理念反映了发展实践的曲折性
- ②发展理念正确与否关乎发展实践的成败
- ③发展理念往往是发展实践变革的先导
- ④发展理念变革意味着消除以往发展理念的影响。

A. ①② B. ①④ C. ②③ D. ③④

12. (4分) 习近平在纪念红军长征胜利 80 周年大会上发表讲话强调, 理想信念的坚定, 来自思想理论的坚定。中国共产党人的理想信念, 建立在马克思主义科学真理的基础之上, 建立在马克思主义揭示的人类社会发展规律的基础之上, 建立在为最广大人民谋利益的崇高价值的基础之上, 上述论断蕴含的价值观道理是 ()

- ①有什么样的价值观就有什么样的真理观
- ②有正确的价值观引导, 就能把握社会发展的规律
- ③只有遵循社会发展的客观规律, 才能树立正确的价值观
- ④最广大人民的根本利益是衡量价值观正确与否的最高标准。

A. ①② B. ①④ C. ②③ D. ③④

二、非选择题: 共 62 分。必考题, 每个试题考生都必须作答。(一) 必考题.

13. (14分) 阅读材料, 完成下列要求。

玉米收储制度的改革, 是农业供给侧结构性改革的一场硬仗。

为保障玉米的生产和供给, 我国长期实行以保护价(对农产品规定最低收购价)收购种植农户玉米的临时收储政策。2012 年以来, 国际玉米价格大幅下

跌，国内玉米价格远高于国际价格，造成了国内玉米库存高企和正常流通受阻。2016年，国家发改委按照“市场定价、价补分离”的原则对我国玉米主产区东北三省一区的玉米收储制度进行改革，将玉米临时收储政策调整为“市场化收购”加“生产（种植）补贴”的新机制。2016年国内玉米市场价格比上年出现下跌。新机制运行扭转了近些年玉米价格不断提高、库存不断增多、补贴和亏损不断增加的局面。

(1) 结合材料，运用经济知识分析国内玉米价格下降对玉米市场可能产生的影响。

(2) 玉米价格的下降，影响了一些玉米种植户的收入。政府和种植户可采取哪些应对措施？

14. (12分) 阅读材料，完成下列要求。

为满足人民群众的基本文化需求，我国各地越来越多的博物馆、图书馆、美术馆免费向公众开放，地方政府通过资金补助、政府购买等方式支持社会力量承办公文化活动、参与公共文化服务，基层文化活动如火如荼地展开，群众文化生活不断丰富。

2016年12月25日，全国人大常委会审议通过《中华人民共和国公共文化服务保障法》。该法首次以法律形式明确了各级人民政府是承担公共文化服务的责任主体，同时将鼓励和支持社会力量参与确立为法定原则，推动公共文化服务向标准化、均等化、专业化发展。

概括材料所体现的政府、人大和人民三者之间的关系，并分析当前政府履行公共文化服务职能特点。

15. (36分) 阅读材料，完成下列要求。

有这样一群人，他们胸怀科技报国的梦想，奋战在科技创新的最前沿，取得了世界一流成果，被称为创新中国的科技领航者。潘建伟率领科研团队在十多年的时间内使我国在量子通信领域从跟随者变成世界的领跑者；王晓东对乙肝病毒的新发现，为未来相关药物研发打开新大门；赖远明带领科研团队成功破解青藏铁路修建中冻土如何“保冷”这一被称为“无法攻克的世界性难题”；鲁先平历经14年创新创业成功研制中国首个用于治疗淋巴癌的原创化学药“西达本胺”，在这一领域实现与国际先进水平并跑和部分领跑……他们的创新实践是以改革创新为核心的时代精神的生动诠释。鲁先平将原创新药的研发形容为“走钢丝”。潘建伟说：“科学研究一定不能惧怕失败”。王晓东将“不只是填补国内空白，而是获取人类知识的创新”作为自己的事业追求。做事挑剔，追求完美的赖远明用“要想成功，就必须坚持”概括他的创新经验。

(1) 运用“辩证法的革命批判精神与创新意识”的知识并结合材料，分析科技领航者实现科技创新的主体原因。

(2) 运用文化作用的知识并结合材料，说明弘扬创新精神对于推动创新发展的作用。

(3) 班级举行主题班会探究批判性思维与创新精神的关系，请围绕主题提出两个观点。

2017 年全国统一高考政治试卷（新课标 II）

参考答案与试题解析

一、选择题：本题共 12 小题，每小题 4 分，共 48 分。在每小题给出的四个选项中，只有一项是符合题目要求的。

1. （4 分）全球智能手机市场品牌众多，竞争激烈。2016 年，多数国际厂商出货量同比下滑。中国某厂商依托技术创新和流程创新，自主开发芯片、电池等核心部件，生产出功能更强、性价比更高的手机，出货量逆势增长 58.4%。该厂商的成功得益于（ ）

- ①依托自主开发提高社会劳动生产率，使商品价值增加
- ②个别劳动生产率高于社会劳动生产率，获得竞争优势
- ③依托自主创新提高商品的使用价值，扩大了商品需求
- ④个别劳动时间大于社会必要劳动时间，商品价值增加。

A. ①② B. ①④ C. ②③ D. ③④

【考点】22：价值量与劳动生产率关系；56：企业经营与发展。

【分析】本题考查：企业的经营与发展；价值量与劳动生产效率关系

1. 企业的经营与发展

- ①制定正确的经营战略，开发适应市场适销对路、有市场前景的产品，正确市场定位等；积极开拓国内市场，市场多元化。-- 市场观念
- ②自主创新、科技进步和科学管理（质量、品牌、服务、劳动生产率，降低成本），形成自己独特的竞争优势；转变发展方式，依靠科技进步、科学管理和劳动者素质的提高，实现又好又快发展；-- 效益观念
- ③依法诚信经营，承担社会责任，树立良好的信誉和企业形象。经济效益和社会效益相结合、质量、品牌、服务；责任、质量观念。

2. 价值量与劳动生产效率关系

商品价值量不是由个别劳动时间决定的，是由社会必要劳动时间决定的，与社会

劳动生产率成反比，与个别劳动生产效率无关，商品价值总量与社会劳动生产率无关，与个别劳动生产效率成正比。

【解答】①错误，该厂商依托自主开发提高劳动生产率，是个别劳动生产率，而不是社会劳动生产率，再者，商品价值量与社会劳动生产率成反比，社会劳动生产率提高的话，商品价值量应该降低；

②正确，“中国某厂商依托技术创新和流程创新，自主开发芯片、电池等核心部件，生产出功能更强、性价比更高的手机，出货量逆势增长 58.4%”说明该厂商通过自主创新、科技进步提高了自身的生产效率，使个别劳动生产率高于社会劳动生产率，获得了竞争优势；

③正确，“依托技术创新和流程创新，自主开发芯片、电池等核心部件，生产出功能更强、性价比更高的手机，出货量逆势增长 58.4%”，说明依托自主创新提高商品的使用价值，提供高质量的商品，扩大了商品需求；

④错误，一：如果该厂商的个别劳动时间大于社会必要劳动时间，该厂商不会成功；二：商品价值量不是由个别劳动时间决定的，是由社会必要劳动时间决定的；

故选：C。

【点评】本题考查学生获取解读信息，调动应用知识能力，难度一般。我们做每一道政治选择题都是运用已有的知识，对题干提供的材料、信息进行分析、甄别、遴选，平时要注意夯实基础，培养能力。

2. (4分) 2016年4月至2017年4月，人民币对美元的汇率中间价(人民币元/100美元)由645.79振荡走高至689.06，这对我国对外经济造成重要影响，若不考虑其他因素，下列推导正确的是()

- A. 美元升值→中国商品在美国市场的价格下降→不利于中国商品出口美国
- B. 美元贬值→美国商品在中国市场的价格上升→有利于中国进口美国商品
- C. 人民币升值→中国企业在美国投资成本下降→有利于中国企业在美国投资
- D. 人民币贬值→中国企业在美国投资成本上升→不利于中国企业在美国投资

【考点】 1D：外汇和汇率；1G：汇率波动的影响。

【分析】 本题考查：汇率波动的影响

(1) 外汇是用外币表示的用于国际间结算的支付手段。汇率又称汇价，是两种货币之间的兑换比率。

(2) 汇率与币值的关系：如果用 100 单位外币可以兑换更多的人民币，说明外币的汇率升高，人民币的汇率跌落，外币升值，人民币贬值，一般情况下，有利于出口，不利于进口。

【解答】 由题意中“人民币对美元的汇率中间价（人民币元/100 美元）由 645.79 振荡走高至 689.06”，可以得出：人民币贬值，美元升值，有利于出口，不利于进口，因此：

A 错误，有利于中国商品出口美国；

B 错误，美元升值；

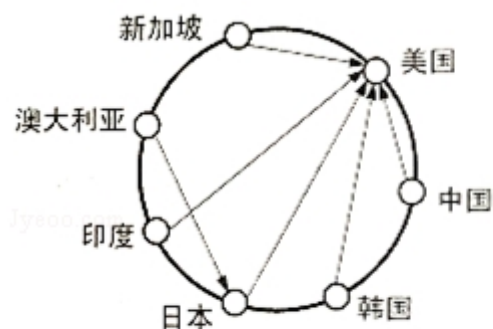
C 错误，人民币贬值；

D 正确，人民币贬值，使得中国企业在美国投资成本上升，这不利于中国企业在美国投资；

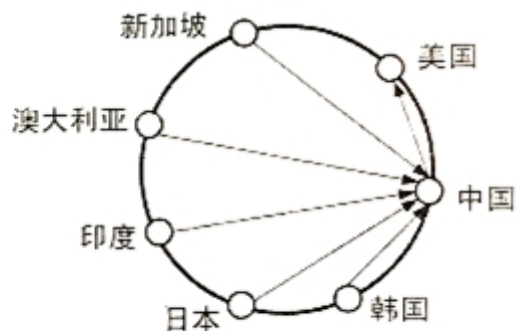
故选：D。

【点评】 本题属于推导类试题，可采用排除法进行确定。即在传导过程中，前后必须要有因果关系，否则就是错误表达，后面基本就不用看了。解答本题的关键是对基础知识要非常熟悉。

3. （4 分）图 a 和图 b 分别反映 1995 年和 2014 年亚太区主要国家的贸易依存网络。箭头“甲→乙”表示乙国为甲国最大的贸易伙伴。图 a 到图 b 的变化说明（ ）



a 1995年亚太区贸易依存网络



b 2014年亚太区贸易依存网络

- ①中国逐步成为亚太地区的贸易中心
- ②亚洲区域内贸易在全球贸易中的作用日益突出
- ③日本与亚太国家之间的相互依赖相互联系增强
- ④国际贸易从多边贸易为主向双边贸易为主转变。

A. ①② B. ①④ C. ②③ D. ③④

【考点】 91：经济全球化；9H：对外贸易。

【分析】 本题考查：适应经济全球化趋势及对外贸易。

1. 经济全球化

(1) 经济全球化，指商品、劳务、技术、资金在全球范围内流动和配置，是各国经济日益互相依赖、互相联系的趋势。表现为生产全球化、贸易全球化、资本全球化。经济全球化生产力发展的产物，又推动了生产力的发展。但经济全球化实质上是发达资本主义国家为主导的，使世界经济发展更加不平衡。

(2) 经济全球化的影响

经济全球化的有利影响：①经济全球化促进了生产要素在全球范围内的流动、国际分工水平的提高以及国际贸易的迅速发展。②经济全球化为各国经济提供了更广阔的发展空间。

经济全球化的不利影响：①经济全球化扩大了世界各国的贫富差距。②经济全球化导致风险全球化，加剧了全球经济的不稳定性，威胁发展中国家的经济安全。

(3) 我国应该抓住机遇，积极参与，趋利避害，防范风险，勇敢地迎接挑战。

2. 面对经济全球化带来的机遇与挑战，我们应该积极开展对外贸易。

(1) 我国必须实行更加积极主动地开放战略，完善互利共赢、多元平衡、安全高效的开放型经济体系。

(2) 加快转变对外经济发展方式，推动开放朝着优化结构、拓展深度、提高效益方向转变，着力培育开放型经济发展的新优势。形成以技术、品牌、质量、服务为核心的出口竞争新优势，促进加工贸易转型升级，发展服务贸易。提高利用外资综合优势和总体效益，推动引资、引技、引智有机结合。

(3) 坚持“引进来”和“走出去”相结合的战略，加快“走出去”步伐，增强企业国

际化经营能力，培育一批世界水平的跨国公司。

(4) 必须始终坚持独立自主、自力更生的原则。

【解答】①符合题意，由图“1995年亚太地区主要国家贸易依存网络”可以看出，美国是多数国家的最大贸易伙伴；而2014年，中国则成为亚太地区多数国家的最大贸易伙伴，这说明中国正逐步成为亚太地区的贸易中心；

②符合题意，图示体现了亚太地区贸易依存网络，多数国家的最大贸易伙伴由美国向中国转变，同时中国也变成了澳大利亚的最大贸易伙伴国，表明亚洲区域内贸易在全球贸易中的作用日益突出；

③不合题意，由图中可以看出，1995年日本是澳大利亚的最大贸易伙伴，而美国又是日本的最大贸易伙伴；2014年，中国则取代美国成为日本的最大贸易伙伴，而日本已经不是其他国家的最大贸易伙伴，这反而体现了日本与亚太国家之间的相互依赖相互联系减弱；

④不合题意，多边贸易是指三个或三个以上的国家，为求相互间的收支在整体上获得平衡，通过协议在多边结算的基础上所进行的贸易；双边贸易是指两个国家或地区之间的贸易，图中没有体现出。

故选：A。

【点评】图表选择题重点考查考生解读信息、运用知识、解决问题的能力。它很好地体现了高考对考生综合素质与能力的考查。因此在今后的学习中要加以重视。

4. (4分) 2016年7月国务院印发《关于推动中央企业结构调整与重组的指导意见》，明确下一阶段央企改革的重点工作：巩固加强一批、创新发展一批、重组整合一批、清理退出一批。新一轮央企改革的目的在于（ ）

- ①推动资源整合，实现国有资本的优化配置
- ②增强央企活力，不断提高国有经济的控制力和影响力
- ③促进央企强强联合，提高国有经济在国民经济中的比重
- ④完善我国生产资料所有制，巩固公有制经济的主导地位。

A. ①②

B. ①④

C. ②③

D. ③④

【考点】59：国有企业改革。

【分析】 本题考查：国有企业改革的意义

1. 企业是市场的主体，转变政府职能，落实企业自主经营权，有利于培育合格的市场主体，增强企业活力和竞争力，发挥市场配置资源的决定性作用。
2. 加快国有企业股份制改革，发展混合所有制经济，有利于按资主体多元化，有利于完善我国的基本经济制度。
3. 国有经济是国民经济的支柱，国资集中在关键领域和优势产业，有利于增强国有经济的控制力，影响力，发挥国有经济的主导作用，扩大公有资本的支配范围，增强公有制的主体地位，保障国家经济安全。
4. 使国企更好地适应市场化、国际化要求，实现科学化管理，实行所有权与经营权的分离，提高资本的利用效率。
5. 有利于优化国有经济布局 and 结构。有利于增强国有经济的活力、控制力、影响力，发挥国有经济的主导作用，巩固公有制的主体地位。

【解答】 ①符合题意，由材料可知，2016年7月国务院明确下一阶段央企改革的重点工作，中央企业结构调整与重组体现的是自愿的优化配置与整合，这说明新一轮央企改革的目的在于推动资源整合，实现国有资本的优化配置；

②符合题意，由材料“明确下一阶段央企改革的重点工作：巩固加强一批、创新发展一批、重组整合一批、清理退出一批”可知，这些措施能够搞活国有经济，增强央企活力，从而不断发展壮大国有经济，不断提高国有经济的控制力和影响力，这显然是央企改革的目的；

③不合题意，央企改革能够在一定程度上促进一部分央企的强强联合，但是国有经济在国民经济中的比重本来就很高，提高比重并不是改革的目的；

④不合题意，我国的生产资料所有制已经很明确，不需要完善，且公有制经济的主体地位不可动摇，央企改革的目的在于盘活国有资本，而不是完善我国生产资料所有制、巩固公有制经济的主导地位。

故选：A。

【点评】 本题为理解型选择题，可以采用释理法解题，就是依据材料提供的事例，对接教材中的相关知识点，题干与题肢之间体现的事理相一致的就选。要特别注意挖掘材料中隐含的意思，对材料进行完整、准确的理解。本题难度

适中。

5. (4分) 某地为治理村委会公章管理不严、随意乱盖章现象，将村委会公章存到乡镇政府“柜子”里，由乡镇政府“代管”。这一做法受到社会质疑而被叫停。叫停“村章乡管”的主要理由在于()
- ①乡镇政府承担了过多的行政管理事务
 - ②乡镇政府没有管理农村公共事务的职能
 - ③乡镇政府不能代行村委会的自我管理权
 - ④应当维护基层群众性自治组织的民主权利。
- A. ①② B. ①④ C. ②③ D. ③④

【考点】AO：农村村民自治和城市居民自治。

【分析】本题考查：我国的村民自治和城市居民自治

性质：村（居）民委员会是村（居）民自我管理、自我教育、自我服务的基层群众性自治组织。不是政权机关。

【解答】①说法错误，村委会公章应由村委会来管理，而不是由乡镇政府，管理村委会公章并不是乡镇政府的行政管理内容；

②说法错误，农村公共事务包括繁荣发展农村文化、大力办好农村教育事业、促进农村医疗卫生事业发展、健全农村社会保障体系、加强农村基础设施和环境建设、推进农村扶贫开发、加强农村防灾减灾能力建设、强化农村社会管理等，乡镇政府有管理农村公共事务的职能，村委会的公章管理不属于农村公共事务；

③符合题意，在农村，村民委员会是村民自我管理、自我教育、自我服务的基层群众性自治组织，广大农民群众在村民委员会的带领下，实行村民自治，在实践中学习和掌握管理村务的本领，切实行使民主管理的权利，乡镇政府作为我国的基层政府，不能代行村委会的自我管理权；

④符合题意，发展基层民主，实行村民自治，以保证人民群众依法直接行使民主权利，管理基层公共事务和公益事业。某地将村委会公章存到乡镇政府“柜子”里，由乡镇政府“代管”，不能保证人民群众依法直接行使民主权利，叫停“村

章乡管”，维护基层群众性自治组织的民主权利。

故选：D。

【点评】本题实则考查学生调动和运用基础知识解决问题的能力，目的是让学生通过书本知识来反思所学的内容，以此来加深知识的掌握程度。只要掌握好基础知识就可做好本题。

6.（4分）2017年4月，中共中央、国务院决定设立河北雄安新区。这是以习近平同志为核心的党中央深入推进实施京津冀协同发展战略、积极稳妥有序疏解北京非首都功能作出的一项重大决策部署。设立雄安新区是（　　）

- ①党中央治国理政新理念新思想战略的重大实践
- ②深化体制机制改革，促进全面发展的制度创新
- ③党和政府全心全意为人民服务宗旨的重要体现
- ④推进我国行政区划全面改革与调整的重要举措。

A. ①②

B. ①③

C. ②④

D. ③④

【考点】B8：我国政府的宗旨和工作的基本原则；BO：中国共产党的性质 宗旨和指导思想。

【分析】本题考查：党的执政理念、宗旨、政府宗旨

- 1、中国共产党坚持立党为公、执政为民，坚持科学发展观，坚持全心全意为人民服务的宗旨。
- 2、我国政府是人民的政府，坚持为人民服务的宗旨。

【解答】①符合题意，设立雄安新区是党中央深入推进实施京津冀协同发展战略、积极稳妥有序疏解北京非首都功能作出的一项重大决策部署，这是党中央治国理政新理念新思想战略的重大实践。故正确。

②不合题意，设立雄安新区是为了推进京津冀协同发展，没有涉及到制度创新；

③符合题意，河北雄安新区的设立，有利于促进京津冀协同发展，缓解北京的非首都功能，体现了党和政府全心全意为人民服务的宗旨；

④不合题意，题干强调中共中央、国务院决定设立河北雄安新区，只是局部行政区划的调整，而不是推进我国行政区划全面改革与调整。

以上内容仅为本文档的试下载部分，为可阅读页数的一半内容。如要下载或阅读全文，请访问：<https://d.book118.com/608113034012006033>