

广西2025届科目一模拟考试 100 题【附解析答案】

1、交通警察对未放置保险标志上道路行驶的车辆可依法扣留行驶证。

A、正确

B、错误

正确答案：B

分析：应该是扣留车辆，不是扣留行驶证。

2、这个标志是何含义？



A、专用停车场

B、露天停车场

C、室内停车场

D、内部停车场

正确答案：C

分析：你看那个P字上边还有个遮挡，说明是室内的，如果没有上边那个遮挡就是露天停车场。

3、机动车仪表板上（如图所示）亮，表示驻车制动器操纵杆可能没松到底



A、正确

B、错误

正确答案：B

分析：这个中间是个“！”的，且字中间是红色的表示制动系统出现异常；这个中间要是个“P”的，表示驻车制动器制动状态。

4、指志标线的作用是什么？

A、禁止通行

B、指示通行

C、限制通行

D、警告提醒

正确答案：B

分析：指示标线主要就是引导你正确的行驶，安全守法

5、 驾驶机动车驶入铁路道口前减速降挡，进入道口后不可以变换档位

A、正确

B、错误

正确答案：A

分析：驾驶机动车通过铁路道口，在道口外提前减速减挡低速通行，在进入路口后不得变换档位。题目描述正确。

6、这个标志是何含义？



A、高速公路起点

B、高速公路出口


C、高速公路入口

D、高速公路终点

正确答案：A

分析：1、高速公路起点标志本题中图片。2、高速公路终点标志是中间加个斜着红杠杠。

7、驾驶这种机动车上路行驶的做法，是一种轻微的违法行为。



A、正确

B、错误

正确答案：B

分析：此处注意遮挡车牌，严重违法了！

8、机动车交通事故责任强制保险的保险期间为多长时间？

A、6个月

B、1年

C、2年

D、3年

正确答案：B

分析：机动车交强险保险期间为1年。

9、现机动车所有人住所不在车辆管理所管辖区域内的，转出地车辆管理所应当自受理之日起多少日内，查验机动车？

- A、十日
- B、五日
- C、一日
- D、三日

正确答案：D

分析：《机动车登记规定》规定：机动车所有人的住所迁出车辆管理所管辖区域的，转出地车辆管理所应当自受理之日起三日内，查验机动车，在机动车登记证书上签注变更事项，制作上传机动车电子档案资料。机动车所有人应当在三十日内到住所地车辆管理所申请机动车转入。属于小型、微型载客汽车或者摩托车机动车所有人的住所迁出车辆管理所管辖区域的，应当向转入地车辆管理所申请变更登记。申请机动车转入的，机动车所有人应当确认申请信息，提交身份证明、机动车登记证书，并交验机动车。机动车在转入时已超过检验有效期的，应当按规定进行安全技术检验并提交机动车安全技术检验合格证明和交通事故责任强制保险凭证。车辆管理所应当自受理之日起三日内，查验机动车，采集、核对车辆识别代号拓印膜或者电子资料，审查相关证明、凭证和机动车电子档案资料，在机动车登记证书上签注转入信息，收回号牌、行驶证，确定新的机动车号牌号码，核发号牌、行驶证和检验合格标志。机动车所有人申请转出、转入前，应当将涉及该车的道路交通安全违法行为和交通事故处理完毕。

10、驾驶人出现下列哪种情况，不得驾驶机动车？

- A、驾驶证丢失、损毁
- B、驾驶证接近有效期
- C、记分达到10分
- D、记分达到6分

正确答案：A

分析：驾驶证丢失、损毁的算是没有驾驶证，此时驾驶就是无证驾驶。

11、夜间起步前，应当先开启近光灯。

- A、正确
- B、错误

正确答案：A

分析：先开近光灯，把车前路面的状况给看清楚，是否有坑啊什么的！在确保安全后开车，所以是近光灯。

12、这个标志的含义是警告前方道路易滑，注意慢行。



A、正确

B、错误

正确答案：B

分析：警告标志反向弯路。用以警告车辆驾驶人减速慢行。设置位置为两反向圆曲线起点的外面，但不应进入相邻的圆曲线内。

13、机动车驾驶人初次申领驾驶证后的实习期是多长时间？

A、6 个月

B、12 个月

C、16 个月

D、18 个月

正确答案：B

分析：常识题：一年的实习期。

14、在这个路口不能掉头。



A、正确

B、错误

正确答案：B

分析：此处可以掉头有掉头的标志，还有黄色的虚线。

15、前轮胎爆裂已出现转向时，驾驶人不要过度矫正，应在控制住方向的情况下，应怎样做，使车辆缓慢减速？

A、采取紧急制动

B、使用驻车制动

C、轻踏制动踏板

D、迅速踏下制动踏板

正确答案：C

分析：A 是踩脚刹，B 是拉手刹，D 是也是踩脚刹，都是属于迅速减速，危险。

16、图中这个标志提示前方路口只允许直行。



A、正确

B、错误

正确答案：A

分析：禁令标志，前方路段不允许左转或者右转，左右方向箭头被禁止，只能直行。

17、下面哪种做法能帮助您避免被其他车辆从后方追撞？

A、在任何时候都打开转向灯

B、在转弯钱提前打开相应的转向灯

C、一直打开双闪

D、转弯前鸣笛示意

正确答案：B

分析：其他三个选项，都不能给其他车辆明确的信号提示。

18、行车中仪表板上（如图所示）亮时，表示什么？



A、发动机温度过低

B、发动机温度过高

C、发动机冷却系统故障

D、发动机润滑系故障

正确答案：B

分析：发动机冷却液可能不足，所以导致发动机温度过高。

19、遇有浓雾或特大雾天能见度过低，行车困难时，应怎样做？

A、开启前照灯，继续行驶

B、开启示廓灯、雾灯，靠右行驶

C、开启危险报警闪光灯和雾灯，选择安全地点停车

D、开启危险报警闪光灯，继续行驶

正确答案：C

分析：浓雾或特大雾天,你都看不见了，还能开车？

20、机动车驾驶人身体条件发生变化，妨碍机动车安全驾驶，仍然驾驶机动车的，将被处以 200 元以上 1000 元以下罚款。

A、正确

B、错误

正确答案：B

分析：《机动车驾驶证申领和使用规定》规定：机动车驾驶人身体条件发生变化不适合驾驶机动车，仍驾驶机动车的，由公安机关交通管理部门收回机动车驾驶证外，处二百元以上五百元以下罚款。

21、机动车仪表板上（如图所示）亮时，提醒驾驶人座椅没调整好。



A、正确

B、错误

正确答案：B

分析：为提醒用户没有系安全带。

22、驾驶危险物品运输车辆在高速公路行驶超过规定时速未达 20% 的，对驾驶人处以罚款 200 元、驾驶证记 3 分的处罚。

A、正确

B、错误

正确答案：B

分析：驾驶校车、中型以上载客载货汽车、危险物品运输车辆在高速公路、城市快速路上行驶超过规定时速未达到 20%，一次记 6 分，罚款 200 元；超过规定时速 20% 的，一次记 12

分，罚款 200 元。

23、在图中所示有车道信号灯的路段，请判断哪辆机动车行驶的车道是正确的？



A、C 车

B、B 车

C、D 车

D、A 车

正确答案：A

分析：箭头灯都显示所有车辆要在中间车道行驶，图中只有车辆 C 正确。

24、这两辆车发生追尾的主要原因是什么？



A、后车未与前车保持安全距离

B、后车超车时距离前车太近

C、前车采取制动过急

D、前车采取制动时没看后视镜

正确答案：A

分析：追尾都是后车的责任，因为你没有保持足有的安全距离。

25、下列哪个标志禁止一切车辆长时间停放，临时停车不受限制？



A、图 1

B、图 2

C、图 3

D、图 4

正确答案：D

分析：图 4 是区域禁止长时间停车标志，不影响临时停车。记住就可以了，其他图标是什么？去“交通标志”里学习一遍吧。

26、驾驶机动车行经人行横道，不按规定减速、停车避让行人的，一次记多少分？

A、1 分

B、2 分

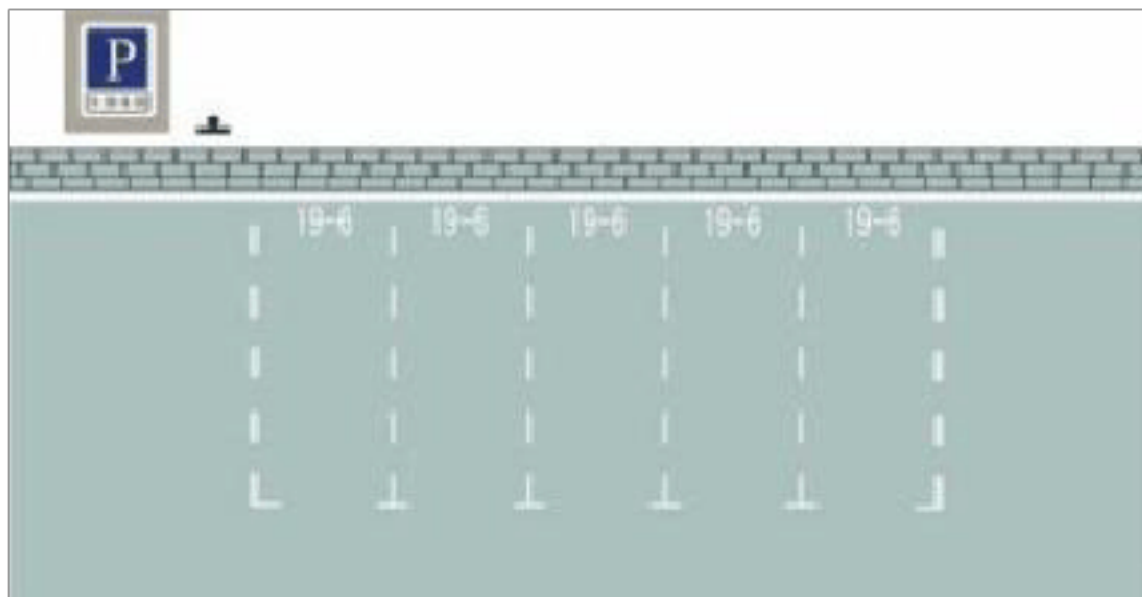
C、3 分

D、6 分

正确答案：C

分析：《道路交通安全违法行为记分分值》中规定 机动车驾驶人有下列违法行为之一，一次记 3 分：驾驶机动车在高速公路上行驶低于规定最低时速的；驾驶禁止驶入高速公路的机动车驶入高速公路的；驾驶机动车在高速公路或者城市快速路上不按规定车道行驶的；驾驶机动车行经人行横道，不按规定减速、停车、避让行人的；驾驶机动车违反禁令标志、禁止标线指示的；驾驶机动车不按规定超车、让行的，或者逆向行驶的；

27、这种白色矩形标线框含义是什么？



- A、长时停车位
- B、限时停车位
- C、专用停车位
- D、免费停车位

正确答案：B

分析：很好记：有数字虚线（限），就选限时的。

28、现役军人（含武警）应向哪里的车辆管理所申领机动车驾驶证？

- A、全国任意车管所
- B、居住地
- C、部队驻地
- D、户籍所在地

正确答案：C

分析：《机动车驾驶证申领和使用规定》规定，申领机动车驾驶证的人，按照下列规定向车辆管理所提出申请：（一）在户籍所在地居住的，应当在户籍所在地提出申请；（二）在户籍所在地以外居住的，可以在居住地提出申请；（三）现役军人（含武警），应当在部队驻地提出申请；（四）境外人员，应当在居留地或者居住地提出申请；（五）申请增加准驾车型的，应当在所持机动车驾驶证核发地提出申请；（六）接受全日制驾驶职业教育，申请增加大型客车、重型牵引挂车准驾车型的，应当在接受教育地提出申请。

29、机动车仪表板上（如图所示）这个符号表示什么？



- A、一边车门开启
- B、行李舱开启
- C、发动机舱开启
- D、燃油箱盖开启

正确答案：B

分析：后边为行李舱，前边为发动机舱。

30、驾驶校车、中型以上载客载货汽车、危险物品运输车辆以外的机动车在高速公路、城市快速路以外的道路上行驶超过规定时速 60% 的，一次记 6 分。

- A、正确
- B、错误

正确答案：A

分析：《道路交通安全违法行为记分管理办法》规定，机动车驾驶人有下列交通违法行为之一，一次记 6 分：（一）驾驶校车、公路客运汽车、旅游客运汽车载人超过核定人数未达到百分之二十，或者驾驶 7 座以上载客汽车载人超过核定人数百分之二十以上未达到百分之五十，或者驾驶其他载客汽车载人超过核定人数百分之五十以上未达到百分之百的；（二）驾驶校车、中型以上载客载货汽车、危险物品运输车辆在高速公路、城市快速路上行驶超过规定时速未达到百分之二十，或者在高速公路、城市快速路以外的道路上行驶超过规定时速百分之二十以上未达到百分之五十的；（三）驾驶校车、中型以上载客载货汽车、危险物品运输车辆以外的机动车在高速公路、城市快速路上行驶超过规定时速百分之二十以上未达到百分之五十，或者在高速公路、城市快速路以外的道路上行驶超过规定时速百分之五十以上的；（四）驾驶载货汽车载物超过最大允许总质量百分之五十以上的；（五）驾驶机动车载运爆炸物品、易燃易爆化学物品以及剧毒、放射性等危险物品，未按指定的时间、路线、速度行驶或者未悬挂警示标志并采取必要的安全措施的；（六）驾驶机动车运载超限的不可解体的物品，未按指定的时间、路线、速度行驶或者未悬挂警示标志的；（七）驾驶机动车运输危险化学品，未经批准进入危险化学品运输车辆限制通行的区域的；（八）驾驶机动车不按交通信号灯指示通行的；（九）机动车驾驶证被暂扣或者扣留期间驾驶机动车的；（十）造成致人轻微伤或者财产损失的交通事故后逃逸，尚不构成犯罪的；（十一）驾驶机动车在高速公路或者城市快速路上违法占用应急车道行驶的。

31、如图所示，前车在行驶过程中没有违法行为。



A、正确

B、错误

正确答案：B

分析：由左侧路标可知，车辆是在高速公路行驶，车辆有注明教练车字样，教练车是作为教学车辆，只能在教学场地或专用教学路段行驶，不能在高速公路上行驶。

32、驾驶校车、中型以上载客载货汽车、危险物品运输车辆以外的机动车在高速公路、城市快速路上行驶超过规定时速百分之五十以上的，一次记6分。

A、正确

B、错误

正确答案：B

分析：《道路交通安全违法行为记分管理办法》规定，机动车驾驶人有下列交通违法行为之一，一次记12分：（一）饮酒后驾驶机动车的；（二）造成致人轻伤以上或者死亡的交通事故后逃逸，尚不构成犯罪的；（三）使用伪造、变造的机动车号牌、行驶证、驾驶证、校车标牌或者使用其他机动车号牌、行驶证的；（四）驾驶校车、公路客运汽车、旅游客运汽车载人超过核定人数百分之二十以上，或者驾驶其他载客汽车载人超过核定人数百分之百以上的；（五）驾驶校车、中型以上载客载货汽车、危险物品运输车辆在高速公路、城市快速路上行驶超过规定时速百分之二十以上，或者驾驶其他机动车在高速公路、城市快速路上行驶超过规定时速百分之五十以上的；（六）驾驶机动车在高速公路、城市快速路上倒车、逆行、穿越中央分隔带掉头的；（七）代替实际机动车驾驶人接受交通违法行为处罚和记分牟

取经济利益的。

33、在这段高速公路上行驶的最高车速是多少？



- A、120 公里/小时
- B、100 公里/小时
- C、90 公里/小时
- D、60 公里/小时

正确答案：A

分析：那个 120 的牌子就是最高车速限制。

34、机动车仪表板上(如图所示)亮表示什么？



- A、前雾灯打开
- B、后雾灯打开
- C、前照进光灯打开
- D、前照远光灯打开

正确答案：B

分析：前雾灯朝左，后雾灯朝右。

35、驾驶机动车通过交叉路口要遵守交通信号。

- A、正确
- B、错误

正确答案：A

分析：这个最基本的，没什么解释的。

36、如下图所示的交通事故中，有关事故责任认定，正确的说法是什么？



A、B 车违反交通信号，所以 B 负全责

B、B 车不得妨碍被放行的车辆，所以 B 车负全责

C、直行车辆不得妨碍左转车辆，所以 A 车负全责

D、右侧方向的车辆具有优先通行权，故 B 车负全责

正确答案：B

分析：根据路口信号灯，虽然 B 车可以左转，但应该避让可以直行的 A 车。

37、驾驶机动车上路，驾驶人应随车携带驾驶证与行驶证，否则会被扣留车辆。

A、正确

B、错误

正确答案：A

分析：《道路交通安全法》规定：上道路行驶的机动车未随车携带行驶证、驾驶证的，公安机关交通管理部门应当扣留机动车。

38、行人参与道路交通的主要特点除了行走随意性大、方向多变以外，还喜欢聚集、围观。


A、正确

B、错误

正确答案：A

分析：说得没错

39、在路口遇这种情形要减速让行。



A、正确

B、错误

正确答案：A

分析：减速让行：车辆必须慢行或停车，观察干道行车情况，在确保干道车辆优先通行且安全的前提下，方可进入路口。

40、机动车紧急制动时，ABS 系统在提供最大制动的同时能使车前轮保持专修能力。

A、正确

B、错误

正确答案：A

分析：ABS 系统是“防抱死刹车系统”，也就是防止抱死车轮，既然没有抱死轮胎那么就是具有转向能力。

41、图中所示的情形超车时，要提前开启左转向灯，连续鸣喇叭或开启远光灯提示，催促前车让行。



A、正确

B、错误

正确答案：B

分析：超车的时候,不可连续鸣喇叭催促,也不能开远光灯。所以选错。

42、驾驶机动车上道路行驶，不允许超过限速标志标明的最高时速。

A、正确

B、错误

正确答案：A

分析：这个没问题，按照标志行驶不会错。

43、高温炎热天气，电动汽车出行时要避免在户外长时间暴晒。

A、正确

B、错误

正确答案：A

分析：新能源汽车如果长时间在阳光下暴晒会温度过高的环境会使蓄电池内部压力增加而使电池失水，引发电池活性下降，加速极板老化；而如果长时间在寒冷环境停止的话，将会对续航能力产生急剧下滑的影响，并且对电池组性能会产生不利影响。

44、如图所示，车辆在拥挤路段排队行驶时，遇有其他车辆强行穿插行驶，以下说法正确的是什么？



A、迅速提高车速不与其穿插

- B、持续鸣喇叭警告
- C、迅速左转躲避
- D、减速或停车让行

正确答案：D

分析：让行就对了，别人不守规则是别人，自己还是要安全、文明。

45、指路标志的作用是什么？

- A、限制车辆通行
- B、提示限速信息
- C、提供方向信息
- D、警告前方危险

正确答案：C

分析：指路标志嘛就是指路的，指路就是指方向的啊。


46、雨天路面湿滑，车辆制动距离增大，行车中尽量使用紧急制动减速。

- A、正确
- B、错误

正确答案：B

分析：因为路面比较滑，如果紧急制动（急刹车），容易造成车辆失控，所以用发动机制动。

47、如图所示，铁路道口设置这个标志，是提示驾驶人前方路口有单股铁道



A、正确

B、错误

正确答案：B

分析：不只单股哦，这是多股铁道标志。

48、伪造、变造或者使用伪造驾驶证的驾驶人构成犯罪的，将依法追究刑事责任。

A、正确

B、错误

正确答案：A

分析：这个没有问题，请大家都遵纪守法。

49、3年内有下列哪种行为的人不得申请机动车驾驶证？

A、吸烟成瘾

B、注射毒品

C、注射胰岛素

D、酒醉经历

正确答案：B

分析：第十二条有下列情形之一的，不得申请机动车驾驶证：三年内有吸食、注射毒品行为或者解除强制隔离戒毒措施未满三年，或者长期服用依赖性精神药品成瘾尚未戒除的；

50、机动车驾驶人在一个记分周期期限届满，累积记分虽未达12分，但有罚款逾期未缴纳的，该记分周期内尚未缴纳罚款的交通违法行为记分分值转入下一记分周期。

A、正确

B、错误

正确答案：A

分析：《道路交通安全违法行为记分管理办法》规定：机动车驾驶人在一个记分周期期限届

以上内容仅为本文档的试下载部分，为可阅读页数的一半内容。如要下载或阅读全文，请访问：<https://d.book118.com/635101022223012112>