

准考证号：_____

乐山市2024年初中学业水平考试

道德与法治·历史

本试题卷分第 I 卷（选择题）和第 II 卷（非选择题），共 10 页。考生作答时，须将答案答在答题卡上，在本试题卷、草稿纸上答题无效。满分 100 分。考试时间 120 分钟。考试结束后，将本试题卷和答题卡一并交回。

第 I 卷(选择题 共48分)

注意事项：

1. 选择题必须使用 2B 铅笔将答案标号填涂在答题卡上对应题目标号的位置上。
2. 本卷共 32 个小题，第 1-16 题为道德与法治试题，第 17-32 题为历史试题，每小题 1.5 分，共 48 分。在每小题给出的四个选项中，只有一项是最符合题目要求的。

1. 2023 年 9 月 23 日至 10 月 8 日，第 19 届亚运会在_____举行。中国体育代表团最终以 201 金、111 银、71 铜合计 383 枚奖牌的成绩高居奖牌榜第一位。（ ）
A. 四川成都 B. 陕西西安 C. 广东广州 D. 浙江杭州
2. 2023 年 10 月 24 日，第十四届全国人民代表大会常务委员会第六次会议通过了《中华人民共和国_____》，该法自 2024 年 1 月 1 日起实施。（ ）
A. 爱国主义教育法 B. 家庭教育促进法
C. 粮食安全保障法 D. 国务院组织法
3. 2023 年 10 月 7 日至 8 日，全国宣传思想文化工作会议在京召开，会议首次提出_____。（ ）
A. 法治 B. 文化 C. 外交 D. 宣传
4. 当在你身边出现毒品时，正确的做法是（ ）
A. 变卖 B. 丢弃
C. 报告公安机关 D. 假装看不见
5. HIV(艾滋病毒)抗体筛查结果呈阳性，则可以判定为（ ）
A. 怀疑感染了 HIV，需要确认实验才能判断
B. 感染了 HIV

C. 没有感染 HIV

D. 不能确定

2024 年 4 月 25 日，搭载航天员叶光富、李聪、李广苏三人的神舟十八号载人飞船发射任务取得圆满成功。请据此完成下面小题。

6. 据不完全统计，直接参与载人航天工程研制工作的单位有 110 多个，配合参与这项工程的单位有 3000 多个，涉及数十万科研工作者。这说明（ ）

①个人的力量是有限的，在超级团队工程中起不了多大作用

②个人的力量是分散的，但在集体中汇聚，就会变得强大

③只要集体内部精诚团结、目标一致，就能取得成功

④借助集体合力，我们可以完成许多单凭一己之力无法完成的事情

A. ①②

B. ①③

C. ②④

D. ③④

7. 神舟十八号航天员乘组三人，不仅有相近的年龄和经历，更有共同的使命——跑好神舟太空“接力赛”，他们是使命、责任、荣誉共同体。三人工作上虽有分工，但分工不分家，团结如一人，所有操作都互为备份。这表明（ ）

A. 美好集体的结成需要有相近的年龄和经历

B. 美好集体就是一个有着牢固利益的小团体

C. 美好集体内部不允许有个人利益存在

D. 美好集体有共同的愿景、良好的氛围

8. 5 月 23 日至 24 日，中国人民解放军东部战区组织战区陆军、海军、空军、火箭军等兵力，在台湾岛周边开展“联合利剑—2024A”演习。发言人陈斌华指出，是对外部势力纵容支持“台独”、干涉中国内政的严厉警告。这表明（ ）

①国家安全利益是国家的最高利益，不容侵犯

②中国人民解放军坚决捍卫国家核心利益，维护国家统一

③维护国家主权和领土完整只是人民军队的任务

④我国已经实现全面建成世界一流军队的强军目标

A. ①②

B. ①④

C. ②③

D. ③④

9. 4 月 1 日，四川省启动全省“国家安全教育月”活动，开展开放省市共建总体国家安全观教育基地、开行“总体国家安全观主题地铁”、展播“国安宝宝共护国安”宣传视频等系列活动。这些活动有利于（ ）

①刺激消费，推动经济发展

②公民依法惩处危害国家安全的犯罪分子

③营造国家安全“人人有责、人人可为”的良好氛围

④推动总体国家安全观深入人心

A. ①②

B. ①④

C. ②③

D. ③④

10. 近年来，许多学校积极组织学生进行社会实践，开展乡村踏青、企业研学、烈士陵园祭奠英烈

等活动。这些活动可以引导学生（ ）

- ①感受成就，珍惜幸福生活
- ②正视不足，担忧前途命运
- ③动手实践，掌握各种技能
- ④培根铸魂，涵养家国情怀

A. ①③ B. ①④ C. ②③ D. ②④

11. 如图漫画《一推了之》的寓意是国家机关及其工作人员应该（ ）

- ①法无授权不可为
- ②法定职责必须为
- ③依法行使权力，不推诿，不懈怠
- ④行使权力守程序



A. ①② B. ①④ C. ②③ D. ③④

12. 2023年9月15日，第八届乐山市中小学生“学宪法 讲宪法”比赛在市青少年宫举行，来自全市的78名选手同台竞技。该活动有利于中小学生（ ）

- ①丰富宪法知识
- ②增强宪法意识
- ③加强宪法监督
- ④保障宪法实施

A. ①② B. ①③ C. ②④ D. ③④

13. 随着科学技术的发展, 一些不法分子利用 AI 技术模仿、伪造他人的声音、面孔、视频等信息进行诈骗(如图所示)。对此类行为认识正确的是 ()

- ①它侵犯了公民的财产权
- ②受害者只能通过诉讼维权
- ③它侵犯了公民的人格尊严
- ④这是利用高科技致富的手段



- A. ①② B. ①③ C. ②④ D. ③④

14. 近年来, 电瓶车已成为城市居民常用代步工具。但个别居民借口小区停放场所和充换电设施数量不够, 将自己的电瓶车进楼入户、“飞线”充电, 认识正确的是 ()

- ①电瓶车在哪里存放和充电是车主的自由
- ②违规充电完全是因为小区集中充电设施不够
- ③电瓶车主必须坚持权利和义务的统一
- ④电瓶车存放和充电必须坚持安全第一

- A. ①② B. ①④ C. ②③ D. ③④

15. 2023 年是习近平总书记提出共建“一带一路”倡议 10 周年。十年来, 152 个国家、32 个国际组织签署了 200 余份共建“一带一路”合作文件, 开展了数千个务实合作项目, 到 2030 年, 共建“一带一路”有望帮助 760 万人摆脱极端贫困、3200 万人摆脱中度贫困。这表明 ()

- ①中国成功化解各种世界难题和危机
- ②中国积极推进构建人类命运共同体
- ③中国已经成为世界经济发展的领导者
- ④中国与各国分享发展机遇, 共享发展成果

- A. ①② B. ①③ C. ②④ D. ③④

16. 下列名人名言启示我们要 ()

鞠躬尽力, 死而后已。 —诸葛亮	位卑未敢忘忧国, 事定犹须待阖棺。 —陆游	人生自古谁无死, 留取丹心照汗青。 ——文天祥	寄意寒星荃不察, 我以我血荐轩辕。 ——鲁迅
---------------------	-----------------------------	-------------------------------	------------------------------

①传承中华优秀传统文化, 弘扬民族精神

②尊重差异、理解不同，包容多样文化

③积极关切人类问题和世界局势

④增强做中国人的志气、骨气和底气

A. ①②

B. ①④

C. ②③

D. ③④

17. 中国人自称龙的传人。源于约 8000 年前的“龙”形，遍布中华大地，贯穿整个新石器时代直至今日，成为中华民族共有的图腾。这最能体现的中华人文精神是

A. 华夏认同 B. 革故鼎新 C. 道法自然 D. 和而不同

18. 公元前 221 年，秦始皇在全国推行度量衡标准，制作颁行标准器，并且设立机构每年检查校正生产和商业活动中使用的度量衡。这有利于

A. 为统一六国奠定基础 B. 不同地域人民语言交流
C. 方便各地的交通往来 D. 加强国家对经济的管理

19. 唐朝时期，汉文在西域已成为一种盛行的语言文字。下图是新疆地区出土的唐代文书，长 53 厘米，宽 27 厘米，内容是当地 12 岁学童卜天寿抄写的《论语》《千字文》及创作的诗歌等。材料反映了



局部释文：
写书今日了，先生莫成（嫌）池（迟）。
明朝是赏（假）日，早放学生归。

A. 中原地区政局稳定
C. 西域商品经济发达

B. 民族交往交流交融
D. 海上贸易高度繁荣

20. 科举制使出身平民阶层的人通过“十载寒窗”参与政权，进而实现“修身齐家治国平天下”的美好理想，承续儒家的“济世”精神。据此可知，要参加科举考试最应该

A. 勤劳耕作 B. 积极参军 C. 发愤读书 D. 诚信经营

21. 关羽集忠、义、仁、勇、礼、智、信于一身，这些对任何人而言都是令人敬仰的精神品格。康熙年间，清政府尊关羽为夫子，将其与孔子并称。此举主要目的是

A. 强化忠义观念 B. 促进农业发展 C. 维护海禁政策 D. 镇压太平天国

22. 洋务运动是中国历史上第一次近代化运动。据下表内容可知，这一时期


时间	人物	史事
1865 年	曾国藩、李鸿章	设立江南机器制造局、译书局
1879 年	左宗棠	创立新疆阿克苏制造局
1884 年	张之洞	创建山西新火药局，设立广东水陆师学堂
1888 年	李鸿章	成立北洋海军

——据张海鹏主编《中国近代通史》等


A. 边疆危机严重
C. 白银大量流入

B. 土地兼并现象突出
D. 民主革命浪潮高涨

23. 近代先进的中国人通过创办报刊探索救国救民道路。下图所示报刊



维新运动期间的报刊



《民报》创刊号



《青年杂志》
第1卷第1号



共产党早期组织
创办的工人刊物

A. 有效抵御了列强的侵略

B. 都是由民族资产阶级所创办

C. 是宣传先进思想的载体

D. 推动国人文化素质普遍提高

24. 识读地图是学习历史的重要方法。下示历史地图的图例“▲”应是

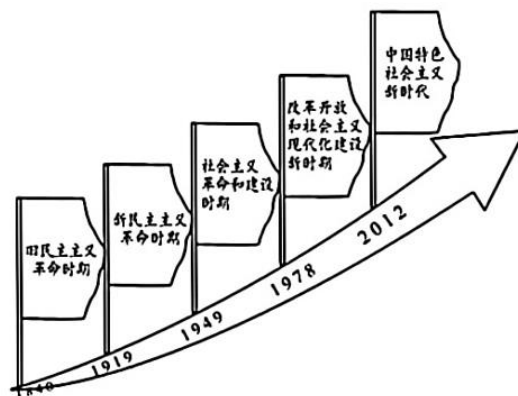


<p>—— 军阀盘踞地区界</p> <p>■ 北伐前国民政府控制地区</p> <p>▲ 国民政府所在地</p> <p>→ 北伐军进军路线</p> <p>→ 冯玉祥军南下路线</p> <p>—— 国界</p> <p>—— 省级界</p> <p>—— 地区界</p>	<p>■ 革命根据地</p> <p>→ 中央红军长征路线</p> <p>→ 红二、红六军团长征路线</p> <p>→ 红四方面军长征路线</p> <p>→ 红二十五军长征路线</p> <p>—— 国民党军封锁线</p> <p>—— 省级界</p>	<p>■ 抗日根据地</p> <p>→ 八路军进攻方向</p> <p>⊗ 八路军攻克日军据点</p> <p>→ 八路军破袭铁路地段</p> <p>→ 日军增援与进攻方向</p> <p>→ 日军“扫荡”方向</p> <p>—— 省级界</p>	<p>→ 解放军进攻方向</p> <p>⊗ 解放军歼灭国民党军地区</p> <p>→ 国民党军增援方向</p> <p>⊗ 国民党军起义、投诚地区</p> <p>—— 国界</p> <p>—— 省级界</p>
A	B	C	D

25. 钱学森、钱三强、邓稼先等一大批科学家，把个人理想与祖国命运、个人志向与民族振兴紧密联系在一起，“干惊天动地事，做隐姓埋名人”，打破了有核大国的核垄断，增强了新中国的国防实力，铸就了伟大的

- A. 抗美援朝精神 B. 铁人精神 C. 红旗渠精神 D. “两弹一星”精神

26. 乐乐同学在学习中国近现代史后，绘制了如下示意图。该图最能反映的历史大趋势是



- A. 中华民族迈向伟大复兴 B. 世界政治格局多极化
- C. 和平与发展的时代潮流 D. 全球经济走向一体化

27. 文物虽静默不语，却承载着丰富的信息。下图所示文物可以用来佐证



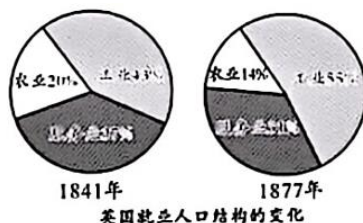
绘有身着丝织妇女形象的古希腊陶壶（公元前5世纪）



出土于辽宁的十六国时期玻璃水注（玻璃是古代埃及人最早制造的，从东罗马帝国传入中国）

- A. 雅典民主政治 B. 中西文化交流
- C. 西欧文艺复兴 D. 世界市场形成

28. 1687年，物理学家牛顿在其划时代的巨著《自然哲学的数学原理》中，用大量数据证明了万有引力定律 $(F = G \frac{Mm}{r})$ ，从而解释了一些貌似不相干的现象，比如潮汐运动是由月亮引起的。这一发现
- A. 传播了资产阶级自由民主思想
B. 为法国大革命作了重要的理论准备
C. 丰富了人类对自然科学的认识
D. 打破了“上帝创造万物”的神创论
29. 美国 1787 年宪法规定：各州的众议员名额及直接税数量，都与各州人口成正比例，其中黑人奴隶人口则按五分之三（5 个奴隶只等于 3 个人）计算。这表明该宪法
- A. 体现了人人平等的理念
B. 加速了独立战争的进程
C. 违背了三权分立的原则
D. 打上了种族歧视的烙印
30. 工业革命推动了生产力的发展，对人类社会产生了深远的影响。据下图可知，当时英国



- A. 人口数量迅速增长
B. 农业生产衰退
C. 产业结构发生变化
D. 进入垄断阶段
31. 20 世纪二三十年代，苏联依靠自己的力量，使工业生产水平跃居欧洲第一位、世界第二位，工业总产值占世界的比重由 1913 年(沙俄时期)的 2.6% 上升为 1937 年的 10%。二战后，又成功发射世界第一颗人造卫星，将人类第一位宇航员送入太空。材料体现了
- A. 社会主义制度的优越性
B. 经济危机引发世界大战
C. 战后殖民体系走向崩溃
D. 世贸组织促进经济发展
32. 当今社会，广播电视不断发展和普及，各种新闻的传播广泛而及时；手机、即时通讯和电子邮件的普遍使用，使人与人之间距离“越来越近”；“云课堂”“掌上博物馆”和电子阅读的有益探索，让学习随时随地都能发生。这主要基于
- A. 交通工具革新
B. 信息技术发展
C. 教育水平提升
D. 生活质量改善

第 II 卷（非选择题共 52 分）

注意事项：

1. 考生使用 0.5mm 黑色墨迹签字笔在答题卡上题目所指示的答题区域内作答，答在试题卷上无效。

2. 本卷共 6 个小题，其中第 33-35 题为道德与法治试题，第 36-38 题为历史试题，共 52 分。

33. (16 分)【接续奋斗 砥砺前行】

阅读材料，完成下列要求。

前行路上，有风有雨是常态。一些企业面临经营压力，一些群众就业、生活遇到困难，这些我都牵挂在心。大家不惧风雨、守望相助，直面挑战、攻坚克难，埋头苦干的工人，敢闯敢拼的创业者，各行各业的人们都在挥洒汗水，每一个平凡的人都作出了不平凡的贡献！

- (1)我们应该如何正确看待前行路上的“风雨”？
- (2)请你解读“每一个平凡的人都作出了不平凡的贡献”。

34. (18分)【发展全过程人民民主】

阅读材料，完成下列要求。

材料一 十四届全国人大二次会议在圆满完成各项议程后，3月11日在北京人民大会堂闭幕。取、审议并批准了政府工作报告、最高人民法院工作报告、最高人民检察院工作报告等。

材料二 3月10日，住乐全国政协委员雷世银圆满完成全国政协十四届二次会议各项议程，返回乐山。

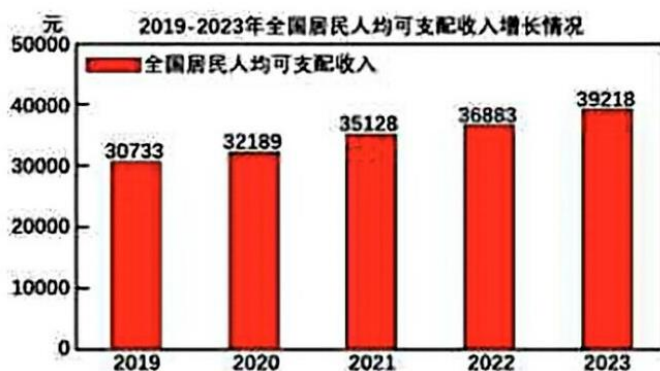
会议期间，桩桩件件背后都包含着对乐山发展的关心关注。

- (1)材料一、二分别体现我国实行的是什么政治制度？
- (2)材料一反映出我国人民代表大会与国家行政机关、审判机关、检察机关之间是怎样的关系？
- (3)请你对全国政协委员雷世银的作为进行点评。

35. (18分)【推进高质量发展 迈向共同富裕】

阅读材料，完成下列要求。

材料一



- (1)从材料一中我们能得出什么结论?请分析结论的主要成因。

材料二 2024年4月23日，习近平总书记在重庆主持召开新时代推动西部大开发座谈会并发表重要讲话。他强调，西部地区在全国改革发展稳定大局中举足轻重，奋力谱写西部大开发新篇章。

习近平总书记强调在西部大开发中要做到：

坚持把发展特色优势产业作为主攻方向，因地制宜发展新兴产业，加快西部地区产业转型升级。

坚持以高水平保护支撑高质量发展，筑牢国家生态安全屏障。

坚持以大开放促进大开发，提高西部地区对外开放水平。

坚持统筹发展和安全，提升能源资源等重点领域安全保障能力。

坚持推进新型城镇化和乡村全面振兴有机结合，在发展中保障和改善民生。

坚持筑牢中华民族共同体意识，切实维护民族团结和边疆稳定。

(2) 上述材料中的“六个坚持”蕴含怎样的新发展理念？

(3) 请你根据上述“六个坚持”的要求，结合经济社会发展实际，运用所学知识为乐山市高质量发展提出两条合理化建议。

36. “茶者，南方之嘉木也。”中国是茶的故乡，是茶文化起源和传播的中心。阅读材料，解答下列问题。(10分)

材料一

中国流传着大量古代先民事迹的传说，如“神农尝百草，一日而遇七十毒，得茶始解之”
唐代陆羽所著《茶经》是世界上第一部茶学专著，记述了从上古到唐代有关茶的历史
各国茶名与“茶”字读音除日本与中国完全相同外，基本上均源于Cha(长江以北及广州附近方言)、Te(或Tiy、Tey、Tay，汕头、厦门附近读音)
中国是茶树近缘植物分布和古茶树品种最多的国家，占全世界茶树40多种中的39种。我国科研工作者运用现代科学手段对茶叶的染色体和化学成分进行实验研究，发现四川金佛山野生大叶种茶树最为原始，为中国是茶的故乡提供了新的科学依据
不少外国学者的研究成果都表明中国是茶的故乡

——据郭孟良《中国茶史》

(1) 根据材料一并结合所学知识，请你按照示例，列举不少于三个论据证明中国是茶的起源地。(3分)

示例：四川、云南等地的自然条件适合茶树生长和种植。

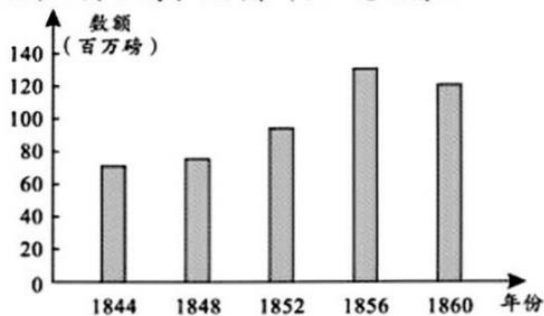
材料二 中国古代茶业史(部分)

唐代以前	茶业起源于巴蜀，“自秦人取蜀而后，始有茗饮之事”，茶叶开始向长江中下游地区传播
唐代	茶叶生产空前发展，贸易日趋活跃，饮茶蔚然成风，茶学与茶文化形成
两宋	茶叶制作技术和品饮艺术臻于极致，茶法体制和茶马贸易制度趋于成熟
元明	饮茶风尚发生划时代变革，制茶技术和茶叶品类得到很大进步，传统茶文化跃上新台阶，茶叶生产、贸易以及国家茶政持续发展
清代	茶叶生产方式出现新的形态，向机械化、科学化发展，华茶出口贸易迅速崛起，茶叶国际竞争加剧，传统茶业经济转型，逐步纳入国际化轨道

——据郭孟良《中国茶史》

(2) 根据材料二，概括中国古代茶业发展的特点。(3分)

材料三 鸦片战争后广州、上海、福州茶叶出口总额情况



——据郭孟良《中国茶史》

(3) 根据材料三并结合所学知识，分析该时期茶叶出口变化的原因。(2分)

(4) 你班围绕“中国茶文化”开展跨学科主题学习活动，请你按照示例，为研究成果拟一个题目。(2分)

示例：《茶：一片东方树叶的传说与历史》

37. “欲知大道，必先为史。”能读得懂多深刻的历史，就能看得见多遥远的未来。阅读材料，解答下列问题。(8分)

材料

 <p>郑和远航绘制的航海图(局部)</p> <p>①</p>	 <p>参加一战并为战争胜利作出巨大贡献的中国劳工②</p>	 <p>五四时期的“救國雪耻”爱国纪念章</p> <p>③</p>	 <p>联合国驻黎巴嫩维和部队的中国士兵照片</p> <p>④</p>
<p>“辛亥革命前觉得只要把帝制推翻便可以天下太平，革命以后经过多少挫折，自己所追求的民主还是那样的遥远，于是慢慢的从痛苦经验中，发现了此路不通，终于走上了共产主义的道路。”</p> <p>——中国共产党人林伯渠关于自己思想历程的回忆⑤</p>	<p>日本的帝国主义侵略战争是退步、野蛮的，失道寡助；中国的反侵略战争是进步、正义的，得道多助……抗日战争是持久战，战争的伟力之最深厚的根源，存在于民众之中。实行人民战争的路线，最后的胜利一定属于中国。</p> <p>——毛泽东《论持久战》</p> <p>⑥</p>	<p>“勇敢的中国人民李文鑫伟伟责。援助中国进行的英勇抗战并最终发起反击是非常必要的，因为中国的抗战是最终战胜日本的重要因素。”</p> <p>——美国总统罗斯福关于二战的谈话</p> <p>⑦</p>	<p>种植中国杂交水稻的非洲农民喜获丰收，实现了吃饱饭、吃好饭的梦想；智利车厘子、秘鲁青提“飞入”中国寻常百姓家；中老铁路通车，老挝人民圆了铁路梦……共建“一带一路”，为世界经济的增长开辟了新空间，为增进各国民生福祉做出了贡献。</p> <p>——中国历史研究院主编《中国通史纲要》</p> <p>⑧</p>

(1) 史料可分为实物史料、文献史料、图像史料和口述史料等。请你按照示例，在材料中任选一则史料，写出史料类型和其中蕴含的历史信息。(3分)

示例：史料序号：①

史料类型：实物史料

历史信息：该史料实证了郑和下西洋的历史事实，反映了中国古代先进的航海技术。

(2) 学习历史需要了解历史发展过程中的各种联系。请在材料中选择至少两则史料，结合所学知识，说明它们所反映史事之间的联系。(3分)

(3) 综合上述材料，围绕“中国与世界”，谈谈你的感悟。(2分)

示例：中国好，世界才会更好；世界好，中国才能更好。

38. 人类文明走到新的十字路口，世界之变、时代之变、历史之变正以前所未有的方式展开，中国正前所未有地走近世界舞台中央。阅读材料，解答下列问题。(8分)

材料

习近平总书记《在文化传承发展座谈会上的讲话》中指出：中华文明具有突出的连续性、创新性、统一性、包容性、和平性。只有立足波澜壮阔的中华五千多年文明史，才能真正理解中国道路的历史必然、文化内涵与独特优势。

请结合所学古今中外的历史知识，在中华文明的突出特性中任选一个或从整体上加以阐述。(要求：观点正确，史论结合，条理清楚)(8分)

乐山市 2024 年初中学业水平考试

道德与法治试题参考答案

第 I 卷 (选择题 共 24 分)

题号	1	2	3	4	5	6	7	8
答案	D	A	B	C	A	C	D	A
题号	9	10	11	12	13	14	15	16
答案	D	B	C	A	B	D	C	B

第 II 卷 (非选择题 共 26 分)

33. 【答案】(1)生活难免有挫折，生活中的挫折是我们生命成长的一部分。面对前行路上的“风雨”，我们应该及时调整自己，正确对待挫折；增强生命的承受力、自我调节和自我修复的能力。发掘自身的生命力量，培养自己面对困难的勇气和坚强的意志。要学会借助外力。学会与他人建立联系，向他人寻求帮助，获得他人的支持和鼓励。

(2)每个人的生命都有自己独特的使命；伟大在于创造和贡献；生命虽然平凡，但也能时时创造伟大我们应该运用自身的品德、才智和劳动，创造出比自己有限的生命更长久的、不平凡的社会价值，留下宝贵的物质财富和精神财富；面对生活的艰难考验，不放弃、不懈怠，为家庭的美好和社会的发展贡献自己的力量，用认真、勤劳、善良、坚持、责任、勇敢书写自己的生命价值；将个体生命与他人的、集体的、民族的、国家的甚至人类的命运联系在一起，让生命在平凡中闪耀出伟大。

34. 【答案】(1)材料一：人民代表大会制度。材料二：中国共产党领导的多党合作和政治协商制度。

(2)国家行政机关、审判机关、检察机关都由人民代表大会产生，对它负责，受它监督。

(3)全国政协委员雷世银的作为值得称赞。他积极履行了政协委员参政议政的职责，为乐山的发展建言献策。他提交的提案涉及到乐山发展的多个方面，包括风景名胜地区总体规划审批、采矿用地保障、教育相关问题以及文化艺术领域等，充分展现了他对乐山发展的深入思考和高度关注。他的行为有助于推动乐山的发展，促进相关问题的解决，体现了他的责任担当和为人民服务的精神。

35. 【答案】(1)结论：2019-2023 年全国居民人均可支配收入持续增长； 人民生活水平

不断主要原因：坚持中国共产党的正确领导；坚持以经济建设为中心，大力发展生产力；坚持贯彻创新、协调、绿色、开放、共享的新发展理念等。

(2)上述材料中的“六个坚持”蕴含了创新、协调、绿色、开放、共享的新发展理念。

①“坚持把发展特色优势产业作为主攻方向，因地制宜发展新兴产业，加快西部地区产业转型升级”体现了创新发展理念，通过创新产业发展模式和方向，推动产业升级。

②“坚持以高水平保护支撑高质量发展，筑牢国家生态安全屏障”体现了绿色发展理念，强调了生态保护对于发展的重要性，实现经济发展与环境保护的协调。

③“坚持以大开放促进大开发，提高西部地区对外开放水平”体现了开放发展理念，通过扩大开放促进西部地区的发展。

④“坚持统筹发展和安全，提升能源资源等重点领域安全保障能力”体现了协调发展理念，注重发展与安全的协调平衡。

⑤“坚持推进新型城镇化和乡村全面振兴有机结合，在发展中保障和改善民生”体现了共享发展理念，旨在让发展成果惠及更多人民，促进城乡协调发展。

⑥“坚持筑牢中华民族共同体意识，切实维护民族团结和边疆稳定”也从社会层面体现了协调发展理念，促进各民族之间的协调发展，维护社会稳定。

(3)①立足乐山市的特色资源和优势产业，加大科技创新投入，推动产业转型升级，培育新的经济增长点，例如发展具有乐山特色的文旅融合新兴产业。

②加强生态环境保护，推动绿色发展。严格落实生态保护政策，加强对自然资源的合理开发和利用，发展生态旅游等绿色产业，打造美丽乐山。

乐山市 2024 年初中学业水平考试

历史试题参考答案及评分标准

第 I 卷 (选择题 共 24 分)

题号	17	18	19	20	21	22	23	24
答案	A	D	B	C	A	A	C	B
题号	25	26	27	28	29	30	31	32
答案	D	A	B	C	D	C	A	B

第 II 卷 (非选择题 共 26 分)

36. (10 分)

- (1) 论据：中国古代流传有关茶的传说；唐代已有世界上最早的茶学专著；各国茶名和“茶”的读音源于中国；科研工作者的研究成果；外国学者的研究成果；等。(一点 1 分，任答三点 3 分)
- (2) 特点：起源于巴蜀地区；历史源远流长；传播范围逐渐扩大；茶叶贸易活跃；形成茶学与茶文化；茶业纳入国家治理范畴；茶叶制作技术不断发展；茶法体制趋于成熟；清代传统茶业发生转型；等。(一点 1 分，任答三点 3 分)
- (3) 原因：鸦片战争后，列强打开中国市场，茶叶出口数量增加。(1 分) 1856 年以后，受到太平天国运动影响，茶叶出口数量有所下降。(1 分)

(4) 【评分标准】

水平一：能够从一个角度拟定题目。(1 分)

水平二：能够从多个角度拟定题目。(2 分)

【示例】

题目：《茶：一片东方树叶的传说与历史》

37. (8 分)

(1) 【评分标准】

水平一：能够在给定材料中选出史料，未准确判断史料类型。(1 分)

水平二：能够选择史料，并准确判断所选史料的类型。(2 分)

水平三：能够选择史料，并准确判断所选史料的类型，辨识其中的含义，对其反映的重要史事进行简要说明。(3 分)

【示例】

史料序号：①

史料类型：实物史料

历史信息：该史料实证了“郑和下西洋”的历史事实，反映了中国古代航海技术先进。

(2) 【评分标准】

水平一：能够选择史料，并进行简要阐述。(1 分)

水平二：能够选择多则史料，对史料反映的史事进行简要阐述。(2 分)

水平三：能够选择多则史料，对史料反映的史事进行简要阐述，并能够说明史事之间的联系。(3 分)

【示例】

明朝时期，郑和 7 次远航，开创了亚非海上交通线，增进了中国与亚非国家和地区的了解和友好往来，为人类航海事业作出了伟大贡献。进入新时代，中国以共商共建共享为原则倡议并推动“一带一路”建设，增进了沿线各国的民生福祉，为世界经济开辟了新空间。这些史事反映了中国与世界的密切联系，在不同历史时期，中国以强烈的历史自觉和主动精神，同世界各国人民一道建设更加美好的世界。

(3) **【评分标准】**

水平一：能够表现出正确的价值判断，但是角度单一。(1 分)

水平二：能够立足中国，面向世界，表现出国际视野和全球意识。(2 分)

【示例】

感悟：中国好，世界才会更好；世界好，中国才能更好。

38. (8 分)

【评分标准】

水平等级	赋分	等级描述
四	7~8 分	能够对观点进行简要说明，能够从多个角度运用史料对观点进行阐述，逻辑清晰，论证充分，能够得出正确的结论。
三	5~6 分	能够从多个角度运用史料对观点进行阐述，逻辑较为清晰，能够得出正确的结论。
二	3~4 分	能够运用史料对观点进行阐述，但是角度单一，不能得出正确的结论。
	1~2 分	能够写出正确的观点，但不能运用史料进行阐述，不能得出正确的结论。

【示例】

中华文明具有突出的连续性，中华文明是五千年不断裂的文明。

连续性是中华文明有别于世界其他古老文明最突出的特点。埃及文明、两河流域文明、印度河流域文明等，虽然都盛极一时，但这些古老文明最终都没能摆脱湮灭的命运，中华文明是世界上唯一绵延不断且以国家形态发展至今的伟大文明。史前时期，中华大地上的先民共同塑造了中华文明与中华民族多元一体的起源特征和发展格局，公元前 221 年，秦统一六国，幅员辽阔的统一多民族国家建立，并在此后两千多年得到不断巩固和发展。汉字是“中华文明五千年不断裂”的突出代表，从甲骨文到金文，再到秦篆、汉隶、草书、楷书、行书等，虽然书体不断变化，但万变不离其宗，一直延绵至今，从未中断。

中华民族有着五千多年不曾断裂的文明史，从根本上决定了中华民族必然走自己的路。中国共产党领导人民创造的中华民族现代文明，是具有显著特色和丰富内涵的人类文明新形态，成功推进和拓展了中国式现代化，推动人类文明实现创造性发展。

2024 年四川省乐山市中考道德与法治真题

解析

第 I 卷（选择题 共 48 分）

1. 2023 年 9 月 23 日至 10 月 8 日，第 19 届亚运会在_____举行。中国体育代表团最终以 201 金、111 银、71 铜合计 383 枚奖牌的成绩高居奖牌榜第一位。（ ）

- A. 四川成都 B. 陕西西安 C. 广东广州 D. 浙江杭州

【答案】D

【解析】

【详解】本题考查时政，解析略。

2. 2023 年 10 月 24 日，第十四届全国人民代表大会常务委员会第六次会议通过了《中华人民共和国_____》，该法自 2024 年 1 月 1 日起实施。（ ）

- A. 爱国主义教育法 B. 家庭教育促进法 C. 粮食安全保障法 D. 国务院组织法

【答案】A

【解析】

【详解】本题考查时政，解析略。

3. 2023 年 10 月 7 日至 8 日，全国宣传思想文化工作会议在京召开，会议首次提出
习近平_____思想。（ ）

- A. 法治 B. 文化 C. 外交 D. 宣传

【答案】B

【解析】

【详解】本题考查时政，解析略。

4. 当在你身边出现毒品时，正确的做法是（ ）

- A. 变卖 B. 丢弃
C. 报告公安机关 D. 假装看不见

【答案】C

【解析】

【详解】本题考查守护生命。

ABCD：依据教材知识，我们要守护生命，爱护身体，发现身边出现毒品时，应该报告公安机关，故 ABD 说法错误；C 说法正确；

故本题选 C。

5. HIV（艾滋病毒）抗体筛查结果呈阳性，则可以判定为（ ）
- A. 怀疑感染了 HIV，需要确认实验才能判断 B. 感染了 HIV
- C. 没有感染 HIV D. 不能确定

【答案】 A

【解析】

【详解】 本题考查养成健康的生活方式。

ABCD：结合所学知识可知，HIV 抗体筛查结果呈阳性，不能直接判定感染了 HIV，还需要进一步做确认实验才能最终确定。因为筛查实验可能会出现假阳性的情况；故 A 说法正确；BCD 说法错误；

故本题选 A。

2024 年 4 月 25 日，搭载航天员叶光富、李聪、李广苏三人的神舟十八号载人飞船发射任务取得圆满成功。请据此完成下面小题。

6. 据不完全统计，直接参与载人航天工程研制工作的单位有 110 多个，配合参与这项工程的单位有 3000 多个，涉及数十万科研工作者。这说明（ ）

- ①个人的力量是有限的，在超级团队工程中起不了多大作用
- ②个人的力量是分散的，但在集体中汇聚，就会变得强大
- ③只要集体内部精诚团结、目标一致，就能取得成功
- ④借助集体合力，我们可以完成许多单凭一己之力无法完成的事情

- A. ①② B. ①③ C. ②④ D. ③④

7. 神舟十八号航天员乘组三人，不仅有相近的年龄和经历，更有共同的使命——跑好神舟太空“接力赛”，他们是使命、责任、荣誉共同体。三人工作上虽有分工，但分工不分家，团结如一人，所有操作都互为备份。这表明（ ）

- A. 美好集体的结成需要有相近的年龄和经历
- B. 美好集体就是一个有着牢固利益的小团体
- C. 美好集体内部不允许有个人利益存在
- D. 美好集体有共同的愿景、良好的氛围

【答案】 6. C 7. D

【解析】

【6 题详解】

本题考查集体的力量。

①：个人的力量是有限的，但在超级团队工程中也能发挥重要作用，并非起不了多大作用，故①说法错误；

②：众人拾柴火焰高，众多科研工作者的力量汇聚起来，共同推动了载人航天工程的成功；

这说明个人的力量是分散的，但在集体中汇聚，就会变得强大；故②说法正确；

③：集体内部精诚团结、目标一致，有助于取得成功，但不是只要做到这些就一定能成功，还受到很多其他因素的影响，故③说法错误；

④：借助集体合力，我们可以完成许多单凭一己之力无法完成的事情；载人航天工程就是一个很好的例证，众多单位和科研工作者协同合作，才使得神舟十八号载人飞船发射任务取得圆满成功，故④说法正确 ‘

故本题选 C。

【7 题详解】

本题考查美好集体的特征。

A：美好集体的结成并非需要成员有相近的年龄和经历，年龄和经历不是构成美好集体的必要条件，重要的是共同的目标和价值观等，故 A 错误；

B：美好集体不是为了谋取个人私利的小团体，而是为了实现共同的目标，相互协作、共同进步的团体，故 B 错误；

C：美好集体承认个人利益的合理性，并非不允许个人利益存在，只是在集体利益和个人利益发生冲突时，优先考虑集体利益，故 C 错误；

D：神舟十八号航天员乘组有共同的使命，工作上虽有分工但团结协作，这表明美好集体有共同的愿景，成员之间相互配合，有良好的氛围，故 D 正确；

故本题选 D。

8. 5 月 23 日至 24 日，中国人民解放军东部战区组织战区陆军、海军、空军、火箭军等兵力，在台湾岛周边开展“联合利剑—2024A”演习。国台办发言人陈斌华指出，演习是对台湾地区领导人谋“独”挑衅的坚决惩戒，是对外部势力纵容支持“台独”、干涉中国内政的严厉警告。这表明（ ）

①国家安全利益是国家的最高利益，不容侵犯

②中国人民解放军坚决捍卫国家核心利益，维护国家统一

③维护国家主权和领土完整只是人民军队的任务

④我国已经实现全面建成世界一流军队的强军目标

A. ①②

B. ①④

C. ②③

D. ③④

【答案】A

【解析】

【详解】本题考查维护国家利益。

①②：分析题文，国家安全利益是国家的最高利益，不容侵犯。中国人民解放军东部战区组织演习，是对“台独”挑衅的坚决惩戒和对外部势力干涉的严厉警告，这表明中国人民解放军坚决捍卫国家核心利益，维护国家统一；故①②符合题意；

③：“维护国家主权和领土完整只是人民军队的任务”这种说法错误，维护国家主权和领

土完整是每个中国公民的责任和义务；故③错误；

④：我国尚未实现全面建成世界一流军队的强军目标；故④错误；

故本题选 A。

9. 4月1日，四川省启动全省“国家安全教育月”活动，开展开放省市共建总体国家安全观教育基地、开行“总体国家安全观主题地铁”、展播“国安宝宝共护国安”宣传视频等系列活动。这些活动有利于（ ）

- ①刺激消费，推动经济发展
- ②公民依法惩处危害国家安全的犯罪分子
- ③营造国家安全“人人有责、人人可为”的良好氛围
- ④推动总体国家安全观深入人心

A. ①② B. ①④ C. ②③ D. ③④

【答案】D

【解析】

【详解】本题考查落实总体国家安全观。

③④：分析题文，四川省开展的“国家安全教育月”系列活动，有利于营造国家安全“人人有责、人人可为”的良好氛围，让更多的人认识到维护国家安全的重要性和自身的责任。同时，这些活动能够推动总体国家安全观深入人心，增强公民的国家安全意识；故③④符合题意；

①：这些活动的主要目的是进行国家安全宣传教育，而非刺激消费、推动经济发展；故①不符合题意；

②：依法惩处危害国家安全的犯罪分子是国家司法机关的职责，并非公民的权力；故②不符合题意；

故本题选 D。

10. 近年来，许多学校积极组织学生进行社会实践，开展乡村踏青、企业研学、烈士陵园祭奠英烈等活动。这些活动可以引导学生（ ）

- ①感受成就，珍惜幸福生活②正视不足，担忧前途命运
- ③动手实践，掌握各种技能④培根铸魂，涵养家国情怀

A. ①③ B. ①④ C. ②③ D. ②④

【答案】B

【解析】

【详解】本题考查养成亲社会行为。

①④：分析题文，学校组织的乡村踏青、企业研学、烈士陵园祭奠英烈等活动，可以引导学生感受国家发展的成就，珍惜当下的幸福生活。同时，祭奠英烈等活动能够培根铸魂，涵养学生的家国情怀；故①④符合题意；

②：“正视不足，担忧前途命运”并非这些活动的主要引导方向，这些活动更多的是带来积极的影响和教育意义；故②不符合题意；

③：“掌握各种技能”的表述过于绝对，这些活动主要是培养学生的综合素质和家国情怀，不一定能让学生掌握各种技能；故③错误；

故本题选 B。

11. 下图漫画《一推了之》的寓意是国家机关及其工作人员应该（ ）



①法无授权不可为②法定职责必须为

③依法行使权力，不推诿，不懈怠④行使权力守程序

A. ①②

B. ①④

C. ②③

D. ③④

【答案】C

【解析】

【详解】本题考查规范国家权力运行。

②③：分析题文，漫画《一推了之》反映了某些国家机关及其工作人员对职责的推诿，这寓意着国家机关及其工作人员应该做到法定职责必须为，依法行使权力，不推诿，不懈怠；故②③符合题意；

①：法无授权不可为，强调的是国家机关及其工作人员行使权力不能超越法律授权的范围，漫画未体现这一点；故①不符合题意；

④：行使权力守程序，强调的是权力行使要依照法定的程序，漫画重点体现的是对职责的履行态度，而非行使权力的程序问题；故④不符合题意；

故本题选 C。

12. 2023年9月15日，第八届乐山市中小学生“学宪法讲宪法”比赛在市青少年宫举行，来自全市的78名选手同台竞技。该活动有利于中小学生（ ）

①丰富宪法知识②增强宪法意识③加强宪法监督④保障宪法实施

A. ①②

B. ①③

C. ②④

D. ③④

【答案】A

【解析】

【详解】 本题考查增强宪法意识。

①②：分析题文，举办“学宪法讲宪法”比赛，有利于中小学生学习宪法知识，更深入地了解宪法的内容和精神。同时，也能够增强他们的宪法意识，让他们更加尊崇宪法、遵守宪法；故①②符合题意；

③④：都不是属于中小學生能做到的；故③④错误；

故本题选 A。

13. 随着科学技术的发展，一些不法分子利用 AI 技术模仿、伪造他人的声音、面孔、视频等信息进行诈骗（如下图所示）。对此类行为认识正确的是（ ）



①它侵犯了公民的财产权②受害者只能通过诉讼维权

③它侵犯了公民的人格尊严④这是利用高科技致富的手段

A. ①②

B. ①③

C. ②④

D. ③④

【答案】 B

【解析】

【详解】 本题考查财产权和人格尊严权。

①③：分析题文，利用 AI 技术模仿、伪造他人的声音、面孔、视频等信息进行诈骗，侵犯了公民的财产权，使得受害者遭受财产损失。同时，这种行为也侵犯了公民的人格尊严，如肖像权、名誉权等；故①③符合题意；

②：受害者维权的途径不仅仅只有诉讼，还可以通过协商、调解、投诉等方式；故②说法错误；

④：这不是利用高科技致富的正当手段，而是违法犯罪行为；故④说法错误；

故本题选 B。

14. 近年来，电瓶车已成为城市居民常用代步工具。但个别居民借口小区停放场所和充换电设施数量不够，将自己电瓶车进楼入户、“飞线”充电，带来严重安全隐患。对此，

以上内容仅为本文档的试下载部分，为可阅读页数的一半内容。如要下载或阅读全文，请访问：<https://d.book118.com/636030055010010212>