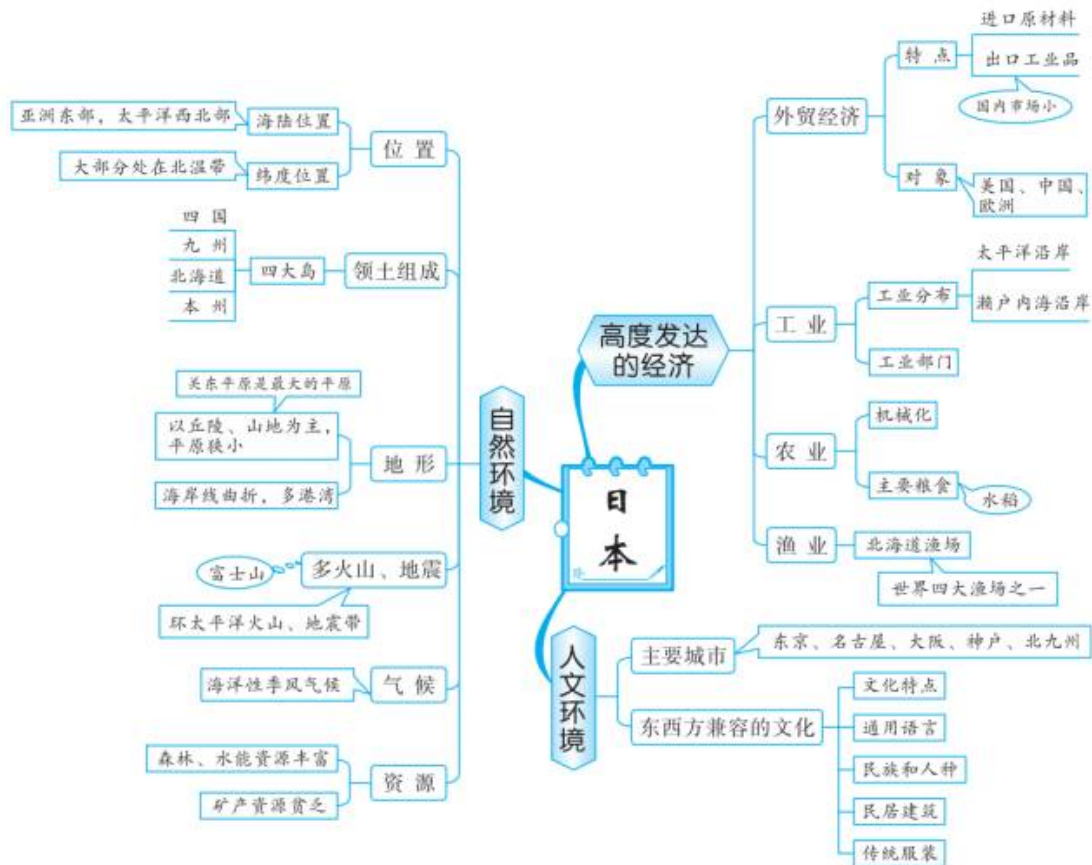


专题07 我们邻近的地区和国家

一、日本

思维导图



知识卡片

1. 自然环境

- (1) 位置：大部分属于北温带；东临太平洋，西临日本海。
- (2) 领土组成：由北海道、本州、四国、九州 4 个大岛及数千个小岛和周围海域组成。

(3) 地形：以山地、丘陵为主，平原面积狭小且多分布于沿海地区。最大的平原是关东平原，最高的山峰是富士山，是一座活火山。

(4) 气候：大部分属于温带季风气候。

(5) 河流：短小、水流急，富有水能资源。

(6) 资源：森林、渔业、水能资源丰富，矿产贫乏。

(7) 自然灾害：因为日本位于亚欧板块和太平洋板块交界地带，属环太平洋火山地震带。多火山、地震灾害。

2. 经济

(1) 经济特点及发展条件

有利：科学技术先进，劳动力资源丰富，多优良港湾，海上交通便利。

不利：日本地域狭小，国内市场小，资源贫乏，国内供给严重不足，对外依赖十分严重。

(2) 工业分布

日本国土南北狭长，海岸线曲折，多优良港湾，工业集中分布在太平洋沿岸和濑户内海沿岸；投资建厂的主要对象是欧洲、东亚和东南亚等国家和地区。

3. 文化

在日本的民族构成中，大和民族占绝大多数，日本文化既有浓厚的大和民族的传统色彩，又有强烈的西方气息，是东西方文化兼容的典型。

速记技巧

速记口诀 日本

东邻邦，日本过，四面是海波连波；
四大道，本州要，本州四国北海道；
富士山下樱花落，火山地震特别多；
原料燃料全进口，加工贸易市场阔；
临海临洋布工厂，“精品屋”里大神港；
投资海外产日货，外汇储备数他多；
穿西装，着和服，东西文化两掺合。

中考狂练

1. (2020·辽宁沈阳·中考真题) 读“日本示意图”，日本①岛是著名的滑雪胜地，该岛是 ()



- A. 北海道岛 B. 本州岛 C. 四国岛 D. 九州岛

【答案】A

【解析】日本由北海道、本州、四国、九州4个大岛、数千个小岛及附近的海域组成。读图可知，图中①岛是北海道岛，它是日本纬度位置最高的岛屿，这里是著名的滑雪胜地。故选：A。

(2020·广西玉林·中考真题) 如图所示是日本经历了一场自然灾害后公路遭到严重破坏的场景。读图，完成下面小题。



2. 日本发生的这场自然灾害最有可能是 ()
- A. 旱灾 B. 地震 C. 台风 D. 山体滑坡
3. 日本频发该种自然灾害的原因是 ()
- A. 地处板块内部 B. 夏季暴雨频发
- C. 台风风力影响 D. 地处板块交界处

【答案】2. B 3. D

【解析】2. 读图可知，如图显示日本公路出现了裂缝，遭到了严重破坏，这种破坏可能是地震造成的；因为日本位于环太平洋火山地震带上，容易发生火山地震，B正确。故选B。

日本多地震灾害是因为，日本位于亚欧板块和太平洋板块的交界处，地壳比较活跃，多火山地震发生，D正确。故选D。

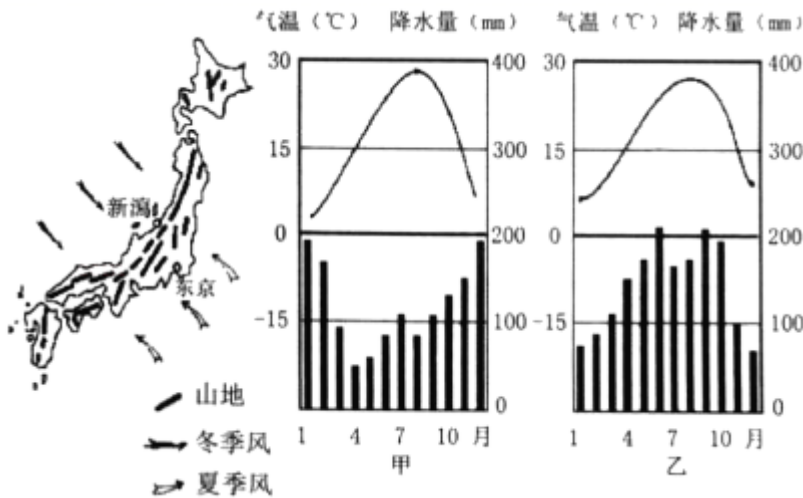
4. (2020·辽宁阜新·中考真题) 受古代中国影响，日本的传统服装是 ()

- A. 纱丽
- B. 汉服
- C. 西服
- D. 和服

【答案】D

【解析】日本的传统服装是和服，主要的民族是大和族。故选：D。

(2020·广西南宁·中考真题) 读日本盛行风向、新潟与东京两地气候资料示意图，据所学知识完成下面小题。



5. 下列关于新潟与东京两地的叙述，正确的是 ()

- A. 甲代表东京的气候
- B. 新潟的冬季风是干冷的
- C. 降水差异的原因是地形
- D. 属于温带海洋性气候

6. 下列叙述正确的是 ()

- A. 东京降水量最多的季节是冬季
- B. 新潟不受夏季风的影响
- C. 国内多山地，平原面积狭小
- D. 该国海岸线平直，不利于建港口

【答案】5. C 6. C

【解析】5. 观察气候资料图时，可以先看横坐标轴，它表示月份，再看左侧纵坐标轴表示气温，最后根据气温曲线上的点估出各月气温值。降水柱状图的判读和气温曲线图的判读一样，只不过降水是估算各月长方形柱状的数值。日本的南部主要是亚热带季风气候，北部为温带季风气候，因为日本为岛国，所以受到海洋的影响较大。据图中气温和降水的信息解答。读图可知，东京位于夏季风的迎风坡，夏季降水多，新潟位于冬季风的迎风坡，冬季降水多，因此甲为新潟，乙为东京，A 错误 新潟的冬季风是湿冷的，B 错误 降水差异的原因是地形，C 正确；属于亚热带季风气候，D 错误。故选 C。

6. 日本位于亚洲东部、太平洋西北部。领土由北海道、本州、九州、四国四个大岛以及附近一些小岛组成，

面积 37.8

万千米²。日本的海岸线长约3万千米，沿岸多岛屿、半岛、海湾和天然良港。读图分析可知：A. 东京降水量最多的季节是夏季，故A错误；B. 新潟受冬季风的影响大，受夏季风的影响小，故B错误；C. 日本国内多山地，平原面积狭小，故C正确；D. 该国海岸线曲折，有利于建港口，故D错误。故选C。

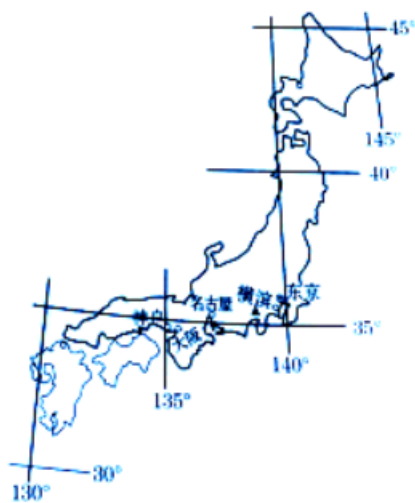
7. (2020·广西贵港·中考真题) 关于日本工业的叙述，正确的是()

- A. 矿产资源缺乏，不能满足国内工业需求
- B. 工业主要分布在内陆地区
- C. 所有工业产品都具有“轻、薄、短、小”的特点
- D. 工业产品以国内市场为主

【答案】C

【解析】日本矿产资源缺乏，不能满足工业需求，绝大部分靠进口，故A错误；日本工业发达，科技先进，日本工业分布集中，主要分布在太平洋沿岸地带，故B错误；所有工业产品都具有“轻、薄、短、小”的特点，故C正确；国内市场狭小，工业产品以出口为主，故D错误。故选C。

(2020·甘肃定西·中考真题) 读下图“日本轮廓示意图”，完成下面小题。



8. 从图中纬度可以看出，日本大部分位于()

- A. 低纬度
- B. 中纬度
- C. 中高纬度
- D. 高纬度

9. 观察图中日本工业城市分布，可以看出日本工业主要分布在()

- A. 内陆地区
- B. 日本海沿岸
- C. 北方沿海
- D. 太平洋沿岸

10. 导致日本工业如此布局的主要原因是该地区()

- A. 矿产丰富
- B. 水能丰富
- C. 地形平坦
- D. 海运便利

【答案】8. B 9. D 10. D

【解析】8. 读图可知，日本的纬度大部分位于北纬 30°-北纬 45°之间，属于中纬度。故选 B。

9. 观察可知，日本的工业城市大部分分布在太平洋沿岸和濑户内海沿岸。故选 D。

10. 日本原料和燃料绝大部分靠进口，产品靠出口，太平洋沿岸和濑户内海沿岸，多优良港湾，海运便利。便于进口原料，出口工业产品。故选 D。

11. (2020·黑龙江鸡西·中考真题) 下列对日本的地理描述不正确的是()

- A. 海岸线曲折，多优良港湾
- B. 劳动力丰富，科技水平高
- C. 面积较小，国内市场大
- D. 进口原材料，出口工业制品

【答案】C

【解析】日本的海岸线曲折，多优良港湾，交通运输便利；日本矿产资源贫乏，国内市场狭小，经济对外依赖性强，日本进口原料，出口工业产品，故 A、D 正确，C 错误；日本劳动力丰富，科技水平高，B 正确。故选 C。

12. (2020·黑龙江鸡西·中考真题) 日本的领土是由众多的岛屿组成，其中纬度最高的岛屿是()

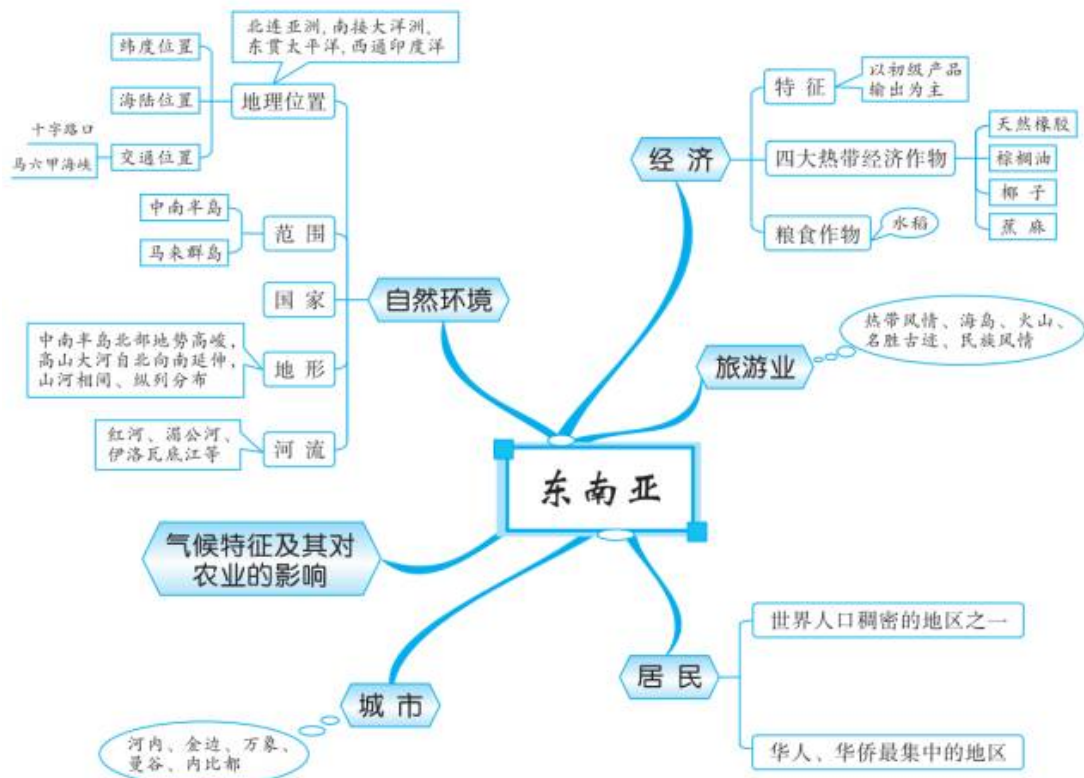
- A. 北海道岛
- B. 本州岛
- C. 四国岛
- D. 九州岛

【答案】A

【解析】日本是位于西北太平洋上的岛国，领土是由四大岛屿及附近的群岛组成，纬度最高的岛屿是北海道岛，故选 A。

二、东南亚





知识卡片

1. 自然环境

(1) 位置范围

纬度位置: 大部分位于赤道和北回归线之间, 属于五带中的热带。

海陆位置: 地处亚洲与大洋洲, 太平洋与印度洋之间的“十字路口”。

范围: 包括中南半岛和马来群岛两大部分。

	中南半岛	马来群岛
地形	山河相间、纵列分布	地形崎岖
河流	亚洲流经国家最多的河流是湄公河	河流湍急
气候	大部分是热带季风气候, 终年高温, 分旱季和雨季两季	大部分是热带雨林气候, 终年高温多雨

2. 交通要道——马六甲海峡

(1) **位置:** 位于马来半岛和苏门答腊岛之间。

(2) **意义:** 是从欧洲、非洲向东航行到东南亚、东亚各港口最短航线的必经之地, 是连接太平洋与印度洋的重要海上通道。

3. 人文环境

(1) 农业

①农作物

粮食作物：水稻

热带经济作物：橡胶、油棕、椰子、蕉麻

(2) 城市分布：中南半岛的大城市主要分布在河流沿岸及河口三角洲。

(3) 居民：绝大多数是黄种人，本区是华人、华侨分布最集中的地区。

(4) 自然和人文旅游资源：缅甸仰光的大金塔，泰国曼谷的水上市场，柬埔寨的吴哥窟，越南的下龙湾，新加坡的鱼尾狮。

速记技巧

速记口诀 东南亚

十字路口东南亚，坐收渔利马六甲；
优越位置图发展，华人华侨贡献大；
热带风光真美丽，季风雨林把雨下；
山河相间列半岛，群岛火山地震胁；
人多地少光热足，传统作物是稻米；
气候湿热条件好，热带作物主产地；
马棕太象律麻子，印尼椰子泰国米。

中考狂练

1. (2020·贵州六盘水·中考真题) 关于东南亚的叙述，错误的是 ()
- A. 中南半岛南高北低 B. 中南半岛大部分属于热带季风气候
- C. 马来群岛火山、地震频繁 D. 马来群岛平原较少、河流湍急

【答案】A

【解析】中南半岛的地势是北高南低，A 错误。中南半岛大部分属于热带季风气候，B 正确。马来群岛位于环太平洋火山地震带，其火山、地震频繁，C 正确。马来群岛平原较少、河流湍急，D 正确。故 A 符合题意。选 A。

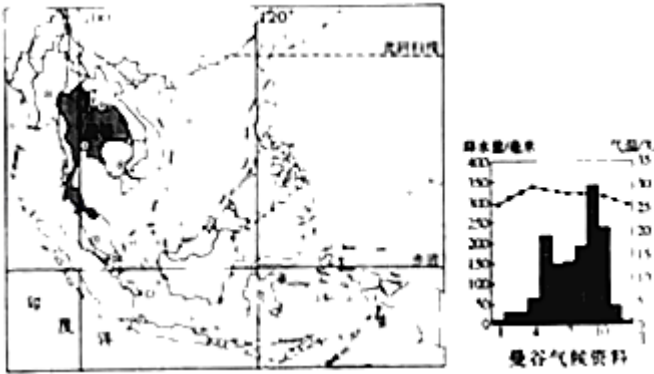
2. (2020·广西河池·中考真题) 下列旅游景点与其所在国家对应正确的是 ()

- A. 巴厘岛—马来西亚
- B. 下龙湾—泰国
- C. 白金汉宫—英国
- D. 阿尔卑斯山滑雪场—瑞典

【答案】C

【解析】巴厘岛位于印度尼西亚，下龙湾位于越南，白金汉宫位于英国，阿尔卑斯山滑雪场位于瑞士，故ABD错误，C正确。故选C。

（2020·山东烟台·中考真题）小明计划暑假到泰国旅行，他搜集到了泰国部分资料。据此完成下面小题。



3. 以下是小明对泰国地理位置的描述，正确的是（ ）
- A. 位于西半球
 - B. 位于北温带
 - C. 是一个内陆国
 - D. 是一个海陆兼备的国家

4. 以下物品，小明在泰国最有可能用到的是（ ）

①羽绒服 ②单衣 ③雨具 ④氧气袋

- A. ①③
- B. ①④
- C. ②③
- D. ②④

5. 小明搜集到一张泰国景观照片，图中建筑属于哪种宗教建筑风格（ ）



- A. 基督教
- B. 佛教
- C. 伊斯兰教
- D. 印度教

【答案】3. D 4. C 5. B

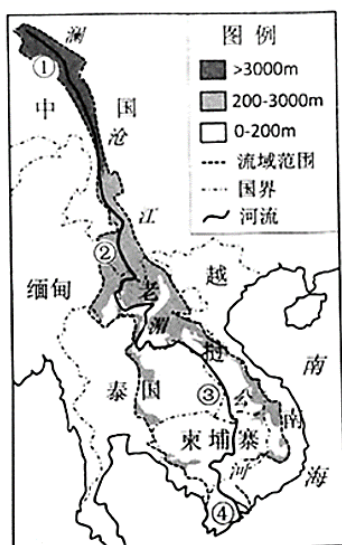
【解析】3

. 泰国位于中南半岛中部，其西部与北部和缅甸接壤，东北边是老挝，东南是柬埔寨，南边狭长的半岛与马来西亚相连，其位于东半球，位于热带，是一个海陆兼备的国家，D 正确。故选 D。

4. 泰国位于东南亚的中南半岛，属于热带季风气候，分为旱季和雨季，降水年内分配不均，在泰国最有可能用到单衣、雨具；没有必要用到羽绒服、氧气袋，C 正确。故选 C。

5. 读图可知，图中建筑为高大的佛塔及佛像，属于佛教建筑风格，泰国将佛教定位国教，B 正确。故选 B。

(2020·山东枣庄·中考真题) 读澜沧江--湄公河流域示意图，完成下面小题。



6. 澜沧江--湄公河发源于 ()

- A. 云贵高原
- B. 青藏高原
- C. 横断山脉
- D. 喜马拉雅山脉

7. 该河流最适合水能开发 ()

- A. ①处
- B. ②处
- C. ③处
- D. ④处

8. 该流域开发利用过程中，最需要加强国际合作的是 ()

- A. 耕地保护
- B. 矿产开发
- C. 水质保护
- D. 科技创新

【答案】 6. B 7. B 8. C

【解析】 6. 澜沧江-湄公河是一个国际性河流，该河发源于青藏高原的青海省，与长江和黄河发源于三江源地区，故选 B。

7. 澜沧江-湄公河最适合开发水能的是②处，此处山高谷深，地势落差大，水流速度快，水能资源丰富，故选 B。

8. 澜沧江-湄公河是一条国际性河流，最需要沿河国家合作的是水质的保护，对于其他三项的关系小，故选 C。

9. (2020·云南中考真题) 连接亚洲和大洋洲、沟通印度洋和太平洋的“十字路口”是 ()

以上内容仅为本文档的试下载部分，为可阅读页数的一半内容。如要下载或阅读全文，请访问：<https://d.book118.com/675024241301012003>