

# 学习目的：

- 1、掌握日本的地理位置、国土构成及其资源状况。**
- 2、理解日本经济特点、工业分布特点及其成因。**
- 3、掌握东南亚的地理位置、气候特性与农业生产的关系、地形与都市分布特点。**

——我们邻近的国家

第一册



瀬户内海

北海道

神户

东京

北九州

太平洋

本州

东京

四国

名古屋

九州

大阪

横滨

长崎

中华人民共和国

俄罗斯

择捉岛 (俄占)

国后岛 (俄占)

色丹岛 (俄占)

齿舞群岛 (俄占)

朝鲜

韩国

九州

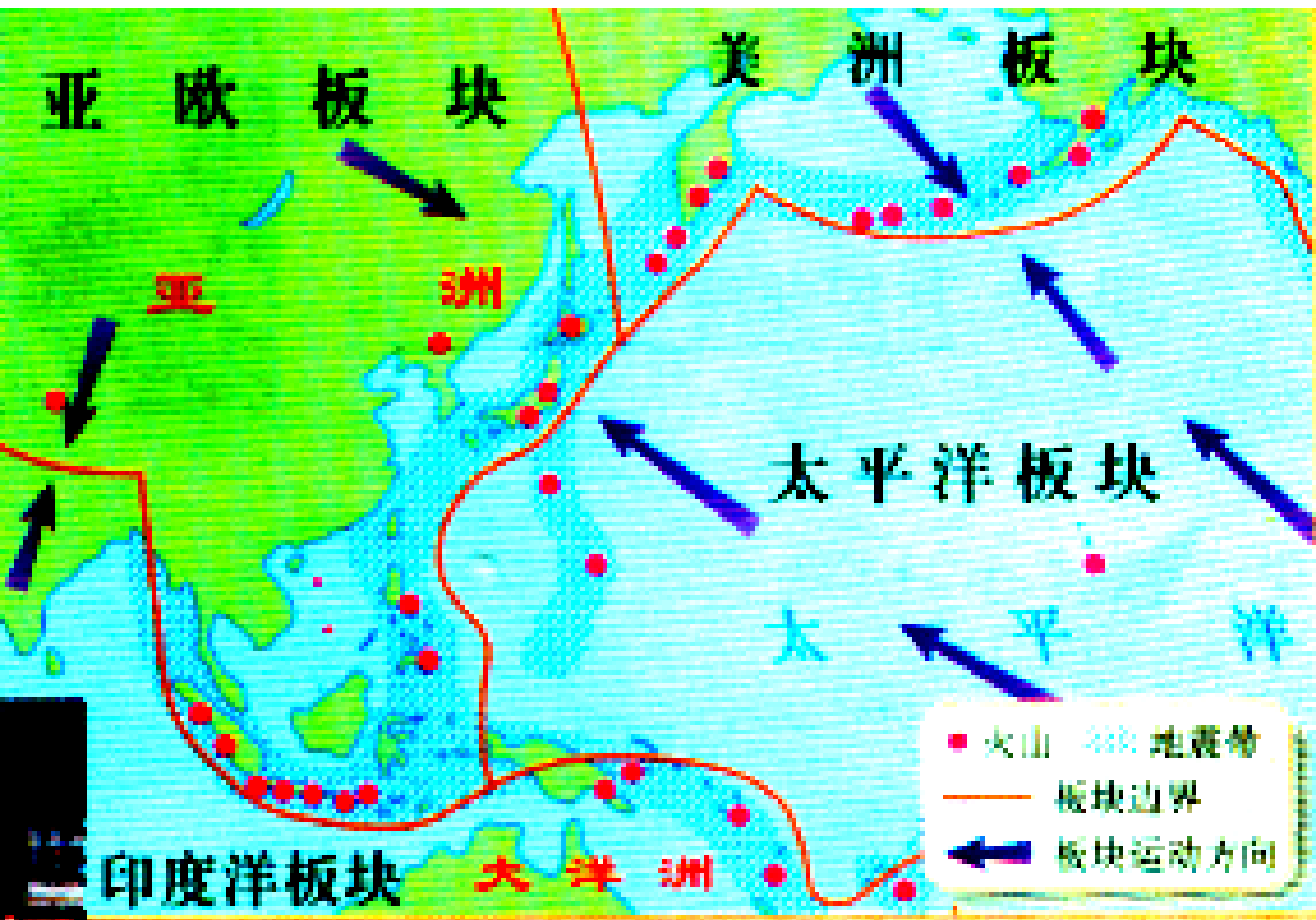
东

大

平

海

洋



## 二、高度发达的经济

### (一) 日本发达的加工贸易经济

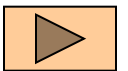
- 1、原料来源和产品销售重要依靠国际▶场
- 2、充足运用本国有利条件，快速发展经济

### (二) 工业区重要分布在太平洋沿岸▶

#### 1、重要工业区

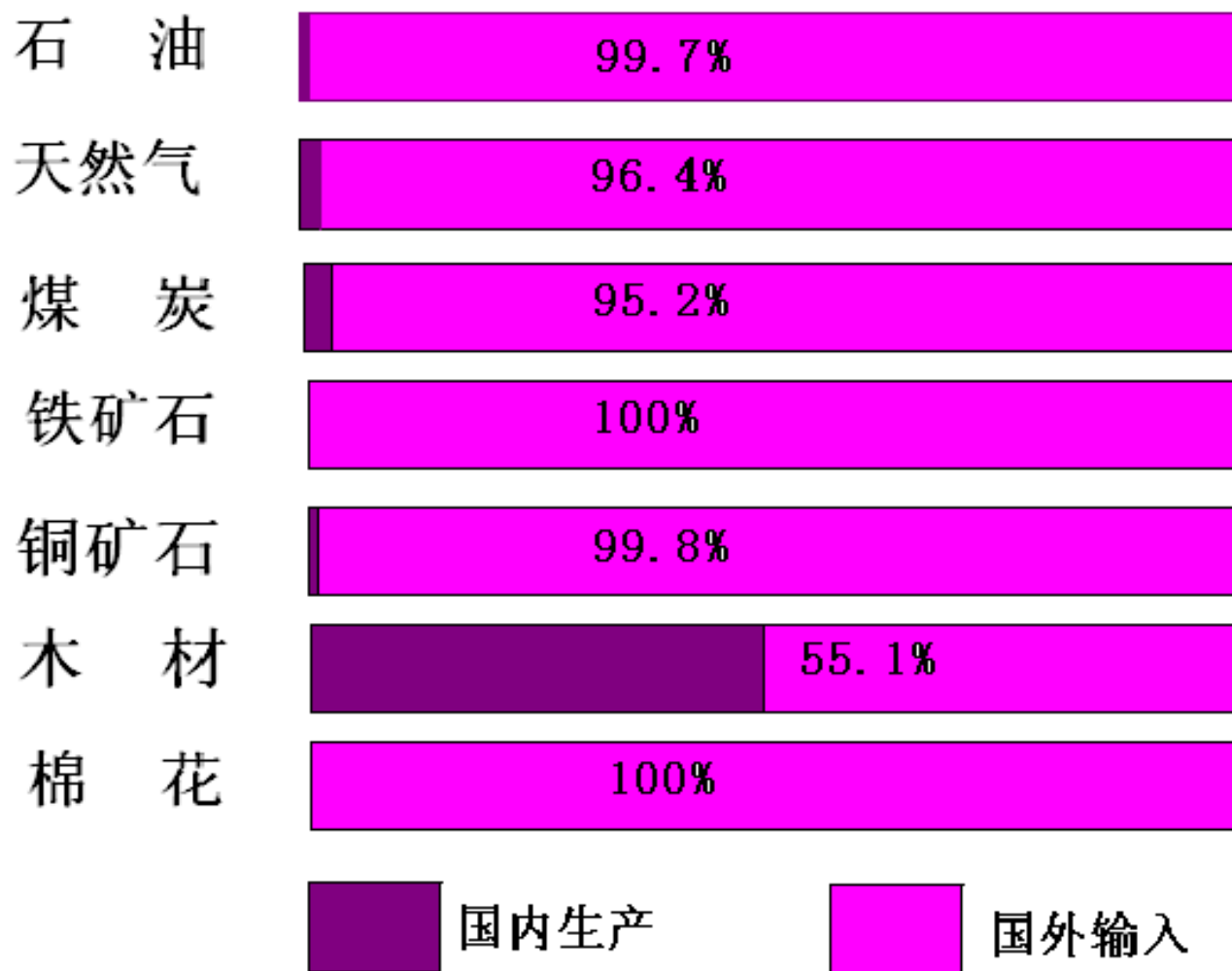
- ### (三) 加速扩大海外投资,建立海外的生产和销售基地
- #### 2 影响日本工业布局的因素

重要对象：美国、西欧、东亚、东南亚

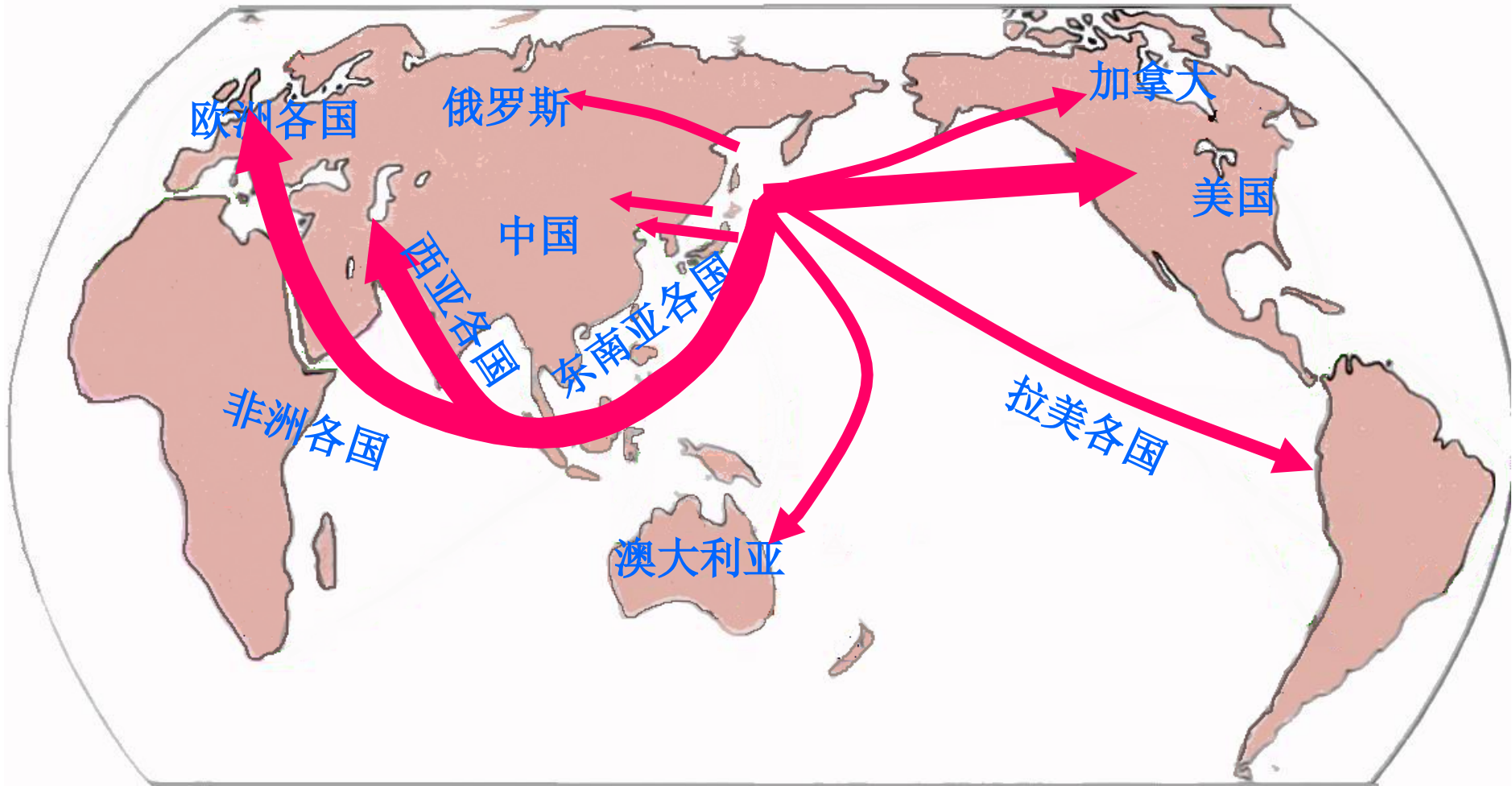




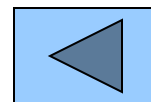
日本重要工业原料来源



1998年日本进口的主要工业原料所占百分比



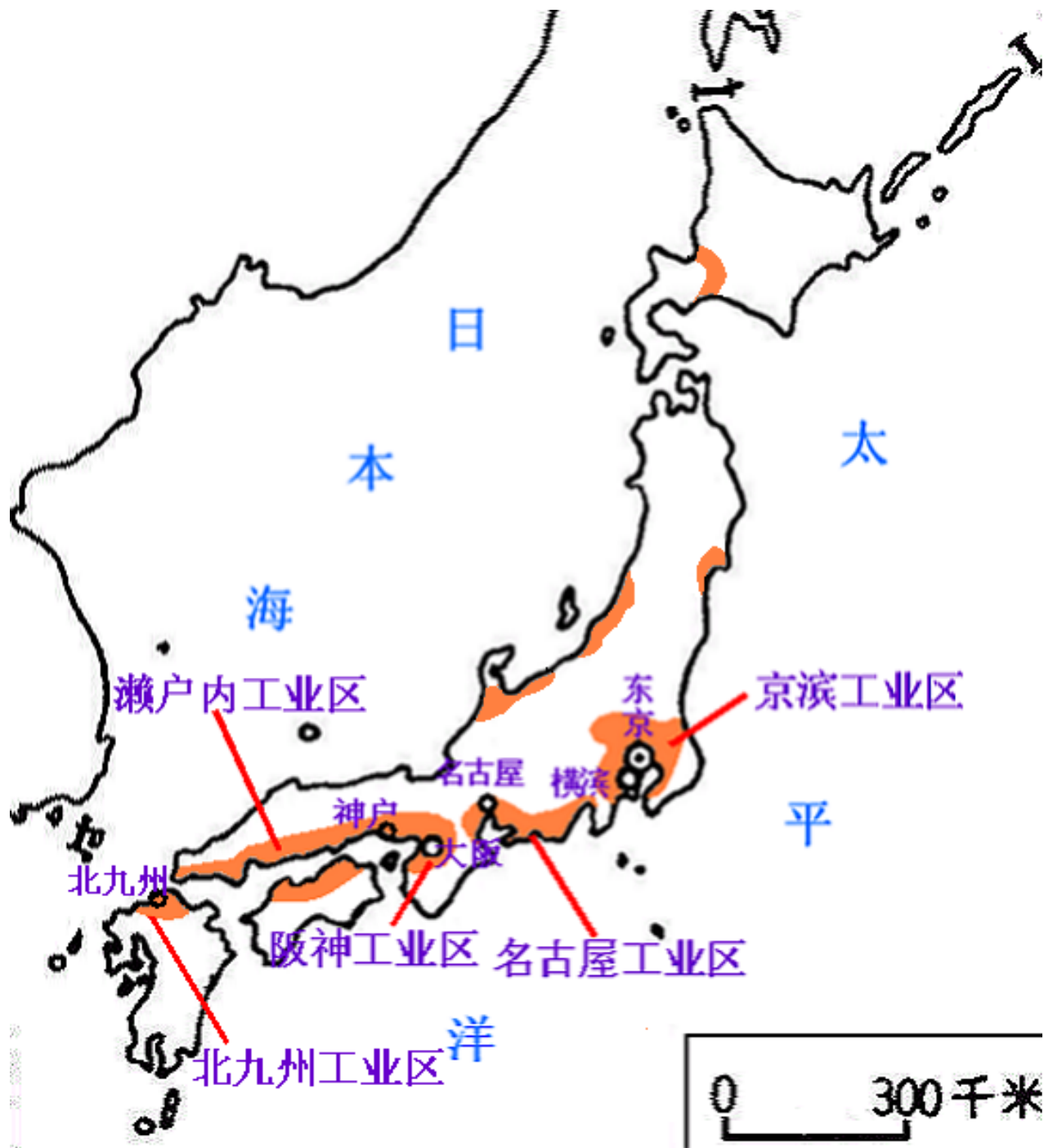
日本重要产品的输出地





## 工业分布特点:

集中在  
太平洋沿岸和  
濑户内海沿岸



# 活动:

将下列内容的序号填入下面的框图中:

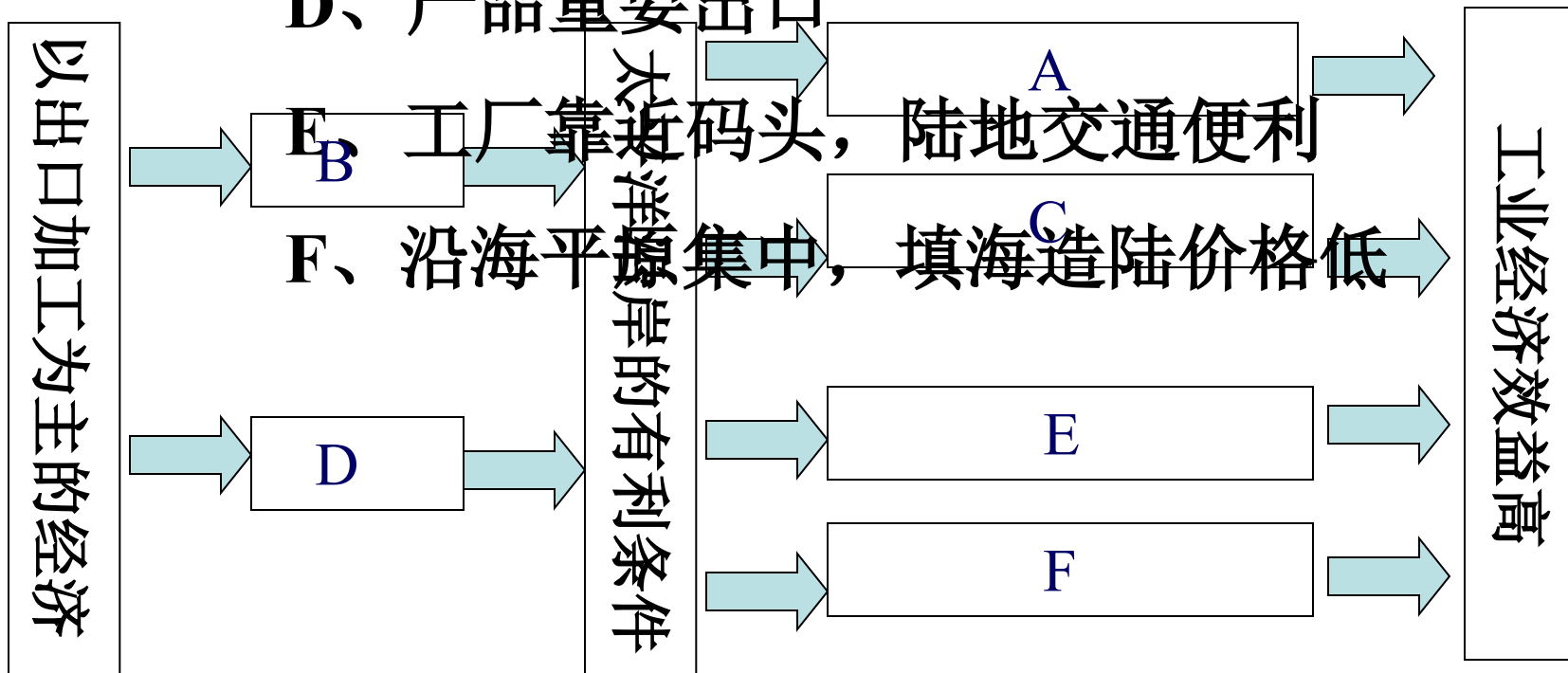


A、都市和人口集中，是国内最大的消费市场

B、原料、燃料重要依靠进口

C、港口条件优越，巨型船舶能够停靠

D、产品重要出口



1、日本最大的岛屿是 **B**

A.北海道 B.本洲 C.四国 D.九州

2、下列有关日本自然条件的说法，错误的是 **A**

A.地形以平原为主 B.多火山、地震

C.矿产资源贫乏 D.森林覆盖率较高

3、日本出名的活火山是 **C**

A.乞力马扎罗山 B.落基山

C.富士山 D.内华达山

4、日本国内丰富，但仍需进口的资源是 **B**

A.煤      B.木材      C.铁      D.铜

5、下列国家中与中国陆上相邻的国家有 **B**

A.日本、朝鲜                      B.蒙古、老挝  
C.泰国、柬埔寨                      D.韩国、新加坡

6、日本所需要的石油重要来自 **C**

A.美国、中国、东南亚      B.澳大利亚、东南亚、  
中国

C.中东、东南亚、中国      D.中东、东南亚、美  
国

以上内容仅为本文档的试下载部分，为可阅读页数的一半内容。如要下载或阅读全文，请访问：<https://d.book118.com/676134231125010224>