

2023 年广东省初中学业水平考试化学

可能用到的相对原子质量:H-1 C-12 O-16 Fe-56

一、选择题:本大题共 15 小题,每小题 3 分,共 45 分。在每小题给出的四个选项中,只有一项是符合题目要求的。

- “夫礼之初,始诸饮食。”下列食物中富含蛋白质的是
 - 鸡蛋
 - 苹果
 - 青菜
 - 白粥
- “粤绣”是国家级非物质文化遗产,以蚕丝线为绣线。下列与蚕丝同属天然材料的是
 - 塑料
 - 棉花
 - 玻璃
 - 涤纶
- “有山千丈色如丹”。广东丹霞山是世界自然遗产,其岩石中含较多氧化铁。下列说法正确的是
 - 氧化铁呈黑色
 - 氧化铁中铁元素为+2 价
 - 铁元素是人体必需的微量元素
 - 人体内缺铁会引起骨质疏松
- 发明联合制碱法,为纯碱工业发展作出杰出贡献的是
 - 张青莲
 - 侯德榜
 - 拉瓦锡
 - 道尔顿
- 化学用语是学习化学的工具。下列表示两个氮原子的是
 - 2N
 - N_2
 - $2NH_3$
 - N_2O_4
- 下列物质均可用于杀菌消毒,其中属于氧化物的是
 - O_3
 - ClO_2
 - NaClO
 - C_2H_5OH

项目学习小组在实验室将树叶放入溶质质量分数为 10%的 NaOH 溶液中煮沸,叶肉变黄时取出,洗刷干净后制成叶脉书签,如图甲所示,回答下列问题。

- 实验要有安全意识。下列行为正确的是



甲

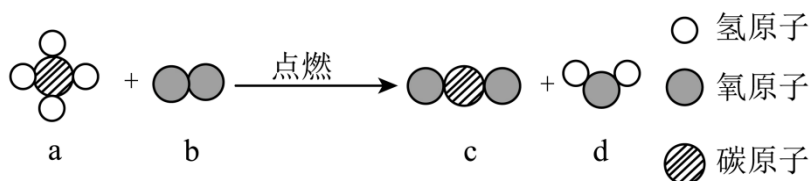


乙

- A. 在实验室吃零食
 B. 在实验室追打闹
 C. 穿实验服和护目镜
 D. 将药品带出实验室
8. 配制 NaOH 溶液不需用到的仪器是
 A. 烧杯 B. 量筒 C. 漏斗 D. 玻璃棒
9. 下列与制作叶脉书签项目有关的说法错误的是
 A. NaOH 溶液可以腐蚀叶肉
 B. 制作过程涉及化学变化
 C. 制作完成后废液需回收处理
 D. NaOH 固体存放处应张贴如图乙所示标志
10. 铪可用作航天材料，在元素周期表中的信息如图所示。下列有关铪元素的说法正确的是

72	Hf
铪	
178.5	

- A. 核电荷数为 72
 B. 属于非金属元素
 C. 相对原子质量为 178.5g
 D. 二氧化铪的化学式为 O_2Hf
11. 梦天舱燃烧科学柜采用 a 作燃料成功实施首次在轨点火实验。a 完全燃烧的反应微观示意图如图所示。下列说法错误的是



- A. 反应前后元素种类不变
 B. 反应前后分子个数不变
 C. a 分子中 C、H 原子个数比为 1:4
 D. 反应生成 c、d 的质量比为 22:9
12. 下列劳动实践与所述的化学知识没有关联的是

选项	劳动实践	化学知识
A	用铅笔芯制作电极	石墨有导电性
B	用食醋除水垢	水垢能与食醋反应
C	回收铝制易拉罐	铝易与氧气反应
D	用洗涤剂去油污	洗涤剂能乳化油污

A. A

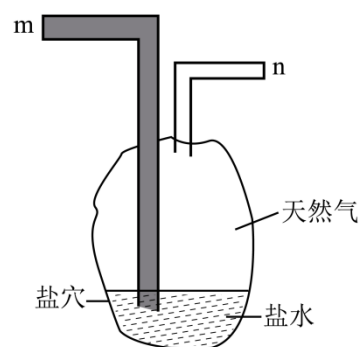
B. B

C. C

D. D

“盐穴储气”是一种地下储能技术、储气时采集盐水，注水时排天然气，原理如图所示，回答下列题。

13. 下列说法正确的是



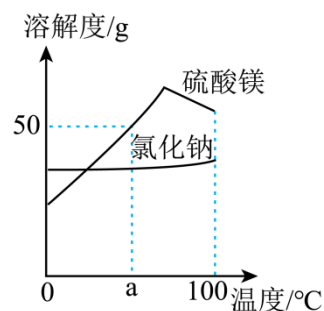
A. 天然气是可再生能源

B. 天然气难溶于盐水

C. 从 m 端进气可采集盐水

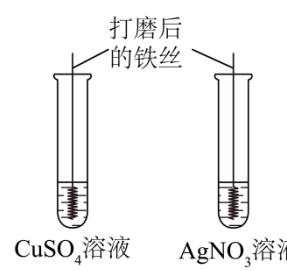
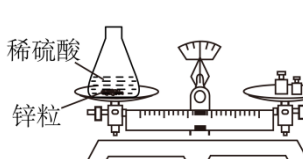
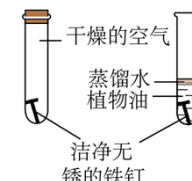
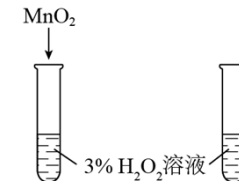
D. 从 n 端进水可排天然气

14. 采集的盐水主要含 NaCl 和少量 $MgSO_4$ 。根据下图判断，下列说法正确的是

A. 溶解度： $MgSO_4 > NaCl$ B. $MgSO_4$ 的溶解度随温度升高而增大C. a℃时， $MgSO_4$ 溶液的溶质质量分数为 50%

D. 将盐水蒸发结晶, 可得到较纯的 NaCl

15. 下列实验设计能达到实验目的的是

实验目的	探究 Fe、Cu、Ag 的金属活动性强弱	验证质量守恒定律	探究铁锈蚀的条件	验证 MnO_2 的催化作用
实验设计	 <p>打磨后的铁丝</p> <p>$CuSO_4$ 溶液 $AgNO_3$ 溶液</p>	 <p>稀硫酸</p> <p>锌粒</p>	 <p>干燥的空气</p> <p>蒸馏水</p> <p>植物油</p> <p>洁净无锈的铁钉</p>	 <p>MnO_2</p> <p>3% H_2O_2 溶液</p>
选项	A	B	C	D

A. A

B. B

C. C

D. D

二、非选择题: 本大题共 6 小题, 第 16 小题 7 分, 第 17 小题 8 分, 第 18~21 小题各 10 分, 共 55 分。

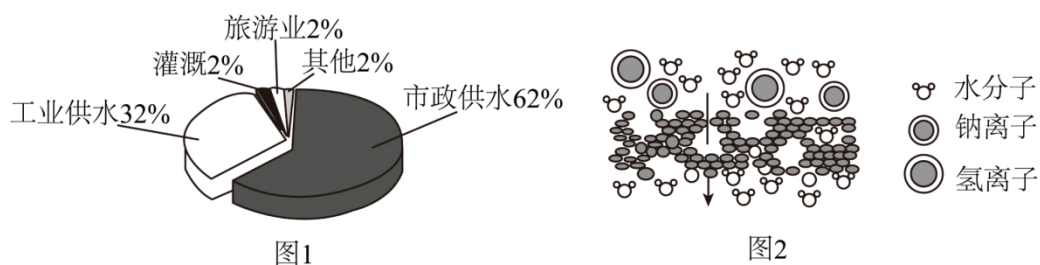
16. 我国是茶文化的发源地。唐代陆羽《茶经》中记载: “风炉以铜铁铸之……底一窗以为通飏漏烬之所……风能兴火, 火能熟水。” “漉水囊……其格以生铜铸之。”



- (1) “铜铁”属于_____ (填“金属”或“合成”)材料。
- (2) “飏”(即风)提供燃烧所需的_____。“烬”中含钾盐。农业上可用作_____。
- (3) “火能熟水”说明燃烧_____ (填“吸收”或“放出”)热量。
- (4) “漉水囊”可将茶叶与茶水分离, 类似于基本实验操作中的_____。
- (5) 茶香四溢, 从分子角度解释其原因是_____。

[科普阅读]

17. 地球是一个美丽的“水球”，表面约 71% 被水覆盖，淡水仅占总水量的 2.5%；其余是海水或咸水。海水淡化是解决人类淡水资源短缺的有效措施。全球海水淡化水用途如图 1 所示。海水淡化技术主要有热分离法和膜分离法，热分离法利用热发和冷凝分离水与非挥发性物质，能耗大，成本高；膜分离法利用薄膜的选择透过性实现海水淡化，但现有薄膜的水通量低，应用受到限制，有科学家提出，给石墨烯“打上”许多特定大小的孔，制成单层纳米孔二维薄膜。可进行海水淡化。石墨烯海水淡化膜工作原理如图 2 所示。



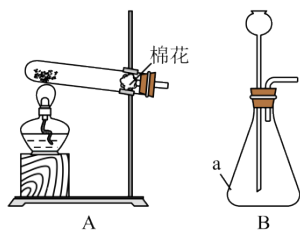
依据上文，回答下列问题。

- 全球海水淡化水用途排在首位的是_____。
- 热分离法中，水发生了_____ (填“物理变化”或“化学变化”)。限制热分离法大规模应用的原因是_____。
- 石墨烯海水淡化膜允许_____通过。
- 石墨烯、金刚石和 C_{60} 属于碳单质，下列说法正确的是_____ (填字母)。
 a. 都由碳元素组成 b. 都由碳原子构成 c. 物理性质相似
- 提出爱护水资源的一条建议_____。

[基础实验与学科实践]


18. 回答下列问题。

- 实验室制取 O_2 及性质检验

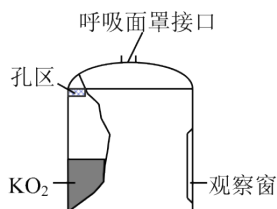


- 上图中仪器 a 的名称是_____。
- 用高锰酸钾制取 O_2 ，应选择上图中的发生装置_____ (填字母)。化学方程式为_____。

iii.收集一瓶 O_2 并进行性质检验。

操作	现象	结论
	硫燃烧时, _____(填字母), 生成刺激性气味的气体 a.产生大量白烟 b.生成黑色固体 c.发出蓝紫色火焰	O_2 具有氧化性
集气瓶中 NaOH 溶液的作用是_____		

(2) 制作氧自救呼吸器



查阅资料, 超氧化钾(KO_2)为黄色固体, 分别与 CO_2 、 H_2O 反应生成 O_2 和白色固体、产氧效率高, 适合作生氧剂。

①原理分析: $4KO_2+2CO_2=2K_2CO_3+3O_2$ 、 $4KO_2+2H_2O=4X+3O_2 \uparrow$ 则 X 的化学式为_____。

②动手实践:设计并制作氧自救呼吸器, 如图所示, 使用一段时间后, 观察到生氧剂由_____ (填颜色变化), 则基本失效。

[科学探究]

19. 耕地盐碱化影响粮食安全, 盐碱地综合治理与利用可促进农业高质量发展, 兴趣小组开展了与土壤盐碱化相关的探究活动。



(1) 成因: 由农业灌溉或化肥施用引起的土壤盐碱化如图所示, 当进入土壤中盐的量超出植物的吸收能力时, 随水分蒸发, _____导致土壤盐碱化。

(2) 检测: 配制土壤样品浸出液、用_____测定、若 $\text{pH} > 7$ 、则浸出液显_____性。

(3) 探究: 某地土壤碱化可能由 Na_2CO_3 、 Na_2SO_4 中的一种两种引起。教师提供模拟盐碱化壤样品浸出液。

[查阅资料] BaCl_2 易溶于水; BaCO_3 为白色固体, 难溶于水; BaSO_4 为白色固体, 难溶于水和盐酸。

[提出问题] 样品中的是什么?

[作出猜想] 猜想 1: Na_2CO_3

猜想 2: _____

猜想 3: Na_2CO_3 和 Na_2SO_4

[实验探究]

(4) 取少量出分别加管 A、B 中

实验序号	操作	现象	结论
1	向 A 中滴加少量 BaCl_2 溶液	产生白色沉淀	含 Na_2SO_4
2	向 B 中滴加过量稀盐酸	_____	含 Na_2CO_3

[分析评价]

(5) 有同学认为实验 1 不够严谨, 理由是_____ (用化学方程式解释)

[补充实验]

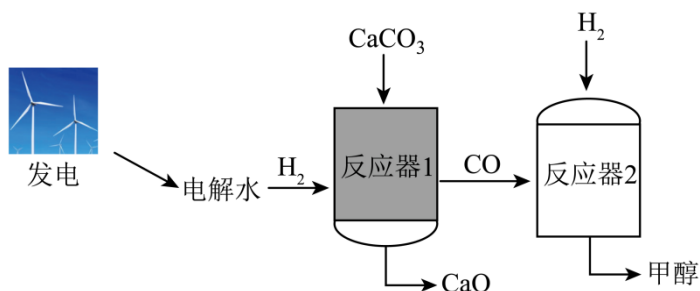
(6)

实验序号	操作	现象	结论
3	向实验 2 反应后的溶液中滴加少量 BaCl_2 溶液	_____	猜想 3 成立

(7) 交流: 应对土壤盐碱化的合理措施有_____ (多选, 填字母)

a. 合理施肥 b. 引海水灌溉 c. 用熟石灰改良 d. 种植耐盐碱作物

20. 电解水制氢联合碳酸钙分解制备氧化钙, 能减少碳排放, 助力碳中和。该新方法的示意图如图所示。



(1) 传统方法: CaCO_3 在 900°C 以上完全分解生成 CaO 和 _____ (填化学式)。

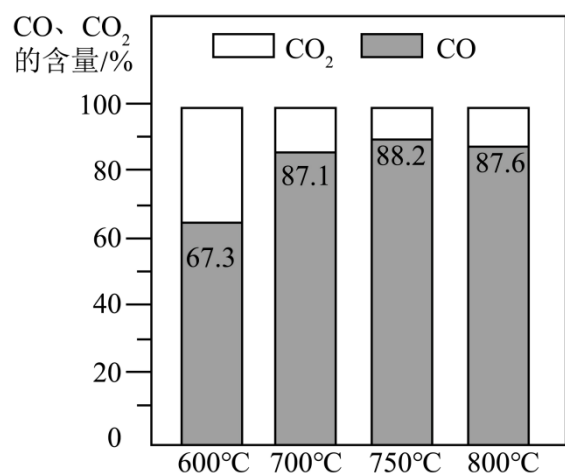
(2) 新方法:

i. 电解水属于 _____ 反应(填基本反应类型), 反应前后氢元素的化合价 _____ (填“升高”“降低”或“不变”)。

ii. 反应器 1: 一定的 H_2 环境及较低温度下 CaCO_3 可与 H_2 反应生成 CaO 、 CO 和 H_2O 。 CO 与 H_2O 的分子个数比为 _____。

CaCO_3 还可以直接分解。反应器 1 中 CO 、 CO_2 的含量随反应温度的变化如下图所示。

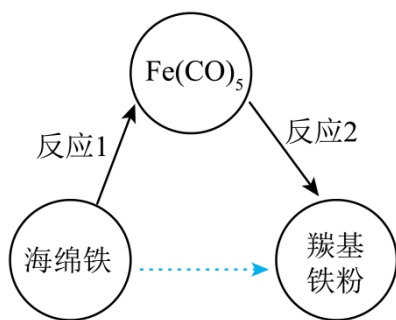
_____ $^\circ\text{C}$ 时, 抑制 CO_2 生成的效果最好。



iii. 反应器 2: 一定条件下, CO 与 H_2 发生化合反应生成甲醇(CH_3OH), 化学方程式为 _____。

(3) 与传统方法相比, 新方法的优点有 _____ (写两条)。

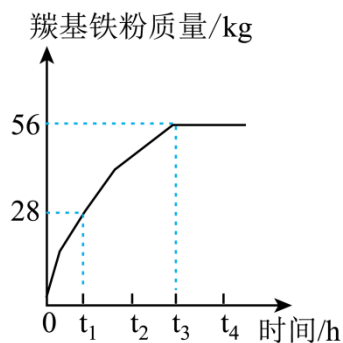
21. 羰基铁粉在国防军工领域有重要应用, 我国是少数几个掌握其生产技术的国家之一。制备羰基铁粉的过程如图所示。



(1) $\text{Fe}(\text{CO})_5$ 中碳、氧元素的质量比为_____。

(2) 反应 1 的化学方程式为 $\text{Fe} + 5\text{CO} \xrightarrow{\text{高压}} \text{Fe}(\text{CO})_5$ 。用 100kg 含铁 96% 的海绵铁，理论上可制备 $\text{Fe}(\text{CO})_5$ 的质量是多少?(写出计算过程)

(3) 反应 2 的化学方程式为 $\text{Fe}(\text{CO})_5 \xrightarrow{\text{一定条件}} \text{Fe} + 5\text{CO} \uparrow$ 。196kg $\text{Fe}(\text{CO})_5$ 分解生成羰基铁粉的质量随时间的变化如下图所示。在 t_1 时, 剩余 _____ kg $\text{Fe}(\text{CO})_5$ 未分解, 在 _____ 时 $\text{Fe}(\text{CO})_5$ 恰好完全分解。



(4) 制备羰基铁粉过程中循环利用的物质是_____。

2023 年广东省初中学业水平考试化学

可能用到的相对原子质量:H-1 C-12 O-16 Fe-56

一、选择题:本大题共 15 小题,每小题 3 分,共 45 分。在每小题给出的四个选项中,只有一项是符合题目要求的。

1. “夫礼之初,始诸饮食。”下列食物中富含蛋白质的是

- A. 鸡蛋
B. 苹果
C. 青菜
D. 白粥

【答案】A

【解析】

【详解】A、鸡蛋中富含蛋白质;符合题意;

B、苹果中富含维生素;不符合题意;

C、青菜中富含维生素;不符合题意;

D、白粥中富含淀粉,淀粉属于糖类;不符合题意;

故选:A。

2. “粤绣”是国家级非物质文化遗产,以蚕丝线为绣线。下列与蚕丝同属天然材料的是

- A. 塑料
B. 棉花
C. 玻璃
D. 涤纶

【答案】B

【解析】

【详解】A、塑料属于有机合成材料,不符合题意;

B、棉花属于天然材料,符合题意;

C、玻璃属于无机非金属材料,不符合题意;

D、涤纶属于合成纤维,属于合成材料,不符合题意。

故选 B。

3. “有山千丈色如丹”。广东丹霞山是世界自然遗产,其岩石中含较多氧化铁。下列说法正确的是

- A. 氧化铁呈黑色
B. 氧化铁中铁元素为+2 价
C. 铁元素是人体必需的微量元素
D. 人体内缺铁会引起骨质疏松

【答案】C

【解析】

【详解】A、氧化铁呈红棕色；不符合题意；

B、根据化学式： Fe_2O_3 ，在化合物中氧元素一般显-2价，设铁元素的化合价是 x ，根据在化合物中正负化合价代数和为零，可得： $2x + (-2) \times 3 = 0$ ，则 $x = +3$ 价；不符合题意；

C、人体缺乏铁元素会患贫血，铁含量在0.01%以下，铁元素是人体必需的微量元素；符合题意；

D、铁是合成血红蛋白的主要元素，缺乏会患贫血；不符合题意；

故选：C。

4. 发明联合制碱法，为纯碱工业发展作出杰出贡献的是

A. 张青莲

B. 侯德榜

C. 拉瓦锡

D. 道尔顿

【答案】B

【解析】

【详解】A、张青莲对相对原子质量的测定作出了卓越贡献，不符合题意；

B、侯德榜发明了联合制碱法，为纯碱工业发展作出杰出贡献，符合题意；

C、拉瓦锡用定量的方法测出了空气的成分，不符合题意；

D、道尔顿发现了原子论，不符合题意。

故选 B。

5. 化学用语是学习化学的工具。下列表示两个氮原子的是

A. 2N

B. N_2

C. 2NH_3

D. N_2O_4

【答案】A

【解析】

【分析】在元素符号前面加上数字，表示几个该原子；

在化学式前加上数字，表示几个该分子；

化学式中右下角的数字表示一个分子含有的该原子的个数。

【详解】A、元素符号前的数字表示原子个数，则2N表示2个氮原子，选项正确；

B、化学式中右下角的数字表示一个分子含有的该原子的个数，则 N_2 表示一个氮分子中含有两个氮原子，选项错误；

C、化学式前的数字表示分子个数，则 2N_2 表示 2 个氮分子，选项错误；

D、化学式中右下角的数字表示一个分子含有的该原子的个数，则 N_2O_4 表示一个四氧化二氮分子中含有两个氮原子，选项错误。

故选 A。

6. 下列物质均可用于杀菌消毒，其中属于氧化物的是

A. O_3

B. ClO_2

C. NaClO

D. $\text{C}_2\text{H}_5\text{OH}$

【答案】B

【解析】

【分析】氧化物是只含有两种元素且其中一种元素是氧元素的化合物。

【详解】A、 O_3 是由一种元素组成的纯净物，属于单质；不符合题意

B、 ClO_2 是由氯、氧两种元素组成的且有一种是氧元素的化合物，属于氧化物；符合题意；

C、 NaClO 是由钠、氯、氧三种元素组成的化合物，不属于氧化物；不符合题意

D、 $\text{C}_2\text{H}_5\text{OH}$ 是由碳、氢、氧三种元素组成的化合物，不属于氧化物；不符合题意

故选：B。

项目学习小组在实验室将树叶放入溶质质量分数为 10% 的 NaOH 溶液中煮沸，叶肉变黄时取出，洗刷干净后制成叶脉书签，如图甲所示，回答下列问题。

7. 实验要有安全意识。下列行为正确的是



甲



乙

A. 在实验室吃零食

B. 在实验室追打闹

C. 穿实验服和护目镜

D. 将药品带出实验室

8. 配制 NaOH 溶液不需用到的仪器是

A. 烧杯

B. 量筒

C. 漏斗

D. 玻璃棒

9. 下列与制作叶脉书签项目有关的说法错误的是

A. NaOH 溶液可以腐蚀叶肉

- B. 制作过程涉及化学变化
 C. 制作完成后废液需回收处理
 D. NaOH 固体存放处应张贴如图乙所示标志

【答案】7. C 8. C 9. D

【解析】

【7 题详解】

- A、实验室中很多药品有毒，不能在实验室吃零食，故选项行为不正确；
 B、为防止发生人身危险，不能在实验室追逐打闹，故选项行为不正确；
 C、很多药品具有腐蚀性、有毒，实验时穿实验服和戴护目镜，故选项行为正确；
 D、很多药品具有腐蚀性、有毒，不能将药品带出实验室，故选项行为不正确。

故选 C；

【8 题详解】

配制溶质质量分数为 10% 的 NaOH 溶液，首先计算配制溶液所需 NaOH 和水的质量，再称量所需的 NaOH 和量取水，最后进行溶解；在这些操作中需要的仪器：托盘天平、药匙、量筒、胶头滴管、烧杯和玻璃棒，不需用到漏斗，故选 C；

【9 题详解】

- A、氢氧化钠具有腐蚀性，能腐蚀叶肉，故选项说法正确；
 B、氢氧化钠具有腐蚀性，能腐蚀叶肉，制作过程有新物质生成，属于化学变化，故选项说法正确；
 C、氢氧化钠具有腐蚀性，直接排放会污染水体，制作完成后废液需回收处理，故选项说法正确；
 D、NaOH 固体存放处应张贴腐蚀品标志，不能贴图乙所示标志，故选项说法不正确；

故选 D。

10. 铪可用作航天材料，在元素周期表中的信息如图所示。下列有关铪元素的说法正确的是

72	Hf
铪	
178.5	

- A. 核电荷数为 72
 B. 属于非金属元素
 C. 相对原子质量为 178.5g

以上内容仅为本文档的试下载部分，为可阅读页数的一半内容。如要下载或阅读全文，请访问：<https://d.book118.com/678024125133006035>