

2016 年 5 月 21 日内蒙古事业单位考试《职业能力倾向测验》真题 (A 类)

一、常识判断，根据题目要求，在四个选项中选出一个最恰当的答案。

1、关于我国公民的基本权利和义务，下列说法错误的是（ ）。

- A、劳动是我国公民的基本权利和义务
- B、公民住宅不受侵犯属于人身自由权
- C、公民不履行宪法规定的义务会构成违宪
- D、我国公民有受教育的权利和义务

2、关于我国土地制度，下列说法错误的是（ ）。

- A、农村的土地归农民集体所有
- B、用来建设经济适用房的行政划拨用地的土地使用期限不确定
- C、现阶段坚持严守 18 亿亩耕地红线
- D、农村村民一户只能拥有一处宅基地

3、根据我国刑法，下列情形构成犯罪的是（ ）。

- A、甲将一岁的女儿遗弃在公园长椅上，后女孩被冻死
- B、乙收留了福利院走失的孤儿却未办收养手续，将其抚养成人
- C、过路人丙看见公寓发生火灾而不报警，火灾中有三人死亡
- D、丁因工作中发生矛盾而扬言要殴打同事，同事害怕逃跑，在逃跑过程中不慎坠楼身亡

4、县级以上地方各级人民代表大会是县级以上地方国家权力机关，其职权不包括（ ）。

A、改变或撤销本级人大常委会不适当的决定

B、选举并有权罢免本级人民法院院长

C、批准本行政区域内的预算执行情况的报告

D、决定并宣布下一级行政区域进入紧急状态

5、民事诉讼法规定了经人民法院许可，证人可以通过书面证言、视听传输

技术或者视听资料等方式作证的若干情形。下列不属于这些情形的是（ ）。

A、因健康原因不能出庭的

B、因路途遥远、交通不便不方便出庭的

C、因经济困难不能出庭的

D、因自然灾害不能出庭的

6、下列哪个主体不能担任精神病人的监护人？（ ）

A、所在单位

B、住所地的居民委员会

C、精神病医院

D、民政部门

7、下列诗句与涉及的人物对应不正确的是（ ）。

A、天子呼来不上船，自称臣是酒中仙——张旭

B、举世皆浊我独清，众人皆醉我独醒——屈原

C、醉里挑灯看剑，梦回吹角连营——辛弃疾

D、对酒当歌，人生几何？譬如朝露，去日苦多——曹操

8、下列对应不正确的是（ ）。

A、萧规曹随——执政方式

B、颜筋柳骨——按摩手法

C、颠张醉素——书法特点

D、魏紫姚黄——牡丹名品

9、关于清朝对边疆的管理，下列说法不正确的是（ ）。

A、在西藏实行政教合一制度

B、在新疆设置伊犁将军

C、台湾在建省前归浙江省管辖

D、在蒙古族聚居区实行盟旗制度

10、下列战争按时间先后顺序排列错误的是（ ）。

A、牧野之战→官渡之战→淝水之战

B、拿破仑战争→普法战争→美国南北战争

C、抗美援朝战争→中苏珍宝岛之战→中越西沙之战

D、英阿马岛战争→海湾战争→伊拉克战争

11、关于水资源，下列说法错误的是（ ）。

A、地球上淡水资源的主体是冰川

B、水圈循环能够调节气温变化

C、水圈循环的主要动力是月球引力

D、湿地能净化水源，具有“排毒”“解毒”功能

12、关于月相，下列对应错误的是（ ）。

A、上弦月——七夕

B、新月——露似真珠月似弓

C、渐亏凸月——重阳节

D、满月——但愿人长久，千里共婵娟

13、下列典故或事件，不是发生在汉武帝在位期间的是（ ）。

A、七国之乱

B、封狼居胥

C、首开丝绸之路

D、颁布“推恩令”

14、关于文学或电影史上的著名三部曲，下列作者和作品对应错误的是（ ）。

A、巴金：《幻灭》《动摇》《追求》

B、王小波：《黄金时代》《白银时代》《青铜时代》

C、基耶斯洛夫斯基：《蓝》《白》《红》

D、凡尔纳：《格兰特船长的儿女》《海底两万里》《神秘岛》

15、关于我国境内的原始人类，下列说法错误的是（ ）。

A、元谋人是我国已知最早人类

B、北京人已经能够使用天然火

C、河姆渡居民能够种植水稻

D、半坡居民是父系氏族部落

16、关于天文学，下列说法错误的是（ ）。

A、“七月流火”的“火”指的是火星

B、北斗七星位于大熊座

C、哈雷彗星环绕太阳一周需要 76 年

D、太阳除了自转，还绕着银河系的中心运动

17、下列哪项与特洛伊战争无关？（ ）

- A、《荷马史诗》
- B、阿喀琉斯
- C、木马屠城
- D、古巴比伦

18、下列关于铁的说法错误的是（ ）。

- A、铁的导电性能比铜弱
- B、铁器表面的锈可减缓其内部的锈蚀速度
- C、我国在战国时期已经广泛使用铁制农具
- D、铁可以从硫酸铜溶液中置换出单质铜

19、下列与四大名著有关的说法错误的是（ ）。

- A、赵云是刘备麾下的“五虎上将”之一
- B、“木石前盟”的“木”指的是绛珠仙草
- C、“智取生辰纲”的首领是“玉麒麟”卢俊义
- D、孙悟空在取得真经后被封为“斗战胜佛”

20、下列成语或俗语与最初适用的领域对应错误的是（ ）。

- A、三下五除二——珠算
- B、丢车保帅——象棋
- C、丝丝入扣——纺织
- D、严丝合缝——刺绣

二、言语理解与表达，本部分包括表达与理解两方面的内容。请根据题目要求，在四个选项中选出一个最恰当的答案。

21、我国目前 600 多座城市中，有 2/3 的城市缺水。有的城市由于过度使用地下水，已出现城区部分地段塌陷的严重后果。这些城市的可持续发展形势已十分严峻，提高城市水利用率已_____。

填入画横线部分最恰当的一项是（ ）。

A、迫在眉睫

B、时不我待

C、十万火急

D、千钧一发

22、目前，我国不少大城市已处于超载状态，“城市病”严重，而人口还在不断_____，许多中小城市和小城镇发展缓慢，甚至出现_____，对农民工失去吸引力。面对这一现状和城镇化所带来的巨大压力，城市群的发展被寄予厚望。

依次填入画横线部分最恰当的一项是（ ）。

A、增加 空置

B、迁移 停滞

C、涌入 萎缩

D、流动 退化

23、尽管电子化阅读具有携带方便、容量较大、可选择范围广等优势，但是不少专家指出，利用_____时间进行的阅读，获得的是碎片化信息，令读者无须_____思考，容易形成思维“惰性”。

依次填入画横线部分最恰当的一项是（ ）。

A、短暂 冷静

B、闲暇 独立

C、业余 深入

D、零散 严谨

24、当一个湮没个性、缺少选择的社会开始转向一个价值多元、选择多样的社会时，如果不能根据客观情况对法律法规进行适时的修正，只会将其推入_____之境。语言文字领域亦复如此。所以，此次异体字、生僻字的“转正”值得_____。

依次填入画横线部分最恰当的一项是（ ）。

A、被动 斟酌

B、两难 珍视

C、矛盾 反思

D、尴尬 喝彩

25、就形式而言，引注被历史地赋予两种功能，即索引工具和道德标尺。引注以其标记技术直接显示所引内容的存在处所，方便人们_____，同时也有利于人们全面地把握所引内容的准确意义。另外，引注直观地表明作者对事实和前人劳动的_____，展示自己的道德人格。

依次填入画横线部分最恰当的一项是（ ）。

A、搜索 认同

B、核实 尊重

C、理解 敬畏

D、查阅 关注

26、前驱者们深厚的学养和科学的态度，对_____当下学界弥漫着的浮泛学风，有着深刻的现实意义。他们严谨扎实的作风和科学求实的态度，永远也不会

过时，仍然是当代比较文学研究者应当继承和学习的。但这绝不意味着，我们要重复前人的劳动，_____地重走前人已经走过的道路。

依次填入画横线部分最恰当的一项是（ ）。

A、改正 按部就班

B、矫正 如法炮制

C、纠正 心安理得

D、匡正 亦步亦趋

27、中国人口占世界首位，但是大数据只是日本的60%、北美的7%，而且存下来的数据很多未得到保护。部门间的数据很难共享，导致数据不_____，重复投资。另外，我们缺乏可控的大数据分析，要在保护隐私的前提下，保证大数据能够共享，而不是对其进行_____。

依次填入画横线部分最恰当的一项是（ ）。

A、真实 改造

B、全面 封锁

C、完备 曝光

D、准确 掩盖

28、在我国逻辑哲学的研究刚刚起步时，人们致力于引进、学习西方逻辑哲学理论。因此，部分学者产生一种_____，似乎西方逻辑哲学的理论就是逻辑哲学的唯一真理。他们对待西方逻辑哲学理论，不是采取批判的态度，去其糟粕，取其精华，并以之作为构建我国逻辑哲学的素材，而是全盘照搬，_____。

依次填入画横线部分最恰当的一项是（ ）。

A、错觉 奉为圭臬

B、误解 肃然起敬

C、倾向 人云亦云

D、认识 顶礼膜拜

29、皮影戏是我国民间工艺美术与戏曲巧妙结合的独特艺术品种，某种程度上可以说是我国动画最早的表现形态。有人说，对于现在的孩子，皮影戏这门古老的艺术已经太____。其实，皮影戏并没有因为历史的久远而____，相反，皮影戏的幽默诙谐、简约古朴完全可以转换为颇具时尚气息的中国式卡通形象。

依次填入画横线部分最恰当的一项是（ ）。

A、遥远 老气横秋

B、落伍 每况愈下

C、幼稚 不合时宜

D、晦涩 一成不变

30、时尚快捷的3D打印技术余热未尽，更加让人____的4D打印又即将出现，除了拥有3D打印的“长宽高”立体三维结构，4D打印还新增加了一个维度，叫做“时间”。这意味着，4D打印出来的东西，不再只能以的形态存在，而是可以根据设定的时间，在一定条件的触发下，自动发生形状的改变。不过，4D打印技术非常复杂，目前仍处在____期，主要的应用场景还是在实验室里。

依次填入画横线部分最恰当的一项是（ ）。

A、期待 稳定 探索

B、惊叹 固定 概念

C、折服 相同 开发

D、意外 单一 构想

31、目前社会上求职者众多，但大多不具备企业所需要的技能。很多地区和行业的人才缺口仍非常大，对既有专业技能又有较强综合素质的人才需求量很大。这从一个侧面反映了目前人才培养模式单一，千人一面的现实。要破解这一[困局]，最佳的途径是，大学应适应时代的发展和要求，走个性化发展之路。

这段文字中的加括号词“困局”指的是（ ）。

- A、专业技能培养和综合能力培养无法兼顾的现实
- B、大学专业设置的趋同化倾向
- C、人才短缺与人力过剩并存的悖论
- D、部分大学攀高、求大、求全的发展倾向

32、大约在 5000 年以前，美索不达米亚平原上的人们已经命名了 20 多个星座。之后，古巴比伦人继续划分天空的区域，不断提出新的星座。公元前 1000 年左右，古巴比伦人提出了 30 个星座。后来，他们的星座划分方法传到古希腊人那里，又得到了进一步的发展和补充。公元 2 世纪的时候，古希腊天文学家托勒密总结当时的天文学成就，提出了 48 个星座，并编制了古希腊星座表。根据星座内的主要亮星位置，托勒密用假想的线条将它们连接起来。然后赋予其不同的人物或者动物形象，这些形象大都取材于古希腊的神话故事，这便是现在星座名称的由来。

这段文字主要是说明星座（ ）。

- A、理念的传播路径
- B、命名的主要依据
- C、数量变化的过程
- D、划分的发展过程

33、开眼看世界，是中国在外来侵略压力下的被动反应，旨在了解西方，自立自强。但社会科学方面的知识，在政治上并非中性的。近代以来，西方在全球权力格局中的优越地位是与其经济军事实力和以全世界为研究对象而生产出来的知识体系共同支撑的。将这样的知识移植到中国来，并不等同于“开眼看世界”，因为其中描绘的世界图景是他人的眼睛观察的结果。现在，我们必须摆脱西方固有的模式，真正走出去，把全世界当作研究对象，真正用中国人的研究去看，去观察，去分析，从而生产出有中国主体性的知识。

这段文字意在强调（ ）。

- A、近代中国放眼世界是无奈之举
- B、保持立场的客观性关于国运
- C、国人看世界应保持自身的主体性
- D、社会科学与政治权力密不可分

34、当前，随着信息技术的发展和新的商业模式的出现，整个社会的交易成本不断降低，这一趋势深刻改变了社会的分工结构和生产组织形式，即使在较为封闭的汽车产业，整车企业、发动机企业也都在努力提高零部件的外部采购比例。从这个角度来看，乔布斯的伟大成就还在于创造了一个社会化分工程度很高、但交易成本极其低廉的商业模式。在这个商业模式中，几十万个中小企业作为独立的决策单位在苹果商店中销售数字产品，这些中小企业既保持了创新活力和生产效率，同时又为提高苹果产品的应用体验和竞争力作出了贡献。

下列说法与原文相符的是（ ）。

- A、中小企业已经成为现代商业模式的主体
- B、信息技术降低了中小企业参与社会分工的成本

C、现代生产技术激发了大型企业的创新能力

D、传统产业能够较快适应更为细化的社会分工

35、①而在直接融资领域，改革的真正难题则在于这个市场的定位

②但受金融管制特别是利率管制的大环境影响，新主体的生存都成问题

③实际上，主体的多元化必须和利率市场化相配套才能达到效果

④目前，改革的重心主要放在了主体多元化上

⑤对于间接融资领域金融改革的目标而言，利率市场化和主体多元化是改革

方向

⑥即以民营银行或者互联网银行的崛起来倒逼原有银行体系的改革

将以上 6 个句子重新排列，语序正确的是（ ）。

A、⑤④⑥②③①

B、⑤①③④⑥②

C、④⑥③⑤②①

D、④⑥②③⑤①

36、①但在浸满水的土壤或湖底沉积物中，氧气是稀缺的，在这种情况下
有机物发生厌氧分解，并释放甲烷

②就和我们打开冰箱门一段时间后，食物解冻并且开始变质的过程一样

③湖下的甲烷分子随着水中气泡的逸出，冲破湖面，进入大气

④氧气促进细菌和真菌耗氧分解有机物，产生二氧化碳

⑤但当冰层融化，以前被固定起来的碳在微生物的作用下迅速分解，产生气

体

⑥占地球陆地面积 20% 的冻土带在地表下几十米内储存了约 9500 亿吨碳，这种由动植物遗骸经过上万年形成的碳，冻结在冰层下的众多冰湖之中，与空气隔绝

将以上 6 个句子重新排列，语序正确的是（ ）。

A、②④①③⑥⑤

B、③④⑤②⑥①

C、④①⑥②③⑤

D、⑥⑤②④①③

37、在所有的灵长类动物中，人类的智力无疑高居榜首，但在所有的灵长类动物中，也只有人类会为阿尔茨海默症所困。上海的研究小组日前发表论文指出，这两者可能密不可分。他们分析了 90 名祖先来自非洲、亚洲或欧洲的志愿者的基因组后发现，大约在距今 20 万到 5 万年间，与人类大脑发育相关的 6 个基因发生显著改变。这会增加神经元的连接性，令现代人演变得更聪明。然而，也正是这 6 个变异的基因，令阿尔茨海默症变得更复杂难解。

这段文字主要介绍（ ）。

A、人类与其他灵长类动物的差别

B、人类大脑发育的关键阶段

C、现代人变聪明的原因

D、阿尔茨海默症与基因变异的关系

38、戏曲在宋代形成之后，许多类型都以“杂剧”命名，如宋杂剧、元杂剧等，它们虽然是纯粹的戏剧，但是表现手法依然是“杂”的。戏曲可以让观众听到悦耳的歌声、诙谐滑稽的笑话、声情并茂的说白，看到让人欣怡的舞蹈身段、

高难度的武打杂技和神似于生活动作的表演，只不过是多种表演形式高度融合在一起罢了。由此可见，_____，可以说，这是戏曲发展的重要规律。

填入画横线部分最恰当的一句是（ ）。

- A、戏曲一定要是民族的、传统的、多元的
- B、戏曲在形成和发展过程中融合了众多表演技艺的精华
- C、对待戏曲艺术，最好的态度就是允许其以多元化形态存在
- D、要使戏曲跟上历史前进的步伐，必须使之保持特性

39、与传统出版时代一样，出版社在数字出版时代依然是一个产品提供商、服务提供商的角色。但数字出版时代读者的需求日益个性化，出版社要想生存，就必须对读者的需求进行更细致的分析，出版更能满足读者需求的图书，提供更多样的产品。

这段文字意在强调（ ）。

- A、出版社在数字出版时代的角色并未发生根本性改变
- B、适应读者需求开发多样化产品是出版社的生存之道
- C、图书数字化使得出版社的生存空间更为有限
- D、读者需求日益个性化是出版社面临的新挑战

40、我们不得不承认，今天是一个影像主导传播的时代。人们获取信息的渠道主要是四块屏幕——电脑、电视、电影和手机，它们主导了我们这个时代的感观系统，甚至决定着我们对这个世界的认知。如果我们不能利用视觉媒介有效地传播文化，还只停留在文字的地界内，也许就会被这个由视觉符号覆盖的时代所淘汰。

这段文字意在说明（ ）。

- A、新媒体时代是由视觉符号覆盖的时代
- B、影像内容比文字更容易为人们所接受
- C、当代应更多地利用影像媒介传播文化
- D、当今人们获取信息的渠道更加多元化

三、数量关系，在这部分试题中，每道题呈现一段表述数字关系的文字，要求你迅速、准确地计算出答案。

41、一个长方形菜地长 X 米，宽 Y 米，面积 Z 平方米， $Z = X + Y + 3$ ，问 $X + Y$ 的值可能是（ ）。

- A、1
- B、3
- C、5
- D、7

42、甲、乙二人分别同时从 A、B 两地出发相向匀速而行，两人相遇之后，甲又经过了 2 个小时到达 B 地；乙又经过 4 个半小时到达 A 地。若他们到达后都立即调头，当他们再次相遇时，距他们第一次相遇经过了多少个小时？（ ）

- A、5
- B、5.5
- C、6
- D、6.5

43、汽车以每小时 54 千米的速度笔直地开向峭壁，驾驶员按一声喇叭，6 秒后听到回声，已知声音的速度是每秒 340 米，问听到回声时，汽车离峭壁的距离是多少米？（ ）

A、975

B、1020

C、1065

D、1155

44、车库中有 10 个相连的空车位，有 3 辆车开进车库并随机停在这 10 个车位上。问剩下的空位中正好只有 5 个相连空位的概率为（ ）。

A、小于 10%

B、10%

C、20%

D、大于 20%

45、甲和乙两名水平相当的选手打羽毛球，每一局每人的胜率都是 50%，如果两人连打五场，甲至少连胜三场的概率为（ ）。

A、 $1/4$

B、 $1/8$

C、 $1/16$

D、 $3/16$

46、某公司销售的一种设备有一代和二代两种型号，二代设备比一代设备每台贵 5000 元。已知本月一代设备和二代设备的销售额分别为 30 万元和 15 万元，问一代设备最少比二代设备多卖了多少台？（ ）

A、3

B、7

C、9

D、20

47、小张买了一批文学读物和工具书准备打包捐赠给贫困学生。他发现如果每个包里装5本文学读物和3本工具书，则最后剩下8本文学读物；如果每个包里装6本文学读物和2本工具书，则最后剩下8本工具书。问小张买的文学读物和工具书共有多少本？（ ）

A、72

B、80

C、88

D、96

48、将一张足够大的正方形纸，横竖各对折2次之后，用剪刀沿直线剪一刀，问最多可能把这张纸剪成多少个部分？（ ）

A、9

B、10

C、15

D、16

49、小李有10元、20元面额的纸币各若干张，面值共180元。如果将20元的纸币都换成等值的50元时纸币的张数减少的数量，比10元的纸币都换成等值的20元时纸币的张数减少的数量少1，问小李有多少张10元的纸币？（ ）

A、6

B、8

C、10

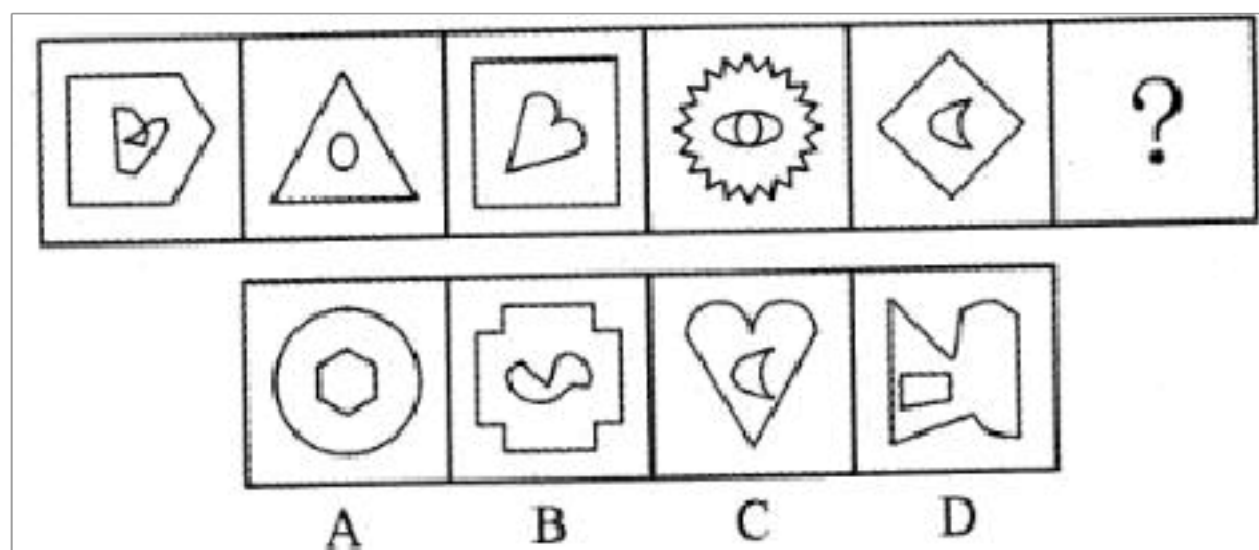
D、12

50、某村一片绿地呈直角三角形，两条直角边分别为20米和10米，村委会决定在绿地的外围植树，每个顶点处均植树1棵，且同一条边上的树彼此间距不少于3米，问最多能植树多少棵？（ ）

- A、13
- B、14
- C、15
- D、16

四、判断推理，共35题，参考时限35分钟

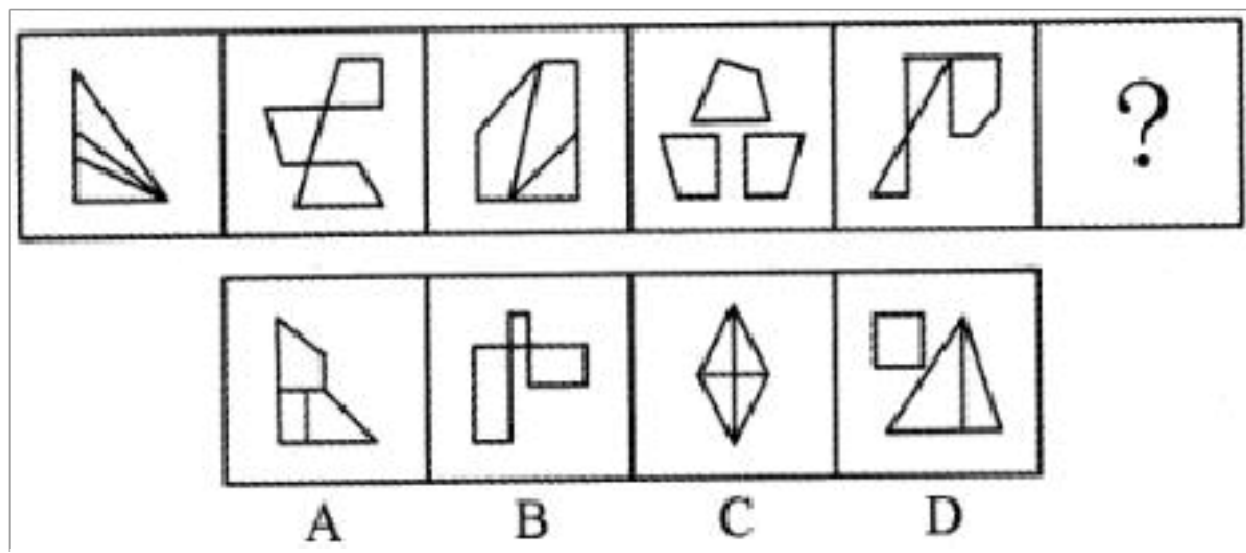
51、从所给的四个选项中选择最合适的一个填入问号处，使之呈现一定的规律。（ ） [图1]



- A、A
- B、B
- C、C
- D、D

52、从所给的四个选项中选择最合适的一个填入问号处，使之呈现一定的规律。（ ）

[图1]



A、A


B、B

C、C

D、D

53、从所给的四个选项中选择最合适的一个填入问号处，使之呈现一定的规律。（ ）

[图 1]



A、A

B、B

以上内容仅为本文档的试下载部分，为可阅读页数的一半内容。如要下载或阅读全文，请访问：<https://d.book118.com/678070057056007001>