

# 第一部分 系统复习 成绩基石

---

板块二 地球的表层

主题三 陆地和海洋



 **河南中招五年真题**

 **理考点·练基础**

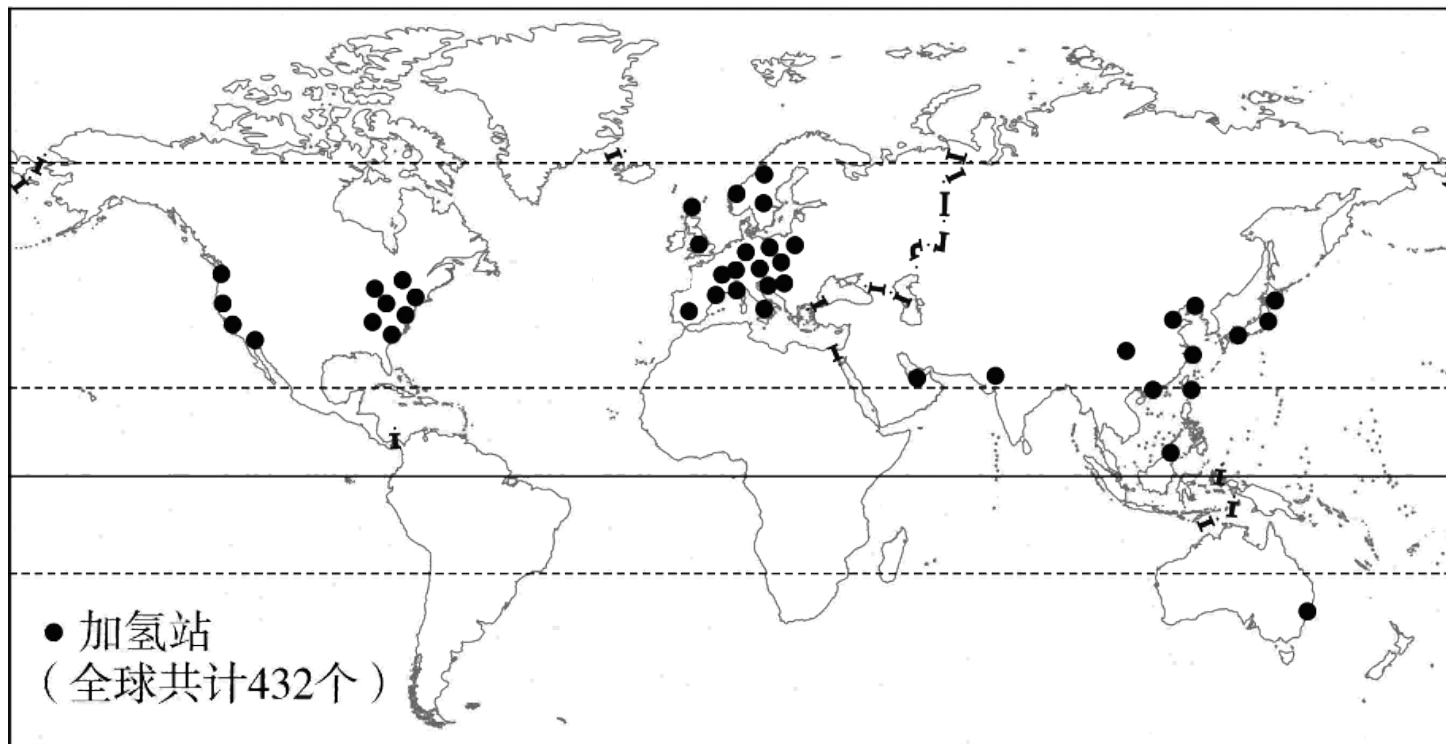
 **抓重点·破难点**



河南中招五年真题

命题点

**(2020河南)** 氢能是一种清洁、高效、安全的新能源，在汽车、轮船上的应用潜力巨大。加氢站是氢能的补给站。读2019年世界加氢站分布示意图，完成1~2题。



1.加氢站分布最密集的大洲是( **D** )

A.北美洲

B.亚洲

C.大洋洲

D.欧洲

2.北美洲加氢站主要分布在( **B** )

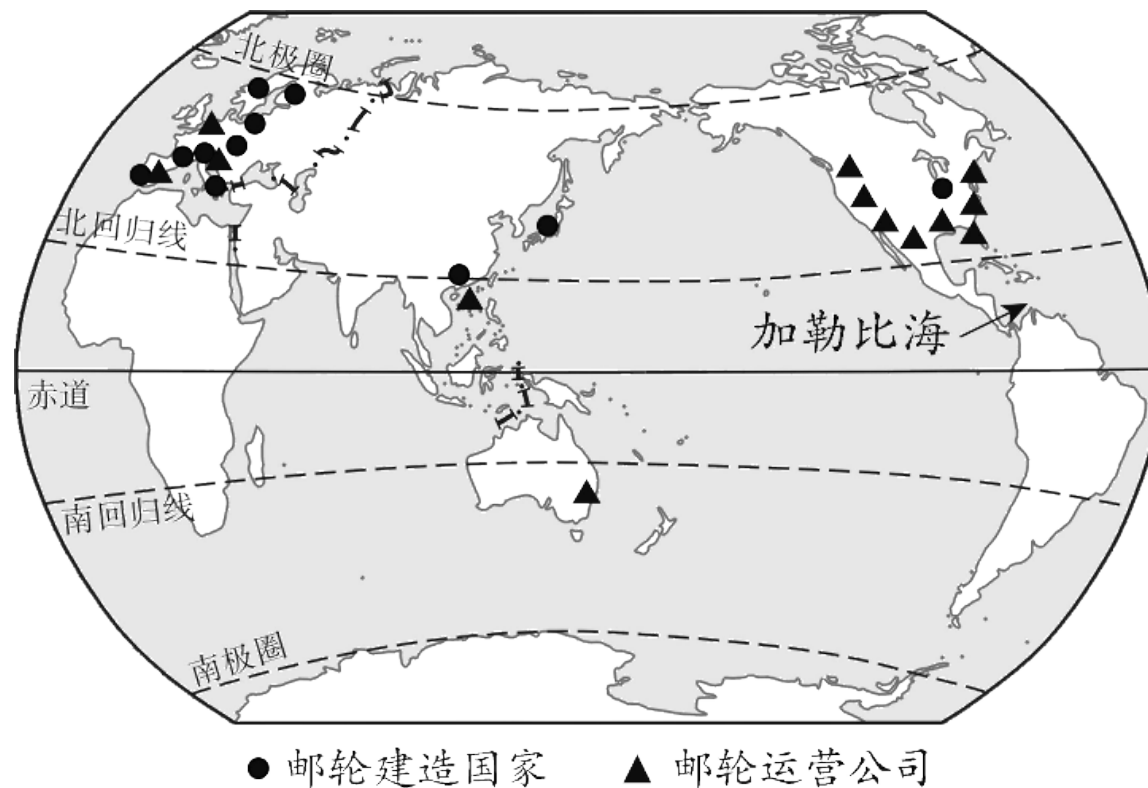
A.高纬度地区

B.人口稠密区

C.北冰洋沿岸

D.中部地区

(2021河南) 邮轮是国家工业和科技水平综合实力的体现，被誉为“造船皇冠上的明珠”。读世界主要邮轮建造国家和邮轮运营公司分布示意图，完成3~4题。



3. 世界主要邮轮运营公司集中分布在( **B** )

A. 亚洲

B. 北美洲

C. 欧洲

D. 大洋洲

4.2013—2017年加勒比海地区邮轮客运量约占全球的40%，主要原因是( C )

①地处温带，景色优美；②邻近发达地区客源地；③热带海岛，风光秀丽；④邻近亚洲地区客源地

A.①②

B.①④

C.②③

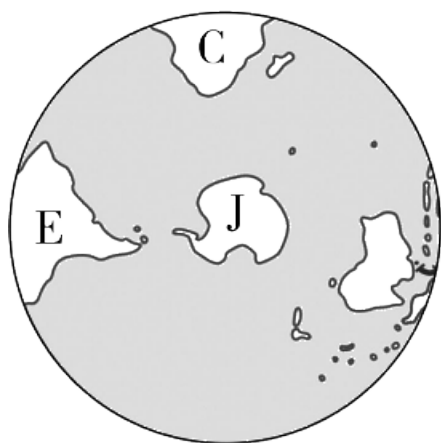
D.③④

理考点·练基础

考点一 海陆分布（5年2考） [ 2021.3、21（1）；2020.3 ]

RJ七上P30—36，XJ七上P28—37，SW七上P42—48

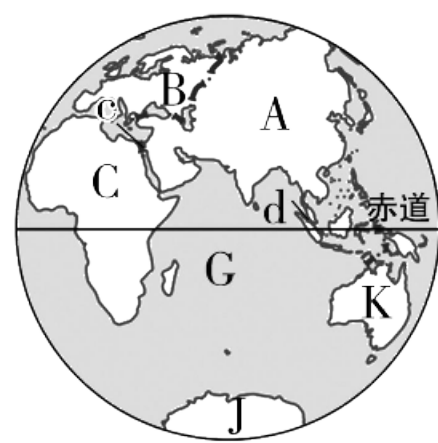
图示要点



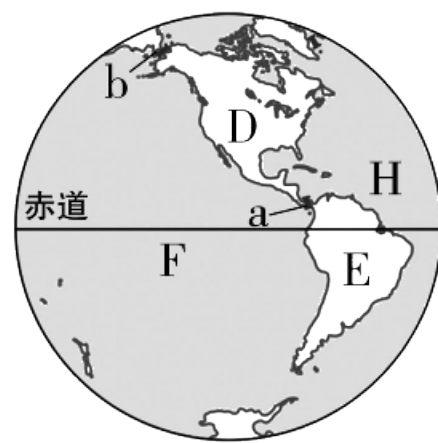
甲



乙



丙



丁

1.填写字母代表的大洲或大洋的名称：

A 亚洲 , B 欧洲 , C 非洲 , D 北美洲 ,  
E 南美洲 , F 太平洋 , G 印度洋 , H 大西洋 ,  
I 北冰洋 , J 南极洲 , K 大洋洲 。

2.图中D、E两大洲的分界线a为 巴拿马 运河，A、D两大洲的分界线b为 白令 海峡，A、C两大洲的分界线c为 苏伊士 运河，沟通F、G两大洋的咽喉要道d为 马六甲 海峡。



## 一、世界海陆分布

1. **海陆面积比例**：地球表面71%是海洋，陆地面积仅占29%，概括地说，地球上① 七分是海洋，② 三分是陆地。
2. **海陆分布特点**：世界海陆分布很不均匀，陆地主要集中在③ 北半球，但是北极周围却是一片④ 海洋；海洋大多分布在南半球，而南极周围却是一块⑤ 陆地。地球的任何两个大小相等的半球，都是海洋面积⑥ 大于陆地面积。

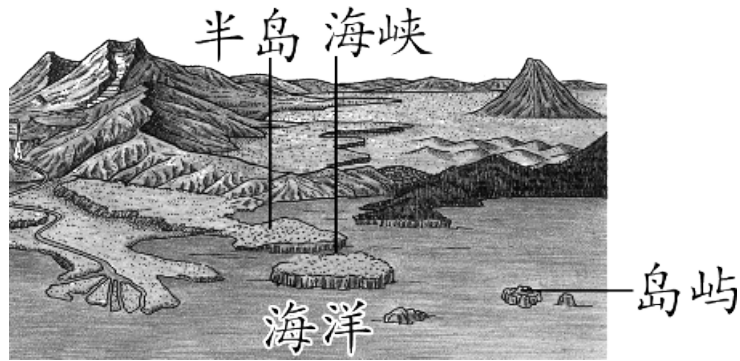
## 二、七大洲

### 1. 基本概念

(1) **大洲**：大陆和它周围的岛屿合起来称为大洲。

(2) **半岛**：陆地伸进海洋的凸出部分叫半岛，世界上面积最大的半岛是阿拉伯半

岛。

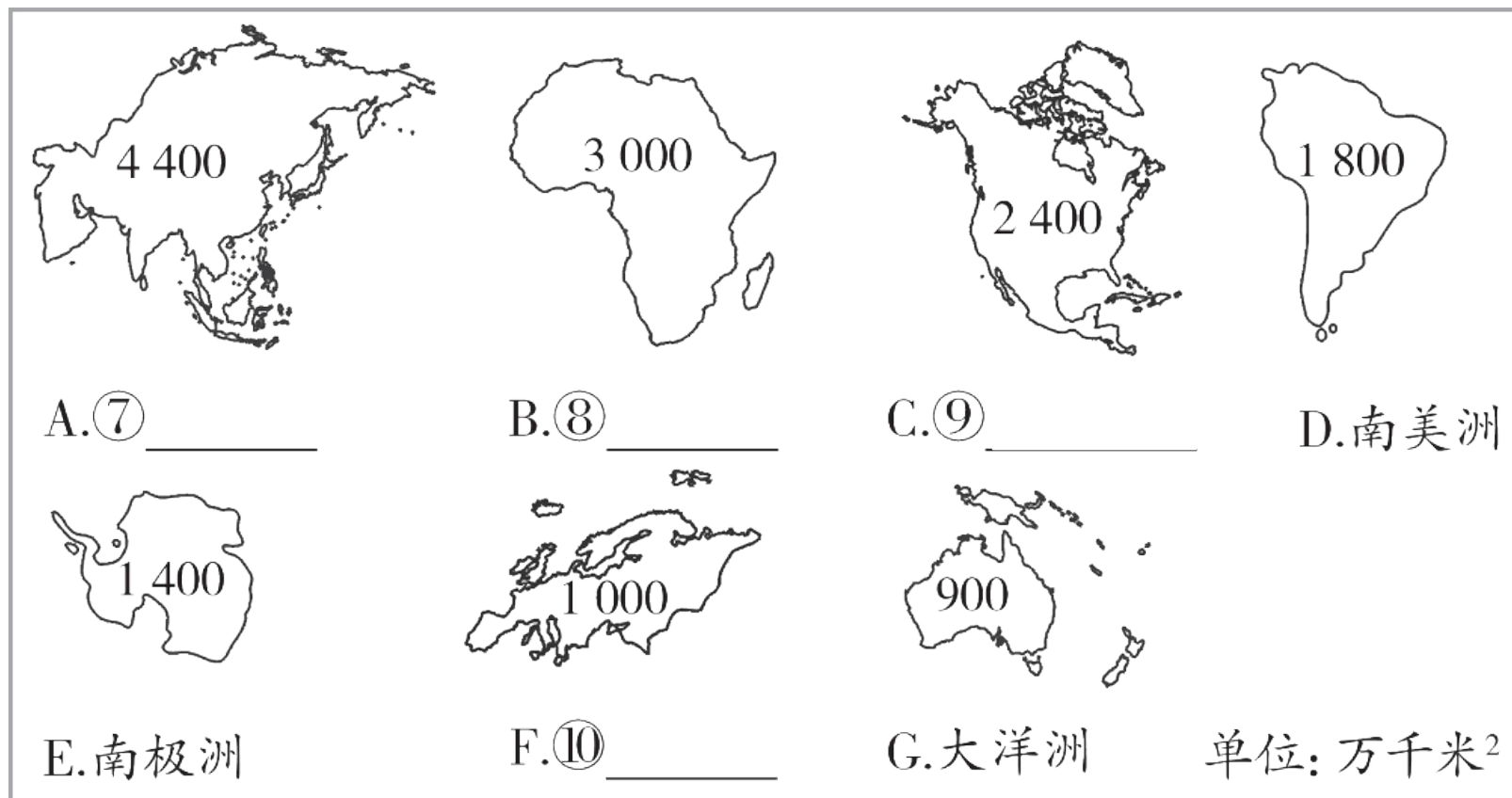


(3) **海峡**：沟通两个海洋的狭窄水道。

(4) **岛屿**：面积较小，四面环海的陆地叫岛屿，世界上面积最大的岛屿是格陵兰岛。

(5) **海洋**：陆地表面广阔而连续的水域叫海洋。海是海洋的边缘，一般较浅，靠近大陆；洋是海洋的中心，一般远离大陆。

## 2. 七大洲的面积和轮廓特征



七大洲的面积从大到小依次为：⑪ **亚洲**、非洲、北美洲、南美洲、南极洲、欧洲和⑫ **大洋洲**。简记为“亚非北南美，南极欧大洋”。

### 3. 七大洲的分布

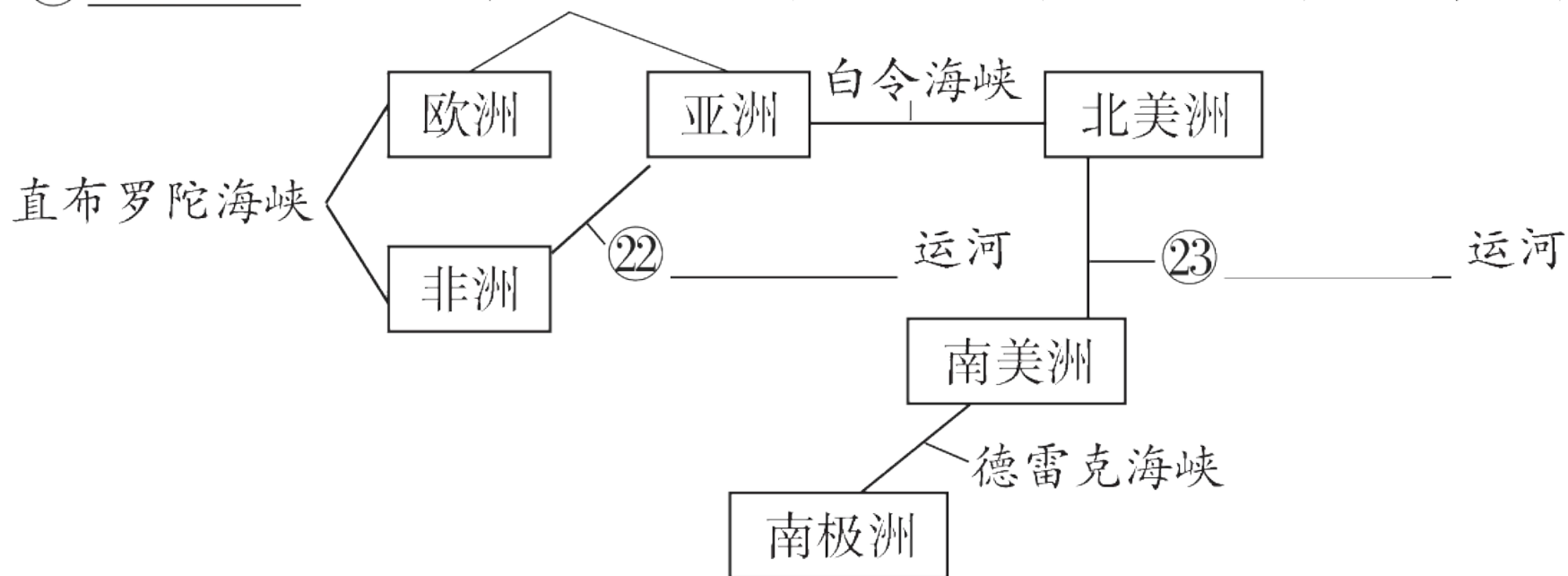
分布特征	大洲名称
被赤道穿过	⑬ 非洲、亚洲、大洋洲、南美洲
被北回归线穿过	⑭ 非洲、亚洲、大洋洲、⑮ 北美洲
全部在北半球	⑯ 欧洲、北美洲
全部在南半球	南极洲
纬度最高、跨经度最广	⑰ 南极洲
跨东西南北四个半球	大洋洲、亚洲
跨纬度最广	亚洲

## 4.大洲的特征

<b>亚洲</b>	跨⑱ <b>纬度</b> 最广、东西距离最长、面积最大、人口最多的大洲
<b>非洲</b>	“热带大陆”、“高原大陆”、世界上黑色人种分布最多的大洲
<b>南极洲</b>	跨⑲ <b>经度</b> 最广、⑳ <b>纬度</b> 最高、平均海拔最高的大洲
<b>欧洲</b>	平均海拔最低、发达国家最多的大洲
<b>大洋洲</b>	面积最小的大洲

## 5.主要大洲的分界线

②1 \_\_\_\_\_ 山脉、乌拉尔河、里海、大高加索山脉、黑海、土耳其海峡

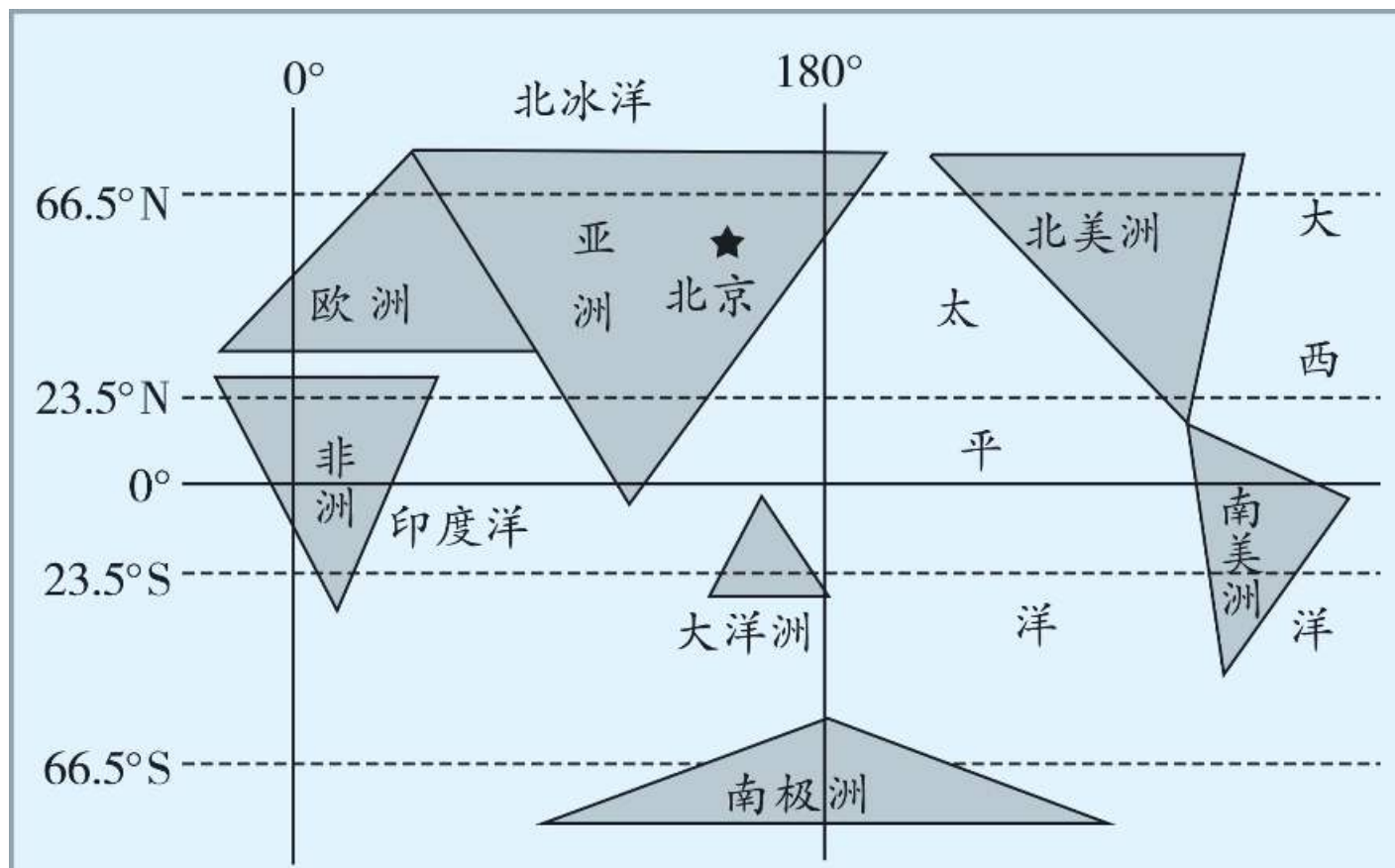


### 三、四大洋

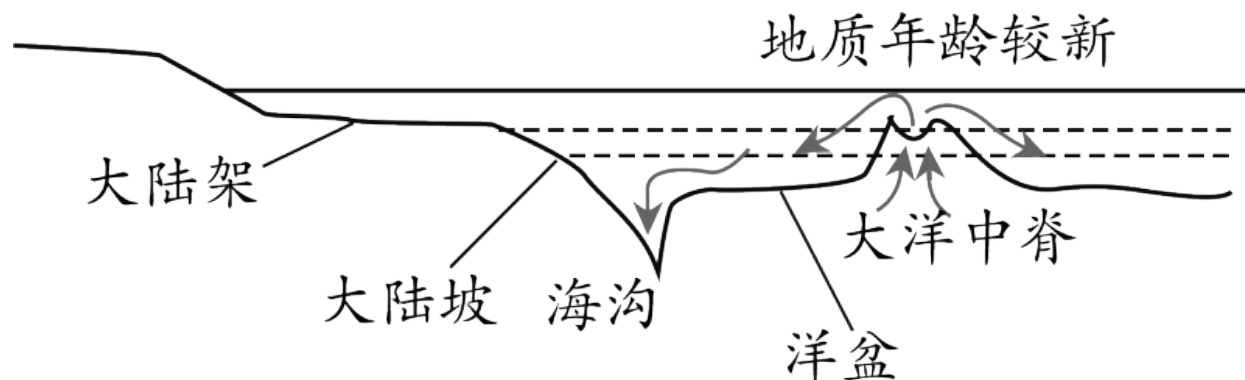
大洋名称	位置（周围的大洲）	特征
太平洋	被亚洲、大洋洲、北美洲、南美洲、南极洲五个大洲包围	面积最大、深度最深
大西洋	被北美洲、南美洲、欧洲、非洲、南极洲五个大洲包围	形状略呈“S”形
印度洋	被亚洲、非洲、大洋洲、南极洲四个大洲包围	主要位于热带，形状略呈三角形
北冰洋	被亚洲、欧洲、北美洲三个大洲包围	纬度最高，跨经度最广



## 巧记：简笔画示意七大洲和四大洋的分布



## 四、海底地形



海底地形中，火山活动比较强烈的是②④ 大洋中脊，海洋底部最深的地方是②⑤ 海沟，大陆架坡度平缓，水深一般在②⑥ 200 米以内。

读四个半球表层的海陆分布图（见左栏图），完成下题。

1

2

3

4

5

6

7

8

9

10

11

12

13

14

15

16

17

18

19

1.关于地球的海陆分布的叙述，错误的是( **B** )

A.甲半球的海洋面积比陆地面积大

B.乙半球的陆地面积比海洋面积大

C.任何两个面积相等的半球，都是海洋面积大于陆地面积

D.地球表层是“七分海洋，三分陆地”

1

2

3

4

5

6

7

8

9

10

11

12

13

14

15

16

17

18

19

2. 下列关于海陆分布特点的叙述，正确的是( A )

A. 地球的表面有连续而广阔的海洋，陆地被海洋隔开

B. 地球的表面有连续而广阔的陆地，海洋被陆地隔开

C. 地球的表面陆地相连，海洋也相连

D. 地球表面海洋与陆地的面积比是3 : 7

1

2

3

4

5

6

7

8

9

10

11

12

13

14

15

16

17

18

19

读七大洲的面积和轮廓特征图（见左栏图），完成下题。

3.我们生活的大洲( **A** )

A.与B大洲以苏伊士运河为界

B.与F大洲隔大西洋相望

C.与C大洲以巴拿马运河为界

D.完全位于北半球、东半球

1

2

3

4

5

6

7

8

9

10

11

12

13

14

15

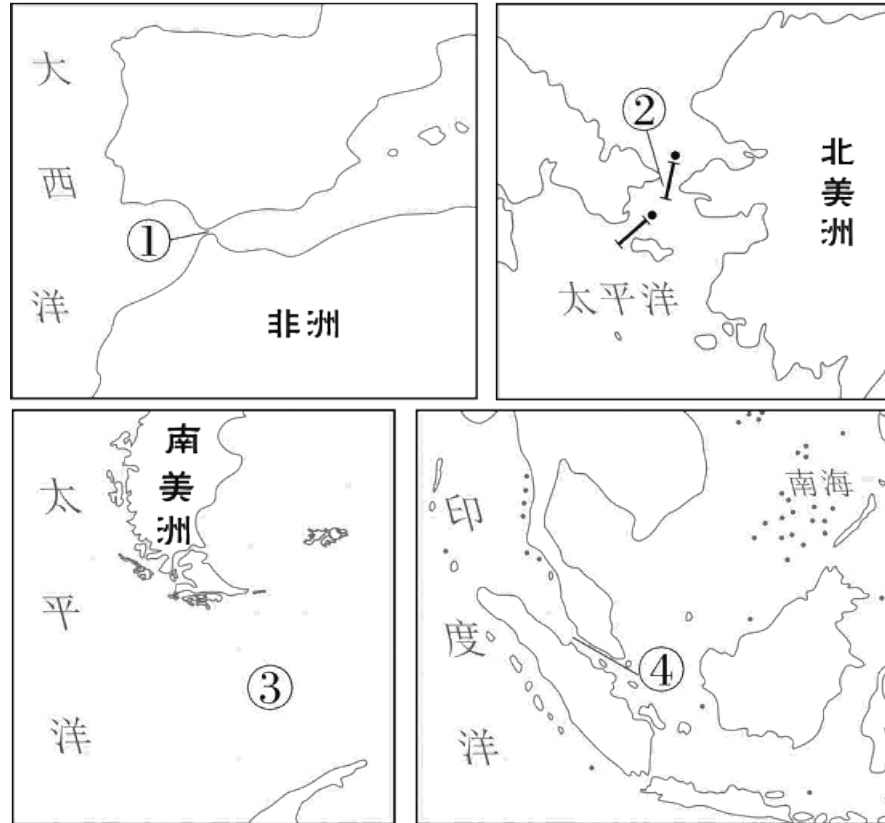
16

17

18

19

4. 下列海峡既沟通了两个大洋，又是两大洲分界线的是( D )



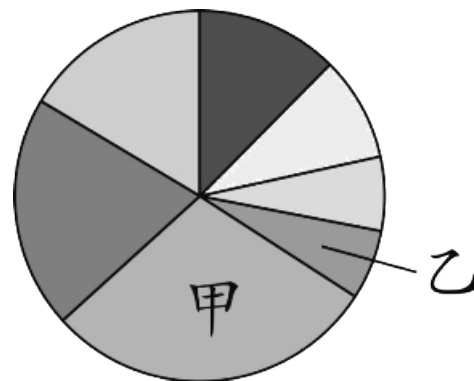
A. ①②

B. ③④

C. ①④

D. ②③

读七大洲陆地面积占世界的比重示意图，完成5~6题。



5.甲、乙大洲分别是( A )

- A.亚洲、大洋洲      B.非洲、北美洲      C.南美洲、欧洲      D.南极洲、亚洲

6.甲、乙大洲共同濒临的大洋有( C )

- A.太平洋、大西洋      B.大西洋、北冰洋      C.印度洋、太平洋      D.印度洋、北冰洋

1

2

3

4

5

6

7

8

9

10

11

12

13

14

15

16

17

18

19

以上内容仅为本文档的试下载部分，为可阅读页数的一半内容。如要下载或阅读全文，请访问：  
<https://d.book118.com/687123131114006115>