

# 目录

考点 01 食物生产与社会生活 生产工具与劳作方式.....	1
考点 02 商业贸易与日常生活 村落、城镇与居住环境.....	14
考点 03 交通与社会变迁 医疗与公共卫生.....	29

(按住 Ctrl，点击目录里的考点，可直接跳到对应考点)

## 考点 01 食物生产与社会生活 生产工具与劳作方式



# 2023年高考真题

1. (2023 年山东卷) 私有财产是生产力发展到一定程度的产物。下列与陶器相关的考古发现中，可以用来作为私有财产已出现证据的是 ( )  
A. 遗址出土有陶器和较多陶器碎片  
B. 多人合葬墓随葬品有陶钵、陶罐、骨器等  
C. 单人墓随葬品有陶器、石磬、玉钺等百余件  
D. 陶器上绘有丰富多彩的几何图案和动植物纹样
2. (2023 年新课标卷) 中国新石器时代晚期，南方的良渚文化与北方的龙山文化都呈现出向更高社会阶段发展的迹象，这主要表现在 ( )  
A. 公共墓地出现      B. 农业的产生      C. 贫富分化加剧      D. 文字的使用
3. (2023 年全国乙卷) 孟子说：“五亩之宅，树之以桑，五十（岁）者可以衣帛矣；鸡豚狗彘之畜，无失其时，七十（岁）者可以食肉矣；百亩之田，勿夺其时，数口之家可以无饥矣。”这一观点所依托的时代背景是 ( )  
A. 休养生息政策的实施      B. 井田制度的繁荣  
C. 农业生产技术的发展      D. 商业活动的衰退
4. (2023 年湖北卷) 象形文字在一定程度上可以反映创字时的生态环境、经济生活和思想观念等。下表是“农”

字的演变历程，其创意是在树木众多的地方以蜃（蚌壳）制工具从事劳作。“农”字的创制可反映当时（ ）

商 甲骨文	周 金文	秦 小篆	现代 楷书
			农 (農、菑)

- A. 天人合一的宇宙观念  
B. 渔猎采集的劳动方式  
C. 形神兼备的书画艺术  
D. 原始农耕的生产状况
5. (2023 年海南卷) 据《史记·周本纪》载，周武王“率戎车三百乘，虎贲三千人，甲士四万五千人，以东伐纣”。而战国晚期，秦、齐、楚等诸侯国都拥有人数近百万的军队，连七国中最小的韩国也有 30 万兵力。这一变化主要是因为（ ）
- A. 军事理论的形成  
B. 生产方式的变革  
C. 政治制度的演进  
D. 地形地势的利用
6. (2023 年浙江卷 1 月) 生产工具的进步是生产力发展的重要标志。河南辉县出土的战国铁犁铧，人们耕地时把它安装在犁上，用来破土，省力易行。据此可知，战国时期（ ）
- A. 铁犁铧用灌钢法制成  
B. 中国人率先掌握了冶铁技术  
C. 铁农具已经在农业生产中使用  
D. 铁犁牛耕已经成为农业的主要耕作方式
7. (2023 年浙江卷 6 月) 历史上的技术变革层出不穷，人类社会生活也因此变得越来越丰富多彩。下列项中，关于技术进步与人类社会生活变化的对应关系，最为密切的是（ ）
- A. 铁犁耕作技术——从迁徙过渡到定居  
B. 钢筋混凝土技术——创造了城市新的夜生活方式  
C. 杂交育种新技术——一年四季都能买到生鲜食品  
D. 移动通信技术——与外界沟通更加便捷
8. (2023 年新课标卷) 如表是中国民族资本构成比重表(%)，如表可以反映出（ ）

	1894 年	1913 年	1920 年	1936 年 (不包括东北)
产业资本	2.28	11.64	14.84	21.36
商业资本	74.89	67.30	58.87	50.55
金融业资本	22.83	21.06	26.29	28.09

- A. 民族工业呈现发展趋势  
B. 商业贸易日益萎缩  
C. 近代金融体系臻于完善  
D. 经济结构逐渐失衡
9. (2023 年北京卷) 1998 年，“广播电视村村通工程”启动。此后，“村村通”在公路、电力、饮用水、电话

网、有线电视网、互联网等领域陆续展开，成为一个系统工程。这一工程（ ）

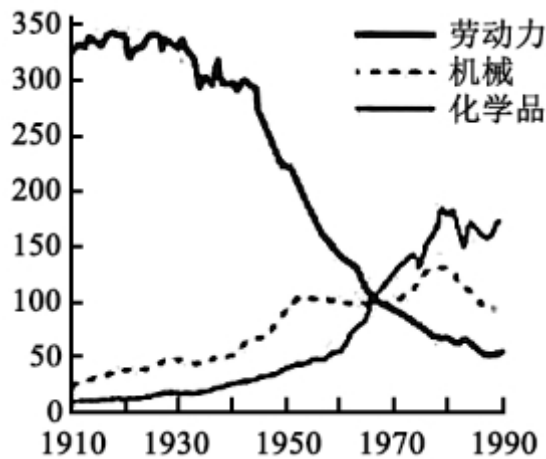
- A. 成为推进城乡一体化的重大举措
- B. 标志农村经济体制改革取得突破
- C. 为开展三线建设做好了充分准备
- D. 为农业社会主义改造奠定了基础

10. (2023年北京卷) 近年来，随着信息技术不断发展，各种类型的历史资料数据库相继建立。有学者认为，“大数据使历史资料利用产生革命性变革”，历史研究进入“e-考据”时代。对此理解正确的是（ ）

- ①大数据的应用改变了史料运用的原则
- ②数字化史料丰富了史学家的研究手段
- ③历史资料数字化提高了史料利用效率
- ④“e-考据”指历史学与考古学的结合

- A. ①③
- B. ②④
- C. ①④
- D. ②③

11. (2023年湖南卷) 对下图的合理解释是（ ）



美国农业的投入使用量（以1967年指数为100）

- A. 机械投入减少反映农业集约化程度降低
- B. 农业技术变迁呈现出节约劳动力的倾向
- C. 化学品广泛使用导致生态环境遭到破坏
- D. 劳动力的减少意味着农业逐步走向衰落

12. (2023年湖北卷) 13世纪时，英格兰的一则小品剧中，庄园领主在法庭上公开讨论小麦、奶酪、鸡蛋和小乳猪的价格。无独有偶，《田庄总管职责》也提醒领主和总管，羊毛应该论包或以一只羊一次所剪的毛为单位出售，怎样卖收益最大、好处最多，就怎样卖。上述材料反映英格兰（ ）

- A. 封建庄园制度已濒临崩溃
- B. 庄园农产品获利丰厚
- C. 农业的经济转型趋势初显
- D. 圈地运动正迅速开展

13. (2023年海南卷) 17世纪，欧洲贵族男性穿着华美、妆容精致，且以戴假发和编发辫为时尚。从19世纪中叶开始，工业资产阶级引领服装潮流，男装简洁而实用。这一变化主要体现了（ ）

- A. 科技进步提高生活水平
- B. 思想解放推动政治变革
- C. 工业革命促进经济发展
- D. 社会变迁影响流行风尚

14. (2023年北京卷) 柑橘与《橘录》

材料一 中国是最早栽培柑橘类果树的国家之一。宋代，柑橘的产销扩大。南方出现了温州、苏州、荆州和福州等多个柑橘生产中心，有众多专门贩运柑橘的商人。开封的酒肆内有温柑、金橘等多个品种，临安有专门售卖柑橘的市场“柑子团”。士大夫喜爱歌咏“橙黄橘绿”，苏轼自称“能手自接果木，尤好栽橘”。南宋韩彦直总结了柑橘栽培技术，撰成世界第一部柑橘专著《橘录》。该书将柑橘类果树分为3大类27种，分述植株、果实、食味和产地等，并介绍了栽培、去病、浇灌、采摘、收藏和入药等各项环节。

材料二 15世纪以后，中国的甜橙传入欧洲，哥伦布将其带到美洲。在甜橙基础上培育出的脐橙成为美洲重要品种。18世纪，瑞典植物学家奥斯贝克在广州记录了当地柑橘品种，并把标本带回国。19世纪初，英国从广州引进宽皮柑橘。

中国良种的引进，使欧美柑橘从药用、装饰转向食用为主，并形成商品化消费。西班牙在18世纪末就出现了商业化柑橘种植园。20世纪初，美国植物学家施永格在中国发现了宜昌橙等耐寒柑橘品种，将其引入美洲，用于改良品种。

《橘录》在欧、美、日均有流传。1923年，《橘录》英文版在欧洲最具影响力的汉学杂志《通报》上发表，法国汉学家伯希和为其撰写引言。世界柑橘业权威著作《柑橘产业》也多次引用《橘录》。

(1)概述宋代柑橘产销扩大的历史条件。

(2)阅读材料，结合所学，简述中国柑橘品种和《橘录》在世界传播的影响。

15. (2023年浙江卷1月) 阅读材料，完成下列要求。

材料一



(虚线代表1492年哥伦布探险以前，实线代表16世纪以后)

马铃薯主要传播路径示意图

——据〔日〕21世纪研究会编《食物的世界地图》

材料二 在16-18世纪繁荣的中欧贸易中，瓷器、漆器、织物、壁纸、家具和玩具等各式各样的中国特产涌入欧洲，饮茶成为一种新的生活方式，丝绸与瓷器的魅力促使欧洲人致力于将其生产本土化。

1753年7月24日，瑞典王后收到国王赠送的一件特殊生日礼物：一座木结构的中国屋。她描述道：“我的长子穿得像个中国王子一样在入口处恭候，随侍的王室侍从则扮成中国文官的模样……里面有一个令人

赏心悦目的印度风格装饰成的大房间，四角各有一只大瓷花瓶。……欣赏过所有东西之后，国王陛下下令演出一场配土耳其音乐的中国芭蕾。”

——摘编自张国刚《中西文化关系通史》

材料三 为加强对印度的统治，1853年，英国议会通过一个新特许状法案，规定印度文官应向全体英国臣民开放，实行公开竞争考试。但印度人进入印度文官殿堂的大门非常狭窄。……印度成为主权共和国后，肯定了当时已存在的印度行政官等系统，并根据宪法有关规出定制定了全印文官法。文官分为全印文官、邦文官和中央文官。

——整理自程汉大《英国政治制度史》等

(1)根据材料一，写出马铃薯的洲际传播路径。结合所学，概括马铃薯成功跨洋传播的必备条件。

(2)参考材料一二三，自选一个角度，运用18和19世纪的相关史实，围绕文明互鉴主题写一则历史短文，题目自拟。（要求：观点明确，史实准确，条理清晰，表述成文）



## 2022年高考真题

1. **（2022年北京卷）**19世纪70—80年代，美国商人斯威夫特创办了肉类加工厂，把屠宰和包装分成几道独立工序，利用传送带进行流水作业，并雇佣工程师设计冷冻车厢，以便长途运输鲜肉。他还陆续开办工厂，利用肉类加工的下脚料生产肥料、肥皂和甘油等。斯威夫特的经营模式（ ）

- ①体现了产业分工不断细化                      ②得益于铁路交通业的发展  
③成为近代机械生产的开端                      ④为农业现代化提供了范本

A. ①②                      B. ③④                      C. ②③                      D. ①④

2. **（2022年重庆卷）**1895年，马克斯·韦伯在谈及帝国东部地主中占据领导地位的普鲁士容克阶层时说“他们自己负担劳动，如今陷入经济上的殊死搏斗，没有任何国家经济政策可以帮助他们脱离苦海并将其带回到旧日的社会角色当中。”据此可知，当时德国（ ）

- A. 工业化引起社会结构的深刻变化                      B. 普鲁士贵族阶层丧失了政治权力  
C. 区域间的经济结构发生重大改变                      D. 社会福利改革落后于经济的发展

3. **（2022年全国甲卷）**蒸汽机发明后，日益成为欧美国家雇佣大农场机器动力的重要来源，需要多人协同操作。20世纪初，农业机器的使用变得个人化、小型化，家庭农场在劳动生产率方面缩小了与雇佣大农场的差距，后者日趋衰落。这一系列变化表明（ ）

- A. 内燃机的应用改变农业生产组织形式                      B. 农业技术发展导致失业人口大量增加  
C. 蒸汽机成为农业生产的机器动力来源                      D. 农业生产效率的提高依赖于生产规模

4. **（2022年全国甲卷）**宋朝海外贸易中，输出的商品主要是丝织品、瓷器、漆器、铁器等，输入的商品以香料、犀角、象牙、珊瑚、珍珠等为大宗。政府每年从海上进口贸易中获利颇丰。这表明，在宋朝（ ）

- A. 进口商品成为基本生产资料
- B. 开辟了海上丝绸之路
- C. 外贸成为国家税收主要来源
- D. 手工业生产较为发达



## 2021年高考真题

1. (2021年山东卷) 如图是中国古代某一历史时期主要产粮区示意图。该时期是



- A. 秦汉时期
- B. 隋唐时期
- C. 宋元时期
- D. 明清时期



## 2020年高考真题

无



## 2019年高考真题

无



## 2018年高考真题

1. (2018年浙江卷4月) 有学者指出：作为对人类最重要献礼之一的马铃薯，最初其实是颇低贱的食物，根本不受投资者青睐。一系列的战争、饥荒替马铃薯打入欧洲，打开了一个更大更长久的开口。下列表述正确的是

- ①马铃薯原产于美洲
  - ②马铃薯由葡萄牙人带回欧洲
  - ③马铃薯的“发现”得益于新航路的开辟
  - ④马铃薯等作物的传播一定意义上也是一次文明的链接
- A. ①②③      B. ①②④      C. ①③④      D. ②③④

2. (2018年浙江卷4月) 古诗有云：“岂料山中有遗宝，磊落如磬万车炭(煤)……为君铸作百链刀，要斩长鲸为万段。”中国古代以煤作为燃料冶铁开始于

- A. 战国      B. 西汉      C. 南北朝      D. 北宋



## 2017年高考真题

1. (2017年海南卷) 明清时期，在江南、华南的一些地区，经济作物的种植面积扩大，传统的粮食生产比重降低。这一现象表明，明清时期上述地区

- A. 农业生产出现衰退      B. 人口变动导致粮食需求减少  
C. 普通农户收益锐减      D. 农产品商品化趋势明显

2. (2017年天津卷) 1830年，英国正式启用第一条商业铁路，十年后公布火车时刻表。因为火车比马车快太多，所以各地时间的微小差异就造成了巨大的困扰。1880年，英国首次立法规定全国的时刻表都须以格林尼治时间为准，这就要求人们依据人工的时钟而非依据当地日升日落周期来过生活。这段材料重在说明

( )

- A. 工业革命带来社会生活的变化      B. 技术发展对人类生活有所制约  
C. 时间的精确成为日常生活的必要      D. 统一的时间有利于国家管理

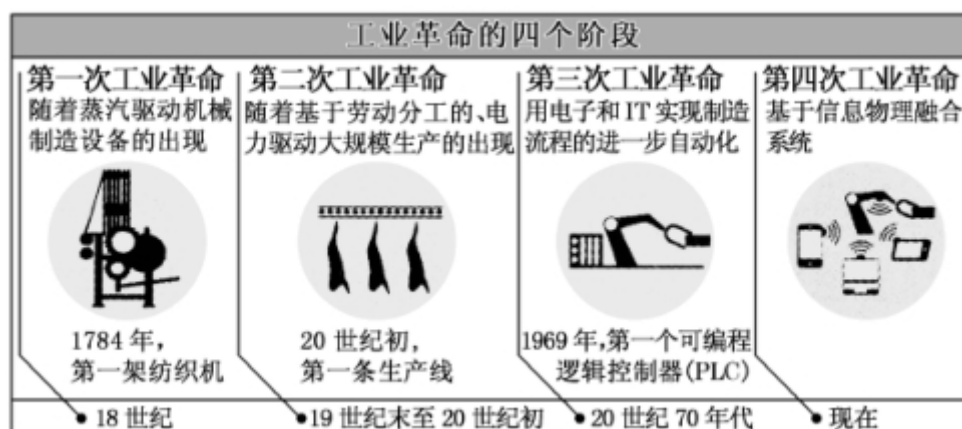
3. (2017年全国I卷) 根据表格可知，在工业革命期间，英国

英国国民总收入变化表			
年份	约 1770	约 1790~1793	约 1830~1835

数额(百万英镑)	140	175	360
英国工人实际工资变化表(即按实际购买力计算的工资, 1851 年为 100。)			
年份	1755	1797	1835
指数	42.74	42.48	78.69

- A. 工人实际收入与经济发展同步增长    B. 经济快速发展依赖于廉价的劳动力  
C. 工人生活条件愈发恶劣                      D. 社会贫富差距进一步拉大

4. (2017 年天津卷) 对如图信息的解读, 表述正确的是



- A. 科技发展带来生产方式变化                      B. 科学发挥最重要的作用  
C. 劳动者的劳动强度越来越大                      D. 信息化普及贯穿全过程

5. (2017 年浙江卷 4 月) 中国农业从远古洪荒走来, 经历了“刀耕火种”、“牛耕铁犁”等阶段。下列选项中属于“刀耕火种”阶段的耕作工具有

- ①石斧 ②耒车 ③骨镰 ④曲柄锄

- A. ①③                      B. ①④                      C. ②③                      D. ②④

6. (2017 年全国 II 卷) 阅读材料, 完成下列要求。材料 钟表的演变

古代	日晷被称为“最早的钟表”, 是古代比较普遍使用的计时工具。
中世纪末期	机械钟在西欧流行, 最初的机械钟只有时和刻。
近代早期	在伽利略等人研究的基础上, 发明了游丝, 钟的精确度提高, 制造出怀表。在很长一段时间内, 钟表价格昂贵, 属于奢侈品。
1850 年前后	英国社会各个阶层都拥有了钟表。
20 世纪初	原为女性装饰品的手表逐渐为男性所接受, 在户外运动、驾驶汽车时都可佩戴。
20 世纪 50 年代	根据原子物理学原理制造出原子钟, 精度可以达到每 100 万年误差 1 秒。



21 世纪初

随着信息技术的发展，具有计时、信息处理、导航、监测等多种功能的智能手表出现。

从材料中提取两条或两条以上信息，拟定一个论题，并对所拟论题进行简要阐述。（要求：明确写出所拟论题，阐述须有史实依据。）

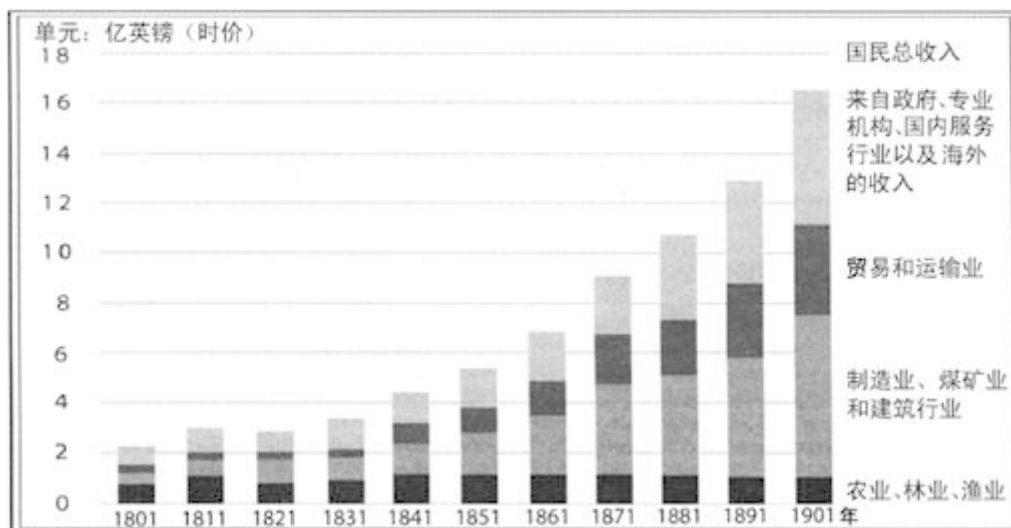


## 2016年 高考真题

1. (2016 年浙江卷 10 月) 发现美洲以来，许多诞生于动荡之中的宝藏就在新大陆和传统的欧洲大陆之间穿梭。美洲品种多样的植物更是别具一格。由印第安人培植的，对缓解世界粮食供应紧张，促进人口快速增长起重要作用的作物是


- A. 马铃薯、玉米 B. 小麦、甘薯 C. 玉米、水稻 D. 烟草、可可

2. (2016 年江苏卷) 下图是 19 世纪英国国民总收入来源示意图。对该图解读正确的是



- A. 19 世纪英国农业、林业和渔业处于稳定增长阶段  
B. 第二产业收入的增长与其发展的阶段特征不相符  
C. 第三产业收入的增长并未体现工业化阶段的特征  
D. 经济收入与国民经济在结构的变化上呈现出一致

3. (2016 年全国 I 卷) 下图为汉代画像砖中的农事图。此图可以用来说明当时



- A. 个体农户的生产劳作状态                      B. 精耕细作农业的不断发展  
C. 土地公有制下的集体劳作                      D. 大地主田庄上的生产情形

4. (2016年浙江卷10月) 下图信息, 最能体现古代中国农业经济基本特点的是



- A. ①②                      B. ①③                      C. ②③                      D. ②④



## 2015年高考真题

1. (2015年海南卷) 据统计, 1850年德国的专利授予数目为243项, 1870年为4132项, 1900年达到8784项。这反映出德国( )

- A. 海外市场的拓展主导着科技发明                      B. 在整体科技实力上遥遥领先于他国  
C. 政府在科技发展中扮演重要角色                      D. 从欧洲其他国家大量引进技术发明

2. (2015年浙江卷10月) 唐代出现了结构更为完备, 可根据实际需要, 改变牵引点高低, 控制耕土深浅的农业生产工具。它是

- A. 耦犁                      B. 曲柄锄  
C. 曲辕犁                      D. 翻车

3. (2015年上海卷) 某同学为写历史小论文设计了下面提纲, 据此判断这篇论文的主题是

1. 动力来源与基础材料的革新
2. 人类与自然关系的转变
3. 科技发展对自然环境的破坏
4. 人类面对环境危机的应对之道

- A. 能源革命与人类生活                      B. 物质文明与环境问题  
C. 科学进步与征服自然                      D. 工业革命与社会转型

4. (2015年海南卷) 20世纪20年代, 西欧出现一种新现象: 刚刚从事基础科学研究的人可以从国家有关机构、学会或者工业公司得到研究资助。这一现象反映出

- A. 爱因斯坦相对论推动基础科学研究发展到新的阶段

- B. 民主体制的普通建立为人的发展提供了良好的环境
- C. 人民认识到科学对技术和生产发展的巨大推动作用
- D. 已经形成了以知识经济为基础的新的经济增长模式

5. (2015年四川卷) 阅读材料，回答问题。

材料一



(1) 结合所学知识，以“交流与联系”为主题，解读材料一。

材料二 明朝中期，玉米、番薯等美洲粮食作物通过多种途径传入中国，逐渐得到推广。番薯“或可得数千斤，胜五谷几倍”，玉米“种一收千，其利甚大”，大大缓解了“民食问题”。人们能腾出更多的时间、劳力和土地等去发展经济作物，社会生活的许多方面也因此深受影响。粮食生产革命和人口爆炸互为因素，清代以来，人口压力不断增加，原本人烟稀少的广大山区因为“老林初开，包谷不糞不获”和番薯“备荒第一物”的特性。玉米、番薯等栽种遍野，“生齿日繁”。“棚民租山垦种，阡陌相连，将山土刨松，一遇淫霖，少随水落，倾注而下，溪河日淀月淤，不能容纳”。

——摘编自何炳棣、陈树平等的研究成果

(2) 据材料一、二，结合所学知识，概述美洲作物传入对明清中国的影响。

6. (2015年江苏卷) 生产流水线是美国工业生产组织形式的一种创新。阅读下列材料：

材料一 亨利·福特的创新是用于生产的流水线。放上零件的人不去固定它，放上螺栓的人不用装上螺帽，装上螺帽的人不用去拧紧它。正因为流水线有如此的速度，福特才得以在以后的十年中每年的生产量成倍地增长，并使零售价降低了三分之二。到1914年，路上行驶的每两辆汽车中就有一辆是福特汽车。

——摘编自韦尔奇《美国创新史》

材料二 流水作业法的普遍采用推动了汽车时代的到来，从而引起了居住方面的革命……汽车的普及推动了一场社会革命，遏制了人口进一步向城市集中，从而使人口得以从饱和的城市向郊区扩散。

——李庆余《美国现代化道路》

材料三 1921年，喜剧大师卓别林兴冲冲地参观了海蓝公园的福特工厂，并与福特在总装流水线旁微笑合影。当时人们把福特看作一个创造奇迹的大师，但在15年后，他已经成为劳动者的公敌。在《摩登时代》里，卓别林毫不客气地讽刺了他的这位资本家朋友和残酷的流水线。这部默片时代的经典电影也是迄今为止对

大机器生产的非人性批判得最深刻的一部。

——杜君立《历史的细节》

请回答：

- (1) 据材料一并结合所学知识，从工业发展的角度，指出福特“创新”产生的原因，简析其影响。
- (2) 据材料二并结合所学知识，分别说明工业革命以来汽车普及前后的人口移动趋势。
- (3) 据上述材料并结合所学知识，就“大机器生产的非人性”这一观点，从客观公正的立场写一篇小论文。  
(要求：观点明确；史论结合；逻辑严密；表述清晰；280字左右)

7. (2015年全国I卷) 阅读材料，完成下列要求。

材料 有历史学者为说明近代以来科学技术在生产力发展中的作用，引用了如下公式：生产力=科学技术×(劳动力+劳动工具+劳动对象+生产管理)这一公式表明，科学技术有乘法效应，它能放大生产力诸要素。

——摘编自齐世荣总主编《世界史》

运用世界近现代史的史实，对上述公式进行探讨。(说明：可就科学技术与公式中一个或多个要素之间的关系进行论证；也可以对公式进行修改、补充、否定或提出新公式，并加以论述。要求观点明确、史论结合、史实准确)



## 2014年高考真题

1. (2014年广东卷) 欧美国率先实现了从有机物经济向无机物经济的转变，即生产活动中的动力来源从动植物向矿物的转变，直接推动这一转变的是  
A. 蒸汽机  
B. 计算机  
C. 牛顿经典力学  
D. 达尔文进化论
2. (2017年浙江卷4月) 20世纪上半期，有科学家认为：假如宇宙中所有的物质都消失了，时间和空间会与物质一同消失。支撑其观点的科学理论是  
A. 自由落体定律  
B. 天演论  
C. 加速度定律  
D. 相对论
3. (2014年海南卷) 1923~1929年，美国的企业普遍使用流水线等先进生产管理方式，提高了劳动生产率，同时在少数企业中工业可以领取养老金，享受带薪休假。这反映出当时在美国  
A. 工人分享的经济成果有限  
B. 科技未对经济发展发挥重大作用  
C. 供给与需求保持基本平衡  
D. 国家干预促进了经济发展
4. (2014年江苏卷) 在英国现代化过程中，以圈地运动为发端的农业变革与工业革命存在着密切的关系。

阅读下列材料：

材料一 开阔的和公有的土地和公有草地分布得如此零散和混杂，以致不能方便地和有效地加以利用；再者，

这些土地……采取圈围就能获得很大的改良。同时，如将上述（土地）……加以分开、圈围，并在有关人员中按其各自的产业，对公有地的权利和其他利益进行分配，那就会对上述有关人员均有好处。但是这一点如无议会的帮助和授权就不可能做到。

——辜燮高等选译《一六八九——一八一五年的英国》

材料二 地主们土地上的矿产和农产品需要运到城市和工业区去，他们所需要的农业设备和工业品也需要运进来，因此对修建公路、运河和铁路表现出了很大的兴趣。……18世纪，英国的圈地运动促进了乡村银行的发展，地主和农民手中的游资通过银行的渠道集中起来，为蓬勃发展的棉纺织业和金属加工业提供了资本。

——王章辉《工业化历程》

材料三 正是由于一系列纺织机器的发明，使用旧式纺车和织机的手工业者遭到了排挤，他们破产之后，便成为雇佣工人。……产生了一批租用五十英亩、一百英亩、二百英亩或者更多的土地的大佃农，他们建立起大农场……（那些小白耕农）或者流入城市出卖劳动力，或者成为农场主的雇工……随着冶铁工业和机器制造业的发展，农业机械日益增多。

——许永璋《世界近代工业革命》

请回答：

- （1）据材料一，归纳“圈地者”圈地的理由，并指出影响圈地运动扩大的关键因素。
- （2）据材料二，结合所学知识，分析圈地运动对工业革命的作用。
- （3）据材料三，概括工业革命推动英国农业变革的具体表现。
- （4）综观英国现代化的基本过程，工业革命与农业变革之间的关系纵横交错。综合上述材料，从纵横两方面说明它们的关系。

5. **（2014年山东卷）** 奴隶贸易对英国和世界经济发展都产生了十分重要的影响。阅读材料并结合所学知识，回答问题。

史实

1501年，第一批非洲奴隶运抵西印度群岛。

1562~1563年，英国人约翰·霍金斯第一次贩奴至美洲。

1631年，英国在西非建立了第一个贩奴堡垒，英国政府贩奴活动正式开始。

1670~1776年，英国贩卖到美洲大陆的奴隶总数超过其他国家贩奴数量的总和。

1807年，英国议会通过了《废除奴隶贸易法案》。

1833年，英帝国废除了奴隶制。

——据杨瑛《英国奴隶贸易的兴衰》等

史论

就欧洲的工业化历史而言，“世界视野”对于欧洲的意义远不如“欧洲视野”对于世界的意义大。对于核心地区的经济增长来说，亚洲、非洲和南美洲等边缘地区的作用微不足道。

——据帕特里克·奥布莱恩《欧洲经济发展》等

- (1) 指出英国在世界奴隶贸易中逐渐占据主导地位的国际、国内因素。
- (2) 说明奴隶贸易对世界经济发展产生的影响。
- (3) 分析指出英国废除奴隶贸易的经济原因。
- (4) 对帕特里克·奥布莱恩的观点加以评述。

#### 6. (2014 年上海卷) 文明的代价

1962 年, 科学家蕾切尔·卡森在《寂静的春天》里预言了一个没有鸟鸣的世界, 引发了当代环境保护运动。试以“人与环境”为主题, 叙述人类在工业进程中所付出的代价。

#### 7. (2014 年海南卷) 根据材料并结合所学知识回答问题

材料一 19 世纪初, 德意志仍然是一个政治分裂、经济落后的封建农奴制国家。1807 年, 德意志邦国之一的普鲁士进行了农奴制改革, 率先踏上资本主义发展道路, 其他一些邦也相继进行了类似改革。1834 年, 以普鲁士为首的德意志关税同盟宣告成立, 促进了统一市场的形成, 德意志的工业化进程由此开始, 并对政治统一提出了迫切要求。

——摘编自李工真《德意志道路：现代化进程研究》

材料二 1870 年以后, 德国工业化进程加快, 通过普法战争, 德国从法国夺取了矿产资源丰富的阿尔萨斯-洛林地区, 并获得 50 亿法郎的战争赔款, 统一后的德国继续扩大军费支出, 大大刺激了与军火生产有关的重工业。军事上的需要使铁路和海运获得迅速发展, 进而带动了钢铁、机器制造等一系列重工业部门的发展。由于德国工业化起步较晚, 这使得它能够集中力量投资于新兴产业, 因此电气、化工等现代化工业部门遥遥领先于其他国家。19 世纪后半期, 德国在学习外国先进科技的基础上, 完成了科学研究向应用转变的重大突破, 新的科学发现很快就能应用于生产、转化为生产力。

——摘编自孙炳辉、郑寅达《德国史纲》

- (1) 根据材料一并结合所学知识, 指出与英国相比, 德国工业化启动的特点。
- (2) 根据材料一、二并结合所学知识, 简析 1870 年后德国工业化迅速发展的原因。

## 考点 02 商业贸易与日常生活 村落、城镇与居住环境



# 2023 年高考真题

1. (2023 年全国甲卷) 民众日常生活能够反映时代特点。下列情景中, 可能现于北宋都城市民日常生活的是 ( )
  - A. 早晨在家喝红薯玉米粥
  - B. 晚上去夜市听人说书
  - C. 到指定市场用银元购物
  - D. 出门时穿件黄色棉袍

2. (2023 年浙江卷 6 月) 庄票是由钱庄签发的有若干金额的票据, 可以代替现金。1846 年, 洋商在与华商的交易中首次接受上海钱庄的庄票。19 世纪 50 年代之后, 庄票已经成为外商普遍接受的结算工具。1869 年, 汇丰银行首次接受钱庄以庄票作为抵押, 向其提供贷款。据此可知 ( )

- A. 现金快速退出了中外贸易结算
- B. 庄票在中外商业往来中获得认同
- C. 钱庄资本主要来自于外国银行
- D. 帝国主义对华经济侵略日益加深

3. (2023 年全国乙卷) 19 世纪 70 年代之前, 伦敦市场上中国茶叶价格的日常波动很难影响到中国国内的茶叶出口价格。随着中英间电讯联系的建立, 中国茶叶的出口价格随着伦敦市场的标价而变动, 销售数量也随着世界经济的变动而波动, 这 ( )

- A. 导致中国茶叶出口衰落
- B. 改变了中国对外贸易的入超状况
- C. 促成了世界经济一体化
- D. 削弱了中国茶叶的国际市场地位

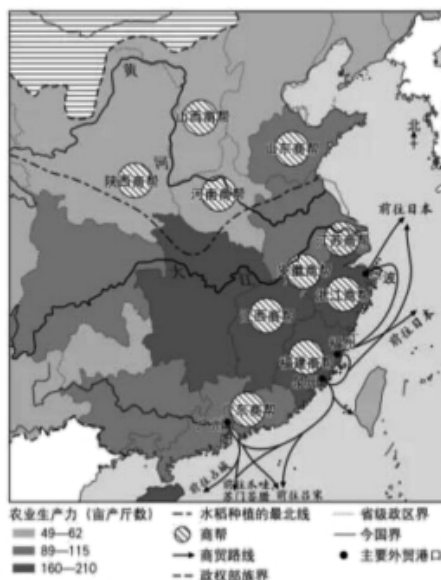
4. (2023 年全国乙卷) 1960~1970 年, 发展中国家对发达资本主义国家的出口额从 197.8 亿美元增加到 397.5 亿美元, 从发达资本主义国家的进口额也从 218 亿美元增加到 413.6 亿美元。在国际贸易中, 发展中国家出口额比重从 21.4% 下降至 17.6%。据此可知, 该时期 ( )

- A. 世界经济格局发生根本性转变
- B. 规范化的世界贸易体系建立
- C. 南北国家之间的经济联系削弱
- D. 发展中国家的经济地位下降

5. (2023 年新课标卷) 我国东南沿海某港口, 在 15 世纪只是一个“结茅而居”的渔村, 到 16 世纪, 已成为“繁华世界”, “宝货塞途, 家家歌舞赛神, 钟鼓管弦, 连飙响答”, 时称“小苏杭”。能够说明这一现象的是 ( )

- A. 朝贡贸易繁荣
- B. 农业生产技术进步
- C. 白银大量流入
- D. 海上丝绸之路兴起

6. (2023 年北京卷) 如图是明代经贸示意图 (局部)。对图中信息理解正确的是 ( )



- ①商帮都分布于南方稻作农业区
  - ②长江中下游农业生产水平总体较高
  - ③海禁阻断了明代海外贸易路线
  - ④主要外贸港口所在省份都有商帮
- A. ①③                      B. ②④                      C. ①④                      D. ②③

7. (2023 年山东卷) 下表为 1871~1921 年中国进口的棉布、棉纱、钢铁、米等四类货物在进口总值中的占比(%)情况。其中甲是 ( )

比重年份 \ 货物	甲	乙	丙	丁
1871~1873	2.8	30.2	0.9	0.9
1881~1883	5.8	22.8	0.3	1.1
1891~1893	14.6	20.5	5.9	1.8
1901~1903	18.6	19.7	4.2	1.7
1909~1911	12.8	16.7	4.8	3.0
1919~1921	9.6	18.4	2.4	5.0

- A. 钢铁                      B. 棉纱                      C. 米                      D. 棉布

8. (2023 年浙江卷 1 月) 1896 年, 盛宣怀上奏: “银行昉(开始)于泰西……各国通商以来, 华人不知务此, 英、法、德、俄、日本之银行乃推行来华, 攘我大利。近年中外士大夫灼见本末, 亦多建开设银行之议”“合天下之商力, 以办天下之银行, 但使华行多获一分之利, 即从洋行收回一分之权”。据此可知, 盛宣怀建议开设银行的主要目的是 ( )

- A. 实现对外贸易垄断                      B. 与外商争夺利权  
C. 抵制洋货、提倡国货                      D. 刺激民族资本主义的产生

9. (2023 年山东卷) 下图为 1949~1985 财政年度美国联邦政府研发投资中用于国防研究的占比 (%) 情况影响其变化的主要因素是 ( )



- A. 国内经济的发展状况                      B. 对外战争的频度烈度  
C. 国际科技竞争的压力                      D. 政府外交战略的调整

10. (2023 年湖北卷) 中国加入世界贸易组织经历了 15 年漫长历程。1986 年, 中国正式提出“复关”申请, 此后数年谈判没有实质性进展。1992 年 10 月以后, 前期谈判的核心问题才迎刃而解。出现这种变化的主要原因是 ( )

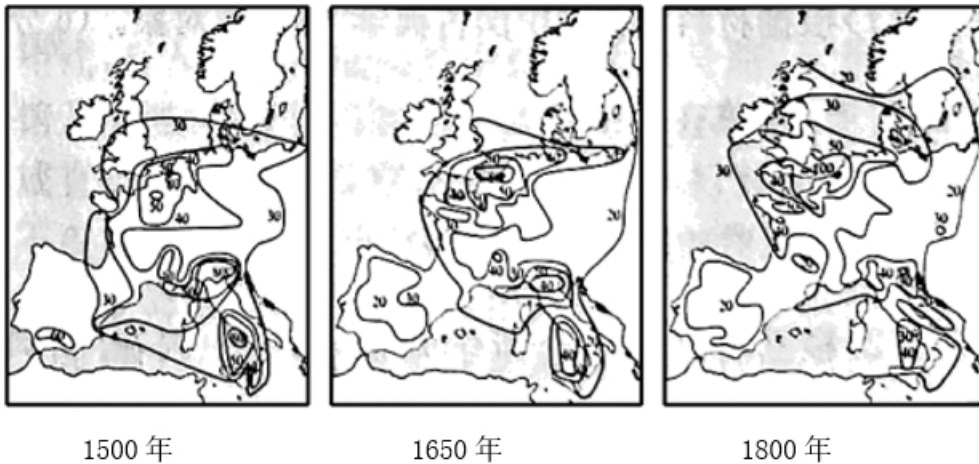


- A. 世界两极格局的瓦解
- B. 中国特色社会主义理论体系初步形成
- C. 经济全球化快速发展
- D. 中国确立社会主义市场经济体制目标

11. (2023 年海南卷) 原产于美洲的可可豆被西班牙殖民者误称为巧克力豆，因物以稀为贵，在中美洲部分地区一度被当作货币使用。16 世纪后传播到欧洲。随着可可树被广泛引种，以及可可豆加工技术和食用方法的不断改进，19 世纪后半叶，巧克力成为大众化商品。引起这一变化的根本原因是 ( )

- A. 新航路开辟促进物种交流
- B. 欧洲的商业格局发生变化
- C. 资本主义世界经济的驱动
- D. 世界殖民体系的初步形成

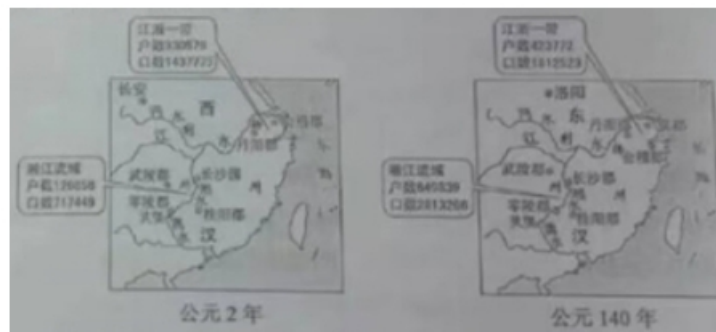
12. (2023 年海南卷) 下图最大程度地体现了 ( )



(注：图中数字代表欧洲城市潜能高低)

- A. 生产技术的辐射
- B. 经济中心的转移
- C. 贸易格局的变化
- D. 工业城市的发展

13. (2023 年全国甲卷) 在中国古代，自然环境、社会生产状况、国家政策、灾害以及战乱，都会对人口的区域布局产生影响。下图显示了两汉间江浙一带与湘江流域人口增长的巨大差异。能够解释这种差异的主要因素是 ( )



- A. 土地兼并程度
- B. 经济发展水平
- C. 人口自然增长
- D. 移民流入数量

14. (2023 年浙江卷 1 月) 1865 年，上海大英自来火房制成煤气灯。19 世纪 80 年代，有人记云：“地火皆由铁管通至马路，于是各戏馆及酒楼、茶肆俱可接点。其灯每盏有玻罩，或倒悬，或直竖，或向壁上横穿，各随其便。人行其间，真如入不夜城也。”这一时期“煤气灯”在上海的使用 ( )

- ①与上海是通商口岸密切相关②反映了上海对外贸易的繁盛  
③为居民创造了新的城市夜生活方式④开启了近代上海城市化进程

A. ①③                      B. ①④                      C. ②③                      D. ②④

15. (2023年海南卷) 阅读材料, 完成下列要求。

材料 海上格局指国家力量在海上的对比态势。16—17世纪, 葡萄牙、西班牙、荷兰先后成为海上霸主。17世纪中后期, 在与英国海战失利后, 荷兰霸主地位被取代。18世纪至19世纪初, 英国多次击败法国, 维持了海上霸权。两次世界大战之间, 美国海权崛起, 英、美、法、日等海权国家并立。二战结束后, 美国海军成为独一无二的海上力量。21世纪以来, “海上多极”趋势明显。

海上格局转换的焦点集中在两大方面: 一是关于力量对比的竞争; 二是关于海洋规则的博弈。西方国家强调“基于规则的国际秩序”, 但在对海洋规则的理解上, 各海洋强国存在严重的认识分歧。尤其在主权和安全理念方面, 奉行霸权主义的美国与后发海洋国家中国、俄罗斯和印度等存在着较为尖锐的矛盾。国际秩序的建立或塑造离不开实力的支撑。

随着全球社会的发展, 各海洋强国既需要在经济方面相互依存, 又需要在全局治理上协调一致。由于海洋环境恶化、自然或人为灾害等全球性问题进一步发酵, 人类正在迈入全方位认知、利用和保护海洋的新时代。

——摘编自胡波《从霸权更替到“多极制衡”》

(1)根据材料, 概括近代以来海上格局演变的特征。

(2)根据材料并结合所学知识, 简析影响海上格局变化的主要因素。

16. (2023年北京卷) 延续与变迁

材料一 西方传统观点认为, 公元1500年前后是欧洲历史的分水岭, 此时欧洲告别中世纪, 进入现代。

材料二 20世纪后期, 有学者提出, 公元1500年前后这一时段固然重要, 但还不能称之为欧洲历史的分水岭, 因为此时欧洲在政治、经济、文化和社会关系等领域并无本质变化。这种状态一直持续到18世纪中后期, 此后历史才真正步入现代, 分水岭才真正出现。

历史发展往往是一个延续与变迁交织的过程。从这一角度, 结合15—18世纪欧洲历史的重大史实, 评析材料一和材料二的观点。

17. (2023年湖北卷) [美元霸权与国际秩序]

材料— 20世纪30年代的货币混乱带来了一系列灾难性后果, 在各国中激起对于国际合作的热望。从英美提出战后国际货币计划开始, 凡参与讨论的国家都没有对其目标提出异议。在1944年7月召开的布雷顿森林会议上, 美国推动他国同意一系列国际货币安排, 筹备设立国际货币基金组织和国际复兴开发银行。与此同时, 以英国为代表的诸国所获得的成绩, 如稀有货币条款、过渡时期的设置等无一不是顽强斗争的结果, 绝非源于美国方面的慷慨恩赐。苏联代表认为, 会议对于维护并加强世界和平与安全均具有重要意义。法国代表回顾了货币与经济会议的多次失败后, 认为此次会议在历史上“开创了一个新时代”。

——摘编自王在帮《霸权稳定论批判》

材料二 1971年8月15日, 尼克松未与他国商量便径自宣布停止美元兑换黄金, 直接导致布雷顿森林

体系固定汇率制度的崩溃，引起世界哗然。在各国讨论应对这一重大变故之时，大多数决策者头脑中不断浮现的是，将大萧条转变成一次世界大灾难的事件——1933年世界经济会议的失败、纳粹主义的兴起以及最后的世界大战。但从宏观视角看，这些担心被普遍夸大了。浮动汇率没有带来经济萧条或政治混乱，更没有引发战争，布雷顿森林体系其他机制得以延续。

——摘编自[美]弗朗西斯·加文《黄金、美元与权力》

(1)根据材料一并结合所学，指出20世纪30年代货币混乱的表现，简析布雷顿森林会议“开创了一个新时代”的含义。

(2)根据材料并结合所学，说明浮动汇率没有引发经济萧条等严重后果的原因，并评价美国停止美元兑换黄金的举措。



## 2022年高考真题

1. (2022年河北卷) 罗斯福新政初期，为了能够尽快恢复经济发展，美国企业家和国会议员对罗斯福实施的大量政策，如劳工立法，并没有加以阻挠，甚至还表现出某种支持。这表明，当时美国 ( )

A. 国家干预使经济得以恢复                      B. 分权制衡原则发生改变

C. 现实需要总统权力的扩大                      D. 社会保障体系基本建立
2. (2022年河北卷) 南宋临安城水路沿岸建有塌房数十所，房屋达数千间。塌房主将其租赁给本地铺户及外来客商存放货物，并向承租者征收保护与管理费用。材料表明，南宋时 ( )

A. 经济重心南移完成                                  B. 都市商业繁盛

C. 商旅安全有所保障                                  D. 海外贸易发达
3. (2022年河北卷) 19世纪50年代后，各地商人争相到上海采购，逐渐形成若干帮别，其中比较大的有北京帮、东北帮、川帮等，还有来自西北、西南边远省份的规模较小的帮别。各地客帮采购贩运，推动了转批分销业务的发展，材料主要反映了 ( )

A. 区域经济水平存在差别                              B. 口岸辐射效应显著

C. 列强资本深入中国内地                              D. 传统商路日趋衰落
4. (2022年重庆卷) 《马关条约》换约前夕，英国某画报刊登了一幅漫画(如图)，又附评论称：“中国，如果完全开放，对人类而言将是个黄金……战争影响下的真正占领是对市场权力的占领，显然规模很大。”这些信息反映出 ( )

以上内容仅为本文档的试下载部分，为可阅读页数的一半内容。如要下载或阅读全文，请访问：<https://d.book118.com/688016115075006045>