

2024年外研版高三地理下册月考试卷697

考试试卷

考试范围：全部知识点；考试时间：120分钟

学校：_____ 姓名：_____ 班级：_____ 考号：_____

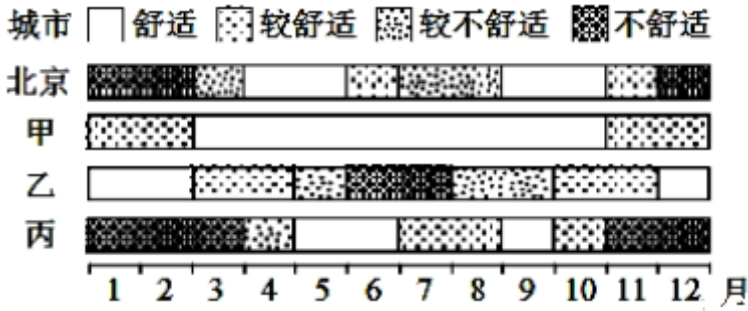
总分栏

题号	一	二	三	四	五	总分
得分						

评卷人	得分

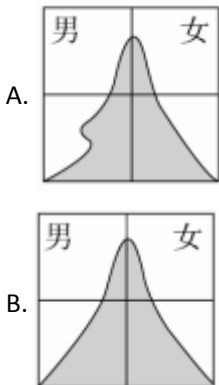
一、选择题(共5题，共10分)

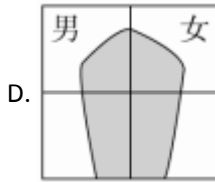
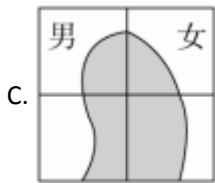
1、气候舒适度主要与气温、湿度、风速等因素相关。下图示意中国4个城市气候舒适度的月变化。读图，甲、乙、丙分别是（ ）



- A. 贵阳、西安、长春
- B. 昆明、海口、哈尔滨
- C. 兰州、上海、沈阳
- D. 南宁、武汉、石家庄

2、清代华北大旱，赤地千里，河北及山东的饥民，大批出山海关，移民于东北。当华北人口大批移民东北时，东北的人口金字塔最可能出现下列形式中的（ ）



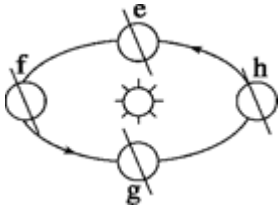


3、洞庭湖区在过去一段时期内面积不断缩小，特别是20世纪60年代后缩小的速度加快。引起该湖区面积变化的主要原因是（ ）

- ①泥沙淤积 ②气候变暖 ③南水北调 ④围湖造田
- A. ①②
B. ②③
C. ③④
D. ①④

4、【题文】2010年9月29日；中国探月工程新闻发言人今日发布消息：嫦娥二号卫星和火箭已完成发射场区的测试和检查，测试结果正常，完全满足发射的技术条件。将于10月1日18时59分57秒在西昌卫星发射中心点火发射，19时整起飞。据此回答：

嫦娥二号卫星升空时；地球在公转轨道上位于。



- A. ab段
B. cd段
C. gh段
D. ef段

5、【题文】一般说来，阴天比晴天的日较差小，原因是

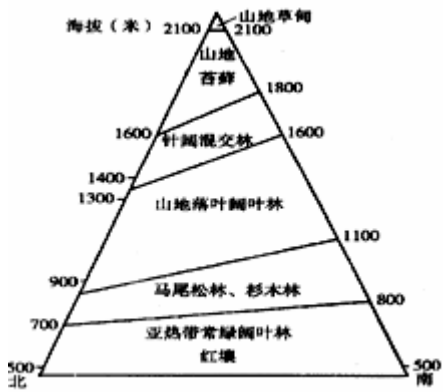
- A. 阴天云量多，大气对流旺盛，把大部分热量传给大气
B. 阴天云量多，大气的保温作用强
C. 阴天大气水汽含量多，水汽强烈吸收地面辐射
D. 阴天云量多，白天削弱了到达地面的太阳辐射，夜间增强了大气逆辐射

评卷人	得分

二、双选题(共7题，共14分)

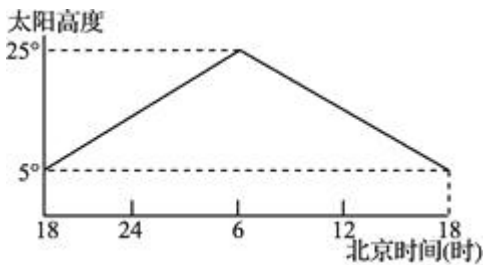
6、

【题文】根据下图——某山地的垂直自然带谱判断；下列说法正确的是。



- A. 该山所处的地理纬度是5°N
- B. 该山所处的地理纬度是25°N
- C. 该山地同一自然带的分布南坡明显高于北坡，其形成的主导因素是热量差异
- D. 该山地同一自然带的分布南坡明显高于北坡，其形成的主导因素是海拔高度

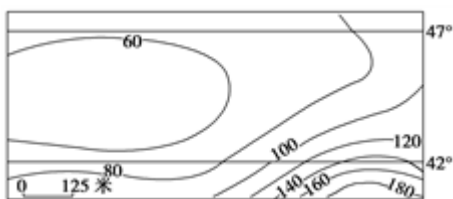
7、读北半球某地的太阳高度日变化图(下图)，该日以后几天内，下列叙述正确的是()



- A. 北京高楼正午日影渐短
- B. 上海日出东北且昼渐长
- C. 江苏地区昼长夜短
- D. 长江流域农作物长势喜人

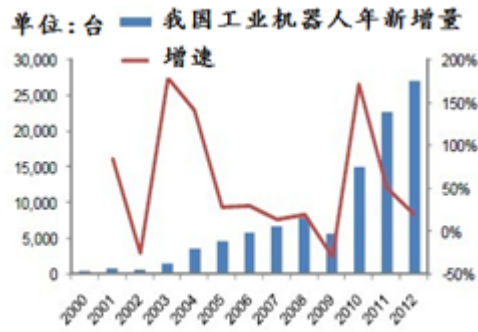
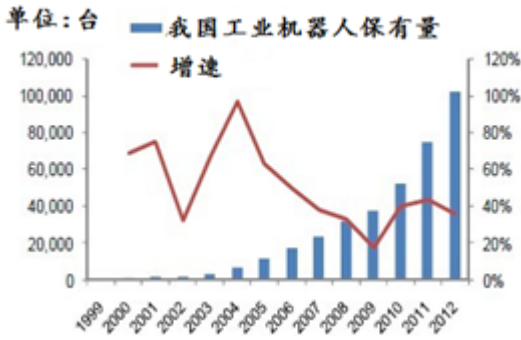
8、

读某区域等降水量年较差（即某地降水量最多月和最少月之差）分布图，完成下列各题。



- (1) 该地最可能的位置和气候类型分别是
 - (2) 影响该区域降水量年较差分布的主要因素有
- A. 亚欧大陆东部
 - B. 亚欧大陆西部
 - C. 温带季风气候
 - D. 地中海气候

9、



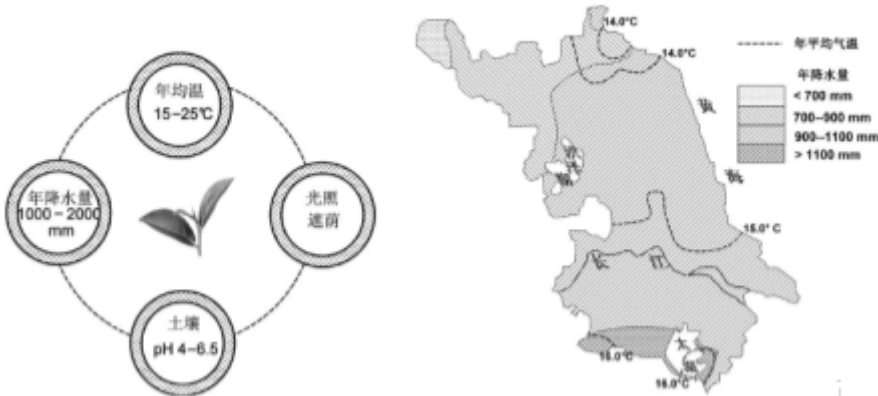
关于我国工业机器人展状况的叙述确是 ()

- A. 2004年以来保有量呈波动下降趋势
- B. 2010年后是数量增长最快的时期
- C. 新增量最多的年份是2010年
- D. 新增量最少的年份是2002年

10、“寻即降雨”蕴含的地理原理是()

- A. 温度升高加快江水的蒸发
- B. 灰烬增加了大气中的凝结核
- C. 空气受热形成上升气流
- D. 加速水汽在江面凝结

11、茶蕴含着中华文化，江苏绿茶享誉海内外。下左图表示茶树生长的适宜条件，下右图是江苏省年平均气温和年降水量图，读图回答下列问题。



- 1.江苏适宜茶树生长的地区是
 - A. 洪泽湖周边地区 B. 太湖周边地区 C. 沿江地区 D. 沿海地区
- 2.“高山出好茶”，江苏名茶也多产于丘陵山地，主要原因是
 - A. 山地易排水 B. 山地日照充足 C. 山地风力大 D. 山地云雾多

12、

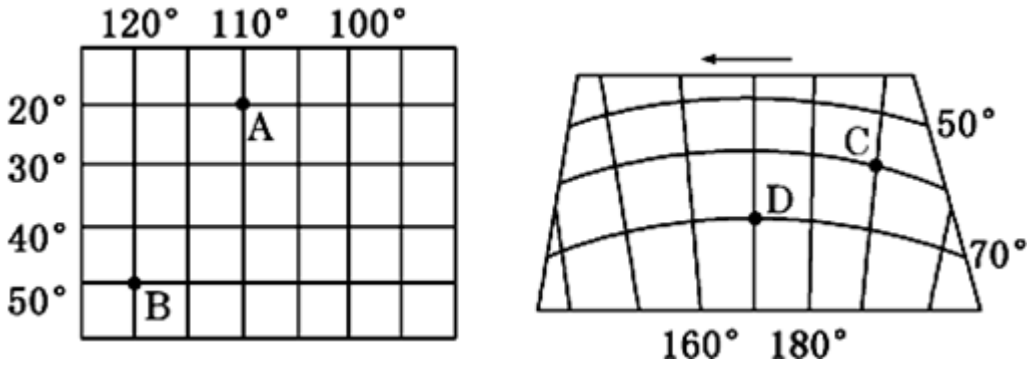
【题文】下列关于阿根廷潘帕斯草原大牧场的叙述,正确的是。

- A. 牧牛业占主要地位
- B. 气候湿润,植被丰富
- C. 大牧场土地租金昂贵
- D. 具有距海港近区位优势

评卷人	得分

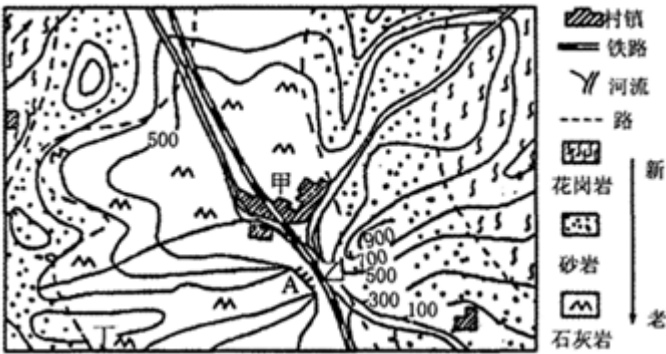
三、填空题(共8题, 共16分)

13、回答下列问题.



- (1) 图中A、C两点的经纬度坐标分别为: A____; C_____.
- (2) A点位于D点的____方向. C点位于B点的____方向.
- (3) 与图中A点关于地轴对称的点的坐标为____, 与C点关于地心对称的点的坐标为_____.

14、读我国东南丘陵部分区域等高线图(如图); 回答下列问题.

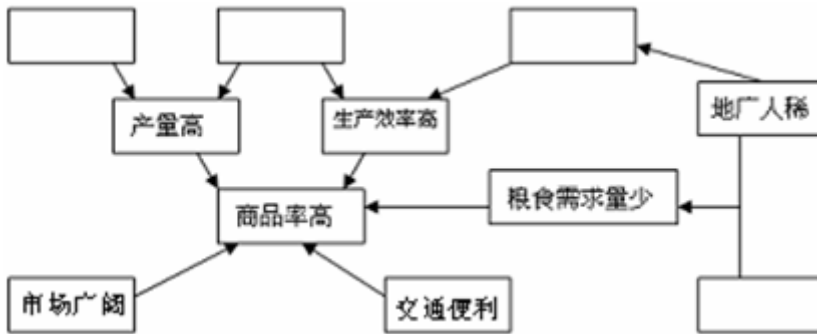


- (1) 图中陡崖A的相对高度不超过____米.
- (2) 说出该区域的褶皱形态及判断依据.
- (3) 说出图中甲城镇所处的地形类型; 并分析成因.
- (4) 拟在乙处建大坝修水库, 你是否同意, 说出你的观点并陈述理由.

15、读美国本土区域示意图; 回答下列问题.

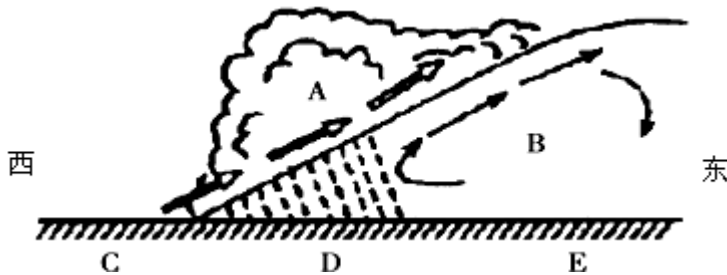


- (1) A区域为美国东北部工业区，图中反映该区工业发展的有利条件有____和____。
- (2) B城市附近有世界著名的电子工业中心“硅谷”，影响其分布的最主要的因素是____。
- A. 劳动力 B. 知识和技术 C. 原材料 D. 土地资源。
- (3) 图示阴影区为小麦、玉米种植区，其农业地域类型是____。
- (4) 根据该阴影区的农业区位因素，请把下面相关内容的代号填到图中方框里。



- ①自然条件优越（地形平坦；土壤肥沃、气候温和、降水丰富等）
 ②农业科学技术先进 ③机械化水平高 ④饮食习惯。

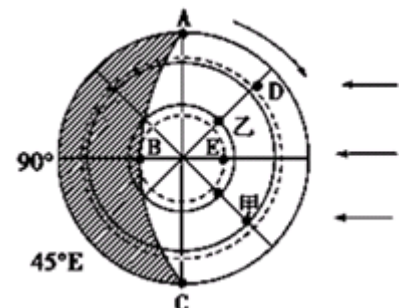
16、读图；完成下列各题。



- (1) 如图为____锋示意图，图中A是____气团。该图所示锋面的移动方向是____。
- (2) C、D、E三地中气温最高的是____地，气压最高的是____地，属于阴雨天气的是____地。
- (3) 该锋形成的降水多在锋____（前、后）____（冷；暖气团）一侧。
- (4) 该锋过境时、过境后的天气状况为____和____。

17、（2013秋•鱼台县校级期末）读图（阴影部分表示黑夜）；回答下列问题

- (1) 此图所示为____日（节气）。

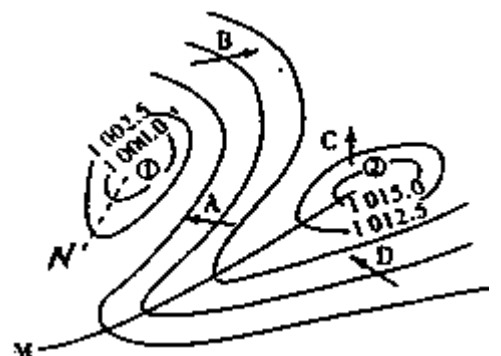


- (2) A、D、E三点的自转线速度从小到大的排列顺序为____，有一发炮弹从D点射向乙点方向，炮弹将落在D、乙所在经线的____（东或西）侧。
- (3) 此时，太阳直射点的坐标是____。
- (4) E点的昼长为____小时，乙点的日出时间是____时，C点正午太阳高度角是____，A点的太阳高度角是____。
- (5) C点正午人影朝向是____。
- (6) 此时，正午太阳高度的分布规律____。
- (7) 再过三个月，B点的昼夜长短情况是____。

18、我国北方夏季暴雨主要是冷锋造成的。 ____（判断对错）

19、过国际日期变更线只需调整日期，不需调整时刻。 ____。

20、（2011秋·缙云县校级月考）读北半球某地等压线分布图；完成下列要求。



- (1) 图中A、B、C、D四处所绘箭头能正确表示当地风向的是____。
- (2) 图中①②两处就气流运动状况而言，分别称为____、____。
- (3) 天气系统①过境时，常出现的天气是____。
- (4) 图中①②两处相比，气温日较差较大的是____，原因是____。
- (5) 图中A、B两处相比，风力较大的是____，原因是____。
- (6) 图中M、N两条线附近，将可能出现锋面的是____，且为____（冷或暖）锋。该锋过境时，一般常出现____天气。

评卷人	得分

四、判断题(共2题，共12分)

21、雨水补给为主的河流，径流量最大值出现在夏季。 ____（判断对错）

22、大力发展城市公共交通有利于缓解交通拥堵问题。

评卷人	得分

五、材料题(共2题，共8分)

23、读图文材料；回答问题。



T岛所在国家为发展中国家。该岛东北部年降水量大于2000毫米。

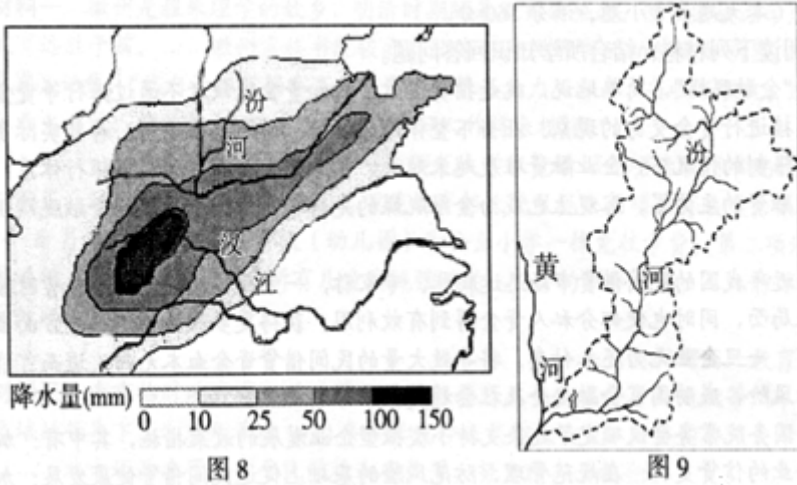
- (1) 结合如图所示信息；说明T岛东北部年降水量丰富的三条原因。

T岛盛产甘蔗；并建立了制糖厂，所产蔗糖多远销国外.

(2) 制糖厂建在本岛而不是国外消费市场，可以降低企业的生产成本。为什么？请答出两条。

24、读下列材料和地图，回答(1) — (4)题。(20分)

材料一：图8为2011年9月上旬我国部分地区强降雨量图，图9为汾河流域示意图



材料二：汉江流域示意图

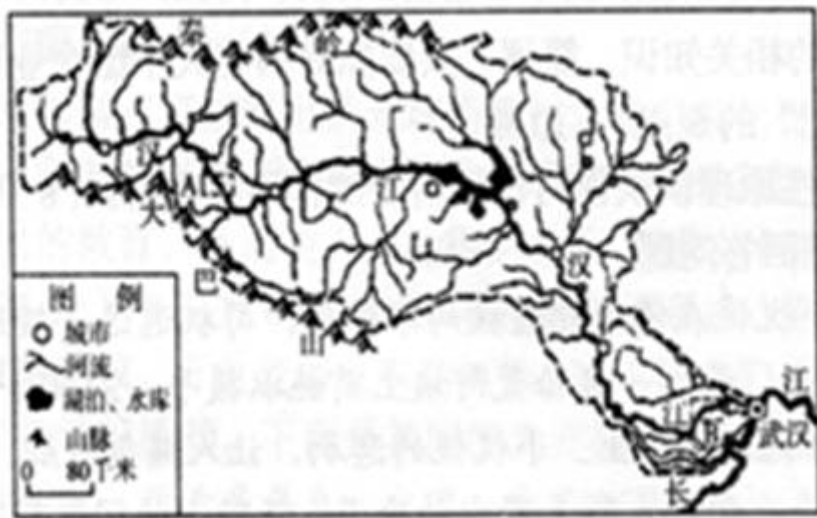


图10

- (1) 图8所反映的强降水最有可能是 ____ (锋面) 引起，降雨区位于锋线的 (地图方向)。(2分)
- (2) 读图10，该区域城市分布特点 ____，图中A、B两地形成的流水地貌类型分别是和 ____。(3分)
- (3) 根据图9、图10和所学知识，试比较汉江和汾河水文特征的异同。(8分)

汉江 汾河

相同点

不同点

汉江流域有我国重要的商品农业生产基地。试分析其发展的区位条件。(7分)

参考答案

一、选择题(共5题，共10分)

1、B

【分析】

试题分析：从北京的情况来看，北京的4、5月份以及9、10月份最为舒适，即该地春秋季节最舒适；甲地3-

10月均舒适，说明一年中大部分时间气候特点接近北京的春秋季节，昆明纬度低，冬季不寒冷，海拔高，夏季不炎热，四季如春，舒适时间最长；乙地12月-

次年2月最舒适，说明该地全年大部分时间气温较高，纬度低，可能为海口；丙地5、6月份和9月份最舒适，说明此时该地气温稍高，位于我国纬度较高的地区，可能为哈尔滨。

考点：我国的气候差异

【解析】

【答案】

B

2、A

【分析】

本题考查

人口迁移对迁入地人口年龄结构的影响。根据材料与所学的历史知识可知，东北地区长期处于未开发状态，有大片耕地。此时迁入到东北的人口中，因长途跋涉辛苦和开垦土地的需要，成年男性比例略高，故当年闯关东的主要是以男性的青壮年为主，结果必然导致关东地区的青壮年男性的比重偏大，A正确；BCD图中未能反映出青壮年比例大，BCD错误。故选A。

【解析】

【答案】A

3、D

【分析】

以上内容仅为本文档的试下载部分，为可阅读页数的一半内容。如要下载或阅读全文，请访问：<https://d.book118.com/697122053155010006>