

(时间：60分钟 满分：100分)

一、单项选择题(每小题2分，共40分)

在亚洲这片富饶而辽阔的土地上，孕育着魅力多彩的文明和近五分之三的世界人口，人们根据需要将它划分为若干不同的地理区域。据此回答1~2题。

1. 亚洲幅员辽阔，自然环境复杂多样，下列叙述正确的是(D)

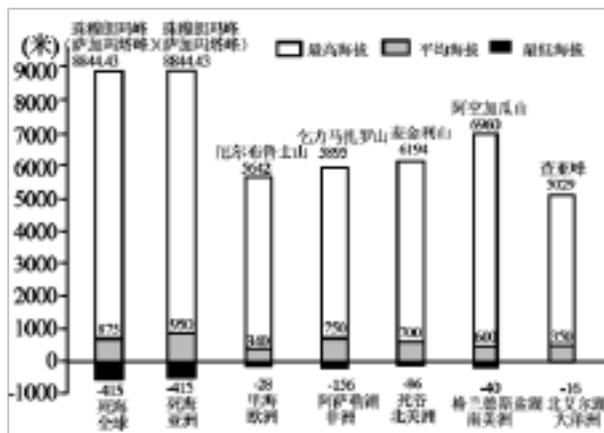
- A. 亚洲是世界上跨经度最广，东西距离最长的大洲
- B. 亚洲地形以高原和丘陵为主
- C. 亚洲气候类型以赤道为中心，南北对称分布
- D. 亚洲是世界上跨纬度最广的大洲

2. 通常人们按地理方位，把亚洲分为东亚、东南亚、南亚、西亚、北亚和中亚6个地区，下列国家中位于东亚的是(A)

- A. 日本
- B. 新加坡
- C. 俄罗斯
- D. 沙特阿拉伯

七大洲面积分别是：亚洲4400万平方千米、非洲3000万平方千米、北美洲2400万平方千米、南美洲1800万平方千米、南极洲1400万平方千米、欧洲1000万平方千米、大洋洲900万平方千米。世界各大洲自然环境差异很大，读下图回答3~4题。

3. 全球陆地平均海拔更接近于亚洲的原因是(A)



- A. 亚洲面积大，且平均海拔高
- B. 亚洲面积大，起伏小
- C. 全球陆地绝大部分都集中在亚洲
- D. 全球最高点和最低点都在亚洲

4. 亚洲面积和地势起伏特点对亚洲地理环境产生很大影响。下面对亚洲地理环境的叙述正确的是(D)

- A. 气候类型单一
- B. 因为死海为最低点，河流多注入死海
- C. 地形类型单一
- D. 不同地区人们生活习俗、经济差异大

5. 亚洲的地势特点是(A)

- A. 中部高、四周低，地面起伏大
- B. 中部低，四周高，地面起伏小
- C. 东高西低，呈阶梯状分布
- D. 东、南、西三面高，北部低

6. 关于我们生活的亚洲，描述正确的是(B)

A. 全部位于北半球 B. 季风气候显著 C. 地形以平原为主 D. 河流众多, 短小湍急

7. 关于亚洲 40° N 东西两岸的叙述, 正确的是(A)

①东西两岸分别是温带季风气候和地中海气候 ②东西两岸分别濒临太平洋和大西洋

③东西两岸气候类型都是温带大陆性气候 ④东西两岸地形分别是高原和平原

A. ①② B. ②③ C. ③④ D. ①④

8. 关于亚洲气候复杂多样原因的叙述, 错误的是(C)

A. 南北跨纬度大, 东西离海远近差异大 B. 河湖众多, 增加了气候的复杂性

C. 植被类型多, 增加了气候的复杂性 D. 地形复杂并且起伏大, 增加了气候的复杂性

9. 下列叙述正确的是(C)

A. 亚洲与欧洲的分界是山脉 B. 亚洲是世界上跨纬度和经度最广的一个洲
C. 亚洲是世界上跨东西距离最大的一个洲 D. 亚洲主体跨东西半球和南北半球

10. 关于亚洲和北美地势特点的叙述, 不正确的是(C)

A. 亚洲地势中间高, 四周低 B. 北美洲地势中间低, 两边高

C. 亚洲的地势是自西向东呈三级阶梯分布 D. 北美洲冰川地形广布

11. 亚洲最大的平原是(C)

A. 东北平原 B. 亚马孙平原 C. 西西伯利亚平原 D. 恒河平原

12. 亚洲和北美洲共同具有的地理特征是(C)

A. 地势中部高, 四周低 B. 地势东西两侧高, 中部低

C. 温带大陆性气候面积广大 D. 缺失热带雨林气候

13. 下列地理事物既是亚洲之最又是世界之最的是(D)

A. 面积最大的国家——中国 B. 最大的平原——西西伯利亚平原

C. 最长的河流——长江 D. 最大的湖泊——里海

14. 下列地区中季风气候最显著的是(C)

A. 亚洲北部 B. 亚洲西部 C. 亚洲东部 D. 亚洲中部

15. 亚洲周围的大洋, 按顺时针方向排列正确的是(D)

A. 北冰洋、印度洋、太平洋 B. 印度洋、太平洋、北冰洋

C. 太平洋、北冰洋、印度洋 D. 太平洋、印度洋、北冰洋

16. 在亚洲, 有的地方终年炎热, 有的地方长冬无夏, 有的地方雨水丰沛, 有的地方常年干旱……这些都说明了亚洲范围广, 各地气候差异大。下面有关气候差异的说法, 正确的是(D)

A. 亚洲东部和西部均分布有季风气候

B. 季风气候各月降水均匀, 一般没有旱涝灾害

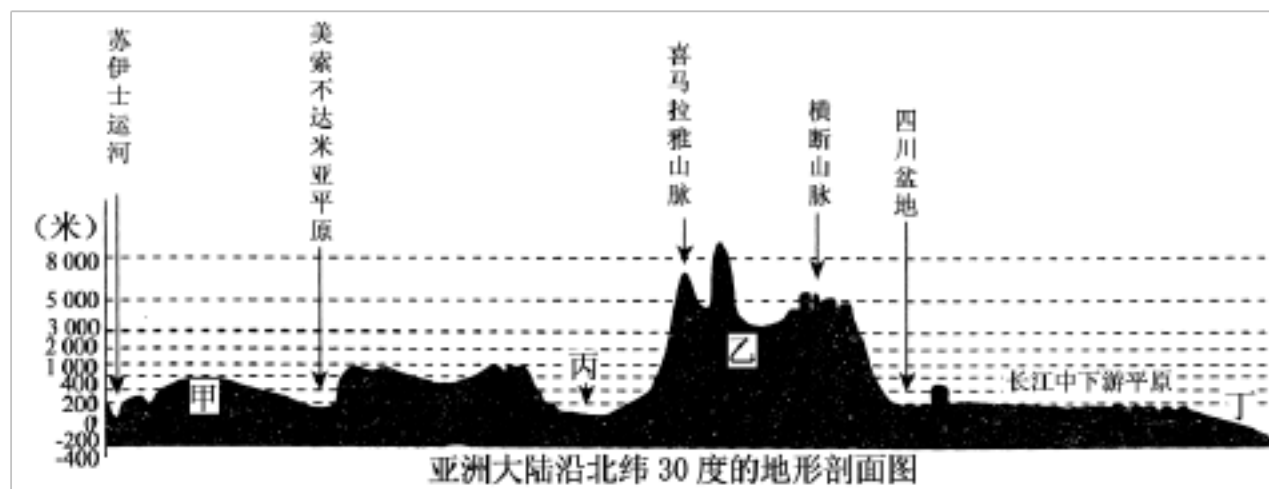
C. 亚洲地势中间高四周低, 所以亚洲中部降水最多

D. 北回归线穿过的地区共有三种气候类型

17. 亚洲缺少的气候类型是(B)

A. 热带季风气候 B. 温带海洋性气候 C. 亚寒带针叶林气候 D. 温带大陆性气候

读图回答 18~19 题。



18. 图中甲、乙、丙、丁代表的地理事物名称分别是(D)

- A. 伊朗高原 青藏高原 恒河平原 大西洋
- B. 伊朗高原 青藏高原 恒河平原 太平洋
- C. 阿拉伯高原 青藏高原 印度河平原 大西洋
- D. 阿拉伯高原 青藏高原 印度河平原 太平洋

19. 亚洲南部三大半岛从东向西依次是(A)

- A. 中南半岛、印度半岛、阿拉伯半岛
- B. 中南半岛、阿拉伯半岛、印度半岛
- C. 阿拉伯半岛、中南半岛、印度半岛
- D. 印度半岛、阿拉伯半岛、中南半岛

岛

岛

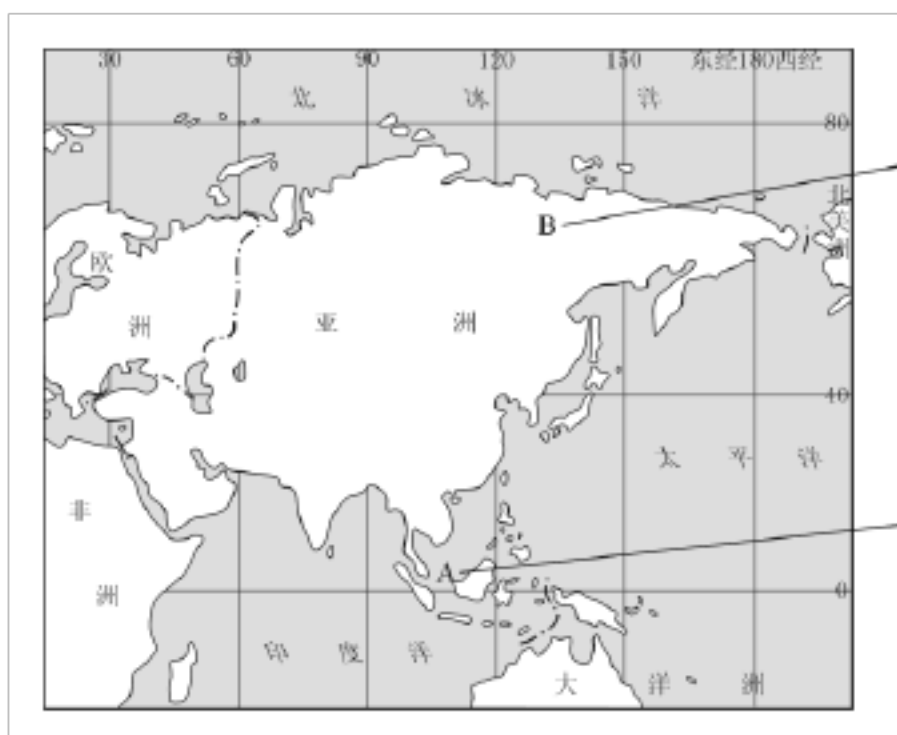
20. 只分布在亚洲南部中南半岛和印度半岛的气候类型是(B)

- A. 热带草原气候
- B. 热带季风气候
- C. 温带季风气候
- D. 亚热带季风气候

候

二、综合题(共 60 分)

21. 亚洲是我们生活的大洲，它地域辽阔。读下列图片，回答后面问题。(16 分)



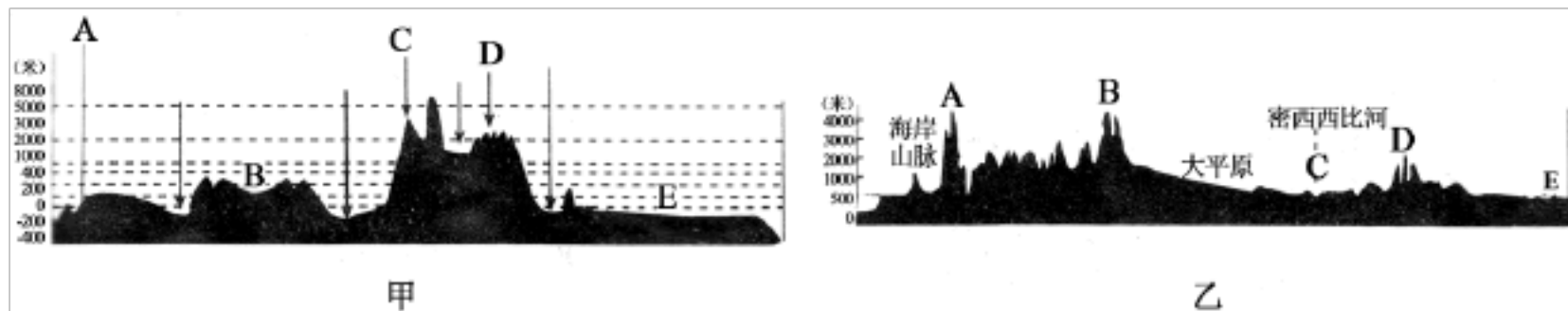
(1) 亚洲东临世界上最大的大洋太平洋，西南以苏伊士运河为界与非洲相邻。
 (2) 亚洲地跨热带、温带、寒带。A 地终年高温多雨，属热带雨林气候。B 地气候终年严寒，A、B 两地气候差异主要是受纬度位置因素的影响。

(3) 亚洲东部主要分布的人种是黄种人，西亚的阿拉伯人属于白种人。

(4) (双选) 亚洲人民创造了灿烂的古代文明，下图中的名胜古迹位于亚洲的是①③。



22. 读下面两幅地形剖面图，回答问题。(12分)



(1) 写出甲图中字母代表的亚洲的地理事物名称：
A 死海，B 伊朗高原，C 喜马拉雅山，D 横断山脉，E 长江中下游平原。

(2) 甲图反映亚洲地势东西方向变化的哪些特点？
中部为青藏高原，地势高，向东西两侧降低，西部又比东部略高。

(3) 写出乙图中字母代表的北美洲地理事物名称：
A 内华达山脉，B 落基山脉，C 密西西比平原，D 阿巴拉契亚山脉，E 大西洋沿岸平原。

(4) 乙图反映北美洲地势东西方向变化的哪些特点？
西部是高山区，中部是平原区，东部是高原、山地

23. 读下图，分析地形因素对北美气候的影响。(20分)



(1) 图中①表示来自太平洋的西风。因受科迪勒拉山系的阻挡而只能影响沿海狭窄地带，致使这里的温带海洋性气候区范围小。

(2) 图中③表示来源于北冰洋性质干冷的气流，因中部的平原南北贯通而长

驱南下，形成冬季的强冷空气。

(3) 图中箭头②表示北方的气流也可以影响东海岸，从地形因素看，是由于地势低缓。

(4) 因为无山脉阻挡，南方的暖湿空气(箭头④)可深入内陆，在冬季常带来短期、反常的温暖天气。

(5) 北美的气候以温带大陆性气候为主，从地形因素看，是由于东西两侧较高，北美的水汽主要源于大西洋，除地形、地势方面的原因外，还受墨西哥湾暖流的影响。

24. 请你解释下面风俗习惯、民俗的形成是为了适应什么样的自然环境？(12分)

(1) 沙特阿拉伯的贝都因人，居住帐篷，身穿宽大的袍子，过着游牧生活。沙特阿拉伯地处热带沙漠，气温高，身穿宽大袍子便于散热，内陆地区温差大，袍子穿脱也方便。干旱地区发展畜牧业，所以过着游牧生活，住房便于搬迁

(2) 生活在西伯利亚的亚库特人，居住木屋，身穿毛皮服装，用狗拉雪橇做运输工具。

西伯利亚地区寒冷，为了抵御寒冷，他们穿毛皮衣服。那里生长着大量的针叶林，所以住小木屋。终年积雪，所以可以用狗拉雪橇做交通工具

(3) 生活在恒河三角洲的孟加拉人以船为交通工具。孟加拉人那里降水较多，终年湿热，河网密布，所以出门要乘船，以捕鱼为生

(4) 生活在印度尼西亚的加里曼丹岛的达雅克人聚居的高脚屋，长达 200 米。印度尼西亚那里是热带雨林气候，高温多雨，为了防潮，住高脚屋；又因为是聚居，所以房子比较长

(5) 日本的防震建筑。
日本位于地震带上，所以日本的建筑都是防震设计

(6) 也门的住房都开着小小的窗子。
也门比较热，为防止阳光照射，窗子都像小格子一样。

(时间：60分钟 满分：100分)

一、单项选择题(每小题2分，共40分)



北京时间3月11日13时46分，日本东北地区发生里氏9.0级强震，并引发日本福岛第一核电站爆炸，造成核泄漏。读这次地震震中位置示意图，回答1~3题。

1. 能正确表示震中位置的经纬度是(B)

A. $N38.1^{\circ}$, $E142.6^{\circ}$

B. $38.1^{\circ} N$, $142.6^{\circ} E$

C. $N38.1^{\circ}$, $W142.6^{\circ}$ D. $38.1^{\circ} S$, $142.6^{\circ} E$

2. 震后某日，受灾区风向的影响，①、②、③、④四地空气中放射性物质含量最高的是(A)

A. ①

B. ②

C. ③

D. ④

3. 有关日本地理环境的叙述，正确的是(B)

A. 日本降水较丰富，属于温带海洋性气候

B. 日本地处太平洋板块与亚欧板块交界处，多火山地震

C. 日本工业发达，其产品主要供应国内市场

D. 日本的工业主要分布在太平洋沿岸和日本海沿岸

4. 有关日本经济发展迅速的原因，说法正确的是(C)

A. 发展资本主义历史悠久 B. 本国资源丰富

C. 岛国多良港 D. 激烈的市场竞争的促进作用

5. 东南亚主要由(A)

A. 中南半岛和马来群岛两大部分组成

B. 中南半岛和菲律宾群岛两大部分组成

C. 马来半岛和菲律宾群岛两大部分组成

D. 马来半岛和马来群岛两大部分组成

6. 马来群岛大部分地区的气候特征是(D)

A. 夏季高温多雨 B. 气候温和，降水丰沛

C. 炎热少雨 D. 全年高温多雨

读世界部分地区地图，回答7~9题。



7. 马六甲海峡(A)

- A. 位于马来半岛和苏门答腊岛之间 B. 位于马来半岛和爪哇岛之间
C. 是沟通太平洋与大西洋的咽喉要道 D. 地处北温带

8. ①②③分别代表的大洲是(A)

- A. 亚洲、非洲、大洋洲 B. 非洲、大洋洲、亚洲
C. 大洋洲、亚洲、非洲 D. 欧洲、亚洲、非洲

9. 航线④⑤⑥⑦到达的大洲分别是(A)

- A. 非洲、大洋洲、欧洲、南北美洲 B. 大洋洲、欧洲、非洲、南北美洲
C. 欧洲、非洲、大洋洲、南北美洲 D. 非洲、欧洲、大洋洲、南北美洲

10. 下表所示为日本进口的主要工业原料所占百分比及主要工业产品占世界市场百分比。下列关于日本工业的说法, 正确的是(B)

主要工业原料	石油	铁矿石	棉花
进口比例(%)	99.7	100	100
主要工业产品	小汽车	船舶	照相机
占世界市场比例(%)	43.1	72.6	87.0

- A. 工业原料全部依赖进口 B. 经济对外依赖性强
C. 工业产品主要供国内消费 D. 工业集中分布在日本海沿岸

11. 印度最大的棉纺织工业中心在(A)

- A. 孟买 B. 新德里 C. 乞拉朋齐 D. 加尔各答

12. 印度许多城市形成了规模较大的工业部门, 下列工业城市与工业部门搭配正确的是(A)

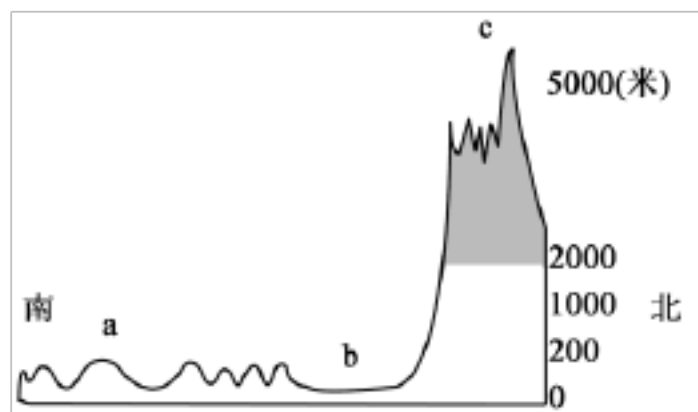
- A. 班加罗尔——计算机软件 B. 加尔各答——棉纺工业
C. 新德里——麻纺工业 D. 孟买——钢铁工业

13. 印度是世界第二软件大国, 软件出口量仅次于(D)

- A. 日本 B. 英国 C. 德国 D. 美国

14. 关于印度热带季风气候的叙述正确的是(D)

- A. 6~9月盛行西南风, 气候干燥 B. 10月~次年5月盛行东北风, 降水很多
C. 3~5月气候凉爽, 降水丰沛 D. 降水集中在6~9月, 洪涝灾害频繁



读图“沿 78° E 南亚地形剖面图”，完成 15~16 题。

15. b 地形区为 (A)

- A. 恒河平原
- B. 亚马孙平原
- C. 德干高原
- D. 密西西比河平原

16. 该地形区最主要的气候灾害是 (D)

- A. 沙尘暴
- B. 寒潮
- C. 台风
- D. 旱涝

17. 关于俄罗斯的叙述，正确的是 (D)

- A. 大部分地区属于温带海洋性气候
- B. 西伯利亚地区地势北高南低
- C. 北部沿海多优良港湾
- D. 石油资源丰富，是重要的石油出口国

18. 俄罗斯森林资源丰富，大部分森林属于 (A)

- A. 亚寒带针叶林
- B. 亚热带常绿阔叶林
- C. 温带落叶阔叶林
- D. 热带雨

林

19. 下列有关俄罗斯工业的叙述，错误的是 (B)

- A. 工业部门以重工业为主
- B. 工业集中分布在亚洲部分
- C. 工业建设向西伯利亚地区发展
- D. 工业基础雄厚，工业部门齐全

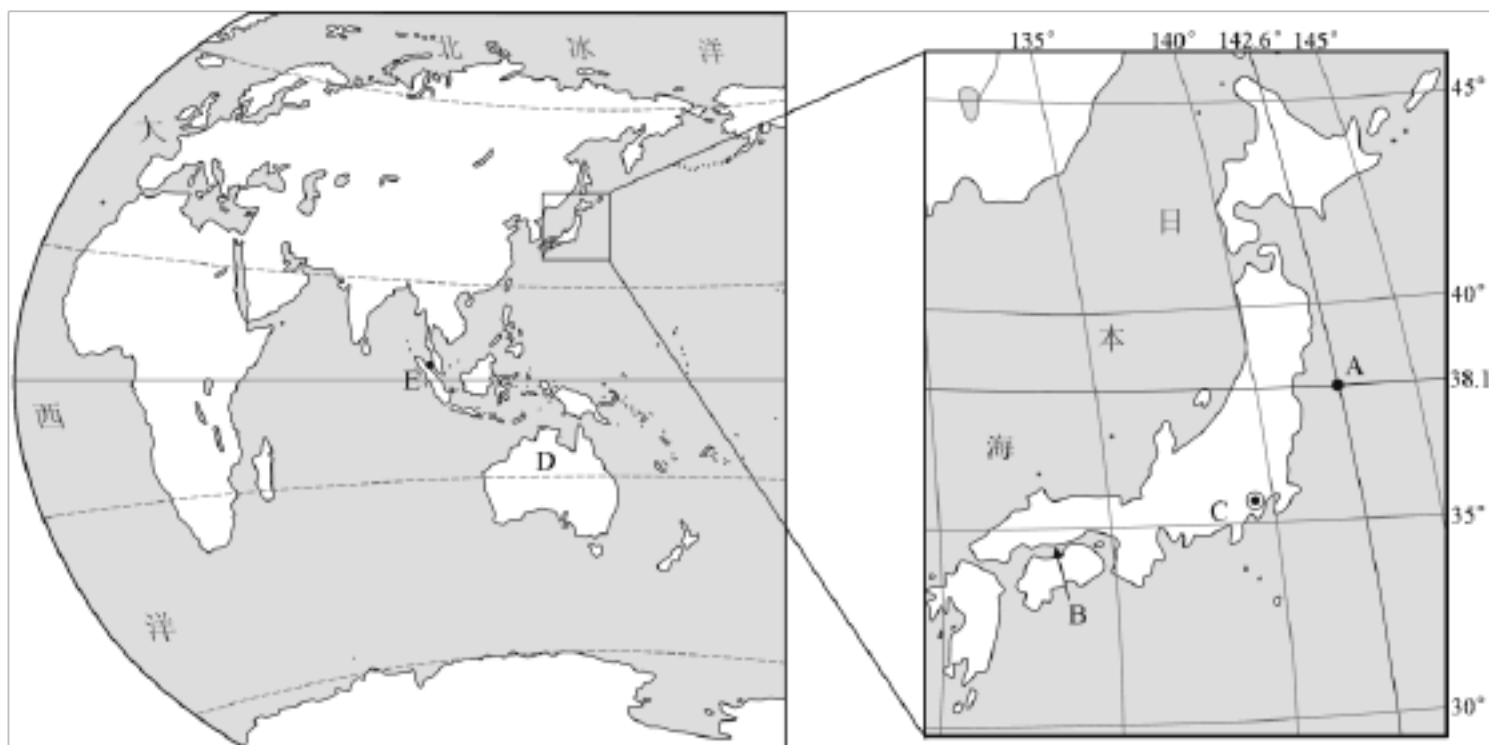
20. 俄罗斯在太平洋沿岸的主要海港是 (B)

- A. 圣彼得堡
- B. 海参崴
- C. 莫斯科
- D. 摩尔曼斯克

二、综合题(共 60 分)

21. 读材料及图，完成下列问题。(18 分)

材料：北京时间 2011 年 3 月 11 日 13 时 46 分，日本附近海域发生里氏 9.0 级强烈地震，引发约 10 米高的海啸，并引发核电站爆炸，导致核泄露。



- (1) 写出此次地震震中 A 点的经纬度位置 (38.1°N , 142.6°E)。
- (2) 日本著名工业区 B 濑户内工业区和 C 京滨工业区分布的共同点是：临海。地震发生时这两大工业区震感强烈。
- (3) 来自世界各国的国际救援队于 3 月 19 日前后陆续结束搜救工作回国，来自图中 D 澳大利亚 (国家) 的救援队回国时，该国的季节为秋季。
- (4) 中国应日本政府要求，无偿援助日本地震灾区的 2 万吨燃油通过 (A) 运输方式于 2011 年 4 月 1 日运抵日本。
A. 海运 B. 管道 C. 航空 D. 铁路
- (5) 日本多地震的原因是因为日本位于环太平洋火山地震带。
- (6) 下列说法错误的是 (C)
A. 图 1 所示地区大部分位于东半球
B. 图中 E 马六甲海峡被日本称为海上生命线
C. 日本工业大部分位于日本海沿岸，受此次地震影响很小
D. 富士山是一座火山
22. 读图 1、2、3 完成下列问题。(18 分)

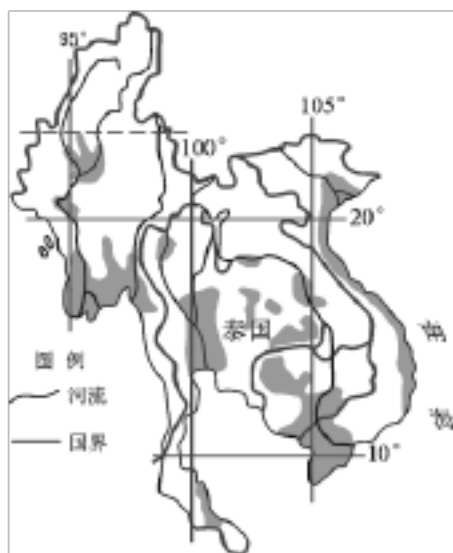
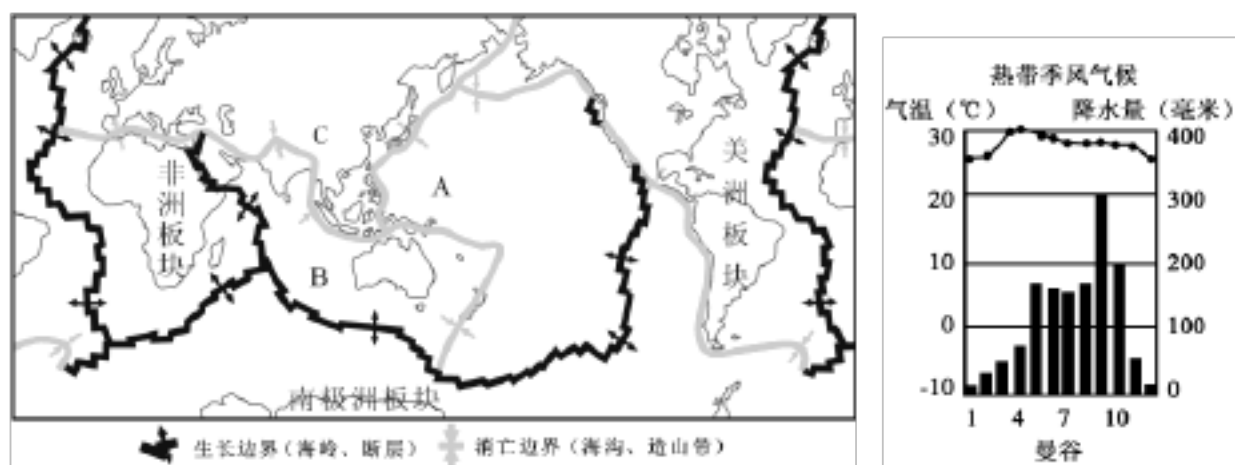


图 1

图 2

图 3

- (1) 东南亚的中南半岛位于北 (南或北) 半球，西临 B 印度洋。
- (2) 由图 3 中河流的流向可判断中南半岛的地势特点北高南低。
- (3) 由图 2 分析，该地区最主要的粮食作物是水稻 (小麦、玉米、水稻)，适合该作物生长的有利气候条件是全年高温，降水多 (或雨热同期)。
- (4) 图 3 阴影部分表示中南半岛主要农业区，请描述这些农业区的分布状况：沿海、沿河平原及河口三角洲地区。
- (5) 2010 年 1 月 1 日“中国—东盟 (东南亚联盟) 自由贸易区”正式全面启动，以下商品不属于东盟十国主要出口商品的是 (C)
A. 天然橡胶 B. 椰子 C. 羊毛 D. 棕油
- (6) 印度尼西亚被称为“火山国”，是由于该地区处于 A、B、C 三大板块的交

界处，多火山和地震，其中 C 为亚欧板块。



23. 右图是“俄罗斯略图”，读后完成下列要求。(12分)

- (1) 俄罗斯国土东濒太平洋，西临波罗的海和黑海。
- (2) 图中四个注有名称的城市中，每年冬季有一段时间太阳总在地平线以下的城市是摩尔曼斯克。
- (3) 俄罗斯河流众多，图中标有代号 D 的河流名称是叶尼塞河，该河自南向北流，注入北冰洋。
- (4) 将图中 A、B、C 三个矿产地的名称及所产矿产填在下面横线上：
A 库尔斯克：铁；B 秋明：石油；C 库兹巴斯：煤炭。

24. 2012年3月金砖(BRICS)国家领导人第四次大会在印度举行，五国领导人就国际形势、经济、金融发展等问题交换了意见。读下列图表，回答问题。(12分)

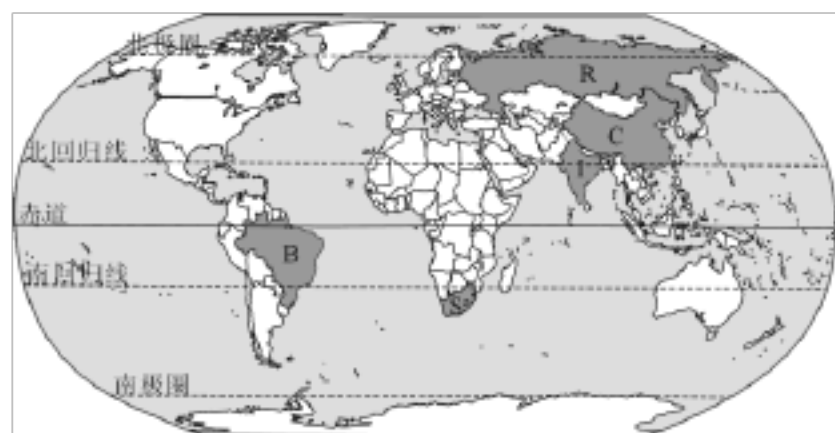


表1

工业产品	在世界位次
钢	第三位
发电量	第四位
煤炭	第四位
化肥	第四位
原油	第一位
天然气	第一位

- (1) 中国、俄罗斯、南非和巴西四国领导人均坐飞机到新德里出席本次会议。飞机这种交通工具的优点是：速度快。
- (2) 俄罗斯地跨亚欧两洲。读表 1 “俄罗斯主要工业产品在世界中的地位”可知，俄罗斯自然资源丰富，重工业(选填重工业或轻工业)发达。
- (3) 印度黄麻产量世界第一。麻纺织工业靠近原料产地可降低生产成本。图中印度的四个城市，最有发展麻纺织工业优势的是加尔各答。

以上内容仅为本文档的试下载部分，为可阅读页数的一半内容。如要下载或阅读全文，请访问：<https://d.book118.com/705304124212011042>