

云南省曲靖市宣威市 2024-2025 学年上学期期中考试

八年级地理试卷试题卷

范围：八年级上册

(两个大题, 36 个小题, 共 8 页)

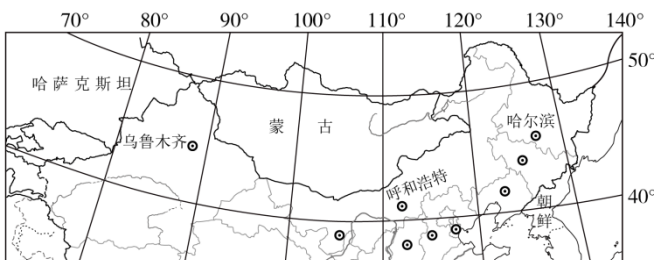
温馨提示:

亲爱的同学: 在辛勤地付出后, 你一定希望自己有一个美好的收获。这个时刻到来了, 请认真细心地对待每一道习题吧! 这份练习题将再次记录你的自信、沉着、智慧和收获, 相信你一定会成为最好的自己!

第 I 卷 (选择题, 共 60 分)

一、选择题 (本大题共 30 小题, 每小题 2 分, 共 60 分。在每小题给出的四个选项中, 只有一项是符合题目要求的。)

读我国局部地区示意图, 完成下面小题。



1. 当哈尔滨晨光熹微时, 乌鲁木齐依然夜色深重, 这种现象产生的原因是我国 ()
A. 主要位于北温带 B. 海陆兼备 C. 南北跨纬度广 D. 东西跨经度广
2. 呼和浩特所在的省级行政区 ()
A. 与朝鲜接壤 B. 主要少数民族的传统服饰为藏袍
C. 主要少数民族的传统节日为那达慕大会 D. 远看是山, 近看是川

【答案】1. D 2. C

【解析】

【1 题详解】

哈尔滨晨光熹微时, 乌鲁木齐依然夜色深重, 说明两个地方出现了地方的时差, 是因为中国东西经度跨度大, 由于地球的自转, 不同经度的地方产生地方时差, 根据题意排除 ABC, 故选 D。

【2 题详解】

由图可知，呼和浩特所在省级行政区是内蒙古自治区，与蒙古和俄罗斯2个国家相邻，A错误；内蒙古自治区少数民族主要是蒙古族，B错误；蒙古族的传统节日是那达慕大会，C正确；内蒙古自治区主要地形区是内蒙古高原，地形平坦开阔，“远看是山，近看是川”描述的是青藏高原，D错误。综上所述，ABD错误，C正确，故选C。

【点睛】地球自转产生昼夜更替和地方时差，东边的时间早于西边。内蒙古自治区是我国东西跨度最广的省级行政单位。

“婚姻贫困”是我国低生育率及传统生育思想等影响下产生的性别比例失衡现象。在2020年全国人口中，20~40岁适龄男性比女性多1752万人，该问题在贫困地区更加突出。完成下面小题。

3. 我国“婚姻贫困”的原因不包括（ ）

A. 人口老龄化严重 B. “养儿防老”的思想 C. 生育率较低 D. 区域间经济水平差异

4. 缓解我国“婚姻贫困”的主要途径是（ ）

A. 限制城乡人口流动 B. 适当调整生育政策 C. 严控城市人口增长 D. 取消计划生育政策

【答案】3. A 4. B

【解析】

【3题详解】

从材料中可知，我国“婚姻贫困”的原因为低生育率及传统生育思想（例如“养儿防老”），BC包括；贫困地区“婚姻贫困”更加突出，说明其原因还有区域间经济发展水平差异，D包括；人口老龄化严重与“婚姻贫困”无关，A不包括。题目要求选择我国“婚姻贫困”的原因不包括的一项，A选项符合题意。故选A。

【4题详解】

促进城乡人口流动，可以减小区域性别结构差异，从而缓解我国“婚姻贫困”，A错误；适度调整生育政策，鼓励“二孩”可减少人为原因导致的性别鉴定，从而增加女性人口数量，B正确；严控城市人口增长，不利于缓解“婚姻贫困”，C错误；计划生育政策依据国情进行改善和调整，不能取消，D错误。故选B。

【点睛】近年来，我国劳动年龄人口数量下降，老年人口比重不断上升。为了促进人口与社会经济长期均衡发展，国家不断调整计划生育政策。我国从2016年起全面实施一对夫妻可生育两个孩子的计划生育政策，2021年开始实施一对夫妻可以生育三个子女的政策，并配套支持措施。

中国是茶的故乡，茶文化的发源地。绿茶、红茶、黑茶、乌龙茶、黄茶、白茶为我国六大茶类。读“我国黑茶主要分布示意图”，完成下面小题。



5. 图中黑茶与所在省区简称对应正确的是 ()
- A. 边茶——渝 B. 茯茶——陇 C. 老青茶——鄂 D. 古黔黑茶——赣
6. 我国民族众多，其中少数民族风情浓郁，民族种类最多的是____所在的省区 ()
- A. 边茶 B. 普洱茶 C. 安化黑茶 D. 六堡茶
7. 图中茯茶所在地形区的地貌特征主要是 ()
- A. 平原广阔，黑土肥沃 B. 地表崎岖，石灰岩分布广 C. 开阔坦荡，起伏和缓 D. 千沟万壑，支离破碎

【答案】 5. C 6. B 7. D

【解析】

【5题详解】

读图并结合所学知识可知，边茶所在省区是四川省，简称川或蜀，A 错误；茯茶所在省区是陕西省，简称陕或秦，B 错误；老青茶所在省区是湖北省，简称鄂，C 正确；古黔黑茶所在省区是安徽省，简称皖，D 错误。故选 C。

【6题详解】

读图并结合所学知识可知，我国少数民族种类最多的省区是云南省，是图中普洱茶所在的省区，B 正确；边茶位于四川省，A 错误；安化黑茶位于湖南省，C 错误；六堡茶位于广西壮族自治区，D 错误。故选 B。

【7题详解】

读图并结合所学知识可知，图中茯茶所在地形区是黄土高原，黄土高原的地貌特征是千沟万壑，支离破碎，D 正确；平原广阔，黑土肥沃描述的是东北平原，A 错误；地表崎岖，石灰岩分布广描述的是云贵高原，B 错误；开阔坦荡，起伏和缓描述的是内蒙古高原，C 错误。故选 D。

【点睛】 茶树属亚热带植物，喜湿怕涝，喜暖怕寒，喜酸性土壤，在我国多分布在南方地区的丘陵山地上。

8. 我国受冬季风影响 ()
- A. 北方的严寒加剧，南北温差加大 B. 南方雨季开始的时间比北方早

C 降水量由东南沿海向西北内陆递减

D. 冬季风活动异常时，旱涝灾害频发

【答案】A

【解析】

【详解】我国北方地区邻近冬季风的源地，寒冷的冬季风加剧了我国北方的严寒。而冬季风在翻越重重山岭到达南方地区时，风力大大减弱。所以我国冬季风加剧了北方冬季严寒，使南北温差大，故 A 正确；降水的时间和空间分布特点主要受夏季风影响，夏季风不稳定，使旱涝灾害频发，故 BCD 错。本题选 A。

【点睛】我国季风气候区与非季风气候区的分界线：从大兴安岭-阴山山脉-贺兰山-乌鞘岭-巴颜喀拉山-唐古拉山-冈底斯山连线。此分界线以东为季风区，在季风区中，冬季近地面受高压系统控制，盛行偏北风，气候干冷，夏季受低压系统控制，盛行偏南风，气候湿润。此分界线以西为非季风区，气候干旱。

9. 夏季风的进退影响到我国大陆东部雨带的推移。如果雨带推进迅速且在北方滞留时间长，则容易出现()

A. 南北皆涝

B. 南北皆旱

C. 北涝南旱

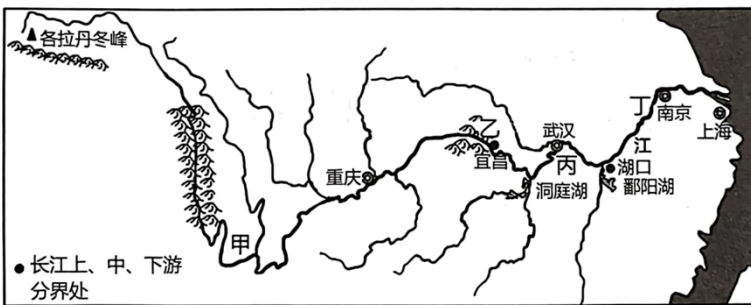
D. 南涝北旱

【答案】C

【解析】

【详解】结合所学知识，由于夏季风的强弱不稳定，容易出现旱涝灾害，如果夏季风势力强，前进速度快，则到达北方时间早、徘徊时间长，就会导致北方地区降水多，南方地区降水少，容易出现北涝南旱，C 正确，ABD 错误。故选 C。

读“长江水系示意图”，完成下面小题。



10. 长江被称为“水能宝库”，其中()

①甲处水流湍急，水能资源丰富②乙处流经巫山，水能资源丰富

③丙处河道弯曲，水能资源丰富④丁处水量大，水能资源丰富

A. ①②

B. ②③

C. ②④

D. ③④

11. 长江被称为“黄金水道”，主要得益于长江中下游()

①无结冰期②凌汛河段较短③江阔水深④水流平稳

A. ①②③

B. ①②④

C. ①③④

D. ②③④

12. 长江中游河道弯曲、多湖泊，为实现可持续发展，可行的措施是()

- ①围湖造田，增加耕地面积②退耕还湖，植树造林
③疏通河道，促进洪畅通④移民建镇，缓解人地矛盾

A. ①③ B. ②③ C. ②④ D. ③④

【答案】 10. A 11. C 12. B

【解析】

【分析】

【10 题详解】

读图分析，甲处位于横断山区，乙处流经巫山，两处都位于阶梯交界处，落差大，水流湍急，水能资源丰富，①②正确；河道弯曲，水流不畅，与水能资源无关，③错误；丁处位于长江中下游平原，地势平坦，水能资源缺乏，④错误，故选 A。

【11 题详解】

长江中下游江阔水深，水流平稳、位于亚热带季风气候区，无结冰期，航运价值高，被誉为“黄金水道”。

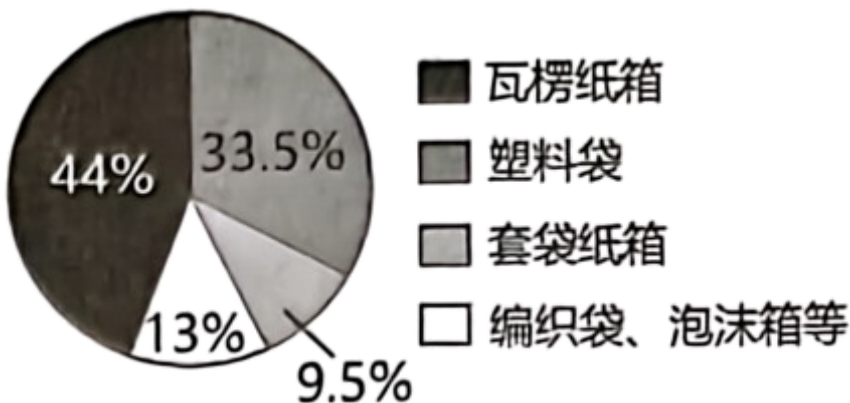
①③④正确；长江没有凌汛，黄河有凌汛，②错误，故选 C。

【12 题详解】

长江中游荆江河段有“九曲回肠”之称，河道特别弯曲，水流不畅，泥沙淤积，其治理措施是人工裁弯取直，疏通河道堵塞和加固大堤，退耕还湖，植树造林，②③正确；长江中游多湖泊，围湖造田，增加耕地会导致湖泊面积缩小，对洪水的调蓄能力下降，①错误；移民建镇成本高，难度大，不利于可持续发展，④错误；故选 B。

【点睛】长江是中国东西向交通的大动脉，自古以来就享有“黄金水道”的盛誉。近半个世纪以来，经过航道综合整治，加之三峡、葛洲坝等水利枢纽的建设，长江的通航条件得到显著改善。

截至 2022 年 12 月 1 日，我国快递业务量突破 1000 亿件。快递业迅猛发展，其包装垃圾成了城市生活垃圾增量的主要来源之一。读“快递包装原材料种类占比图”，完成下面小题。



13. 快递包装垃圾的原材料中（ ）

- A. 全部是可再生资源
- B. 全部是非可再生资源
- C. 绝大部分是合成材料
- D. 森林资源的占比最大

14. 针对快递包装产生的大量垃圾，合理的做法是（ ）

- ①减少或禁用不可降解塑料包装袋
- ②填埋或者焚烧塑料垃圾
- ③推广“绿色”包装和纸箱回收计划
- ④使用可循环利用的快递箱

- A. ①②③ B. ①②④ C. ①③④ D. ②③④

【答案】13. D 14. C

【解析】

【13题详解】

读图可知，快递包装垃圾的原材料中，瓦楞纸箱占比最大，其原材料是森林资源，是可再生资源，D正确；塑料袋、编织袋、泡沫箱是合成材料，不属于自然资源，更不是可再生资源，ABC错误。故选D。

【14题详解】

针对快递包装产生的大量城市垃圾，合理的做法是减少或禁用不可降解塑料包装袋、使用可循环利用的快递箱、推广“绿色”包装和纸箱回收计划，①③④正确；填埋或者焚烧塑料垃圾会造成环境污染，②错误；故选C。

【点睛】可再生资源是指被人类开发利用后，可以在较短时间内更新、再生，或者能够重复利用、循环使用的自然资源，如气候资源、生物资源、水资源和土地资源等。非可再生资源是指经人类开发利用后蕴藏量不断减少，在相当长的时间内不可能再生的自然资源，主要是指自然界的各种矿物、岩石和化石燃料，例如金属矿产、非金属矿产、煤炭、石油、天然气等矿产资源。

15. 我国水资源的时间分布特点为（ ）

- A. 东多西少，南多北少
- B. 从东南沿海向西北内陆递减
- C. 总量丰富，人均不足
- D. 夏秋多，冬春少，年际变化大

【答案】D

【解析】

【详解】我国大部分地区夏秋季节降水丰沛，河流处于丰水期，水资源较为丰富；冬春季降水少，河流处于枯水期，水资源不足，且降水量的

年际变化大，D 正确。东多西少，南多北少、从东南沿海向西北内陆递减是我国水资源的空间分布规律，AB 错误。总量丰富，人均不足与我国水资源的时间分布无关，C 错误。故选 D。

16. 我国在沿海海域实行“伏季休渔”制度，其主要原因是（ ）

- A. 确保渔业可持续发展 B. 渔业船只需要修补 C. 沿海地区夏秋季节多台风 D. 气温高不利于海上作业

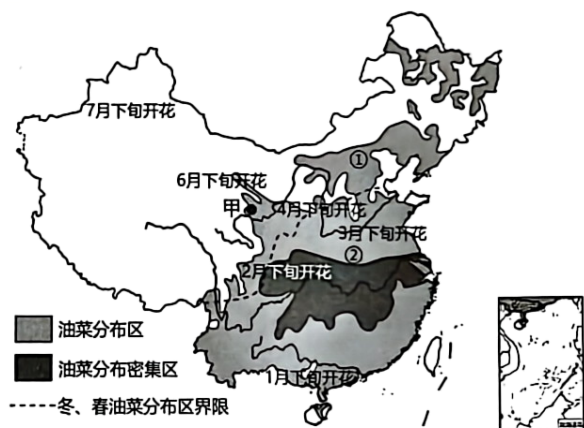
【答案】A

【解析】

【详解】结合所学知识可知，为了让海洋生物资源得到休养生息的机会，实现渔业资源的可持续发展，我国在沿海海域实行“伏季休渔”制度，禁止过度捕捞，A 正确，BCD 错误。故选 A。

【点睛】我国海域辽阔，有四大领海：渤海、黄海、东海、南海。

我国每年 1 月份到 7 月份都有油菜花盛开，是一项美丽的旅游资源。下图示意我国春、冬油菜主要分布图，冬油菜秋种夏收，生长过程需越冬。图中①②两区域油菜的种植季节不同。读图，完成下面小题。



17. 结合图文材料判断，下列叙述正确的是（ ）

- A. 油菜密集区主要位于暖温带 B. ①区域主要种植冬油菜
C. 东部最佳赏花方向为自南向北 D. 珠江流域是赏花的最佳区域

18. 青海省东部甲地的油菜比同纬度其它地区的油菜开花迟，其主要影响因素是（ ）

- A. 纬度位置 B. 地形地势 C. 海陆位置 D. 品种差异

【答案】17. C 18. B

【解析】

【17 题详解】

颜色最深的地区是油菜分布密集区，主要分布在长江流域，属于亚热带，A 叙述错误；①区域主要种植春油菜，B 叙述错误；据图可知，总体来看，东部地区自南向北，油菜开花时间越来越迟，所以东部最佳赏花方向为自南向北，C 叙述正确；长江流域油菜分布密集区，是赏花的最佳区域，D 叙述错误。故选 C。

【18 题详解】

油菜开花时间的早晚与气温有关，甲地位于青藏地区，海拔比同纬度其他地区高，受地形因素影响（海拔每升高 100 米，气温约下降 0.6℃），气温比同纬度其他地区低，所以油菜开花时间晚，A 错误，B 正确；海陆位置、品种差异不是甲地油菜比同纬度其它地区油菜开花迟的主要影响因素，CD 错误。故选 B。

【点睛】一般来说，冬季最冷月平均气温高于零下 10℃的地区，为冬油菜区，人们通常于前一年秋天播种，次年大地春回，油菜才迅速开花成熟。在冬季最冷月平均气温低于零下 10℃的地区，油菜不能安全越冬，只好改为春种秋收，称为春油菜。

19. 肉串裹上蘸酱，摊在小饼上，再放段小葱一卷，成就了独特的山东淄博烧烤。小饼、蘸酱的部分原料为当地主要农作物，它们分别是（ ）

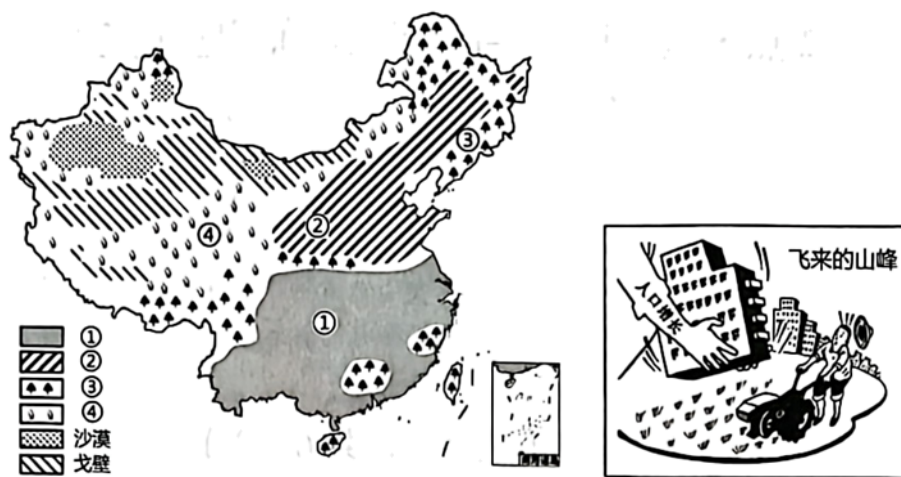
- A. 水稻、油菜 B. 小麦、花生 C. 青稞、甜菜 D. 小麦、甘蔗

【答案】B

【解析】

【详解】淄博位于山东省，属于温带季风气候区，当地主要农作物有小麦、花生等。小饼是小麦制作的，蘸酱的油是花生榨取的，B 正确；水稻和油菜、甘蔗主要分布在南方地区，青稞是青藏地区的农作物，甜菜主要种植在东北地区，ACD 错误。故选 B。

2023 年 6 月 25 日是第 33 个中国土地日，读“中国主要土地利用类型分布示意图”及相关漫画，完成下面小题。



20. 关于我国的土地利用类型，下列叙述错误的是（ ）

- A. ①②以秦岭—淮河一线为界 B. ②土地利用类型为旱地
C. 东北、西南和东南林区是我国的三大林区 D. 漫画所示的问题主要发生在③土地类型

21. 诗句“稻花香里说丰年，听取蛙声一片”的景观最可能发生在____土地利用类型（ ）

- A. ① B. ② C. ③ D. ④

22. 坚持因地制宜和可持续发展原则，在③和④最适宜发展的农业生产部门分别是（ ）

- A. 种植业、畜牧业 B. 林业、种植业 C. 林业、畜牧业 D. 渔业、畜牧业

【答案】20. D 21. A 22. C

【解析】

【20 题详解】

读图可知，①为我国的南方地区以水田为主的耕地、②为我国的北方地区以旱地为主的耕地，水田和旱地大致以秦岭—淮河为界，AB 正确；东北、西南和东南林区是我国的三大林区，其中东北、西南为我国的天然林区，东南为我国的人工林区，C 正确；由图可知，漫画所示的问题是乱占耕地现象，③土地类型为林地，与漫画反映的问题并不相符，D 错误。根据题意，故选 D。

【21 题详解】

稻花香里说丰年，听取蛙声一片，描述的南方地区水田种植水稻的景观，①为南方以水田为主的耕地，A 正确；②为北方地区以旱地为主的耕地，③为林地，④为草地，BCD 错误。故选 A。

【22 题详解】

读图可知，③为林地，④为草地。根据因地制宜的原则，林地最适宜发展的农业生产部门是林业；草地最适宜发展的农业生产部门是畜牧业，C 正确；ABD 错误。故选 C。

【点睛】秦岭、淮河一线的意义主要是：四大区域中南方与北方地区的分界线；一月份 0℃等温线通过的地方；800mm 等降水线通过的地方；温度带中暖温带与亚热带分界线；干湿地区中湿润区与半湿润区分界线；河流有冰期与无冰期的分界线等；耕地类型中旱地与水田的分界线；粮食作物中小麦与水稻的分界线。

23. 一位西藏地区的牧民正在打理自家的牧场，在他的牧场中，饲养的牲畜最可能是（ ）

- A. 细毛羊 B. 牦牛 C. 滩羊 D. 三河马

【答案】B

【解析】

【详解】西藏位于青藏地区，该地区自然环境特点是高寒，主要的优良牲畜品种是牦牛，号称“高原之舟”。B 正确；新疆牧区细毛羊，A 错误；宁夏牧区滩羊，C 错误；内蒙古牧区三河马，D 错误，故选 B。

【点睛】我国有四大牧区：内蒙古牧区属于温带草原牧场，主要的牲畜是三河牛、三河马；新疆牧区，属于山地牧场，主要的牲畜是细毛羊；青海和西藏牧区，属于高寒牧场，主要的牲畜是牦牛和藏绵羊。

比亚迪是中国著名的汽车品牌，其公司的总部位于广东省深圳市。2022 上半年，比亚迪新能源汽车成为全球销量最大的电动汽车。阅读材料，完成下面小题。

24. 比亚迪将公司的总部设在深圳的主要原因是（ ）

- ①当地经济发达，科技力量雄厚②海陆交通便利③周边地区经济基础好
④地广人稀，土地和劳动力价格低⑤毗连港澳，靠近东南亚，市场广阔

- A. ①②③④ B. ②③④⑤ C. ①③④⑤ D. ①②③⑤

以上内容仅为本文档的试下载部分，为可阅读页数的一半内容。如要下载或阅读全文，请访问：<https://d.book118.com/706045201240011001>