

2024 届山东省日照市高三下学期校际联合考试（三模）

历史试题

2024.05

注意事项：

- 1.答卷前，考生务必将自己的姓名、考生号等填在答题卡和试卷指定位置。
- 2.回答选择题时，选出每小题【答案】后，用铅笔把答题卡上对应题目的【答案】标号涂黑。如需改动，用橡皮擦干净后，再选涂其他【答案】标号。回答非选择题时，将【答案】写在答题卡上。写在本试卷上无效。
- 3.考试结束后，将本试卷和答题卡一并交回。

一、选择题：本题共 15 小题，每小题 3 分，共 45 分。每小题给出的四个选项中，只有一项是最符合题目要求的。

1. 聘礼是王、诸侯国之间结好关系之礼。西周时期，聘礼主要是天子聘诸侯，诸侯觐见天子，诸侯间的互聘并不显著；春秋时期，天子与诸侯间的聘礼十分稀疏，诸侯间的聘礼日益频繁；至战国，聘礼已不再经常举行，七国间由辩士任使臣的遣使交通却非常频繁。这表明（ ）

- | | |
|---------------|---------------|
| A. 时局变化推动礼仪革新 | B. 外交更加注重现实利益 |
| C. 实力决定列国关系走向 | D. 诸侯国结盟与背盟频发 |

【答案】B

【解析】

本题是单类型单项选择题。根据题干设问词，可知是本质题。根据材料关键信息可知准确时空是：春秋战国时期的中国。根据材料“西周时期，聘礼主要是天子聘诸侯，诸侯觐见天子，诸侯间的互聘并不显著”“春秋时期，天子与诸侯间的聘礼十分稀疏，诸侯间的聘礼日益频繁；至战国，聘礼已不再经常举行，七国间由辩士任使臣的遣使交通却非常频繁”和所学可知，春秋战国时期，礼崩乐坏，王室衰微，诸侯并起，原来适用于天子聘诸侯的聘礼，逐渐适用于诸侯之间，后被辩士任使臣的遣使交通取代，说明的是外交更加注重现实利益，B 项正确；材料未涉及礼仪革新的说法，强调的诸侯国之间的利益，排除 A 项；材料未涉及实力对列国间关系走向的影响，排除 C 项；材料同诸侯国结盟与背盟频发的说法无关，排除 D 项。故选 B 项。

2. 《汉书》首创并特别重视《地理志》。首次以“地理”命名，专章论述全国疆域、政区、

户籍，兼及自然、人文等事。这反映了（ ）

- A. 国家疆土意识强化
B. 服务现实色彩浓厚
C. 史学功能得以拓展
D. 治理体系成熟完备

【答案】D

【解析】

本题是单类型单项选择题。根据题干设问词，可知是本质题。根据材料关键信息可知准确时空是：汉朝时期的中国。根据材料“《汉书》首创并特别重视《地理志》。首次以‘地理’命名，专章论述全国疆域、政区、户籍，兼及自然、人文等事”和所学可知，《汉书·地理志》记述了汉代的一些经济、人文地理情况，对全国作了区域划分和分区概述，还载有南海各国的简况和通航的路线。它是中国最早以疆域政区为主体的地理著作，开创了疆域地理志和沿革地理的体例，说明当时治理体系成熟完备，其创作背景是在全国大一统形式下完成的，说明的是当时国家治理体系的成熟，D项正确；材料强调的是国家治理层次，非疆土意识，排除A项；《汉书·地理志》是中国最早以疆域政区为主体的地理著作，开创了疆域地理志和沿革地理的体例，与服务现实的说法无关，排除B项；材料未涉及史学功能的拓展，排除C项。故选D项。

3. 唐显庆四年（659年），唐高宗颁布《显庆姓氏录》，规定只要做官进了五品，就可以列入其中。这是由政府公布的士族等第的权威名录，被列入名录的有245姓、287家，较之唐太宗时减少48姓、1364家。此举旨在（ ）

- A. 巩固统治基础
B. 强化中央权威
C. 推进科举改革
D. 平衡派别利益

【答案】A

【解析】

本题是单类型单项选择题。据本题主题干的设问词，可知这是目的题。据本题时间信息可知准确时空是：唐朝（中国）。根据材料“规定只要做官进了五品，就可以列入其中。这是由政府公布的士族等第的权威名录，被列入名录的有245姓、287家，较之唐太宗时减少48姓、1364家”可知，世家大族数量减少，打击了旧士族贵族，根据所学可知，唐朝时期科举制推广，庶族地主兴起，只要做官到五品就可以列入姓氏录，这有利于争取庶族地主，扩大统治基础，A项正确；姓氏录之前也是由政府颁布，且强化中央权威是对材料的片面解读，排除B项；推进科举改革不是主要目的，排除C项；平衡派别利益不符合材料主旨，排除D项。故选A项。

4. 明洪武年间，建历代帝王庙，一并祭祀历代帝王。洪武二十一年，确定历代开国之君自伏羲氏、神农氏、黄帝至元世祖共 16 帝入祀。如表为此后变化情况（ ）

时间段	入祀人数	入祀标准	增加祭祀	停止祭祀
明嘉靖中期	15	开国创业之君		元世祖
清顺治元年	16	开国创业之君	明太祖	
清顺治二年	21	开国创业之君	恢复元世祖，新增辽太祖、金太祖、金太宗、元太祖	
清康熙末年至雍正初	164	除无道被弑和亡国之君，皆可入祀	夏启、商太甲、周成王、崇祯帝等 143 人	

明清时期国家祭祀历代帝王主要目的是

- A. 促进统一多民族国家认同
- B. 宣扬天下一家的政治理念
- C. 彰显自身统治的正统性质
- D. 缓和朝代更迭引起的动荡

【答案】C

【解析】

本题是单类型单项选择题。据本题主题干的设问词，可知这是目的题。据本题时间信息可知准确时空是：明清（中国）。根据明朝“停止祭祀元世祖”，清朝“恢复元世祖牌位，增加辽太祖、金太祖、金世宗、元太祖等北方少数民族的开创之主入祀”等内容可得出，明清两代停止或增加祭祀的内容，都是为了说明本朝政权是合理合法的，彰显自身统治的正统性质，试图构建起合法统治的国家认同，C 项正确；促进统一多民族国家认同不是主要目的，排除 A 项；宣扬天下一家的政治理念和停止或增加祭祀无关，排除 B 项；缓和朝代更迭引起的动荡不是主要目的，排除 D 项。故选 C 项。

5. 1855 年，湖南巡抚骆秉章“严饬各州县，将钱粮素弊，大加厘剔”，率先“减赋”

，民间不仅“全完”了当年田赋和“上年蒂欠”，对 1851-1853 年的积欠也“率皆踊跃输将”。这一做法很快在湖北、江西、安徽、江苏、浙江推广。“减赋”的主要用意是（ ）

- A. 收揽人心增加收入
- B. 革除积弊引领改革
- C. 减轻负担发展经济
- D. 增加积累推进洋务

【答案】A

【解析】

本题是单类型单项选择题。根据题干设问词，可知是目的题。根据材料关键信息可知准确时空是：近代中国。根据材料“1855 年，湖南巡抚骆秉章‘严饬各州县，将钱粮素弊，大加厘剔’，率先‘减赋’，民间不仅‘全完’了当年田赋和‘上年蒂欠’，对 1851-1853 年的积欠也‘率皆踊跃输将’”和所学可知，太平天国运动期间，南方地方政府推行减赋政策，主要是为了收揽人心，增加收入，进而镇压太平天国运动，A 项正确；材料与革除积弊引领改革的说法无关，出于维护统治的需要，排除 B 项；当时正值太平天国运动时期，主要是为了收揽人心，增加收入，镇压太平天国运动，排除 C 项；洋务运动兴起于 19 世纪 60 年代，排除 D 项。故选 A 项。

6. 甲午战争后，原占出口值一半以上的丝、茶两项，到 1920 年仅占 20%，而豆类、花生、芝麻、油类四项出口总值竟超过丝茶总值，蛋品、皮毛等农家副业产品增长也较快。这一变化说明中国（ ）

- A. 传统经济结构加速解体
- B. 经济对外依附性增强
- C. 对外贸易市场发生变化
- D. 近代工商业有所发展

【答案】B

【解析】

本题是单类型单项选择题。据本题主题干的设问词，可知这是本质题。据本题时间信息可知准确时空是：1920 年（中国）。据本题材料概括得出主要结论是：1920 年，中国出口的农产品种类增多，而豆类、花生、芝麻、油类四项出口总值竟超过丝茶总值，丝茶比例下降，而其他农副产品出口增长较快，说明近代中国经济与世界市场联系更加紧密，越来越多的产品进入世界市场，受国际影响较大，经济对外依附性增强，B 项正确；材料只是反映了中国进出口产品数量变化的信息，且这些都是经济作物，只能说明商品化趋势加强，不能说明传统小农经济加速解体，排除 A 项；出口丝茶、农副业产品等数量变化，不能折射出对外贸易市场的情况，排除 C 项；材料是关于农业的，与近代工商业无直接关系，排除 D 项。故选 B 项。

7. 如表为 1920 年代中国部分省份农会会员统计（不含江苏二三十万）。据此可知（ ）

省份	1926 年 6 月		1927 年 6 月	
	会员人数	占全国百分比	会员人数	占全国百分比
广东	647766	66.0	700000	7.6
湖南	38150	3.9	4517140	49.4
湖北	4120	0.4	2502600	27.3
江西	1153	0.1	382617	4.2
河南	270000	27.5	245500	2.7
陕西	1000	0.1	705160	7.7
全国	981442	100	9153093	100

- A. 农民阶级成为国民革命主力
B. 两湖地区土地革命成效显著
C. 政治生态影响农运地域格局
D. 农民运动推动国民革命发展

【答案】C

【解析】

本题是单类型单项选择题。根据题干设问词，可知是推断题。根据材料“1920 年代中国部分省份农会会员统计”结合所学可知，北伐战争时期，农民运动主要集中在湖南地区，其中湖北也受到巨大影响，因此这一时期的湖南、湖北地区的农会会员比重较高，说明的是政治生态影响农运地域格局，C 项正确；农民阶级是国民大革命的重要参与者，非主力，排除 A 项；国民大革命时期，两湖地区并未推行土地革命，排除 B 项；国民大革命运动助推了农民运动的发展，D 项属于因果关系颠倒，排除 D 项。故选 C 项。

8. 1950 年《中华人民共和国土地改革法》在具体政策上作出若干重要修改（如图）。这次重要修改（ ）

- (一) 对富农由征收多余土地财产，改为保存富农经济；
(二) 对地主只没收他们的土地、耕畜、农具、多余的粮食及其在农村中多余的房屋，其他财产不予没收，不再采用“挖浮财”那些做法；
(三) 提高小土地出租者保留土地的标准；

(四) 在土地改革中切实团结和保护中农。

- A. 贯彻落实新民主主义经济政策
B. 适应社会主义工业化建设需要
C. 为国民经济的恢复和发展服务
D. 团结社会各阶层建设社会主义

【答案】C

【解析】

本题是单类型单选题，据题干设问词可知是影响题，据材料时间信息得出准确时空是现代中国。根据材料“对富农由征收多余土地财产，改为保存富农经济”“对地主只没收他们的土地、耕畜、农具、多余的粮食及其在农村中多余的房屋”“提高小土地出租者保留土地的标准”“在土地改革中切实团结和保护中农”和所学可知，1950年的土地改革，依靠贫农、雇农，团结中农，中立富农，有步骤地、有分别地消灭封建剥削制度，发展农业生产，这对于调动农民生产积极性，恢复国民经济创造条件，C项正确；新民主主义经济是中国进入社会主义以前，以社会主义性质的国营经济为领导的，由国营经济、合作经济、个体经济和私人资本主义经济等多种经济成份组成的过渡性经济，与材料无关，排除A项；社会主义工业化建设从1953年开始，排除B项；建设社会主义时期从1956年开始，排除D项。故选C项。

9. 1984年，中共中央决定指出：“在生产资料公有制基础上实行计划经济……是社会主义经济优越于资本主义经济的根本标志之一”“实行计划经济同运用价值规律、发展商品经济，不是互相排斥的，而是统一的。”“决定”强调（ ）

- A. 坚持适应国情的计划手段
B. 统一性与灵活性有机结合
C. 处理好计划与市场的关系
D. 自觉依据和运用价值规律

【答案】D

【解析】

本题是多类型单项选择题。据本题次题干的【提示】词，可知这是本质题、影响题。据本题时间信息可知准确时空是：现代（中国）。根据材料“实行计划经济同运用价值规律、发展商品经济，不是互相排斥的，而是统一的”可知，材料强调的是计划经济与商品经济的关系，二者并不矛盾，而是统一的，加之当时正是改革开放，“决定”肯定了商品经济价值规律，目的是倡导自觉依据和运用价值规律，D项正确；材料强调的是商品经济的价值规律，而不是计划手段，排除A项；材料强调的是商品经济价值规律，而不是统一性与灵活性有机结合，排除B项；明确提出计划与市场的关系问题，是在1982

年召开的党的十二大上。十二大提出，以计划经济为主、市场调节为辅。时间不符，排除 C 项。故选 D 项。

10. 汉谟拉比法典正文包括 282 条法律，对刑事、民事、贸易、婚姻、继承、审判等制度都作了详细规定。法典的显著特点是它几乎没有留下解释的余地，概述了对各种违法行为的精确处罚。这一特点表明《法典》致力于（ ）

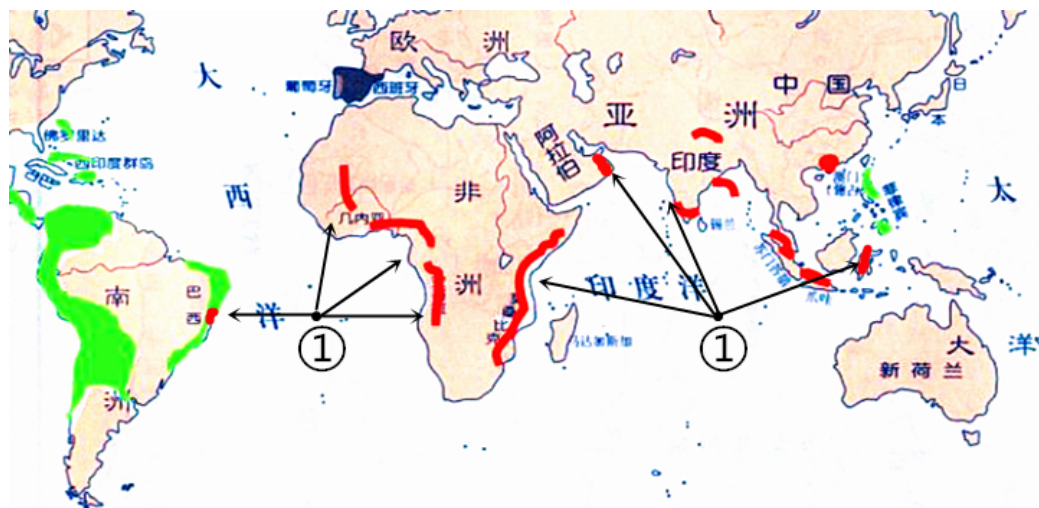
- A. 确保司法适用的公平性和一致性
- B. 维护奴隶主对奴隶和平民的专政
- C. 突出体现法律制定者的主观意志
- D. 集中权力以维护庞大帝国的统一

【答案】A

【解析】

本题是单类型单项选择题。据本题主题干的设问词，可知这是目的题。据本题时间信息可知准确时空是：古代（西亚）。根据材料“法典的显著特点是它几乎没有留下解释的余地，概述了对各种违法行为的精确处罚。”结合所学知识可知，《汉谟拉比法典》的显著特点是它几乎没有留下解释的余地，概述了对各种违法行为的精确处罚，这有利于司法适用的公平性和一致性，A 项正确；材料强调的是《法典》的精确详细，维护奴隶主对奴隶和平民的专政和材料主旨不符，排除 B 项；司法适用具有公平性和一致性，这强调法律的客观性，没有体现法律制定者的主观意志，排除 C 项；材料主旨“司法适用的公平性和一致性”，而“集中权力以维护庞大帝国的统一”与材料主旨不符，排除 D 项。故选 A 项。

11. 如图为 15 世纪末至 17 世纪上半叶殖民扩张图。图中“①”所指区域的宗主国是（ ）



- A. 英国
- B. 西班牙
- C. 法国
- D. 葡萄牙

【答案】D

【解析】

本题是单类型单项选择题。据本题主题干的设问词，可知这是正向题。据本题时间信息可知准确时空是：近代（世界）。根据所学知识可知，在 15 世纪末至 17 世纪上半叶，葡萄牙在世界范围内殖民扩张，在南美洲东岸巴西等地，非洲西岸的罗安达，非洲东岸的莫桑比克等地区都是葡萄牙的殖民地，D 项正确；英国的殖民地遍布全球，发生在 18 世纪，与材料时间不符，排除 A 项；西班牙在美洲新大陆建立了广阔的殖民地，包括今天的墨西哥、中美洲、南美洲的西岸等，与图片内容不符，排除 B 项；法国的大部分殖民地在非洲的内陆地区，与材料内容不符，排除 C 项。故选 D 项。

12. 英国著名剧作家克里斯托弗·马洛（1564-1593）在其代表作《浮士德博士的悲剧》中塑造了主人公的形象：自认为自己的知识已超越人类极限的浮士德，为渴望得到无限的权力和享乐，不惜出卖灵魂与魔鬼签约，最终被魔鬼拖入地狱，留下无尽的恐惧和悔恨。作品表达了作者（ ）

- A. 对世俗主义的反思
B. 对理性社会的憧憬
C. 对现实政治的不满
D. 对思想压制的批判

【答案】A

【解析】

本题是单类型单项选择题。根据题干设问词，可知是推断题。根据材料关键信息可知准确时空是：近代英国。根据材料“自认为自己的知识已超越人类极限的浮士德，为渴望得到无限的权力和享乐，不惜出卖灵魂与魔鬼签约，最终被魔鬼拖入地狱，留下无尽的恐惧和悔恨”和所学可知，《浮士德博士的悲剧》反映了人文主义者最终未能从宗教中解放出来的历史真实情况，是对世俗主义的反思，A 项正确；对理性社会的憧憬与启蒙运动有关，排除 B 项；材料未涉及对现实政治的不满，排除 C 项；材料强调的是人文主义思想，是对世俗主义的反思，非对思想压制的批判，排除 D 项。故选 A 项。

13. 如表为英国棉布出口量占总出口量的百分比变化。这一现象折射出（ ）

年代	向欧美输出	向欠发达世界输出	向其他国家输出
1830	60.4	31.8	7.8
1840	29.5	66.7	3.8
1860	19.0	73.3	7.7

1880	9.8	82.0	8.2
1900	7.1	86.3	6.6

- A. 海外市场对英国经济至关重要
 B. 垂直性国际经济分工不断深化
 C. 统一世界市场向全球各地拓展
 D. 欧美国家之间的经济竞争加剧

【答案】B

【解析】

本题是单类型单项选择题。根据题干设问词，可知是本质题。根据材料关键信息可知准确时空是：近代英国。根据材料数据变化可知，从 1830 年到 1900 年，英国棉布向欧美输出的比重呈现下降的趋势，向欠发达世界输出呈现增加的趋势，这主要是因为工业革命后，英国成为世界工厂，垂直性国际经济分工不断深化，B 项正确；材料强调的是国际分工，非海外市场对英国经济至关重要，排除 A 项；资本主义世界在 19 世纪末 20 世纪初已经正式形成，非拓展，排除 C 项；材料未涉及欧美国家之间的经济竞争，排除 D 项。故选 B 项。

14. 如图为新西兰漫画家大卫·洛 1919 年 1 月 23 日创作的漫画《大熔锅》。据图可知，作者意在（ ）



画面中，威尔逊特一瓶“蜜油”（Sweetol）倒入盛满刀枪剑戟，上写“和平浓汤”（Peace soup）正被烈焰烹煮的大熔锅中。左边意大利紧抱“国家利益”的罐子，置之不理。右方有着同样罐子的英、法正在窃窃私语。身材瘦小的澳大利亚却面露惊异和惶恐

- A. 指责美国的设想损害他国利益
 B. 抨击美国蓄意激化世界局势
 C. 揭示威尔逊和平计划难以实现
 D. 揭露帝国主义列强勾心斗角

【答案】C

【解析】

本题是单类型单项选择题，据题干设问词可知是目的题。据材料时间信息得出准确时空是：近代西方。根据漫画可知，一战后的战胜国他们手中拿着代表国家利益的“桶”

，威尔逊手持“密油”调剂“和平浓汤”准备做出一锅“美食”，但是各国反映不一。其中威尔逊带着十四点原则参加巴黎和会，但最终没能如愿，这说明威尔逊无法解决战后矛盾，和平计划难以实现，C项正确；材料强调的是英法各国各有所图，没强调自己利益被损害，排除A项；美国并未蓄意激化世界局势，排除B项；材料强调的是美国的和平计划难以实现，非帝国主义列强勾心斗角，排除D项。故选C项。

15. 1956年8月，美国通过向国外派遣体育、艺术等各界知名人士的《国际文化交流与贸易参展法》，永久性开展对外体育文化交流。1956-1964年，共实施62次体育代表团访问项目，访问了100多个亚、非、拉国家和地区。这反映了美国（ ）

- A. 正视第三世界兴起的现实
- B. 对外战略发生根本性转变
- C. 以文化渗透替代武装颠覆
- D. 将遏制战略向亚非拉延伸

【答案】D

【解析】

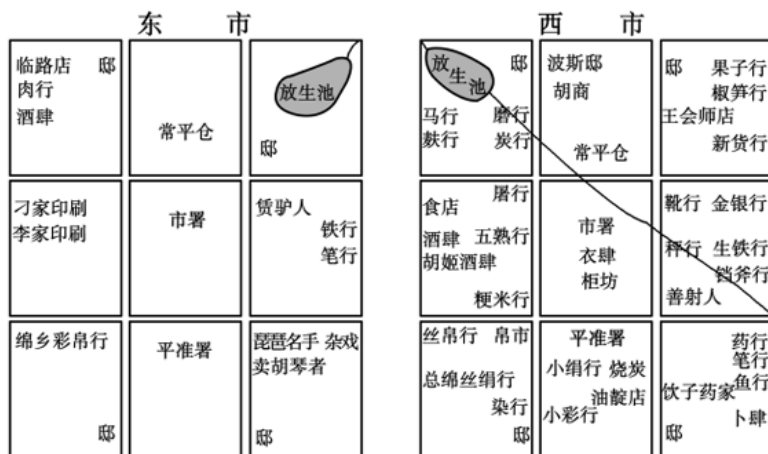
本题是单类型单项选择题。据本题主题干的设问词，可知这是本质题。据本题时间信息可知准确时空是：现代（美国）。美国通过派遣体育、艺术等各界知名人士到亚洲、非洲和拉丁美洲的国家和地区进行文化交流，实际上是在将其遏制战略向这些地区延伸。通过文化交流，美国可以在这些地区推广其价值观和文化，从而达到拉拢第三世界国家，遏制苏联的目的，D项正确；这个时间段确实是第三世界国家兴起的时期，但是题目中的信息并没有明确指出美国对此有正视的态度，排除A项；此时的对外战略是遏制苏联，夺取世界霸权，没有出现根本性转变，排除B项；材料主旨“遏制战略向亚非拉延伸”，而“文化渗透替代武装颠覆”与主旨不符，且以文化渗透替代武装颠覆说法绝对化，排除C项。故选D项。

二、非选择题：本题共4小题，共55分。


16. 历史研究的生命力在于证据。阅读材料，回答问题。

序号	材料
①	吐鲁番文书《唐天宝十载（751年）交河郡客使文卷》载，来自宁远国（在今中亚费尔干纳盆地）的使者，包括3位王子，他们至少分为8个班次前来都城长安

②	《唐会要·杂录》记载，武则天敕：“蕃国使入朝，其粮料各分等第给，南天竺、北天竺、波斯、大食等国使，宜给六个月粮；尸利佛誓、真腊、诃陵等国使，给五个月粮；林邑国使，给三个月粮”
③	《旧唐书·儒学传上》记载，（贞观年间）四方学者云集京师，乃至高丽、百济、新罗、高昌、吐蕃诸酋长，亦遣子弟请入国学
④	唐刘恂《岭表录异》记载，广州海面上停泊来自狮子国（今斯里兰卡）、波斯（今伊朗）、昆仑（今中印半岛南部及南洋诸岛一带）等地的“南海船”，不知其数。运来域外象牙、香料、铜锭等各种宝物，换取中国丝绸、绢绵、瓷器等大宗商品
⑤	扬州唐城遗址多次发现波斯釉陶碎片；陕西扶风法门寺唐代地宫出土 18 件伊斯兰玻璃器
⑥	唐代《杨良瑶碑》（1984 年陕西泾阳出土）碑文记载，宦官杨良瑶 785 年奉命出使，从广州出发，经三年有余，到达黑衣大食，完成使命后返回唐朝
⑦	1998 年在印尼海域打捞的“黑石号”沉船上装载 6 万多件产自长沙窑、越窑、邢窑和巩县窑，带有阿拉伯风格图案和装饰的唐朝瓷器。该船结构为阿拉伯的缝合商船
⑧	刘长卿《同崔载华赠日本聘使》“怜君异域朝周远，积水连天何处通。遥指来从初日外，始知更有扶桑东。”王维《和贾舍人早朝大明宫之作》“九天阊阖开宫殿，万国衣冠拜冕旒”



⑨唐朝长安城东市、西市示意图



⑩《大秦景教流行中国碑》

(781年长安大秦寺立。景教，基督教支派)

——据中国历史研究院《中华文明史简明读本》、薛正昌

《唐代海上丝绸之路与广州港口》等

(1) 将上述材料按类型进行分类，并写出每类的序号。

(2) 提取材料信息，说明唐代中外交往的基本状况。

【答案】(1) 原始的历史记录，①⑥；历史遗存，⑤⑦①；后人的历史记述，②③④⑨；文学作品，⑧。

(2) 不同类型的材料全面反映了唐代中外交往的盛况，是宝贵的历史研究资料。材料表明唐代中外交往方式多样，有人员往来和政治、经济、文化交流；表明对外交往范围很大，东到日本，南到南亚，西经中亚、西亚直至欧洲；域外物品运到中国和中国手工业品大量出口海外，表明中外经济贸易发达；中外使者频繁往来，众多学者来中国学习，以及长安城内的波斯邸、胡商、卖胡琴者等布局，反映唐朝是交流中心，长安是国际化城市；武则天敕令、《大秦景教流行中国碑》等表明政府支持中外交流和开放包容的心态。

【解析】

【小问1】

本题是特点类材料分析题，据材料时间信息得出准确时空是古代中国。根据所学知识得出原始的历史记录为①⑥；历史遗存为⑤⑦①；后人的历史记述为②③④⑨；文学作品为

⑧。

【小问2】

本题是历史事物阐释题，据材料时间信息得出准确时空是唐朝。不同类型的材料全面反映了唐代中外交往的盛况，是宝贵的历史研究资料。材料表明唐代中外交往方式多样，有人员往来和政治、经济、文化交流。根据材料“

广州海面上停泊来自狮子国（今斯里兰卡）、波斯（今伊朗）、昆仑（今中印半岛南部及南洋诸岛一带）等处的‘南海舶’，不知其数”可知对外交往范围很大，东到日本，南到南亚，西经中亚、西亚直至欧洲。根据材料“扬州唐城遗址多次发现波斯釉陶碎片；陕西扶风法门寺唐代地宫出土 18 件伊斯兰玻璃器”得出中外经济贸易发达。根据材料“四方学者云集京师，乃至高丽、百济、新罗、高昌、吐蕃诸酋长，亦遣子弟请入国学”可知中外使者频繁往来，众多学者来中国学习，以及长安城内的波斯邸、胡商、卖胡琴者等布局，反映唐朝是交流中心，长安是国际化城市。武则天敕令、《大秦景教流行中国碑》等表明政府支持中外交流和开放包容的心态。

17. 阅读材料，回答问题。

青年团体“改造中国”的探索

五四前后，以青年学生和青年知识分子为主体的 400 多个小团体，遍布全国各地，成为宣传“五四”新文化运动的中坚。青年团体在具体的社会改造理念与方法上有所不同，大体可分为五类（下表所示）。

类别	社会改造理念与方法	代表团体
第一类	具有“不满于现状、要创造一个新局面”的意识，对新文化运动“多空谈少实行”具有一定的批评意识，强调新村主义、工读互助对于“人”的生活的革新，希望通过“工、读”相结合的方式来创造一个没有剥削、没有压迫的自由平等的新社会	少年中国学会、互助社与利群书社、觉悟社、工读互助团、工学会
第二类	以“增进平民智识，唤起平民之自觉”为宗旨，以“教育”作为“社会进化的工具”，通过“平民主义的教育”塑造新的、在自我与社会两个方面充分获得发展的“平民真正民治的基础”	北京大学平民教育讲演团、平民教育社、新民学会
第三类	专门研究马克思学说、国内外重大问题、国际共产主义运动、各派社会主义	北京大学的马克思主义研究会
	以合作主义为改造中国的方法，提倡平民教育，发展	平民周刊社

	平民经济	
--	------	--

第四类		
第五类	延续民初以来刘师复等空幻的、不切实际的无政府主义传统	北京的实社、奋斗社、广东的民钟社

——李培艳《“新青年”的觉醒与结社——对五四运动小团体的整体考察》

知识分子的抉择

学生易趋向革命，但浪漫而摇动，中国不会是我们几个学生所能救治的，我们必须农工平民大家都站起来。群众的集合才是改造旧社会惟一的武器，群众集合起来的力量，是全世界没有可以对敌的。我们应研究唯物史观的道理，唤起被经济生活压迫得最利害的群众，并唤起最能对他们表同情的人，使他们联合起来，向掠夺阶级战斗。

——<恽代英《为少年中国学会同人进一解》（1922年6月）

- （1）五四前后青年团体“改造中国”的探索反映了一个怎样的时代？
- （2）被周恩来称为“中国革命青年的楷模”的恽代英为代表的一批最有觉悟又富有开拓精神的知识分子，在五四之后作出了共同的抉择。说明这一抉择的时代意义。

【答案】（1）中国社会处于旧民主主义革命向新民主主义革命的转型时期。五四前后，中国掀起思想解放潮流，知识分子探索救国救民道路，思想界出现活跃局面；面对社会危机的加深，中华民族的民族意识空前觉醒，十月革命和马克思主义在中国的传播，在社会上产生很大影响。

（2）五四之后，先进知识分子选择了以马克思主义为指导，走与工农相结合来改造中国的道路。先进知识分子对马克思主义的宣传，促进了自身的成长，促进了马克思主义与中国工人运动的结合，推动了 的成立，开创了中国革命的新局面（实现了旧民主主义革命向新民主主义革命的过渡）。

【解析】

【小问1】

本题是特点类材料分析题。时空是近代中国。时代：根据材料“五四前后，以青年学生和青年知识分子为主体的400多个小团体，遍布全国各地，成为宣传“五四”新文化运动的中坚”和所学可知，五四前后，中国社会处于旧民主主义革命向新民主主义革命的转型时期；根

据材料“青年团体在具体的社会改造理念与方法上有所不同”

可知，五四前后，中国掀起思想解放潮流，知识分子探索救国救民道路，思想界出现活跃局面；结合所学可知，面对社会危机的加深，中华民族的民族意识空前觉醒；根据材料“专门研究马克思学说、国内外重大问题、国际共产主义运动、各派社会主义”结合所学可知，十月革命和马克思主义在中国的传播，在社会上产生很大影响。

【小问 2】

本题是影响类材料分析题。时空是近代中国。意义：根据材料“我们应研究唯物史观的道理，唤起被经济生活压迫得最利害的群众，并唤起最能对他们表同情的人，使他们联合起来，向掠夺阶级战斗”和所学可知，可从先进知识分子选择以马克思主义为指导，走与工农相结合来改造中国的道路、促进马克思主义与中国工人运动的结合、推动了 的成立及开创中国革命的新局面等角度进行分析。

18. 阅读材料，回答问题。

海关的基本原则

1950 年，政务院颁布中华人民共和国设立海关的基本原则：必须一反过去反动统治为服从帝国主义大量倾销外货并廉价吸取原料的经济侵略措施，滥行开放对外贸易，到处设立海关机构的方针而严格以独立自主精神，根据国家经济情况的需要，在应开放对外贸易的地方设立海关机构。

——《政务院关于海关设立原则和调整全国海关的指示》

1950 年 12 月 4 日中国直属海关分布（数据来源：海关总署《隶属海关名单》，不含港澳台地区）



- (1) 说明建国初确立海关基本原则的现实意义。
- (2) 对 1950 年和 2013 年中国直属海关布局的变化作出合理解释。
- 【答 案】(1) 新中国的海关建设是中国民主革命的继续，具有反帝反封建的性质；强调反对侵略掠夺，表明新中国反对帝国主义、维护民主革命成果、巩固人民政权的需要；海关为实现经济上独立自主和国家经济建设服务，顺应了建国之初恢复发展经济和开展社会主义建设的需要。
- (2) 1950 年，直属海关数量较少，表明当时中国经济基础薄弱，对外贸易相对落后；主要分布在沿海尤其是东北和广东沿海地区，是因为当时对外交往的窗口以苏联等社会主义国家和港澳地区为主。2013 年直属海关数量增加，分布趋向均衡，反映出改革开放以来，中国经济建设成就辉煌，对外经济贸易发达；广东成为最集中的地区，突出体现了其改革开放的前沿和先行地地位。

【解 析】

【小问 1】

本题是影响类材料分析题。时空是建国初期的中国。意义：根据材料“1950 年，政务院颁布中华人民共和国设立海关的基本原则：必须一反过去反动统治为服从帝国主义大量倾销外货并廉价吸取原料的经济侵略措施，滥行开放对外贸易，到处设立海关机构的方针而严格以独立自主精神”得出新中国的海关建设是中国民主革命的继续，具有反帝反封建的性质；强调反对侵略掠夺，表明新中国反对帝国主义、维护民主革命成果、巩固人民政权的需要；根据所学知识得出海关为实现经济上独立自主和国家经济建设服务，顺应了建国之初恢复发展经济和开展社会主义建设的需要。

【小问 2】

本题是认识类材料分析题。时空是建国初期的中国。解释：根据图示 1950 年中国直属海关分布图可知，1950 年，直属海关数量较少，结合所学知识可知，1950 年，表明当时中国经济基础薄弱，对外贸易相对落后；主要分布在沿海尤其是东北和广东沿海地区，是因为当时对外交往的窗口以苏联等社会主义国家和港澳地区为主。

根据图示 2013 年中国直属海关分布图可知，2013 年直属海关数量增加，分布趋向均衡，根据改革开放新时期以及新时代特征背景可知，反映出改革开放以来，中国经济建设成就辉煌，对外经济贸易发达；广东成为最集中的地区，突出体现了其改革开放的前沿和先行地地位。

19. “西进运动”是 18 世纪末至 19 世纪末改变美国国家命运的重大事件。阅读材料，回答问题。

“西进运动”大事记

1783 年	英美签署《巴黎条约》，把密西西比河以东印第安人的大片土地划归美国
1787 年	国会通过《西北条例》，强调西部“将永远是美利坚合众国联邦的一个部分”通过《西北土地法令》，规定西部地区居民达到 60000 人时，可组建新州并加入联邦，并要求西北地区每个镇要预留土地用于支持与发展教育
1792-1830 年	西部公路总里程达 6400 公里

以上内容仅为本文档的试下载部分，为可阅读页数的一半内容。如要下载或阅读全文，请访问：

<https://d.book118.com/707123114103006150>