

2016 年浙江省高等职业技术教育招生考试

计算机类试卷

姓名\_\_\_\_\_ 准考证号码\_\_\_\_\_

本试题卷共三大题。全卷共 10 页。满分 150 分，考试时间 60 分钟。

注意事项：

1. 所有试题均需在答题纸上作答，未在规定区域内答题，每错一个区域扣卷面分 1 分，在试卷和草稿纸上作答无效。
2. 答题前，考生务必将自己的姓名、准考证号用黑色字迹的签字笔或钢笔填写在答题纸和试卷上。
3. 选择题每小题选出答案后，用 2B 铅笔把答题纸上对应题目的标号涂黑。如需改动，用橡皮擦干净后，再选涂其它答案标号。非选择题用黑色字迹的签字笔或钢笔将答案写在答题纸上。

一、单项选择题（本大题共 60 小题，每小题分，共 90 分）

1. 在第\_\_\_\_\_代电子计算机中，应用软件成为现代工业的一部分，并在软件方面发展了数据库系统、软件工程标准化系统等。

- A. 一      B. 二      C. 三      D. 四

2. 存储器连续启动两次独立的“读”或“写”操作所需的最短时间称为存储器的\_\_\_\_\_。

A. 访问时间    B. 访问周期

C. 存取时间    D. 存取周期

3. 2016年3月，谷歌机器人AlphaGO与围棋世界冠军李世石在韩国首尔举行围棋比赛，这充分体现了电子计算机在\_\_\_\_\_方面的应用。

A. 人工智能    B. 信息处理    C. 计算机辅助系统    D. 过程

控制

4. 计算机的分类很多，按信息处理方式可分为数字计算机、模拟计算机和\_\_\_\_\_三类。

A. 通用计算机    B. 混合计算机    C. 逻辑计算机    D. 微

型计算机

5. 提出“程序存储和程序控制”的计算机体系设计思想的科学家是\_\_\_\_\_。

A. 比尔·盖茨    B. 冯·诺依曼    C. 图灵    D. 乔布斯

6. 下列关于寄存器的叙述中，错误的是\_\_\_\_\_。

A. 寄存器数量越多，计算机的运行速度越快

B. 寄存器是 CPU 的一个重要组成部分

、累加器和通用寄存器的位数决定了 CPU 的字长

D. 状态寄存器用于存放运算中产生的状态信息

7. 在编号从 1000H 到 7FFFH 的地址空间中, 包含了\_\_\_\_\_个存储单元。

8. 在只读存储器的各种类型中, 可通过加电擦除其内容, 也可多次改写的只读存储器是\_\_\_\_\_。

9. \_\_\_\_\_不属于显示器的主要性能指标。

A. 屏幕尺寸    B. 饱和度    C. 分辨率    D. 帧频

10. 投影仪主要通过显示技术实现其功能, 下列不属于投影技术的是\_\_\_\_\_。

11. \_\_\_\_\_是指计数的方法, 即采用一组计数符号的组合来表示任意一个数的方法。

A. 数码    B. 数制    C. 基数    D. 位权

12. 在计算机的各种进制数中，下列数值最小的是\_\_\_\_\_。

13. 计算机对汉字信息的处理过程实际上是各种汉字编码间的转换过程，这一系列的汉字编码及转换过程是\_\_\_\_\_。

A. 输入码→国际码→机内码→地址码→字形码

B. 输入码→地址码→国标码→机内码→字形码

C. 输入码→字形码→地址码→机内码→外部码

D. 输入码→机内码→字形码→地址码→外部码

14. “计算机”三个汉子在计算机内部传输过程中采用偶校验，那么在校验过程中校验位应该添加\_\_\_\_\_位。

A. 1

15. 目前计算机系统所面临的威胁和攻击是错综复杂的，操作失误是属于\_\_\_\_\_类别。

A. 黑客攻击      B. 物理安全      C. 系统安全      D. 病毒威胁

16. 计算机病毒通常由装入部分、\_\_\_\_\_和破坏部分组成。

A. 隐藏部分      B. 传染部分      C. 感染部分      D. 寄生部分

17. 操作系统是一种首要的、最基本、最重要的系统软件，具有处理

器管理、存储器管理、设备管理、\_\_\_\_\_和作业管理五方面管理功能。

- A. 文件管理    B. 任务管理    C. 工作管理    D. 进程管理

18. 在 Windows7 操作系统中, 要打开磁盘管理基本操作中的磁盘碎片整理程序, 可通过打开“开始”菜单, 单击“所有程序”, 选择\_\_\_\_\_中的“系统工具”, 然后单击下级菜单中的“磁盘碎片整理程序”命令即可。

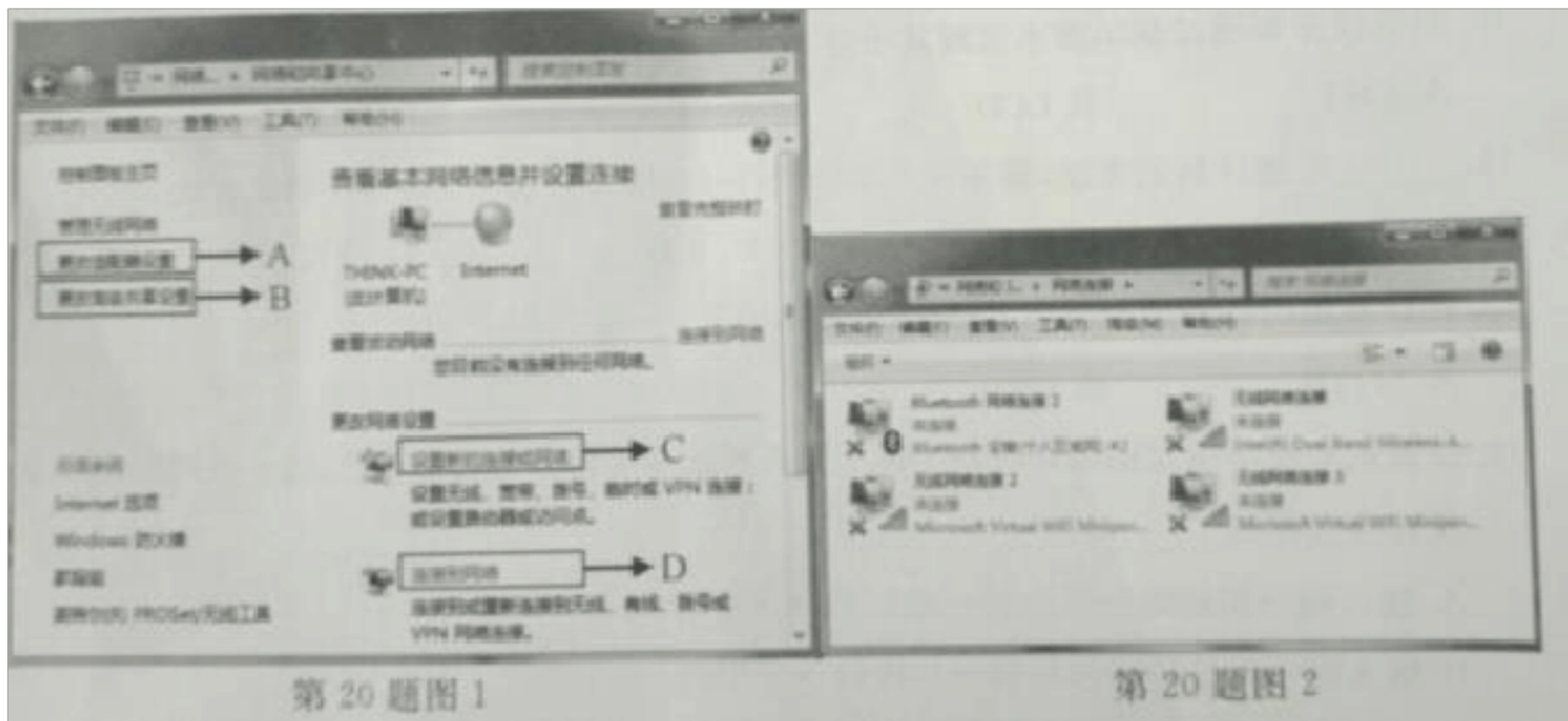
- A. 启动    B. 维护    C. 其他    D. 附件

19. 在 Windows7 操作系统中, 下列分辨率的设置中可以使屏幕容纳的项目最多的是\_\_\_\_\_。

×1080    ×900

×720    ×600

20. 在 Windows7 操作系统的“网络和共享中心”窗口中(如第 20 题图 1 所示), 单击\_\_\_\_\_直接打开“网络连接”窗口(如第 20 题图 2 所示), 然后可以进行相关的操作。



21.

- A. 更改适配器设置                      B. 更改高级共享设置
- C. 设置新的连接或网络                      D. 连接到网络

21. 目前计算机常用的 107 键盘，其小键盘区具备两个功能：数字输入功能和方向键功能，下列\_\_\_\_\_操作可以使小键盘具备方向键功能。

- A. 单击 Numlock 键，使小键盘区 NumLock 灯亮
- B. 单击 Numlock 键，使小键盘区 NumLock 灯灭
- C. 单击 CapsLock 键，使小键盘区 CapsLock 灯亮
- D. 单击 CapsLock 键，使小键盘区 CapsLock 灯灭

22. 热升华打印机常用打印彩色数码照片，它通过热能将\_\_\_\_\_的固体颜料转印至打印介质上，通过半导体加热元件调节出不同温度控

制色彩的比例和浓淡程度。

- A. 青色、品红色、黄色和黑色      B. 青色、品红色和黄色      C. 红色、绿色和蓝色      D. 红色、黄色和绿色


是计算机的运算和控制中心，下列\_\_\_\_\_不是衡量 CPU 性能的主要技术指标。

- A. 字长      B. 主频      C. 缓存 Cache      D. 内存容量

24. 下列有关固态硬盘的叙述中，正确的是\_\_\_\_\_。

- A. 固态硬盘与普通硬盘相比，具有容量大、价格高、寿命长的特点  
B. 固态硬盘与普通硬盘一样不抗震、不抗摔  
C. 固态硬盘的接口规范和定义与普通硬盘是不同的  
D. 固态硬盘的读写速度比普通硬盘快

25. 如第 25 题图所示的各接口中，\_\_\_\_\_是用于连接显示器与主机的 VGA 接口。




第 25 题图

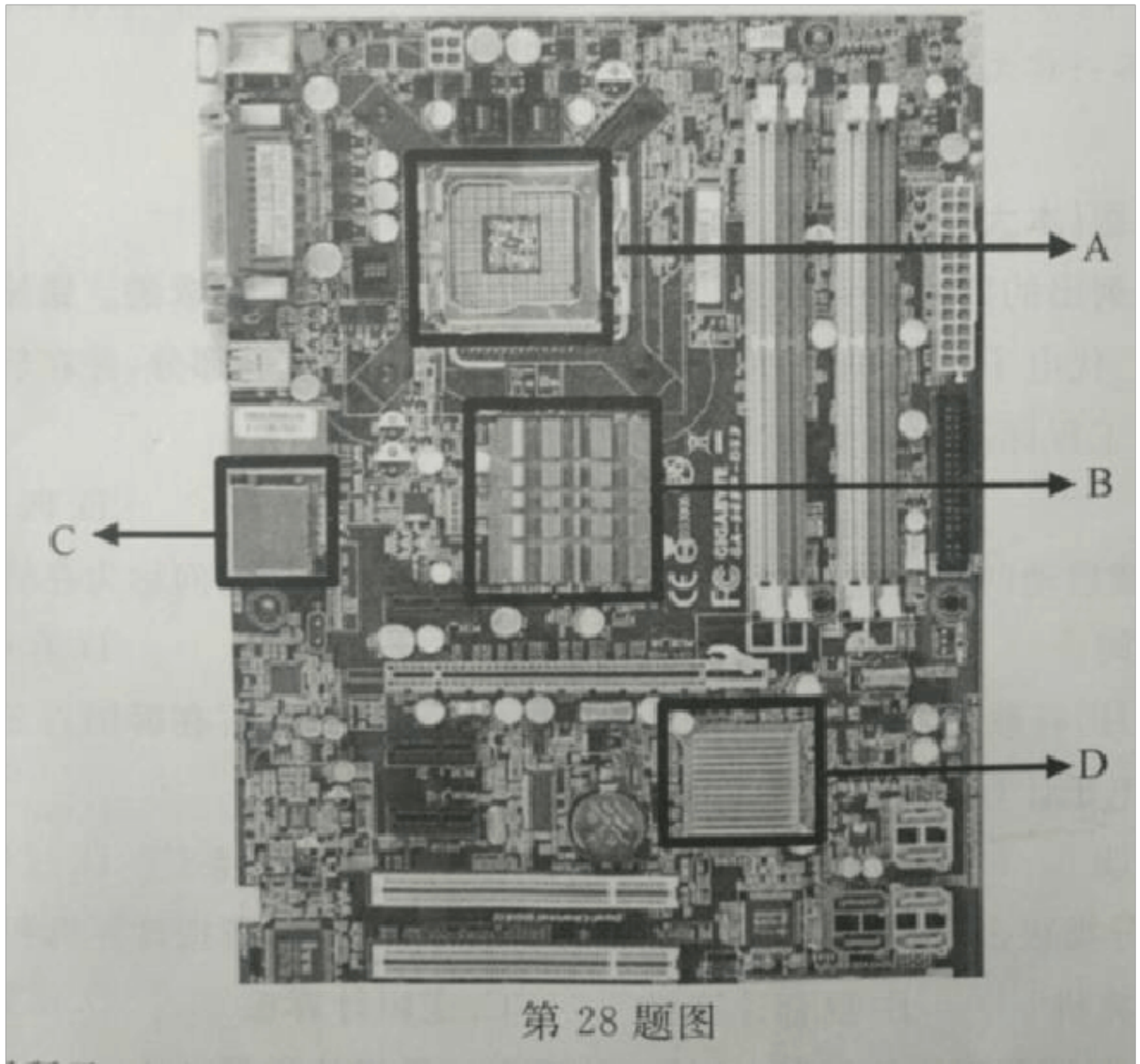
26. 下列有关并行接口和串行接口的叙述中，错误的是\_\_\_\_\_。

- A. 目前针式打印机基本上使用并行接口
- B. 按字节传输数据时，并行接口需要 8 条数据线，而串行接口只需要 1 条数据线
- C. 串行接口传输距离短，并行接口传输距离远
- D. 串行接口由串行接口电路和串行接口信号线两部分组成

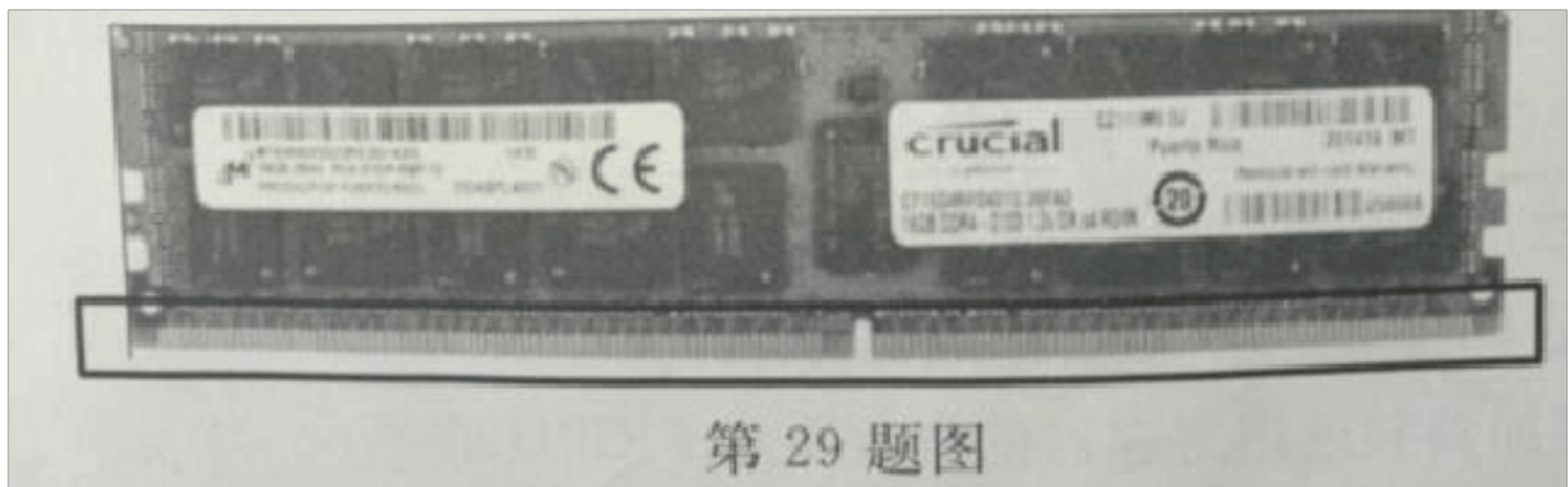
27. 如第 27 题图所示的各硬盘接口中，\_\_\_\_\_是 SATA 硬盘的数据线接口。



28. 如第 28 题图所示的主板中，北桥芯片位于\_\_\_\_\_区域。



29. 如第 29 题图所示，内存条中所圈区域称为\_\_\_\_\_。



A. 电路板 存储芯片 金手指 插槽

30. 下列有关拆装机操作的叙述中，错误的是\_\_\_\_\_。

A. 在操作前洗一下手可以避免静电将集成电路内部击穿造成元器件损坏

B. 拿取配件时可以将部件放在工作台的任何区域

拆机时要防止液体进入配件

遇到安装或拆卸困难时不能强行操作

31. 在 Award BIOS 主界面的各选项中，用于“载入最安全的设置”的选项内容是\_\_\_\_\_。

A. Standard CMOS Features      BIOS Features

Fail-Safe Defaults      Optimized Defaults

32. 工厂生产的硬盘必须经历\_\_\_\_\_三个步骤后，才能用来存储数据。

A. 高级格式化→分区→低级格式化      B. 高级格式化→低级格式化→分区

C. 低级格式化→高级格式化→分区      D. 低级格式化→分区→高级格式化

33. 下列有关 NTFS 的叙述中，错误的是\_\_\_\_\_。

- A. NTFS 各式具有出色的安全性和稳定性
- B. NTFS 支持对分区、文件夹和文件的压缩
- C. NTFS 管理磁盘空间更有效率
- D. NTFS 是一个不可恢复的文件系统

34. 软件 Linux kernel 的版本号为，其中数字为“6”代表\_\_\_\_\_。

- A. 主版本号      B. 次版本号
- C. 内部版本号      D. 修订号

35. 在各类补丁程序中，建议用户根据自己需求有选择地安装或者不安装的补丁是\_\_\_\_\_。

- A. 安全补丁      B. 功能补丁      C. 不适合补丁      D. 不安全补丁

36. 学生小明在维修计算机时，怀疑某设备有接触不良的故障，此时可以采用的故障诊断方法是\_\_\_\_\_。

- A. 替换法      B. 最小系统法
- C. 敲打法      D. 观察法

37. 在 Windows7 操作系统的“注册表编辑器”窗口中，包含启动应用

程序所需的全部信息的根键是\_\_\_\_\_。

A. HKEY\_CLASSES\_ROOT

C. HKEY\_USERS

软件可以将硬盘的一个分区或整个硬盘完整复制并打包压缩成一个镜像文件，该镜像文件的扩展名是\_\_\_\_\_。

A. .reg    B. .exe    C. .gho    D. .dll

39. 城域网也称为都市网，通常是在一个城市或地区内部实现的计算机网络，其英文简称为\_\_\_\_\_。

40. 下列不属于总线型拓扑结构特点的是\_\_\_\_\_。

A. 通信线路容易安装和布线    B. 信道的利用率比较高    C. 便于节点的扩充或删除    D. 容易确定故障发生的具体位置


41. \_\_\_\_\_实际是一个文件，它存放在世界某个角落的某一台计算机中，通过网址来识别与存取。

A. 网站    B. 网页    C. 站点

42. 学生小明在规划某网站时，需要选择采用自建服务器还是租用虚拟主机，这说明小明正在考虑网络规划的\_\_\_\_\_方面。

- A. 建设网站前的市场分析      B. 建设网站目的及功能定位
- C. 网站技术解决方案      D. 网站内容及实现方式

43. 由于网站建设的需要，学生小明打算将某个站点的信息移到别的计算机上使用，此时需要单击 Dreamweaver CS6 “管理站点”对话框中的\_\_\_\_\_按钮。



44. 在 HTML 语言中，\_\_\_\_\_代码用于插入图像，并设置图像左右两侧距离文本 5 像素，当图像加载时间过长时显示“请稍候”。

- A. `<Img src="计算机专业.jpg" alt="请稍候" hspace=5>`
- B. `<Img src="计算机专业.jpg" title="请稍候" vspace=5>`
- C. `<Img href="计算机专业.jpg" title="请稍候" hspace=5>`
- D. `<Img href="计算机专业.jpg" alt="请稍候" vspace=5>`

45. 下列 HTML 标记中，不需要成对出现的标记是\_\_\_\_\_。

以上内容仅为本文档的试下载部分，为可阅读页数的一半内容。如要下载或阅读全文，请访问：<https://d.book118.com/708105017143006127>