

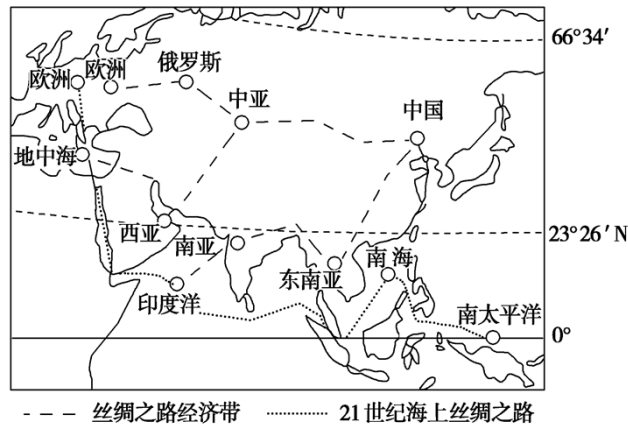
四川省南充高级中学 2024-2025 学年高二地理上学期期中试题

第 I 卷 选择题

一、选择题（共60分）

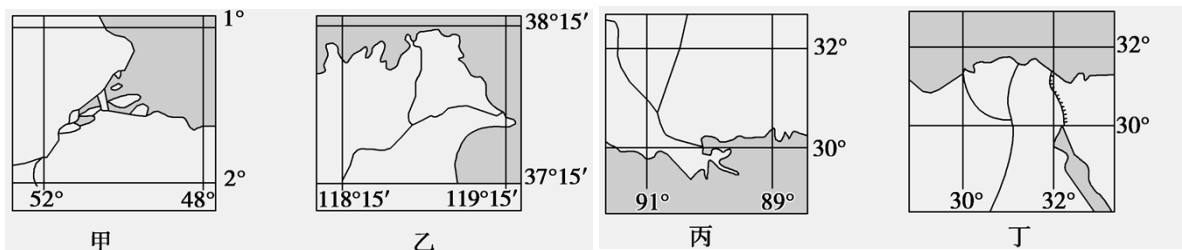
本大题共60小题，每小题1分，共60分。在每小题给出的四个选项中，只有一项是符合题目要求的。

“一带一路”是“丝绸之路经济带”和“21世纪海上丝绸之路”的简称。下图为“一带一路”示意图。据此完成1~3题。



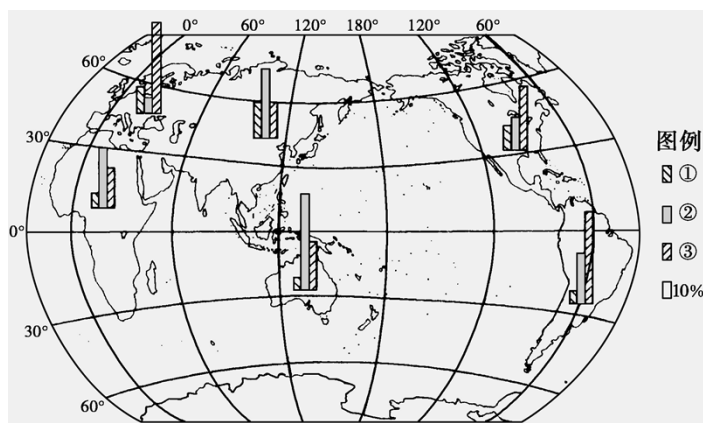
1. “丝绸之路经济带”上，中国—中亚—俄罗斯—欧洲段沿线自然景观的差异体现了（ ）
 - A. 由赤道到两极的分异规律
 - B. 从沿海向内陆的分异规律
 - C. 垂直分异规律
 - D. 地方性分异规律
2. 北半球夏季，“21世纪海上丝绸之路”上风浪最小的海疆是（ ）
 - A. 东海
 - B. 印度洋
 - C. 地中海
 - D. 南海
3. “一带一路”上适合将太阳能技术与海水淡化工程相“嫁接”的地区是（ ）
 - A. 东南亚
 - B. 中亚
 - C. 南亚
 - D. 西亚

下面四幅图为四条河流入海口位置分布示意图。读图，回答4~5题。



4. 图中甲图所示地区位于乙图所示地区的（ ）
 - A. 西北方向
 - B. 西南方向
 - C. 东北方向
 - D. 东南方向
5. 海轮从甲图中河口驶往丁图中河口，其最短航线经过（ ）
 - A. 直布罗陀海峡
 - B. 麦哲伦海峡
 - C. 苏伊士运河
 - D. 巴拿马运河

下图为世界六大洲林地、耕地和草地等三种农业用地占本洲土地总面积的比重图。读图，回答6~7题。



6. 图例中①、②、③代表的土地类型依次是 ()
- A. 林地、耕地、草地 B. 耕地、林地、草地
- C. 耕地、草地、林地 D. 草地、耕地、林地
7. 在南美洲③所示的农业用地比重最大，主要自然缘由是 ()
- A. 地势平坦开阔 B. 山地面积广阔 C. 河流少水量小 D. 气候暖和潮湿

洞里萨湖位于湄公河下游平原，其水文特征深受湄公河的影响。图1示意洞里萨湖主湖区与洪泛区含沙量和湖水多年平均体积的季节变更。图2示意湄公河流域部分地区及洞里萨湖位置。据此完成8~10题。

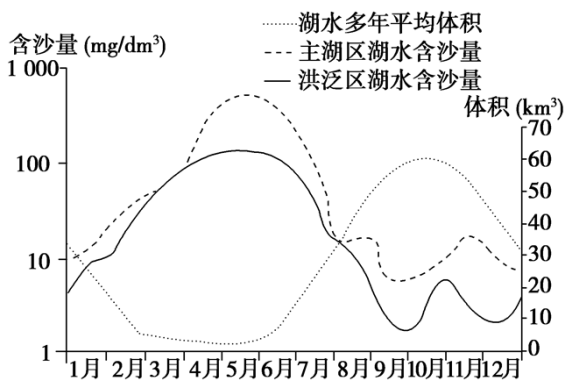


图1

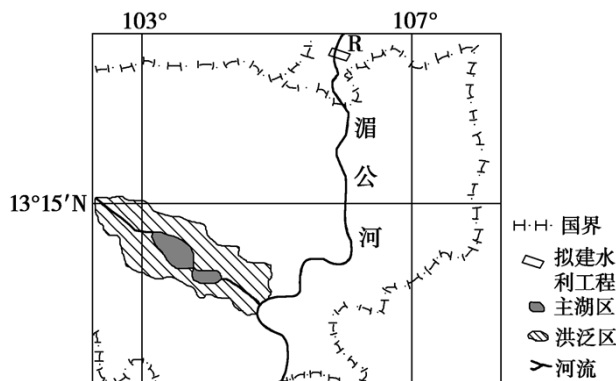


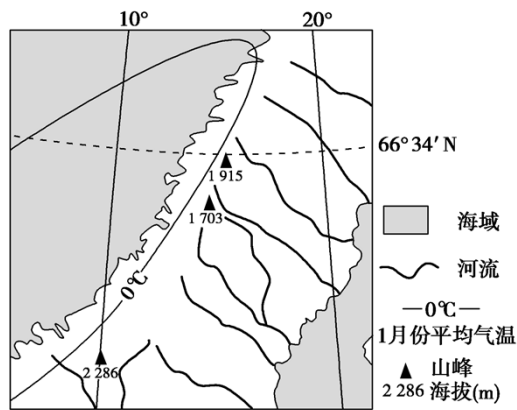
图2

8. 洞里萨湖 ()
- A. 雨季湖水含沙量增大 B. 热季洪泛区面积最大
- C. 旱季主湖区输沙量大 D. 湖面面积季节变更大
9. 影响洞里萨湖4月含沙量大的主要缘由是 ()
- A. 湖面风较大、湖泊水位低 B. 湖水流速快、流域降水少
- C. 湖水流速慢、湖泊水位低 D. 湖面风较大、流域降水多
10. 若在湄公河R处修建大型水利工程将导致洞里萨湖 ()
- A. 生物多样性增加 B. 水温年际变更减小

C. 洪泛区面积扩大


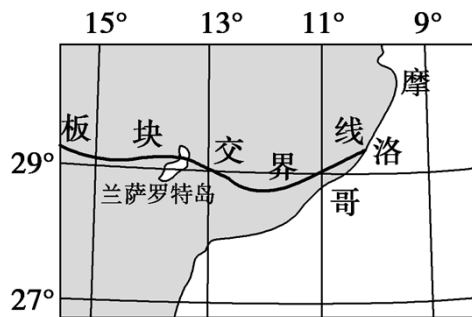
D. 泥沙淤积总量削减

下图示意某区域1月份0℃气温等温线分布。读图，完成11~12题。



11. 导致图中0℃等温线弯曲的主要因素是 ()
- A. 太阳辐射 B. 大气降水 C. 沿岸洋流 D. 曲折海岸
12. 图示地区 ()
- A. 河流短小湍急，水力资源丰富 B. 南北温差大，降水量东多西少
- C. 峭壁悬崖多分布在陆地东南岸 D. 荒漠草原广布，森林面积较小

兰萨罗特岛 (13.5° W, 29° N) 是西班牙西南部加那利群岛中的七大岛之一，距北非国家摩洛哥西海岸只有 100 多千米。该小岛种植葡萄有一种特别的种植技术：单株种植在单个坑里，坑宽 3~4 米，坑深 1~1.5 米，坑边用石块垒半圆形石墙。下图示意从某角度拍摄的葡萄园里的鱼鳞坑。据此回答 13~15 题。



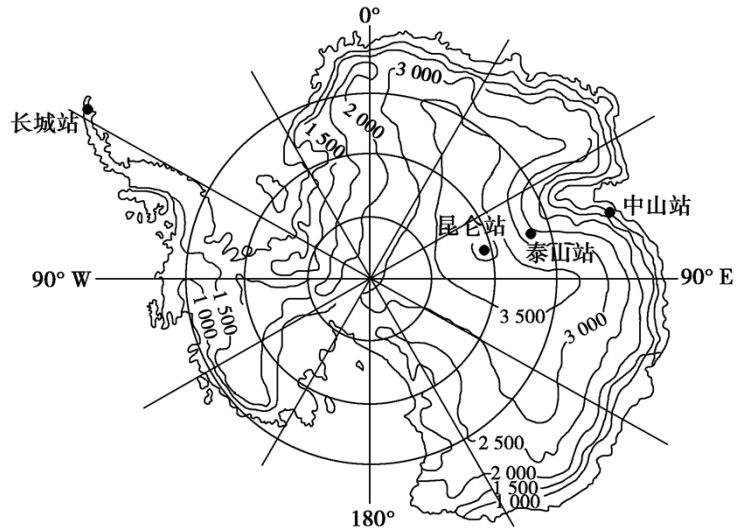
13. 下列叙述符合兰萨罗特岛自然环境特征的是 ()
- A. 岛上多环形的山，黑色土壤有机质含量高 B. 该岛夏季燥热干燥，降水稀有
- C. 该岛旁边有寒暖流交汇，且多发海雾 D. 该岛植被以亚热带常绿阔叶林为主
14. 图中鱼鳞坑的主要作用是 ()

- A. 削减风速，收集水分
- B. 削减风蚀，积累土壤
- C. 削减光照，增大温差
- D. 汇合水汽，增加降水

15. 图中半圆形石墙主要位于坑的（ ）

- A. 西北方向
- B. 西南方向
- C. 东北方向
- D. 东南方向

南极冰盖表面的猛烈辐射冷却使得近地层空气密度增大，海拔较高处近地层空气密度比同一水平面上其他位置的空气密度大，并在重力作用下沿斜坡加速向下运动，形成下降风，其风力大，破坏性强。读南极大陆等高线分布图，回答 16~18 题。



南极大陆等高线分布图

16. 从形成过程分析，下降风现象和常见的大气运动现象相像的是（ ）

- A. 海风
- B. 陆风
- C. 山风
- D. 谷风

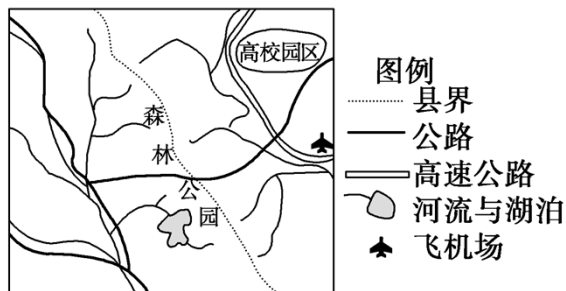
17. 在我国四个南极科考站中，下降风最为典型的科考站是（ ）

- A. 长城站
- B. 昆仑站
- C. 泰山站
- D. 中山站

18. 依据所学学问，分析下列说法中不合理的是（ ）

- A. 图中下降风典型地区的风向以偏东风为主
- B. 晴朗的白天或多云的夜晚下降风的强度较大
- C. 探讨下降风，对于南极科考的顺当进行有主动意义
- D. 出现下降风时，近地面大气中会出现逆温

下图为某区域示意图。读图，回答 19~20 题。



以上内容仅为本文档的试下载部分，为可阅读页数的一半内容。

如要下载或阅读全文，请访问：

<https://d.book118.com/717101123100006150>