

绝密★启用前

2024 年普通高等学校招生全国统考试

理科综合能力测试

注意事项：

1. 答卷前，考生务必将自己的姓名、准考证号填写在答题卡上。
2. 回答选择题时，选出每小题答案后，用铅笔把答题卡上对应题目的答案标号涂黑。如需改动，用橡皮擦干净后，再选涂其他答案标号。回答非选择题时，将答案写在答题卡上。写在本试卷上无效。
3. 考试结束后，将本试卷和答题卡一并交回。

可能用到的相对原子质量：H 1 C 12 N 14 O 16 S 32 Mn 55 Fe 56 Co 59 Ni 59 Zn 65

一、选择题：本题共 13 小题，每小题 6 分，共 78 分。在每小题给出的四个选项中，只有一项是符合题目要求的。

1. 大豆是我国重要的粮食作物。下列叙述错误的是()
 - A. 大豆油含有不饱和脂肪酸，熔点较低，室温时呈液态
 - B. 大豆的蛋白质、脂肪和淀粉可在人体内分解产生能量
 - C. 大豆中的蛋白质含有人体细胞不能合成的必需氨基酸
 - D. 大豆中的脂肪和磷脂均含有碳、氢、氧、磷 4 种元素

【答案】D

【解析】

【分析】1、脂肪：是由三分子脂肪酸与一分子甘油发生反应而形成的。

2、磷脂：构成膜（细胞膜、核膜、细胞器膜）结构的重要成分。

3、固醇：维持新陈代谢和生殖起重要调节作用，分为胆固醇、性激素、维生素 D 等。

【详解】A、植物脂肪大多含有不饱和脂肪酸，在室温下呈液态，动物脂肪大多含有饱和脂肪酸，在室温下呈固态，A 正确；

B、蛋白质、脂肪和淀粉可在人体内分解产生能量，B 正确；

C、必需氨基酸是人体细胞不能合成必须从外界获取的氨基酸，因此大豆中的蛋白质含有人体细胞不能合成的必需氨基酸，C 正确；

D、脂肪的组成元素只有 C、H、O，D 错误。

故选 D。

2. 干旱缺水条件下，植物可通过减小气孔开度减少水分散失。下列叙述错误的是()

- A. 叶片萎蔫时叶片中脱落酸的含量会降低

- B. 干旱缺水时进入叶肉细胞的CO₂会减少
- C. 植物细胞失水时胞内结合水与自由水比值增大
- D. 干旱缺水不利于植物对营养物质的吸收和运输

【答案】A

【解析】

【分析】干旱缺水条件下气孔开度减小，植物吸收的二氧化碳会减少，植物的光合速率会降低，同时植物体内水分含量减少，各种需要水分参与的生理反应都会减弱，植物根细胞的吸水能力增强，植物缺水主要是自由水大量失去。

- 【详解】A、叶片萎蔫时，叶片中的脱落酸(ABA)含量会增加，达到一定程度叶片可能会脱落，A 错误；
- B、干旱缺水时，植物气孔开度减小，吸收的二氧化碳会减少，植物的光合速率会降低，B 正确；
- C、植物细胞失水时主要失去自由水，自由水含量下降，结合水与自由水比值会增大，C 正确；
- D、缺水会影响植物体内各种需要水分参与的生理反应，植物对营养物质的吸收和运输往往需要水分参与，缺水不利于该过程，D 正确。

故选 A。

3. 人体消化道内食物的消化和吸收过程受神经和体液调节。下列叙述错误的是()

- A. 进食后若副交感神经活动增强可抑制消化液分泌
- B. 唾液分泌条件反射的建立需以非条件反射为基础
- C. 胃液中的盐酸能为胃蛋白酶提供适宜的 pH 环境
- D. 小肠上皮细胞通过转运蛋白吸收肠腔中的氨基酸

【答案】A

【解析】

【分析】自主神经系统：自主神经系统由交感神经和副交感神经两部分组成。它们的作用通常是相反的。当人体处于兴奋状态时，交感神经活动占据优势，心跳加快，支气管扩张，但胃肠的蠕动和消化腺的分泌活动减弱；当人处于安静状态时，副交感神经活动占据优势，此时，心跳减慢，但胃肠的蠕动和消化液的分泌会加强，有利于食物的消化和营养物质的吸收。

- 【详解】A、副交感神经活动增强，促进胃肠的蠕动和消化液的分泌，有利于食物的消化和营养物质的吸收，A 错误；
- B、条件反射是在非条件反射的基础上，通过学习和训练而建立的。即唾液分泌条件反射的建立需以非条件反射为基础，B 正确；
- C、胃蛋白酶的最适 pH 为 1.5，胃液中的盐酸能为胃蛋白酶提供适宜的 pH 环境，C 正确；

D、小肠上皮细胞吸收氨基酸的方式通常为主动运输，过程中需要转运蛋白，D 正确。
 故选 A。

4. 采用稻田养蟹的生态农业模式既可提高水稻产量又可收获螃蟹。下列叙述错误的是()

- A. 该模式中水稻属于第一营养级
- B. 该模式中水稻和螃蟹处于相同生态位
- C. 该模式可促进水稻对二氧化碳的吸收
- D. 该模式中碳循环在无机环境和生物间进行

【答案】B

【解析】

【分析】稻田养蟹的模式中蟹能清除稻田杂草，吃掉部分害虫，其排泄物还能改善稻田土壤状况，促进水稻生长，提高水稻的品质;水稻则为蟹生长提供了丰富的天然饵料和良好的栖息环境。“稻蟹共生”为充分利用人工新建的农田生态系统。

【详解】A、在稻田养蟹的生态农业模式中，水稻属于生产者，属于第一营养级，A 正确；

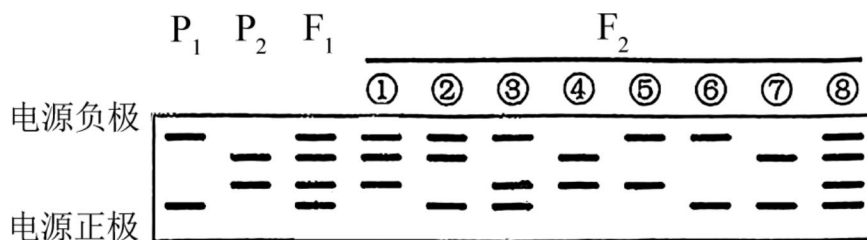
B、这个模式中，水稻和螃蟹处于不同的生态位，因为它们消耗不同的资源。水稻是水生植物，吸收水分和矿物质，而螃蟹是水生动物，以植物残渣和小型水生动物为食，B 错误；

C、这种模式确实可以促进水稻对二氧化碳的吸收，因为螃蟹在稻田中活动可以改善土壤通气状况，有利于水稻根系呼吸作用，进而促进二氧化碳的吸收，C 正确；

D、碳循环在稻田生态系统中包括无机环境和生物两个部分。水稻通过光合作用将无机碳（二氧化碳）转化为有机物，螃蟹则通过呼吸作用将有机物中的碳以二氧化碳的形式释放回大气中，从而完成了碳在生态系统中的循环，D 正确。

故选 B。

5. 某种二倍体植物的 P_1 和 P_2 植株杂交得 F_1 ， F_1 自交得 F_2 。对个体的 DNA 进行 PCR 检测，产物的电泳结果如图所示，其中①~⑧为部分 F_2 个体，上部 2 条带是一对等位基因的扩增产物，下部 2 条带是另一对等位基因的扩增产物，这 2 对等位基因位于非同源染色体上。下列叙述错误的是()



A. ①②个体均为杂合体， F_2 中③所占的比例大于⑤

B. 还有一种 F_2 个体的 PCR 产物电泳结果有 3 条带

C. ③和⑦杂交子代的 PCR 产物电泳结果与②⑧电泳结果相同

D. ①自交子代的 PCR 产物电泳结果与④电泳结果相同的占 $\frac{1}{2}$

【答案】D

【解析】

【分析】基因自由组合定律的实质是：位于非同源染色体上的非等位基因的分离或自由组合是互不干扰的；在减数分裂过程中，同源染色体上的等位基因彼此分离的同时，非同源染色体上的非等位基因自由组合。

【详解】A、由题可知，这 2 对等位基因位于非同源染色体上，假设 A/a 为上部两条带的等位基因，B/b 为下部两条带的等位基因，由电泳图可知 P₁ 为 AAbb，P₂ 为 aaBB，F₁ 为 AaBb，F₂ 中①AaBB②Aabb 都为杂

合子，③AABb 占 F₂ 的比例为 $\frac{1}{8}$ ，⑤AABB 占 F₂ 的比例为 $\frac{1}{16}$ ，A 正确；

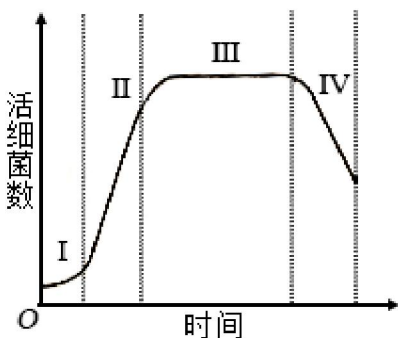
B、电泳图中的 F₂ 的基因型依次为：AaBB、Aabb、AABb、aaBB、AABB、AAbb、aabb、AaBb，未出现的基因型为 aaBb，其个体 PCR 产物电泳结果有 3 条带，B 正确；

C、③AABb 和⑦aabb 杂交后代为 Aabb、AaBb，其 PCR 产物电泳结果与②⑧电泳结果相同，C 正确；

D、①AaBB 自交子代为，AABB ($\frac{1}{4}$)、AaBB ($\frac{1}{2}$)、aaBB ($\frac{1}{4}$)，其 PCR 产物电泳结果与④aaBB 电泳结果相同的占 $\frac{1}{4}$ ，D 错误。

故选 D。

6. 用一定量的液体培养基培养某种细菌，活细菌数随时间的变化趋势如图所示，其中 I~IV 表示细菌种群增长的 4 个时期。下列叙述错误的是()



- A. 培养基中的细菌不能通过有丝分裂进行增殖
- B. II 期细菌数量增长快，存在“J”形增长阶段
- C. III 期细菌没有增殖和死亡，总数保持相对稳定
- D. IV 期细菌数量下降的主要原因有营养物质匮乏

【答案】C

【解析】

【分析】分析题图：细菌种群增长开始时呈现 S 曲线，达到 K 值后，由于营养物质消耗、代谢产物积累，种群数量逐渐下降。

【详解】A、有丝分裂是真核细胞的增殖方式，细菌是原核细胞，进行二分裂，所以培养基中的细菌不能通过有丝分裂进行增殖，A 正确；

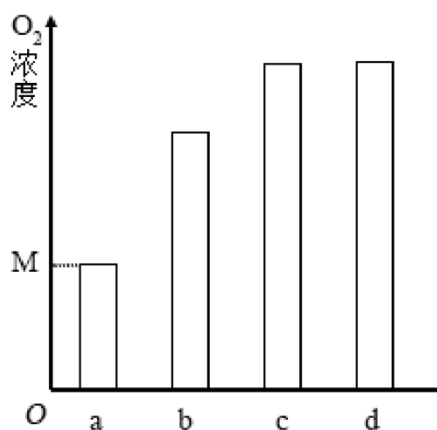
B、Ⅱ期由于资源充足，细菌经过一段的调整适应，种群增长可能会短暂出现“J”形的增长，B 正确；

C、Ⅲ期细菌的增殖速率和死亡速率基本相等，总数保持相对稳定，C 错误；

D、Ⅳ期培养基中营养物质含量减少和代谢产物积累，细菌种群数量会下降，D 正确。

故选 C。

7. 某同学将一种高等植物幼苗分为 4 组（a、b、c、d），分别置于密闭装置中照光培养，a、b、c、d 组的光照强度依次增大，实验过程中温度保持恒定。一段时间（t）后测定装置内 O_2 浓度，结果如图所示，其中 M 为初始 O_2 浓度，c、d 组 O_2 浓度相同。回答下列问题。



(1) 太阳光中的可见光由不同颜色的光组成，其中高等植物光合作用利用的光主要是_____，原因是_____。

(2) 光照 t 时间时，a 组 CO_2 浓度_____（填“大于”“小于”或“等于”）b 组。

(3) 若延长光照时间 c、d 组 O_2 浓度不再增加，则光照 t 时间时 a、b、c 中光合速率最大的是_____组，判断依据是_____。

(4) 光照 t 时间后，将 d 组密闭装置打开，并以 c 组光照强度继续照光，其幼苗光合速率会_____（填“升高”“降低”或“不变”）。

【答案】 (1) ①. 红光和蓝紫光 ②. 光合色素可分为叶绿素和类胡萝卜素，叶绿素主要吸收红光和蓝紫光，类胡萝卜素主要吸收蓝紫光

(2) 大于

(3)

①. c

②. 延长光照时间 c、d 组 O_2 浓度不再增加，说明 c 组的光照强度已达

到了光饱和点，光合速率达到最大值

(4) 升高

【解析】

【分析】1、光合作用的过程：

(1) 光反应阶段：①场所：类囊体薄膜；②物质变化：水的光解、ATP 的合成；③能量变化：光能→ATP、NADPH 中的化学能。

(1) 暗反应阶段：①场所：叶绿体基质；②物质变化：CO₂ 的固定、C₃ 的还原；③能量变化：ATP、NADPH 中的化学能驱动有机物中稳定的化学能。

2、分析题干：将植株置于密闭容器中并给予光照，植株会进行光合作用和呼吸作用，瓶内 O₂ 浓度的变化可表示净光合速率。a、b、c、d 组的光照强度依次增大，但 c、d 组 O₂ 浓度相同，说明 c 点的光照强度为光饱和点。

【小问 1 详解】

光合色素可分为叶绿素和类胡萝卜素两大类，叶绿素主要吸收红光和蓝紫光，类胡萝卜素主要吸收蓝紫光，属于可见光。

【小问 2 详解】

植物会进行光合作用和呼吸作用，光合作用消耗 CO₂ 产生 O₂，呼吸作用消耗 O₂ 产生 CO₂。分析图可知，光照 t 时间时，a 组中的 O₂ 浓度少于 b 组，说明 b 组产生的 O₂ 更多，光合速率更大，消耗的 CO₂ 更多，即 a 组 CO₂ 浓度大于 b 组。

【小问 3 详解】

若延长光照时间 c、d 组 O₂ 浓度不再增加，说明 c 组的光照强度已达到了光饱和点，光合速率最大，即在光照 t 时间时 a、b、c 中光合速率最大的是 c 组。

【小问 4 详解】

光照 t 时间后，c、d 组 O₂ 浓度相同，即 c、d 组光合速率不再变化，c 组的光照强度为光饱和点。将 d 组密闭装置打开，会增加 CO₂ 浓度，并以 c 组光照强度继续照光，其幼苗光合速率会升高。

8. 机体感染人类免疫缺陷病毒（HIV）可导致艾滋病。回答下列问题。

(1) 感染病毒的细胞可发生细胞凋亡。细胞凋亡被认为是一种程序性死亡的理由是_____。

(2) HIV 会感染辅助性 T 细胞导致细胞凋亡，使机体抵抗病原体、肿瘤的特异性免疫力下降，特异性免疫力下降的原因是_____。

(3) 设计实验验证某血液样品中有 HIV，简要写出实验思路和预期结果。

(4) 接种疫苗是预防传染病的一种有效措施。接种疫苗在免疫应答方面的优点是_____ (答出 2 点即可)。

【答案】（1）由基因控制的细胞自动结束生命的过程

（2）辅助性 T 细胞参与淋巴细胞的活化，分泌的淋巴因子可促进淋巴细胞增殖分化，辅助性 T 细胞凋亡会影响淋巴细胞的活化与增殖

（3）实验思路一：利用抗 HIV 抗体，与血液样品进行抗原抗体杂交实验；预期结果：若出现杂交带，则证明血液样品中含有 HIV；

实验思路二：使用 PCR（聚合酶链反应）技术检测样品中的 HIV 核酸，产物经电泳与标准 DNA 进行比对；预期结果：PCR 产物经电泳后出现特定条带，则证明血液样品中含有 HIV

（4）在不使机体患病的条件下使机体产生免疫力；产生的免疫力针对特定病原体；产生的免疫力可保持一定时间

【解析】

【分析】人类免疫缺陷病毒（HIV）属于病毒，遗传物质为 RNA。

【小问 1 详解】

细胞凋亡被认为是一种程序性死亡的理由是因为它是一种由基因控制的细胞自动结束生命的过程。这种过程对于生物体的发育和正常生理功能的维持是必需的。

【小问 2 详解】

辅助性 T 细胞参与淋巴细胞的活化，分泌的淋巴因子可促进淋巴细胞增殖分化，辅助性 T 细胞凋亡会影响淋巴细胞的活化与增殖，机体的特异性免疫力就会下降，导致对各种病原体的抵抗力减弱。

【小问 3 详解】

验证某血液样品中是否存在 HIV，可考虑抗原检测和核酸检测两条途径。实验思路一：利用抗 HIV 抗体，与血液样品进行抗原抗体杂交实验；预期结果：若出现杂交带，则证明血液样品中含有 HIV；

实验思路二：使用 PCR（聚合酶链反应）技术检测样品中的 HIV 核酸，产物经电泳与标准 DNA 进行比对；预期结果：PCR 产物经电泳后出现特定条带，则证明血液样品中含有 HIV。

【小问 4 详解】

疫苗作为抗原，在免疫应答方面，可以在不使机体患病的条件下使机体产生免疫力；产生的免疫力针对特定病原体；疫苗作用下可刺激机体产生抗体和记忆细胞，抗体和记忆细胞可在一定时间内留存，保持对病原体的免疫力。

9. 厦门筼筮湖经生态治理后环境宜人，成为城市会客厅，是我国生态修复的典型案例。回答下列问题。

（1）湖泊水体的氮浓度是评价水质的指标之一，原因是_____。

（2）湖区的红树林可提高固碳效率、净化水体。在湖区生态系统中，红树植物参与碳循环的主要途径有光合作用、呼吸作用，还有_____（答出 2 点即可）。

以上内容仅为本文档的试下载部分，为可阅读页数的一半内容。如要下载或阅读全文，请访问：<https://d.book118.com/717126160001010052>