

# 八年级地理阶段性学习评价样卷

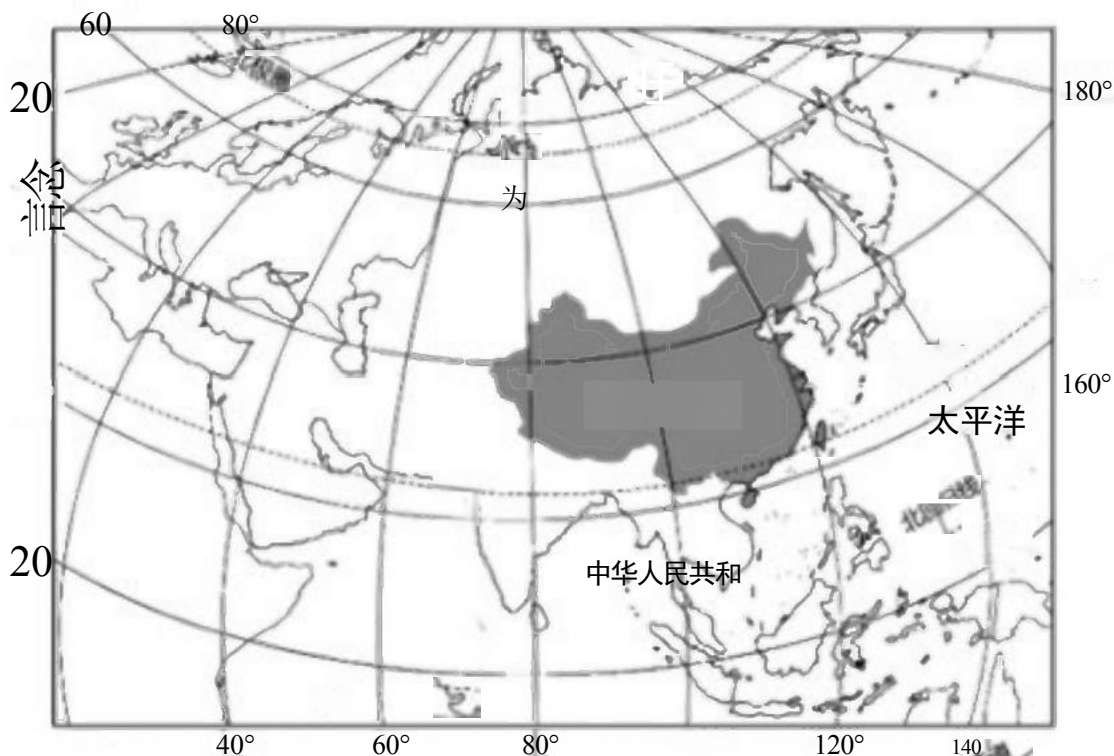
本试卷分第I卷(选择题)和第II卷(综合题)两部分，满分100分。

## 第I卷

友情提醒：同学们，学习地理需要有读图的习惯，我们要读图名、读图例、读图中的信息，一些试题的答案就直接或间接地分布在地图中。下面就请大家结合所学习的地理知识，让我们愉快的做题吧。

一、选择题。(本大题共35小题，每小题2分，共70分，每小题的四个备选答案中只有一个符合题目要求，请将正确答案的字母代号填涂在答题卡上。)

2024年10月1日是新中国成立75周年纪念日，全国各族人民共同欢度国庆假期。下图为中国地理位置示意图，读图完成下面小题。



1. 从图中可以看出我国( )

- A. 跨南北半球
- B. 南临印度洋
- C. 位于亚洲东部
- D. 跨寒、温、热三带

2. 海外的爱国华侨同贺国庆，下列国家中，与我国隔着南海相望的是( )



- A. 马来西亚
- B. 俄罗斯
- C. 印度
- D. 日本

3. 下表为我国领土四端点的经纬度位置，端点①是我国领土的()

端点	①	②	③	④
经纬度位置	4° N, 112° E 附近	53° N, 123° E 附近	40° N, 73E 附近	49° N, 135° E 附近

- A. 最东端
- B. 最南端
- C. 最西端
- D. 最北端

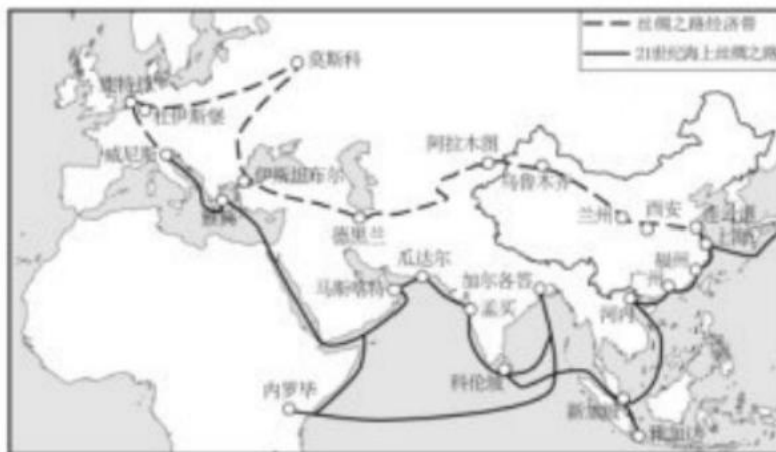
4. “1月，西沙群岛天气炎热，黑龙江沿岸却冰天雪地”，造成这种景观差异的主要因素是我国()

- A. 跨经度广
- B. 跨纬度广
- C. 地形复杂多样
- D. 地势西高东低

5. 我国地理位置优越，体现在()

- A. 大部分地区位于热带，光热丰富
- B. 地跨寒、温、热三带，利于发展多种经营
- C. 海陆兼备，利于发展陆上和海上贸易
- D. 东靠亚欧大陆，西临大西洋，季风气候显著

2023年10月17日至18日，第三届“一带一路”国际合作高峰论坛在北京举行。读“一带一路”图，完成下面小题。



6. 我国幅员辽阔，陆地领土面积约为()

- A. 260 万平方千米
- B. 960 万平方千米
- C. 300 万平方千米
- D. 1700 万平方千米



7. 下列“一带一路”沿线的国家与我国陆上相邻的是()

- A. 日本
- B. 韩国
- C. 越南
- D. 印度尼西亚

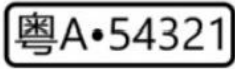
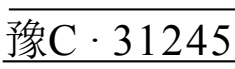
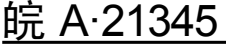
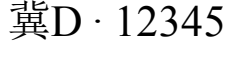
8. 本届峰会主题为“高质量共建‘一带一路’，携手实现共同发展繁荣”，下列有利于国家共同发展繁荣的行为是()

- A. 核污水直接排放海洋
- B. 大量捕杀鲸鱼
- C. 合理捕捞，捕养结合
- D. 休渔期继续捕鱼

9. “丝绸之路经济带”的枢纽城市西安(古长安)是古代丝绸之路的起点，它位于()

- A. 陕西省
- B. 山西省
- C. 河北省
- D. 内蒙古自治区

10. 广州的王先生准备自驾本省牌照的汽车，沿着陆上丝绸之路的路线进行考查，他的车牌是下列中的()

- A.  \_\_\_\_\_
- B. 
- C. 
- D. 

中央电视台《远方的家》栏目推出专题片《边疆行》，以新闻纪实的手法，顺时针勾绘出一幅从广西到辽宁的边疆画卷。图1为栏目组途经的“四省区轮廓图”(①省区有北极村景观、②省区有呼伦贝尔大草原、③是我国少数民族最多的省区、④省区有山水甲天下景观)，图2为“中国各省级行政区轮廓图”。读图完成下面小题。

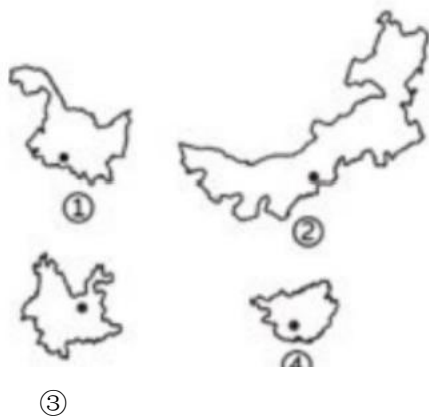


图1



图2

11. 四省区中，有我国最北端点分布的省区是()



A.①                      B.②                      C.③                      D.④

12. 四省区中，属于我国民族自治地方的省级行政区有()

A. 一个                      B. 两个                      C. 三个                      D. 四个

13. 四省区中，临海的省区是()

A.①                      B.②                      c.③                      D.④

14. 甲行政区的简称是()

A. 蒙                      B. 新                      C. 川                      D. 苏

15. 我国人口分布线胡焕庸线-黑河与腾冲连线端点所在的省区分别是()

A.① 和②                      B.② 和④                      c.① 和③                      D.③ 和④

左图示意微信公众号“布达拉宫官方平台”标志，图中文字为汉字和藏文，右图为该省区主要少数民族服装，读图完成下面小题。



16. 生活在布达拉宫周围的少数民族主要是()

A. 壮族                      B. 回族  
C. 藏族                      D. 傣族

17. 电视剧《日光之城》中出现了很多布达拉宫的镜头，布达拉宫所在的城市是()

A. 乌鲁木齐                      B. 银川  
C. 拉萨                      D. 昆明

18. 右图的民族服装能够在早晨的时间全部穿上保暖，在中午的时间脱下半边凉爽，这能够反映当地()

A. 多降雨                      B. 较干旱                      C. 云层厚                      D. 温差大

19. 该地位于()

A. 内蒙古高原                      B. 青藏高原                      C. 云贵高原                      D. 黄土高原

20. 标志上使用了汉字和藏文，其作用不是为了()

A. 维护民族团结                      B. 对比文字差异                      C. 传承民族文化                      D. 尊重民族语言









26. 我国各类地形中，面积所占比例最大的是（）

- A. 丘陵                      B. 山地                      C. 平原                      D. 高原

27. 图中信息反映出我国的地形特征是（）

- A. 高原面积占比最小  
 B. 地形类型复杂多样  
 C. 没有盆地分布  
 D. 平原面积广大

28. 我国四大高原及其主要特征对应正确的是（）

- A. 内蒙古高原-崎岖不平  
 B. 青藏高原-平坦开阔  
 C. 云贵高原-高寒干旱  
 D. 黄土高原-千沟万壑

29. 气候湿热的盆地是（）

- A. 塔里木盆地                      B. 准噶尔盆地  
 C. 四川盆地                      D. 柴达木盆地

30. 通常把山地、丘陵及比较崎岖的高原统称为山区。下列关于山区的描述不正确的是

（）

- A. 农业可发展多种经营                      B. 雨季易发生山洪灾害  
 C. 宜发展生态旅游业                      D. 最大限度开采矿产资源

敦煌作为“一带一路”沿线的历史文化名城，以博大精深的文化内涵闻名于世。图为“敦煌位置示意图”，根据图文资料，完成下面小题。

试卷第6页，共9页



以上内容仅为本文档的试下载部分，为可阅读页数的一半内容。  
。如要下载或阅读全文，请访问：

<https://d.book118.com/728013054103007014>