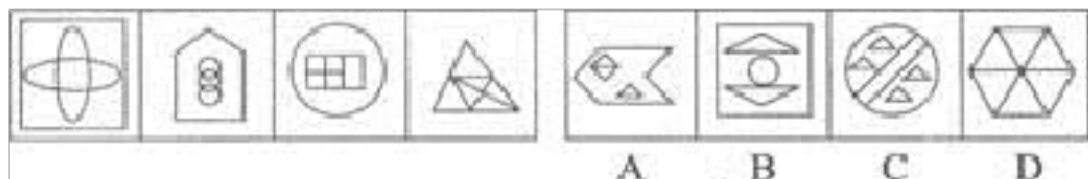


2022-2023 学年安徽省安庆市公务员省考行政职业能力测验测试卷一(含答案)

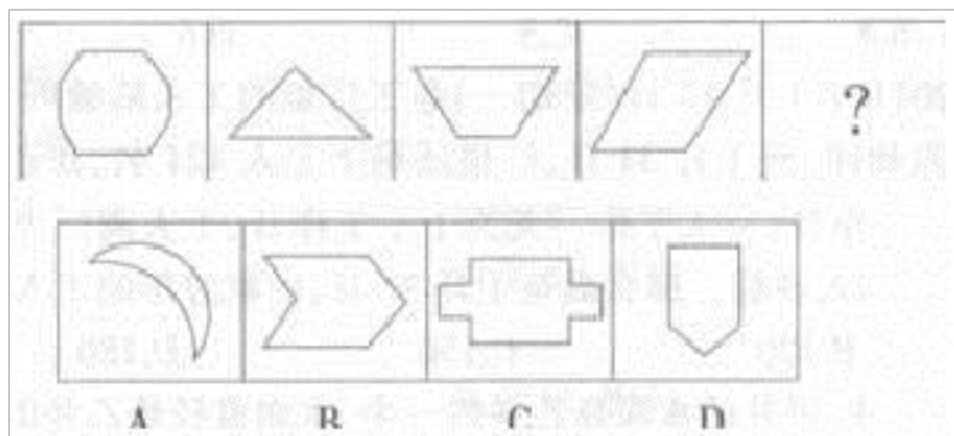
学校:_____ 班级:_____ 姓名:_____ 考号:_____

一、图形推理(6题)

1. 请从所给的选项中,选择最符合左边图形一致性规律的选项。()



2. 从所给的四个选项中,选择最合适的一个填入问号处,使之呈现一定的规律性:



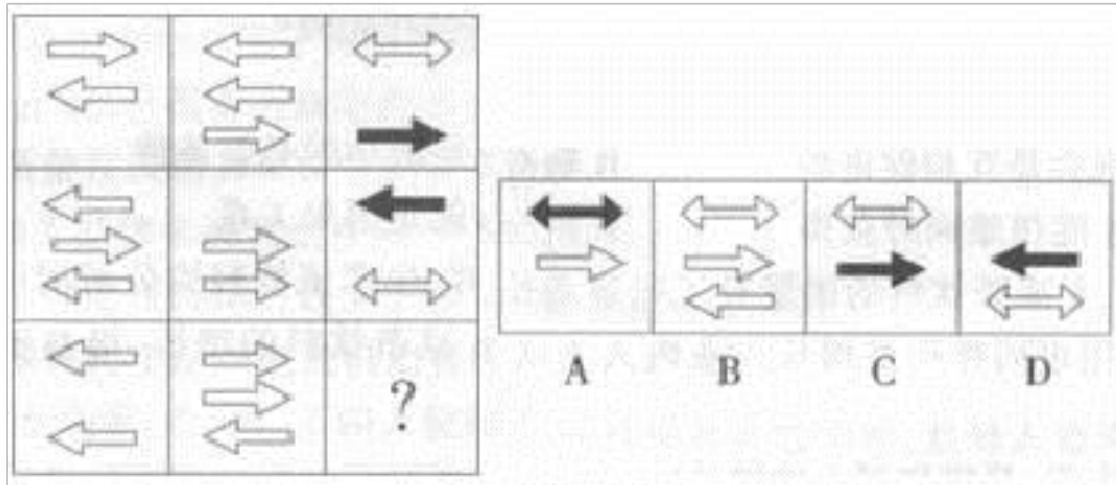
3.

把下面的六个图形分为两类,使每一类图形都有各自的共同特征和规律,分类正确的一项是:

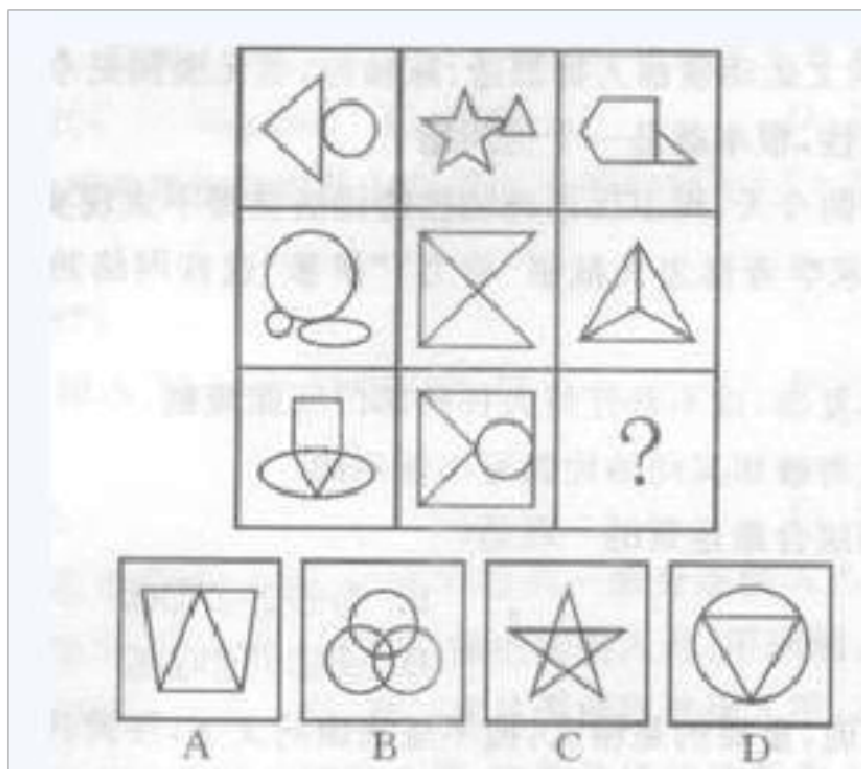
A.①②③, ④⑤⑥ B.①②⑥, ③④⑤ C.①③⑤, ②④⑥ D.①④⑤, ②

③⑥

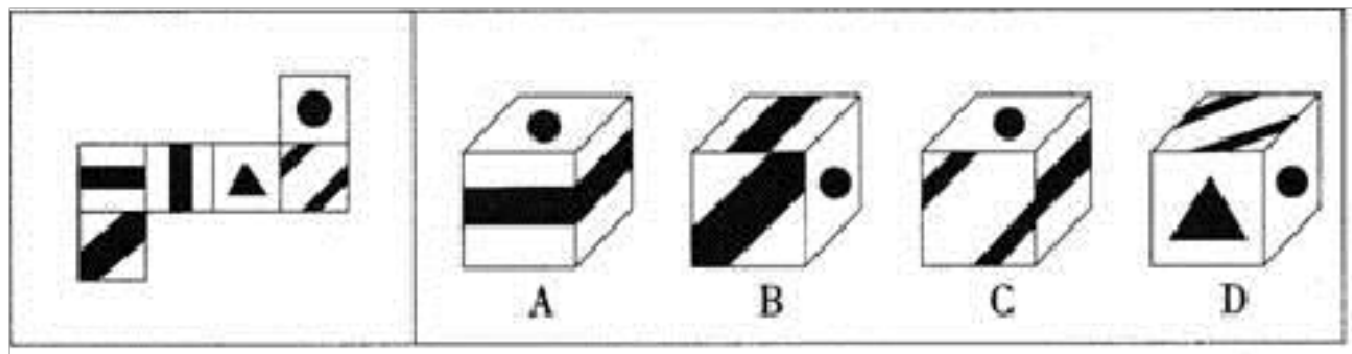
4. 从所给的四个选项中, 选择最合适的一个填入问号处, 使之呈现一定的规律性:



5. 从所给的四个选项中, 选择最合适的一个填入问号处, 使之呈现一定的规律性:



6. 左边给定的是纸盒外表面的展开图, 右边哪一项能由它折叠而成? 请把它找出来。



二、定义判断(10题)

7.大并列关系是指两个事物同属于一个属，并且把整个集合全部占满的情况，即在一个属下面的两种情况。根据上述定义，下列属于大并列关系的一项是()

A.直角三角形和非直角三角形 B.胖子和瘦子 C.正数和负数 D.紫花和红花

8.

交通肇事罪是指违反交通运输管理法规，因而发生重大事故致人重伤、死亡或者使公私财产遭受重大损失的行为。本罪在主观方面表现为过失，包括疏忽大意的过失和过于自信的过失。根据上述定义，下列符合交通肇事罪的是：

A.机动车驾驶员甲超速行驶，遇红灯时来不及刹车撞上前面正常行驶的一辆汽车，致使该车驾驶员王某牙齿撞伤流血

B.公交司机乙对社会怀有仇恨，一日驾驶满载乘客的公交车闯红灯，冲向路边正在过马路的人群，致使多人重伤、死亡

C.机动车驾驶员丙驾驶车辆在高速公路上行驶时，方向盘忽然失灵，撞上旁边的轿车，致使轿车撞向公路围栏，造成轿车司机和乘客共三人死

亡

D.某校车驾驶员丁某驾驶超载校车，行驶途中遇到一辆超速行驶的卡车，在避让中校车侧翻，致使多名学生重伤

9. 在人类的行为中，内在动机和外在动机都会起作用。激发行为的外在动机可能会降低行为的内在动机。当人们认为自己的行为是由很强的外在原因引起时，他们会低估内在原因对行为的影响程度，这种现象被称为过度辩护效应。根据上述定义，下列哪一选项体现了过度辩护效应？

()

A.小何与妻子是包办婚姻，他总认为妻子对他的嘘寒问暖是尽妻子的义务，直到妻子离开后，他才发觉其实这是妻子爱的表现

B.小红很喜欢画画，每星期都要画一幅，妈妈为了鼓励她，经常奖励她玩具，久而久之，当妈妈不买玩具给小红时，她便不再画画了

C.超市为了促销每周都有一个特价日，小丽在这天去购物时看到大家纷纷抢购，也买了一堆自己并不需要的东西

D.作为一名新员工，小王为了尽快融入集体，每天很早到办公室帮助大家收拾打扫，大家也尽量在工作上对其予以指导，小王熟悉工作后便停止了打扫

10.国有资产的流失是指国有资产的出资者、管理者、经营者，因主观故意或过失，违反法律、行政法规和规章，造成国有资产的损失。

下列各项行为中不属于造成国有资产流失的原因的是 ()。

- A.某地区为振兴地方经济，不注重实效，盲目引进设备，决策失误导致国有企业严重亏损
- B.某企业为了逃避债务，申请破产，在清算之前企业主要负责人私分了大量国有财产
- C.某企业在股份制改造和拍卖过程中，故意将国有资产高值低估
- D.某国有企业大批钢材被盗，造成重大损失

11.道路交通事故是指车辆在道路上因过错或者意外造成的人身伤亡或者财产损失的事件。其中“道路”，是指公路、城市道路和虽在单位管辖范围但允许社会机动车通行的地方，包括广场、公共停车场等用于公众通行的场所。“车辆”，是指机动车和非机动车。“非机动车”，是指以人力或者畜力驱动，上道路行驶的交通工具，以及虽有动力装置驱动但设计最高时速、空车质量、外形尺寸符合有关国家标准的残疾人机动轮椅车、电动自行车等交通工具。

根据上述定义，下列不属于道路交通事故的是：

- A.小王在进行封闭管理的小区内倒车时不慎将一老人撞倒
- B.周小姐带着宠物狗横穿马路时，乱闯的宠物狗不幸丧生在车轮下
- C.小赵将汽车停在商场附近的停车场，取车时发现车尾部被撞，肇事车辆已逃跑
- D.绿灯亮时，小姜穿过斑马线过马路，被一辆闯红灯的自行车撞伤

12.角色冲突：当一个人扮演一个角色或同时扮演几个不同的角色时，由

于不能胜任，造成不合时宜而发生的矛盾和冲突。

下列情形中不属于角色冲突的一项是（ ）。

- A.一些大一新生入学后，面对新的生活环境很不适应
- B.某公司一职员由于业绩出众，被公司提拔为销售经理，但是他感到力不从心
- C.假期里，张某的妻子想让他陪她出去旅游，而他母亲想让他回家陪陪父母
- D.在边远山区的一所小学里，某位老师既教数学，又教语文，但学生们的两门功课成绩都很好

13. 媒体暴力：指媒体及其从业者利用媒体本身作为大众传播媒介的话语权优势对新闻当事人或被波及的人群所实施的一种暴力行为。相对于现实中的暴力，传媒的“暴力”更多地体现在对传媒力量的放任、对事件缺乏调查和对影响的缺少预料，甚至人为制造和恶化舆论环境，给社会以及一些事件的当事人造成了非常严重的影响。

根据上述定义，下列不属于媒体暴力的是（ ）。

- A.2006年夏季，南方某报记者曾撰文，怀疑市面上的西瓜被人为地注射了红药水以保持颜色红嫩。没想到，此报道竟引发2006年海南西瓜大量滞销，瓜农损失上千万
- B.某名人徒弟“打人事件”被报道之后，诸多媒体一边倒地对该名人口诛笔伐

C.某记者的女朋友被公司解雇之后，该记者在某论坛实名撰写了一篇文章，文章指出该公司老板性骚扰女员工。这篇文章在各大论坛广为传播，给该公司声誉造成极坏的影响

D.在一段时期内，媒体用“乞丐村多见二层小洋楼”、“乞丐村乞丐坐飞机返乡”等标题报道小寨村一些或真或假的新闻，于是诸如“好吃懒做”、“不知羞耻”、“假乞丐”的标签贴在了小寨人的身上

14. 色彩营销就是要在了解和分析消费者心理的基础上，做消费者所想，给商品恰当定位，然后给产品本身、产品包装、人员服饰、环境设置、店面装饰一直到购物袋等配以恰当的色彩，使商品高情感化，成为与消费者沟通的桥梁，实现“人心——色彩——商品”的统一，将商品的思想传达给消费者，提高营销的效率，并减小营销成本。

根据上述定义，以下属于色彩营销的是（ ）。

A.人民公园在菊花节到来之际，把整个公园装饰成了菊花的海洋，吸引了大量市民来此赏花

B.刘阳和谢荣的婚房装修的主色调是红色，看起来喜庆极了

C.王华开了个饰品店，她比较喜欢绿色，因此在装修的时候就把主色定为了绿色，装好之后看起来还挺温馨

D.某品牌化妆品选用米色、乳白、粉红等中间色包装，以产生高雅富丽、质量上乘的美感效果

15. 对于两种物品，如果一种物品价格的上升会引起另一种物品需求的

增加，则这两种物品被称为替代品；如果一种物品价格的上升会引起另一种物品需求的下降，则这两种物品被称为互补品。

根据上述定义，下列属于互补品的是（ ）。

- A.春运期间，由于火车票“一票难求”，不少人转而乘坐飞机回家
- B.随着数码相机的使用越来越广泛，胶卷这一产品正逐渐退出历史舞台
- C.在物价不断上涨的今天，由于牛奶的价格上升得较快，许多人转而购买奶粉
- D.由于中国联通与 iPhone4 开展了合约计划政策，购买 iPhone4 的用户只能选择联通的通信服务

16.实质性阻碍，是指倾销产品虽未对进口国相同产业造成实质性损害或产生实质性损害威胁。但却严重地阻碍了进口国相同产品的一个新产业的建立。

根据上述定义，下列属于实质性阻碍的是（ ）。

- A.美日两国向中国出口的丙烯酸酯数量 1999 年比 1996 年增长了 217.09%，而此期间境内同类产品消费量每年平均增长 27%，但产量和销售量却只增长 16.34%和 15.56%
- B.20 世纪 80 年代，日本将大量的彩电集装箱运抵美国，存放在进口商的仓库里。当囤积到一定数量时，便以低价在美国市场销售。使美国的彩电生产商遭受到了极大的损害
- C.日本向欧共体倾销艇外推进机，由于欧共体至今尚无计划生产 85 马力以上的艇外推进机。从日本低价进口的 85 马力以上的该产品迅速占

领了市场

D.美国生产商已经为开发一种晶体渔网进行了大量的投资，然而与此同时，日本向美国大量出口该渔网，并以低价出售，迅速占领了美国市场

三、常识判断(10题)

17.发展社会主义市场经济，必须建立主要由市场形成价格的机制，因为只有这样的价格机制，才能()

- A.反映价值和供求的变化，引导资源合理配置
- B.保持价格与价值一致，实行等价交换
- C.适应市场供求变化，实现经济协调发展
- D.促进公平竞争，维护消费者应有的权益

18.

第 79 题 我国的地方审计机关包括：省、自治区、直辖市、设区的市、自治州、县、自治县、不设区的市、市辖区的人民政府的审计机关。地方审计机关实行()。

- A. 单一领导体制
- B. 双重领导体制
- C. 多重领导体制
- D. 独立型模式

19.第 89 题 飞机起飞与降落时，应()最为有利于安全保障。

- A. 顺风起飞,顺风降落
- B. 逆风起飞, 逆风降落
- C. 顺风起飞, 逆风降落
- D. 逆风起飞, 顺风降落

下列各项中, 不属

于法制内涵的是 ()。

- A. 现行法律规则
- B. 法律实施和监督
- C. 治国原则和方法
- D. 法律运行的机制

21.第 89 题 下列关于法律部门的表述正确的有 ()。

- A. 一国法律体系是由各个不同的法律部门有机组合而成的
- B. 法律规范所调整的社会关系是划分法律部门的重要标准
- C. 法律制度是组成法律部门的最小单位
- D. 行政法是我国的一个独立法律部门

22.行政机关对于申请人提出的行政许可申请材料,若发现存在可以当场更正的错误,应当()

- A. 退回申请材料
- B. 允许申请人当场更正
- C. 替申请人更正
- D. 不予受理

23. ()。

- A. 吴佩孚—孙传芳—张作霖
- B. 孙传芳—吴佩孚—张作霖
- C. 张作霖—吴佩孚—孙传芳
- D. 吴佩孚—张作霖—孙传芳

的是（ ）。

- A.去黑龙江漠河看日出，参观中国一汽总部
- B.去上海浦东新区，游玩了迪斯尼乐园
- C.去重庆游三峡，吃了美味可口的火锅
- D.去海口游玩，在天涯海角摄影留念

25.以下各项著名景点中，都在同一个省份的是（ ）

- A.阿房宫、大雁塔、华清池、五台山
- B.太阳岛、天涯海角、亚龙湾、五指山
- C.天一阁、瘦西湖、苏州园林、水乡周庄
- D.苍山洱海、三江并流、泸沽湖、西双版纳

26.第 15 题 我们要建立社会主义市场经济体制，就必须（ ）。

- A. 弱化国家对经济的宏观调控
- B. 加强和改善国家对经济的宏观调控
- C. 建立起全国统一的、开放的市场体系
- D. 建立多层次的社会保障制度

(10 题)

27.第 8 题 $75 \times 28 \times 32 \div 6$ 的值是（ ）。

- A.100 B.140 C.160 D.140

28. 4, 18, 42, 76, ()

79

B. 84

C. 92

D. 120

29.第 13 题 我们平常看到的水，是液体的、流动的、不定型的，遇到天冷，会凝结成冰，宏伟巨大的冰山、冰川，是大自然塑造的水的壮美形象；遇到天气炎热，它又可以变为升腾的水蒸气，由地面飞到山顶，飞上无尽的苍穹，变成云，变成霞，以展示柔美多彩的身姿；有时候它又借助太阳的眼睛，在天上凌空架起七彩的虹桥，诱发人们丰富的想象；有时又会在海上湖面，凭空变出一座城市，一片仙境，那就是有名的海市蜃楼。这段文字描述的主要是（ ）。

- A. 水是有生命的
- B. 水的安分随时
- C. 水的随机应变
- D. 水柔能克刚的精神

30.第 11 题

A、B 两位同学参加同一次竞赛考试，如果 A 答对的题目占题目总数的 $\frac{3}{4}$ ，B 答对了 25 道题，他们两人都答对的题目占题目总数的 $\frac{2}{3}$ ，那么两人都没有答对的题目共有几道？（ ）

- A. 5 道
- B. 6 道
- C. 7 道
- D. 8 道

以上内容仅为本文档的试下载部分，为可阅读页数的一半内容。如要下载或阅读全文，请访问：<https://d.book118.com/736035125201010223>