

11月6日四川省公务员考试笔试行测真题及答案解析

第一部分数量关系

(共15题, 参照时限15分钟)

本部分包括两种类型的试题:

一、数字推理, 共5题。给你一种数列, 但其中缺乏一项或两项, 规定你仔细观测数列的排列规律, 然後從四個供选择的选项中选出你认为最合理的一项, 用来弥补空缺项。

【例题】1, 3, 5, 7, 9, ()。

A. 7 B. 8 C. 11 D. 未给出

【解答】对的答案为11, 原数列是一种奇数数列。故应选C。

請開始答題:

1. 3, 4, 6, 9, 14, 22, 35, ()。

A. 47 B. 49 C. 53 D. 56

2. 0, 7, 26, 63, ()。

A. 124 B. 153 C. 188 D. 196

3. -2, 3, -5, 8, -12, ()。

A. 15 B. 17 C. 20 D. 23

4. 1, 2, 5, 12, 29, ()。

A. 59 B. 60 C. 65 D. 70

5. 1, 2, 6, 15, 40, 104, ()。

A. 233 B. 256 C. 273 D. 296

二、数学运算, 共10题。你可以在草稿纸上运算, 碰到难题, 你可以跳過不做, 待你有时间再返回来做。

【例题】84.78元、59.50元、121.61元、12.43元以及66.50元的总和是()元。

A. 343.73 B. 343.83 C. 344.73 D. 344.82

【解答】D。实际上你只要把四个数的最终一位数加一下, 就会发现和的最终一位数是2, 只有D符合规定, 就是说你应当动脑筋找出解题的捷径。

請開始答題:

6. 一种自然数(0除外), 假如它顺著数和倒过来数都是同样的, 则称这个数为“对称数”。例如, 2, 101, 1331是对称数, 但220不是对称数。由数字0、1、2、3构成的不超过3位数的对称数个数有()个。

A. 9 B. 12 C. 18 D. 21

7. 某迅速反应部队运送救灾物资到灾区。飞机原计划每分钟飞行12千米, 由于灾情危急, 飞行速度提高到每分钟15千米, 成果比原计划提前30分钟抵达灾区, 则机场到灾区的距离是()千米。

A. 1600 B. 1800 C. 2050 D. 2250

8. 從0、1、4、7、9中选4个数字构成若干个四位数, 把其中能被3整除的四位数从小到大排列起来, 那么第拾个数是()。

A. 4017 B. 4071 C. 4107 D. 4170

9. 有一根长240米的绳子, 從某一端开始每隔4米作一种记号, 每隔6米也作一种记号。然後将標有记号的地方剪断, 则绳子共剪成()段。

A. 40 B. 60 C. 80 D. 81

10. 某种细胞开始时有2个, 1小时后分裂成4个并死去1个, 2小时后分裂成6个并死去1个, 3小时后分裂成10个并死去1个……按此规律, 6小时后细胞存活的个数是()个。

A. 63 B. 65 C. 67 D. 71

11. 有9公斤、6公斤、2公斤的糖和15公斤、8公斤、7公斤的面粉各一袋, 每公斤糖的价格是每公斤面粉价格的2倍。某人买了其中5袋, 并且买糖和买面粉的价钱同样, 则剩余那袋食品重()公斤。

A. 8 B. 7 C. 6 D. 2

12. 有一列数, 第一种数是90, 第二个数是80。從第三个数开始, 每一种数都是它前面两个数的平均数。则第100个数的整数部分是()。

A. 80 B. 83 C. 85 D. 87

13. 有三個居委會的居民共訂 600 份《華西都市報》，每個居委會至少訂 199 份，最多訂 201 份，則不一樣的訂報方式有（）種。
- A. 3 B. 5 C. 6 D. 7
14. 已知數列 $\{a_n\}$ 滿足 $a_n = 3n + 1$ (n 為奇數, $n \in \mathbb{N}$) $2n - 2$ (n 為偶數, $n \in \mathbb{N}$) 則 $a_2 \cdot a_3 =$ ()。
- A. 70 B. 28 C. 20 D. 8
15. 某單位的招聘考試有 1000 人報名，錄取了 150 人，被錄取者比未被錄取者的平均成績高 38 分，兩者總平均分是 55 分，錄取分數線比錄取者的平均成績少 6.3 分，則錄取分數線是（）分。
- A. 79.5 B. 81 C. 83 D. 87.3

第二部分言語理解與體現

(共 35 題，參照時限 30 分鐘)

本部分包括三種類型的試題：

一、選詞填空，共 10 題。規定你從所給的四個選項中選出一種來填空，使句子的意思體現得最精確。【例題】為了以便群眾，公交企業在元旦、春節期間（）了收車時間。

- A. 延長 B. 推延 C. 放寬 D. 遲延

【解答】用“推延”使句子的意思體現精確，故應選 B。

請開始答題：

16. 中國、印度、巴西、南非等發展中國家積極採用了減排措施，為增進哥本哈根會議獲得積極成果發揮了積極的（）作用。
- A. 指導性 B. 戰略性 C. 戰術性 D. 建設性
17. 目前 DNA 基礎的測試措施使科學家排除了外星球生命形式並非來源於地球的也許性。這（）著科學家期望外星球生命可以具有與地球任何已知有機生命完全不一樣的 DNA 構造。
- A. 預示 B. 標志 C. 意味 D. 暗示
18. 為了抵禦金融危機，各國政府共同放鬆信貸、減少利率、發行貨幣。就是為了加大流動性，滿足資本盈利的規定。可是，這無疑是種（）的措施，由於，資本在獲得利潤滿足後必然把更大的危機丟給社會。
- A. 飲鴆止渴 B. 亡羊補牢 C. 殺雞取卵 D. 竭澤而漁
19. 真正的社會主義法治國家，應是以社會為本位，以社會至上，（）要建立法治國家，（）要形成法治社會。
- A. 既又 B. 一面一面 C. 既然那麼 D. 不只更
20. 實際上，尺度假如把握不好，合法的新聞輿論監督也也許轉化為不妥的新聞審判。為此，我們有必要（）新聞媒體的職責與定位，防止新聞對司法活動的過度（），從而形成正常的新聞輿論氣氛。
- A. 厘清干涉 B. 厘清干預 C. 理清干涉 D. 理清干預
21. 在金融危機下，稅務人員並不懂得每個企業的资金鏈究竟有多（），可以承受起多大的（）。
- A. 脆弱風吹草動 B. 牢固大起大落 C. 強韌風吹草動 D. 穩固暴風驟雨
22. 只有（）中國歷史的人才會懂得，自南北朝以來日益昌盛的佛教，尤其是通過武則天的（）後來，才真正到達了發展的最高峰。
- A. 熟習扶持 B. 熟悉扶持 C. 熟悉扶植 D. 熟習扶植
23. 蝶，是一種（）的名字，如曇花，如流星，生命在破莖後的幾天裏（）。但有時生命的消滅並不意味著精神的（），就像蝶，它們會成為莊生夢裏的化身，會傳送梁祝生死不渝的約定。
- A. 虛幻一閃而逝幻滅 B. 震撼倏忽而逝泯滅 C. 感動轉瞬即逝消滅 D. 驚艷匆匆而逝消滅
24. 風暴過後，我們假如發現市場經濟最堅定的（）在亞洲，也無需驚訝。發生於上個世紀末的亞洲金融危機使得這個大洲（），它們已經從這些經歷中學到（）的重要性，已經學會愈加成熟地處理和應對全球化的多種問題。
- A. 基礎化險為夷防患未然 B. 擁趸因禍得福未雨綢繆
- C. 柱石反敗為勝有備無患 D. 支柱轉危為安謀敵未動

駕考寶典

25. 啟蒙意味著辭別閉塞和蒙昧，走向（），啟蒙的關鍵在於對理性的運用和（）。啟蒙思想家相信宇宙的合理、秩序與可知，並據此對知識、國家、社會以及人倫進行合理而有序的（）。
- A. 文明讚美重建 B. 聰穎顯現重塑 C. 光明嚮往重組 D. 開明張揚重構

二、語句体现，共 10 題。规定你從語气、詞序、語法构造等方面對有关語句作出判断。

【例題】從給出的几句话中选出没有語病的一句。()

- A. 閱讀理解与否，是衡量閱讀能力好壞的重要標志
- B. 閱讀与理解，是衡量閱讀能力好壞的重要標志
- C. 閱讀与否理解，是衡量閱讀能力的重要標志
- D. 閱讀能力好壞的標志是理解

【解答】從給出的四句话来看，只有 A 没有語病。

請開始答題：

26. 下列語句中，有語病的一项是 ()。

- A. 我国企业职工养老保险制度不停完善，各省已所有出台养老保险省级统筹措施
- B. “電荒”隐忧的背後不是体现供求关系，而是煤電价格形成机制的反应
- C. 地铁网络正在逐渐完善，硬件是到达了世界先進水平，而软件服务与世界先進水平差距太大
- D. 我們要号召更多社會人士关注慈善事业，為愛心活動奉献一份力量

27. 下列語句中，有語病的一项是 ()。

- A. 科举制度從隋朝确立以来，内容逐渐充实丰富，成為中国封建社會最重要的文官选拔制度，對中唐以来的历史影响深遠
- B. 元朝统一天下後来，把百姓分為蒙古人、色目人、汉人、南人四等。從此對這四等人实行有区别的民族看待和统治政策
- C. 由老子、庄子開創的道家學派与儒家學派同样，共同构成中国老式文化和哲學思想体系的两座不可或缺的基石
- D. 所谓纪传体措施，即以记人为主体的历史论述措施，《史记》的作者司馬迁用這種措施開創了以往编年体历史体例以外的新天地

28. 下列語句中，没有語病的一项是 ()。

- A. 海盜运用赎金在自己的小型船上购置和安装了高速馬达和全球定位系统等高性能设备
- B. 假如朝鮮問題非得通過軍事手段来处理，這無疑將會給整個東北亚地区带来劫难性後果
- C. 冷战結束後，国际关系的前景在苏联共产主义大厦倒塌的傍晚裏露出了一缕微弱的曙光
- D. 中国汽車市場是世界上发展最快的国家之一，問題是目前中国的汽車企业非常分散，不能形成有效的竞争力

29. 下列語句中，有語病的一项是 ()。

- A. 為了遏制官员子女腐败的現象不再发生，中央政府新近出台了一系列的规定
- B. 由于往往陷于发展速度与规模的單一追求，某些都市已經破壞了原生态之美
- C. 伴随京广、京沪高速铁路等即将竣工通車，我国必将很快迎来一种高铁時代
- D. 作為全球最暢銷的教科書之一，哈耶克的著作《經濟學》影响了整整一代人

30. 下列語句中，有語病的一项是 ()。

- A. 据专家們简介，占地 17 亩的成都博物馆将与天府广场区域周围建筑风格相融合，具有老式、時尚的成都特色
- B. 《中共党建辞典》已經收录了“网络反腐”的詞条，這表明我党正积极探索运用网络反腐，监督官员廉洁自律
- C. 從第一声啼哭開始，眼泪便成為成長道路上不可或缺的點綴，心灵创伤、肉体疼痛等原因都也許使人落泪
- D. 有关給乙肝病毒携带者颁发健康证的問題，国家有关文献從理论和政策两方面作了明确的规定和详细的阐明

31. 下列語句中，成語使用錯誤的一项是 ()。

- A. 专家指出，大盘近期在海外市場持续震蕩，使一度处在低迷状态的指数基金雪上加霜
- B. 許多老年人都喜欢告诫年轻人，做事情应当虚心听取他人的意見，千萬不能善自為謀
- C. 這次意大利總理贝卢斯科尼遭袭事件，使得意大利内阁重组的前景再一次成為海市蜃楼
- D. “時尚先生”古力在上個世紀末就名噪一時，成為中、日、韩国棋界中的風雲人物

驾校

32. 下列語句中，没有語病的一项是 ()。

- A. 中国人不愛喝牛奶的原因重要是人們的饮食习惯還沒有進行對应的改善所致
- B. 巴基斯坦、伊拉克地区连日发生多起武装冲突，當地各大醫院藥物非常奇缺
- C. 人們紧张，迟早出現的克隆人將從主线上变化人类數百萬年的两性生殖方式

D. 翻開經濟发展的历史，人們會发现經濟衰退往往總是會与經濟泡沫同步出現

33. 下列語句中，成語使用對的的一項是（）。

- A. 這位老紅軍戰士幾拾年如一曰，堅持奮鬥，勇猛精進，為黨為人民做了諸多艱苦的工作
- B. 每當看到這些照片和證書，老張就會面帶微笑，深情地回憶起自己煊赫一時的大課時光
- C. “沒有調查就沒有發言權”，新聞記者一定要深入一線，管窺蠡測，絕不能從事虛假報道
- D. 每個人均有長處和短處，這就規定領導幹部直情徑行，使他們能發揮專長，為人民服務

34. 下列語句中，有歧義的一項是（）。

- A. 中國在世界重要經濟體中繼續保持最快的发展速度
- B. 他沖破了層層阻力，最終踏上了祖國大陸這塊日思夜想的土地
- C. 工信部稱將加緊立法為手機實名制提供法律根據
- D. 中國相信自己的有關出口措施符合世貿組織的原則和規則

35. 下列語句中，沒有語病的一項是（）。

- A. 目前，某些中學的教育出現了某些令人擔憂的現象：高一、高二的學生數學尤其好，因此對語文缺乏愛好
- B. 新近的一項調查顯示，我國高等院校在未來的5到10年，畢業生人數在到達歷史最高峰後將逐年回落
- C. 一種國家科技人才的数量決定了科技實力，體現了綜合國力在國際競爭中的地位，是國家興衰的重要標志
- D. 充足認識科技體制和教育體制的交互作用，以及怎樣運用這種作用反過來去刺激新的科技發明，極為重要

三、閱讀理解，共15題。每道題包括一段文字，背面是一種不完整的陳說，規定你從四個選項中選出一項來完
畢陳說。注意：答案也許是對文字內容的復述，有時則滿足了陳說中其他方面的規定，你的選擇應與所提規定
最相符合。

【例題】鐵路新線路的開辟與否往往必須在建路花費盡量少的規定與新建路線的貿易運送量盡量多的規定之間
獲得妥協。這段話重要支持了這樣一種論點，即新建鐵路的線路（）。

- A. 應當是一造價最低的線路
- B. 其選擇決定了新興貿易中心的位置
- C. 決定於與否與終點之間的距離最短
- D. 不會總是具有最低建築成本的線路

【解答】仔細考察四個選項，您可以發現，選項A與題中“妥協”的含義不相符；選項B和C都無法從題中得
出；只有選項D是短文支持的一種重要觀點，因此對的答案為D。

請開始答題：

36. 自6月26日開始，6家環境保護NGO發起的“26°C空調整能行動”已經起航5年，但在今夏用電高峰期，
北京大多數室內空調的溫度都在23°C—25°C，個別甚至低於20°C。實際上，怎樣推進環境保護運動的持續性一
直考驗著NGO的行動能力。而在偃旗息鼓的背後，更波及南北氣溫差異，行動的詳細效果引起爭議等NGO協
調問題。今夏電力仍舊緊張，多家NGO均表達，雖然自身臨時沒有有關計劃，但如有同行呼喚，他們將一如既
往地支持參與。最適合做這段文字標題的是（）。

- A. 偃旗息鼓的26°C行動
- B. NGO行動能力下降
- C. 偃旗息鼓的背後
- D. 今夏電力緊張使得26°C行動偃旗息鼓

37. 像歷史上的任何一次大規模移民同樣，搬遷只意味著第一步的邁出。外遷移民需要一種漫長的適應與被吸納
的過程。其中有某些人，因無法適應全新的生活環境，選擇回到靠近故土的地方，被稱為移民的“返流”現象。
移民“返流”提出的是複雜的課題，既闡明政策上有尚需跟進和完善之處，也表明外遷移民與遷出地之間需要更
積極的融合。對這段文字概括最對的的一項是（）。

- A. 歷史證明大規模移民並不可取
- B. “返流”的增多，伴生了許多新的社會問題
- C. “返流”現象表明移民安頓是一項系統工程
- D. 移民的“返流”現象不可防止

38. 翻翻舊雜誌，便能發現某些有關人性的很故意思的東西。20世紀初的報紙和雜誌充斥著有關迅速減肥儀、神
奇治療術以及其他種種明顯的江湖騙術的廣告。一種世紀之後，此類東西仍然在廣告——並且響應者如雲。這其
中與否包括著深刻的人類行為和心理的信息？

在這段文字中，作者想要體現的觀點是（）。

- A. 人類社會有著極強的群體心理、社會習慣的延續性
- B. 減肥廣告、江湖騙術一直伴隨人類自近代以來的社會
- C. 現代的人與一種世紀此前的人見識、判斷、心智上並無兩樣
- D. 對虛假廣告的趨應反應出人類共同的行為和心理慣性

39.

在西方社會裏，孩子成年獨立了住在家裏都得給父母膳食費，這已是西方社會約定俗成的現象。這種社會裏，大家承認團體的界線，在團體裏的組員得具有一定的資格與條件，資格取消了就得走出這個團體。這在他們不是人情冷暖的問題，而是權利問題。在西方社會裏人們爭取的是權利，而在我們中國，人們看重的却是互相關系、交情。在西方，人們構成一定的社會團體最看重的是（）。

- A. 團體組員的界線
- B. 團體組員的資格與條件
- C. 團體組員的權利
- D. 團體組員的關係與交情

40. 國際奧委會主席雅克·羅格在倫敦表達，夏季奧運會的主辦都市倫敦不必將超越北京奧運會作為目的，只要“做好倫敦”就可以了。他說：“沒有一屆奧運會比其他奧運會更好。既沒有‘最佳的’也沒有‘最大的’奧運會，它們只是各具特色而已，每一屆奧運會都是獨一無二的。資金不是決定奧運會質量的唯一要素，最重要的是在（主辦）都市營造的氣氛。”

對於倫敦奧運會，下列各項能代表雅克·羅格觀點的是（）。

- A. 反對將超越北京奧運會作為倫敦奧運會的目的
- B. 對倫敦奧運會能否超越北京奧運會持消極態度
- C. 對倫敦奧運會能否辦出自己獨一無二的風格特色表達樂觀
- D. 資金投入和都市氣氛的營造將是倫敦奧運會獲得成功的重要原因

41. 掌握不到足夠的訊息而妄斷是危險的，不經自己獨立思索而盲從他人意見是愚蠢的，可是社會的運轉與生活的恒常，有時却不得不根據這種盲從和妄斷。舉個例子，你生病去醫院，那麼多醫生你會選哪一位，肯定是“專家門診”或是熟人簡介的“名醫”。世界如此複雜，每個配件彼此依賴，我們所有人都不得不依托他人的專業意見，這種信賴當然是人與人之間的關係，但它更是對一套系統、規則和制度的信任。

這段文字重要的觀點是（）。

- A. 倡導獨立思索的批判精神，反對盲目聽從他人妄斷
- B. 人們常常不得不為現實生活而盲目聽從和依托他人的意見
- C. 信任是建立在一套大家共同承認的系統、規則或制度上的社會信任
- D. 信任如同“專家門診”或熟人的“名醫”簡介，是生活中的常態

42. 黑格爾在《美學》裏指出：康德所理解的艺术美的內容與形式的統一“只存在於人的主觀概念裏”。席勒卻能“把這種統一看做理念自身，認為它是認識的原則，也是存在的原則”。這就是說，席勒認知到這種統一體不只存在於主觀的思維中，也存在於客觀的存在中；“通過審美教育，就可以把這種統一體實現於生活”。

對這段文字的理解，最對的一項是（）。

- A. 黑格爾的《美學》重要討論的內容是艺术美內容與形式的統一問題
- B. 艺术美內容與形式的統一不僅是一種思維存在，並且是一種物質存在
- C. 作者認為，席勒的艺术美學觀裏包括著主觀與客觀辯證統一的內容
- D. 就艺术美內容與形式的統一問題，黑格爾認為席勒比康德的認識更進了一步

43. 正如想象的那樣，性格外向的人喜歡“貴某些”的通訊方式，例如打電話和發送即時信息，由於這種方式答復起來一般都比较快，心理學家稱之為“同步性”。熱情奔放、生性大膽的人也會選擇這些方式。性格內向和輕易緊張的人则比较喜歡電子郵件，由於這種方式他們比很好把握，懂得應當說什么，什麼時候應當說。電子郵件是最廉價的一種方式，並且尚有一點，電子郵件能讓你交流速度慢5倍。對於這段文字，下列理解對的是（）。

- A. “貴某些”的通訊方式是財富、身份、地位的象征，所認為性格外向者所喜歡
- B. 性格外向、熱情奔放、生性大膽的人一般會拒絕電子郵件的通訊交流方式
- C. 由於電子郵件的交流速度要相對慢5倍，適合情感和反應緩慢的性格內向者
- D. 電子郵件讓交流者有更多的時間思索、醞釀及體現，能讓人們更好把握交流

44. 請別忘掉，要想真正成為清潔能源領域的勝利者，中國還面臨著諸多問題。中國仍然高度依賴污染最大的礦物燃料——煤。與西方電廠相比，中國大部分電廠能源效率較低，二氧化碳排放量較多。中國培養了大批工程師，但還需要可以與麻省理工學院、硅谷或通用電氣“綠色創想”部門相媲美的研發中心。中國正在忙於構建一種現代化經濟體的基础設施，却没有歐洲重視生產質量的老式。下面列出了中國在發展清潔能源上面臨的問題，不符合文意的一項是（）。

- A. 嚴重依賴礦物燃料煤，清潔能源領域還剛剛起步
- B. 忽視生產質量，基礎設施差，清潔能源發展前景受限
- C. 創新能力弱，缺乏具有關鍵競爭力的技術研發機構

D.技术水平低，能源运用效率不高，环境污染严重

45. 成長為一名优秀的基层公务员，這是众多一般基层公务员的愿望和梦想。但在实际上，基层公务员的成長只有時間長短和难度大小的区别，而“一步登天”式的捷径并不存在。這就意味著，基层公务员必然要不停地接受挑战，不停地充实自己，才能保持旺盛的生命活力，追求更高的境界。

這段文字重要表明，基层公务员的成長是（）。

- A. 普遍的职业追求
- B. 积极的个体行為
- C. 动态的持续发展
- D. 内在的自我完善

46. 诺贝尔經濟學獎获得者克鲁格曼曾經指出：在經歷數千年之後，現代社會运用大型计算机，對成仟上萬的原因進行計算得出未來的天气狀況。不過，此种措施的預測精度和預測長度比原始的看雲識天气並無明顯的改善，尤其是在預測極端天气和不穩定天气方面。因此，經濟學家——他們預測的對象是自身就會做出預測的人的經濟活動，他們的預測有時甚至不如一種經驗老練的市場商人。這段文字的重要內容是（）。

- A. 举例分析經濟學家進行經濟預測的空白點
- B. 形象解釋计算机与經濟學家預測的相似點
- C. 客觀揭示經濟學家預測不准屬於正常現象
- D. 謹慎提醒人們不要去輕信經濟學家的預測

47. 企業競爭在市場上直接體現為產品和服務的競爭，其中價格競爭只是較低層次的競爭，而成熟的产品和服务競爭更多地體現為“標志”競爭。現代社會的消費者越來越追求產品的文化符號和文化內涵，越來越追求消費過程中的人文關懷和文化感受。有競爭力的企業可以適應和提高消費者的文化理念和生活方式。在形成這樣標志的過程中，企業文化具有不可替代的作用。這段文字重要體現企業文化是（）。

- A. 吸引客戶的基本環節
- B. 布署市場的關鍵內容
- C. 戰略發展的基本前提
- D. 形象設計的內在底蘊

48. 據報道，渾善達克沙地是內蒙古自治區中部和東部的四大沙地之一，處在華北平原正北方。據調查數據和衛星圖片分析，半個世紀以來，渾善達克沙漠化土地增長 700 多萬畝，流動沙地從 1960 年的 26 萬畝增長到目前的 450 萬畝，平均每年增長 10 萬畝，上世紀 90 年代後伴隨經濟發展，拾年間年增 21 萬畝，擴展速度驚人，比前 30 年擴展速度增長了一倍還多，目前正以每年 1.8 公裏的速度向南推進，迫近京津。對這段文字的理解有誤的一項是（）。

- A. 人類活動的頻繁是導致渾善達克沙地急劇荒漠化的重要原因
- B. 迄今為止，渾善達克沙漠化土地面積已增至 700 多萬畝
- C. 渾善達克沙地或許是導致京津沙塵暴的影響原因
- D. 渾善達克沙地荒漠化嚴重，形勢直逼京津都市

49. 按照《京都議定書》，作為發展中國家，中國沒有被規定限制二氧化碳排放量。不過從總量上看，我國碳排放已位居世界第二，到 2025 年前後，這一數字很也許超過美國居世界第一位。中國目前仍然不受絕對排放量的限制，是由於中國的人均排放量遠低於世界平均水平。不過，伴隨中國的經濟增長，中國的人均排放量也許會很快趕上世界平均水平。在近期結束的達沃斯世界經濟論壇上，中國遭遇了嚴峻的氣候壓力。下列說法中，最符合這段文字原意的是（）。

- A. 限制二氧化碳排放量將嚴重影響和阻礙中國經濟的發展
- B. 中國是發展中國家，因此中國沒有被規定限制二氧化碳排放量
- C. 目前的碳排放協議為中國經濟發展爭取了短暫而寶貴的“排放空間”
- D. 碳排放位居世界第一將是中國經濟發展導致的必然成果

50. 教育心理學家提議那些受孩子們“我覺得無聊”之類的话所累的父母，“無聊”遠非某種不可挽回的判決，反而具有諸多積極方面。它能激起孩子的發明力，協助孩子觀測、反思、理解、想象和發明。過去我們會發明某些用小石子玩的小遊戲，目前一切都被規劃好了，而孩子發明的空間越來越小。此外，無聊的時間還可以用來讓孩子學會獨處，獲得更多的自主性。通過這段文字，下列對“無聊”認識不妥的是（）。

- A. “無聊”感源於一切被規定好的生活，使孩子們喪失了發明的空間
- B. “無聊”讓“我們”在童年時發明了用小石子玩的快樂遊戲
- C. 父母對孩子“無聊”感的恐驚超過了孩子對“無聊”的恐驚
- D. 生活中感受到“無聊”的孩子才能有更獨立、自主的完整人格

第三部分判斷推理

（共 30 題，參照時限 25 分鐘）

本部分包括四種類型的試題：

一、定義判斷，共 10 題。每道題先給出一種概念的定義，然後分別列出四種行為，規定你嚴格根據定義從中選出一種最符合或最不符合該定義的答案。注意：假設這個定義是對的，不容置疑的。

【例題】謀殺：當一種人不僅企圖導致另一種人的死亡，並且也導致了這個人的死亡，或一種人明明懂得自己正做著一件也許導致他人死亡的危險的事情，仍不顧他人生命繼續行為並導致他人的死亡。

根據以上的定義，下面哪種行為是經典的謀殺？（）

- A. 于力清与妻子发生争执，打了她一巴掌，為的是不让她再哭，不巧将她打倒，她在倒下時，頭碰在地板上，後來由于頭部受傷而死亡
- B. 一位老人得了一种绝症，不能忍受痛苦，祈求护士給他服用致死剂量的安眠药，這個护士非常同情老人，就給了他，成果老人死亡
- C. 曾宪在駕車行駛中，失去了對汽車的控制，导致車禍，导致同車赵某死亡
- D. 動物园管理员汤啸，因忘了鎖門导致老虎從籠子裏跑出來，咬死了游客

【解答】严格根据定义進行衡量，此題的對的答案為 B。

請開始答題：

51. 定义：

- ① 归纳推理就是以个别知識為前提推出一般性知識結論的推理。
- ② 演绎推理是由一般性的前提推出特殊性結論的推理。
- ③ 类比推理就是概括兩個或兩类對象在某些属性上相似或相似，從而推出它們的另一属性上也相似或相似的推理。

經典例证：

- ① 奧地利醫生奧斯布鲁格從父亲常常用手敲击酒桶以確定其中存酒的多少受到启发，发明了叩診法。
- ② 锐角三角形的面积等于底乘高的二分之一；直角三角形的面积等于底乘高的二分之一；钝角三角形的面积等于底乘高的二分之一。因此，凡三角形的面积都等于底乘高的二分之一。
- ③ 一种三角形，或者是锐角三角形，或者是钝角三角形，或者是直角三角形。這個三角形不是锐角三角形和直角三角形，因此，它是钝角三角形。以上与定义符合的經典例证数目有（）。

A. 2 個 B. 3 個 C. 0 個 D. 1 個

52. 不完全归纳推理就是根据一类事物中的部分對象具有（或不具有）某种属性，從而推出该类事物的所有對象都具有（或不具有）某种属性的推理。

下列事例中，属于不完全归纳推理的是（）。

- ① 一种販毒团伙共有六名组员，通過考察理解到這個团伙的每一种人均有前科，于是得出結論：這個販毒团伙所有人均有前科。
- ② 魯班將“手被鋸齒狀葉子的草划破”的事實用于“更快捷省力地伐木”的問題情景，從而發明出了鋸子。
- ③ 人們發現元素的排列、天体的运行、四季的交替、生物的進化、社會的發展都是有规律的，由此概括出：一切物质的运动形式都是有规律的。
- ④ 一法醫通過解剖几具溺水而亡的尸体，发现甲、乙、丙溺水死亡内脏有硅藻反应，于是得出結論：凡溺水死亡者，其内脏均有硅藻反应。
- ⑤ 麻雀會飞、燕子會飞、鸽子會飞、喜鹊會飞、老鹰會飞、海鸥會飞，因此所有鳥都會飞。

A. ①②③ B. ④⑤ C. ②④⑤ D. ③④⑤

53. 社會流動是指人們在社會构造空间中從一种地位向另一种地位的移動。下列属于社會流動的是（）。

- ① 一名在四川工作的国家公務員去西双版纳旅遊。
- ② 中央電視台著名節目主持人王志担任雲南省麗江市副市長。
- ③ 一名蹬三輪車的工人被招進高校攻讀碩士碩士。
- ④ 一名工人為节省上班途中時間調換到另一單位工作。
- ⑤ 張某結婚後搬家另一座都市。

A. ②③④ B. ①②③④ C. ②④⑤ D. ②③⑤

54. 角色混淆是指人們對自己所要飾演的角色和角色规范認識不清，從而使飾演該角色的行為与其他角色的規定發生混淆的現象。下列不属于角色混淆的是（）。

- A. 幼小小朋友用看待家人的行動来看待客人，不會說委婉的禮貌語
- B. 為父母者未盡到教育好子女的责任而导致未成年子女違法犯罪
- C. 某研究所研究員常常在家中与家人談論科研中的問題
- D. 下級在非工作場所，對上級畢恭畢敬

55. 社會問題是指社會中發生的被多數人認為是不合需要或不能容忍的事件或狀況，而需要運用社會群體的力量加以處理的問題。下列狀況中，成為社會問題的是（）。

- ① 甲型流感在今年秋冬季的大面積爆發問題。

②都市某小区业主与物管的纠纷問題。

③农村的养老問題。

④勞動年齡人口的勞動就業問題。

⑤城鎮、農村的貧困問題。

A. ①②③④⑤ B. ①④⑤ C. ④⑤ D. ①③④⑤

56. 共同加害行為是指二人以上共同故意或者共同過錯致人損害，或者雖無共同故意、共同過錯，但其侵害行為直接結合發生同一損害後果的，致使他人人身或財產受損的行為。

下列屬於共同加害行為的是（）。

- A. 甲、乙兩人与丙有積怨，甲怂恿乙去打丙，乙沒有聽從，後來，乙在路上遇見丙并與之發生爭執，將丙打傷
- B. 甲、乙兩家居住在同一棟樓房中，兩家均有在陽台上養花的習慣，一日大風突起，甲、乙兩家花盆均被吹落，一種花盆砸傷行人丙，但不能確定是誰家的花盆將丙砸傷
- C. 公路上，甲車因剎車失靈撞向乙車，致乘坐乙車的丙受傷
- D. 甲因與乙不合，對外謊稱乙有貪污受賄行為，丙聽到此事後不知真假，到處傳播，導致乙聲譽受損

57. 反報是指一國對他國不禮貌、不友好或不公正但不違法的行為以同樣的或類似的行為予以回報。

下列屬於反報行為的是（）。

- A. 甲國因故宣布乙國駐甲國使館的一名外交人員為“不歡迎的人”後，乙國也宣布了甲國駐乙國使館中的一名外交人員為“不歡迎的人”。甲、乙兩個國家都是1961年《維也納外交關係公約》的組員國
- B. 中國甲企業向美國乙企業出口一批運動鞋，德國丙企業指控該批貨品侵犯了其在美国登記註冊的專利權，貨品遭美國海關扣押
- C. 甲國是一種香蕉生產大國，其蕉農長期將產品出口乙國。現乙國頒布法令，嚴禁甲國的香蕉進口。甲國在規定乙國撤銷該禁令未果後，宣布對乙國出口到甲國的化工產品加征300%的進口關稅。甲、乙兩國間沒有波及香蕉化工產品貿易或一般貿易規則的雙邊或多邊公約
- D. 甲國軍艦近年來屢有侵犯乙國周圍島嶼的行為，乙國決定假如甲國軍艦再有上述行為就命令本國軍隊予以回擊

58. 人格權是指公民和法人作為民事權利主體所享有的人格尊嚴不受侵犯的一種民事權利。

下列屬於侵犯人格權的是（）。

- A. 影迷甲在商場偶遇自己崇拜的影星乙，驚喜之余舉起相機拍照。乙制止，甲仍堅持。乙被激怒，在眾目睽睽之下將手中的飲料潑向甲
- B. 甲多次違反工作紀律，被領導點名批評。甲自覺無顏見人便服藥自殺，未遂，但導致身體傷害
- C. 某企業的產品摻入了對人體有害的物質，被媒體點名曝光
- D. 某單位職工甲向紀委反應當單位領導乙包二奶和生活奢侈、糜爛的狀況

59. 登臨權又稱臨檢權，是指各國軍艦或經授權的政府船舶在公海上碰到外國船舶（軍艦等享有豁免權的除外）有從事公約所列違反國際法的行為嫌疑時，有可以靠近和登上該船進行檢查的權利。被登臨的船舶只能是軍艦和專用於政府非商業性服務的船舶以外的船舶。

下列狀況中，可以行使登臨權的是（）。

- A. 停靠在乙國的某國船隻“科特號”對乙國的港口導致了嚴重污染，在拒絕賠償後，駛離乙國港口，乙國的海事船對其進行攔截，不准離開
- B. 在公海上行駛的甲國軍艦懷疑某外國商船“來福號”涉嫌販賣毒品，便強行靠近并登船進行檢查
- C. 丙國軍艦“克羅將軍號”在公海中航行時，發現遠處一艘名為“斯芬克斯號”的商船懸掛丙國國旗。當“克羅將軍號”駛近該船時，換掛丁國國旗，便靠近、登船檢查
- D. 乙國懷疑在公海上行駛的甲國軍艦違法販運麻醉藥物，便命令本國軍艦追趕

60. 社會分化是指本來承擔多種功能的某一社會單位變為承擔單一功能的多種單位，以及該社會單位由地位相似變為地位相異的現象。在這裏，所謂社會單位既指社會個體、社會群體，也指社會機構。

下列不屬於社會分化的是（）。

- A. 大學生畢業後有的從事科學研究工作，有的從事行政工作，有的進入經濟領域
- B. 同步參與工作的同事，後來有的當了局長，有的下崗失業
- C. 李某與焦某結婚三年後離婚，後與萬某結婚，經濟條件有所改善
- D. 中國老式社會重農抑商，現代社會農民在經濟、政治等方面處在劣勢地位

二、圖形推理，共5題。每道題給出一套或兩套圖形，規定你認真觀測，找出圖形排列的規律，選出符合規律的一項。

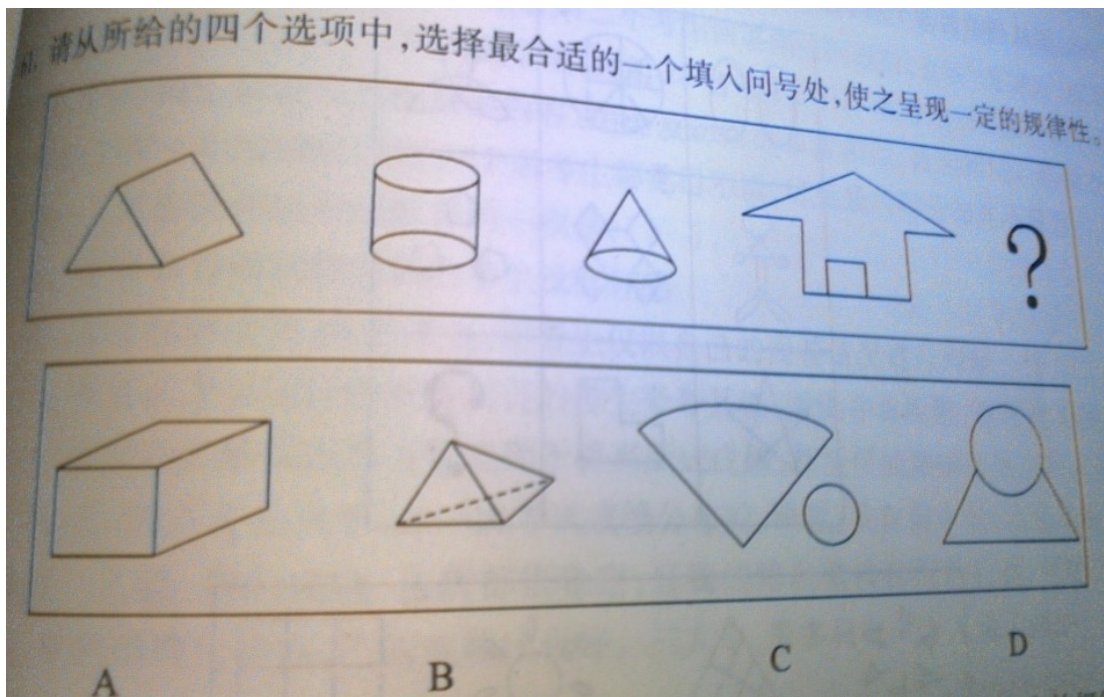
【例題】

ABCD

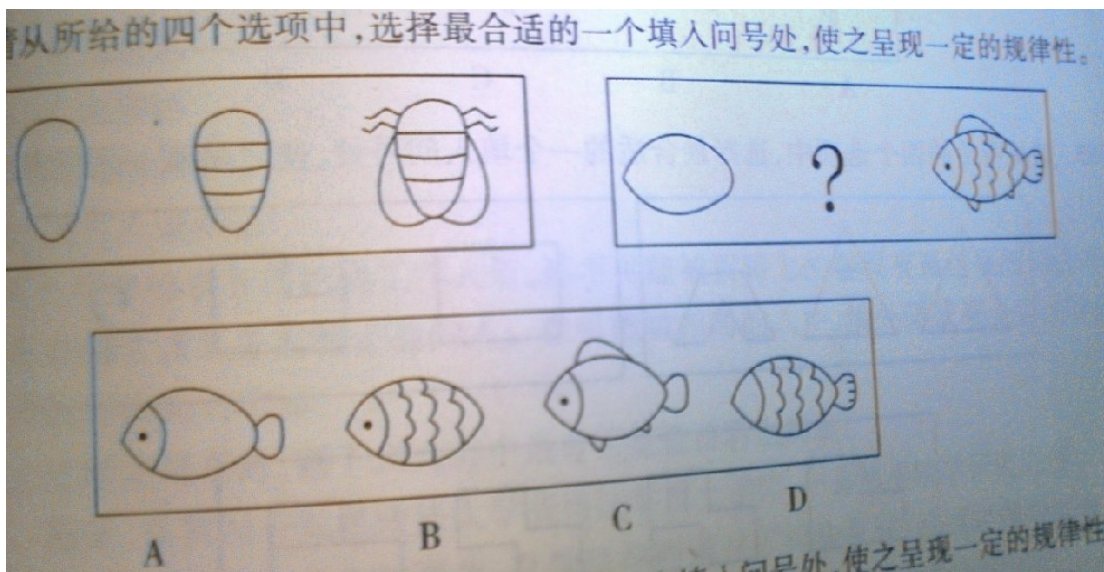
【解答】對的答案為 D。由于只有 D 能使两套图形具有相似性，仅仅元素不一样，一种是半圆，一种是半個正方形，但两组图形中元素的排列规律完全相似。

請開始答題：

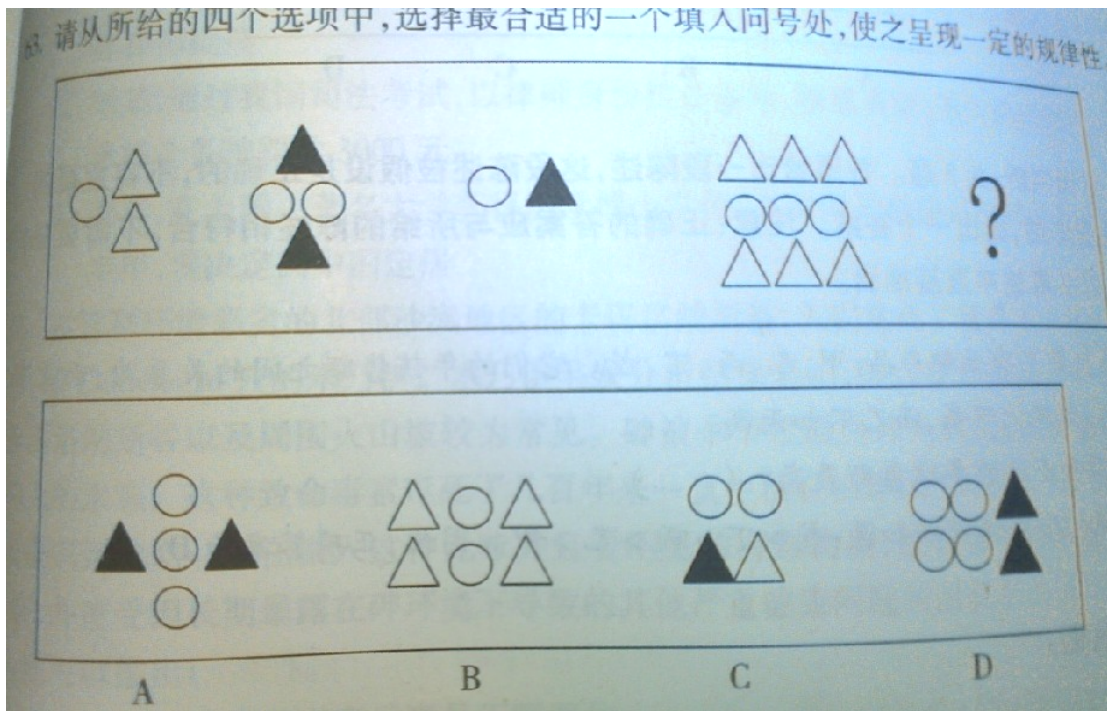
61. 請從所給的四個选项中，选择最合适的一种填入問号处，使之展現一定的规律性。



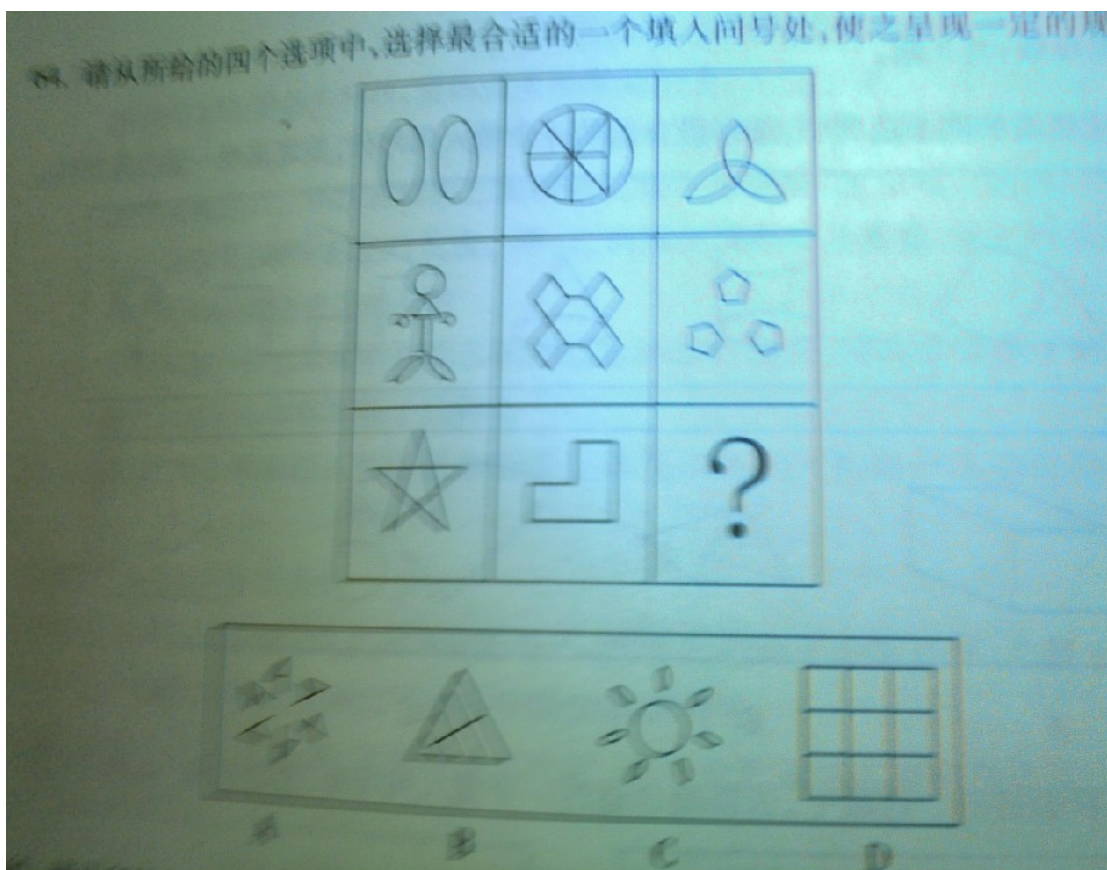
62. 請從所給的四個选项中，选择最合适的一种填入問号处，使之展現一定的规律性。



63. 請從所給的四個选项中，选择最合适的一种填入問号处，使之展現一定的规律性。



64. 請從所給的四個選項中，選擇最合適的一種填入問號處，使之展現一定的規律性。



65. 請從所給的四個選項中，選擇最合適的一種填入問號處，使之展現一定的規律性。

以上內容僅為本文檔的試下載部分，為可閱讀頁數的一半內容。如要下載或閱讀全文，請訪問：<https://d.book118.com/737145051044010003>