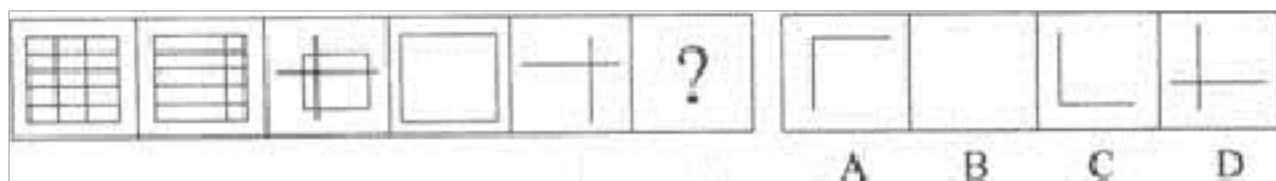


2022-2023 学年广东省东莞市公务员省考行政职业能力测验测试卷一(含答案)

学校:_____ 班级:_____ 姓名:_____ 考号:_____

一、图形推理(6 题)

1. 请从所给的四个选项中, 选择最适合的一个填入问号处, 使之呈现一定的规律性。()

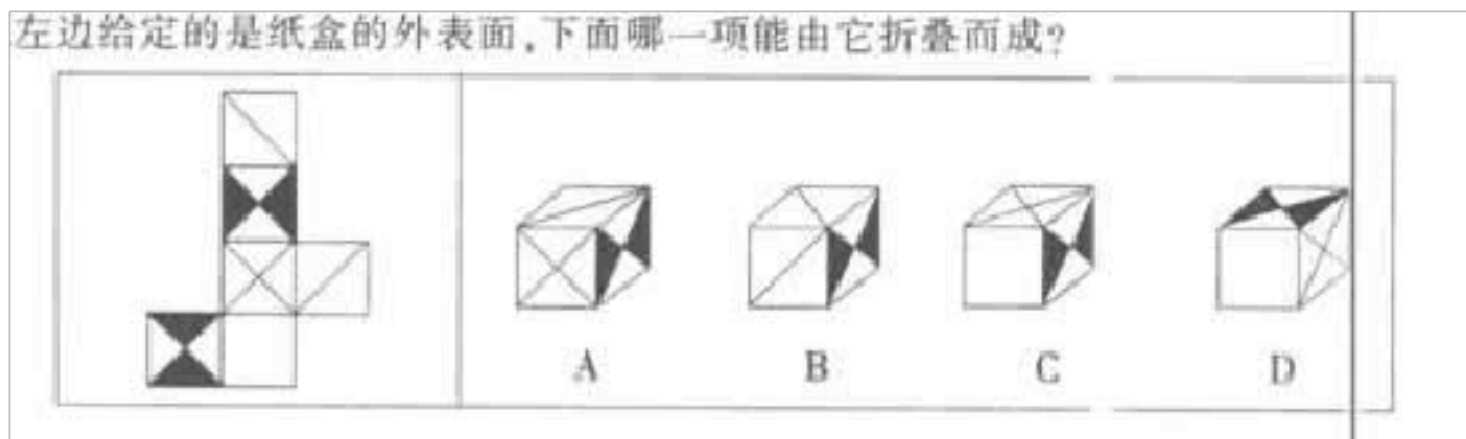


2.

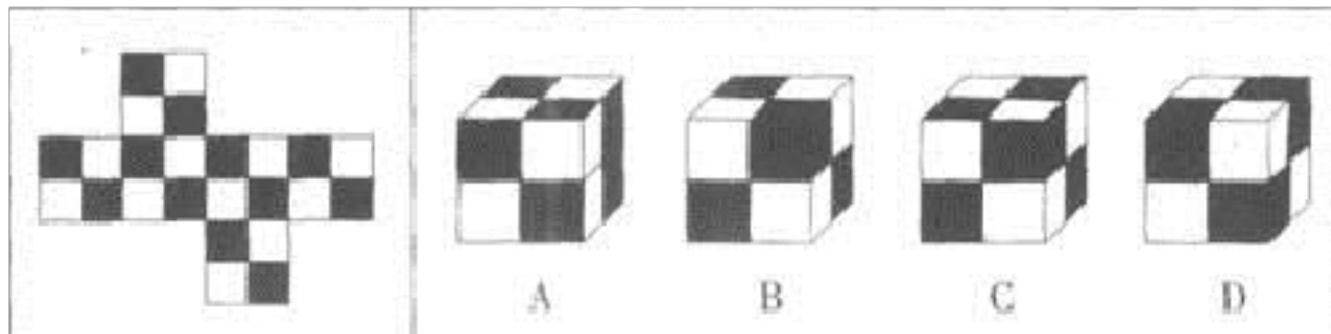
把下面的六个图形分为两类, 使每一类图形都有各自的共同特征和规律, 分类正确的一项是 :

- A.①⑤⑥, ②③④ B.①④⑥, ②③⑤ C.①③⑤, ②④⑥ D.①②⑤, ③④⑥

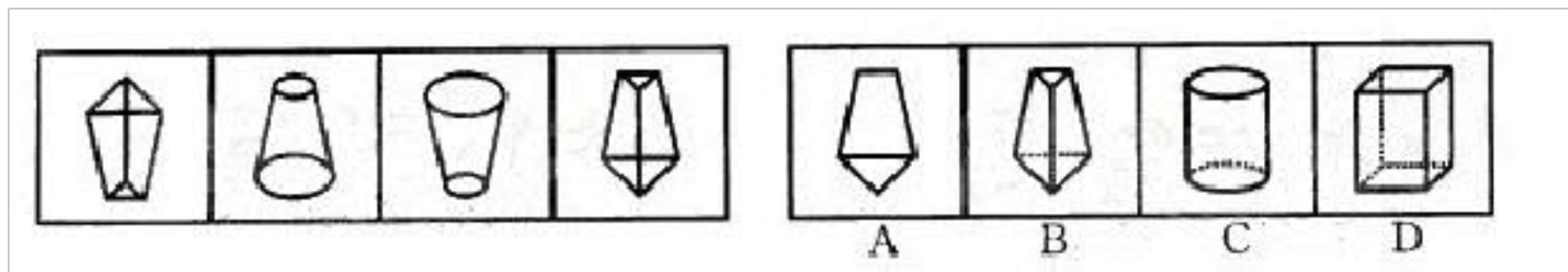
3.



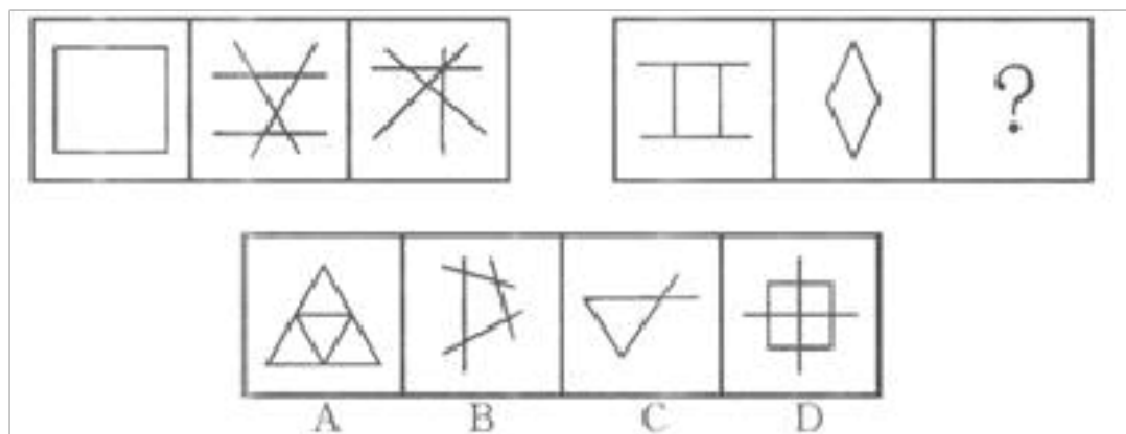
4. 左边给定的是纸盒的外表面，下面哪一项能由它折叠而成？



5.



6. 请从所给的四个选项中，选择最合适的一个填入问号处，使之呈现一定的规律性。



二、定义判断(10 题)

7. 将一勺红酒倒入一杯污水中，你得到的是一杯污水；将一勺污水倒入一杯红酒中，你得到的仍然还是一杯污水。这就是著名的“红酒与污水定

律”，简称为“红酒定律”。

根据上述定义，下列选项中不符合红酒定律的是（ ）。

- A.在一个单位风气不正的大环境下，一个正直能干的人，进入这样一个混乱的组织，可能过不了多久，很快就会被同化或吞没
- B.一个无德无才的领导，如果进入一个很好的团队，则很快就会使一个高效的部门发生蜕变，集体堕落，变成一盘散沙
- C.在任何团队中，都会有几个类似于烂苹果的难搞定的人物，他们总是在试图破坏团队规则，起着反面的示范作用，最终破坏掉团队的整体水平
- D.在班级里经常有一些调皮的学生，上课时干扰课堂秩序，但是当同学们都因为自己受到了影响而孤立他们时，这些调皮的学生往往会变得循规蹈矩

8.定义：

- ①自我意识：指一个人对自己的认识和评价，包括对自己心理倾向、个性心理特征和心理过程的认识与评价。
- ②原意识：指由动物(特指猿群)进化而来的适合人类个体生存的基本感知。
- ③显层意识：指个体在人类群体(社会)中受到教育的感知结果。

典型例证：

- (1)尊老爱幼是中华民族的传统美德之一。
- (2)智能机器人能够具有基本的光感、热感和电磁感。

(3)学生认为自己很优秀。

上述典型例证与定义存在对应关系的数目有：

A.0个 B.1个 C.2个 D.3个

9. 赞助营销是指企业通过资助某些公益性、慈善性、娱乐性、大众性、服务性的社会活动和文化活动来开展宣传，塑造企业形象和品牌，实现广告的目的，从而促进产品的销售。

以下属于赞助营销的是（ ）。

A.某汽车生产厂家开展爱心帮扶活动，给贫困山区儿童送去生活学习物品

B.某学校体育馆由某位著名慈善家捐助而建，体育馆以慈善家名字命名

C.某企业投资开设内部报社，开辟专栏，积极宣传企业爱心文化

D.某公司连续多年与教育部、信息产业部合作，开展以公司冠名的全国大学生电子设计竞赛

10.形式公正：指个人或权力机关对同样的事件平等对待，以及对所有人按统一标准（而不是根据个人或所从属的特殊集团的立场）施加管束。

根据上述定义，下列属于形式公正的是（ ）。

A.国家录用公务员，实行“凡进必考”

B.通过税收杠杆对收入差距进行调节

C.设立保护区，保护濒临灭绝的生物

D.政府对某件商品设立远远低于市场价的指导价

11. 片利共生是指生物界中两个物种间的生态关系，一种生物会因这个关系而获得生存上的利益，但是，另一种生物在这个关系中，并没有获得任何益处，但也没有获得害处，只是带动对方去获取利益。根据上述定义，下列现象属于片利共生的是()

- A.微生物寄生在反刍动物的胃内，同时还可以帮助反刍动物消化食物
- B.鲫鱼的游泳能力较差，其背鳍演变成吸盘吸附在鲨鱼身上，随着鲨鱼遨游四海，在鲨鱼捕获猎物时，鲫鱼就偷吃那些残存的食物
- C.藻类植物生长在树獭的粗毛夹缝中，在雨季时，藻类繁盛，形成绿色的伪装，使树獭更易在树丛中生存，藻类则借助树獭作为衍生的工具
- D.水母捕食海螺的幼虫，幼虫进入水母的体腔后不会被消化，反而获得食物及保护，幼虫长成离开水母体腔时，会带走一个水母繁殖体

12.现在统计中常用的人均可支配收入由四部分构成，分别是工资性收入、转移性收入、经营性收入和财产性收入。财产性收入一般是指家庭拥有的动产(如银行存款、有价证券等)、不动产(如房屋、车辆、土地、收藏品等)所获得的收入。它包括出让财产使用权所获得的利息、租金、专利收入等;财产营运所获得的红利收入、财产增值收益等。

根据上述定义，下列属于财产性收入的是 ()。

- A.王某家传的青花瓷器在展览会上被专家估价为 200 万元
- B.李某买了一辆载重 10 吨的货车跑运营，每年收入 8 万元以上
- C.赵某为公司作出重大贡献，公司给予 10 万元的奖励

D.高某在闹市有一间房屋，某厂家在房顶安放了广告牌，并支付给他一定费用

13. 自我觉察障碍：自我觉察有四个形式上的特征：

(1)自我的主动性。各种心理活动都被体验为属于我和由我发动的。

(2)自我的统一性。不论心理活动多么纷繁复杂，都是由我这个最高统帅在指挥着，这使我感到自我是个统一的整体。

(3)自我的同一性。昨天的我和今天的我是同一个我，也就是说，在时间的流逝中，我始终体验到自我保持着同一性。

(4)自我的界限性。这意思是说，我体验到我与非我是截然不同的，分得一清二楚的。在病理情况下，上述四个方面都可能出毛病，就叫做自我觉察障碍。

根据上述定义，下列属于自我觉察障碍的是：

A.美国政治家杰克逊因家中已经有好几个人死于瘫痪性中风，对自己的健康状况变得非常地担忧，认定自己也会死于瘫痪性中风

B.小赵平时比较内敛，不爱说话，但在一次辩论赛上，小赵突然变得滔滔不绝，说起话来也头头是道，跟变了个人似的

C.小李不喜欢上医院，每次去医院，总会冲着医生发脾气，别人问他为什么，他回答说医院让我有一种想发脾气的冲动

D.小宋常常精神恍惚，说一些莫名其妙的话，每次别人在他旁边敲键盘，他总说：“你怎么敲我？”别人在他面前摇东西，他也以为是在摇他

14.

末位淘汰法则就是企业为满足竞争的需要，通过科学的评价手段，对员工进行合理排序，并在一定的范围内，实行奖优罚劣，对排名在后面的员工，以一定的比例予以调岗、降职、降薪或下岗、辞退的行为。其目的是促进在岗者激发工作潜力，为企业获得竞争力。

根据上述定义，下列属于末位淘汰法则的是：

- A.上五年级的小明因为期末考试成绩排名在班里倒数第一而被学校要求留级
- B.许倩在一次应聘过程中由于专业能力笔试排名未进前三而没有得到面试的资格
- C.销售专员张枫两个月的绩效考核均不合格，被公司要求参加销售培训或者调岗
- D.淘宝客服李林虽然能力不错，但相较公司的其他客服业务量最低，最终被辞退

15. 寒蝉效应是一个法律用语，特别在讨论言论自由或集会自由时，指人民害怕因为言论遭到国家的刑罚，或是必须面对高额的赔偿，不敢发表言论，如同蝉在寒冷天气中噤声一般。寒蝉效应的发生，将导致公共事务乏人关心，被视为过度限制言论或集会自由的不良后果。

根据上述定义，下列属于寒蝉效应的一项是：

- A.老王在开会时一直心不在焉。结果当领导询问他的意见时，只能说：“我同意大家的说法。”

B.大学教授李某在一次学术会议上因自己的观点和国家政策相抵触，虽然知道很多同事也有相同的观点，但是还是没敢说出来

C.某杂志记者小刘想要报导当地一房地产商勾结政府和黑社会对民房进行强拆的新闻，但因为房地产商是杂志的广告客户，主编没有通过

D.小张不喜欢与人争辩，每次自己的意见在会议上被否决，他都是闭口不言

16.

不作为的危害行为：是指消极的行为，即行为人不履行或不积极地履行其法律义务，而出现危害社会的后果。依据上述定义，下列行为中属于不作为危害行为的是()。

A.甲驾车将王某撞伤后，逃逸现场，致使王某因未及时抢救而死亡

B.乙分娩婴儿后。因不愿抚养，遂以二万元的价格将婴儿转卖他人

C.丙分娩婴儿后，为掩盖其未婚先孕真相。遂将孩子送给他人抚养

D.丁分娩婴儿后，将孩子弃置于火车站致其冻成重伤

三、常识判断(10 题)

17.第 108 题 商品内在的使用价值和价值的矛盾，其完备的外在表现形式是 ()。

A.商品与商品的对立 B.私人劳动与社会劳动的对立 C.商品与货币的对立 D.具体劳动与抽象劳动的对立

18.

社会主义初级阶段包含了四个方面的内容，其中，基本路线的核心和主

体是：

A.“一个中心，两个基本点” B.坚持改革开放 C.领导和团结全国各族人民
D.物质文明与精神文明建设

19.人类社会在发展过程中，如何合理利用自然条件，一直是人们关注的话题。下列关于人口与环境污染关系的说法，正确的是（ ）。

- A.人口素质高低直接影响着人类活动导致的环境后果
- B.人口压力对环境污染的影响在不同的社会技术背景下是一样的
- C.人口数量增长是导致环境污染最重要的原因
- D.人口数量增长对环境恶化没有直接影响

20. 84 . 下列各项中，哪些是郭守敬的事迹？（ ）

- ①写成《梦溪笔谈》 ②算出一年的时长为 365 . 2425 天
- ③编成《授时历》 ④主持全国范围内的天文测量

- A . ①②
- B . ①③
- C . ③④
- D . ②③④

21.第 85 题 完善的社会保障制度与千家万户的切身利益紧密相连，是社会主义市场经济体制的重要支柱。加快完善社会保障制度（ ）。

- A.是充分发挥市场作用的必要条件
- B.是发展社会主义市场经济的关键
- C.是维护劳动者合法权益的根本性措施
- D.关系到我国改革、发展、稳定的全局

22.第 15 题 聘任制公务员按照国家规定实行什么工资制度? ()

- A. 合同工资制
- B. 位阶工资制
- C. 协议工资制
- D. 聘用工资制

23. 以下各项，说法不正确的是：

- A.苏轼的书法作品《黄州寒食帖》在书法界被誉为天下第一行书
- B.李隆基被后世称作“梨园祖师”
- C.《永乐大典》是历史上规模最大的类书
- D.按古代科举制度，三甲发榜时，第一甲被赐予“进士及第”的名义

24.教育部官网于 2012 年 7 月 22 日公布了《国家教育事业第十二个五年规划》，下列表述错误的是 ()。

- A. 以“优先发展、育人为本、改革创新、促进公平、提高质量”为工作方针
- B. 把育人为本作为根本要求
- C. 把促进公平和提高质量作为重点任务
- D. 以改革创新、优先发展、重大发展项目和改革试点为基本原则

25.第 66 题 邓小平历来十分重视农业问题。他强调指出：“农业搞不好，工业就没有希望，吃、穿、用的问题也解决不了。”他告诫我们：“90 年代经济如果出问题，很可能出在农业上；如果农业出了问题，多少年缓不过来，整个经济和社会发展的全局就要受到严重影响。”这些话表明农业（ ）。

- A. 是我国国民经济中的第一大产业
- B. 对国民经济的发展起主导作用
- C. 是经济现代化的重要标志
- D. 在国民经济中处于基础地位

26.第 63 题 在太阳系的八大行星中，哪两个行星没有自己的天然卫星？
()

- A.金星和木星
- B.水星和火星
- C.金星和水星
- D.火星和木星

四、数量关系(10 题)

27.

28.

一辆汽车从甲地开往乙地，每小时行 40 千米，开出 5 小时后，一列火车以每小时 90 千米的速度也从甲地开往乙地。在甲乙两地的中点处火车追上汽车，甲乙两地相距多少千米？（ ）

- A.724 B.720 C.698 D.722

29.一个旧书商所卖的旧书中，简装书的售价是成本的 3 倍，精装书的售

价是成本的4倍。昨天，这个书商一共卖了120本书，每本书的成本都是1元钱。如果他卖这些书所得的净利润(销售收入减去成本)为300元，

那么昨天他所卖出的书中有多少是简装书？()

A.40 B.60 C.75 D.90

30. ? 1120

15716

30746

A.9 B.16 C.21 D.25

31. 海滩上有一堆核桃，第一天猴子吃掉了这堆核桃的五分之二，又扔掉4个到大海中去，第二天吃掉的核桃数再加上3个就是第一天所剩核桃的八分之五，那么这堆核桃至少剩下多少个？

A.6 B.8 C.10 D.12

32. 甲、乙两船分别在一条河的A、B两地同时相向而行，甲顺流而下，乙逆流而上。相遇时，甲乙两船行了相等的航程，相遇后继续前进，甲到达B地、乙到达A地后，都立即按原来路线运航。两船第二次相遇时，甲船比乙船少行1000米。如果从第一次相遇到第二次相遇的时间相隔为1小时20分，那么河水的流速是多少？

A.0.375千米/小时

B.0.500千米/小时

C.0.750千米/小时

D.0.910千米/小时

33.甲、乙、丙、丁四个队共同植树造林，甲队造林的亩数是另外三个队

以上内容仅为本文档的试下载部分，为可阅读页数的一半内容。如要下载或阅读全文，请访问：<https://d.book118.com/738000040140006027>