



## 写在考试前

**地理考试时间：60分钟 选择题25个，50分；**

**综合题4--5个，50分**

**时间分配安排：25分钟做选择题，25分钟做综合，10分钟用来检查，一定要有时间观念，不能出现空题**

**答好题是建立在基础知识的理解记忆上，考题不单单考基础知识的直问直答，更多是考理解应用，知识迁移。**

**地理提分关键点：**

- 1、答案要在文中找，看懂图例很重要（看图例，看材料）**
- 2、新问题，老答法，联想迁移会转化（新问题，老知识）**

## 《选择题四步答题法》

- 1、认真审题明题意（题目读两遍，题意自然现）
- 2、依据题意划关键（横线划主语，圈划关键词）
- 3、结合图文精作答（图例有什么，答案是什么）
- 4、正反检查双验证（选正确找出三错误，选错误找出错在哪）

## 《综合题五步答题法》

- 1.认真看图读材料(先看图名后图例，读取材料提信息)
  - 2.读完题目找答案（题目读两遍，题意自然现）
  - 3.答案要在文中找（文中一定有答案或答题线索）
  - 4.联想迁移很重要（考到新地方，联想老地方）
  - 5.精准作答不丢分（不问不答，有问必答，不多答，不漏答）
- <<地理答题四法宝>>：一地形，二气候，三河流，四人文

## 二 正误选择题

题干中往往有“……是”“……不是”“……不正确的是”等，这类选择题一般是基础知识测试题。主要用排除法、筛选法、直选法等。解题时要注意对四个选项都要进行判断，切忌想当然，或只看了一个熟悉的选项而不顾其他选项。

【例1】下列地区中几乎不受夏季风影响的地区是( )

- A.四川盆地      B.黄土高原      C.华北平原      D.塔里木盆地



## 二 最佳选择题：

题干中往往含有“最”这个关键字，即在给出的选项中找出最佳的或是最合适的选项。所给选项往往与题干都有联系，但联系最为密切的或最为合理的选项只有一项。主要用比较法、优选法、直选法等。

【例2】有一万吨海盐从天津运到上海，最经济、方便的运输方式是( )

- A.公路运输      B.铁路运输      C.海洋运输      D.航空运输

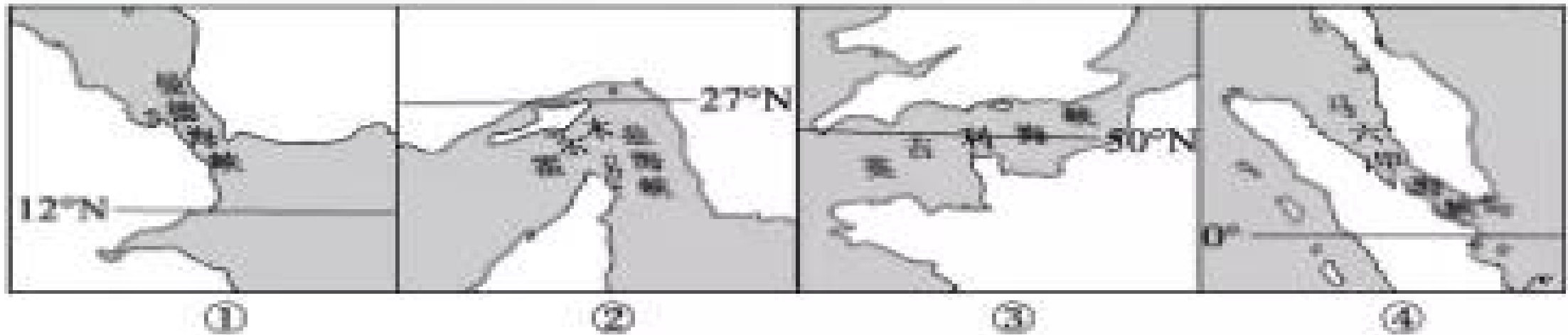




## 五 排序型选择题：

排序型选择题是将若干个同类地理事物，按某一主要因素，在一定的要求下进行大小排序。一般采用推理法解决。同时也要看清楚要求是“由大到小”还是“由小到大”，不要与要求弄反了。

如图是世界上运输较为繁忙的四个海峡轮廓图,读图完成下列题目。




- 【例5】四个海峡按照纬度由高到低的顺序排列，正确的是（ ）
- A. ①②③④      B. ③②①④      C. ②③①④      D. ③②④①

# 七

## 区域定位型选择题：

这类题往往通过给出一幅区域经纬网图、轮廓图或景观图，要求学生首先根据图中的信息进行区域定位，然后以区域为背景，考查区域内相关地理知识。所以选择时首先要对区域进行准确定位，定位错了，选择可能也就错了。

下图为我国某地传统民居，该民居以长方形天井为核心，四面或左右后三面围以楼房，阳光射入较少，各屋都向天井排水，外围耸起马头墙，墙头高出屋顶，呈阶梯状，白墙黛瓦，明朗而素雅。读图完成下面小题。



俯视图景观图



侧视图景观图

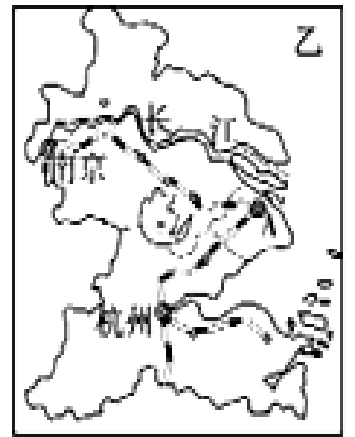
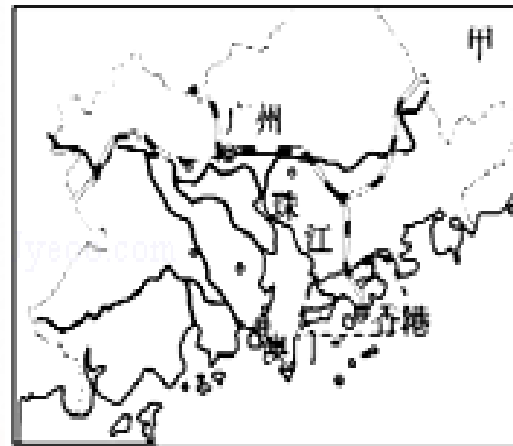
- 【例6】马头墙、天井这种传统民居最有可能位于我国的（ ）
- A.北方地区    B.南方地区    C.西北地区    D.青藏地区

## 六 比较型选择题：

该类选择题的特点是在题干中把具有可比性的地理事物和现象放在一起，在备选项中列出一至几个相同点或不同点，通过比较后选出正确答案。选择时一定要认真分析、比较，找出要选的选项。

【例7】图示区域,与乙相比,甲所示区域发展工业突出优势是( )

- A.煤、铁等矿产分布集中
- B.多港湾,海上运输便利
- C.濒临港澳,很多地方是“侨乡”
- D.高等院校众多,科技力量雄厚



图例  
— 铁路  
— 河流  
● 城市

【例8】与港、澳相比,台湾省发展工业具有的明显优势条件是( )

- A.重要的枢纽位置
- B.国际金融中心
- C.资源丰富
- D.交通运输发达

# 一、地理位置考察

## 【方法归纳】 海陆位置，纬度位置，半球位置

1.海陆位置（W海）	东西南北中分别临什么 <b>海洋</b> ，临什么 <b>陆地</b>
2.纬度位置（W纬）	在什么纬度和什么纬度之间、属于 <b>什么温度带</b>
3.半球位置（W半）	东、西半球和南、北半球

1.亚洲的地理位置：主要位于东半球和北半球；北部深入北极圈，南部到赤道，跨寒温热三带；东北南分别临太平洋、北冰洋、印度洋。

2.中国的海陆位置：亚洲东部，太平洋西岸；主要在中纬度，大部分在北温带。

3.新疆的海陆位置：位于中国西北部，深居内陆，东邻甘肃省、青海省，南邻西藏，邻国众多。

4.非洲的纬度位置：大部分在南北回归线之间，主要属于热带。

5.亚洲和北美洲共同的纬度位置：都被北极圈和北回归线穿过，跨寒温热三带，主要位于北温带，以温带大陆性气候为主。



## **二、地形特征考察 地形组成+地势高低（看河流）**

**【方法归纳】** ① 以什么地形为主，② 地势哪边高，哪边低

- 1.亚洲地形特征：地形以山地和高原为主，地势中部高，四周低**
- 2.欧洲地形特征：地形以平原为主，地势南北高，中间低**
- 3.非洲地形特征：地形以高原为主，地势东南高，西北低**
- 4.北美洲地形特征：自西向东分三大南北纵列带**
- 5.南美洲地形特征：西部是高大的山系，山脉以东平原和高原相间分布**
- 6.中南半岛地形特征：山河相间，纵列分布。**
- 7.马来群岛地形特征：地势崎岖，山岭多，平原少**
- 8.南亚地形特征：自北向南分为三大地形区**
- 9.日本地形特征：**
- 10.俄罗斯地形特征：**
- 11.法国地形特征：**
- 12.美国地形特征：**
- 13.巴西地形特征：**
- 14.澳大利亚地形特征：**
- 15.中国地势特征；**
- 16.新疆地形特征：**
- 17.台湾地形特征：**
- 18.比较南北美洲地形异同点**
- 19.比较美国和澳大利亚地形异同**

### 三、气候特征分析 【方法归纳】 ①一看气温 ②二看降水

#### 1、分析气温：

年均温 ①大于 $20^{\circ}\text{C}$ ，叫高温（或炎热）；② $0^{\circ}\text{C}$ -- $20^{\circ}\text{C}$ 之间为温和； $0^{\circ}\text{C}$ 以下为寒冷（低温）

2、分析降水：月降水量①多雨：大于 $100\text{mm}$ ；②湿润： $50$ — $100\text{mm}$ ；③干燥（或少雨）：小于 $50\text{mm}$

**备注：**全年都在 $15^{\circ}\text{C}$ 以上为全年高温，全年都在 $< 0^{\circ}\text{C}$ 为全年低温，有 $15^{\circ}\text{C}$ 以上有 $15^{\circ}\text{C}$ 以下，季节分冬夏。

#### 3、判断气候类型：

①高温定半球（最高月在七八月为北半球，最高月在一二月为南半球）

②低温定带：①最冷月均温 $> 15^{\circ}\text{C}$ 为热带气候；②最冷月均温在 $0$ - $15^{\circ}\text{C}$ 之间为亚热带气候或温带海洋性气候 ③最冷月均温在 $-15$ - $0^{\circ}\text{C}$ 之间为温带气候。

#### ③以水定型

①年雨型：全年多雨的只有热带雨林气候 ②冬雨型：冬季多雨的只有地中海气候。

③少雨型：全年少雨是热带沙漠气候 ④均匀型：温带海洋性气候

⑤夏季多雨的是三个季风气候和热带草原气候。

以上内容仅为本文档的试下载部分，为可阅读页数的一半内容。如要下载或阅读全文，请访问：  
<https://d.book118.com/738106047003007002>