

# 第一课祖国境内的原始居民

## 一、单项选择题

- 地球上出现人类的时间是( )  
A. 距今约 300 万年                      B. 距今约 170 万年  
C. 距今约 70 万年至 20 万年之间      D. 距今约 1.8 万年
- 我国境内已知最早人类是( )  
A. 女娲      B. 北京人      C. 元谋人      D. 山顶洞人
- 人和动物的根本区别是( )  
A. 会不会使用火    B. 会不会人工取火    C. 会不会使用工具    D. 会不会制造工具
- 人类最早使用的工具是( )  
A. 木棒      B. 石器      C. 骨器      D. 海蚶壳
- 旧石器时代, 人类最伟大的发现是( )  
A. 打制石器      B. 火的使用      C. 捕杀动物      D. 采集野果
- 下列各项属于北京人的是( )  
①打制石器②使用天然火③会人工取火④过群居生活  
⑤掌握钻孔技术⑥磨制石器⑦面貌已经与现代人基本相同  
A. ①②④              B. ②③⑤⑥      C. ①③⑤              D. ③④⑤⑦
- 下面这些对北京人一天生活的描述, 正确的是:              ( )  
A、早晨, 几十个人围在一起喝小米粥  
B、下午, 一个人在原始森林中用弓箭射死了一头野兽  
C、大家很高兴, 马上钻木取火烧烤捕到的野兽  
D、晚上, 大家住在洞穴中, 洞口燃着一堆大火以驱赶野兽和照明
- 人的起源问题困扰着古代的劳动人民, 你知道地球上最早的人类是从哪里而来的? ( )  
A. 女娲捏出出来的              B. 亚当和夏娃制造的  
C. 猴子变化而来的              D. 由古猿进化而来的
- 《韩非子》上载: “上古之世,,,民食果瓜蚌蛤, 腥臊恶臭, 民多疾病, 有圣人作钻燧取火, 以化腥臊。”懂得“钻燧取火”的我国远古居民相当于: ( )。  
A: 元谋人      B: 蓝田人      C: 北京人              D: 山顶洞人
- 骨针和装饰品, 反映了山顶洞人( )。  
A: 懂得爱美              B: 知道定居生活              C: 注意防寒              D: 开始种植

## 二、材料分析题

11. 阅读材料, 回答问题。

1965 年, 我国考古工作者在元谋发现了两颗牙齿化石和几件有明显加工痕迹的石器, 以及大量炭屑和小块烧骨。科学家鉴定认为, 这是早期人类的遗物和遗骨。

(1) 生活在元谋的早期人类被称为什么人？这种早期人类距今有多少年？

(2) 元谋位于今天的哪个省？处于我国哪条大河流域？

(3) 在元谋发现的早期人类遗物说明了什么？

12. 恩格斯说：“就世界性的解放而言，人工取火的进步超越了蒸汽机。”这句话充分说明了人工取火的重要性。

结合所学知识，回答下列问题：

(1) 人工取火前早期人类使用的火是怎样得到的？

(2) 火在早期人类生活中有哪些用处？

(3) 火的使用对早期人类发展有什么意义？

(4) 我国哪种早期人类能够人工取火了？推断他们能够人工取火的依据是什么？

13. 山顶洞人比北京人有了哪些进步？

- 1 4. (1)境内已知最早人类——  
(2)最早种植水稻的原始居民——  
(3)最早种植粟的原始居民——  
(4)世界最早发明瓷器的国家——

三、填充题。

1、在北京西南\_\_\_\_\_的山洞里，发现了北京人。

2、我国境内已知最早人类是\_\_\_\_\_。

3、\_\_\_\_\_已经懂得人工取火远古人类。

4、\_\_\_\_\_是会制造骨针的远古人类。

5、\_\_\_\_\_是最早进入氏族公社时期的远古人类。

6、元谋人距今年代为\_\_\_\_\_年，北京人距今年代为\_\_\_\_\_年，山顶洞人距今年代为\_\_\_\_\_年。

7、会不会\_\_\_\_\_是人和动物的根本区别。

8. 氏族是根据\_\_\_\_\_结合在一起的,人们共同\_\_\_\_\_,共同\_\_\_\_\_,过着\_\_\_\_\_的生活.

#### 四、识图题

(1) 图中是哪个古人类的头部复原像。



(2) 他是在哪里被发现的? 他生活在距今多少年前。

答案:

#### 一、基础练习

1. A 大约距今 300-350 万年前,地球上出现了人类。人类历史的史前时期,是人类社会发展的第一个阶段,即原始社会阶段。原始社会的绝大部分时间属于旧石器时代,人类在这一时期中经历了能人、直立人、早期智人和晚期智人等阶段,最后完成了从原始人向现代人的转化。(坦能印尼中元北,德特中丁法克农山顶洞)

2. C 3. D 4. B 5. B 火的使用增强了人们适应自然的能力,是人类进步过程中的一大进步  
6. A 7. D 8. D 9. D 10. D

#### 二、材料分析题

1 1. (1) 元谋人。距今约 170 万年。(2) 云南省。长江流域。(3) 元谋人使用打制石器,会用天然火。

1 2. (1) 大自然雷电生火;森林草木自燃生火;露天煤的自燃起火;偶然摩擦生火。

(2) 火可以烧烤食物,取暖御寒,照亮洞穴,驱赶野兽。

(3) 火的使用,极大地提高了早期人类的生存能力,促进了早期人类体质的发展和大脑的进化。

(4) 山顶洞人。依据是他们掌握了摩擦和钻孔技术。

1 3. ①北京人的模样保留了猿的特点,山顶洞人则同现代人没有什么区别 ②北京人只会打制粗糙的石器,山顶洞人已经掌握磨制和钻孔技术 ③北京人只能使用天然火,山顶洞人则已会人工取火 ④北京人过群居生活,山顶洞人已进入氏族公社时代。

1 4. ①元谋人 ②河姆渡原始居民 ③半坡原始居民 ④中国

#### 三、填充题。

1 周口店 2 元谋人 3 山顶洞人 4 山顶洞人 5 山顶洞人

6 一百七十万 七十万年至二十万年 三万年 7 制造工具 8 血缘关系 劳动 分配食物 氏族公社

#### 四、识图题

(1) 图中是北京人的头部复原像

(2) 他是在北京西南周口店的山洞里被发现的

生活在距今约七十万年至二十万年

## 第2课 原始的农耕生活

### 一、填空题

1、河姆渡的原始农耕距今时间是\_\_\_\_\_；生活位置：\_\_\_\_\_流域；使用\_\_\_\_\_石器。我国是世界上最早种植\_\_\_\_\_和\_\_\_\_\_的国家。河姆渡居民居住在\_\_\_\_\_，会制造陶器，简单的玉器和原始的乐器；半坡居民居住在\_\_\_\_\_。会制造\_\_\_\_\_，上面的符号是我国\_\_\_\_\_的雏形。会纺线、织布、制衣。

2、半坡原始居民距今时间是\_\_\_\_\_；生活位置：\_\_\_\_\_流域 \_\_\_\_\_村；使用工具——\_\_\_\_\_石器；半坡居民种植\_\_\_\_\_。我国是世界上很早种植蔬菜的国家。

3、大汶口居民距今时间是\_\_\_\_\_；地点\_\_\_\_\_；出现\_\_\_\_\_陶和\_\_\_\_\_陶；在后期，出现了\_\_\_\_\_和\_\_\_\_\_，原因是：\_\_\_\_\_的发展。

### 二、选择题：

- 能够较典型的反映我国原始农耕生活的是（ ）  
①元谋人 ②北京人 ③河姆渡聚落 ④半坡聚落  
A① B ② C①② D③④
- 下列哪两种农作物最早是由我国劳动人民种植的（ ）  
A. 大豆和小麦 B. 花生和高粱  
C. 甘薯、玉米 D. 水稻、粟
- 不符合黄河流域原始农耕时代居民生活实际的是（ ）  
A. 饲养猪狗家畜 B. 种植粟等农作物  
C. 住干栏式房屋 D. 住半地穴式房屋
- 下列哪一考古遗址能够证明我国是世界上最早栽培水稻的国家之一（ ）  
A. 元谋人遗址 B. 半坡原始居民遗址  
C. 河姆渡原始居民 D. 大汶口原始居民
- 下列哪一地区原始居民的房屋，对后世的阁楼和楼房样式的出现影响最大（ ）  
A. 陕西西安半坡原始居民 B. 浙江余姚河姆渡原始居民  
C. 陕西临潼姜寨原始居民 D. 河南新政裴李岗原始居民
- 促使原始人过定居生活的根本原因是（ ）  
A. 自然环境的优劣 B. 原始农业的发展  
C. 氏族公社的形成 D. 学会建造房屋技
- 我国先民的足迹遍布于祖国的东西南北，已经发现的遗址数以万计，但是地域文化却各具风采，根本原因是（ ）  
A. 自然环境不同 B. 使用的工具不同  
C. 生活习惯不同 D. 思想意识不同

### 三、材料分析题

下面是我国著名的历史学家郭沫若在参观某一古代人类遗址时写下的诗句：

“彩陶精美，画纹亦多殊。或则呈人面，或则呈双鱼。农耕既普及，人群已群居。护壕深二丈，其广亦相如。何奈遗址中，独不见文书。”

请回答：

- (1) 根据材料中诗歌的内容请你猜测出这是对哪一原始居民生活的描绘？
- (2) 你能举出“或则呈人面，或则呈双鱼”的一个彩陶文物代表吗？
- (3) “农耕既普及”诗中描绘的原始居民耕种的是什么农作物？
- (4) 郭沫若参观此遗址最大的遗憾是什么？

#### 参考答案：

一选择题：1 D 2 D 3 C 4 C 5 B 6 B 7 A

二材料分析题：(1) 半坡 (2) 半坡人面鱼纹盆 (3) 粟(4)没有文字记载。

## 第3课 华夏之祖同步练习

### 一、选择题

1. 被后人尊称为“人文初祖”的神话传说人物是

- A. 黄帝 B. 尧 C. 舜 D. 禹

2. 图1是我国古老传说中黄河流域一位著名的部落首领。下列有关该部落首领的传说，正确的是

- ①他联合炎帝，打败蚩尤      ②他建造宫室，制作衣裳  
③他教人们挖井，发明舟车      ④他发明养蚕缫丝，创造了文字

- A. ①②③      B. ①②④      C. ②③④      D. ③④

3. 形成日后华夏族的主要部落是(      )

- A. 黄帝、蚩尤部落      B. 炎帝、蚩尤部落  
C. 黄帝、炎帝、蚩尤部落      D. 黄帝、炎帝部落

4. “中华开国五千年，神州轩辕自古传”这句话告诉我们，中华五千年历史始于传说中的(      )

- A. 黄帝时期      B. 尧时期      C. 舜时期      D. 禹时期

5. 相传，造出衣、舟车、宫室等，为后世的衣食住行奠定基础的是(      )

- A. 黄帝      B. 尧      C. 舜      D. 禹



6. 下列反映我国原始社会末期社会情况的是（ ）

- ①北京人    ②河姆渡遗址    ③大汶口遗址中晚期    ④尧舜禹时期  
A. ①②    B. ②③    C. ①③    D. ③④

7. 中国是世界四大文明古国之一，第一个奴隶制王朝的建立者是（ ）

- A. 尧    B. 舜    C. 禹    D. 启

二、非选择题

8. 在我国原始社会时期，通过征求各部落首领意见推举部落联盟首领的制度，史称推选制。

错误：\_\_\_\_\_ 订正：\_\_\_\_\_

9. 原始社会末期，舜因治水有功被推举为部落联盟的首领。

错误：\_\_\_\_\_ 订正：\_\_\_\_\_

**参考答案**

一、AADAA DD

二、9. 推选制    禅让制    10. 舜    禹

## 第4课 夏、商、西周的兴亡同步练习

一、选择题

1. 夏朝建立于约公元前 2070 年，这一年属于公元前

- A. 20 世纪前期    B. 20 世纪后期    C. 21 世纪前期    D. 21 世纪后期

2. 《史记·周本纪第四》记载，（武王）封尚父（姜子牙）于营丘，曰齐。这反映了当时实行的制度是

- A. 分封制    B. 郡县制    C. 科举制    D. 行省制

3. 中国古代史学名著《左传》中说：“多行不义必自毙。”下列哪一历史人物的结局可以作为该论断的有力证据？

- A. 黄帝    B. 禹    C. 汤    D. 纣

4. “秦……以为周制微弱，终为诸侯所丧，故不立尺土之封。”“周制”是指西周实行的

- A. 禅让制    B. 分封制    C. 郡县制    D. 世袭制

5. 电视剧《封神榜》中，两位神话人物“哪吒”“二郎神”帮助一位英明的君王打败了商朝的暴君，建立了西周。这位君王是（ ）

- A. 大禹    B. 商汤    C. 周武王    D. 周厉王

二、非选择题

6. 阅读下列材料：

材料：周成王小时候和弟弟姬虞做游戏，把一片梧桐叶剪成玉圭（分封诸侯的符信）形状。

对姬虞说：“把这玉圭给你，封你去做唐国的诸侯吧！”周公立即命令史官记录在案，周成王不

以为然地说：“我和姬虞开玩笑呢！”周公说：“君无戏言，说了就应该命史官记录它，典礼成全它，音乐歌颂它才是啊！”姬虞长大后，真的被封到唐国去做了诸侯。

《中国成语故事大全》

(1) 姬虞受封后，在封国内享有哪些权力？

(2) 姬虞对周王有什么义务？

(3) 姬虞被封诸侯与什么制度有关？西周实行这一制度的目的是什么？有何作用？

参考答案：

一、CADBC

二、6. (1) 行政、军事、司法、收复等权力。

(2) 服从周天子命令，向天子交纳贡品，平时镇守疆土，战时带兵随天子作战。

(3) 分封制。目的：巩固统治。作用：开发了边远地区，加强了统治，成为一个强盛的国家。

## 第5课 灿烂的青铜文明同步测试

一、单项选择题

1. 我国出现青铜器在

- A. 原始社会初期      B. 原始社会末期      C. 夏朝      D. 商朝

2. 西周青铜器种类丰富，大量用于

- A. 农业生产      B. 炊具      C. 祭祀      D. 装饰品

3. 商周时期手工业繁荣具体表现为

- ①青铜铸造    ②陶瓷业    ③冶铁业    ④玉器制造业

- A. ①②③      B. ②③④      C. ①②④      D. ①③④

4. 下列关于夏商西周经济发展的说法不正确的是

- A. 后代称为“五谷”的农作物商周时期已经齐备  
B. 农业上已知道选种、施肥和治虫害  
C. 今天家畜家禽的主要品种，西周时都已经有了  
D. 商王室和贵族还有专门的牧场

5. 西周青铜器上记载五名奴隶相当于

- A. 一匹马加一件瓷器 B. 一匹马加一束丝 C. 二匹马 D. 二束丝

## 二、填空题

6. \_\_\_\_朝是我国青铜文化的灿烂时期，著名的青铜器有\_\_\_\_\_、\_\_\_\_\_。
7. 举世闻名的“\_\_\_\_\_”文化，位于我国西南地区的\_\_\_\_\_。
8. 我国是世界上最早发明\_\_\_\_\_的国家，\_\_\_\_朝时期就有烧制原始青瓷的瓷窑。
9. \_\_\_\_、畜牧业、\_\_\_\_\_和商业的繁荣，形成了我国夏商西周灿烂的\_\_\_\_\_文明。
10. 商周时期的生产中，大量使用\_\_\_\_\_，奴隶主可以把他们随意\_\_\_\_\_和买卖，甚至可以做和\_\_\_\_\_。

提高训练)

## 三、材料分析题

11. 阅读下列材料并回答问题：

材料一 北至辽宁，南到湖南，都发现过西周的青铜器。那时的青铜器，以前代轻巧，花纹由繁复变为简易。

材料二 西周青铜酒器逐渐减少，出现了大量的炊具和日常生活用具。

请回答：

- (1)材料一说明西周铸造的青铜器有哪些特点？
- (2)材料二说明西周青铜制造呈现何新的特点？
- (3)结合两段材料分析出现上述特点的原因是什么？

## 四、问答题

12. 请用史实说明奴隶制经济的繁荣。

## 思维创新训练

13. 夏商西周时期农业、畜牧业、手工业和商业都非常繁荣，为什么被称为“灿烂的青铜”文明？

### 参考答案：

1. B2. C3. C4. C5. B 6. 商、司母戊鼎、四羊方尊 7. 三星堆、成都平原 8. 瓷器、商 9. 农业、手工业、青铜 10. 奴隶、转让、供品、殉葬品 11. (1)青铜器制造分布广，更具艺术性和技术性；(2)酒器减少，炊具和日常生活用具增多，实用性强；(3)西周奴隶制进一步发展，奴隶制经济进一步繁荣，手工业发展，分工细、技艺高超。12. ①手工业：夏朝青铜器种类逐渐增多，商朝是青铜文化的灿烂时期，著名的青铜器有司母戊鼎和四羊方尊，西周青铜器种类更加丰富；成都平原享有举世闻名的“三星堆”文化；陶瓷业和玉器制造业都很发达。②农业：后代称为“五谷”的农作物都已经齐备；已知道选种、施肥和治虫害；西周已用一定数量的青铜农具进行生产。③畜牧业：今天家畜家禽的主要品种都已经有了，还建有牲畜圈栏；商王室和贵族还有专门的牧场。13. 青铜时代就是人类使用青铜制作生产工具、武器及生活用具的物质文化发展阶段，这个时代人们所创造的物质文化，被称作“青铜文明”。

## 第6课 春秋战国的纷争同步练习

### 一、选择题：

1. 观察战国形势图，其中①、②、③、④四处分别为（ ）

- A. 燕、楚、齐、秦 B. 燕、齐、秦、楚  
C. 齐、秦、楚、燕 D. 楚、燕、齐、秦

2. 据《变迁中的古代社会》统计，公元前722至前464年的259年中，38年没有战争；公元前463至前222年的242年中，约89年没有战争。这一“变迁”的历史时期是（ ）

- A. 夏商时期 B. 西周时期 C. 春秋战国时期 D. 秦汉时期

3. 对诸侯争霸影响的说法，不正确的一项是（ ）

- A. 促进了民族融合 B. 给人民带来了灾难  
C. 加剧了民族分裂的趋势 D. 加快了统一的步伐

4. 战国初期，三家分晋的卿大夫是（ ）

①韩 ②赵 ③楚 ④魏

- A. ①②③ B. ①②④ C. ①③④ D. ②③④

5. 成语“围魏救赵”出自著名的战役（ ）

- A. 城濮大战 B. 长平之战 C. 马陵之战 D. 桂陵之战

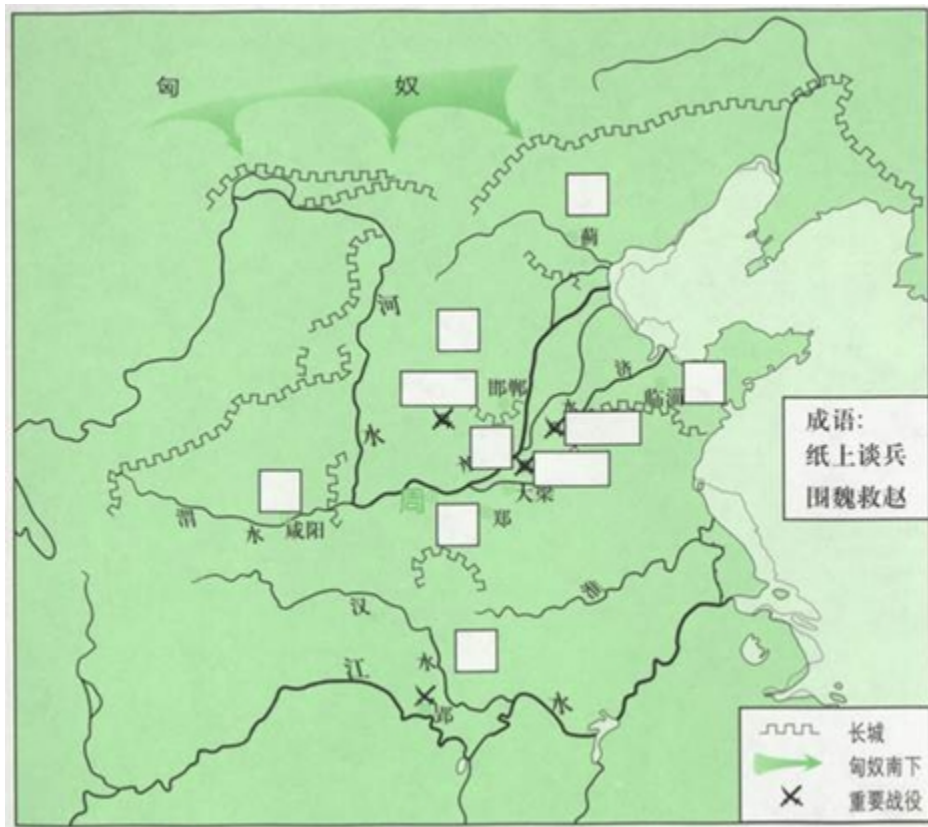
6. 下列诸侯国中，既属于“春秋五霸”，又属于“战国七雄”之一的是（ ）



A. 吴国 B. 晋国 C. 齐国 D. 宋国

二、填图题（请在下方方框内填出战国时期主要国家的名称和重要战役。）

7.



### 参考答案

一、BCCBD C

二、7. 国家：正方形框框内东南西北上中下周依次为齐楚秦燕赵魏韩。

战役：长方形框框里从左往右集资为长平之战、桂陵之战、马陵之战。

## 第7课 大变革的时代同步练习

一、选择题：

1. 14年5月17日，位于苏州阊门内下塘街的泰伯庙修复一新，对游人免费开放。商朝末年，为了完成父亲传位给弟弟季历的心愿，泰伯、仲雍兄弟避居吴地，带来了先进的中原文明。但他们还不可能做到的是



材料三 商鞅一方面极力否认道德教化对人的劝导意义，主张唯有重刑才是禁奸止过的最好办法。另一方面又背离了罪刑相应的原则，主张轻罪重刑，甚至罪及无辜。他的这种重刑思想被其后的韩非继承并发展，对中国封建社会的刑法理论和实践产生了深远的影响，以至严刑峻罚、惩办威吓构成了中国两千多年封建社会刑法制度的一个重要特征，给广大人民带来了许多苦难。

——《商鞅刑法思想及变法实践》

(3) 结合材料三，说明商鞅属于战国时期“诸子百家”中的哪一家？你如何看待他的“重刑”思想？

### 参考答案：

一、ACBDC DDB

二、9. (1) 承认土地私有，允许自由买卖；奖励生产，奖励军功。

(2) 统一度量衡、统一货币、统一文字

(3) 法家；从重量刑，使百姓畏惧而不敢犯法，以收到不用刑的效果。但是单纯的威胁、恐吓，决不是一种好办法。

## 第8课 中华文化的勃兴（一）同步练习

### 一、选择题

1. 有人说，中国存在着一种最古老的商朝的书面语。这里的“书面语”是指（期工程 ）

A. 甲骨文 B. 小篆 C. 隶书 D. 楷书

2. 如今，越来越多的人使用键盘书写，手写汉字的能力慢慢下降了。针对汉字手写危机，央视科教频道推出了全新节目《中国汉字听写大会》，在全国引发了书写汉字的热潮。请问我国有文字可考的历史从哪个朝代开始（ ）

A. 夏朝 B. 商朝 C. 西周 D. 春秋

3. 清朝末年，有一个学者买了一味叫“龙骨”的中药，发现上面有刻画符号，经研究这是一种古代文字。这种文字被称为（ ）

A. 隶书 B. 金文 C. 小篆 D. 甲骨文

4. “粽子香，香厨房，艾叶香，香满堂”。这句民谣描写的是我国哪一传统节日（ ）


A. 端午节 B. 中秋节 C. 重阳节 D. 春节

### 二、非选择题

5. 阅读右面材料：回答：

(1) 诗的作者是何时代的？他写这句诗意思是什么？

(2) 表达了他怎样的思想感情？



(3) 相传端午节与这位作者有直接关系。今天作为传统节日的端午节全国放假，你怎样看待？

### 参考答案：

一、ABDA

二、5. (1) 时代：战国末期。

意思：我长叹一声禁不住流下眼泪，哀怜人民的生活这样多灾多难！

(2) 表达了他忧国忧民的思想感情。

(3) 我认为端午节全国放假，一是为了纪念屈原，二是可以更好地弘扬我国的传统文化，有利于更好地对下一代进行爱国主义教育。

## 第9课 中华文化的勃兴（二）同步练习

### 一、选择题

1. 春秋战国时期，各学派纷纷著书立说，形成了“百家争鸣”的学术繁荣局面。其中墨家学派创始人墨子的主张是

- A. 无为而治      B. 兼爱、非攻      C. 春秋无义战      D. 仁政

2. 下列哪一观点体现老子的思想主张

- A. “道之以德，齐之以礼”      B. “无为而治”  
C. “民贵君轻”      D. “法治”

3. 下列甲乙丙三位同学关于中国古代百家争鸣的表述正确的是



甲：发生于秦汉时期，其主要思想是“罢黜百家，独尊儒术”。



乙：发生于战国这一社会大变革时期，使学术思想空前活跃。



丙：战国时期100位思想家相互批评，激烈辩论，形成“百家争鸣”局面。

A. 乙 B. 丙 C. 甲、乙 D. 甲、丙

4. 故宫里有一块牌匾上写着“中正仁和”，其中“仁”的思想来自于（ ）

A. 道家 B. 儒家 C. 法家 D. 墨家

5. 以下几种主张，属于老子的思想是（ ）

A. 历史是向前发展的，后代总是胜过前代 B. 主张“春秋无义战”

C. 各种事物都有对立面，对立的双方能相互转化 D. 提出“仁”的学说

## 二、非选择题

6. 判断：孔子的核心主张是“仁”，要求统治者体察民情，爱惜民力。孟子继承了这一思想，要求统治者用“仁政”治国，轻徭薄赋。（ √ ）

7. 儒家思想作为中国传统文化的主流思想，既是中华民族的精神财富，也极大地影响了亚洲乃至世界文化的发展，成为人类文明的重要组成部分。阅读材料，结合所学知识回答问题。

### 材料一



樊迟问仁，子曰：“爱人。”

颜渊问仁，子曰：“克己复礼为仁。一日克己复礼，天下归仁焉。”……子曰：“非礼勿视，非礼勿听，非礼勿言，非礼勿动。”

——摘自《论语》

(1) 图三中的人物是谁？概括材料一中其思想的核心。

材料二 诸不在六艺之科孔子之术者，皆绝其道，勿使并进，邪辟之说灭息，然后统纪可一，而法度可明，民知所从矣。

——摘自《汉书·董仲舒传》

(2) 材料二反映出董仲舒的主要主张是什么？

材料三 要拥护那德先生(民主)，便不得不反对孔教、礼法、贞节、旧伦理、旧政治；要拥护那赛先生(科学)，便不得不反对旧艺术、旧宗教；……我们现在认定只有这两位先生，可以救治中国政治上、道德上、学术上、思想上一切的黑暗。

——陈独秀

(3)根据上述材料，概括指出儒家思想地位的变化。

(4)根据上述材料并结合所学知识，谈谈你对以儒家思想为代表的中国传统文化的认识。

### 参考答案：

一、BBABC

二、5. (√)

6. (1)人物：孔子。思想核心：“仁”和“礼”。

(2)主张：“罢黜百家，独尊儒术”。

(3)儒家思想地位的变化：从一家学说说到治国的指导思想再到受到冲击。

(4)认识：以儒家思想为代表的中国传统文化是中华民族的精神财富，最大地影响着亚洲乃至世界文化的发展。儒家思想作为封建社会指导思想，一定程度上束缚了人们的思想，不利于社会的进步。对于中国的传统文化，我们应取其精华，去其糟粕，批判地继承和发展。

## 第10课“秦王扫六合”

### 一、填空题

1.从\_\_\_\_年至\_\_\_\_年，秦王\_\_\_\_陆续灭掉六国，建立起我国历史上第一个统一的中央集权的封建国家\_\_\_\_，定都\_\_\_\_。

2.秦朝巩固统一措施：

①政治上：嬴政规定最高统治着称\_\_\_\_。中央政府设\_\_\_\_、\_\_\_\_、\_\_\_\_，丞相管理\_\_\_\_，太尉管理\_\_\_\_，御史大夫管理\_\_\_\_。在地方上，接受\_\_\_\_的建议，推行郡县制。

②经济上：统一货币，规定全国统一使用\_\_\_\_钱；统一\_\_\_\_，对尺寸、升斗、斤两，作出整齐划一的规定。

③文化上：统一文字，把\_\_\_\_作为全国规范的文字，后来使用更为简单的\_\_\_\_。

④思想上，发布\_\_\_\_，规定民间只准留下有关\_\_\_\_、\_\_\_\_和\_\_\_\_的书。这就是史上的“\_\_\_\_”。

⑤军事上：秦朝统一后，派将军\_\_\_\_北伐匈奴，并修筑了西起\_\_\_\_，东到\_\_\_\_的“万里长城”。

3.开发南疆：秦始皇派人开凿了\_\_\_\_，沟通了\_\_\_\_水系和\_\_\_\_水系。

### 二、选择题

1.我国历史上第一个统一的中央集权制封建朝代是（ ）

A.夏朝 B.商朝 C.西周 D.秦朝

2.“秦王扫六合，虎视何雄哉！挥剑决浮云，诸侯尽西来。”李白的诗歌颂了秦始皇哪方面的功（ ）

A.统一文字 B.统一中国 C.修筑长城 D.设置郡县

3.针对秦建立时“言语异声，文字异形”的状况，秦始皇下令实行的政策是（ ）

- A 统一文字 B 统一度量衡 C 统一货币 D 焚书坑儒
4. 秦始皇确立中央机构中，负责监察百官的是( )
- A. 丞相 B. 御史大夫 C. 太尉 D. 郡守
5. 为了加强对地方的控制，秦朝实行了( )
- A 分封制 B 县制 C 郡县制 D 颁布“推恩令”
6. 秦始皇统一文字后，全国流行的标准文字是( )
- A. 大篆 B. 隶书 C. 小篆 D. 古文
7. 下列有关秦朝的叙述，错误的一项是( )
- A 秦朝的建立者是嬴政
- B 从公元前 260 到公元前 221 年，嬴政陆续灭掉六国
- C 秦朝定都咸阳 D 秦的统一对历史起了促进作用。
8. 下列有关秦朝历史的评述，哪一项不正确的。
- A 秦朝是我国历史第一个统一的中央集权的多民族封建国家
- B 秦朝在地方上推行郡县制度
- C 秦朝开始使用的圆形方孔钱成为历代铸币制造样式
- D 开凿的灵渠第一次沟通了长江和珠江流域
9. “秦王扫六合，虎视何雄哉！”这一事件 发生在
- A 公元前 841 年 B 公元前 475 年
- C 公元前 221 年 D 公元前 209 年
10. 在烟波浩渺的历史长河中，许多帝王为民族统一作出了贡献。其中建立我国历史上第一个统一多民族国家的皇帝是
- A 秦始皇 B 汉武帝 C 隋文帝 D 唐高祖
11. “挥剑决浮云，诸侯尽西来”的秦王嬴政，统一中国后，为加强中央集权而采取的措施是
- A 实行分封制 B 推行郡县制 C 实行科举制 D 推行行省制

#### 基础练习

1. 我国第一个统一的中央集权国家是 ( )
- A. 夏朝 B. 东周 C. 战国 D. 秦朝
2. 秦朝建立的时间是 ( )
- A. 公元前 260 年 B. 公元前 356 年
- C. 公元前 230 年 D. 公元前 221 年
3. 秦朝的都城是 ( )
- A. 镐京 B. 洛邑 C. 咸阳 D. 阳城
4. 下列各项属于秦始皇加强中央集权措施的是 ( )
- ①皇帝总揽全国一切军政大权 ②丞相分管行政 ③太尉分管军事

④御士大夫分管监察

A. ①②③④ B. ①② C. ②③④ D. ①④

5. 秦统一后，规定全国使用的规范文字是 ( )

A. 小篆 B. 大篆 C. 隶书 D. 楷书

6. 秦始皇发布的焚书令中，规定民间允许收藏的书是 ( )

①医药书籍 ②种树书籍 ③儒家书籍 ④法家书籍 ⑤占卜书籍

A. ①②⑤ B. ②④ C. ①④⑤ D. ②③④⑤

7. 秦始皇修建长城的目的是 ( )

A. 收复河套地区 B. 抵御匈奴

C. 炫耀国力 D. 防止风沙

8. 灵渠沟通的两大水系是 ( )

A. 长江水系和珠江水系 B. 长江水系和黄河水系

C. 黄河水系和淮河水系 D. 长江水系和淮河水系

9. 秦朝疆域东至 ( )

A. 辽东 B. 临洮 C. 大海 D. 咸阳

10. 阅读材料，回答问题。

“秦王扫六合，虎视何雄哉。”

——李白

(1) 秦王是指谁？

(2) 材料赞扬了秦王的什么功绩？

(3) 试分析“秦王扫六合”的历史条件。

(4) “秦王扫六合”的战略是什么？

(5) “秦王扫六合”，先后兼并了哪六国？

(6) “秦王扫六合”的历史意义是什么？

答案：1. D 2. D 3. C 4. A 5. A 6. A 7. B 8. A 9. C

10. (1) 嬴政。(2) 吞并六国，实现了国家统一。(3) 战国时期，战争不断，人民渴望统一。

②战国时期，秦国经过商鞅变法，成为战国后期最富强的封建国家。(4) 采取了远攻近交和各个

击破的战略。(5)韩、赵、魏、楚、燕、齐。(6)顺应了历史发展的趋势,结束了春秋战国以来的诸侯分立和相互混战,开创了中国历史上大一统的局面。

#### 维度 A 基础知识

##### 一、选择题:

1. 我国历史上第一个统一的中央集权的封建国家是什么时候建立的 ( )  
A. 公元前 221 年      B. 公元 220 年      C. 公元前 220 年      D. 公元 221 年
2. 表明东方六国再也无力抵御秦国的进攻的事件是 ( )  
A. 商鞅变法以后      B. 马陵之战以后      C. 秦王嬴政继位以后      D. 长平之战以后
3. 在秦朝的行政系统中,协助皇帝处理政事的是 ( )  
A. 丞相                      B. 太尉                      C. 御史大夫                      D. 郡守
4. 秦统一后规定在全国范围内统一使用的货币是 ( )  
A. 刀形币                      B. 蚁鼻钱                      C. 铲形币                      D. 圆形方孔钱
5. (2000 年鄂州市初中调考题)秦始皇下令焚书,反映的实质是 ( )  
A. 秦始皇个性极其残暴                      B. 秦始皇视传统文化为统治障碍  
C. 秦朝的统治严酷残暴                      D. 君主专制扩展到思想文化领域
6. 秦朝规定标准文字是 ( )  
A. 篆书                      B. 隶书                      C. 行书                      D. 楷书
7. 下列措施属于秦始皇首创的是 ( )  
A. 修筑长城      B. 地方设县      C. 使用圆形方孔钱      D. 规定最高统治者称皇帝
8. 秦长城的起止点是 ( )  
A. 西起临洮,东到辽东                      B. 西起辽东,东到临洮  
C. 西起长平,东到临洮                      D. 西起临洮,东到长平
9. (2000 年十堰市中考题)秦长城主要是为了抵御 ( )  
A. 匈奴      B. 蒙古      C. 越族      D. 满族
10. 为解决运输上的困难,秦始皇派人开凿了灵渠,开凿的灵渠把哪两大水系连接起来 ( )  
①长江 ②黄河 ③珠江 ④淮河  
A. ①②      B. ②③      C. ①③      D. ①④
11. “田畴异亩,车涂异轨,律令异法,衣冠异制,言语异声,文字异形”这段指的是什么时候的历史情况? ( )  
A. 秦以前                      B. 秦朝                      C. 西汉                      D. 东汉
12. 我国历史上第一个统一的多民族的封建国家是 ( )  
A. 夏朝      B. 西周                      C. 秦朝                      D. 西汉

#### 维度 B 能力提高

## 二. 动脑筋

13. (2000年宜昌市中考题) 下面表格中的人物是美国学者迈克尔·H·哈特所著《历史上最有影响的100人》。请将材料的英文字母代号(A、B、C、D)分别填入到表格内相对应的位置。

序号	历史人物	材料代号
5	孔子	
18	秦始皇	
75	老子	
92	孟子	

注：序号为原书中人物所排名次序，与答案无关。

材料A：中国春秋时代道家学派的创始人。他具有朴素辩证的思想，认为各种事物都有对立面，对立的双方能够相互转化。所以他说：“祸兮，福之所倚；福兮，祸之所伏。”他的学说，记录在《道德经》一书中。

材料B：中国古代的大思想家、大教育家，儒家学派的创始人。他的学说后来被封建统治者利用和改造，成为中国两千多年封建文化的正统思想，对后世影响很大。

材料C：中国古代著名的思想家，战国时期儒家的代表人物。他认为人民的力量不可忽视，提出了“民贵君轻”的观点。

材料D：中国历史上杰出的政治家。建立起中国历史上第一个统一的中央集权的封建国家。为了巩固自己的统治地位，他下令在全国焚书坑儒。

14. 《寻秦记》是一部曾风靡全国的香港电视剧。主人公项少龙在科学家的帮助下从21世纪回到了战国秦朝时期。如果你是项少龙，你可能会看到哪些大事的发生呢？

15. 下图为中国银行行徽。80年代中国银行请香港设计师靳埭强设计完成的“中字钱标”至今可以说仍稳坐中国银行界“第一标”的地位。这不仅是因为其推出时间早于其它银行，更主要的原因是其它银行的设计构思几乎无出其右者。根据你所学，你认为他的构思好在哪里？



16. 材料 “秦始皇接受李斯的建议，发布焚书令，规定除政府外，民间只可收藏医药、占卜和种植等书，其余一律集中焚毁。他又把暗中诽谤他的儒生400多人，全部活埋。”

阅读材料回答：

①材料中反映的内容在历史上称为什么？

②秦始皇这样做的目的是什么？有何危害性？

17. 有人说秦始皇是千古一帝，有人说秦始皇是暴君。对这个问题你有什么看法？

维度 C 探究应用

18. 思考探究。

材料一 中国长城名列世界七大奇迹。长城是中华民族古老文化的丰碑，是中华民族的象征与自豪！在人类历史上，没有哪一项建筑能像长城一样跨越上下两千年，纵横十万里的广阔时空，凝聚起一个民族的荣辱与兴衰。

材料二 世界文化遗产标准 (1)代表一种独特的成就，一种创造性天才的杰作。(2)能在一定时期内或世界某一文化区域内，对建筑艺术、纪念物艺术、城镇规划或景观设计方面的发展中，产生重大影响的作品。(3)能为一种已经消失的文明或文化传统提供一种独特的或至少是特殊的见证。(4)可作为一种类型建筑群或景观的杰作范例，展示出人类历史上一个(或几个)重要阶段的作品。(5)可作为传统的人类居住地或使用地的范例，代表一种(或几种)文化，尤其是处在不可挽回的变化之下。容易损毁的地址。(6)与现行传统思想、信仰或文化艺术作品有直接或实质关联，具有特殊普遍意义的实物。



回答：

①长城在古代中国修建的作用是什么？

②长城被列入“世界文化遗产”名录，根据材料，你认为他符合哪几项遗产标准？你还知道中国有哪些地方被列入“世界文化遗产”名录中？

③针对材料一，有人提出长城不是中华民族的象征。你赞同哪种观点？为什么？

④你还知道哪些关于长城的故事和传说呢？

[秦王扫六合]同步练习答案

1. A 2. D 3. A 4. D 5. D 6. A 7. D 8. A 9. A 10. C 11. A 12. C

13. 孔子---B, 秦始皇---D, 老子---A, 孟子---C 14. 结合当时历史背景答均可。如焚书坑儒. 文字货币度量衡的统一等。15. 联系秦朝统一货币. 银行系金融机构等进行回答, 不必求全, 究其一点进行回答也可。16. ①焚书坑儒②为了加强君主专制, 加强思想控制。摧残文化, 阻碍了社会的进步。17. 提示从秦始皇的作为进行分析, 应包括政治. 经济. 文化等措施。18. ①抵御外敌入侵军事防御工程。②长城于 1987 年因符合文化遗产标准第 1. 2. 3. 4. 6 项被列入。还有如周口店“北京人遗址”, 敦煌莫高窟, 明清故宫, 拉萨布达拉宫等。③开放性题目, 学生利用史实来表明自己的观点即可。④如孟姜女哭长城, 望京楼的传说, “左公柳”的传说等。

## 第 11 课 “伐无道，诛暴秦” 同步练习

### 一、选择题

- 秦末农民战争爆发的根本原因是（ ）  
A. 秦灭六国，引起人民不满  
B. 秦的统一，违背了历史发展的潮流  
C. 秦始皇焚书坑儒，引起封建知识分子的不满  
D. 秦的暴政
- 中国历史上第一个农民起义爆发的地点是（ ）  
A. 大泽乡  
B. 陈  
C. 巨鹿  
D. 咸阳
- “它是我国历史上第一次大规模的农民战争，它沉重打击了秦朝的残暴统治，他们的革命首创精神在我国历史上永远闪耀着光辉”。与材料中的“他们”有关的是（ ）  
①陈胜 ②吴广 ③刘邦 ④项羽  
A. ①②  
B. ①③  
C. ①④  
D. ②③
- 击溃秦军主力，使秦朝一蹶不振的战役是（ ）  
A. 城濮之战  
B. 桂陵之战  
C. 长平之战  
D. 巨鹿之战
- 最后推翻秦朝统治是（ ）  
A. 陈胜、吴广领导的农民起义军  
B. 项羽、刘邦领导的农民起义军  
C. 项羽领导的农民起义军  
D. 刘邦领导农民起义军
- 楚汉战争中，刘邦能够打败项羽最主要的原因（ ）  
A. 战术正确  
B. 赢得民心  
C. 后方巩固  
D. 善于用人
- 经典诵读已成为当今中国传承历史文化的重要方式。《三字经》中“楚汉争，高祖兴，汉业建”所指的朝代是（ ）  
A. 秦  
B. 西汉  
C. 东汉  
D. 三国
- 西汉的都城是（ ）  
A. 洛阳  
B. 咸阳  
C. 长安  
D. 开封

## 二、材料解析题

### 9. 阅读下列材料：

材料一：秦朝时，农民每年要将收成的 2/3 以上交给国家。当时，全国人口约 2000 万，被征发去打仗、服劳役的有二三百万，连妇女也被迫转运军粮，许多服役的人活活累死。

材料二：秦朝时死刑种类多，共有 10 多种，各腰斩、车裂等。犯罪的人，轻者罚作苦役，重者动辄处死；一家犯法，邻里都受牵连。

材料三：他们斩木为兵，揭竿为旗，中国历史上第一次农民大起义在大泽乡爆发了。

请回答：

- (1) 材料一、二反映了什么社会现象？
- (2) 材料二中“亲族都得处死”“邻里都受牵连”的刑罚当时分别称作什么？
- (3) 材料三中的农民起义的领袖是谁？他们为什么要起义？
- (4) 材料一、二与材料三之间有无联系？为什么？

### 参考答案

一、DAADD      BBC

二、9. (1) 反映了秦朝赋税、徭役、兵役繁重，刑法残酷。

(2) “族诛”“连坐”

(3) 陈胜、吴广。为了推翻残暴的秦朝。

(4) 有联系。正是由于秦朝统治残暴，激化了社会矛盾，陈胜、吴广才号召大家起义推翻秦朝。

## 第12课 大一统的汉朝同步练习

### 一、选择题

1. 为实现国家大一统，汉武帝在思想文化方面采取的措施是

- A. 罢黜百家，独尊儒术    B. 颁布“推恩令”  
C. 盐铁官营                D. 张骞出使西域

2. 贾谊在《治安策》中认为：欲天下之治安，莫若众建诸侯而少其力。这一思想启发了西汉政府实施



- A. 分封制    B. 郡县制    C. 推恩令    D. 科举制
3. 识别历史人物，有助于了解历史。右图人物是
- A. 汉高祖            B. 汉武帝  
C. 汉景帝            D. 汉文帝
4. 班固《汉书》中“孝武初立，卓然罢黜百家，表章《六经》……”记载的是汉武帝巩固统治的哪一措施？
- A 颁布“推恩令”                            B. 罢黜百家，独尊儒术  
C. 派张骞出使西域                        D. 统一文字
5. 有史学家认为：“孔子的学说在生前并没有被普遍接受，更不用说贯彻了。……公元前 2 世纪，孔子的学说被宣布为国家的官方教义或官方信仰。”这一改变开始于
- A. 秦始皇                            B. 隋文帝                            C. 汉武帝                            D. 唐太宗
6. 人们对中国古代帝王的称谓不同，有的称年号，有的称庙号，有的称谥号。下列与“汉武帝”称谓相似的是
- A. 孝文帝                            B. 唐太宗                            C. 宋太祖                            D. 康熙帝

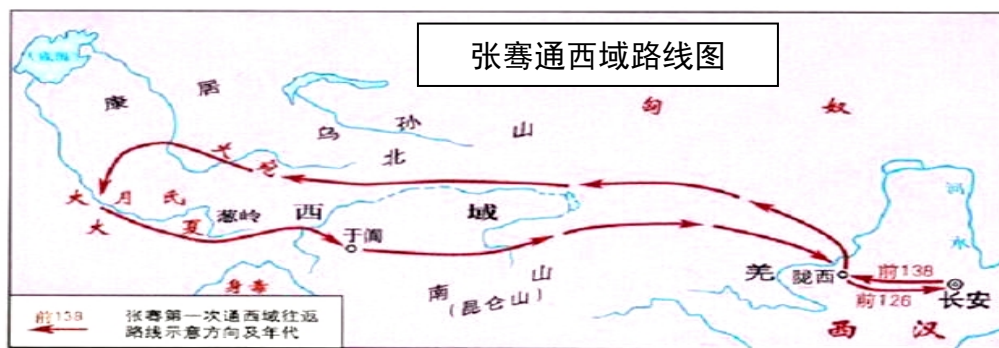
## 二、非选择题

7. 古代专制主义中央集权制度对我国社会影响深远。阅读下列材料：

材料一 中国几千年来一直采用君主制，政权归皇帝一人掌握。皇帝具有至高无上的权力，表现为高度的中央集权，这是占主导地位的制度。

——张岂之《中国文明史十五讲》

### 材料二



——北师大版初中历史教材（七上）

材料三 中国古代的中央集权制度，从产生之日起，其组织机构就具有多民族、大一统的性质，其职能就具有维护、推动、发展和形成多民族、大一统国家的历史任务。

——《凤凰网》

请回答：

- (1) 材料一中的“制度”是谁首创？为加强对地方的统治，秦朝推行了什么制度？

(2) 依据材料二和所学知识，指出汉朝西域主要是指我国今天的什么地区？请写出西汉政府在西域设置的机构名称。该机构的设置说明了什么？

(3) 依据材料三，概括中央集权制度对我国历史发展的积极作用。

### 参考答案

一、ACBBCA

二 7. (1) 人物：秦始皇（嬴政）。制度：郡县制。

(2) 地区：新疆。机构：西域都护。

说明：西域地区（今新疆地区）正式归属中央统辖的开始或新疆地区自古以来就是我国不可分割的一部分。

(3) 作用：有利于促进民族融合、巩固国家统一。

## 第 13 课 两汉经济的发展 同步测试

### 一、选择题

1、对于黄河的治理，西汉、东汉比较重视的两个皇帝是 ( )

- A 汉高祖、光武帝 B 汉文帝、汉质帝  
C 汉武帝、光武帝 D 汉武帝、汉明帝

2、东汉时期，黄河经常泛滥成灾。为此，一位水利专家主持进行治理，此后黄河八百年没有改道。这位水利专家是 ( )

- A 张衡 B 王景 C 杜诗 D 郦道元

3、早在哪一个时期，我国就已经使用提花机织出精美的花纹 ( )

- A 商朝 B 西周 C 秦朝 D 汉代

4、发明水排的是 ( )

- A 西汉的王景 B 东汉的杜诗  
C 东汉的王景 D 西汉的杜诗

5、铁制兵器已逐步取代青铜器是在 ( )

- A 商朝 B 西周 C 秦朝 D 汉代

6、见下图，此发明的用途是 ( )



A 冶铁 B 灌溉 C 播种 D 犁地

7、为了实现经济上的大一统，汉武帝采取的措施是 ( )

A 大规模治理黄河 B 罢黜百家，独尊儒术

C 铸币权和盐铁经营权收归中央 D 颁布“推恩令”

8、著名科学家张衡在文学方面也很有造诣，他的《两京赋》是汉赋的代表作，其中的“两京”分别是指西汉和东汉的都城 ( )

A 咸阳和长安 B 长安和镐京

C 咸阳和洛阳 D 长安和洛阳

9、小明家中收藏有一枚五铢钱，请你替小明判断一下，它最早铸于什么时期 ( )

A 战国时期 B 西周时期

C 秦始皇时期 D 汉武帝时期

10、考古工作者对一座古墓进行考古挖掘时，发现了许多五铢钱、瓦当、提花机等文物。请你判断这座古墓的主人最早可能生活在 ( )

A 春秋战国 B 西汉

C 三国时期 D 南北朝时期

11、汉武帝将地方的铸币权和盐铁经营权收归中央的最终目的是 ( )

A 抑制大商人牟取暴利 B 增加中央的财政收入

C 实现经济上的大一统 D 集中财力治理黄河

12、两汉时期的都城非常繁华，是当时世界上的大城市，其繁华的根本原因在于 ( )

A 城市人口多，如长安人口有五十万左右，东汉洛阳人口在百万以上

B 城里有专门的商业区，商品繁多

C 其街道宽阔笔直，长安城内还有较为完备的排水沟、下水道

D 两汉时期政治稳定，经济发展

13、我国封建社会，自汉朝开始实行重农抑商政策。封建统治者实行重农抑商政策的原因是 ( )

A 封建社会是以农业为支柱产业的社会，统治者认为农业是天下的根本

B 封建社会商人囤积居奇，使社会不稳定

C 农业是国民经济的基础，任何时代都要以农业为社会发展的根本

D 民以食为天，农业是生存的基础，而商业不能为社会创造什么财富

## 二、组合列举题

11、根据提示写出问题的答案

以上内容仅为本文档的试下载部分，为可阅读页数的一半内容。如要下载或阅读全文，请访问：<https://d.book118.com/746231210112010154>