

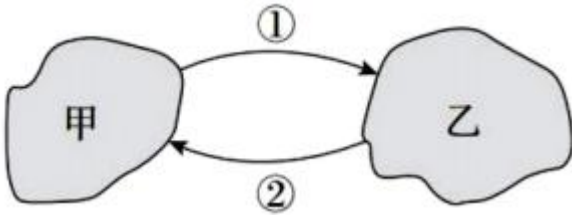
2023~2024 学年度第二学期期末重点校联考

高二地理 (答案在最后)

命题学校:

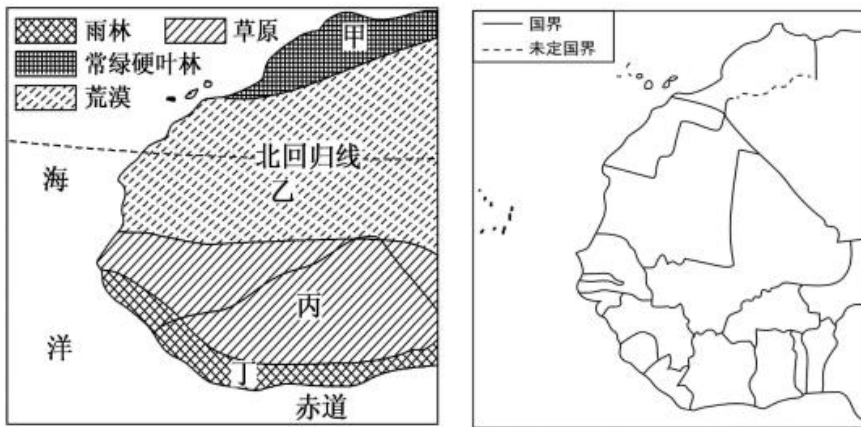
一、单项选择题 (30 小题, 每题 2 分, 共 60 分)

不同区域之间会发生物质、能量、信息等的流动。下图中显示甲、乙两个不同区域间的流动情况。读图, 完成下列小题。



1. 假设甲、乙分别表示发达国家和发展中国家, 则箭头①代表的主要是 ()
A. 资本和技术 B. 煤炭和石油 C. 土地和粮食 D. 廉价劳动力
2. 假设甲、乙分别代表我国农村和城市, 则出现箭头①的主要原因并不是 ()
A. 就业机会 B. 环境质量 C. 收入水平 D. 教育、医疗条件

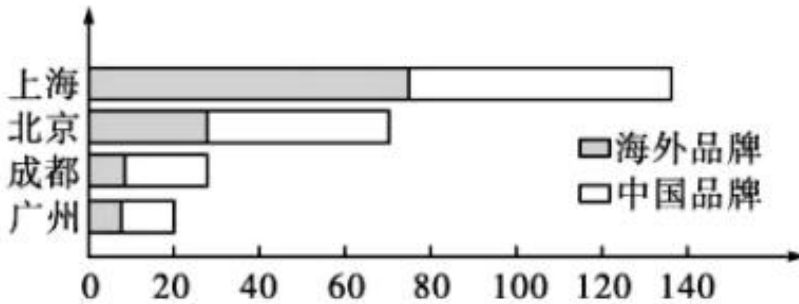
读非洲西部示意图, 完成下列小题。



3. 有关两图中区域划分的叙述, 正确的是 ()
①左图中区域的边界具有过渡性 ②右图中区域是以综合指标划分的
③左图中区域间特征差异较小 ④右图中区域有大有小, 为不同层次的区域
A. ①② B. ①④ C. ②③ D. ③④
4. 关于左图中四个区域自然环境特征的叙述, 正确的是 ()
A. 甲区域夏季高温多雨 B. 乙区域西部海岸有暖流经过
C. 丙区域河流径流量季节变化大 D. 丁区域植被覆盖率高且土壤肥沃

首店是指具有行业代表性的品牌或新潮品牌在某一区域开的第一家店, 如全球首店、中国首店等; 也

可指传统老店通过创新经营业态和模式形成的新店，如概念店、体验店、旗舰店等。“首店经济”则是指一个区域利用特有的资源优势，吸引国内外品牌在区域首次开设门店，使品牌价值与区域资源实现最优耦合，以及由此对该区域经济发展产生积极影响的一种经济形态。下图是我国四个城市某半年的首店数量（单位：家）统计图。读图，完成下列小题。



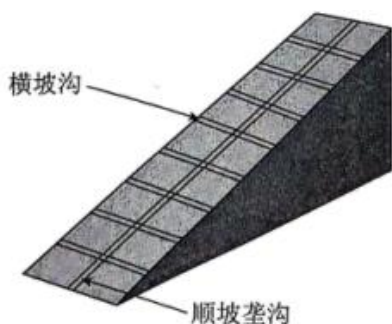
5. 与北京、成都和广州相比，海外品牌首店在上海数量遥遥领先，主要是由于（ ）
- A. 国际化程度高 B. 科教发达 C. 交通运输便捷 D. 文化底蕴深厚
6. 一些世界级银行，如汇丰银行等，在上海设立了分理机构，这体现了上海作为大都市的（ ）
- A. 金融服务功能 B. 都市核心功能 C. 产业带动功能 D. 交通枢纽功能
7. 近年来，随着经济的发展，上海市的大都市辐射作用越来越强，这将进一步（ ）
- ①促进产业结构升级 ②使周边城市发展更加缓慢
③有利于上海环境质量的改善 ④推动上海人口大量外迁
- A. ①② B. ②④ C. ①③ D. ③④

接续产业，通常是指为了以矿产资源开发为基础而兴建起来的工矿型城市的再造和使其可持续发展，依托现有资源条件和基础，利用高新技术，通过产业延伸和替代发展起来的产业。鹤岗市位于黑龙江省东部，多年采矿造成资源枯竭、环境恶化、经济低迷。结合材料完成下列小题。



8. 导致鹤岗经济低迷，发展受阻的主要原因是（ ）
- A. 原有传统产业的自主研发能力不足
B. 矿产资源不足造成产业链断裂
C. 环境保护成本高导致经济效益变低
D. 工业基础设施更新改造成本高
9. 鹤岗市生态环境的恶化现象不包括（ ）
- A. 采矿业生产中产生的大量粉尘
B. 采矿区大面积地面塌陷
C. 矿渣长期堆放造成的水源污染
D. 煤炭加工产生大量废热
10. 仔细阅读材料，鹤岗市依托当地优势条件，重点发展的接续产业可以是（ ）
- ①高端制造②生态旅游③绿色食品生产④外贸物流
- A. ①②④
B. ①③④
C. ①②③
D. ②③④

长江中上游地区地势起伏大，平地少，当地居民多在陡坡上直接耕作，这是当地粮食自给和保障国家粮食安全的重要补充。下图为该地耕作方式的模式图。根据材料完成下列小题。



11. 长江中上游地区水土流失较严重，其自然原因主要是（ ）
- A. 海拔高，气温低
B. 耕作模式落后
C. 夏秋季节降水集中
D. 黄土广布
12. 图中横向坡沟的主要生态作用是（ ）
- A. 提高肥力
B. 方便耕作
C. 提高产量
D. 沉积泥沙

以上内容仅为本文档的试下载部分，为可阅读页数的一半内容。如要下载或阅读全文，请访问：<https://d.book118.com/748007013123006117>