

四川泸县四中数学七年级上册整式的加减同步训练

考试时间：90 分钟；命题人：教研组

考生注意：

- 1、本卷分第 I 卷（选择题）和第 II 卷（非选择题）两部分，满分 100 分，考试时间 90 分钟
- 2、答卷前，考生务必用 0.5 毫米黑色签字笔将自己的姓名、班级填写在试卷规定位置上
- 3、答案必须写在试卷各个题目指定区域内相应的位置，如需改动，先划掉原来的答案，然后再写上新的答案；不准使用涂改液、胶带纸、修正带，不按以上要求作答的答案无效。

第 I 卷（选择题 20 分）

一、单选题（10 小题，每小题 2 分，共计 20 分）

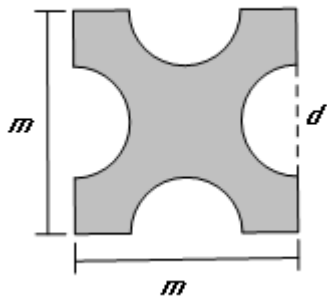
1、式子 $x+yz$ ， $-2x$ ， ax^2+bx+c ， 0 ， $\frac{x^2y}{\pi-1}$ ， a ， $\frac{b}{x}$ 中，下列结论正确的是（ ）

- A. 有 4 个单项式，2 个多项式 B. 有 3 个单项式，3 个多项式
C. 有 5 个整式 D. 以上答案均不对

2、 $-2(1-x) =$ （ ）

- A. $-2+2x$ B. $-2-2x$ C. $-2+x$ D. $-2-x$

3、如图，边长为 m 的正方形纸片上剪去四个直径为 d 的半圆，阴影部分的周长是（ ）



A. 0 个

B. 1 个

C. 2 个

D. 3 个

第 II 卷（非选择题 80 分）

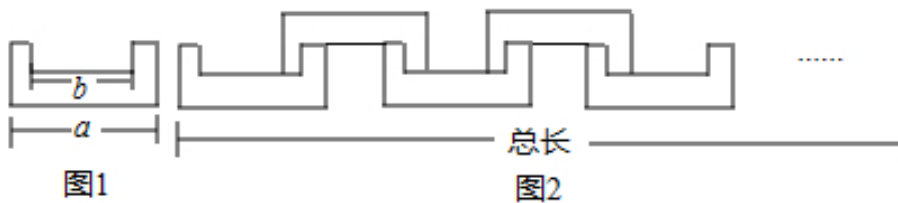
二、填空题（10 小题，每小题 3 分，共计 30 分）

1、某种桔子的售价是每千克 x 元，用面值为 100 元的人民币购买了 6 千克，应找回_____元.

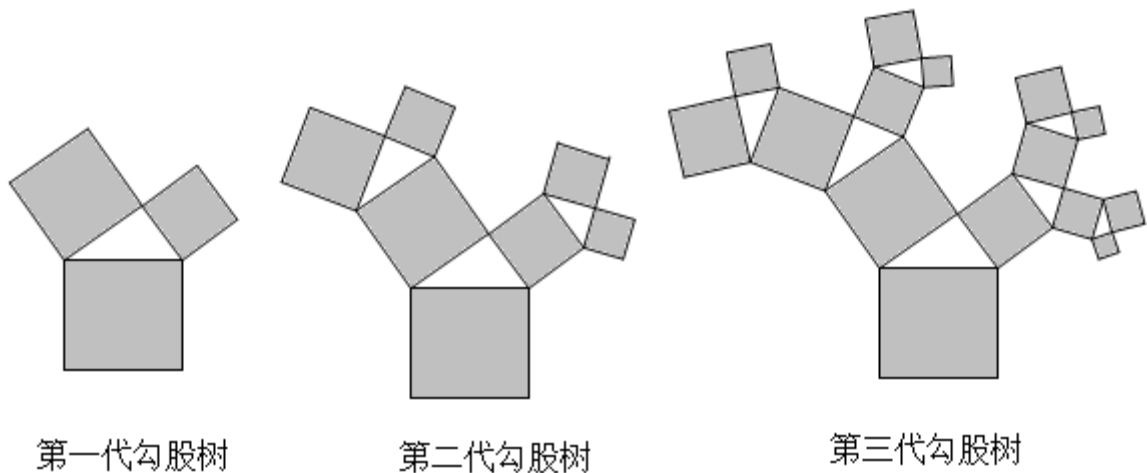
2、在代数式 $3xy^2$, m , $6a^2 - a + 3$, 12 , $4x^2yzx - \frac{1}{5}xy^2$, $\frac{2}{3ab}$ 中，单项式有_____个.

3、当 $a=1, b=-3$ 时，整式 $3a - \{-2b + [a - (4a - 3b)]\} =$ _____.

4、如图 1 所示的图形是一个轴对称图形，且每个角都是直角，长度如图所示，小明按图 2 所示方法玩拼图游戏，两两相扣，相互间不留空隙，那么小明用 9 个这样的图形（图 1）拼出来的图形的总长度是_____（结果用含 a 、 b 代数式表示）.



5、“勾股树”是以正方形一边为斜边向外作直角三角形，再以该直角三角形的两直角边分别向外作正方形，重复这一过程所画出来的图形，因为重复数次后的形状好似一棵树而得名. 假设如图分别是第一代勾股树、第二代勾股树、第三代勾股树，按照勾股树的作图原理作图，则第六代勾股树中正方形的个数为_____.



6、 $\left(2x^2 - \frac{2}{3}x + 1\right) - \underline{\hspace{2cm}} = 3x^2 - 2x + 5.$

7、已知多项式 $(m-1)x^4 - x^n + 2x - 5$ 是三次三项式，则 $(m+1)^n = \underline{\hspace{1cm}}.$

8、若 m 为常数，多项式 $mxy + 2x - 3y - 1 - 4xy$ 为三项式，则 $\frac{1}{2}m^2 - m + 2$ 的值是 $\underline{\hspace{2cm}}.$

9、关于 x 的多项式 $(a+2)x^3 - 3x^b + 5$ 的次数是 2，那么 $a = \underline{\hspace{1cm}}$ ， $b = \underline{\hspace{1cm}}.$

10、在下列各式① $\frac{a^2bc^3}{5}$ ，② 0，③ $\frac{x-y}{3}$ ，④ $\frac{3}{\pi}$ ，⑤ $s = \pi r^2$ ，⑥ $-\frac{7}{x+5}$ ，⑦ $b^2 - 4ac$ ，⑧ m ，⑨ $\frac{1}{a} + 1$ 中，其中单项式是 $\underline{\hspace{1cm}}$ ，多项式是 $\underline{\hspace{1cm}}$ ，整式是 $\underline{\hspace{1cm}}.$ (填序号)

三、解答题 (5 小题，每小题 10 分，共计 50 分)

1、设 $A = 2x^2 - 3xy + y^2 - x + 2y$, $B = 4x^2 - 6xy + 2y^2 - 3x - y$ ，若 $|x - 2a| + (y + 3)^2 = 0$ 且 $B - 2A = a$ ，求 A 的值.

2、用同样大小的两种不同颜色 (白色、灰色) 的正方形纸片，按如图方式拼成长方形.

[观察思考]

第 (1) 个图形中有 $2 = 1 \times 2$ 张正方形纸片；

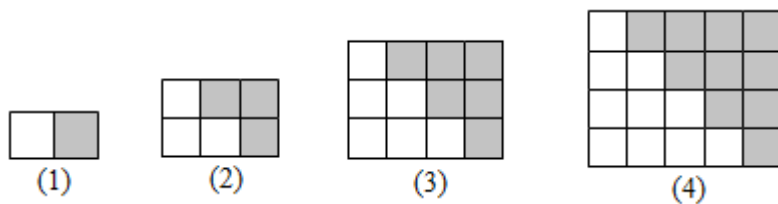
第 (2) 个图形中有 $2 \times (1 + 2) = 6 = 2 \times 3$ 张正方形纸片；

第 (3) 个图形中有 $2 \times (1 + 2 + 3) = 12 = 3 \times 4$ 张正方形纸片；

第 (4) 个图形中有 $2 \times (1 + 2 + 3 + 4) = 20 = 4 \times 5$ 张正方形纸片；

.....

以此类推

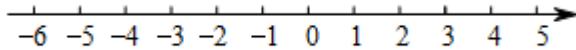


(1) [规律总结] 第 (5) 个图形中有_____张正方形纸片 (直接写出结果).

(2) 根据上面的发现我们可以猜想： $1+2+3+\dots+n = \underline{\hspace{2cm}}$. (用含 n 的代数式表示)

(3) [问题解决] 根据你的发现计算： $101+102+103+\dots+200$.

3、如图，一个点从数轴上的原点开始，先向左移动 3cm 到达 A 点，再向右移动 4cm 到达 B 点，然后再向右移动 $\frac{7}{2}$ cm 到达 C 点，数轴上一个单位长度表示 1cm.



(1) 请你在数轴上表示出 A , B , C 三点的位置;

(2) 把点 C 到点 A 的距离记为 CA , 则 $CA = \underline{\hspace{1cm}}$ cm.

(3) 若点 A 沿数轴以每秒 3cm 匀速向右运动, 经过多少秒后点 A 到点 C 的距离为 3cm?

(4) 若点 A 以每秒 1cm 的速度匀速向左移动, 同时点 B 、点 C 分别以每秒 4cm、9cm 的速度匀速向右移动. 设移动时间为 t 秒, 试探索: $BA - CB$ 的值是否会随着 t 的变化而改变? 若变化, 请说明理由, 若无变化, 请直接写出 $BA - CB$ 的值.

4、已知实数 m 使得多项式 $(2mx^2 - x^2 + 3x + 1) - (5x^2 - 4y^2 + 3x)$ 化简后不含 x^2 项, 求代数式

$2m^3 - [2m^3 - (4m - 5) + m]$ 的值.

5、某校七年级 (1) 班和 (2) 班的师生外出旅游, 其中 (1) 班有教师 6 人, 学生 35 人, (2) 班有教师 5 人, 学生 30 人, 教师的旅游费用为每人 a 元, 学生的旅游费用为每人 b 元. 因为是团体出游, 所以旅行社给予优惠, 教师按八折优惠, 学生按六折优惠. 则: 这次旅游师生一共要用去多少元钱? 并求出 $a = 45, b = 35$ 时的总费用.

-参考答案-

一、单选题

1、A

【解析】

【分析】

数与字母的乘积形式是单项式，单独一个数或一个字母是单项式，几个单项式的和是多项式。

【详解】

解： $x+yz$ 是两个单项式的和，是多项式； $-2x$ 是单项式； ax^2+bx+c 是 3 个单项式的和，是多项式； 0 ， a 是单项式； $\frac{x^2y}{\pi-1}$ 是单项式； $\frac{b}{x}$ 不是整式，综上所述，单项式共有 4 个，多项式共有 2 个，整式共有 6 个，

故选：A.

【考点】

本题考查多项式、单项式的定义，是基础考点，掌握相关知识是解题关键.

2、A

【解析】

【分析】

根据去括号法则解答.

【详解】

解： $-2(1-x) = -2+2x$.

故选：A.

【考点】

本题考查去括号的方法：去括号时，运用乘法的分配律，先把括号前的数字与括号里各项相乘，再运用括号前是“+”，去括号后，括号里的各项都不改变符号；括号前是“-”，去括号后，括号里的各项都改变符号.

3、D

【解析】

【分析】

根据题意，阴影部分的周长等于正方形的周长减去 $4d$ ，再加上 4 个半圆的周长，即可求得答案

【详解】

解：由题意可得：阴影部分的周长 $4m + 2\pi d - 4d$

故选 D

【考点】

本题考查了列代数式，根据题意求得周长是解题的关键.

4、B

【解析】

【分析】

根据等式的性质逐项分析即可.

【详解】

解：A、若 $x = y$ ，则 $x + c = y + c$ ，故该选项不正确，不符合题意；

B、若 $x = y$ ，则 $xc = yc$ ，故该选项正确，符合题意；

C、若 $x = y$ ，且 $c \neq 0$ ，则 $\frac{x}{c} = \frac{y}{c}$ ，故该选项不正确，不符合题意；

D、若 $\frac{x}{2c} = \frac{y}{3c}$ ，则 $3x = 2y$ ，故该选项不正确，不符合题意；

故选：B.

【考点】

本题考查了等式的性质，熟练掌握等式的性质是解题的关键. 等式的性质 1：等式两边加(或减)同一个数(或式子)，结果仍相等；等式的性质 2：等式两边乘同一个数，或除以同一个不为 0 的数(或式子)，结果仍相等.

5、C

【解析】

【分析】

将两整式相加即可得出答案.

【详解】

$$\because x+y=2, \quad z-y=-3,$$

$$\therefore (x+y)+(z-y)=x+z=-1,$$

$$\therefore x+z \text{ 的值等于 } -1,$$

故选：C.

【考点】

本题考查了整式的加减，熟练掌握运算是解本题的关键.

6、D

【解析】

【分析】

直接利用合并同类项法则分别分析得出答案.

【详解】

A、 $3a+2b$ ，无法计算，故此选项错误；

B、 $5a^2-2a^2=3a^2$ ，故此选项错误；

C、 $7a+a=8a$ ，故此选项错误；

D、 $2a^2b-4a^2b=-2a^2b$ ，正确.

故选 D.

【考点】

此题主要考查了合并同类项，正确掌握运算是解题关键.

7、C

【解析】

【详解】

分析：根据单项式的性质即可求出答案.

详解：该单项式的次数为： $3+1=4$

故选 C.

点睛：本题考查单项式的次数定义，解题的关键是熟练运用单项式的次数定义，本题属于基础题型.

8、C

【解析】

【分析】

先求解 $A-B$ ，若 $A-B > 0$ ，则 $A > B$ ，若 $A-B=0$ ，则 $A=B$ ，若 $A-B < 0$ ，则 $A < B$ ，从而可得答案.

【详解】

$$\text{解： } A-B = 2a^2 - 4a + 1 - 2(a^2 - 2a) + 2$$

$$= 2a^2 - 4a + 1 - 2a^2 + 4a + 2 = 3 > 0,$$

$$\therefore A > B,$$

故选：C.

【考点】

本题考查的是比较两个代数式的值的大小，整式的加减运算，掌握去括号，作差法比较两个数的大小是解题的关键.

9、D

【解析】

【分析】

利用数与字母的积的形式的代数式是单项式，单独的一个数或一个字母也是单项式，分母中含字母的不是单项式，进而判断得出即可.

【详解】

以上内容仅为本文档的试下载部分，为可阅读页数的一半内容。如要下载或阅读全文，请访问：<https://d.book118.com/748032142104007014>