

# 2023-2024 学年安徽省安庆市科目一模拟考试 100 题

## (有解析答案)

1、小型汽车驾驶人在一个记分周期内累积记分达到 12 分的，要参加为期几天的道路交通安全法律、法规和相关知识学习？

A、7 日

B、10 日

C、30 日

D、3 日

正确答案：A

分析：《道路交通安全违法行为记分管理办法》规定：机动车驾驶人在一个记分周期内累积记分满 12 分的，应当参加为期七天的道路交通安全法律、法规和相关知识学习。其中，大型客车、重型牵引挂车、城市公交车、中型客车、大型货车驾驶人应当参加为期三十天的道路交通安全法律、法规和相关知识学习。

2、机动车被监察机关、人民法院、人民检察院、行政执法部门依法查封、扣押的，不得办理注册登记。


A、正确

B、错误

正确答案：A

分析：《机动车登记规定》规定，有下列情形之一的，不予办理注册登记：（一）机动车所有人提交的证明、凭证无效的；（二）机动车来历证明被涂改或者机动车来历证明记载的机动车所有人与身份证明不符的；（三）机动车所有人提交的证明、凭证与机动车不符的；（四）机动车未经国务院机动车产品主管部门许可生产或者未经国家进口机动车主管部门许可进口的；（五）机动车的型号或者有关技术参数与国务院机动车产品主管部门公告不符的；（六）机动车的车辆识别代号或者有关技术参数不符合国家安全技术标准的；（七）机动车达到国家规定的强制报废标准的；（八）机动车被监察机关、人民法院、人民检察院、行政执法部门依法查封、扣押的；（九）机动车属于被盗抢骗的；（十）其他不符合法律、行政法规规定的情形。

3、这个标志表示前方注意双向行驶。




A、正确

B、错误

正确答案：B

分析：此标志为注意潮汐车道。用以警告车辆驾驶人注意前方为潮汐车道。“潮汐车道”是指根据早晚交通流量不同情况，对有条件的道路，试点开辟潮汐车道，通过车道灯的指示方向变化，控制主干道车道行驶方向，来调整车道数。

4、（如图所示）这个符号的开关控制什么装置？



A、前风窗玻璃刮水器

B、后风窗玻璃除霜

C、后风窗玻璃刮水器

D、前风窗玻璃除霜

正确答案：A

分析：此为前风窗玻璃刮水器。关于如何区分前风窗玻璃刮水器及洗涤器和后风窗玻璃刮水器及洗涤器，你只需记住一点半弧形的图标是前风窗，四四方方的图标就是后风窗。

5、已经达到报废标准的机动车经大修后可以上路行驶


A、正确

B、错误

正确答案：B

分析：已经达到报废标准的机动车再怎么修也不能上路。最新出台的机动车报废标准，不限年限，历程到达 60 万公里就得报废。

6、图中圈内两条黄色虚线间的区域是何含义？



- A、大客车专用车道
- B、营运客车专用车道
- C、出租车专用车道
- D、公交专用车道

正确答案：D

分析：黄色虚线中的车道里有写字，黄色虚线是想突出引动驾驶员注意的，知道选啥了没？看图就懂！

7、补领机动车驾驶证应到以下哪个地方办理？

- A、所学驾校
- B、驾驶证核发地车辆管理所
- C、派出所
- D、全国任何地方公安机关交通管理部门

正确答案：B

分析：如果出现驾驶证丢失需补办的情况，需要到驾驶证核发地车辆管理所补领机动车驾驶证。

8、预计在超车过程中与对面来车有会车可能时，应提前加速超越。

A、正确

B、错误

正确答案：B

分析：预计在超车过程中与对面来车有会车可能时，应当放弃超车。若加速超越，有可能会引起不必要的事故。

9、驾驶机动车在这种情况下不能直行和左转弯。



A、正确

B、错误

正确答案：A

分析：直行和左转都是红灯，所以不能直行和左转。

10、机动车仪表板上（如图所示）这个符号表示什么？



A、一边车门开启

B、行李舱开启

C、发动机舱开启

D、燃油箱盖开启

正确答案：B

分析：后边为行李舱，前边为发动机舱。

11、申请人在机动车驾驶证考试过程中组织作弊的，处三年以下有期徒刑或者拘役，并处或单处罚金。

A、正确

B、错误

正确答案：A

分析：《中华人民共和国刑法》规定：在法律规定的国家考试中，组织作弊的，处三年以下有期徒刑或者拘役，并处或者单处罚金；情节严重的，处三年以上七年以下有期徒刑，并处罚金。为他人实施前款犯罪提供作弊器材或者其他帮助的，依照前款的规定处罚。为实施考试作弊行为，向他人非法出售或者提供第一款规定的考试的试题、答案的，依照第一款的规定处罚。代替他人或者让他人代替自己参加第一款规定的考试的，处拘役或者管制，并处或者单处罚金。

12、打开前雾灯开关. (如图所示)亮起。



A、正确

B、错误

正确答案：B

分析：前雾灯是朝左的，后雾灯是朝右的。

13、机动车购买后尚未注册登记，需要临时上道路行驶的，可以凭什么临时上道路行驶？

A、合法来源凭证

B、临时行驶车号牌


C、借用的机动车号牌

D、法人单位证明

正确答案：B

分析：正确答案：B 机动车购买后尚未注册登记，需要临时行驶车号牌，上道路行驶。

14、以下哪个仪表表示速度和里程表



A、图 1

B、图 2

C、图 3

D、图 4

正确答案：B

分析：速度和里程表的刻度标记一般超过两位数

15、如图所示，在同向三车道高速公路上行车，车速每小时 115 公里应在哪条行车道上行驶？



A、最左侧行车道

B、中间行车道

C、最右侧行车道

D、哪条都行

正确答案：A

分析：提示牌已经说明的很清楚了，红圈是速度上限，蓝圈白底是速度下限。

16、驾驶人有下列哪种违法行为一次记6分？

A、饮酒后驾驶机动车

B、使用其他车辆行驶证

C、车速超过规定时速50%以上

D、违法占用应急车道行驶

正确答案：D

分析：一次记6分的：1.机动车驾驶证被暂扣期间驾驶机动车的 2.驾驶机动车违反道路交通信号灯通行的 3.驾驶机动车违法占用应急车道行驶的 4.低能见度气象条件下驾驶机动车在高速公路上不按规行驶的 5.驾驶机动车运载超限物品未按指定时间、路线、速度行驶或未悬挂明显标志的 6.驾驶机动车载运危险品未按指定时间、路线、速度行驶或未悬挂警示标志并采取的安全措施的 7.以隐瞒欺骗手段补领机动车驾驶证的 8.驾驶机动车不按照规定避让校车的

17、防抱死制动系统（ABS）在什么情况下可以最大限度发挥制动器效能？

A、间歇制动

B、持续制动

C、缓踏制动踏板

D、紧急制动

正确答案：D

分析：ABS的目的就是为了防止刹车的时候一脚踩死，导致翻车什么的。不过刹车刹死就比较慢（速度N快的时候），效果等于踩下刹车，再松下刹车，反复几次！

18、驾驶机动车在人行横道上临时停车属于违法行为。

A、正确

B、错误

正确答案：A

分析：本题答案：正确，在人行横道上临时停车属于违法行为。

19、危险报警闪光灯可用于下列什么场合？

- A、在道路上跟车行驶时
- B、遇到道路拥堵时
- C、机动车发生故障停车时
- D、引领后车行驶时

正确答案：C

分析：安全带很明显，亲，开车一定要系安全带，而且不系安全带是要扣分的。

20、申请机动车注册登记时，以下哪项材料不需要提交？


- A、购车发票
- B、身份证明
- C、交强险证明
- D、行驶证

正确答案：D

分析：《机动车登记规定》规定，申请注册登记的，机动车所有人应当交验机动车，确认申请信息，并提交以下证明、凭证：（一）机动车所有人的身份证明；（二）购车发票等机动车来历证明；（三）机动车整车出厂合格证明或者进口机动车进口凭证；（四）机动车交通事故责任强制保险凭证；（五）车辆购置税、车船税完税证明或者免税凭证，但法律规定不属于征收范围的除外；（六）法律、行政法规规定应当在机动车注册登记时提交的其他证明、凭证。不属于经海关进口的机动车和国务院机动车产品主管部门规定免于安全技术检验的机动车，还应当提交机动车安全技术检验合格证明。车辆管理所应当自受理申请之日起二日内，查验机动车，采集、核对车辆识别代号拓印膜或者电子资料，审查提交的证明、凭证，核发机动车登记证书、号牌、行驶证和检验合格标志。机动车安全技术检验、税务、保险等信息实现与有关部门或者机构联网核查的，申请人免于提交相关证明、凭证，车辆管理所核对相关电子信息。



21、以下哪个标志表示单行线？



A、图 1

B、图 2


C、图 3

D、图 4

正确答案：A

分析：记住就可以了，其他图标是什么？去“交通标志”里学习一遍吧。

22、这个标志的含义是警告前方道路有障碍物，车辆减速绕行。



A、正确

B、错误

正确答案：B

分析：警告标志向右急转弯。用以警告车辆驾驶人减速慢行。设置位置为曲线起点的外面，但不应进入相邻的圆曲线内。

23、机动车仪表板上（如图所示）亮表示什么？



- A、行车制动系统故障
- B、驻车制动器制动状态
- C、防抱死制动系统出现故障
- D、驻车制动解除状态

正确答案：B

分析：驻车制动器处于制动状态，就是手刹没松开。

24、前方车辆有什么违法行为？



- A、行驶速度缓慢
- B、没开启信号灯
- C、没有及时让行
- D、没开启远光灯

正确答案：B

分析：雨天行车需要开启近光灯、雾灯，危险报警闪光灯。

25、路面上导向箭头是何含义？



- A、提示前方有左弯或需向左合流
- B、提示前方有右弯或需向右合流
- C、提示前方有障碍需向左合流
- D、提示前方有左弯或需向左绕行

正确答案：B

分析：提示前方有右弯或需向右合流


26、道路交通安全违法行为的处罚种类不包括下列哪项？

- A、警告
- B、罚款
- C、暂扣
- D、训诫

正确答案：D

分析：依据《中华人民共和国道路交通安全法》第八十八条 道路交通安全违法行为的处罚种类包括：警告、罚款、暂扣或者吊销机动车驾驶证、拘留。因此不包括训诫，选D。

27、这是什么操纵装置？



A、灯光开关

B、空调开关

C、点火开关

D、雨刷开关

正确答案：C

分析：点火锁开关档位设置方式。其含义是：LOCK、切断电源，锁定方向盘；ACC、接通附件电源（比如收音机等附件）ON、接通除起动机外的全车全部电源；START、接通起动机电源，启动发动机。（启动后松手钥匙，会自动弹回 ON 档位）供你参考。

28、机动车在高速公路上行驶，遇到能见度低于 200 米的气象条件时，车速不得超过 60 公里/小时，如不按规定行驶，将被一次记 6 分。

A、正确

B、错误

正确答案：A

分析：高速公路行车限速：（1）最低限速 60 公里/小时（2）特殊情况限速：能见度小于 200 米限速 60 公里/小时、能见度小于 100 米限速 40 公里/小时、能见度小于 50 米限速 20 公里/小时。

29、B1 表示哪种车型？

A、大型货车

B、大型客车

C、重型牵引挂车

D、中型客车

正确答案：D

分析：A2 为重型牵引挂车；B1 为中型客车；B2 为大型货车；A1 为大型客车。

30、如图所示，在这种情况下通过交叉路口时，不得超车的原因是什么？



A、路口有交通监控设备

B、路口设有信号灯


C、路口内交通情况复杂，易发生交通事故

D、机动车速度慢，不足以超越前车

正确答案：C

分析：十字路口是不允许超车的，交通情况复杂，以免发生事故。

31、下列高速公路交通标志与其含义对应的正确的一项是？



A、图 1

B、图 2

C、图 3

D、图 4

正确答案：C

分析：图 1 应该是高速公路终点的标志；图 2 是高速公路服务区预告；图 4 是紧急电话标志而不是公用电话标志。

32、机动车仪表板上（如图所示）亮时，提醒发动机冷却液可能不足。



A、正确

B、错误

正确答案：A

分析：冷却液不足，温度就高了，所以冷却液不足=发动机温度高，就得这么记，以免下次再错

33、在暂住地初次申领机动车驾驶证的，不能直接申领大型货车驾驶证。

A、正确

B、错误

正确答案：A

分析：在暂住地初次申领机动车驾驶证的，可以申请准驾车型为小型汽车、小型自动挡汽车、低速载货汽车、三轮汽车、残疾人专用小型自动挡载客汽车、普通三轮摩托车、普通二轮摩托车、轻便摩托车的机动车驾驶证。

34、醉酒驾驶机动车的，可构成危险驾驶罪。

A、正确

B、错误

正确答案：A

分析：在道路上驾驶机动车，有下列情形之一的，构成危险驾驶罪：（一）追逐竞驶，情节恶劣的；（二）醉酒驾驶机动车的；（三）从事校车业务或者旅客运输，严重超过额定乘员载客，或者严重超过规定时速行驶的；（四）违反危险化学品安全管理规定运输危险化学品，危及公共安全的。

35、机动车在环形路口内行驶，遇有其他车辆强行驶入时，只要有优先权就可以不避让。

A、正确

B、错误

正确答案：B

分析：当然错拉，有优先权就了不起呀？有优先权也要考虑到安全啊，不然容易发生两车相撞。

36、机动车驾驶证被依法扣押、扣留或者暂扣期间，机动车驾驶人不得申请补发。

A、正确

B、错误

正确答案：A

分析：《机动车驾驶证申领和使用规定》规定：机动车驾驶证遗失的，机动车驾驶人应当向机动车驾驶证核发地或者核发地以外的车辆管理所申请补发。申请时应当确认申请信息，并提交机动车驾驶人的身份证明。符合规定的，车辆管理所应当在一日内补发机动车驾驶证。机动车驾驶人补领机动车驾驶证后，原机动车驾驶证作废，不得继续使用。机动车驾驶证被依法扣押、扣留或者暂扣期间，机动车驾驶人不得申请补发。

37、如图所示，在高速公路同方向三条机动车道中间车道行驶，车速不能低于多少？



A、100 公里/小时

B、90 公里/小时

C、110 公里/小时

D、60 公里/小时

正确答案：B

分析：只有 B 选项还比较适合，我觉得如果有个 80 公里的选项更好。

38、驾驶人违反交通运输管理法规发生重大事故致人重伤、死亡，可能会受到什么刑罚？

A、处 3 年以下徒刑或者拘役

B、处 3 年以上 7 年以下徒刑

C、处 5 年以上徒刑

D、处 7 年以上徒刑

正确答案：A

分析：撞死，撞伤没逃逸的，3 年以下！！撞伤，或直接撞死后逃逸的 3—7 年！！撞伤的，没死的，逃逸后又死了，7 年上！！老实人，不跑的伤（3）心一下（以下）撞死人跑了的（在中间呢不就是 3—7 年）见死不救的就上去（7）吧！

39、在车门、车厢没有关好时不要驾驶机动车起步。

A、正确

B、错误

正确答案：A

分析：安全第一。

40、驾驶机动车超车应该提前开启左转向灯、变换使用远近光灯或鸣喇叭。

A、正确

B、错误



正确答案：A

分析：他又没有说白天或者晚上。（驾驶机动车超车应该提前开启左转向灯、变换使用远近光灯《或》鸣喇叭。 还有他指出的“或”，就是让你在不同的情况选者不同的方式，所以这是对的。

41、车辆在拥挤路段低速行驶时，遇其他车辆强行插队，应怎样做？

- A、鸣喇叭警告，不得进入
- B、加速行驶，紧跟前车，不让其进入
- C、主动礼让，确保行车安全
- D、挤靠“加塞”车辆，逼其离开

正确答案：C

分析：和谐，和谐第一。

42、隐瞒有关情况或者提供虚假材料申领机动车驾驶证的，公安机关交通管理部门不予受理或者不予办理，并处多少元以下罚款？

- A、1000 元
- B、500 元
- C、2000 元
- D、200 元

正确答案：B

分析：《机动车驾驶证申领和使用规定》规定：申请人隐瞒有关情况或者提供虚假材料申领机动车驾驶证的，公安机关交通管理部门不予受理或者不予办理，处五百元以下罚款；申请人在一年内不得再次申领机动车驾驶证。

43、学习驾驶证明的有效期为 1 年，但有效期截止日期不得超过申请年龄条件上限。

- A、正确
- B、错误

正确答案：B

分析：《机动车驾驶证申领和使用规定》规定：申请人在场地和道路上学习驾驶，应当按规定取得学习驾驶证明。学习驾驶证明的有效期为三年，但有效期截止日期不得超过申请年龄条件上限。申请人应当在有效期内完成科目二和科目三考试。未在有效期内完成考试的，已考试合格的科目成绩作废。

44、冰雪道路行车，由于积雪对光线的反射，极易造成驾驶人目眩而产生错觉。

A、正确

B、错误

正确答案：A

分析：因为太阳光通过冰的折射到人的眼睛里，冰在太阳光下就好像一面镜子。

45、连续驾驶载货汽车超过4小时未停车休息或者停车休息时间少于20分钟的，一次记6分。

A、正确

B、错误

正确答案：B

分析：《道路交通安全违法行为记分管理办法》规定，机动车驾驶人有下列交通违法行为之一，一次记3分：（一）驾驶校车、公路客运汽车、旅游客运汽车、7座以上载客汽车以外的其他载客汽车载人超过核定人数百分之二十以上未达到百分之五十的；（二）驾驶校车、中型以上载客载货汽车、危险物品运输车辆以外的机动车在高速公路、城市快速路以外的道路上行驶超过规定时速百分之二十以上未达到百分之五十的；（三）驾驶机动车在高速公路或者城市快速路上不按规定车道行驶的；（四）驾驶机动车不按规定超车、让行，或者在高速公路、城市快速路以外的道路上逆行的；（五）驾驶机动车遇前方机动车停车排队或者缓慢行驶时，借道超车或者占用对面车道、穿插等候车辆的；（六）驾驶机动车有拨打、接听手持电话等妨碍安全驾驶的行为的；（七）驾驶机动车行经人行横道不按规定减速、停车、避让行人的；（八）驾驶机动车不按规定避让校车的；（九）驾驶载货汽车载物超过最大允许总质量百分之三十以上未达到百分之五十的，或者违反规定载客的；（十）驾驶不按规定安装机动车号牌的机动车上道路行驶的；（十一）在道路上车辆发生故障、事故停车后，不按规定使用灯光或者设置警告标志的；（十二）驾驶未按规定定期进行安全技术检验的公路客运汽车、旅游客运汽车、危险物品运输车辆上道路行驶的；（十三）驾驶校车上道路行驶前，未对校车车况是否符合安全技术要求进行检查，或者驾驶存在安全隐患的校车上道路行驶的；（十四）连续驾驶载货汽车超过4小时未停车休息或者停车休息时间少于20分钟的；（十五）驾驶机动车在高速公路上行驶低于规定最低时速的。

46、在隧道内行车时，如果前方发生突发情况，与前车保持足够的安全车距可以让驾驶人有足够的反应时间和避让空间。

A、正确

B、错误

正确答案：A

分析：隧道内行车尽量保持低速匀速行驶，保持合理的安全距离和车速。安全车距是指后方车辆为了避免与前方车辆发生意外碰撞而在行驶中与前车所保持的必要间隔距离。保持安全车距可以让驾驶员有足够的反应时间和避让空间，是防止追尾事故最直接、最有效、最广泛和最根本的方法。

47、上道路行驶的机动车有哪种情形交通警察可依法扣留车辆？

A、未携带身份证

B、未放置检验合格标志


C、未放置城市环保标志

D、未携带机动车登记证书

正确答案：B

分析：未放置检验合格标志，未悬挂机动车号牌，未放置保险标志的，未携带机动车行驶证的都是可依法扣留车辆的。

48、这个标志的含义是提醒前方道路变为不分离双向行驶路段。



A、正确

B、错误

以上内容仅为本文档的试下载部分，为可阅读页数的一半内容。如要下载或阅读全文，请访问：<https://d.book118.com/757146040026010004>